

① 次の文章を読んで、各問いに答えなさい。

日本には、(1) の都道府県がある。このうち、**a**東北地方には (2) つの県がある。東北地方で最も人口が多い都市は (3) 市で、これは政令指定都市の一つである。東北地方で最も面積が広い県は**b**岩手県である。**c**岩手県南部には、世界文化遺産の一つである **d**「平泉-仏国土(浄土)を表す建築・庭園及び考古学的遺産群」があり、修学旅行生や外国人観光客をふくむ、多くの人々が毎年岩手県を訪れている。

(1) 空欄 (1)・(2) にあてはまる数字の組み合わせとして、正しいものを次から1つ選び、記号で答えなさい。

	(1)	(2)
ア	46	5
イ	46	6
ウ	47	5
エ	47	6

(2) 下線部 **a** について、あとの問いに答えなさい。

① 図1は、東北地方を通る北緯40度付近の海から海までの地形断面図である。Xでしめした山がふくまれる、山脈名または山地名を答えなさい(山の高さは、東西の距離よりも強調してある)。

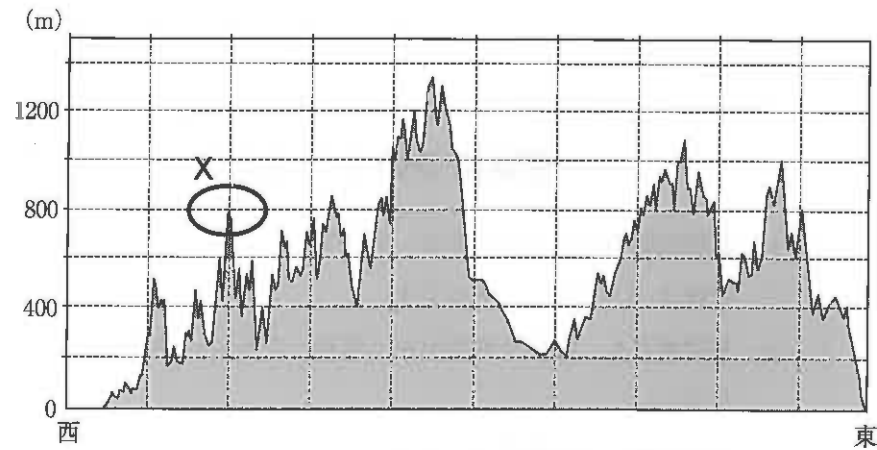


図1 [地理院地図より作成]

② 図2は、東北地方のある都市の雨温図(2017年)である。このグラフのもととなった値として、正しいものを次から1つ選び、記号で答えなさい。

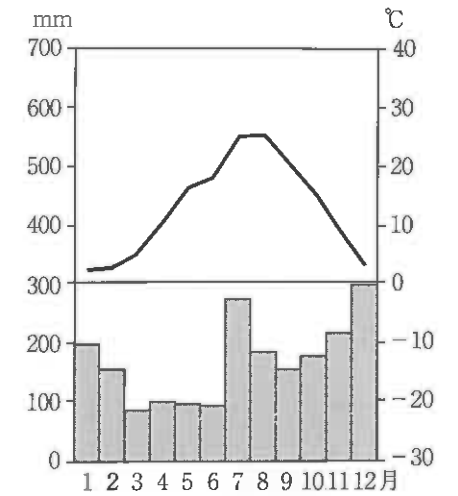


図2

[気象庁ホームページのデータより作成]

ア.

	平均気温(°C)	降水量の合計(mm)
1月	2.3	196.0
2月	2.8	156.0
3月	3.0	85.5
4月	5.2	100.0
5月	8.8	96.5
6月	10.5	93.0
7月	15.2	274.5
8月	16.3	184.0
9月	18.0	154.0
10月	20.5	177.0
11月	24.9	215.5
12月	25.3	298.5

イ.

	平均気温(°C)	降水量の合計(mm)
1月	2.3	85.5
2月	2.8	93.0
3月	5.2	96.5
4月	10.5	100.0
5月	16.3	156.0
6月	18.0	196.0
7月	24.9	298.5
8月	25.3	274.5
9月	20.5	215.5
10月	15.2	184.0
11月	8.8	177.0
12月	3.0	154.0

ウ.

	平均気温(°C)	降水量の合計(mm)
1月	196.0	2.3
2月	156.0	2.8
3月	85.5	5.2
4月	100.0	10.5
5月	96.5	16.3
6月	93.0	18.0
7月	274.5	24.9
8月	184.0	25.3
9月	154.0	20.5
10月	177.0	15.2
11月	215.5	8.8
12月	298.5	3.0

エ.

	平均気温(°C)	降水量の合計(mm)
1月	2.3	196.0
2月	2.8	156.0
3月	5.2	85.5
4月	10.5	100.0
5月	16.3	96.5
6月	18.0	93.0
7月	24.9	274.5
8月	25.3	184.0
9月	20.5	154.0
10月	15.2	177.0
11月	8.8	215.5
12月	3.0	298.5

③ 図2の雨温図が示す東北地方の都市として、正しいものを次から1つ選び、記号で答えなさい。

- ア. 函館 イ. 酒田 ウ. 上越 エ. 八戸

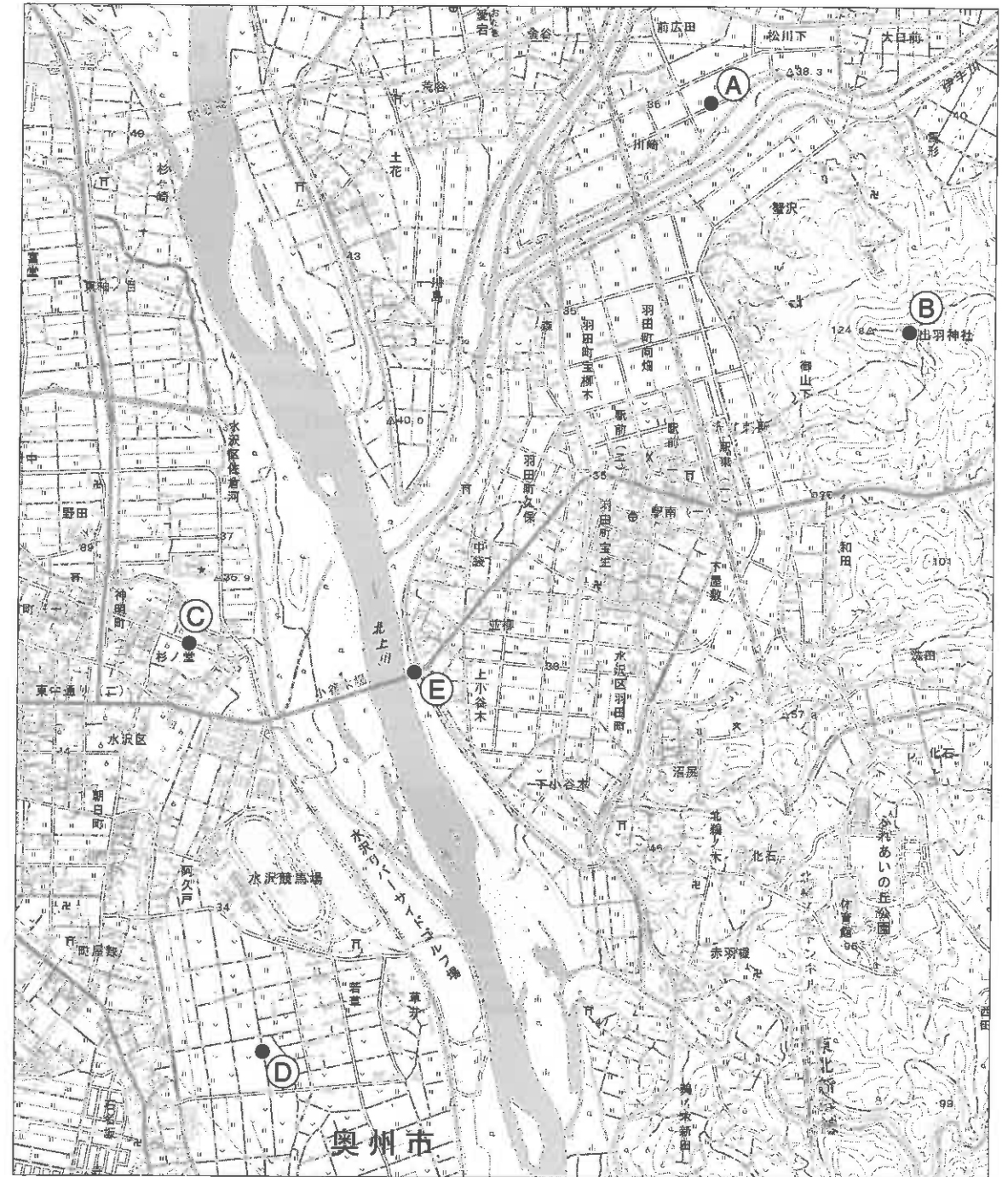
(3) 空欄 (3) にあてはまる市名を答えなさい。

(4) 下線部bについて、岩手県の形として、正しいものを次から1つ選び、記号で答えなさい (全て上が北となっているが縮尺は異なる)。

- ア. イ. ウ. エ.



(5) 下線部cについて、次の地形図は、岩手県奥州市のものである。この地形図をみて、あとの問いに答えなさい。



[電子地形図 (2018年8月ダウンロード) の一部より作成]

- ① この地形図の縮尺を答えなさい。また、そのように判断した理由を説明しなさい。
- ② 次の写真1・写真2が撮影された場所として、正しいものを地形図中の①～④よりそれぞれ選び、記号で答えなさい（写真の撮影時期は11月）。

写真1



写真2



- ③ 写真3は、地点⑤で撮影したものである。写真3中の Y で示した空欄に当てはまる海洋名を答えなさい。

写真3



- ④ 次の写真4・5は、地形図中のある地域で撮影したものである。この地域で生産が盛んな伝統的工芸品を、写真4・5と【写真撮影時の様子】や製品を売っている【お店の人の話】を参考にして、漢字四文字で答えなさい。

写真4



写真5



【写真撮影時の様子】

写真4：熱をもったものが、運び出されている様子です。湯気が出ていました。
 写真5：製品をつくるのに必要な資源を観察することが出来ました。

【お店の人の話】

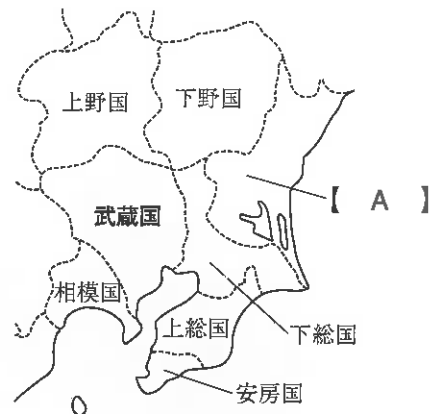
この地域には、50をこえる工場があります。歴史は11世紀末にさかのぼると言われています。現在は、様々な形の製品があり、海外の人にも人気です。この技術は、機械の部品にも応用されています。

- (6) 下線部dについて、この遺産群にふくまれるものとして、正しいものを次から1つ選び、記号で答えなさい。

- ア. 高野山金剛峰寺 こうやさんこんごうぶじ イ. 平等院鳳凰堂 びやうどういんほうおうどう
 ウ. 東大寺南大門 エ. 中尊寺金色堂

2 次の文章と地図を読んで、各問いに答えなさい。

武蔵国は a 律令体制によって設けられた国の1つで、現在の (1) ・東京都(島を除く)の大部分と神奈川県の一部を含む地域である。東は下総国、南は相模国、北は上野国、下野国などと接する。中央部は関東ローマ層におおわれた広大な平野で、北西の山地から南東に向かって流れる (2) と荒川、多摩川などとともに、武蔵国の歴史と文化を育てる舞台となった。



10世紀頃、律令体制が緩み始めると、武蔵国の周辺地域に基盤を持った武士団が成長した。特に (3) は朝廷に抵抗し、関東地方一帯を支配し、自らを新皇と称した。

鎌倉幕府が開かれると武蔵国を南北に縦断する鎌倉街道が開かれ、鎌倉警備のための武士が「b いざ鎌倉」の号令の下、行き来した。戦国時代には相模國小田原を本拠地とする (4) 氏が進出し、越後の上杉氏、甲斐の武田氏らに対する防衛線として重要な役割を果たした。

徳川家康が関東に入り、(5) に任命され、幕府を開くと、武蔵国は幕府直轄地が多く設置され、幕府の権力を大きく支えた。また江戸を中心に c 五街道が整備されると、諸大名の参勤交代などもあり、宿場町が栄えた。

1868年に首都が東京になって以降、d 東京とその近郊は大きく発展し、人口密度の最も高い地域を形成したが、同時にそれは e 関東大震災や太平洋戦争の空襲による被害を大きいものとした。

(1) 下線部 a について、律令体制のもとで行われた税制度のうち、6歳以上の男女に口分田を与え、収穫の一部を納めさせる税を何というか、答えなさい。

(2) 空欄 (1) に入る県名を答えなさい。

(3) 地図の空欄【 A 】に入る旧国名として、正しいものを次から1つ選び、記号で答えなさい。

- ア. 薩摩国 イ. 大和国 ウ. 常陸国 エ. 三河国

(4) 空欄 (2) には、「坂東太郎」とよばれ、流域面積日本第1位の河川名が入る。名称を答えなさい。

(5) 空欄 (3) に入る人物の氏名を答えなさい。

(6) 下線部 b について、これは鎌倉時代の封建制度を象徴する言葉である。封建制度とはどのような制度か、説明しなさい。

(7) 空欄 (4) に入る戦国大名として、正しいものを次から1つ選び、記号で答えなさい。

- ア. 今川 イ. 織田 ウ. 朝倉 エ. 北条

(8) 空欄 (5) に入る官職の名称として、正しいものを次から1つ選び、記号で答えなさい。

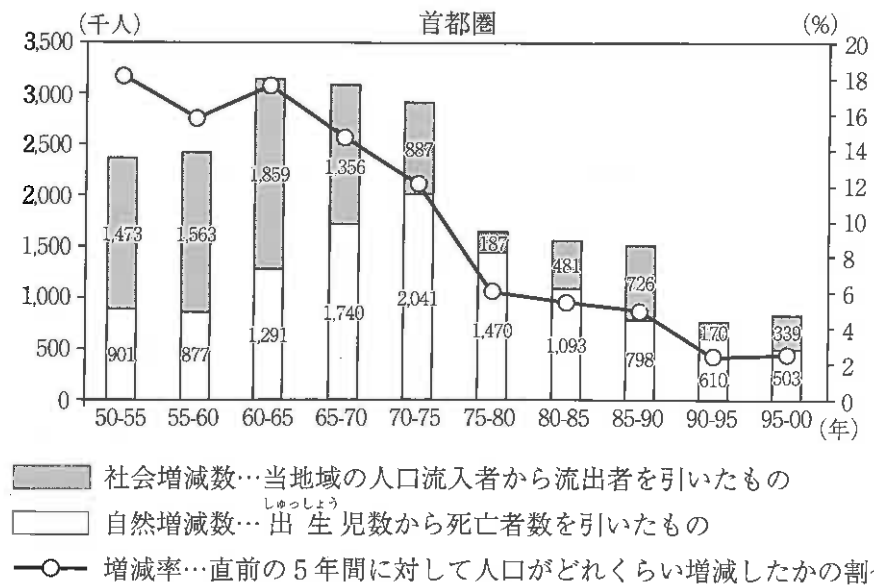
- ア. 摂政 イ. 関白 ウ. 征夷大將軍 エ. 太政大臣

(9) 下線部 c について、五街道の1つである東海道を説明した次の文章を読み、空欄に当てはまる語句の組み合わせとして、正しいものを次から1つ選び、記号で答えなさい。

東海도는海沿いを通り、江戸から京都までを結ぶ街道である。(①) の宿場(宿駅)を設置したほか、重要な関所としては (②) が有名である。

	①	②
ア	53	箱根
イ	53	碓氷
ウ	67	箱根
エ	67	碓氷

- (10) 下線部 **d** について、以下のグラフは内閣府が発表した1950年から2000年までの首都圏（東京・神奈川・千葉・埼玉）の人口増減を表したものである。このグラフの読み取りとして、正しくないものを次から1つ選び、記号で答えなさい。



[内閣府『地域の経済2011—震災からの復興、地域の再生—』より作成]

次の頁にも問題があります

- ア. 自然増減数と社会増減数の割合を比較すると、1965年までは社会増減数の方が上回っている。
- イ. 1975年～80年、人口増減率が初めて10%を切った。
- ウ. 1960年～1970年の10年間に人口増減数が最大となるが、これは高度経済成長を背景としたものである。
- エ. 1990年から95年の5年間で、人口増減数は最小を示し、直前5年間よりも首都圏の人口は減少した。
- (11) 下線部 **e** について、関東大震災より前の出来事として、正しいものを次から1つ選び、記号で答えなさい。

- ア. ポツダム宣言受諾 イ. 大戦景気
 ウ. 五・一五事件 エ. 国家総動員法公布

③ 次の文章を読んで、各問に答えなさい。

日本で過疎という言葉が最初に使用されたのは、約50年さかのぼる1960年代後半である。過疎化の進行が止まない中、地方では「限界集落」という言葉も生まれるほどに **a** 様々な問題がおこっている。

例えば、**b** 自治体によっては地方議会 **c** 議員の希望者が十分に集まらないという問題がおこっている。昨年、議員の希望者不足に悩んだ **d** 高知県大川村では **e** 村議会をやめて「町村総会」設置に向けた検討がなされ、話題となった。今後、地方議会の維持に苦勞をする自治体が増えていくことが確実とされている。

この事態を重くみた、地方自治を管轄する **f** 中央省庁である総務省は、小規模自治体の議会維持のためにいくつかの提案をしている。例えば、他に仕事を持つ人々が地方議会議員を兼ねることを制限する決まりを緩やかにしたうえで、平日の夜間や休日に議会を開くことや、**g** 議員定数を少数にする一方で **h** 民意を吸い上げる制度の導入なども提案している。

こうした提案が地方議会議員の希望者の増加につながるかは、はっきりとしない。まずは、**i** 住民自治や地方議会の重要性が住民の全体にしっかりと理解される必要があるという指摘もある。そのような指摘から考えると、希望者不足の原因には、過疎化の進行だけでなく、**j** 女性や若者の議員のなり手の少なさにも原因を求めることができるという考えも出てくるであろう。小規模自治体の議会維持のためには、「どうしようのないことだ」とあきらめることなく、様々な角度から考えてみる必要がある。

(1) 下線部 **a** について、過疎化の進行がもたらす地方の様々な問題とは、どのようなものがあるのだろうか。学校に関するものを2点説明しなさい。

(2) 下線部 **b** について、自治体間の格差をなくすために、国が使いみちを指定せずに自治体に渡されるお金のことを何と呼ぶか答えなさい。

(3) 下線部 **c** について、議員の被選挙権年齢の組み合わせとして、正しいものを次から1つ選び、記号で答えなさい。

- | | |
|-----------------|-------------|
| ア. 地方議会議員…25歳以上 | 参議院議員…25歳以上 |
| イ. 地方議会議員…25歳以上 | 衆議院議員…25歳以上 |
| ウ. 地方議会議員…20歳以上 | 衆議院議員…20歳以上 |
| エ. 地方議会議員…20歳以上 | 参議院議員…30歳以上 |

(4) 下線部 **d** について、高知県は県名と県庁所在地名が同じである。これと同様に、九州地方のなかで、県名と県庁所在地名が同じ県はいくつあるか、数字で答えなさい。

(5) 下線部 **e** について、「町村総会」とはどのきまりに基づいているのか。正しいものを次から1つ選び、記号で答えなさい。

- ア. 「町村は、条例で……議会を置かず、選挙権を有する者の総会を設けることができる。」(地方自治法94条)
- イ. 「そもそも国政は、国民の厳粛な信託によるものであって、その権威は国民に由来し、その権力は国民の代表者がこれを行使し…」(憲法前文)
- ウ. 「普通地方公共団体の議会に請願しようとする者は、議員の紹介により請願書を提出しなければならない。」(地方自治法124条)
- エ. 「何人も、公共の福祉に反しない限り、居住、移転及び職業選択の自由を有する。」(憲法22条)

(6) 下線部 **f** について、社会保障に関する仕事を担当する国の行政機関の名称を答えなさい。

(7) 下線部 **g** について、2018年7月に成立した公職選挙法の改定内容として、正しいものを次から1つ選び、記号で答えなさい。

- ア. 衆議院の議員定数を6議席削減した。 イ. 衆議院の議員定数を7議席増やした。
- ウ. 参議院の議員定数を7議席削減した。 エ. 参議院の議員定数を6議席増やした。

(8) 下線部 **h** について、民意を吸い上げるのには、古くは目安箱、今では世論調査などが実施されている。議題に関係する人や専門家の意見を聞くために、国会や地方議会などの公的機関が開く会合の名称を3字で答えなさい。

(9) 下線部 **i** について、住民自治の意味として、正しいものを次から1つ選び、記号で答えなさい。

- ア. 住む場所を自由に選べるという権利のことである。
- イ. 地方税を納めなければならないという義務のことである。
- ウ. 地域の課題を住民自身が向き合い解決に努力することである。
- エ. 国からの指示に住民の意思を合わせていくことである。

(10) 下線部 **j** について、これらの内容を調べようと考えたとき、手に入れるべきデータの組み合わせとして、正しいものを次から1つ選び記号で答えなさい。

ア	全国町村の第一次産業従事者割合	全国の町村議会議員男女別割合
イ	全国の市町村別出生率	高知県大川村年齢構成割合
ウ	全国の町村議会議員男女別割合	全国の町村議会議員年齢構成割合
エ	全国町村の高齢化率	全国の市町村別出生率

2019年度 獨協埼玉中学校第1回入学試験〔社会〕解答用紙

1	(1)						
	(2)	①		②		③	
	(3)	市		(4)			
	(5)	①	縮尺				
			理由				
		②	写真1	写真2			
(6)	③			④			

小計1

2	(1)			(2)	県	
	(3)		(4)			
	(5)					
	(6)					
	(7)		(8)		(9)	
(10)		(11)				

小計2

3	(1)					
	(2)				(3)	
	(4)				(5)	
	(6)	省			(7)	
	(8)					
	(9)		(10)			

小計3

合
計

受験番号		氏名	
------	--	----	--