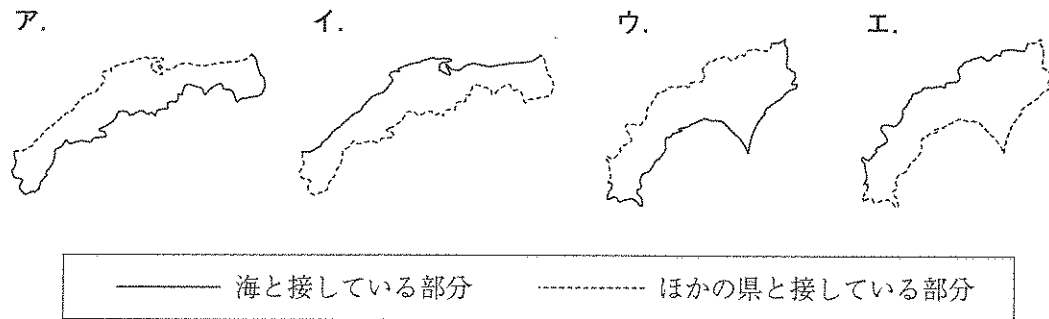


1 次の文章を読んで、各問いに答えなさい。

四国は、愛媛、香川、**a**徳島、高知の4県からなる島である。島の中央を東西に四国山地が走り、山地の西部には石灰岩^{せっかいがん}できている（ 1 ）地形がみられる。四国にある河川のうち、高知県に河口をもつ（ 2 ）川は、本流に大きなダムがないことから「日本最後の清流」と呼ばれている。四国の**b**気候は、山あいの地域をのぞいては、冬でも温暖な地域が多く、その特色をいかして**c**様々な産業が行われている。

香川県は、日本で最も面積が小さい**d**都道府県であるが、四国で最も多くの観光客が訪れている。**e**空海にゆかりのある寺を訪れる四国八十八か所めぐりのほか、近年は名物のうどんや瀬戸内の自然をいかした観光が注目されている。

(1) 下線部 **a** について、法律が改正され、昨年の参議院選挙から、鳥取県と島根県、徳島県と高知県が一つの選挙区となった。次の **A**～**E** は、鳥取県と島根県、徳島県と高知県のいずれかを合わせた形（島を除く）を示している。徳島県と高知県のものとして、正しいものを1つ選び、記号で答えなさい。



注) 上が北を示す。縮尺は同じ。

(2) 空欄 (1)・(2)に入る語句を答えなさい。

(3) 下線部 **b** について、次の **A**～**C** は、昨年の1月20日午前9時台に気象庁によって波浪警報^{はろう}、着雪注意報^{ちやくせつ}、乾燥注意報^{かんそう}が出された都道府県をまとめたものである。【用語の説明】を参考にして、波浪警報と乾燥注意報にあてはまる組み合わせを、下の **A**～**E** より1つ選び、記号で答えなさい。

【用語の説明】

- ・波浪警報……高い波によって、重大な災害がおこると予想される時に発表される。
- ・着雪注意報…電線などに雪が着いて、被害がおこると予想される時に発表される。
- ・乾燥注意報…空気の乾燥により、災害がおこると予想される時に発表される。


A		B		C	
北海道	富山	北海道	福井	福島	大阪
青森	石川	青森	滋賀	栃木	兵庫
秋田	福井	秋田	京都	茨城	香川
岩手	京都	山形	兵庫	千葉	徳島
山形	兵庫	新潟	鳥取	東京	高知
東京	鳥取	岐阜	島根	神奈川	山口
新潟	島根	富山	岡山	静岡	大分
		石川	広島	三重	鹿児島
				和歌山	

	ア	イ	ウ	エ
波浪警報	A	A	B	B
乾燥注意報	B	C	A	C

〔気象庁HPより作成〕

(4) 下線部 c について、次の問いに答えなさい。

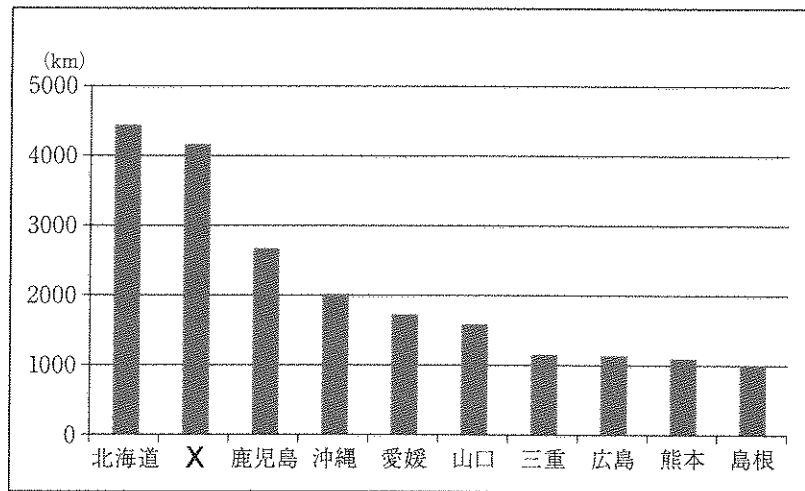
- ① 香川県で栽培されている農作物のうち、全国の生産量のほとんどを香川県がしめ、油をしぼったり塩づけに加工したりする作物は何か、答えなさい。
- ② 瀬戸内海でみられる様々な漁法のうち、下のイラストで示したものを何というか、正しいものを次から1つ選び、記号で答えなさい。



〔香川県漁業協同組合連合会HPより作成〕

- ア. 底引き網 イ. 巻き網 ウ. はえなわ エ. さし網

(5) 下線部 d について、次のグラフは、都道府県別の海岸の長さについてまとめたものである。どのような場合に海岸の長さが長くなるかを考えながら、グラフ中の X にあてはまる都道府県名を答えなさい。

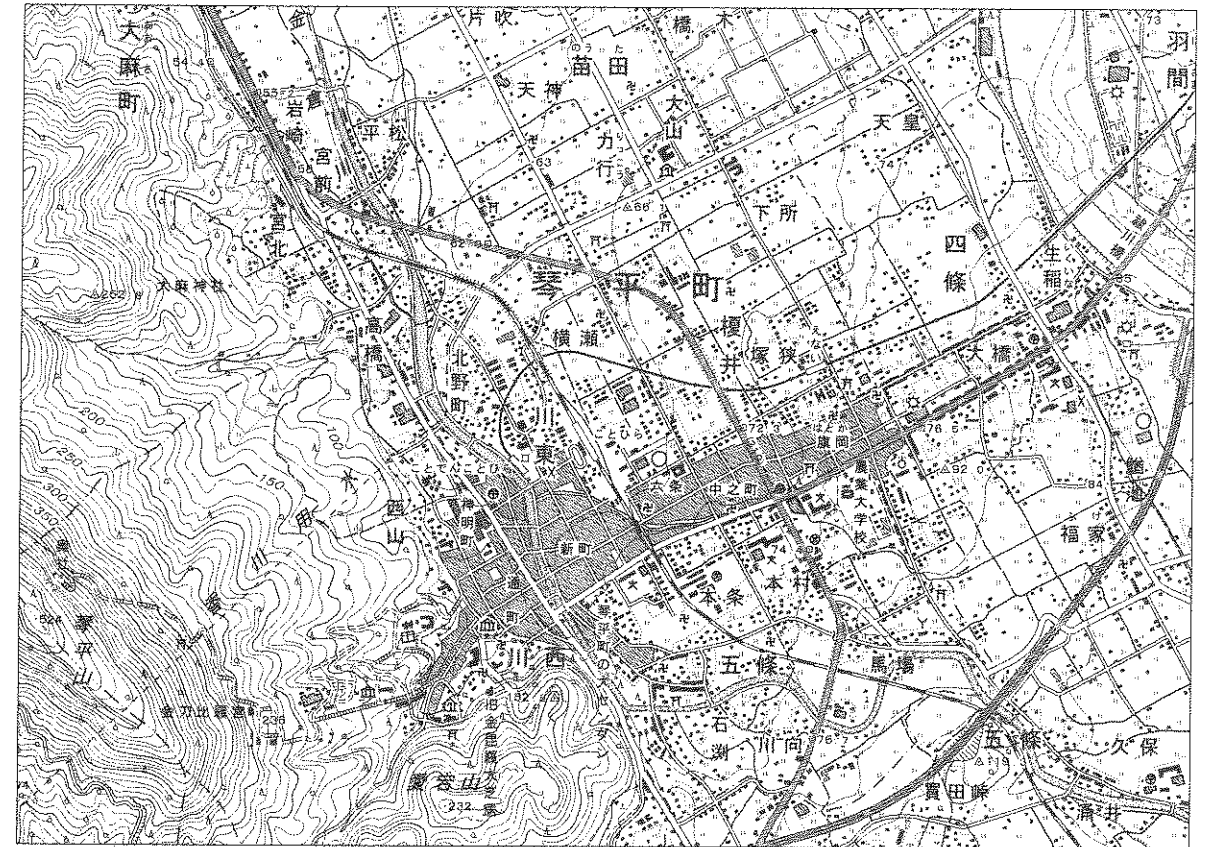


〔『海岸統計平成24年度版』より作成〕

(6) 下線部 e について、空海によって広められた仏教の宗派として、正しいものを次から1つ選び、記号で答えなさい。

- ア. 浄土真宗 イ. 天台宗 ウ. 日蓮宗 エ. 真言宗

(7) 次の地形図は、香川県琴平町付近のものである。地形図をみて、あとの問いに答えなさい。



〔国土地理院発行 25,000分の1地形図 善通寺〕


- ① 地形図に関する説明文として、正しいものを次から1つ選び、記号で答えなさい。
 - ア. 「えない」駅から「農業大学校」までの直線距離が地図上で2cmであるとすると、実際の距離は2kmになる。
 - イ. この地形図中の平地には畑が広がり、香川県の特産品であるうどんの原料となる小麦の栽培がさかんであることが分かる。
 - ウ. 「金刀比羅宮」の高さは236mで、そこから北西に進むと「奥社」があり、その高さは「金刀比羅宮」よりも高い。
 - エ. 「琴平山」は広葉樹林と針葉樹林のほかに果樹園が見られ、高知県との県境がある。

② 地形図中で撮影したものとして、正しくないものを次から1つ選び、記号で答えなさい。

ア.



イ.



ウ.



エ.



③ 地形図中の「香川用水」は、香川県を東西に走り、水が流れている。この用水はなぜ建設されたのか、水の使い方をあきらかにしながら、建設の目的を説明しなさい。

② 次の文章を読んで、各問いに答えなさい。

およそ2500年前と想定される a 縄文時代の終わり頃、大陸文化の影響によって九州北部に稲作を中心とする農耕文化が起こった。稲作と b 金属器の使用を特徴とするこの新しい文化は弥生文化と呼ばれている。この頃は九州に多くの c 小国が分立していたが、次々にヤマト政権に従ったと考えられている。その後、律令制が整うと、九州北部はその地理的な条件から、d 大陸との関わりの拠点として、重要な役割を果たした。

平安時代末期、律令制の崩壊とともに各地で武士が成長したが、九州には平氏が進出し、勢力を広げた。その後、鎌倉幕府は e 蒙古襲来の時に、九州の御家人の協力のもとにこれを撃退した。さらに室町幕府のもとで、(1) は明との交易により栄え、力を付けた商人たちはやがて自治を行うようになった。

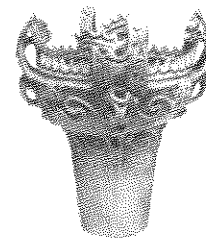
1592、1597年の f 豊臣秀吉による朝鮮出兵は、肥前国の 名護屋を基地として行われたが、秀吉の死去によって終わった。そして江戸時代になると鎖国政策によって中国・オランダとの対外関係の窓口は (2) に限られることになった。

明治維新は下級武士の力を原動力としたが、明治政府の改革によって、g 士族が没落していった。それを象徴する出来事が、最後の武力反抗となる h 西南戦争である。

日本の近代化にとって九州は鉄と石炭の主要産産地であったが、i エネルギー革命と産業構造の変化によって、今日新たな取り組みが行われている。

(1) 下線部 a について、この時代に使用された道具として、正しくないものを次から1つ選び、記号で答えなさい。(写真の縮尺は統一していません)


ア.



イ.



ウ.



エ.



(2) 下線部 b について、この時に伝えられた金属器とは、鉄器ともう1つは何か、答えなさい。

- (3) 下線部 c について、次の文章を読み、「奴国」がなぜこのような外交を行ったのか、その目的を説明しなさい。

西暦57年に、日本の奴国が、(中国の後漢の王朝へ) みつぎ物をもって、あいさつに来た。… (後漢の皇帝である) 光武帝は、奴国王の位を認め、そのしるしとして印を与えた。

〔『後漢書』東夷伝〕

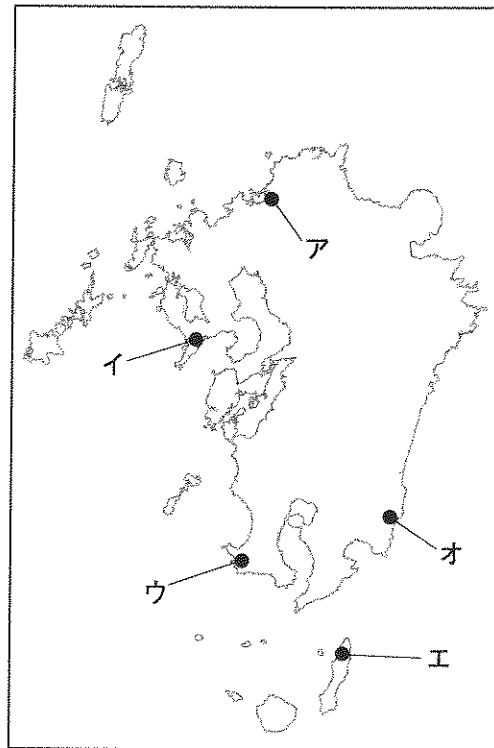
- (4) 下線部 d について、この時代の外国との関わりの拠点となった場所として、正しいものを次から1つ選び、記号で答えなさい。

ア. 対馬^{つしま} イ. 大宰府^{だざいふ} ウ. 長崎 エ. 壱岐^{いっき}

- (5) 下線部 e について、蒙古襲来について述べた文として、正しいものを次から1つ選び、記号で答えなさい。

ア. 1274年に元の皇帝チンギス=ハンが、高麗^{こうらい}を従え攻めてきた。
 イ. 1281年の2度目の襲来を文永の役という。
 ウ. 蒙古襲来の時の執権は、3代北条泰時^{ひょうとうとき}である。
 エ. 蒙古襲来の結果、御家人の貧困が進み、幕府は徳政令をだした。

- (6) 空欄 (1)・(2) に入る地名の位置として、正しいものを右の地図からそれぞれ1つ選び、記号で答えなさい。




- (7) 下線部 f について、豊臣秀吉のいた時代に製作されたものとして、正しいものを次から1つ選び、記号で答えなさい。


ア.




イ.



ウ.



エ.



- (8) 下線部 g について、士族が没落していく原因について述べた文として、正しくないものを次から1つ選び、記号で答えなさい。

ア. 徴兵令が制定され、男子は兵役の義務を負った。
 イ. 四民平等とされ、これまでの身分制度が改められた。
 ウ. 国会が開かれ、士族が政治に参加することができなくなった。
 エ. 政府からの家禄^{かろく}が廃止された。

- (9) 下線部 h について、この事件の中心となった薩摩出身の人物とは誰か、答えなさい。

- (10) 下線部 i について、これはエネルギー源が石炭から何に変わったことを意味するか、答えなさい。

③ 次の文章を読んで、各問いに答えなさい。

行政に関わる手続きを簡単にすることを目的に、**a**マイナンバー制度がはじまった。これは全国民に異なる番号をつけ、医療や年金、介護などの**b**社会保険に関わる手続きを個人番号で行えるようにするもので、住所地の**c**市町村長がその番号を指定する。

今後の利点としては、**d**税金や年金の支払額を確認できたり、マイナンバーカード1枚で、健康保険証、年金手帳、介護保険証として使えたり、**e**生活保護費の不正受給を防げたりすることなどが挙げられる。また、国は**f**国民一人ひとりの仕事や収入を把握することができ、様々な政策に活用できる。一方、このシステムをつくり管理するには莫大な経費がかかることや、個人情報^{はあく}が漏れて**g**不正使用されるおそれがあることなども指摘されている。**h**国民の権利を守るためにも、マイナンバーの管理・運用には慎重にならなければならない。

(1) 下線部 **a** について、マイナンバー制度に関わる法律は2013年に国会で成立した。国会には2つの議院があるが、参議院ともう1つは何か、答えなさい。

(2) 下線部 **b** について、社会保険のうち、「年金保険」と「雇用保険」について、それぞれどのような人に支給されるのかに触れながら、保険の目的を説明しなさい。

(3) 下線部 **c** について、市町村長のリコールを請求するのに必要な署名数として、正しいものを次から1つ選び、記号で答えなさい。

- ア. 有権者の50分の1以上 イ. 有権者の3分の1以上
ウ. 有権者の3分の2以上 エ. 有権者の過半数

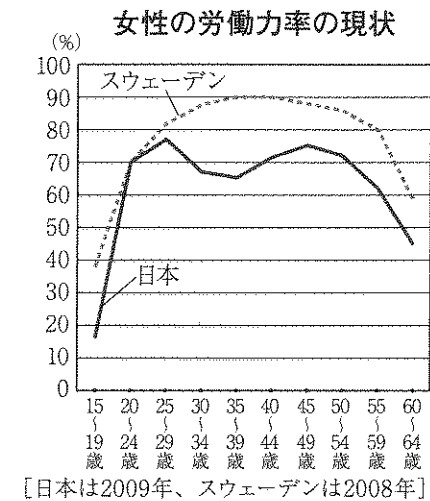
(4) 下線部 **d** について、次の問いに答えなさい。

- ① 憲法に規定される国民の三大義務は、納税の義務・子どもに普通教育を受けさせる義務とあと1つは何か、漢字2字で答えなさい。
- ② 国の収入は、税金と印紙収入および、借入れ金からなる。この借入れ金のことを何というか、答えなさい。
- ③ 日本では古くから、時代ごとに様々な形で税が集められた。租・庸とならぶもので、地方の特産物などを納める税は何か、答えなさい。

(5) 下線部 **e** について、次の日本国憲法第25条の条文の空欄に入る語句は何か、答えなさい。

「すべて国民は、()で文化的な最低限度の生活を営む権利を有する」

(6) 下線部 **f** について、次の資料は、日本とスウェーデンの働いている女性の割合を、年代別に比較したものである。このグラフから読みとれることとして、正しくないものを次から1つ選び、記号で答えなさい。



〔『2015年版 男女共同参画白書』より作成〕

ア. スウェーデンは、女性が仕事を続けながら出産や子育てができる環境が整っている。

イ. 日本は、女性が仕事を続けながら出産や子育てができる環境が整っている。

ウ. 日本の女性は、出産や子育てのために退職する女性が多い。

エ. 10代で働く女性の割合は、スウェーデンの方が日本よりも高い。

(7) 下線部 **g** について、このような不正使用を行った者に対して、事件の内容をはっきりさせて裁判官に処罰を求める立場にあるのは誰か、答えなさい。

(8) 下線部 **h** について、不正使用により侵害される恐れのある権利として、正しいものを次から1つ選び、記号で答えなさい。

- ア. 請願権 イ. 自由権 ウ. プライバシーの権利 エ. 知る権利

2017(平成29)年度 獨協埼玉中学校第1回入学試験〔社会〕解答用紙

1	(1)			
	(2)	1	2	
	(3)	(4)	①	②
	(5)	(6)		
	(7)	①	②	
		③		

小計 1

--

--

--

--

小計 2

--

2	(1)	(2)			
	(3)				
	(4)	(5)			
	(6)	1	2	(7)	(8)
	(9)	(10)			

小計 2

--

3	(1)		
	(2)		
	(3)		
	(4)	①	②
		③	
	(5)	(6)	
	(7)	(8)	

小計 3

--

合 計	
--------	--

受験番号		氏名	
------	--	----	--