

2015（平成27）年度

第1回 入学試験問題

社 会

（30分，70点）

受験についての注意

1. 試験開始の合図があるまで，問題用紙を開かないでください。
2. 問題は ①～③ まであります。
3. 各問題とも，解答は解答用紙（別紙）の所定の欄に記入してください。
4. 解答用紙には受験番号，氏名を必ず記入し，最後にもう一度確認してください。

1 次の文章を読んで、各問いに答えなさい。

かつて人々は、aその土地の地形や気候などに合わせて、さまざまな住居をつくり、生活してきた。戦後の近代化の影響で、日本の伝統的な住居は失われつつあるが、近年、伝統的な住居や街並みを保存したり復活させたりしようとする動きが全国各地で見られる。これらの地域は、b観光地として、多くの人々でにぎわっている。2015年3月に、
(1) 新幹線が開業する予定である金沢市は、古い街並みが残る日本有数の観光地である。都が1000年以上置かれたc京都府京都市もまた、伝統的な街並みがみられる地域の一つである。

京都市中心部は、周りを山に囲まれた (2) の中に位置し、内陸性の気候で「夏暑く、冬寒い」といわれる。京都市には、長い間都が置かれていたため、海をへだてた中国や全国各地からさまざまなものが伝わり、独自の文化が形成された。d野菜もその一つで、賀茂なすや九条ねぎなどは有名である。

(1) 下線部 a について、下の写真で示した住居についての説明文として、正しいものを次から1つ選び、記号で答えなさい。



- ア. この住居は沖縄県で見られるもので、平屋のつくりで、まわりを^{へい}塀で囲むことで台風からの強い風を防ぐ工夫がみられる。
- イ. この住居は富山県で見られるもので、周辺の山から吹き降ろす強い風を防ぐために、家のまわりに高い木々を植えることで風を防ぐ工夫がみられる。
- ウ. この住居は新潟県で見られるもので、玄関に囲いがもうけられ、屋根は積もった雪が自然にすべりおちる形になっているなど、雪国ならではの工夫がみられる。
- エ. この住居は岡山県で見られるもので、壁を白くぬり^{かべ}瓦^{かわら}を利用した屋根にすることで、まわりの伝統的な住居がある街並みにとけこむ工夫がみられる。

(2) 下線部 b について、観光地を訪れる交通手段にはさまざまなものがある。次の表は、輸送機関別の国内^{りよかく}旅客輸送の人数をまとめたものである。ア～エは、国内航空、旅客船、自動車、鉄道のいずれかである。自動車にあてはまるものを次から1つ選び、記号で答えなさい。

	ア	イ	ウ	エ
1955年	9,781	4,261	74	0.3
1965年	15,798	14,863	126	5
1975年	17,588	28,411	170	25
1985年	18,989	34,679	154	44
1995年	22,630	61,272	149	78
2000年	21,647	62,841	110	93
2005年	21,963	65,947	103	95
2009年	22,725	66,599	92	84

(単位 百万人)

〔『数字で見る日本の100年 改訂第6版』より作成〕

(3) 空欄 (1) にあてはまる語句を答えなさい。

(4) 下線部 c について、京都府に隣接する府県は、大阪府、兵庫県、奈良県、三重県、滋賀県と残り一つはどこか、答えなさい。

(5) 空欄 (2) にあてはまる地形名を答えなさい。

(6) 下線部 d について、近年、建物の中で人工的な光を利用して野菜を育てる「植物工場」が各地で見られる (一部、人工的な光と太陽光の両方を利用しているところもある)。施設をつくり、それを維持・管理するのに高額な費用はかかるが、室内で栽培することで生産者にとってどのような利点があるか、説明しなさい。

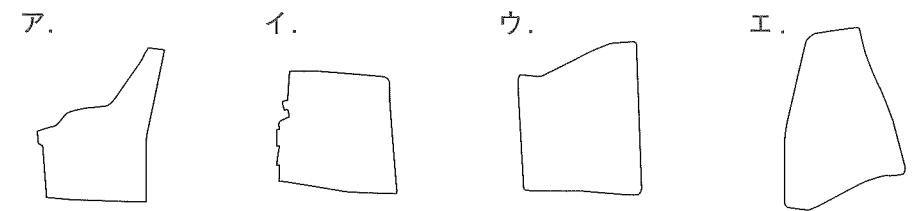
(7) 次の地形図をみて、あとの問いに答えなさい。



〔国土地理院発行 25,000分の1地形図 京都西北部〕

① 下の説明文を読んで、A君の通った道順の形（大きさは半分に縮小してある）として正しいものを次から1つ選び、記号で答えなさい。

「きたのはくばいちょう」駅で電車を降りたA君は、のぼり坂になっている大通りを歩いていった。途中、右手に学校、神社などをみながら、駅からおよそ1.5km進んだところで、東に進行方向を変えた。橋を渡っておよそ250m進んだところで、今度は南東に進行方向を変え、大通りを歩いた。歩いてきた通りと、「今出川通」が交わる交差点を右に曲がって、再び「きたのはくばいちょう」駅に戻ってきた。



② 地形図中の地点A～Dのうち、最も標高が高いものを1つ選び、記号で答えなさい。

③ 地形図中の地点Eの周辺では、右の写真のように絹糸の束を扱う商店がみられた。これは、色をつけて着物などをつくる伝統的な産業に使われる。この伝統的な産業とは何か、答えなさい。



④ 地形図中の地点Fにある金閣を建てた人物は誰か、答えなさい。

- ⑤ 地形図に関する説明文で、正しいものを次から1つ選び、記号で答えなさい。
- ア. この地域の中央部にある「北野天満宮」には、針葉樹林が植えられている。
 - イ. この地域の南部にある「えんまち」駅は、地下鉄の駅である。
 - ウ. この地域は寺院や大学が多く、住宅地はみられない。
 - エ. この地域には、警察署はあるが交番はみられない。

② 次の文章を読んで、各問いに答えなさい。

四国は、**a**弥生時代に使用が始まった**b**青銅器が多く出土される地域であり、これはヤマト政権の勢力が及んでいたことを示している。奈良時代になると、**c**天皇を中心とした**d**律令政治が行われるようになり、讃岐などは罪を犯した人が追放される土地でもあった。律令制度が崩れ、各地に武士が出現するようになると、**e**瀬戸内海では海賊が勢力を伸ばした。

f戦国時代に入ると、各地の有力者が対立し、戦いが行われたが、土佐の長宗我部氏による統一が進んだ。近世になると各地に街道が整備されたが、四国は険しい山地があるため、海岸沿いの交通が発達した。産業では阿波の藍染めなどが盛んになった。**g**幕末になると開国による混乱もあったが、その中で薩長同盟を仲介した土佐藩の(1)などの志士が活躍した。

明治政府ができ、新しい改革が行われ、1871年に(2)の命令が出されると、中央集権が進んだ。また、政府の政策により産業が発達し、**h**明治から大正にかけての近代化の中で、それまでの帆船にかわり、瀬戸内海でも蒸気船が運航するようになった。


このように、**i**四国地方は古くから各地域において歴史文化を育んできた。

(1) 下線部**a**について、弥生時代の社会について述べた文として、正しいものを次から1つ選び、記号で答えなさい。

- ア. 貧富の差や身分の違いはほとんどなかった。
- イ. 古墳のまわりに、人や馬の形を表現した埴輪が並べられた。
- ウ. 中国の歴史書によると、当時の日本は100あまりの小国にわかれていた。
- エ. この時代の遺跡としては、東京都の大森貝塚が有名である。

(2) 下線部**b**について、青銅器のうち、当時の生活の様子などを描いた右のような絵がみられるものとして、正しいものを次から1つ選び、記号で答えなさい。

- ア. 銅剣
- イ. 銅鐸
- ウ. 銅矛
- エ. 銅鏡



(3) 下線部 c について、次の文が示す天皇は誰か、答えなさい。

奈良時代、都を次々とうつし、大仏をつくらせるなど、仏教の力を借りて不安定な社会を立て直そうとした。

(4) 下線部 d について、律令国家のもとで行われた班田収授法はどのような制度か、説明しなさい。

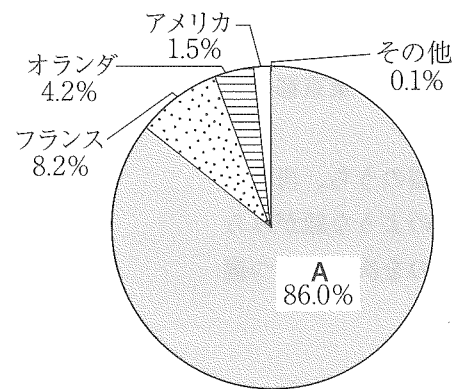
(5) 下線部 e について、10世紀半ば、海賊と結んで瀬戸内海を支配した伊予国の役人だった人物として、正しいものを次から1つ選び、記号で答えなさい。

ア. 藤原純友 イ. 源義経 ウ. 北条時宗 エ. 平清盛

(6) 下線部 f について、中国地方の大部分をおさめた戦国大名として、正しいものを次から1つ選び、記号で答えなさい。


ア. 毛利氏 イ. 今川氏 ウ. 武田氏 エ. 島津氏

(7) 下線部 g について、この時期における横浜港での船舶の国籍別貿易額割合（1865年）を示した次のグラフのうち、Aはどこの国か、国名を答えなさい。



〔『横浜市史第2巻』より作成〕

(8) 右の写真は、空欄（ 1 ）にあてはまる人物である。
この人物の名前を答えなさい。



(9) 空欄（ 2 ）にあてはまる語句として、正しいものを次から1つ選び、記号で答えなさい。

ア. 五か条の誓文 イ. 徴兵令 ウ. 四民平等 エ. 廃藩置県

(10) 下線部 h について、明治時代から大正時代にかけての社会について述べた文として、正しくないものを次から1つ選び、記号で答えなさい。

ア. 日露戦争前後に、重工業を中心に産業革命が起こった。
イ. 南満州鉄道の爆破事件をきっかけに、満州事変が起きた。
ウ. 第一次世界大戦が終わると、日本の輸出額が減少し、景気が悪化した。
エ. 義務教育が6年に延長され、就学率がのびた。

(11) 下線部 i について、四国地方について述べた文として、正しくないものを次から1つ選び、記号で答えなさい。

ア. 高知県では、なすやピーマンの促成栽培が行われている。
イ. 香川県は日本で最も面積の小さい県である。
ウ. 愛媛県は段々畑を利用したみかん生産がさかんである。
エ. 徳島県では、夏に行われるねぶた祭りが有名である。

③ 次の文章を読み、各問いに答えなさい。

a 第一次世界大戦の反省から、初の国際平和機構として (1) が1920年に発足したが、うまく役割を果たせなかった。第二次世界大戦終結後、b 新たな国際平和機構がニューヨークを本部に誕生した。この機構は、c P K Oなどを通して国際平和に貢献しているが、各地の紛争や国際的緊張に十分に対応できていない現実もある。

2014年7月、安倍政権は、アジア太平洋地域の緊張などを理由に、「日本国憲法は (2) 的自衛権の行使を認めていない」という歴代政府が約60年間維持してきた考えを変更する (3) 決定を行った。これには、日本の平和と安全が守られているという意見がある一方で、d 憲法前文で述べられた「不戦の誓い」や第9条の考え、およびe 立憲主義の原則に反するという意見もある。

そこで安倍政権は、f 自衛隊の新たな活動を可能とさせ、主に米国との軍事的協力関係を深めるための法律案をg 国会に提出し、審議を進めていく中で、国民の理解を十分に得られるように丁寧な説明をしていくとしている。

- (1) 下線部 a について、この戦争に日本は参戦しているが、参戦の理由となったある外国との同盟関係を何というか、答えなさい。
- (2) 空欄 (1) にあてはまる語句を答えなさい。
- (3) 下線部 b について、この機構の主要な組織の1つである総会の意思決定の原則を2つ説明しなさい。
- (4) 下線部 c について、このアルファベットの日本語にあたる語句として、正しいものを次から1つ選び、記号で答えなさい。
- ア. 国際司法裁判所 イ. 国連児童基金
ウ. 国連平和維持活動 エ. 世界保健機関
- (5) 空欄 (2) にあてはまる語句を答えなさい。
- (6) 空欄 (3) にあてはまる、内閣の意思決定の場のことを何というか、漢字2文字で答えなさい。

(7) 下線部 d について、次の文は憲法前文の一部である。空欄 (①) ~ (③) にあてはまる語句の組み合わせとして、正しいものを次から1つ選び、記号で答えなさい。

そもそも国政は、国民の厳粛な信託によるものであつて、その (①) は国民に由来し、その (②) は国民の代表者がこれを行使し、その (③) は国民がこれを享受する。

	①	②	③
ア	権威	権力	福利
イ	権力	福利	権威
ウ	権力	権利	福利
エ	権威	福利	権利

- (8) 下線部 e について、立憲主義についての説明として、正しいものを次から1つ選び、記号で答えなさい。
- ア. 国民に選ばれた代表者が政治をすることである。
イ. 憲法で定められた内容に従って政治が行なわれていくことである。
ウ. 国民が中心になって憲法の制定をすすめていくことである。
エ. 国際平和機構にしたがって各国が外交を行うことである。
- (9) 下線部 f について、自衛隊についての説明として、正しくないものを次から1つ選び、記号で答えなさい。
- ア. 管轄する中央官庁は防衛省である。
イ. 大規模災害などに際して支援を行う。
ウ. 内閣総理大臣が最高指揮監督権を持つ。
エ. 今まで海外で活動したことはない。
- (10) 下線部 g について、毎年1月中に召集される国会を何というか、答えなさい。

1	(1)	(2)	(3)	
	(4)	県		(5)
	(6)			
	(7)	①	②	③
④			⑤	

小計1

--

2	(1)	(2)	(3)	天皇
	(4)			
	(5)	(6)	(7)	
	(8)		(9)	
	(10)	(11)		

小計2

--

3	(1)	(2)	
	(3)		
	(4)	(5)	
	(6)	(7)	(8)
	(9)	(10)	

小計3

--

合計	
----	--

受験番号		氏名	
------	--	----	--