

【訂正】 2月1日 4科入試 社会 大問1 問13 選択肢ア～オに訂正


(誤)

問13 会話文中の **X** ～ **Z** にあてはまる語句の組合せとして最も適当なものを、次のア～カから1つ選び、記号で答えなさい。

	ア	イ	ウ	エ	オ	カ
X	滋賀	滋賀	滋賀	京都	京都	京都
Y	40	40	60	60	40	60
Z	断層	プレート	断層	プレート	断層	プレート

(正)

問13 会話文中の **X** ～ **Z** にあてはまる語句の組合せとして最も適当なものを、次のア～カから1つ選び、記号で答えなさい。

	ア	イ	ウ	エ	オ	カ
X	滋賀	滋賀	滋賀	京都	京都	
Y	40	40	60	60	40	
Z	断層	プレート	断層	プレート	断層	

2月1日 AM
第1回 4科入試

2026年度
入学試験問題
社会

【注意事項】

1. 試験時間は理科と合わせて40分です。
2. 問題は1ページから16ページまであります。
3. 解答はすべて解答用紙に記入してください。
4. 問題用紙と解答用紙に受験番号、氏名を記入してください。
5. 特別な指示が無い限り、問われている語句は漢字で記入してください。

受験 番号										氏名	
----------	--	--	--	--	--	--	--	--	--	----	--

順天堂大学系属理数インター中学校

1 次の会話文を読んで、あとの各問いに答えなさい。

宝田先生 : 昨年の夏休みに、関西地方の巡検^{じもんけん}に行ってきましたよ。最初は **X** 県の彦根市^{ひこね}に行きました。彦根市は「城下町」として栄えてきたところです。次の【地形図】を見て下さい。彦根城があって、その周りに都市が栄えていますね。

【地形図】



(2万5千分の1地形図「彦根西部」及び「彦根東部」より作成)

ひろきくん : 宝田先生は、どのようなところを見てこられたのでしょうか？

宝田先生 : まず、彦根城の天守閣に上りました。そして、そこから(A)様々な方角の写真を撮ってきました。

なみえさん : どの写真も素敵ですね。

宝田先生 : 次に、「キャッスルロード」とよばれる従来の城下町を活性化した通りを見てきました。ただ、その途中には(写真1)のような通りも見かけました。

(写真1)



ひろきくん：彦根市は観光客がたくさんいるように思っていたのですが、(B) (写真1) の風景は、平日の商店街には人がいないので寂しいですね。

宝田先生：かつてはにぎわっていた城下町も、現在は多くの問題を^{かか}抱えているのです。では、【地形図】を見ながら城下町の特徴^{とくちょう}を考えてみましょう。城下町は、城を中心に計画的につくられた都市のことをいいます。城下町に住めたのは武士と町人だけで、農民は農村にしか住めませんでした。城下町は、敵から町を守る必要があるのですが、どのような工夫がなされていたのでしょうか。今回は、「道路網」^{もつ}から考えてみましょう。

なみえさん：【地形図】を見ると となっているので、敵の侵入を防ぐことができたのだと思います。

宝田先生：そうですね。なみえさんがいったとおり、【地形図】からもあちこちにそのような道路を見ることができますね。私も実際に行って、写真を撮ってきましたよ。さらに寺院の配置を見てください。寺院は集中して配置されていますね。これも計画的な都市づくりの例です。彦根城博物館に行って、昔の城下町の地図を見たところ、地名に「上魚屋町」^{かみうおやまち}「紺屋町」^{こんやまち}などと名前がついていたことから、ここにはその職人が住んでいたことがわかりました。残念ながら、現在の【地形図】には地名は残っていませんが。

ひろきくん：他には、どこかに行かれたのですか？

宝田先生：次に「EXPO 2025 大阪・関西万博」に行きましたよ。(D) 自動車で行ったのですが、^{ちゅうしや}駐車場についたら(写真2)の看板がありました。ドイツのフライブルクなどで行われているシステムを導入したそうです。

(写真2)



ひろきくん：ぼくも「大阪・関西万博」に行きましたよ。まず入場して驚いたのは「大屋根リング」(写真3)の巨大さでした。

(写真3)



宝田先生：この大屋根リングは、日本の全ての(E)都道府県の森林の木を使ったそうですね。

なみえさん：そうなのですか！日本の森林率は世界の中でも高いと聞いたことがありますが、日本にはたくさんのお木があるんですね。

宝田先生：日本の森林率は、たしかに世界平均よりも高いです。しかし日本の木材自給率は、食料自給率とほぼ同じで、約 % (2022年) です。ということは、それ以外は外国からの輸入で支えられていることになるのです。実際この大屋根リングも、国産材だけでなく、外国材も使用されたといわれています。

ひろきくん：ぼくが行ったときはとても混んでいたのですが、パビリオンでは「サウジアラビア館」に行ってきました。(F)サウジアラビアの民族衣装を着た男性の方と一緒に写真を撮ったことがとても良い思い出になりました。

宝田先生：民族衣装は、その地域の気候などの自然環境や、農業・宗教などにあわせてつくられています。さて私は、万博に行った日の夜は(G)神戸市にある中華街で夕食をとり、(H)外国人が経営する宿泊施設に泊まりました。玄関に入ると世界地図が貼ってあり、ピンで宿泊者の出身国を示していました。(I)フランス、イタリア、オーストラリア、中国、インド、アメリカ合衆国など、様々な国からこのホテルに泊まりに来ていることがわかりましたよ。

なみえさん：宝田先生、次の日はどこに向かわれたのですか？

宝田先生：次の日は、(J)兵庫県まで足を延ばして、(写真4)の場所に行きました。

(写真4)



ひろきくん：これは(K)「日本標準時子午線」ですよ。駅のホームを通っているのですか？

宝田先生：そうなのです。山陽電車の「人丸前駅^{ひとまるまえ}」を通っています。東経135度、つまりイギリス・ロンドンから東へ135度の角度にあるのです。

なみえさん：たしか、この線上に天文台があるのですよね。


宝田先生：よく知っていますね。そうです。天文台の中にある資料館にも行ってきました。この天文台の時計は「5時46分」で1か月ほど止まっていたことがあるのですが、この時刻にはどのような意味があるのでしょうか。

ひろきくん：その時刻は、「阪神・淡路大震災^{だいしんさい}」のあった時刻です。

宝田先生：その通りです。最後に私は「阪神・淡路大震災」を起こした「野島^Z」の保存資料館に行ってきました。これは(L)淡路島にあります。(写真5)を見てください。^Zが大きく右にずれているのが見て取れますね。このエネルギーが大地震を起こしたのです。被害も大きかったです。ちょうど昨年で発生から30年が経過しました。このことを永遠に忘れずに、私たちは生きていく必要がありますね。

(写真5)



問1 下線部(A)に関して、【地形図】中の  の方角に見える景色を、次のア～エから1つ選び、記号で答えなさい。

ア



イ



ウ



エ



問2 下線部(B)に関して、(写真1)のような通りを特に何というか。解答欄にあてはまるようにカタカナで答えなさい。

問3 空欄 にあてはまる文章を考えて、40字程度で答えなさい。

問4 下線部(D)に関して、「P & R」(パークアンドライド)について述べた次の文中の ・
 にあてはまる語句の組合せとして最も適当なものを、下のア～エから1つ選び、記号で
 答えなさい。

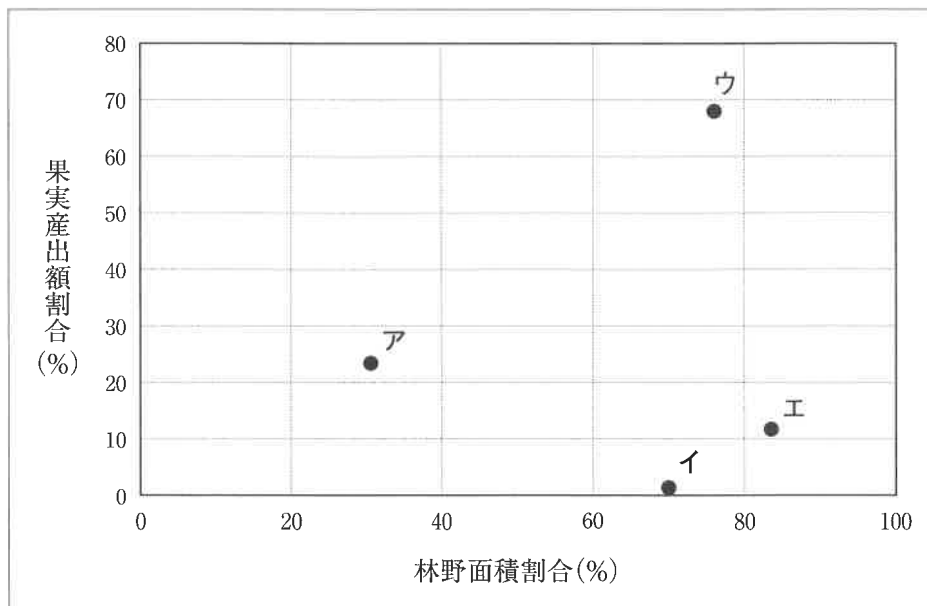
「P & R」(パークアンドライド)は、イベントなどの会場から少し離れた駐車場まで自家用車
 車で来て、そこからバスなどを乗り継いで、会場まで行き来することをいう。

2005年の「愛知万博」では、来場者の多くが で来場し、周辺道路で渋滞が発生
 していたことを受け、「大阪・関西万博」ではその解消のために導入された。

「P & R」の利点として、たとえば ことなどが挙げられる。

- | | | |
|---|----------|-----------------------------------|
| ア | I - 自家用車 | II - 高齢者を乗せて、会場の近くまで自家用車で来ることができる |
| イ | I - 自家用車 | II - 待ち時間がなくなり、トータルの移動時間が短くなる |
| ウ | I - 電車 | II - 高齢者を乗せて、会場の近くまで自家用車で来ることができる |
| エ | I - 電車 | II - 待ち時間がなくなり、トータルの移動時間が短くなる |

問5 下線部(E)に関して、次のグラフは林野面積率(2020年)と農業産出額のうち果実の割合(2023年)
 を示したもので、表中のア～エは「大阪府」、「高知県」、「北海道」、「和歌山県」のいずれかを示し
 ている。このうち、「和歌山県」にあてはまるものを1つ選び、記号で答えなさい。



(『データブック オブ・ザ・ワールド 2025』より作成)

問6 下線部(F)に関して、次のア～エの写真は、世界の国々における男性の民族衣装である。このうち、「サウジアラビア」の民族衣装を1つ選び、記号で答えなさい。

ア



イ



ウ



エ



問7 下線部(G)に関して、神戸市にある中華街は「日本の三大中華街」の1つに数えられる。日本の中華街は、日米修好通商条約がきっかけで開かれた港のある街のうち、「外国人居留地」が開発され、華僑が集まった場所で発展したとされている。残りの「日本の三大中華街」の組合せとして最も適当なものを、次のア～エから1つ選び、記号で答えなさい。

ア 横浜市と長崎市

イ 横浜市と函館市

ウ 函館市と新潟市

エ 新潟市と長崎市

問8 下線部(H)に関して、次の表は日本に住んでいる外国人の人数が多い都道府県をまとめたもの（統計年次は2022年）であり、ア～エは「ブラジル人」、「韓国人」、「中国人」、「ベトナム人」のいずれかを示している。このうち、「ブラジル人」にあてはまるものを1つ選び、記号で答えなさい。

(単位：人)

	ア		イ		ウ		エ	
1位	愛知県	60,397	愛知県	49,719	大阪府	89,305	東京都	235,165
2位	静岡県	31,777	大阪府	47,577	東京都	87,761	埼玉県	75,277
3位	三重県	13,669	東京都	37,958	兵庫県	35,928	神奈川県	72,158
4位	群馬県	13,242	埼玉県	34,702	神奈川県	27,232	大阪府	69,101
5位	岐阜県	12,078	神奈川県	30,049	愛知県	27,083	愛知県	43,918

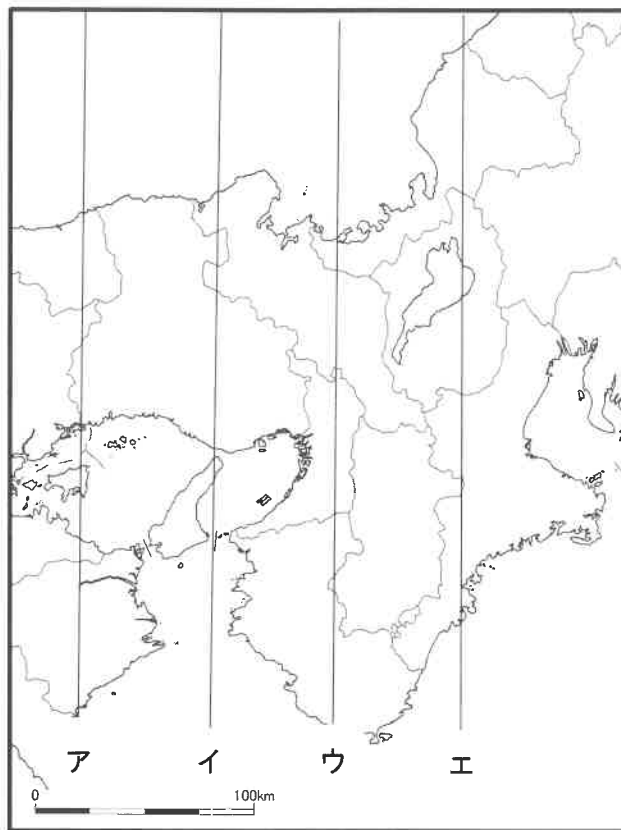
(『データでみる県勢2025』より作成)

問9 下線部(I)に関して、一昨年(2024年)に首都でオリンピックが行われたフランスを、地図の
ア～エのうちから1つ選び、記号で答えなさい。

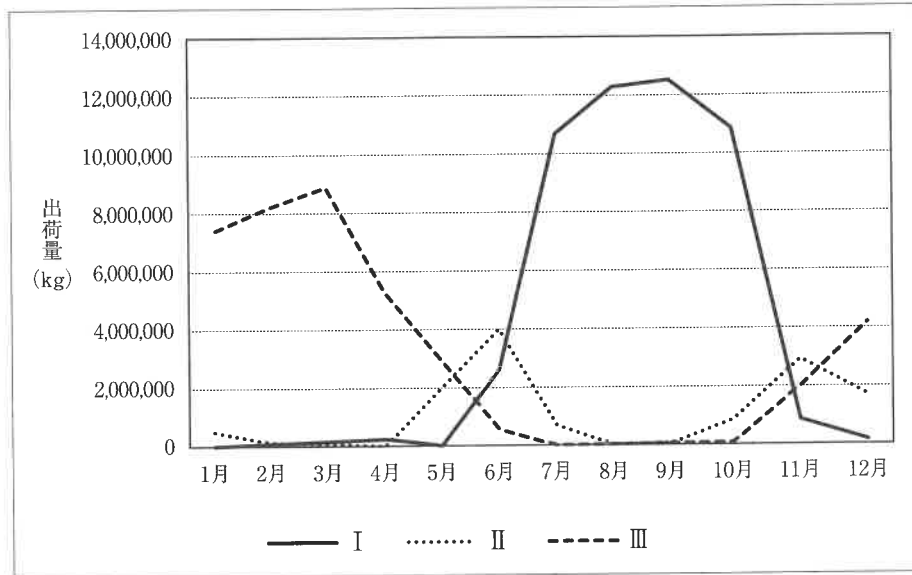


問10 下線部(J)に関して、兵庫県の南西部に位置する、古くから米の産地として知られ、近年は臨海部を中心に重化学工業が発達している平野の名前を、解答用紙にあてはまるように漢字で答えなさい。

問11 下線部(K)について、「日本標準時子午線」を次の地図中のア～エから1つ選び、記号で答えなさい。



問12 下線部(L)に関して、淡路島ではたまねぎ栽培がさかんであるが、高度経済成長期以降、食の洋風化・多様化に伴い、野菜生産が急増した。次のグラフはキャベツの東京都中央卸売市場における月別出荷量（2024年）をまとめたものであるが、グラフ中のⅠ～Ⅲが示す都道府県の組合せとして最も適当なものを、下のア～カのうちから1つ選び、記号で答えなさい。



(『東京都中央卸売市場統計』より作成)

	ア	イ	ウ	エ	オ	カ
Ⅰ	愛知県	愛知県	茨城県	茨城県	群馬県	群馬県
Ⅱ	茨城県	群馬県	愛知県	群馬県	愛知県	茨城県
Ⅲ	群馬県	茨城県	群馬県	愛知県	茨城県	愛知県

問13 会話文中の X ~ Z にあてはまる語句の組合せとして最も適当なものを、次のア～カから1つ選び、記号で答えなさい。

	ア	イ	ウ	エ	オ	カ
X	滋賀	滋賀	滋賀	京都	京都	京都
Y	40	40	60	60	40	60
Z	断層	プレート	断層	プレート	断層	プレート

2 次の会話文を読んで、あとの各問いに答えなさい。

宝田先生：それでは今日の授業を始めていきましょう。早速ですがみなさん、実は「日本の首都」は(A)日本の憲法や法律では明確に定義されていないということを知っていますか？

数也くん：それは本当ですか？ 日本の首都はてっきり東京だと思っていました。

宝田先生：『明鏡国語辞典』（大修館書店）によると、首都は「その国の中央政府がある都市」とされています。この考え方に立てば、国会議事堂や各省庁が置かれている東京が、日本の首都だといえるでしょうね。

理子さん：でも日本の歴史上、現在の(B)奈良に「都」があった時代もありましたよね。日本の首都の位置は、これまでに何度も変更されているということでしょうか？

宝田先生：いい気づきですね。次の【古代の日本における主な「都」の移り変わり】を見てください。この表によれば、(C)7世紀前後の日本の「都」は、10～20年ほどの期間で移動していることがわかります。どうやら天皇がかわるたびに、その天皇の住まいとともに「都」を移動させることが多かったようですね。その後、大規模で本格的な「都」である(D)平城京がつけられると、短期間の移り変わりはありましたが、約80年間同じ場所で政治が行われたことになります。

【古代の日本における主な「都」の移り変わり】

移った年代	都の名前	地域（現在の呼び名）
643年	<small>あすかいたがきのみや</small> 飛鳥板蓋宮	奈良
645年	<small>なにわながらのとよさきのみや</small> 難波長柄豊崎宮	大阪
655年	<small>あすかのみや</small> 飛鳥宮	奈良
667年	<small>おうみおつのみや</small> 近江大津宮	滋賀
672年	<small>あすかきよはらのみや</small> 飛鳥浄御原宮	奈良
694年	藤原京	奈良
710年	平城京	奈良
784年	長岡京	京都
794年	平安京	京都

数也くん：基本的に、天皇の住まいがある場所がずっと首都として機能していたんですね。奈良だけでなく、(E)滋賀や大阪にも都があったことは知りませんでした。

理子さん：古代では、日本の首都があった地域は近畿地方だけなんですね。だから近畿地方に国宝に指定された文化財や世界遺産が多いのでしょうか？

宝田先生：関係なくはないでしょうね。近畿地方は政治だけでなく、(F)宗教や学問といった文化の面でも、中心的な役割を担ってきたと考えられます。

数也くん：平城京のあと、「都」は(G)京都へ移動したのですね。では、【古代の日本における主な「都」

の移り変わり】の最後の平安京のあと、「都」はどうなったのでしょうか？

宝田先生：実は(H)明治時代になるまで、京都から「都」自体が移動することはありませんでした。

数也くん：ということは、もしかして平安京の次の「都」は東京ということですか。

宝田先生：そうなんです。途中で一度、半年間だけ「都」を(I)兵庫の福原に移動させたことがありますが、それを除けば、(J)江戸時代が終わるまで「都」自体はずっと京都にあったということになります。

理子さん：しかし、(K)鎌倉時代あたりから「都」ではなく、幕府がおかれた場所で政治が行われることが増えていますよね。そうすると、たとえ「都」があったとしても、その場所が首都とはいえなくなるのではないですか？

宝田先生：とてもよい指摘ですね。そのような考え方もできます。たとえば、江戸時代は幕府が江戸、つまり現在の東京にありました。したがって、実際に政治の中心的な役割を担っていた幕府があった東京を首都と考えることもできそうです。

問1 下線部(A)について、次の憲法の条文中の空欄 I ・ II にあてはまる語句の組合せとして最も適切なものを、次のア～エから1つ選び、記号で答えなさい。

第7条 天皇は、 I の助言と承認により、国民のために、左の国事に関する行為を行ふ。
一 憲法改正、法律、政令及び条約を公布すること。
二 国会を召集すること。
三 II を解散すること。
四 国会議員の総選挙の施行を公示すること。
……

- ア I - 国会 II - 衆議院 イ I - 国会 II - 参議院
ウ I - 内閣 II - 衆議院 エ I - 内閣 II - 参議院

問2 下線部(B)に関連して、奈良には唐古・鍵遺跡のような弥生時代を代表する遺跡が数多く存在する。弥生時代の説明として適当でないものを、次のア～エから1つ選び、記号で答えなさい。

- ア 大陸から移り住んできた人々によって、金属器が日本に伝えられた。
イ 獲物や木の実はともに分け合う、貧富の差のない平等な社会であった。
ウ 本格的な農耕が始まり、農耕により食糧を得るようになった。
エ この時代の中期ごろから大規模な環濠集落がつけられ始めた。

問3 下線部(C)に関連して、この時代に日本で行われた政策Ⅰ～Ⅲを時代の古い順に並び替えたとき、その組合せとして適当なものを、下のア～カから1つ選び、記号で答えなさい。

- Ⅰ. 大宝律令の制定によって、天皇中心の政治制度を整えた。
- Ⅱ. 改新の詔^{みことり}という政治の基本方針が発表された。
- Ⅲ. 役人が守るべき心構えを、十七条の憲法にまとめて制定した。

- ア Ⅰ → Ⅱ → Ⅲ イ Ⅰ → Ⅲ → Ⅱ ウ Ⅱ → Ⅰ → Ⅲ
エ Ⅱ → Ⅲ → Ⅰ オ Ⅲ → Ⅰ → Ⅱ カ Ⅲ → Ⅱ → Ⅰ

問4 下線部(D)に関連して、平城京全体のつくりの^{とくちょう}特徴を50字程度で説明しなさい。その際、【 】内の語句をすべて用いること。

【 長安 ・ 道路 】

問5 下線部(E)の土地に安土城を建てた人物の政策として適当でないものを、次のア～エから1つ選び、記号で答えなさい。

- ア 通行税を取っていた関所^{はいし}を廃止し、物資の流通がしやすいようにした。
- イ 堺の自治権を取り上げ、商工業者を支配下に置いた。
- ウ 城下町では座を廃止し、自由に商売することを認めた。
- エ キリスト教勢力をけん制するために、仏教勢力を保護した。

問6 下線部(F)に関連して、比叡山に延暦寺を建て、天台宗を広めた僧の名前を、漢字で答えなさい。





問7 下線部(G)に関連して、次の資料【二条河原の落書】が掲示された時期として適当なものを、下の年表中のア～エから1つ選び、記号で答えなさい。

【二条河原の落書】『建武年間記』より

このごろ都にはやる物 ^{ようち}夜討 ^{ごうとう}強盗 ^{りんじ}にせ綸旨
^{めしうど}召人 ^{からさわぎ}早馬 ^{なま}虚騒動 ^{げんぞく}生くび ^{げんぞく}還俗 ^{じゆい}自由出家
^{にわかだいみょう}俄大名 ^{まよいもの}迷者 ^{あんど}安堵 ^{からいくさ}恩賞 ^{からいくさ}虚軍
^{ほんりょう}本領 ^{はなるる}はなるる ^{そししょうにん}訴訟人 ^{もんじょ}文書 ^{ほそつづら}入れたる細葛
^{ついしやう}追従 ^{ざんにん}讒人 ^{ぜんりつそう}禅律僧

【二条河原の落書】(現代語訳・一部要約)

このごろ都ではやるのは、夜討や強盗、天皇の^{たいほ}にせの命令。逮捕された人や緊急^{きんきゆう}事態を知らせる早馬、起こっていない^{そうどう}騒動。生首があつたり、勝手に僧になつたり戻つたり、急に大名になつたり路頭に迷つたり。土地や恩賞ほしさにうその戦を言い出す者もある。所領を離れ都へ訴えに来た人は、^{しょうこ}証拠の文書を入れた細いつづらをもっている。ごまをすつたり密告したりする人や、政治に口出しする禅宗や律宗の僧もある。

年代	できごと
1297	永仁の徳政令が出される。 <div style="text-align: center;">  </div> <input style="float: right; margin-right: 20px;" type="text" value="ア"/>
1333	鎌倉幕府 ^{めつほう} が滅亡する。 <div style="text-align: center;">  </div> <input style="float: right; margin-right: 20px;" type="text" value="イ"/>
1392	南北朝が統一される。 <div style="text-align: center;">  </div> <input style="float: right; margin-right: 20px;" type="text" value="ウ"/>
1467	応仁の乱が起こる。 <div style="text-align: center;">  </div> <input style="float: right; margin-right: 20px;" type="text" value="エ"/>
1573	室町幕府が滅亡する。

問8 下線部(H)について、明治時代のできごとに関連する次の文Ⅰ・Ⅱの正誤の組合せとして適切なものを、下のア～エから1つ選び、記号で答えなさい。

Ⅰ. 現在の1000円札の肖像である渋沢栄一が、大阪紡績会社をつくった。

Ⅱ. イギリス船のノルマントン号が、和歌山県紀伊半島の沖で沈没した。

ア Ⅰ－正 Ⅱ－正 イ Ⅰ－正 Ⅱ－誤

ウ Ⅰ－誤 Ⅱ－正 エ Ⅰ－誤 Ⅱ－誤

問9 下線部(I)に関連して、兵庫にある港で平清盛が貿易を行っていた中国王朝として適切なものを、次のア～エから1つ選び、記号で答えなさい。

ア 唐 イ 宋 ウ 元 エ 明

問10 下線部(J)の時代では、町人の風俗^{ふうぞく}を題材とした絵画である浮世絵^{うきゑ}が庶民^{しよみん}に親しまれた。この浮世絵を確立した菱川師宣の作品として適当なものを、次のア～エから1つ選び、記号で答えなさい。

ア



イ



ウ



エ



問11 下線部(K)の時代に、後鳥羽上皇が政治権力を取り戻^{もど}そうと兵を挙げた。このとき上皇軍と戦うため京都まで攻め上り、のちに執権として御成敗式目（貞永式目）を定めた人物の名前を、漢字で答えなさい。



順天堂大学系属理数インター中学校

2026年度 順天堂大学系属理数インター中学校 入学試験問題

社会解答用紙

受験 番号						氏名	
----------	--	--	--	--	--	----	--

得点	※	
		/50

※印には記入しないこと

1	問1											問2	通り																				
	問3																					15											
																						30											
	問4											問5											問6										
	問7											問8											問9										
	問10											問11	平野																				
	問12											問13																					

2	問1											問2											問3											
	問4																															15		
																																30		
																																		45
																																		60
	問5											問6																						
	問7											問8											問9											
	問10											問11																						