

令和 8 年度

日本大学第三中学校入学試験問題

# 理 科

1 ページから 8 ページ

# 社 会

12 ページから 26 ページ

[注意]

- (1) 「始め」の合図があるまで開いてはいけません。
- (2) 解答用紙は理科，社会ともに表紙をめくとあります。
- (3) 理科，社会それぞれの解答用紙に受験番号と氏名を忘れずに記入しなさい。
- (4) 試験時間は理科，社会あわせて 60 分です。
- (5) 理科，社会どちらを先に解いてもかまいません。
- (6) 時間の配分は自分で決めてください。
- (7) 始まって 30 分たった頃に合図をします。
- (8) 「終わり」の合図があったら，理科，社会の解答用紙だけを提出しなさい。

令和 8 年度

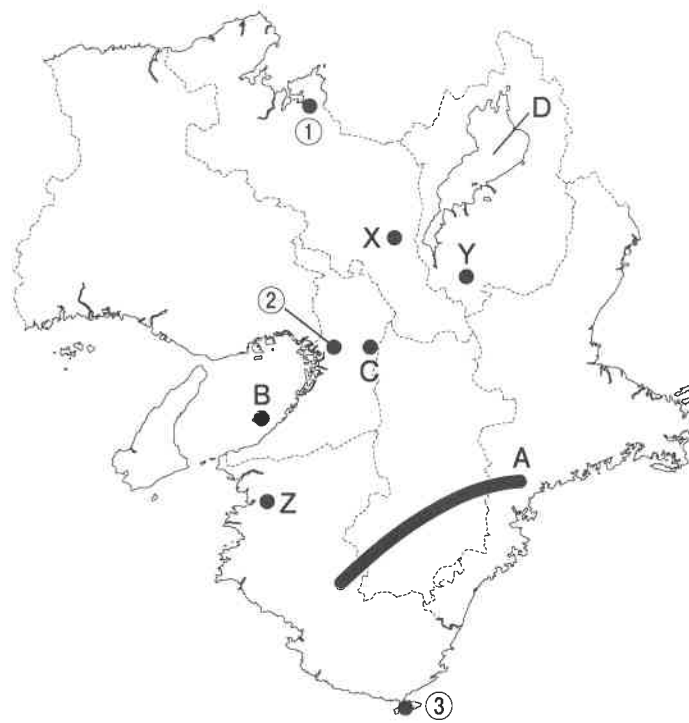
日本大学第三中学校入学試験問題

# 社 会

12 ページから 26 ページ

余 白

1 次の近畿<sup>きんき</sup>地方の地図を参考にして、あとの各問に答えなさい。



問1 次の表1中のア～エは、地図中の三重県、奈良県、京都府、和歌山県のいずれかの府県における、農業別の産出額と海面養殖業<sup>ようしょく</sup>(\*)の産出額を示している。京都府を示しているものを、ア～エから1つ選び、記号で答えなさい。

(\*) 海面養殖業…<sup>いりえ</sup>入江や湾などの海域で行われる水産養殖業のこと。

表1

(2019年)

	野菜	果実	肉用牛	海面養殖業
ア	248	20	16	11
イ	144	740	8	61
ウ	139	65	89	181
エ	104	77	11	—

(単位：億円)

問2 次のa～cは、地図中のX～Zのいずれかの地域における特産品である。a～cとX～Zの組み合わせとして正しいものを、あとのア～カから1つ選び、記号で答えなさい。

訂正 → <sup>しがらやき</sup> <sup>むがやき</sup>

a : 信楽焼      b : <sup>にしじんあり</sup>西陣織      c : <sup>きしゅうしつき</sup>紀州漆器

	ア	イ	ウ	エ	オ	カ
a	X	X	Y	Y	Z	Z
b	Y	Z	X	Z	X	Y
c	Z	Y	Z	X	Y	X

問3 地図中のAは、標高1500m前後の山々が広がる山地である。

- この山地の名前を漢字で答えなさい。
- この山地では林業が盛んである。日本の林業や森林資源に関する内容として正しいものを、次のア～エから1つ選び、記号で答えなさい。
  - ア 日本の森林はすべて針葉樹林である。
  - イ 日本三大人工美林は<sup>てんりゅう</sup>天竜すぎ、<sup>おわせ</sup>尾鷲ひのき、<sup>よしの</sup>吉野すぎである。
  - ウ 日本の木材自給率は低下を続け、自給率は10%を下回っている。
  - エ 木は酸素を取り入れて二酸化炭素を出すため、地球温暖化を強める働きがある。

問4 地図中のBは、関西国際空港である。この空港は世界で初めて完全人工島につくられたことで知られている。次の表2は、日本における空港・港湾の輸入額の上位3品目と輸入総額を示したものであり、表中のア～エは、関西国際空港、成田国際空港、<sup>よこはま</sup>横浜港、大阪港のいずれかを示している。関西国際空港を示しているものを、ア～エから1つ選び、記号で答えなさい。

表2

(2021年)

	輸入品目			輸入総額
	1位	2位	3位	
ア	医薬品	通信機	集積回路	16,114,544
イ	衣類	肉類	織物類	5,096,679
ウ	石油	アルミニウム	有機化合物	4,986,990
エ	医薬品	通信機	集積回路	4,185,801

(単位：百万円)

問5 次の図1は、地図中の①～③のそれぞれの地点における月別降水量の平年値（1991年～2020年）をもとに作成したものである。図1中のア～ウは、①～③の地点の月別降水量のいずれかを示したものである。②を示しているものを、図1中のア～ウから1つ選び、記号で答えなさい。

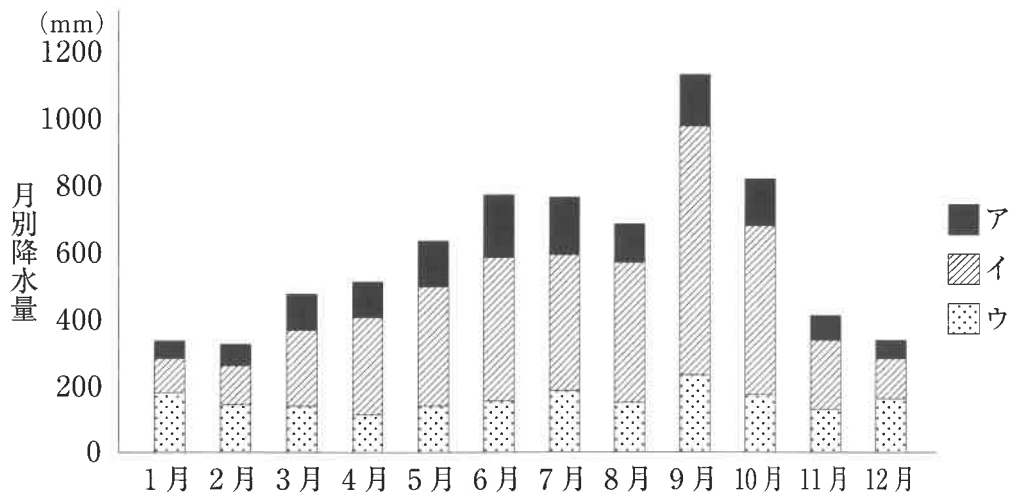


図1

問6 大阪府から兵庫県にかけての地域には、阪神工業地帯が広がる。

(1) 地図中のCは、「モノづくりのまち」として有名な東大阪市である。東大阪市の工業に関する内容として正しいものを、次のア～エから1つ選び、記号で答えなさい。

- ア 市内工場の約9割が機械工業の中小工場である。
- イ 近くに炭田が位置し、豊富な石炭を燃料として利用している。
- ウ かつてのせんい産業の技術を活かして、自動車工業が発達している。
- エ 農作業ができない冬の副業として発達した伝統工業が盛んである。

(2) 次の図2は、工業地域別工業出荷額の割合を時代別に示したものであり、図2中のア～エは京浜工業地帯、中京工業地帯、阪神工業地帯、北関東工業地域のいずれかを示している。阪神工業地帯として正しいものを、次のア～エから1つ選び、記号で答えなさい。

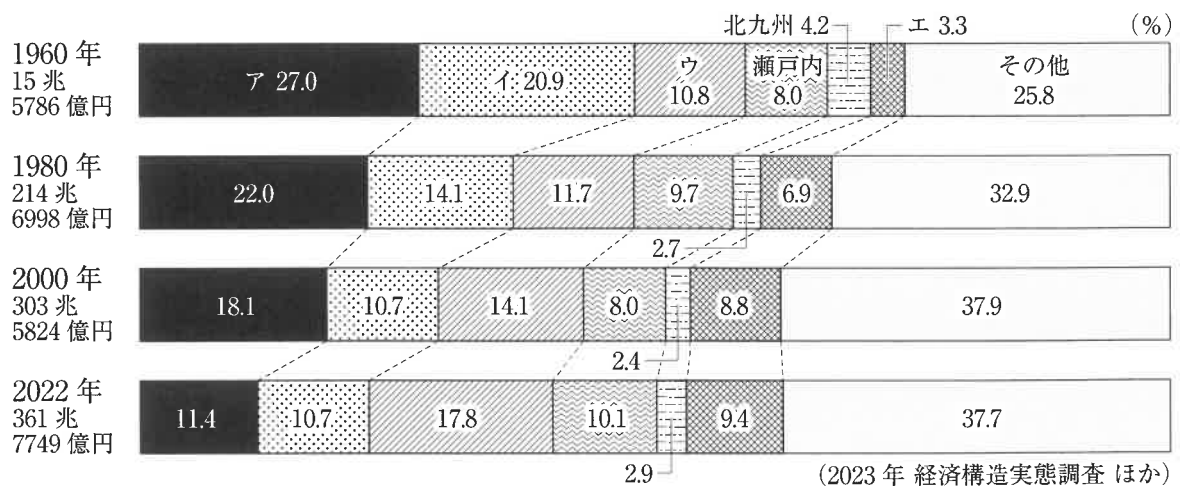


図2

問7 地図中のDは、日本最大面積の湖である。次の会話文は、先生と生徒が表3を参考に、日本の湖の特徴について話をしている場面である。会話文中の①と②にあてはまる語句として正しいものを、あとのア～カからそれぞれ選び、記号で答えなさい。

生徒：①湖は日本最大の湖で、アユの収穫が多いことでも有名ですね。  
 先生：そうですね。ちなみに、①湖は断層運動によって生じた低地に、水が溜まってできた湖で、長野県の諏訪湖も同じ種類の湖になります。  
 生徒：湖は形成過程によって種類が分けられるのですか。  
 先生：その通りです。形成過程によって分類され、特徴も異なります。  
 生徒：表3をみると、①湖より水深が深い湖があります。これも形成過程が影響していますか。  
 先生：その通りです。屈斜路湖・支笏湖・洞爺湖はいずれも、火山活動によって形成された大規模なくぼ地である②に水が溜まってできた湖です。  
 生徒：湖の面積と水深は比例するわけではなく、形成過程が水深に影響するのですね。

表3 (2020年)

	面積 (km <sup>2</sup> )	最大水深 (m)
①湖	669.26	103.6
かすみがうら 霞ヶ浦	168.10	7.0
サロマ湖	151.59	20.0
いなわしろ 猪苗代湖	103.24	94.6
なかうみ 中海	85.74	8.4
屈斜路湖	79.54	117.0
しんじ 宍道湖	79.25	6.4
支笏湖	78.48	363.0
洞爺湖	70.72	180.0
はまな 浜名湖	64.92	16.6

- ア 琵琶                      イ 十和田                      ウ 中禅寺  
 エ カルデラ                オ プレート                      カ シラス

問8 次の図3は、神戸市内の一部の地域を示した地形図(1/25000)である。図から読み取れる内容として正しいものを、あとのア～エから1つ選び、記号で答えなさい。

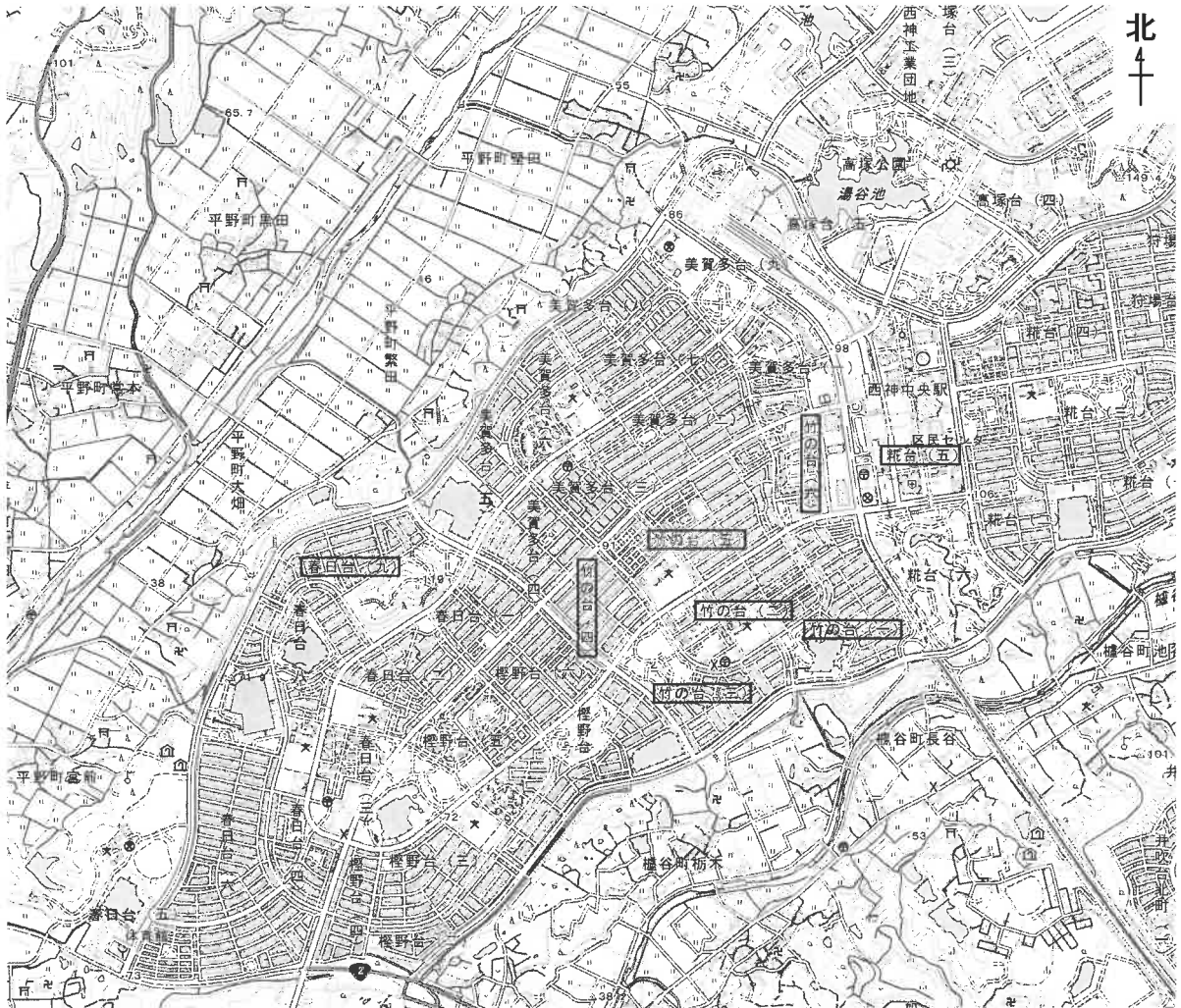


図3

- ア 竹の台には、高等学校が2つある。
- イ 南東部の河川沿いでは、稲作が盛んである。
- ウ 糞台五丁目には、郵便局と交番が隣接している。
- エ 北西部の河川が氾濫した場合、春日台九丁目は被害を受けやすい。

2 次の文章を読んで、あとの各問に答えなさい。

お囃子の音色とともに、色とりどりの花笠をつけた「ハネト(\*)」がやってくる。「ラッセラー！ラッセラー！」のかけ声に合わせて飛びはねるその一団の後ろには、大きな人形の山車が続き、街は祭りの熱気に包まれる。ねぶた祭りは8月のはじめの1週間、青森県の津軽地方を中心に行われる夏の観光行事だ。東京駅から新青森駅までは①東北新幹線で3時間10分。そこから②奥羽本線を利用すれば、青森へ行くことも、弘前に行くこともできる。地域によって呼び方のちがいが多少あるのだが、津軽地方の各地で「ねぶた」がある。



◎写真：アフロ

ねぶた祭りの起源は、あまりよく分かっていないというが、七夕祭りの「灯籠流し」が変形したものらしい。七夕を特別な日とする記録は、中国が一番古く、③後漢の時代の記録が残っているそうだ。それを讀むと、この日に書物を湿気や虫から守るために干すことや、織女と彦星の2つの星が会合のに合わせて、人々が願い事をする七夕伝説のことなどが書かれている。古いや願い事がなされるのは、農作物の収穫を占ったことから発展したものと考えられるだろう。ちなみに、織女の方が彦星に会いに行くというのが元々の設定だ。

七夕の文化は④奈良時代に日本に伝わったと言われているが、⑤古今和歌集にある在原業平のうたには、

狩り暮らし七夕つめに宿からむ天の川原に我は来にけり

「狩りをしていたら日が暮れたので、七夕の姫に宿を借りよう。天の川の河原に私が来たので」という意味のうたで、男性の業平が河原をおとずれた、という話になっていることがわかる。女性が男性に会いに行くという筋書きは、日本の文化にはなじまなかったのだろう。また、⑥新古今和歌集には、

七夕は今や分かる天の川は川霧たちて千鳥なくなり

訳すと、「七夕の星は今別れるのだろうか？天の川に霧が立って千鳥が鳴いている」となる。⑦紀貫之がうたった七夕の歌であり、織女や彦星という言葉はなくても、2つの星の切ない運命を感じさせる、幻想的な情景がえがけるだろう。

七夕が日本に伝わると、この日をお盆の一部としてあつかい、精霊を迎える準備をおこなう風習が全国的にみられるようになる。灯籠流しは、このような先祖を思う気持ちから行われている。現在でも、ねぶた祭りの最終日には、ねぶたが海の上に出ていく演出があるのは、その名残りである。

さて、話をねぶたにもどそう。「ねぶた」の語源は「睡ぶし(ねぶし)」からきており、収穫期である忙しい秋を控えて、睡魔を流し去っておく、という意味があったともいわれる。やはり農作業と祭りは縁が深いのだろう。

ねぶたが大型になったのは、江戸時代の⑧化政文化のころだと言われている。歌舞伎などが題材にされ、華麗で壮大となった。

「⑨神功皇后の三韓征伐や加藤清正の朝鮮遠征の人形が、ロウソクをともされ、人に引かれ、カネ、太鼓、ほら貝ではやしたてて踊り騒いだ」と、当時の記録に書かれていた。⑩明治時代になると、一層大型化し、なんと100人で担いだねぶたがあったそう。しかし、⑪青森県権令であった菱田重喜は、地方の悪い習わしだと決めつけ、明治6年にねぶたの禁止令を出した。9年間、中断したねぶたは、その後復活を果たし、大正時代になると、仮装して乱舞する「バケト」が流行する。凶作や⑫金融恐慌、そして労働運動の影響を受け、不安をちゃかしたり、社会を批判したりする姿勢が、バケトを生んだのかもしれない。

ねぶたは、いつの時代も人々の生活と密着し、希望や願いをこめた、祈りの芸術といっても良いのかもしれない。

(\*) ハネト…ねぶたの屋台とともにねり歩く踊り手のこと。

※本文の作成にあたり、次の資料を参考にしました。  
『國史大辞典』吉川弘文館  
青森ねぶた祭オフィシャルサイト <http://www.nebuta.jp>

問1 下線部①について、

(1) 東北新幹線の愛称を、次のア～エから選び、記号で答えなさい。

ア はくたか      イ さくら      ウ はやぶさ      エ つばめ

(2) 東北新幹線が通らない県を、次のア～エから1つ選び、記号で答えなさい。

ア 福島県      イ 岩手県      ウ 山形県      エ 宮城県

問2 下線部②について、奥羽本線の開業は1894年である。1894年より後の出来事としてまちがっているものを、次のア～エから1つ選び、記号で答えなさい。

ア 日英同盟の成立      イ 三国干渉  
ウ 義和団事件      エ 大日本帝国憲法の発布

問3 下線部③について、

(1) 後漢の歴史書には、日本から来た使者に対して、当時の皇帝が金印を授けたという記録がある。この金印には、「漢委□□国王」と刻まれていた。□□にあてはまる漢字1字を答えなさい。

(2) この時代より前の日本の様子として正しいものを、次のア～エから1つ選び、記号で答えなさい。

ア 打製石器にくわえて磨製石器が出現し、人々はたて穴住居をつくって、定住するようになった。  
イ 邪馬台国を中心とする連合体が出現し、まじないの力をもった女王を中心にとまとまっていた。  
ウ 各地域に権力者が出現し、自分の力を示すために、はにわなどを飾った古墳をつくった。  
エ 近畿地方に王が誕生し、周辺の国々を従えて、後に西日本の広い範囲を支配した。

問4 下線部④について、

(1) この仏像は奈良時代を代表する仏像である。どこの寺院に安置されているか、寺の名前を答えなさい。

(2) (1)の仏像をつくることを命じた天皇はだれか、次のア～エから正しいものを選び、記号で答えなさい。

- ア こうけん 孝謙天皇      イ しょうむ 聖武天皇  
ウ てんむ 天武天皇      エ げんめい 元明天皇



(3) 次の <sup>A</sup>ア・<sup>B</sup>イの文は奈良時代のできごとについて述べている。<sup>A</sup>ア・<sup>B</sup>イの正誤の組み合わせとして正しいものを、あとのア～エから選び、記号で答えなさい。

A <sup>けんとうし</sup>ア: <sup>ほけん</sup>遣唐使は630年にはじめて派遣され、894年に阿部仲麻呂によって停止が提案されるまで、約260年間続いた。

B <sup>こんでんえいねんしざいほう</sup>イ: <sup>かいこん</sup>墾田永年私財法は開墾した土地の私有を永久に認める法令で、この結果、公地公民制はくずれ、寄合と呼ばれる私有地がひろがった。

- |   |      |      |   |      |      |
|---|------|------|---|------|------|
| ア | A: 正 | B: 正 | イ | A: 正 | B: 誤 |
| ウ | A: 誤 | B: 正 | エ | A: 誤 | B: 誤 |

問5 下線部⑤について、古今和歌集がまとめられた時代よりも、前の出来事として正しいものを、次のア～エから1つ選び、記号で答えなさい。

- ア <sup>たいらのきよもり</sup>平清盛が太政大臣になった。  
イ <sup>しらかわ</sup>白河上皇が院政を開始した。  
ウ <sup>がんじん</sup>鑑真が<sup>とうしょうだいじ</sup>唐招提寺を建立した。  
エ <sup>せいしょうなごん</sup>清少納言が<sup>まくらのそうし</sup>枕草子を書いた。

問6 下線部⑥について、新古今和歌集の成立は1205年である。

(1) この和歌集の制作を命じた上皇と関連の深い出来事を、次のア～エから1つ選び、記号で答えなさい。

- ア <sup>せいいたいしょうぐん</sup>征夷大将軍に任命された。      イ 建武の新政をおこなった。  
ウ 承久の乱をひきおこした。      エ <sup>めつぼう</sup>室町幕府を滅亡させた。

(2) この時將軍であった、鎌倉幕府第3代將軍の名前を答えなさい。

問7 下線部⑦について、紀貫之は国司を務めた貴族である。平安時代の貴族について述べた文として正しいものを、次のア～エから1つ選び、記号で答えなさい。

- ア 自然美を取り入れた美しい庭園をもつ寝殿造しんでんづくりの家に暮らした。
- イ 摂関政治を展開した藤原頼通ふじわらのよりみちは、長く権力を保持し、望月の歌をよんだ。
- ウ 貴族の男性は普段着ふだんぎとして束帯そくたいを、正装として十二単じゅうにひとえを着用した。
- エ 光源氏ひかるげんじを中心とした貴族の恋模様こいや生活をえがいた竹取物語が書かれた。

問8 下線部⑧について、この時代に生まれた作品とその作者の組み合わせとして正しいものを、次のア～エから1つ選び、記号で答えなさい。

- ア 与謝蕪村よさぶそん - 東海道中膝栗毛とうかいどうちゅうひざくりげ      イ 鈴木春信すずきはるのぶ - 南総里見八犬伝なんそうさとみはっけんでん
- ウ 葛飾北斎かつしかほくさい - 見返り美人図みかえびじんず      エ 歌川広重うたがわひろしげ - 東海道五十三次とうかいどうごじゅうさんつぎ

問9 下線部⑨について、近代における日本と朝鮮半島に関する出来事ア～エを、年代の古い順に並べなさい。

- ア 甲午農民戦争こうこのうみんせんそうがおこった。
- イ 征韓論せいかんろんがおこった。
- ウ 朝鮮総督府ちょうせんそうとくふが置かれた。
- エ 日朝修好条規が結ばれた。

問 10 下線部⑩について、

(1) 自由民権運動に関する出来事ア～ウを、年代の古い順に並べなさい。

- ア 国会期成同盟の成立
- イ 第1回衆議院議員総選挙の実施
- ウ 民撰議院設立建白書の提出

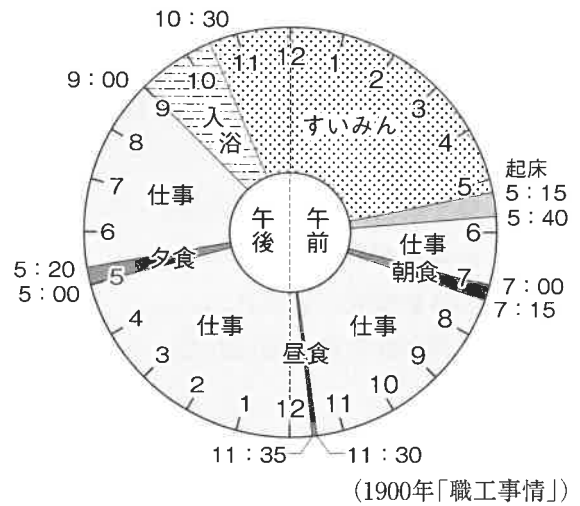
(2) 資本主義の発展とともに、労働者が増加した。次の図表は、製糸工場で働く人々の状況を示している。これを見て、当時の労働状況にはどのような問題があるか述べてなさい。

福井県の製糸工場で働く人々の年齢構成

年齢	男	女
10歳未満	0	511
14歳	2	4,840
20歳	132	6,665
25歳	52	2,932
50歳	47	1,338
計	233	16,286

単位：人  
(農商務省『生糸織物職工事情』)

女性労働者の平均的な1日のスケジュール



問 11 下線部⑪について、明治政府は全国を直接支配することにして、府知事や県令を送った。このような改革を何というか、漢字で答えなさい。

問 12 下線部⑫について、

(1) 金融恐慌は、1927年、大臣の発言をめぐって台湾銀行や大手商店が倒産し、それがきっかけとなっておきた騒動である。台湾を日本の領土とすることを決めた条約は何か、次のア～エから選び、記号で答えなさい。

- ア ポーツマス条約      イ バルサイユ条約
- ウ 南京条約            エ 下関条約

(2) 金融恐慌後の出来事ア～エを、年代の古い順に並べたとき、3番目になるのは何か、記号で答えなさい。

- ア 二・二六事件      イ 日ソ中立条約の成立
- ウ 満州事変          エ 東京大空襲

問題は次ページに続きます。

3 次の各問に答えなさい。

問1 次の<sup>せんりゅう</sup>川柳は昨年4月以降の<sup>けいさい</sup>読売新聞に掲載された「時事川柳」である。どのような事実にもとづいてつくられた川柳か、ア～エからもっとも適切なものを1つ選び、記号で答えなさい。

(1) 石と木と目玉が招く<sup>しま</sup>夢の洲

- ア 石川県での<sup>じしん</sup>地震により<sup>ひがい</sup>林業への被害が目に見えて大きかったため、<sup>ゆめしま</sup>夢洲の企業が<sup>しえん</sup>支援をおこなった。
- イ 夢洲ではカジノ建設のために石材や木材が集められ、多くのメディアに注目されている。
- ウ 石や木で自然を表現したアトラクションを目玉として、沖縄の夢洲に新テーマパークが誕生した。
- エ 夢洲では、日本で20年ぶりの<sup>かいさい</sup>国際博覧会である大阪・関西万博が開催され、世界中から来場者が訪れた。

(2) 外国の人を見に行く<sup>くわんこう</sup>観光地

- ア 近年、外国人を観察することを目的として、海外旅行をする日本人が増えている。
- イ 円安により日本に来る外国人が激減し、外国人を見ること自体が観光となっている。
- ウ 特定の観光地に外国人が過度に集中することが問題になっている。
- エ 近年、日本に来た外国人同士が異文化交流を積極的におこなっている。

問2 2025年10月21日に日本で初めて、女性の<sup>だいじん</sup>内閣総理大臣が誕生した。以下の問に答えなさい。

(1) この総理大臣の氏名を漢字で答えなさい。

(2) 内閣総理大臣に関する説明としてもっとも適切なものを、次のア～エから1つ選び、記号で答えなさい。

- ア 内閣総理大臣は、国民の直接選挙によって選ばれる。
- イ 内閣総理大臣は、皇族の中から天皇が任命する。
- ウ 内閣総理大臣は、国会議員の中から国会が指名する。
- エ 内閣総理大臣は、最高裁判所によって任命される。

問3 2025年6月1日に「<sup>ちやうえき</sup>懲役」と「<sup>きんこ</sup>禁錮」が<sup>はいし</sup>廃止され、「<sup>こうきんけい</sup>拘禁刑」が導入された。この<sup>けいばつ</sup>刑罰は身体  
の自由を制限する刑罰の一種であり、<sup>じゆけいしや</sup>受刑者の特性に応じた<sup>こうせい</sup>更生を行うものである。日本国憲  
法で自由権として保障されている内容としてまちがっているものを、次のア～エから1つ選び、  
記号で答えなさい。

- ア 最低限の生活ができない時は、国からの<sup>えんじよ</sup>援助を受けて生活することができる。
- イ どのような職業に就くかを自由に決めることができる。
- ウ 自由に自分の住む場所を選び、引っ越しをすることができる。
- エ 特定の宗教を信じる、または信じないこともできる。

問4 2025年、兵庫県や静岡県伊東市<sup>いとう</sup>では、首長と議会の関係が悪化する事態となった。地方自治に関する以下の問に答えなさい。

(1) 次の文章の□□にあてはまる語句を漢字5字で答えなさい。

議会は、首長の方針に反対であれば首長の□□を出すことができ、一方、首長は議会を解散することができる。しかし、□□を受けた首長が10日以内に議会を解散しないときや、解散後初めての議会で再び首長に□□が出され成立した場合、辞職しなければならない。

(2) 地方自治に関する説明としてもっとも適切なものを、次のア～エから1つ選び、記号で答えなさい。

- ア 市議会議員は市民が選挙で選ぶことができるが、市長は選ぶことができない。
- イ 地方公共団体ごとの経済格差を調整するため、国が資金を交付する仕組みがある。
- ウ ふるさと納税は自分の住んでいる自治体にのみ寄付することができる。
- エ 地方公共団体は、国の法律を実行するだけで、独自の仕事はできない。

問5 次の会話文は、先生と生徒が、下の図を見ながら社会問題について話をしている場面である。あとの問に答えなさい。

生徒：1955年と1980年の人口ピラミッドを見ると、人口が飛びぬけて多い年代がありますね。

先生：よく気づきましたね。出生数が急激に増加することをベビーブームといって、日本では1947年から49年、1971年から74年の二度にわたってみられました。

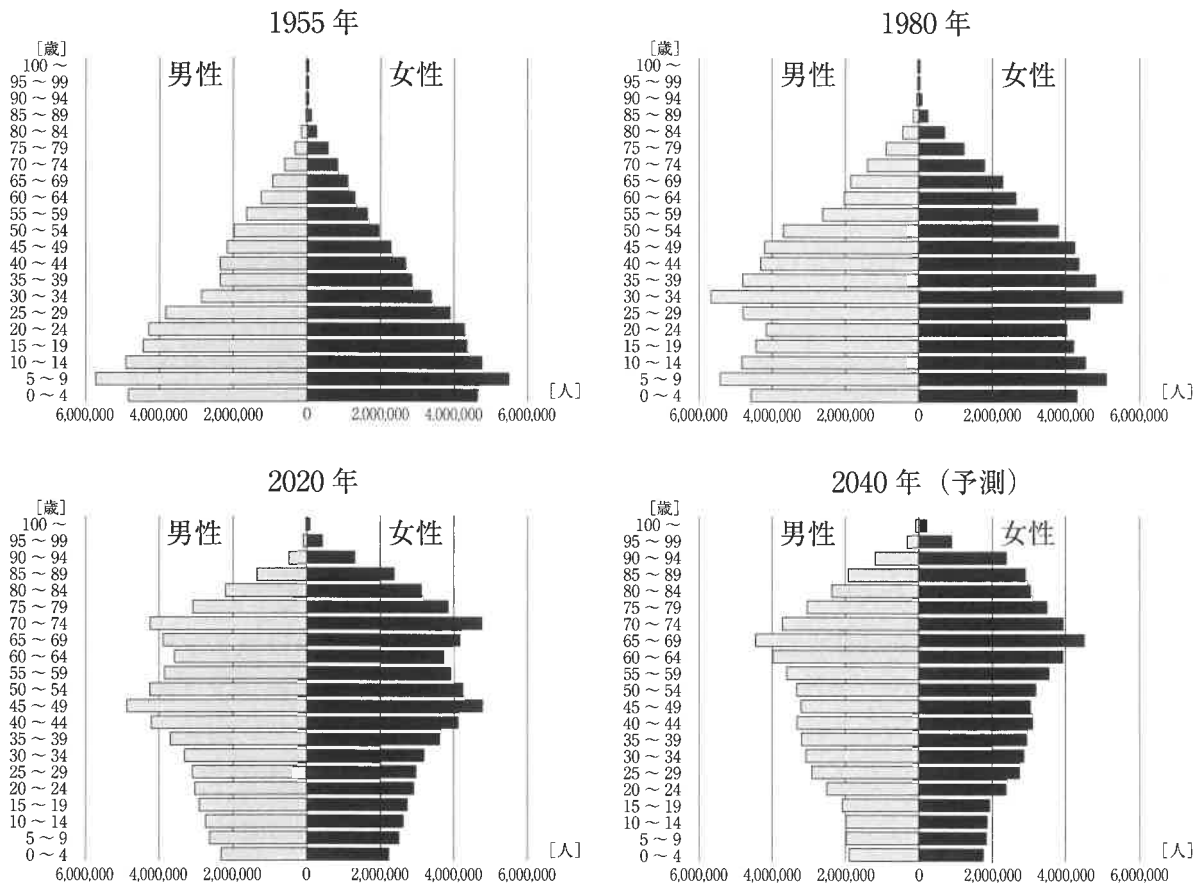
生徒：1回目のベビーブームの人たちがもう後期高齢者(\*)となりそうです。

先生：昨年は第1次ベビーブーム世代が75歳以上となりました。これによる社会への影響を2025年問題と呼んでいます。このまま少子高齢化が進むとどんな問題が起こると思いますか？

生徒：たとえば、と思います。

先生：そうですね。将来のために何か対策が必要ですね。

(\*) 後期高齢者…満75歳以上の高齢者をさす。



(1) 会話文中の□にあてはまる内容としてもっとも適切なものを次のア～エから1つ選び、記号で答えなさい。

- ア 学校や保育園の数が足りなくなり、これらの施設を増やさなければいけなくなる
- イ 働く世代が増えるため、所得税や法人税が増税される
- ウ 国内の人口が増え、さらに食料自給率が下がる
- エ 介護にかかる費用が増えるため、働く世代への負担が大きくなる

(2) 生徒は宿題として、どのような対策があるかを考え、カードにまとめました。もっとも適切なものを次のア～エから1つ選び、記号で答えなさい。

ア  
29歳以下の人々の  
選挙権をなくして、  
高齢者を優先する。

イ  
外国から労働者を  
受け入れる制度を整える。

ウ  
高齢者にかかる費用は  
すべて無料にして  
国が負担する。

エ  
義務教育制度を撤廃して、  
子どもを学校に行かせずに  
働かせる。

問6 次の(1)・(2)の文A・Bは、それぞれ日本の政治制度を説明している。A・Bの正誤の組み合わせとして正しいものを、あとのア～エからそれぞれ1つ選び、記号で答えなさい。

- (1) A：委員会は衆議院にのみ存在し、衆議院議員は最低でも1つの委員会に所属する。  
B：国会には、内閣が実施する政治について調査する権利がある。

- (2) A：すべての裁判官は国民審査の対象となる。  
B：重大な事件の刑事裁判の場合は、第二審も裁判員制度が適用される。

ア	A：正	B：正	イ	A：正	B：誤
ウ	A：誤	B：正	エ	A：誤	B：誤

社

受験番号

氏名

令和8年度 社会解答用紙

※の欄は記入しないこと

1	問1	問2	問3 (1)	山地	問3 (2)		
	問4	問5	問6 (1)	問6 (2)			※
	問7 ①	問7 ②	問8				
2	問1 (1)	問1 (2)	問2				※
	問3 (1)	問3 (2)	問4 (1)				
	問4 (2)	問4 (3)	問5				
	問6 (1)	問6 (2)	問7				
	問8	問9	→ → →	問10 (1)	→ →		※
	問10 (2)						
	問11	問12 (1)	問12 (2)				※
3	問1 (1)	問1 (2)	問2 (1)				
	問2 (2)	問3	問4 (1)				
	問4 (2)	問5 (1)	問5 (2)	問6 (1)	問6 (2)		※

得点 ※