

令和7年度

日本大学第三中学校入学試験問題

# 理 科

1 ページから 8 ページ

# 社 会

12 ページから 23 ページ

[注意]

- (1) 「始め」の合図があるまで開いてはいけません。
- (2) 解答用紙は理科、社会ともに表紙をめくとあります。
- (3) 理科、社会それぞれの解答用紙に受験番号と氏名を忘れずに記入しなさい。
- (4) 試験時間は理科、社会あわせて60分です。
- (5) 理科、社会どちらを先に解いてもかまいません。
- (6) 時間の配分は自分で決めてください。
- (7) 始まって30分たった頃に合図をします。
- (8) 「終わり」の合図があったら、理科、社会の解答用紙だけを提出しなさい。

令和7年度

日本大学第三中学校入学試験問題

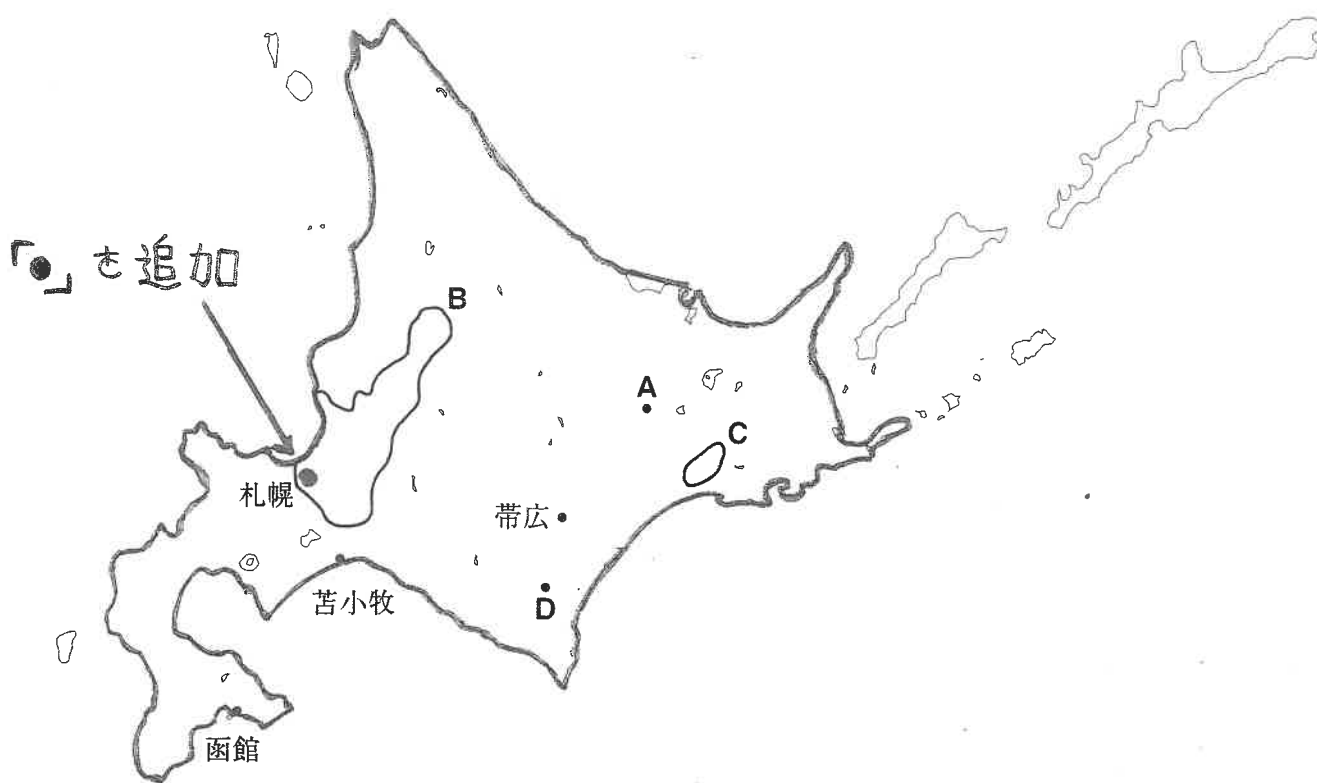
# 社 会

12 ページから 23 ページ

【中学1回(社会)】

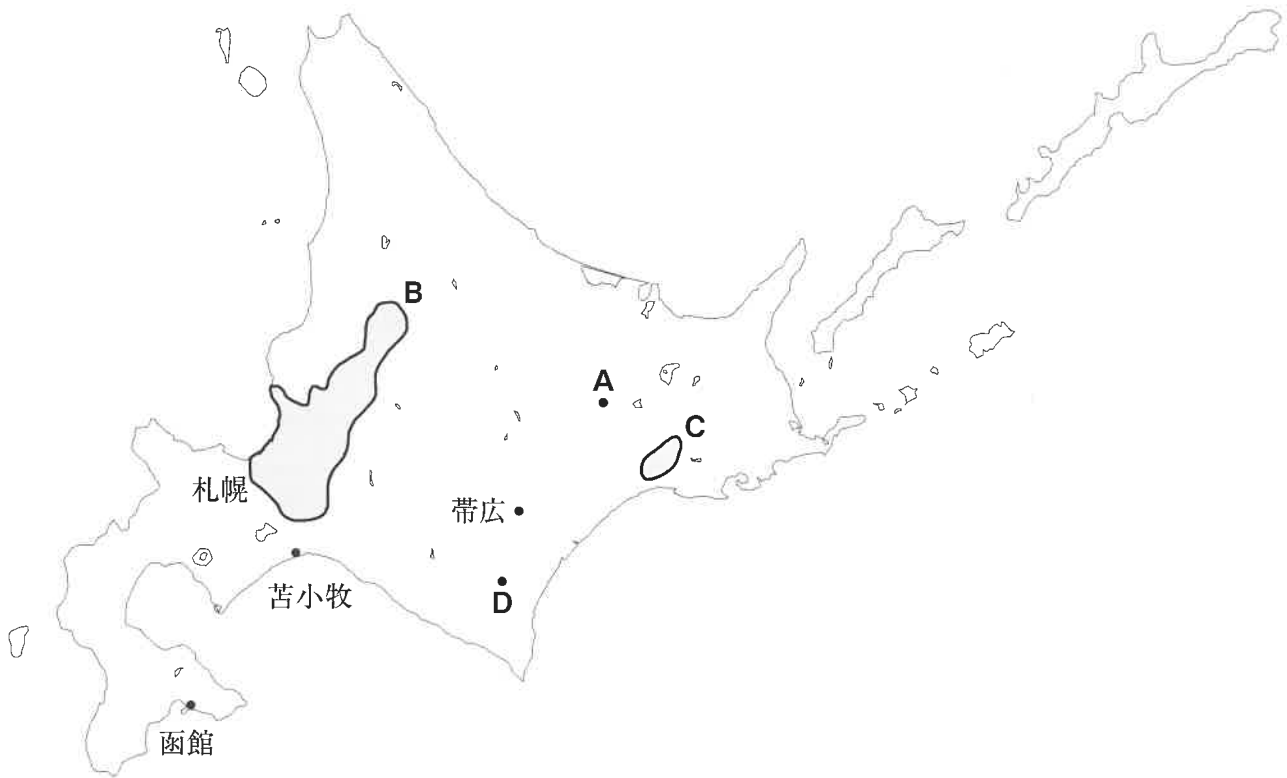
- 1 地図中に札幌の位置を示す●を追加

- 1 次の北海道地方の地図を参考にして、あとの各問に答えなさい。



余 白

1 次の北海道地方の地図を参考にして、あとの各問に答えなさい。



問1 次の表1中のア～エは、地図中の帯広市、札幌市、苫小牧市、函館市のいずれかの市を示している。帯広市にあたるものを、ア～エから1つ選び、記号で答えなさい。

表1

	総人口(千人)	農業産出額(千万円)	製造品出荷額等(億円)	※観光客入込数(千人)
ア	1,962	540	5,896	13,108
イ	252	188	1,731	4,547
ウ	170	275	13,285	2,131
エ	166	2,593	1,617	1,828

※観光客入込数は、宿泊客と日帰り客の合計値である。(総人口は2021年、農業産出額および製造品出荷額等は2019年、観光客入込数は2022年)

問2 地図中のAは、「日本一寒い街」と公式ホームページ上で宣伝するほど寒い地域であり、多くの住居には共通の特徴がみられる。寒い地域の住居の特徴としてまちがっているものを、次のア～エから1つ選び、記号で答えなさい。

- ア 玄関や窓を二重にしている。
- イ 家の周りを石垣で囲んでいる。
- ウ 水道管を地中深くに通している。
- エ 家の土台を深く高くつくっている。

問3 地図中のBは、北海道最大の平野である。

- (1) この平野の名前を漢字で答えなさい。
- (2) この平野は米の名産地である。この地域における土地改良を説明した次の文の [X] と [Y] にあてはまる語句として正しいものを、あとのア～エから選び、それぞれ記号で答えなさい。

昔は [X] と呼ばれる作物の栽培に向かない土が広がっていたため、1950年代から本格的な土地改良事業が始まった。この事業では、土地から余分な水を抜くための排水路の設置や、作物栽培に向く土を入れる [Y] を行ったことなどにより、米の名産地に成長した。

- ア 泥炭地      イ 保養地      ウ 客土      エ 赤土

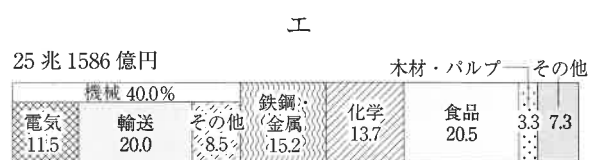
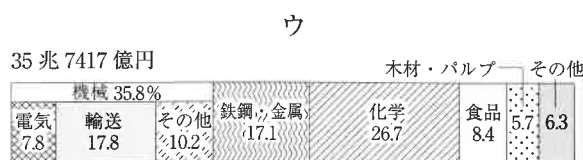
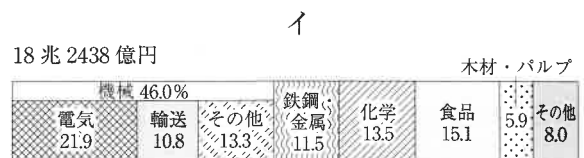
問4 地図中のCは、日本最大の湿原である。

- (1) この湿原の名前を漢字で答えなさい。
- (2) この湿原は、1980年に水鳥の生息地として重要な湿地を保全、保護することを目的とした条約に登録された。この条約の名前として正しいものを、次のア～エから1つ選び、記号で答えなさい。
- ア マーストリヒト条約      イ ベルサイユ条約  
ウ ラムサル条約      エ パリ条約

問5 地図中のDでは、畑作が盛んである。北海道が収穫量第1位(2020年)の作物としてまちがっているものを、次のア～エから1つ選び、記号で答えなさい。

- ア 小麦      イ メロン      ウ じゃがいも      エ 大豆

問6 次のア～エは、日本の各地方別の工業出荷額の内訳であり、北海道地方、東北地方、中国・四国地方、九州地方のいずれかをそれぞれ示している。北海道地方として正しいものを、次のア～エから1つ選び、記号で答えなさい。



(2020年工業統計表より作成)

問7 次の会話文は、先生と生徒が図1を参考に、北海道の気候の特徴について話をしている場面である。会話文中の  に当てはまる内容として最も適切なものを、あとのア～エから選び、記号で答えなさい。

先生：図1をみてください。色がついている地域は、8月の平均気温が20℃以上となる範囲です。

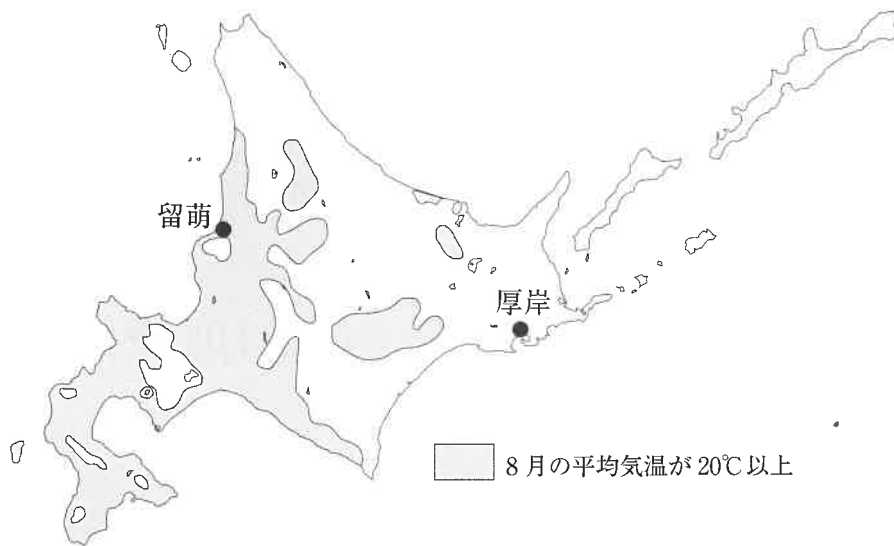
生徒：今年の夏、旅行で留萌<sup>るもい</sup>に行きました。緯度<sup>いど</sup>が高い地域のわりに、暖かったです。

先生：そうなんだよ。

生徒：あれ、でも東部の厚岸<sup>あつけし</sup>は、緯度が低いにも関わらず、夏の気温が低いんですね。

先生：その通りです。その理由は 、気温が上がりにくいからなんだよ。

生徒：なるほど。気温は緯度だけが関係しているわけではないんですね。



- ア 太平洋の千島海流上を季節風が通り抜けるため、濃霧<sup>のうむ</sup>が発生しやすい
- イ オホーツク海<sup>お</sup>の方向から流氷が押し寄せ<sup>お</sup>ることで、海水温が低下し
- ウ 日本海からの季節風が湿<sup>しめ</sup>っているため、雲が形成されやすく
- エ 南シナ海から北上する梅雨前線<sup>えいきょう</sup>の影響がないため、雨量が多くなり



問題は次ページに続きます。

2 地図を参考に、次の文章を読んで、あとの各問に答えなさい。

お正月にいただくおせち料理。黄金色にかがやく「数の子」は、そのシンボリック的存在といえるだろう。小さな卵がぎっしりと集まっている様子から「子孫繁栄」の意味がこめられている。魚の卵ということは知っているかもしれないが、さて、なんの魚の卵か。

「鯨」と書いて、「ニシン」と読む。数の子の正体はこのニシンの卵なのだ。おせち料理はもともと、①平安時代に季節の節目を祝うため、神様にお供えした特別な料理である「お節供」が語源となっている。数の子について記された最も古い記録は②室町時代のもので、天皇に仕えていたある貴族が京都で数の子を手に入れたことや、13代将軍の③足利義輝が食したことが書かれている。

ニシンはだいたい3月から5月の春に北の海域から日本海沿岸にやってくるのだが、日本で広く食べられるようになったのは、本州の人々が蝦夷地へ進出しはじめた、江戸時代以降であった。


④明治時代になると、⑤北海道の開発が進み、漁の方法や道具が改良された。漁獲量は大きく増え、北海道、樺太の日本海沿岸一帯の漁村は栄え、各地に「鯨御殿」と呼ばれる豪華な屋敷も建てられた。年間50万～80万トンもの水あげ量は、当時の日本の総漁獲量の約半分になるそうだ。それだけの量を水あげするわけだから、働く人も多い。いそがしい時期は6万人の漁師がニシン漁にたずさわっていたといわれている。そのうち、4万人は東北地方、2万人は北海道内からの出かせぎに来ている者たちだった。「江差の春は江戸にもない」といわれたニシン漁の繁栄も、漁師の親分や商人がうるおっただけで、その裏には、ただひたすらに働かされた労働者の姿があったのだ。

作家の渡辺淳一は、昔、石狩湾の近くで会った老人に、「ソーラン節」を聞かせてほしいとたのんだところ、いやな顔をされたことがあると書いている。

ヘヤーレン ソーラン ソーラン ソーラン…… ハイハイ

沖のカモメに⑥潮時間えば わたしゃ立つ鳥 波に聞け チョイ……

ニシン漁は大変な重労働で、漁が始まると、3日でも4日でも寝ずに作業が続くらしい。このソーラン節は、漁師を寝かさないための歌なのだそうだ。だからその老人にとっては思い出したくもない歌だったのだろう。それが今や小学校の運動会などで子どもたちがワイワイとおどるわけだから、少し複雑な気持ちである。



©写真：アフロ



ちなみに青森県に

へヤーレン ソーラン ソーラン ソーラン……

太鼓<sup>たいこ</sup>たたいて ⑦法華宗<sup>ほっけしゅう</sup>になれば……

という「荷<sup>に</sup>あげ木<sup>き</sup>やり唄<sup>うた</sup>」があるらしい。これは家を建てるときにやぐらを組んで、丸太をつるす作業で歌われたもので、ソーラン節の元になった歌だといわれる。青森県から出かせぎに来た者たちが持ちこんで、歌詞を変えて歌ったのだろう。これも東北地方から出かせぎ労働者が多かったことを示しているのだ。

⑧大正時代になると、ニシンの生息環境が変化し、留萌<sup>るもい</sup>や宗谷<sup>そうや</sup>（旧宗谷村のことで現在の稚内市<sup>わかかない</sup>にあたる）など、北部の海域でしかとれなくなった。そのため漁獲量は減少、1935年ごろには10万～20万トンほどになった。

⑨第二次世界大戦後はさらに減少、1955年以降は留萌、宗谷にもニシンの姿はなくなり、沿岸でのニシン漁は、その長い歴史を閉じた。

オホーツク海やベーリング海でのニシン漁は続けられたが、1977年以降の排他的経済水域の導入により、アメリカ・ソ連両国の経済水域内では漁ができなくなり、ニシンと数の子はアメリカやカナダからの輸入に依存<sup>いぞん</sup>するようになったため、高級品となってしまった。

※文章を作成するにあたって、以下の文献を参考にしました。

好川之範・赤間均 編 『北海道謎解き散歩』中継出版（2011年）

加藤登紀子 編 『日本の名随筆 50 歌』作品社（1986年）

毎日新聞学芸部 『民謡風土記』時事通信社（1982年）

問1 下線部①について、

(1) 平安時代最初の天皇はだれか漢字で答えなさい。

(2) 次の平安時代の出来事ア～ウを年代の古い順に並べなさい。

ア 平将門の乱      イ 遣唐使<sup>けんとうし</sup>の廃止<sup>はいし</sup>      ウ 保元の乱

(3) 季節の節目<sup>ふしめ</sup>（※）を祝うことを節句という。7月7日は何の節句と呼ばれるか、次のア～エから選び、記号で答えなさい。

（※）…あることがらの区切りのこと。

ア 笹<sup>ささ</sup>の節句      イ 菊<sup>きく</sup>の節句      ウ 菖蒲<sup>しょうぶ</sup>の節句      エ 桃<sup>もも</sup>の節句

問2 下線部②について、

(1) 室町時代について説明した文としてまちがっているものを、次のア～エから1つ選び、記号で答えなさい。


ア 足利義満は花の御所をつくり、1392年には南朝を北朝に統一させた。

イ 1429年に成立した琉球王国は、日本や東南アジアを結ぶ中継貿易で繁栄した。

ウ 定期市での取引には、明銭が主に使用され、株仲間などの高利貸しも現れた。

エ 農民たちは惣村とよばれる自治組織で、村おきてを作り、共同で入会地を管理した。

(2) 室町時代につくられるようになった次の写真のような建築様式を何というか、漢字で答えなさい。



©写真：アフロ

問3 下線部③について、足利義輝は三好氏によっておそわれ自害したが、三好氏は將軍から見れば家臣のさらに家臣にあたる武士である。このように、身分の下位の者が実力で上位の者をたおして、のし上がる風潮を何というか、漢字3字で答えなさい。

問4 下線部④について、

(1) 明治時代の出来事ア～ウを年代の古い順に並べなさい。

ア 大日本帝国憲法の制定      イ 立憲改進黨の結成      ウ 西南戦争の発生

(2) 明治時代の戦争と条約に関して説明した文としてまちがっているものを、次のア～エから1つ選び、記号で答えなさい。

ア 日清戦争は甲午農民戦争をしずめるために日本と清が軍を派遣したことでおこった。

イ 下関条約によって遼東半島の支配権が日本にゆずられることになった。

ウ 日露戦争では東郷平八郎が指揮する日本海軍がロシアのバルチック艦隊をやぶった。

エ ポーツマス条約によってロシアは朝鮮が独立国であることを認めた。

問5 下線部⑤について、

(1) 明治政府が北海道の開発のために設置した機関は何か、次のア～エから選び、記号で答えなさい。  
ア 関東軍      イ 北海道庁      ウ 開拓使      エ 総督府

(2) 明治時代、北海道の開拓のために旧武士層が送られた。普段は農業を行い非常時は武器をとって戦う、この農業兼業の兵士のことを何というか、漢字3字で答えなさい。

問6 下線部⑥に関連して、日本の歴史には、潮時や潮目となった出来事があった。

(1) 「熟田津(※)に 船乗りせんと 月待てば 潮もかないぬ いまは漕ぎ出でな」

(熟田津で船に乗ろうと月が出るのを待っていると、潮の流れもよい具合だ。さあ、今こそ漕ぎ出そう。)

(※) …熟田津は現在の愛媛県道後温泉付近にあった地名。

660年に百済が滅ぶと、日本は百済復興のための援軍を送った。この時、現在の愛媛県でよまれた歌である。これからまさに戦にいくぞ、というエネルギーに満ちた和歌であるが、このあと、朝廷軍は663年に新羅と唐の連合軍と戦っている。この戦いの名前を解答らんに合うように漢字で答えなさい。

(2) 1185年、現在の関門海峡で行われた合戦で、平氏と源氏の戦いに決着がついた。最初は平氏が有利だったが、潮の流れが変化し、源氏が追い上げていったという。この戦いの名前を解答らんに合うように答えなさい。

問7 下線部⑦について、鎌倉時代に法華宗をひらいた人物の名前を漢字で答えなさい。

問8 下線部⑧について、次のア～エのうち、大正時代の出来事ではないものを1つ選び、記号で答えなさい。

ア 治安維持法の制定      イ 財閥の解体  
ウ 原敬内閣の成立      エ 新婦人協会の設立

問9 下線部⑨について、日本が1951年に連合国であった国々と結んだ講和条約を答えなさい。

3 次の各問に答えなさい。

問1 次の川柳は昨年4月以降の読売新聞に掲載された「時事川柳」である。どのような事実にもとづいてつくられた川柳か、ア～エから最も適切なものを選び、記号で答えなさい。

(1) もういっそ迂回しようよりニアどの

- ア 静岡県の知事は、県内を流れる大井川の水量が減ることを心配し、リニア中央新幹線の建設を拒否した。
- イ 滋賀県の知事は、琵琶湖の塩分濃度が上がることを心配し、リニア中央新幹線の建設を拒否した。
- ウ 岐阜県の知事は、県内に駅が設置されず、観光客が減少することを心配し、リニア中央新幹線の建設を拒否した。
- エ 長野県の知事は、通学圏の拡大によって、県内の大学生が流出することを心配し、リニア中央新幹線の建設を拒否した。


(2) カネいらぬ政治の議論誰もせず

- ア 国の歳出を減らすため、高齢者の医療費の全額自己負担が決定された。
- イ 国債が増えすぎたため、すべて帳消しにすることが決定された。
- ウ 国会議員の給料の大幅な引き上げが決定され、問題となった。
- エ 国会議員が集めた資金を正しく報告しなかったことが問題となった。

問2 2024年7月3日から、千円、五千円、一万円の紙幣のデザインが変更された。

- (1) 一万円札に描かれている人物と、その人物の説明との組み合わせとして正しいものを、あとのア～カから1つ選び、記号で答えなさい。

【人物画】



出典：国立印刷局ホームページ ([https://www.npb.go.jp/ja/n\\_banknote/index.html](https://www.npb.go.jp/ja/n_banknote/index.html)) を加工して作成

【説明】

- a 江戸時代に伝染病の研究をした人
- b 明治時代に日本経済の基礎を築いた人
- c 明治時代に女性の教育に尽くした人

	ア	イ	ウ	エ	オ	カ
人物画	①	①	①	②	②	②
説明	a	b	c	a	b	c

- (2) 新紙幣が発行された理由として最も適切なものを、次のア～エから選び、記号で答えなさい。

- ア 経済をより発展させるため。
- イ 元号が令和となったため。
- ウ キャッシュレス決済より現金決済を増やすため。
- エ 紙幣の偽物を作らせないため。

- (3) 紙幣を発行している日本の中央銀行の名前を漢字で答えなさい。

問3 日本国憲法第25条は、生存権を規定している。次の条文の ① ・ ② に当てはまる語句をそれぞれ漢字で答えなさい。

すべて国民は、① で ② 的な最低限度の生活を営む権利を有する。

問4 次の(1)~(3)の文A・Bは、日本の政治制度を説明している。A・Bの正誤の組み合わせとして正しいものを、あとのア~エからそれぞれ1つ選び、記号で答えなさい。

(1)

A：法律案は必ず衆議院で先に審議<sup>しんぎ</sup>され、参議院に送られる。

B：法律案は各議院の委員会で議論され、その後<sup>のち</sup>に本会議で議決する。

(2)

A：天皇の国事行為<sup>こくじこうい</sup>には、国会の助言と承認が必要とされている。

B：天皇の国事行為のひとつに、制定された法律の公布がある。

(3)

A：国務大臣の過半数は、国会議員でなければならない。

B：国民には、内閣総理大臣をやめさせるための国民投票を求める権利が保障されている。

ア	A：正	B：正	イ	A：正	B：誤
ウ	A：誤	B：正	エ	A：誤	B：誤

問5 東京都知事選挙が2024年7月7日に行われた。過去最多の56名が立候補するなど多くの注目を集めた。地方自治について、以下の問に答えなさい。

(1) 住民には、一定数の署名を集めることで、条例の制定・改正・廃止<sup>はいし</sup>の請求<sup>せいきゅう</sup>、首長や議員の解職、議会の解散などを求める権利<sup>あた</sup>が与えられている。この権利を漢字5字で答えなさい。

(2) 地方公共団体についての説明としてまちがっているものを、次のア~エから1つ選び、記号で答えなさい。

ア 地方議会は国会と同様に二院制が採用されている。

イ 地方公共団体の首長は住民の直接選挙によって選出される。

ウ 地方議会議員<sup>ひせんきよけん</sup>の被選挙権<sup>まう</sup>は25歳以上である。

エ 裁判を行う権限は、地方公共団体にはない。

以下余白

受験番号

氏名

## 令和7年度 社会解答用紙

※の欄は記入しないこと

1	問1	問2	問3 (1)	平野	※	
	問3 (2)	X	Y	問4 (1)		湿原
	問4 (2)	問5	問6			
	問7	問8				
2	問1 (1)	問1 (2)	→ →	問1 (3)	※	
	問2 (1)	問2 (2)	天皇	問3		
	問4 (1)	問4 (2)	→ →	問5 (1)		
	問5 (2)	問6 (1)	の戦い	問6 (2)		の戦い
	問7	問8	問9			条約
3	問1 (1)	問1 (2)	問2 (1)	問2 (2)	※	
	問2 (3)	問3	①	②		
	問4 (1)	問4 (2)	問4 (3)			
	問5 (1)	問5 (2)				

得点	※
----	---