

令和6年度

日本大学第三中学校入学試験問題

理 科


1 ページから 8 ページ

社 会

12 ページから 23 ページ

[注意]

- (1) 「始め」の合図があるまで開いてはいけません。
- (2) 解答用紙は理科、社会ともに表紙をめくとあります。
- (3) 理科、社会それぞれの解答用紙に受験番号と氏名を忘れずに記入しなさい。
- (4) 試験時間は理科、社会あわせて60分です。
- (5) 理科、社会どちらを先に解いてもかまいません。
- (6) 時間の配分は自分で決めてください。
- (7) 始まって30分たった頃に合図をします。
- (8) 「終わり」の合図があったら、理科、社会の解答用紙だけを提出しなさい。



令和6年度

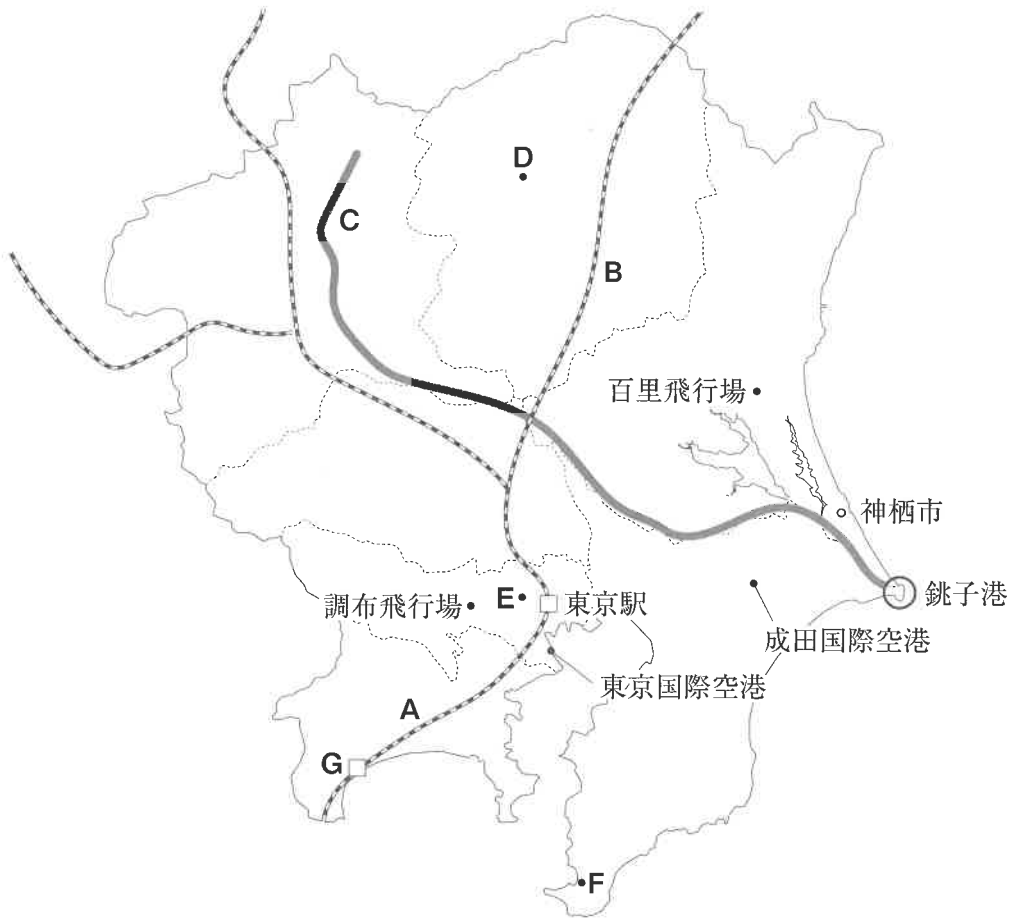
日本大学第三中学校入学試験問題

社 会

12 ページから 23 ページ

余 白

1 次の関東地方の地図を参考にして、あとの各問に答えなさい。



問1 次の表1中のア～エは、地図中の関東地方のいずれかの都県を示している。栃木県を示しているものを、ア～エから1つ選び、記号で答えなさい。

表1 都県別山地面積・海岸線の長さ・内水域

都県名	山地面積 (km ²)	海岸線の長さ (km)	内水域* (km ²)
群馬県	4,887	0	13
ア	3,388	0	13
イ	1,444	195	290
ウ	1,230	0	20
神奈川県	895	432	55
エ	848	763	246
千葉県	388	534	42

*内水域とは、領海より陸地側の水域のことであり、河川、湖沼、運河、湾の内部などが含まれる。

問2 地図中のA・Bの は、東京駅を起点とする新幹線である。それぞれの新幹線を示すものとして正しいものを、ア～カから選び、記号で答えなさい。

- | | | |
|----------|---------|---------|
| ア 東北新幹線 | イ 上越新幹線 | ウ 北陸新幹線 |
| エ 東海道新幹線 | オ 山陽新幹線 | カ 九州新幹線 |

問3 地図中のCは、流域面積が日本最大の河川である。この河川の名前を解答らんにあうように漢字で答えなさい。

問4 地図中の銚子港は、日本最大の水揚げ量^{みずあげりょう}※を誇る（2021年）。

※水揚げ量とは、漁業や養殖漁業で獲られた水産物を、漁港で測った重量のことである。

(1) 銚子港の水揚げ量が最多となる要因として最も適しているものを、次のア～エから1つ選び、記号で答えなさい。

- ア 年間を通して涼しい気候で、鮮度を保ちやすいため。
- イ 沿岸部はリアス海岸であり、水深が深いため。
- ウ 周辺海域は暖流と寒流がぶつかる潮目であるため。
- エ 6～8月に涼しいやませが吹くため。

(2) 次の図1は、日本の漁業種類別生産量と漁業輸入量の推移を示したものである。図1に関することがらとして下線部がまちがっているものを、あとのア～エから1つ選び、記号で答えなさい。

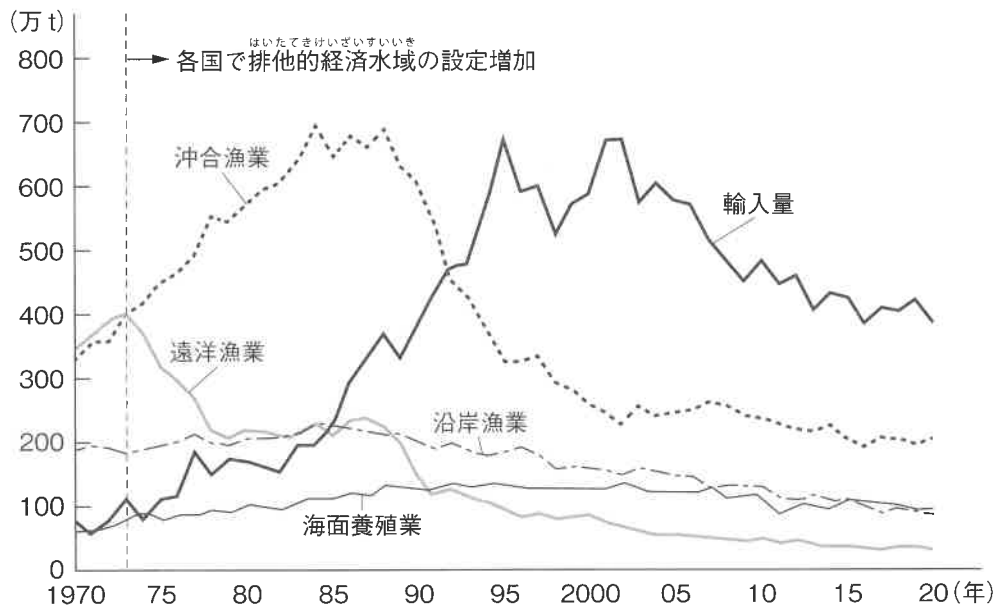


図1 日本の漁業種類別生産量と輸入量の推移

- ア 遠洋漁業での漁獲量は、排他的経済水域の設定による影響で、1970年代半ばから減少した。
- イ 総漁獲量の減少に合わせて、1990年から2005年にかけて海面養殖業の漁獲量が倍増した。
- ウ 総漁獲量の減少に合わせて、1990年から1995年にかけて輸入量が増加傾向であった。
- エ 1990年から2020年の間の漁業種類別生産量は、常に沖合漁業が最も多い。

問5 次の図2は、地図中のD～Fの3地点における月別平均気温と月別総降水量を示している。Dの地点のものとして正しいものを、ア～ウから1つ選び、記号で答えなさい。

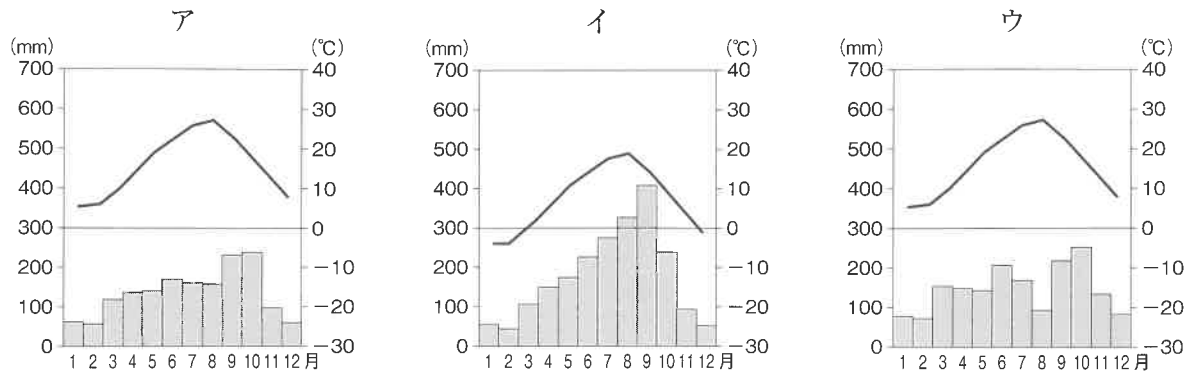


図2 3地点の月別平均気温・月別総降水量

問6 地図中の^{かみす}神栖市は、^{しゅうかくりょう}ピーマンの収穫量が多く、全国各地に出荷している大産地である。次の表2は^{しゅん}ピーマンの旬の時期と神栖市の収穫期を示している。神栖市の収穫期間が長い理由として適しているものを、あとのア～エから1つ選び、記号で答えなさい。

表2 ピーマンの旬と神栖市の収穫期

月	1	2	3	4	5	6	7	8	9	10	11	12
ピーマンの旬						←————→						
神栖市												

□ 収穫期

- ア 一般的な地域よりも、^{さいばい}栽培時期を早める^{そくせい}促成栽培、^{おく}遅らせる^{よくせい}抑制栽培ともに行うため。
- イ 一般的な地域よりも、降水量が少ない夏季を^さ避けているため。
- ウ 一般的な地域よりも、^{こうれいか}高齢化が進み、暑い時期の収穫が困難なため。
- エ 一般的な地域よりも、風が強く吹く期間が長いから。

問7 次の表3は、地図中の成田国際空港、東京国際空港（羽田空港）、^{ひゃくり}百里飛行場（茨城空港）、調布飛行場の国内線および国際線の利用者数を示したものである。成田国際空港を示すものとして正しいものを、ア～エから1つ選び、記号で答えなさい。

表3 関東地方の空港別利用者数

	国内線 (千人)	国際線 (千人)
ア	64,884	16,824
イ	7,461	32,080
ウ	635	141
エ	95	0

2019年

問8 次の表4は、神奈川県、茨城県、群馬県、東京都の輸送用機械、化学工業、鉄鋼業の各工業の製造品出荷額を示している。また、表中のXおよびYは、1980年もしくは2019年を示している。表中のXの年と②の県名の組み合わせとして正しいものを、先生と生徒の会話を参考に、あとのア～カから1つ選び、記号で答えなさい。

表4 1980年と2019年の工業品目別製造品出荷額

品目・年 都県名	輸送用機械(自動車など)		化学工業		鉄鋼業	
	X	Y	X	Y	X	Y
①	9,462	2,620	15,809	5,073	7,892	6,790
②	32,965	9,444	7,614	1,207	2,318	1,467
③	36,361	44,709	18,540	21,143	5,889	10,265
東京都	11,764	13,252	3,375	7,868	1,224	4,638

単位：億円

先生：関東地方をはじめ、日本の多くの地域では経済の発展にともない、工業などの第二次産業で働く人が減少し、サービス業などの第三次産業で働く人が増えていて、これが製造品出荷額にも影響しているよね。

生徒：だから、東京都ではこのような数字になっているんですね。

先生：ただ、必ずしもすべての県に当てはまるわけではないですよ。

生徒：本当だ。③は東京都と同じような動きをしているけど、①と②は違いますね。

先生：①と②は地価が安いことで工場の進出が増え、表4のように製造品出荷額が増加しました。

生徒：なるほど。でも表を見ると、品目ごとに特徴がありますね。

先生：化学工業のうち、石油化学工業は工場の立地に特徴があるので、①の製造品出荷額が高くなっています。

ア X：1980年 ②：茨城県

イ X：2019年 ②：茨城県

ウ X：1980年 ②：神奈川県

エ X：2019年 ②：神奈川県

オ X：1980年 ②：群馬県

カ X：2019年 ②：群馬県

問9 次の図3は、地図中のGの地域における地形図(1/25000)である。図3から読み取れる内容としてまちがっているものを、あとのア～オから2つ選び、記号で答えなさい。

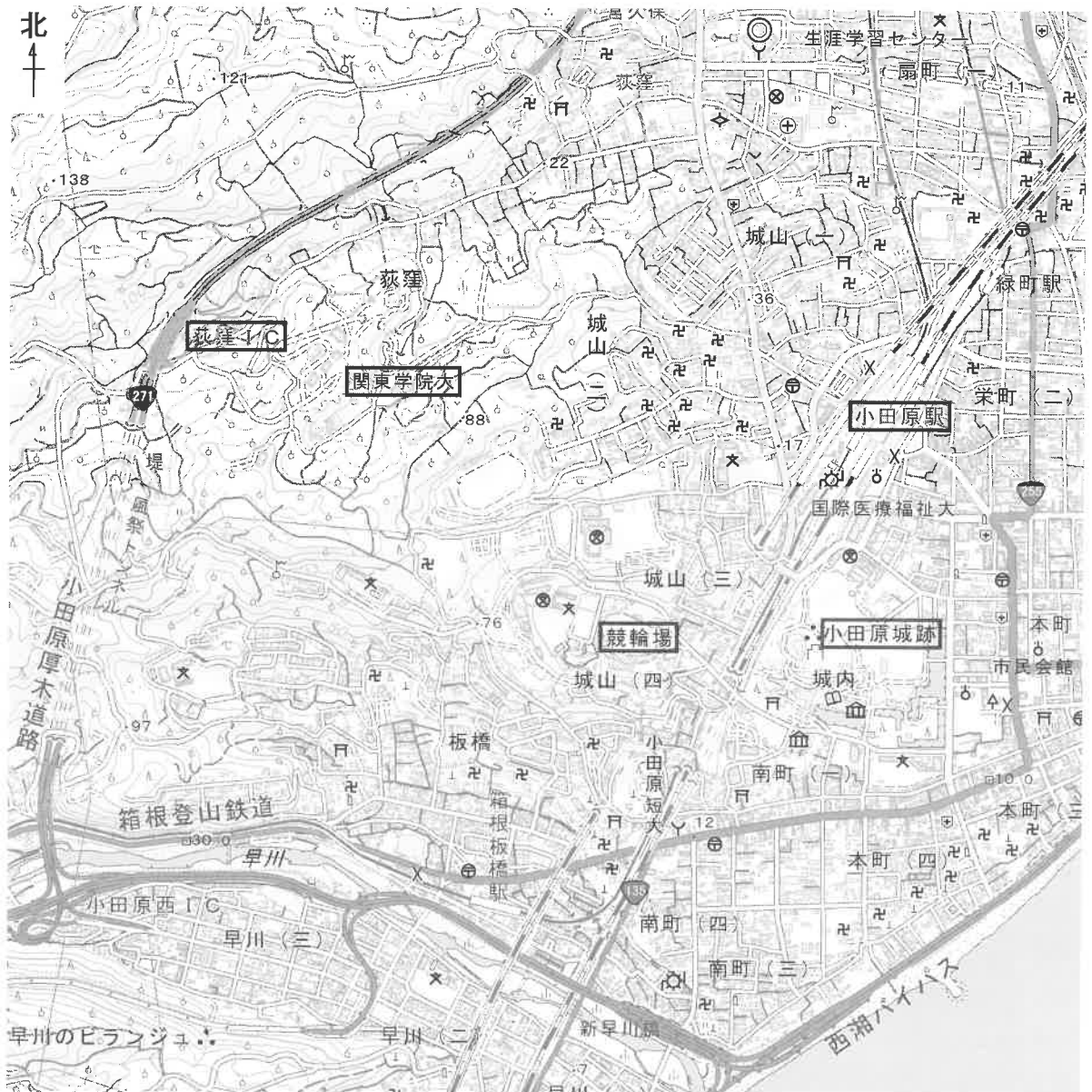


図3 G地域の電子地形図(1/25000)

- ア 関東学院大の南側の斜面には、果樹園しやめんが広がっている。
- イ 小田原城跡おだわらじょうあとの南側には博物館と図書館、東側には交番と市役所がある。
- ウ 小田原駅の西側には寺院が多く立地している。
- エ 小田原厚木道路おぎくぼを萩窪ICから北上すると、左側は斜面になっている。
- オ 競輪場の北側の道路を西に進むと、道路沿いに発電所がある。

2 次の文章を読んで、後の問に答えなさい。

徳川家康は、確かに「どうする？」という言葉が似合う武将かもしれない。織田と今川にはさまれている時、桶狭間の時、三河の一向一揆の時、武田信玄と対決する時…。まさに「どうする？」の連続だった。そんな家康が江戸に幕府をひらいた。この江戸とはどういう場所なのか、ちょっと調べてみようと思う。

「江戸」という名前の由来はいろいろあるのだが、「江の門戸」、つまりは「東京湾の入り口」というのが有力だ。①平安時代の書物には、②湯島、桜田、御田という地名はあるのだが、「江戸」の名前はまだ無い。「江戸」という字が最初に登場するのは、鎌倉幕府の日記『吾妻鏡』の③1180年8月の記録に、「江戸太郎重長」の名前が登場する。この江戸氏はのちに頼朝にしたがって御家人となり、その子孫は江戸の周辺を支配した。

④室町時代になると、太田道灌が江戸城をつくったことで、江戸の名前は広く知られるようになった。当時は城下にかやぶきの民家が100軒あるかないかだった。

江戸の発展が決定的になったのは、やはり徳川家康によるところが大きい。⑤家康が将軍に任命されると、幕府は全国の諸大名に工事の手伝いをさせ、東京湾の大規模なうめ立てを行って土地を広げ、大名屋敷や市街地、寺社地をつくっていった。1636年ころ、江戸城の建設が完了するとともに江戸の街づくりも一応の終わりをむかえたようだ。

江戸の人口については、⑥1721年以降は人口調査が行われており、最も多いのは天保年間の58万7458人である。これに武家や僧侶と神官、えた・ひにんなどを加えて、江戸の総人口は110万人～130万人くらいだったと想像され、これは当時のヨーロッパの大都市にくらべても、世界最大の都市のひとつであった。

⑦1868年4月、江戸城は新政府軍に明けわたされた。7月には江戸を東京と改め、明治国家の首都となった。⑧1871年の廃藩置県によって東京府がうまれると、同時に新しい行政区画が整備された。のちに東側の税収入が多い地域が東京市としてまとまると、⑨日露戦争後は軽工業から重工業に産業の中心がうつり、徐々に京浜工業地帯が形成され始めたことも手伝って、東京市の人口は急激に増えていった。⑩第一次世界大戦後は好景気になり、ますます人口は増えた。

そのような中、1923年に関東大震災がおり、東京下町は壊滅した。世界的な不景気にもみまわれる中で復興が行われ、最終的には⑪1932年の行政改革で区の再編を行ったことで東京市はもちなおしたという。

しかし、この時すでに戦時体制下であり、⑫日中戦争から太平洋戦争に進んでいった1943年、権力集中のため、東京市と東京府が統合され東京都が生まれる。敗戦を迎えた1947年、焼け野原となった東京は22の特別区として再編成され、その後、板橋区から練馬区が独立して、現在と同じ23区制となった。

江戸そして東京。昔も今も政治の中心であることはかわらない。しかし、人口過密や政治の一極集中による問題点は残っている。1人ひとりが自分の頭で考え、解決策を発信していく時代になってきた。さて「どうする？」

問1 下線部①について、

- (1) 平安時代について述べた文A・Bの正誤の組み合わせとして正しいものを、あとのア～エから選び、記号で答えなさい。

A：^{さいちよう}最澄は唐にわたって修行し、^{ひえいざん}比叡山に^{こんこうぶじ}金剛峯寺を建てて天台宗を広めた。

B：^{せいたいしやうぐん}征夷大將軍となった^{さかのうえのたむらろ}坂上田村麻呂は、^{いざわじやう}反乱をおさえ、胆沢城をつくった。

ア A：正 B：正

イ A：正 B：誤

ウ A：誤 B：正

エ A：誤 B：誤

- (2) 次のうち、平安時代につくられたものとしてまちがっているものを、ア～エから1つ選び、記号で答えなさい。

ア



©写真：アフロ

イ



©写真：アフロ

ウ



エ



問2 下線部②について、湯島にある湯島天満宮は雄略天皇の命令で建てられたという。雄略天皇とはワカタケル大王のことであるが、その時代を説明した文として、正しいものを次のア～エから1つ選び、記号で答えなさい。

- ア 100ほどあった小さなくにが統合をくり返し、30ほどになっていた。これらは卑弥呼によってまとめられていた。
- イ 熊本県と埼玉県の古墳から見つかった鉄刀や鉄剣に、同じ大王の名前が刻まれ、大和政権の勢力が広い範囲におよんでいた。
- ウ 朝鮮半島から仏像と経典がとどき、日本に仏教がたえられた。仏教の受け入れをめぐる豪族たちの間に対立があった。
- エ 貧富の差がない平等な社会で、土偶を使って豊作を願ったり、病気やけがをしないためのまじないをしたりしていた。

問3 下線部③について、この年、源頼朝は平氏打倒の兵をあげた。

- (1) 将軍の一人として平氏と戦った頼朝の弟で、その後、頼朝と対立し、平泉で命を落とすことになる人物の名前を漢字で答えなさい。

(2) 次のア～ウを年代の古い順に並べ、記号で答えなさい。

- ア 屋島の戦い イ 一の谷の戦い ウ 壇の浦の戦い

問4 下線部④について、室町時代に起こった一揆と、関連の深い語句の組み合わせとして正しいものを、次のア～エから1つ選び、記号で答えなさい。

- ア 正長の土一揆 - 足軽 イ 正長の土一揆 - 馬借
- ウ 加賀の一向一揆 - 浄土宗 エ 加賀の一向一揆 - 日蓮宗

問5 下線部⑤について、江戸幕府は直接支配する領地以外を大名にあたえ、将軍と大名が領地と民衆をそれぞれ統治する体制をとった。この支配体制を何と呼ぶか、漢字4字で答えなさい。

問6 下線部⑥について、このときには享保の改革が行われていた。享保の改革を説明した文としてまちがっているものを、次のア～エから1つ選び、記号で答えなさい。

- ア 小石川養生所をつくり、庶民でも病気の時に治療を受けることができるようになった。
- イ 大名の江戸滞在の期間を半分にする代わりに、石高1万石につき100石の米を幕府に納めさせた。
- ウ 年貢を五公五民とし、税率はその年の出来具合ではなく、過去の平均で決める方法を採用した。
- エ ききん対策のために町や村に倉庫を作り、米をたくわえさせる制度をつくった。

問7 下線部⑦について、1868年の出来事としてまちがっているものを、次のア～エから1つ選び、記号で答えなさい。

- ア 五箇条の御誓文が發布された。
- イ 鳥羽・伏見の戦いが起こった。
- ウ 薩長同盟が結ばれた。
- エ 年号が「明治」に改められた。

問8 下線部⑧について、このころの明治政府の政策を説明した文としてまちがっているものを、次のア～エから1つ選び、記号で答えなさい。

- ア 地租改正^{ちそかいせい}を行い、土地の価格の5%を税として、土地所有者に現金で納めさせた。
- イ 学制を定め、6歳^{さい}以上のすべての男女に教育を受けさせることにした。
- ウ 徴兵令^{ちようへいれい}を出し、満20歳以上の男子が3年間の兵役につくことになった。
- エ 官営模範工場^{もはん}として富岡製糸場をつくり、全国から子女を集めて技術を広めるようにした。

問9 下線部⑨について、日露戦争後の1911年に不平等条約の改正が達成された。この時に外務大臣だった人物と、回復した権利の組み合わせとして正しいものを、次のア～エから選び、記号で答えなさい。

- ア 陸奥宗光^{むつむねみつ} - 領事裁判権 イ 陸奥宗光 - 関税自主権
- ウ 小村寿太郎^{こむらじゅたろう} - 領事裁判権 エ 小村寿太郎 - 関税自主権

問10 下線部⑩について、第一次世界大戦に関係する文としてまちがっているものを、次のア～エから1つ選び、記号で答えなさい。

- ア 大戦による日本の好景気は物価を引き上げ、シベリア出兵の影響^{えいきよう}もあって、米騒動^{こめそどう}が起こった。
- イ 中国への進出をねらっていた日本は、二十一か条の要求を出し、ドイツの権利を横取りしようとした。
- ウ 大戦後、アメリカ大統領ローズベルトの提案によって世界平和を目的とした国際連盟が設立され、日本は常任理事国となった。
- エ 飛行機や戦車といった新兵器が登場して長期化したため、各国が国力をすべて投入する総力戦となった。

問11 下線部⑪について、この年に満州国の建国が宣言されたが、当時の首相はこれに反対し、海軍の軍人らに暗殺された。この首相の名前を漢字で答えなさい。

問12 下線部⑫について、

(1) 日中戦争のきっかけとなった事件を、次のア～エから選び、記号で答えなさい。

- ア 柳条湖事件^{りゅうじょうこ} イ 二・二六事件 ウ 大逆事件 エ 盧溝橋事件^{ろこうきょう}

(2) 次の太平洋戦争後の出来事ア～エを年代の古い順に並べたとき、3番目にあたるものは何か記号で答えなさい。

- ア 日ソ共同宣言の調印 イ サンフランシスコ平和条約^{ていけつ}の締結
- ウ 日本国憲法の制定 エ 日中平和友好条約の締結

3 次の各問に答えなさい。

問1 次の川柳は昨年4月以降の読売新聞に掲載された「時事川柳」である。どのような事実にもとづいてつくられた川柳か、ア～エからもっとも適切なものを1つ選び、記号で答えなさい。

(1) 「ねえ、プーチンこっち向かないで」と加盟する

- ア 中立を国の基本的な外交方針としていたフィンランドは、ロシアのウクライナ侵攻をきっかけにNATO加盟へと動いた。
- イ 中立を国の基本的な外交方針としていたアイルランドは、ロシアのウクライナ侵攻をきっかけにNATO加盟へと動いた。
- ウ 中立を国の基本的な外交方針としていたニュージーランドは、ロシアのウクライナ侵攻をきっかけにNATO加盟へと動いた。
- エ 中立を国の基本的な外交方針としていたポーランドは、ロシアのウクライナ侵攻をきっかけにNATO加盟へと動いた。

(2) 列島にクーリングタイム設けてよ

- ア 国は企業に対して、ストレス緩和のため、労働者に短時間の仮眠を取らせることを義務付けた。
- イ 首相は地球温暖化対策のために、全国の商店街に昼の時間帯に打ち水を行うよう通達した。
- ウ 猛暑日には、全国の小学校で給食にアイスクリームを提供することになった。
- エ 7・8月は高校野球にならって、暑さに「休けい」が欲しいほど猛暑日が続いた。

問2 次の(1)～(3)の文A・Bは、それぞれ日本の政治制度を説明している。A・Bの正誤の組み合わせとして正しいものを、あとのア～エからそれぞれ1つ選び、記号で答えなさい。

- (1) A：法律や予算を決めることは、国会の仕事である。
B：参議院議員の任期は8年であり、4年ごとに半分ずつ議員が入れかわる。
- (2) A：内閣総理大臣は国民投票で辞めさせることができる。
B：国務大臣の過半数は国会議員でなければならない。
- (3) A：裁判には、犯罪行為を裁く「民事裁判」と、個人や会社の権利に関するトラブルを裁く「刑事裁判」がある。
B：裁判は三審制が採用されており、すべての事件で必ず3回の裁判が行われることになっている。

ア	A：正	B：正	イ	A：正	B：誤
ウ	A：誤	B：正	エ	A：誤	B：誤

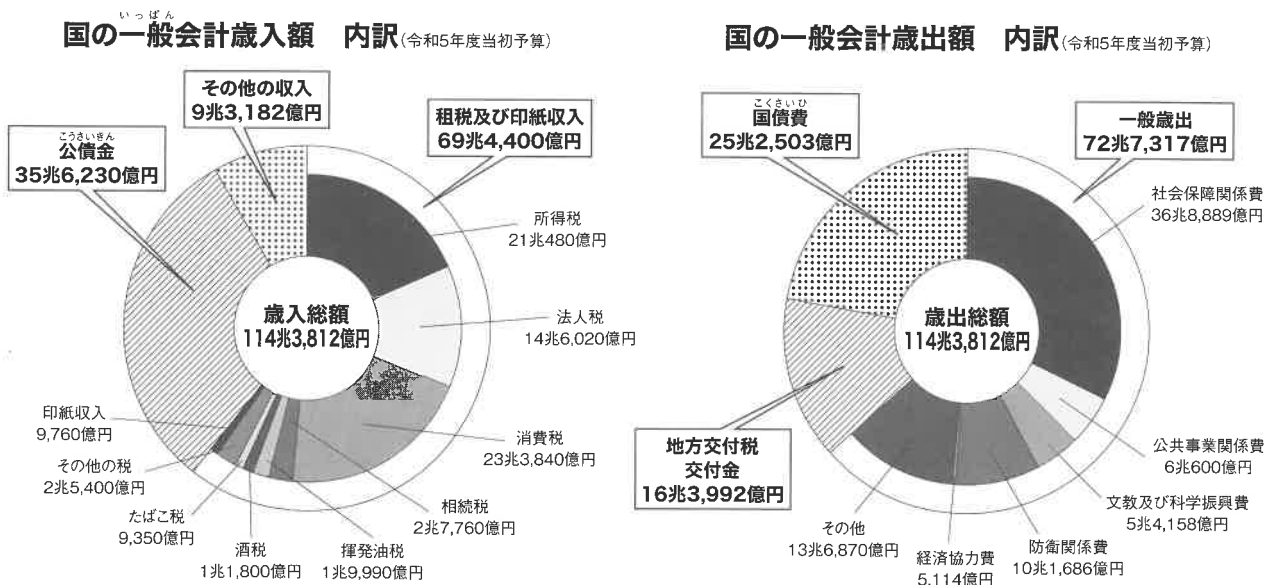
問3 次の〈語群 A〉の語句と関連性の高い語句を〈語群 B〉から選んだ場合、その組み合わせとして正しいものを、あとのア～カから選び、記号で答えなさい。

〈語群 A〉 ①：ふるさと納税 ②：カーボンニュートラル ③：ヘイトスピーチ

〈語群 B〉 あ：人権問題 い：実質ゼロ う：返礼品

- ア ①-あ ②-い ③-う イ ①-あ ②-う ③-い ウ ①-い ②-あ ③-う
 エ ①-い ②-う ③-あ オ ①-う ②-あ ③-い カ ①-う ②-い ③-あ

問4 下の図は国税庁が公表している令和5年度の国の予算の歳入（収入）と歳出（支出）の内訳である。この図を参考にし、財政についての説明として正しいものを、あとのア～エから1つ選び、記号で答えなさい。



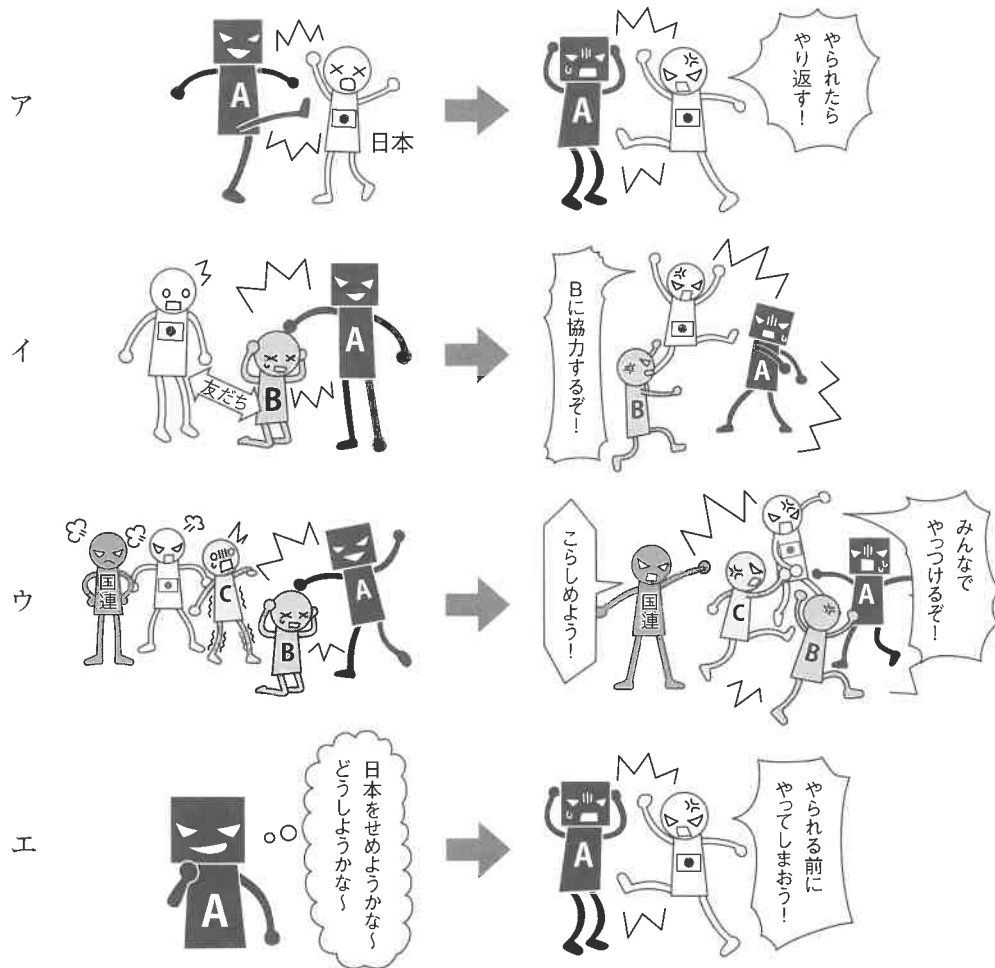
資料：国税庁 HP 税の学習コーナー「財政のしくみと役割」より作成

- ア 公債金による歳入は、所得稅・法人稅・消費稅による歳入の合計額よりも大きい。
 イ 歳出に占める社会保障關係費の割合は、4割を超えている。
 ウ 地方交付稅交付金は、空港を整備するために国から地方公共団体に交付される。
 エ この年度の予算では、過去に借りたお金を返す額よりも新たに借りた額の方が多い。

問5 近年、ジェンダー平等を実現することが求められている。その取り組みとしてまちがっているものを、ア～エから1つ選び、記号で答えなさい。

- ア 国会や地方議会において、女性の議員の割合を増やす。
- イ 民間企業において、女性の社長・部長などの役職者を増やす。
- ウ 家事・育児を妻だけに任せず、夫も積極的に参加する。
- エ 看護師の仕事内容をふまえて、女性が免許を取りやすくする。

問6 2014年に安倍内閣は、従来の憲法解釈を変更して、集団的自衛権の行使を容認することを閣議決定した。集団的自衛権を表したイラストとしてもっとも適切なものを、ア～エから1つ選び、記号で答えなさい。



問7 私たちの日常生活と政府の仕事とのつながりについて、次の①～③を担当する省として正しいものを、あとのア～エからそれぞれ1つ選び、記号で答えなさい。

- ① 道路の整備
- ② 小学校の教育内容
- ③ おばあちゃんの年金

ア 厚生労働省 イ 文部科学省 ウ 経済産業省 エ 国土交通省

以下余白

受験番号

氏名

令和6年度 社会解答用紙

※の欄は記入しないこと

1	問1	問2	A	B	問3	川		
	問4 (1)	問4 (2)	問5	問6	問7	※		
	問8	問9						
2	問1 (1)	問1 (2)	問2	問3 (1)	※			
	問3 (2)	→	→	問4				
	問5	問6	問7	問8	※			
	問9	問10	問11					
	問12 (1)	問12 (2)						
3	問1 (1)	問1 (2)	問2 (1)	問2 (2)	問2 (3)	※		
	問3	問4	問5	問6				
	問7	①	②	③				

得点	※
----	---