

令和5年度

日本大学第三中学校入学試験問題

理科

1 ページから 8 ページ

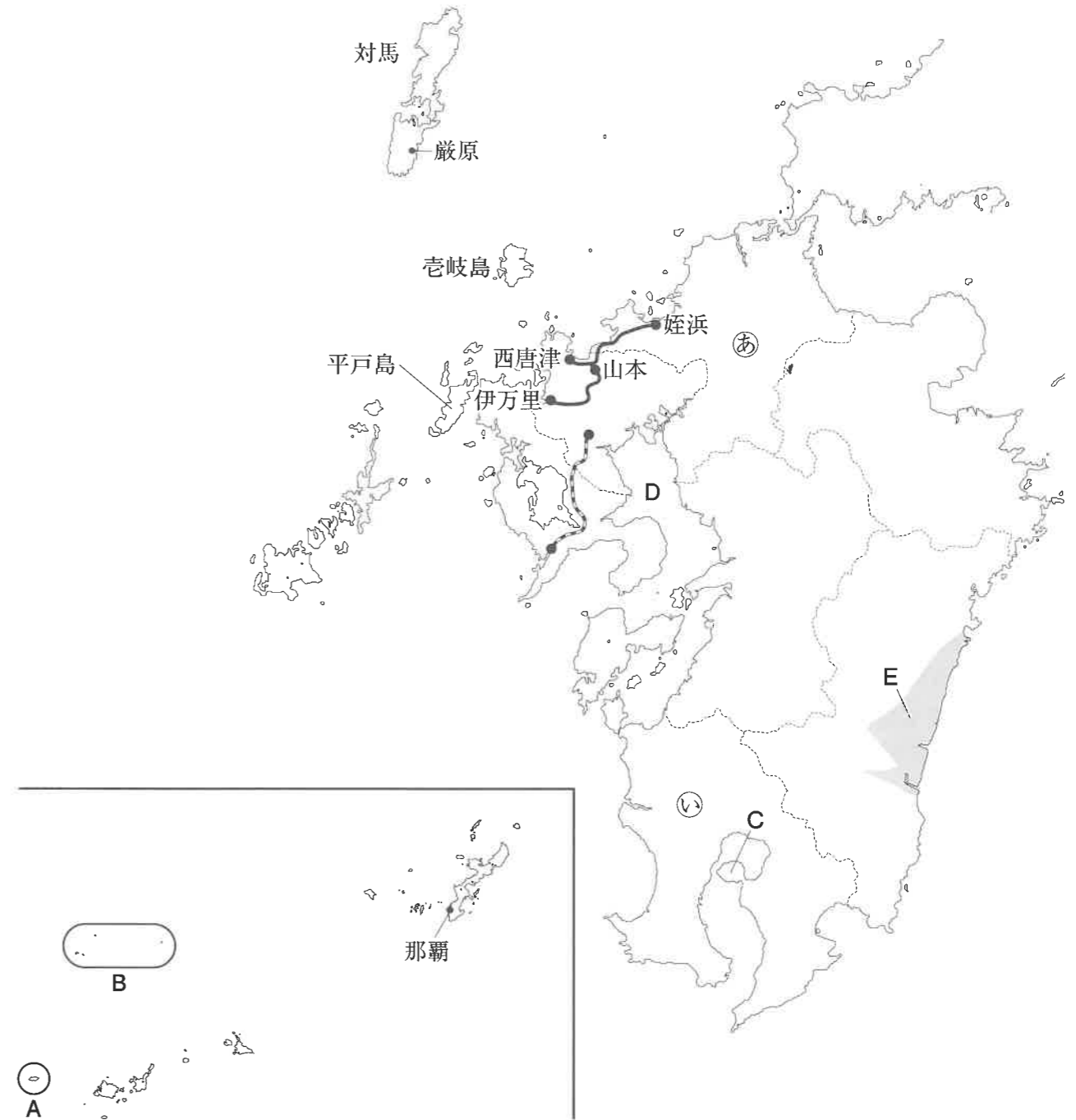
社会

12 ページから 21 ページ

[注意]

- (1) 「始め」の合図があるまで開いてはいけません。
- (2) 解答用紙は理科、社会ともに表紙をめくとあります。
- (3) 理科、社会それぞれの解答用紙に受験番号と氏名を忘れずに記入下さい。
- (4) 試験時間は理科、社会あわせて60分です。
- (5) 理科、社会どちらを先に解いてもかまいません。
- (6) 時間の配分は自分で決めてください。
- (7) 始まって30分たった頃に合図をします。
- (8) 「終わり」の合図があったら、理科、社会の解答用紙だけを提出下さい。

1 次の文章を読み、地図を参考にして、あとの各問に答えなさい。



余 白

日大三高の修学旅行は中国・九州地方に出かけていたが、来年度より東北・北海道、沖縄、そしてシンガポールから自分の行先を選べるようになるという。また、令和4年は沖縄返還50周年の年ということもあって、前から行きたかった北九州の島めぐりと、沖縄旅行を合わせて計画してみた。

九州までは飛行機を使うつもりだ。羽田空港から福岡空港まではだいたい2時間といったところだろう。まず目指すのは壱岐と対馬だ。共に「国境の島」ともいわれ、歴史的にも重要な役割をはたしてきた。壱岐までは、博多ふ頭からフェリーで2時間20分。対馬までは壱岐からさらに2時間20分。このフェリーは壱岐を通過して対馬までを結んでいるから便利だ。ちなみに博多湾の西には糸島市があり、ここは①聖徳太子の弟である来日皇子が、朝鮮へ出兵するためにやってきた場所だ。そんなことを思い出した。

杵岐には②弥生時代を代表する原の辻遺跡があって、前から行ってみたいと思っていた。この遺跡は中国の歴史書③『魏志倭人伝』にも登場する一大国の王都だったと考えられており、なんと④3重もの濠に囲まれた大集落だという。

対馬については、同じく『魏志倭人伝』に「海にかこまれて地形が険しく、深い木々におおわれている」と書かれている。韓国までたった50kmの距離にあるこの島は、古代から外国との玄関口であると同時に、国防の最前線であった。667年には金田城がつくられ、唐・新羅から国を守る基地となっていたし、時代をこえて1904年の⑤日露戦争の時には、東郷平八郎率いる連合艦隊がバルチック艦隊を撃破した日本海海戦の拠点ともなった。

対馬めぐりのスタート地点は南部の厳原港だ。厳原周辺には、⑥徳川家康の時代、⑦朝鮮との国交回復に活躍した宗氏の居城である金石城や、宗氏一族の墓がある万松院といった、定番の散策スポットがある。万松院の墓所は大変大きく、加賀藩の前田氏、萩藩の⑧毛利氏の墓所と並んで日本三大墓地のひとつとなっているそうだ。

さて、対馬から杵岐にもどって、フェリーで唐津東港へ向かう。最寄りの⑨西唐津駅からは、⑩1898年に操業を開始した唐津線に乗る。途中、山本駅で筑肥線に乗りかえるのだが、この筑肥線は、姪浜駅から唐津駅までと、山本駅から伊万里駅までの2区間に分断されており、唐津線がこの2区間をつなげているという、面白い路線である。伊万里駅から西九州線に乗ると、「たびら平戸口」という駅があって、そこから平戸島はすぐ目の前である。

平戸島は遣隋使や⑪遣唐使の寄港地として利用され、交通の要所であった。⑫鎌倉時代に平戸島と呼ばれるようになったようだが、室町時代には松浦党の拠点となり、⑬海ぞくも活発に活動した場所だ。松浦党とは平安時代から戦国時代に組織された⑭武士団であるが、彼らの祖先は、この地に領地をもらった嵯峨天皇の子孫であると、⑮平安時代の藤原氏の日記に書かれている。

平戸島はキリスト教徒のかかわりが深い場所だ。1549年、⑯キリスト教を伝えた宣教師フランシスコ＝ザビエルは、翌年に平戸島で布教をしている。鏡川町にある教会坂では、寺院と教会を同時に見ることができ、平戸島らしい風景だと評判である。そこから港の方をふり返ると海の向こうに平戸城が見えるという、ぜいたくな場所だ。

さて、沖縄へは福岡空港から⑰那覇空港へ飛ぼう。沖縄は本土4島（本州、北海道、九州、四国）と北方領土を除けば、日本の島の中で一番大きい島だ。令和4年は⑱沖縄返還50周年記念の年であり、さまざまなイベントが行われていた。

※本文の作成にあたり、以下の資料を引用・参考にしました。
古村靖徳『九州の島めぐり 58の空と海』海鳥社 2019年

- 問1 下線部①について、聖徳太子が活躍した時代の天皇と、政策の組み合わせとして正しいものを、次のア～エから1つ選び、記号で答えなさい。
- ア 天智天皇－冠位十二階 イ 天智天皇－大化改新
ウ 推古天皇－冠位十二階 エ 推古天皇－大化改新

問2 下線部②について、弥生土器を次のア～ウから1つ選び、記号で答えなさい。



問3 下線部③について、『魏志倭人伝』には邪馬台国の様子が紹介されている。『魏志倭人伝』に書かれている内容としてまちがっているものを、次のア～エから1つ選び、記号で答えなさい。

- ア 女王の卑弥呼は、まじないの力をもった人物だった。
イ 女王の卑弥呼は、中国の皇帝から漢委奴国王の称号をもらった。
ウ 宮殿には物見やぐらやさくがあり、兵士がまもっていた。
エ 女性は布の真ん中に穴をあけ、そこから頭を出す服を着ていた。

問4 下線部④について、弥生時代の集落はなぜ濠で囲まれているのか、その理由を簡単に説明しなさい。

問5 下線部⑤について、日露戦争よりあとのできごとを次のア～エから1つ選び、記号で答えなさい。

- ア 日英同盟が結ばれる イ 韓国併合がおこなわれる
ウ 三国干渉がおこなわれる エ 義和団事件が発生する

問6 下線部⑥について、江戸幕府の将軍と政策の組み合わせとしてまちがっているものを、次のア～エから1つ選び、記号で答えなさい。

- ア 徳川家康－武家諸法度の制定 イ 徳川家光－参勤交代の制定
ウ 徳川綱吉－生類憐みの令の発布 エ 徳川吉宗－享保の改革の実施

問7 下線部⑦について、江戸時代、将軍の代わりごとに朝鮮からやってきた使節のことを漢字5文字で答えなさい。

問8 下線部⑧について、毛利氏といえば戦国大名として有名だが、戦国時代を説明した文としてまちがっているものを、次のア～エから1つ選び、記号で答えなさい。

- ア 自分の国のみで通用する法律である分国法をつくって、領地の支配を固めた。
イ 立場の下の者が上の者を実力でたおす、下剋上の風潮があった。
ウ 戦国大名の多くは家来を自分の城の周りに住ませたため、門前町が発達した。
エ 応仁の乱がきっかけとなって守護大名がおとろえ、戦国大名が現れた。

問9 下線部⑨について、西唐津駅があるのは何県か、地図中の路線図を参考にして漢字で答えなさい。

問10 下線部⑩について、この年に成立した大隈重信^{おおくましのぶ}内閣は、政党内閣と言われるが、「本格的」な政党内閣の成立は、1918年の米騒動のあとのことだった。この時、内閣総理大臣になった、立憲政友会総裁の氏名を漢字で答えなさい。

問11 下線部⑪について、

(1) 日本からの招きによって、渡航^{とこう}に何度も失敗しながらも来日した僧侶^{そうりょ}で、寺院や僧の制度を整え、唐招提寺をひらいた人物の名前を漢字で答えなさい。

(2) 遣唐使が派遣されていたころの日本について説明した文としてまちがっているものを、次のア～エから1つ選び、記号で答えなさい。

ア 聖武天皇は国ごとに国分寺・国分尼寺を建立し、仏教の力で社会の不安をしずめようとした。

イ 墾田永年私財法^{こんでんえいねんしざいほう}が出されて、土地の私有が認められ、公地公民の原則がくずれた。

ウ 浄土教の教えに基づいて、藤原頼通^{ふじわらのよりみち}が京都の宇治に平等院鳳凰堂^{びょうどういんほうおうどう}を建立した。

エ この時代に栄えた天平文化は、中国の影響を受けた国際色豊かな文化だった。

問12 下線部⑫について、次のア～エの鎌倉時代のできごとを、年代の古い順に並べた場合、3番目となるものを記号で答えなさい。

ア 承久の乱がおこる イ 御成敗式目の制定

ウ 永仁の徳政令を發布 エ 弘安の役がおこる

問13 下線部⑬について、14世紀に北九州などを拠点にして、朝鮮半島や中国の沿岸部をあらした海ぞくのことを何というか、漢字2文字で答えなさい。

問14 下線部⑭について、

(1) 1156年、院政をめぐる上皇と天皇の対立が起こると、源氏と平氏は一族が上皇側と天皇側に分かれて戦うことになった。この戦いの名前を解答らん^{とく}に合うように漢字で答えなさい。

(2) 平清盛^{せとないかい}は瀬戸内海のある神社を一族の守り神として敬った。この神社の鳥居は建立から140年が経ち、令和元年から大がかりな修理工事が始まった。この神社の名前を漢字で答えなさい。

問15 下線部⑮について、平安時代に発展した仏教の宗派とその宗派を始めた人物の組み合わせとして正しいものを、次のア～エから1つ選び、記号で答えなさい。

ア 浄土宗^{じょうどしゅう} - 法然 イ 法華宗^{ほっけしゅう} - 空海

ウ 天台宗^{たいちじゅう} - 最澄 エ 臨済宗^{りんぜいしゅう} - 栄西

問16 下線部⑯について、日本のキリスト教に関するできごとについて説明した文としてまちがっているものを、次のア～エから1つ選び、記号で答えなさい。

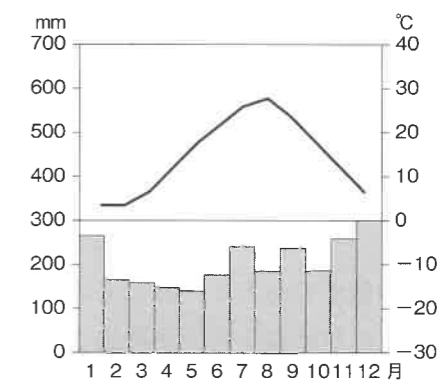
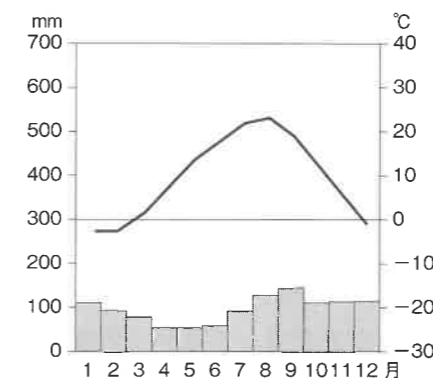
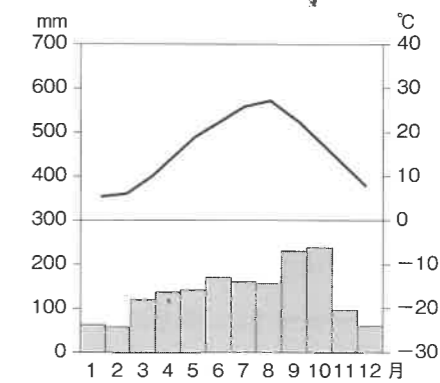
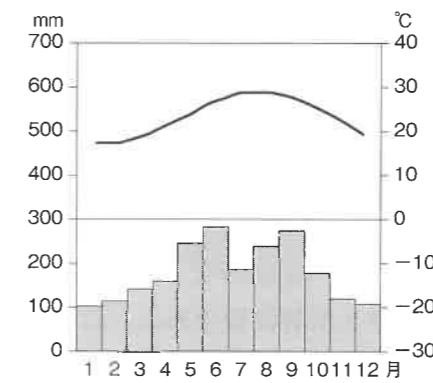
ア 豊臣秀吉^{とよとみひでよし}は長崎がイエズス会に寄付されていることを知って、バテレン追放令を出した。

イ 江戸幕府は禁教を進めていたが、天草四郎を中心に島原・天草一揆^{いっき}がおこったため、大軍を送ってこれをしずめた。

ウ 明治政府は五箇条^{ごかじょう}の御誓文^{ごせいもん}と同時に五榜^{ごぼう}の掲示^{けいじ}を出し、キリスト教や一揆の禁止を命令した。

エ 織田信長は仏教を保護し、キリスト教を禁止したため、宣教師が教会や学校をつくることを許さなかった。


問17 下線部⑰について、那覇の雨温図として正しいものを、次のア～エから選び、記号で答えなさい。



問 18 下線部⑮について、

- (1) 太平洋戦争末期、日本に原子爆弾が落とされた。広島市に原子爆弾が落とされた日付を、解答らんに合うように答えなさい。
- (2) 沖縄は1972年に日本に返還された。返還された当時の内閣総理大臣の氏名を漢字で答えなさい。
- (3) 沖縄県では特ちょう的な気候を活かして、写真の農作物が盛んに栽培されている。沖縄県における作付面積の約半分を占めている、この農作物を答えなさい。



問 19 地図中の  は、昨年9月に開通した西九州新幹線である。この新幹線の愛称を、次のア～エから選び、記号で答えなさい。

- ア つばめ イ はやぶさ ウ かもめ エ ひばり

問 20 地図中Aの島は、日本の領土の一番西側に位置している。この島の名前を漢字で答えなさい。

問 21 地図中Bの島々の説明として正しいものを、ア～エから1つ選び、記号で答えなさい。

- ア 韓国が不法な占領を続けているため、日本は国際的な場での話し合いによる解決を韓国側に求めている。
- イ 中国が自国の領土であると主張しており、中国船による不法な侵入や海洋調査が続いている。
- ウ 太平洋戦争後にソビエト連邦が不法な占領をし、現在までロシア連邦が占領を続けている。
- エ 海面下にしずむ危険があるため、日本は島全体をコンクリートで囲み、侵食からまもっている。

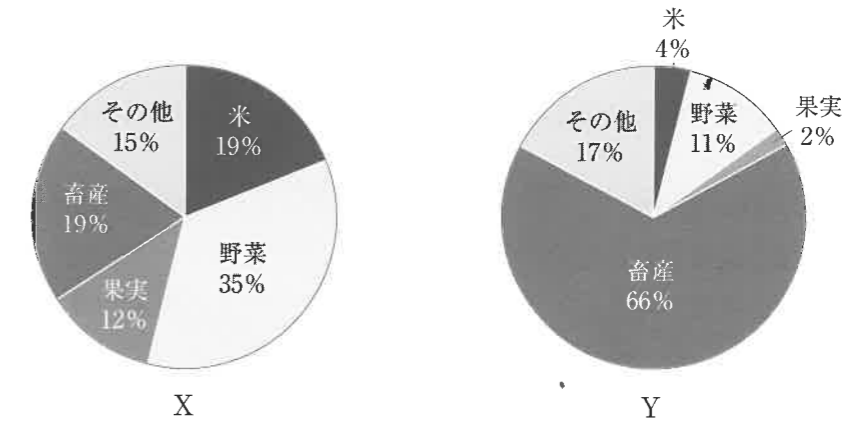
問 22 地図中Cの島は、20世紀初頭からの噴火により周辺の半島と陸続きになった。この島と陸続きとなった半島の組み合わせとして正しいものを、次のア～エから1つ選び、記号で答えなさい。

- ア 桜島 - 大隅半島 イ 桜島 - 薩摩半島
- ウ 大島 - 大隅半島 エ 大島 - 薩摩半島

問 23 地図中Dの湾についての説明として正しいものを、次のア～エから1つ選び、記号で答えなさい。

- ア 周辺の工場からの汚水排出によって、水俣病と呼ばれる公害病が発生した。
- イ 湾内では潮の満ち引きが大きいことなどを活かして、のりの養殖が盛んである。
- ウ 周辺を流れる暖流の影響により、サンゴ礁がひろがっている。
- エ 湾内には大きなうず潮が発生しており、観光名所となっている。

問 24 次の2つの円グラフは、Xが地図中⑯の県、Yが⑰の県の農業産出額の内訳を示したものである。XとYのグラフの説明として正しいものを、あとのア～エからそれぞれ選び、記号で答えなさい。



- ア 火山灰が降り積もったシラスが広がっており、米の生産には不向きであるため、畜産業が盛んである。
- イ 活火山の周辺地域では地熱によって冬でも温暖で家畜の生育に適した環境であるため、畜産業が盛んである。
- ウ 九州地方の中で一番人口の多い大都市があるため、野菜や果実の生産が盛んである。
- エ 九州地方の中では比較的気温が高く、降水量が少ない地域のため米の生産に適しており、九州地方の中で最大の米の生産地である。

問 25 地図中Eの平野では特ちょう的な気候を活かして、促成栽培が盛んである。促成栽培の長所を説明しなさい。

問 26 九州地方は1970年代以降に半導体の生産が盛んになったことで、かつてはシリコンアイランドと呼ばれていた。半導体を製造する工場の立地の特ちょうとして正しいものを、次のア～エから1つ選び、記号で答えなさい。

- ア 小型で軽い製品の特性により、主に高速道路沿いや空港周辺に立地する。
- イ 大型で重い製品の特性により、主に船による輸送に便利な沿岸部の周辺に立地する。
- ウ 流行に合わせて改良が必要である製品の特性により、主に大都市周辺に立地する。
- エ 原料として多くの鉄鉱石を必要とする製品の特性により、主に鉄鉱石産地の周辺に立地する。

2 次の各問に答えなさい。

問1 次の川柳は昨年4月以降の読売新聞に掲載された「時事川柳」である。どのような事実にもとづいてつくられた川柳か。ア～エの中からもっとも適切なものを選び、記号で答えなさい。

(1) 街が消え 後に憎しみ 残るだけ

- ア パキスタンでは洪水の被害が激しく、避難民を受け入れない隣国に批判が集まっている。
- イ 太平洋戦争で原爆の被害にあった広島では、アメリカに対する抗議デモが今でも続いている。
- ウ ロシアの侵攻を受けているウクライナでは、街が攻撃され、多くの人が犠牲になっている。
- エ 九州地方で線状降水帯が発生し、大雨での被害が続いているため、人々は政府を批判している。

(2) 悪事さえ 持続化させる 給付金

- ア 国はコロナ感染症拡大により極めて厳しい経営状況にある事業者を支援するため、給付金を支給した。
- イ 国はコロナ感染症対策として、飲食店の配達サービスの利用を促進するため、配達業者と利用者に給付金を支給した。
- ウ 国はコロナ感染症対策として、コロナに感染したすべての患者に対して見舞金を一律に支給した。
- エ 国はコロナ感染症拡大によって増加した強盗などの犯罪者に対して、逮捕せずに給付金を支給し更生を促した。

問2 日本の裁判のしくみについて、以下の問に答えなさい。

(1) 下の図のように同じ1つの事件について最大3回まで裁判することができます。この制度を何というか、漢字で答えなさい。



(2) なぜ(1)のような制度がとられているのか、「慎重」と「人権」という語句を使って簡単に説明しなさい。

(3) 最高裁判所の裁判官は、裁判官としてふさわしいかどうかを国民の投票で決め、ふさわしくないとされた者はやめさせられる制度がある。この制度を何というか、漢字4文字で答えなさい。

問3 現在の衆議院についての説明としてまちがっているものを、次のア～エから1つ選び、記号で答えなさい。

- ア 選挙は小選挙区制と比例代表制の両方を用いて選出する。
- イ 解散がないので、長期的な視点で国政に携わることができる。
- ウ 衆参両院の議決が一致しない場合、衆議院により強い権限が認められている。
- エ 内閣への信任または不信任の決議が行われる。

問4 日本の内閣総理大臣についての説明として正しいものを、次のア～エから1つ選び、記号で答えなさい。

- ア 内閣総理大臣は、最高裁判所裁判官の直接選挙で決定する。
- イ 内閣総理大臣は、国民の直接選挙で決定する。
- ウ 内閣総理大臣は、天皇が指名する。
- エ 内閣総理大臣は、国会が指名する。

問5 下の絵は、1947年に当時の文部省が中学1年の社会の教科書に載せた、『あたらしい憲法のはなし』に関わるものです。以下の問に答えなさい。



(1) これ以前に使われていた、明治時代に制定された憲法を何というか、漢字7文字で答えなさい。

(2) この絵の①～③に入る語句の組み合わせとして正しいものを、次のア～エから1つ選び、記号で答えなさい。

- ア ①主権在民主義 ②軍国主義 ③民主主義
- イ ①天皇主権 ②資本主義 ③国際平和主義
- ウ ①主権在民主義 ②民主主義 ③国際平和主義
- エ ①天皇主権 ②資本主義 ③軍国主義

(3) あたらしい憲法が公布された11月3日は国民の祝日となっている。何の日と定められているか、解答らんにあうように漢字で答えなさい。

問6 下の表は、ア市～エ市の4つの市の年代別の人口を表したものである。4つの市の中で、最も高齢化率が高いのは何市か答えなさい。

	14歳以下	15～64歳	65歳以上
ア市	1,000	3,000	4,000
イ市	9,000	19,000	12,000
ウ市	40,000	50,000	60,000
エ市	20,000	60,000	20,000

(単位：人)

問7 次の①～③の語句と関連の深い語句をa～cから選んだ時、その組み合わせとして正しいものを、あとのア～カから選び、記号で答えなさい。

① - 地球温暖化 ② - 貿易促進 ③ - 臓器移植

a - パリ協定 b - ドナーカード c - TPP

- ア ① - a ② - b ③ - c
- イ ① - a ② - c ③ - b
- ウ ① - b ② - a ③ - c
- エ ① - b ② - c ③ - a
- オ ① - c ② - a ③ - b
- カ ① - c ② - b ③ - a

以下余白

受験番号

氏名

令和5年度 社会解答用紙

※の欄は記入しないこと

1	問1	問2	問3	
	問4			
	問5	問6	問7	
	問8	問9	県 問10	
	問11 (1)	(2)	問12 問13	
	問14 (1)	の乱 (2)	問15	
	問16	問17	問18 (1) 1945年 月 日	
	問18 (2)	(3)	問19	
	問20	問21	問22	
	問23	問24 X	Y	
	問25			
	問26			
	2	問1 (1)	(2)	問2 (1)
		問2 (2)		
問2 (3)		問3	問4	
問5 (1)		(2)		
問5 (3)		の日 問6	市 問7	

※

※

※

※

得点	※
----	---