

- 1 次の川柳は昨年4月以降の読売新聞に掲載された「時事川柳」です。どのような事実にもとづいてつくられた川柳でしょうか。ア～エの中からもっとも適切なものを1つ選び、記号で答えなさい。

問1 爆破して 縁切寺に 立て替える

- ア 北朝鮮は韓国との融和の象徴であった連絡事務所を爆破した。
- イ アメリカは中国との融和の象徴であった連絡事務所を爆破した。
- ウ 北朝鮮は韓国との融和の象徴であった連絡事務所を新たに立て替えた。
- エ アメリカは中国との融和の象徴であった連絡事務所を新たに立て替えた。

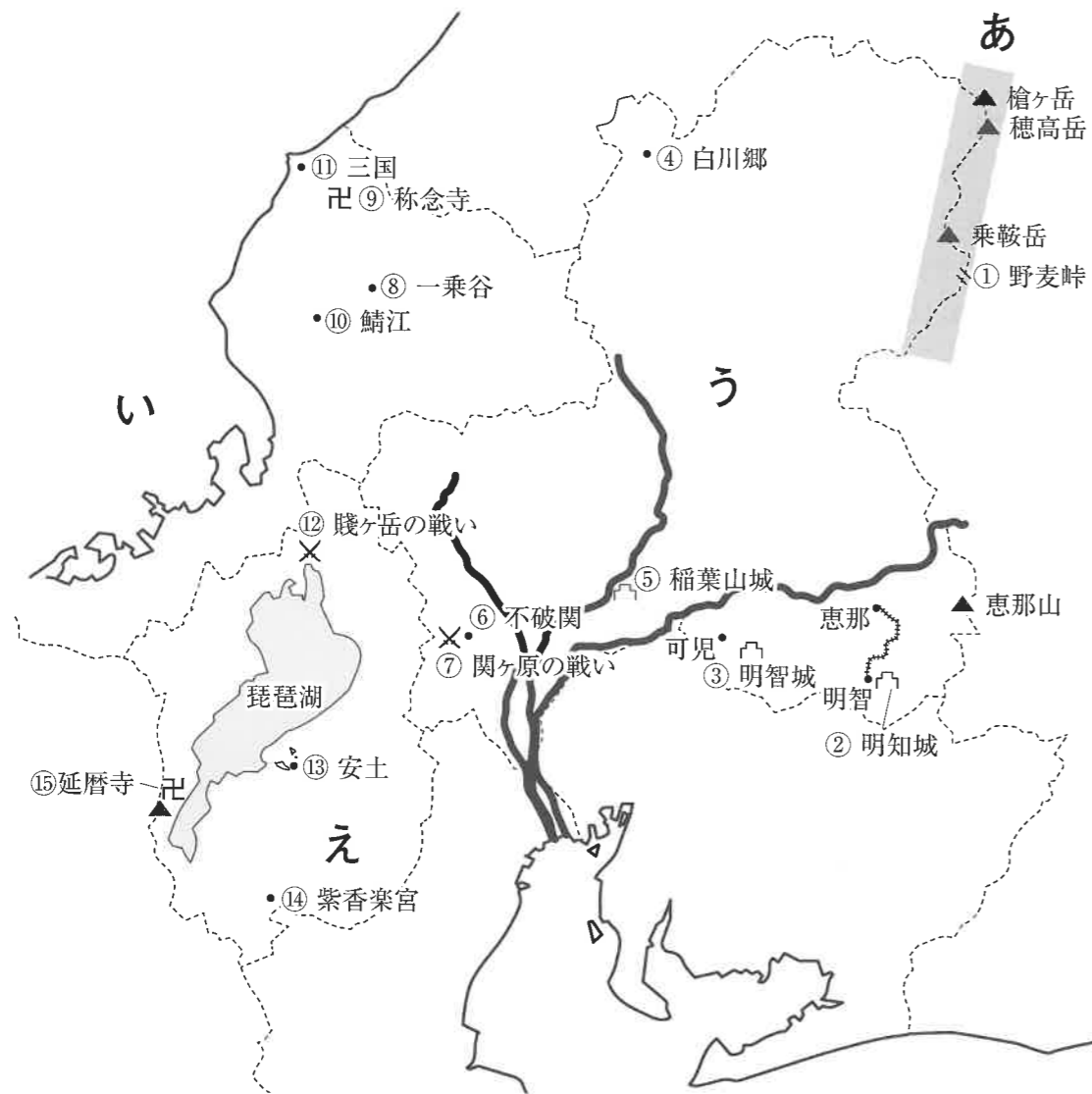
問2 凶器にも 頼りにもなる ツイッター

- ア アメリカ大統領選挙では、候補者がSNSを巧みに利用して自らの政策をアピールしている。
- イ 銃や覚せい剤などの違法薬物を売買する手段としてSNSが利用されている。
- ウ SNS上で見ず知らずの人と出会い、少年・少女が誘拐される事件が発生している。
- エ 災害時には貴重な連らく手段になるSNSだが、使い方によっては人を精神的に追いこむ。

問3 折角の COCOA が冷めて ゆくばかり

- ア ココアの原料になるカカオ豆の輸出をアフリカが制限した。
- イ 接触アプリ COCOA は、システムの不具合で信頼性が低下した。
- ウ タピオカドリンクの人気により、店でココアを注文する人が減った。
- エ 白い犬が人気となり、愛犬に COCOA と名付ける人が減った。

2 次の地図を見て後の問いに答えなさい。



問1 地図中①について、明治から大正にかけて う 県の農家の娘たちが、野麦峠を越えて隣の県の製糸工場へ働きに出た。

(1) 明治時代について述べた文ア～エのうち、まちがっているものを1つ選び、記号で答えなさい。

- ア 明治政府は五箇条の御誓文を出し、新しい政治の方針を発表した。
- イ 明治政府は藩が治めていた土地と人民を天皇に返す、廃藩置県をおこなった。
- ウ 板垣退助らが民撰議院設立建白書を政府に提出し、自由民権運動は全国に広まった。
- エ 北里柴三郎は破傷風の血清療法を発見し、のちに伝染病研究所を設立した。

(2) 明治時代から大正時代にかけての出来事ア～エを年代の古い順に並べ、記号で答えなさい。

- ア 中国に二十一か条の要求を出す。
- イ 義和団事件がおこる。
- ウ 西南戦争がおこる。
- エ 米騒動がおこる。

問2 地図中②の明知城は、明智光秀の生誕地であるという伝説が残る場所の1つである。歴史上の重要人物のひとりである明智光秀だが、いつ生まれたかわからないなど、いまだに謎が多い人物である。この城は1247年に作られ、恵那から明知鉄道を利用して訪れることができる。明知鉄道は1985年に開業した鉄道会社である。

(1) 1247年は鎌倉時代である。鎌倉時代について述べた文ア～エのうち、まちがっているものを1つ選び、記号で答えなさい。

- ア 元寇は2度にわたって行われ、1度目が弘安の役、2度目は文永の役と呼ばれた。
- イ 後鳥羽上皇の指示によって、藤原定家らが新古今和歌集を編さんした。
- ウ 源頼朝は弟の義経をつかまえるため、守護地頭の設置を後白河法皇に認めさせた。
- エ 西日本に二毛作が広がり、商品作物を売買する定期市が開かれるようになった。

(2) 1985年にソ連の共産党書記長になり、ペレストロイカという改革運動を進めた人物の名前を、次のア～エから選び、記号で答えなさい。

- ア スターリン
- イ フルシチョフ
- ウ レーニン
- エ ゴルバチョフ

(3) ペレストロイカのあと、ソ連を中心とする東側諸国とアメリカを中心とする西側諸国の対立は収まっていった。この東西の対立を何というか、漢字で答えなさい。

問3 地図中③の明智城も光秀の生誕地の1つとされている。この明智城は室町時代に美濃国（地図中のう県）の守護だった土岐氏によって、現在の可児市につくられた。室町時代について述べた文ア～エのうち、正しいものを1つ選び、記号で答えなさい。

- ア 室町幕府は鎌倉に六波羅探題を置いて、関東の武士を監視した。
- イ 3代将軍足利義満の跡継ぎをめぐる争いが原因で、1467年から応仁の乱が始まった。
- ウ 日蓮宗の信者が中心となった一向一揆は支配者を悩ませた。
- エ 中国で明が建国され、幕府は正式な国交を開き、貿易を始めた。

問4 地図中④の白川郷は、世界遺産に登録された集落で、次の写真のような建物がみられる。



(1) この建物の造りを何というか、次のア～エから選び、記号で答えなさい。

- ア 寄棟造り イ 合掌造り ウ 高塀造り エ 兜造り

(2) この建物の屋根の形から、白川郷のある地域の気候について述べなさい。

問5 地図中⑤の稲葉山城は難攻不落の城として有名で、戦国時代は「美濃を制すものは天下を制す」と言われたほどだった。美濃の戦国大名である斉藤道三は、親子二代で油商人から大名までのし上がったことが知られる。このように、自分より地位の高い人物を倒して、のし上がることを何というか、漢字で答えなさい。

問6 地図中⑥の不破関は古代からある関所である。天武天皇はここをおさえて、天智天皇の跡継ぎをめぐる戦いを有利に進めた。この戦いの名前を答えなさい。


問7 地図中⑦の関ヶ原の戦いは、1600年に徳川家康が勝利して終わった。

(1) 五奉行のひとりで、西軍（豊臣側）の中心となった人物の名前を漢字で答えなさい。

(2) 江戸幕府について述べた文ア～エのうち、正しいものを1つ選び、記号で答えなさい。

- ア 豊臣氏を1615年の大阪冬の陣で倒し、大名のひとりとした。
- イ 武家諸法度を定め、朝廷や公家、僧侶の守るべき規定を示した。
- ウ 関ヶ原の戦いの前から仕えていた大名を親藩として、重要な地域に配置した。
- エ 天領以外を大名に分け与え、幕府と藩が領地と民衆を統治する幕藩体制をしいた。

(3) 次のイラストは絵踏みをしているところである。江戸幕府はなぜキリスト教を禁止したのか、その理由を簡単に述べなさい。



(4) 江戸時代の出来事ア～ウを年代の古い順に並べ、記号で答えなさい。

- ア 寛政の改革が実施された。
- イ 安政の大獄がおこった。
- ウ 田沼意次が老中となった。

問8 地図中⑧の一乗谷は、戦国大名朝倉氏の城下町である。戦国大名は自国の領地内で通用するきまりを定め、支配を強めた。このきまりを何というか、漢字で答えなさい。

問9 地図中⑨の称念寺は、1556年に斉藤道三と子の義龍の争いに巻きこまれた光秀が逃げた場所である。称念寺の宗派には、「遊行」という、旅をしながら布教活動をするという特ちょうがある。これは鎌倉時代に、時宗を開いて踊念仏を広めた僧侶の影きょうによる。この僧侶の名前を漢字で答えなさい。

問 10 地図中⑩の鯖江市で、20世紀の初めから農家の副業として作り始められ、現在では日本一の生産量をほこるものは何か、次のア～エから選び、記号で答えなさい。

ア ネクタイ イ 洋食器 ウ メガネ エ 医薬品

問 11 地図中⑪の三国について、6世紀の古墳時代に大王の跡継ぎ問題がおこると、ここにいた王が大和政権にむかえられた。

- (1) 大阪府にある日本最大の古墳の名前を漢字で答えなさい。
- (2) 6世紀のおわりに、日本で初めての女性天皇が誕生した。この天皇を補佐するため、摂政となった人物の名前を漢字で答えなさい。

問 12 地図中⑫の賤ヶ岳の戦いは、豊臣秀吉と柴田勝家の争いである。豊臣秀吉の時代について述べた文ア～エのうち、まちがっているものを1つ選び、記号で答えなさい。

- ア 1588年に刀狩令を出し、農民から武器を取りあげ、一揆を防ごうとした。
イ 朝鮮出兵の後、日本に連れ帰った職人たちによって、有田焼や薩摩焼がつくられた。
ウ 検地をおこない、米の生産高をもとにして年貢が決められるようになった。
エ 雄大で華やかな北山文化が発展し、千利休や狩野永徳が活やくした。

問 13 地図中⑬の安土は織田信長が拠点を置いた場所である。信長について述べた文ア～エのうち、まちがっているものを1つ選び、記号で答えなさい。

- ア 城下町では楽市楽座を実行し、商人が自由に商売できるようになった。
イ 1582年に家臣の明智光秀によって攻められ、京都の本能寺で自害した。
ウ 石橋山の戦いでは、少数の兵で今川義元を奇襲し、これを破って勢いを強めた。
エ 長篠の戦いでは、鉄砲を使って武田氏の騎馬隊をやぶり、天下統一の土台を固めた。

問 14 地図中⑭の紫香楽宮は、奈良時代に聖武天皇が都をおいた場所のひとつである。

- (1) 710年に唐の長安にならって造られた都の名前を漢字で答えなさい。
- (2) 聖武天皇はこの紫香楽宮で大仏造りを発令した。民間の僧侶でこれに協力し、のちに大僧正となった人物の名前を、漢字で答えなさい。

問 15 地図中⑮の延暦寺は平安時代に造られた寺院である。延暦寺の宗派と、その宗派をひらいた人物の名前をそれぞれ漢字で答えなさい。

問 16 地図中 あ の山脈の名前を漢字で答えなさい。

問 17 地図中 い の湾について、以下の問いに答えなさい。

- (1) この湾の名前を、次のア～エから選び、記号で答えなさい。
ア 伊勢湾 イ 三河湾 ウ 駿河湾 エ 若狭湾
- (2) この湾では、のこぎりの歯のようなギザギザした形の海岸が見られる。この海岸の地形名を答えなさい。
- (3) この湾の沿岸に多くある発電所の種類を、次のア～エから1つ選び、記号で答えなさい。
ア 水力発電所 イ 地熱発電所 ウ 原子力発電所 エ 火力発電所

問 18 地図中 う・え の県名を漢字で答えなさい。

問 19 地図中の琵琶湖について説明した文ア～エのうち、まちがっているものを1つ選び、記号で答えなさい。

- ア 面積が日本で一番広い湖で、湿地の保存に関するラムサール条約に登録されている。
イ 運河の建設によって日本海とつながり、外国船が天津港まで来られるようになった。
ウ 形が楽器の琵琶に似ていることが、この湖の名前の由来となっている。
エ この湖から流れ出る川は1本だけで、最後は淀川になって大阪湾にそそいでいる。

問 20 地図を見ると、「木曾三川」と呼ばれる3本の川が流れているのがわかる。そのうちの2つは木曾川と揖斐川である。もう1つ、う飼いで知られた川の名前を、次のア～エから選び、記号で答えなさい。

ア 天竜川 イ 大井川 ウ 黒部川 エ 長良川

問 21 「木曾三川」の下流には大きな平野が広がる。

- (1) この平野の名前を、次のア～エから選び、記号で答えなさい。
ア 濃尾平野 イ 讃岐平野 ウ 豊橋平野 エ 播磨平野
- (2) 集落を水害から守るためにまわりを堤防で囲んだものを何というか、漢字で答えなさい。

3 次の会話文を読んで、あとの問いに答えなさい。

生徒：憲法は国のあり方を定める、一番大切な法なんですよ。

先生：そうです。憲法に違反している法律も、政府の行為もみな効力をもちません。このことは①日本国憲法の第98条1項で、「この憲法は、国の(②)であつて、その条規に反する法律、命令、詔勅(※)及び国務に関するその他の行為の全部又は一部は、その効力を有しない。」と記されています。

生徒：もし憲法に違反しているような法律が作られたとしたら、どの機関が「合格」「不合格」を判断するのですか。

先生：いい質問ですね。実際、国民の中からは、法律や政府の行為が憲法に違反しているのではないか、という訴えが出てきます。その場合は、③裁判所がその判断をすることになります。

生徒：きちんと審査する仕組みが整えられているんですね。安心しました。そもそも憲法には、どんな内容が書かれているのですか。

先生：日本国憲法は大きく分けて「④基本的人権の保障」と「国の政治の仕組み」の2つの内容から構成されています。

生徒：人権は奪われることのない、永久の権利として守られていると、社会の授業で習いました。

先生：そうです。大日本帝国憲法の時とは大きく内容が変化しました。政治の仕組みについては、多くの国が三権分立の考え方を採用しています。日本国憲法も⑤立法権は国会、行政権は内閣、司法権は裁判所がそれぞれ担当するよう、規定しています。

生徒：日本国憲法は制定されてから70年以上改正されていないんですよ。今後、変わることはあるのでしょうか。

先生：⑥憲法改正の可能性はあると思います。すでに時代の変化に合わせて憲法を変えようという意見もあります。変えるにしても変えないにしても、大切なことは一人ひとりの国民がしっかり考え、みんなで決めていくということではないでしょうか。

※…天皇の意思を表示する文書のこと。

問1 下線部①について、日本国憲法が施行された日として正しいものを次のア～エから1つ選び、記号で答えなさい。

- ア 1945年8月15日 イ 1946年11月3日
- ウ 1947年5月3日 エ 1948年4月29日

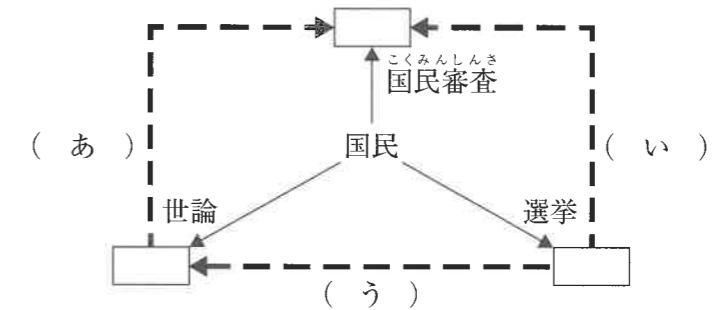
問2 文中の空らん(②)について、当てはまる語句を漢字4字で答えなさい。

問3 下線部③について、法律や政府の行為などが憲法に違反していないかどうかを判断する権限のことを何というか、漢字7字で答えなさい。

問4 下線部④について、日本国憲法に規定されている基本的人権とその内容の組み合わせとして正しいものを次のア～エから1つ選び、記号で答えなさい。

- ア 社会権：どんな宗教でも信じていることができる権利
- イ 自由権：自らの意見を表現する権利
- ウ 平等権：誰しものが健康で文化的な最低限度の生活を営む権利
- エ 環境権：騒音や大気汚染に対して国に補償を求める権利

問5 下線部⑤について、国会・内閣・裁判所の関係を表す下の図の(あ)～(う)に入る語句の組み合わせとして正しいものを次のア～カから1つ選び、記号で答えなさい。なお、□は国会・内閣・裁判所のいずれかを示しています。



- | | | | |
|---|--------------|--------------|--------------|
| ア | あ：最高裁判所長官の指名 | い：弾劾裁判所の設置 | う：内閣総理大臣の指名 |
| イ | あ：最高裁判所長官の指名 | い：内閣総理大臣の指名 | う：弾劾裁判所の設置 |
| ウ | あ：弾劾裁判所の設置 | い：最高裁判所長官の指名 | う：内閣総理大臣の指名 |
| エ | あ：弾劾裁判所の設置 | い：内閣総理大臣の指名 | う：最高裁判所長官の指名 |
| オ | あ：内閣総理大臣の指名 | い：最高裁判所長官の指名 | う：弾劾裁判所の設置 |
| カ | あ：内閣総理大臣の指名 | い：弾劾裁判所の設置 | う：最高裁判所長官の指名 |

問6 下線部⑥について、日本の憲法改正についての説明としてまちがっているものを次のア～エから1つ選び、記号で答えなさい。

- ア 憲法改正の手続きは、法律の改正手続きよりも厳しい条件となっている。
- イ 憲法改正には国民投票で、その過半数の賛成が必要となる。
- ウ 憲法が改正された場合は、天皇が国民の名で公布する。
- エ 衆議院または参議院いずれかの議院で総議員の3分の2以上の賛成が必要である。

受験番号

氏名

令和3年度 社会解答用紙

※の欄は記入しないこと

1	問1	問2	問3
	問1 (1)	(2) → → →	問2 (1) (2)
	問2 (3)	問3	問4 (1)
	問4 (2)		問5
	問6	の乱	問7 (1) (2)
	問7 (3)		※
2	問7 (4)	→ →	問8 問9 問10
	問11 (1)	古墳 (2)	問12
	問13	問14 (1)	京 (2)
	宗派	宗	人名 問16 山脈 問17 (1)
	問17 (2)	海岸 (3)	問18 う 県 え 県
	問19	問20	問21 (1) (2)
	問1	問2	問3
3	問4	問5	問6
			※

得点	※
----	---