

訂正

平成30年度 中学入試（1回）

社会

○5ページ 問13 問題文

（誤）北海道地方で……①～⑤から……

（正）北海道地方で……①～④から……

○9ページ 問6 問題文

（誤）下線部⑥について、これは 1573年におきた、……。同じ年、……

（正）下線部⑥について、これは 1572年におきた、……。翌年、……

1 次の川柳は昨年の4月以降に読売新聞に掲載された「時事川柳」です。どのような事実にもとづいてつくられた川柳でしょうか。ア～エの中からもっとも適切なものを1つ選び、記号で答えなさい。

問1 上皇を 歴史以外で 聞く平成

- ア 天皇の任期終了が近づき、特例法によって退位の準備が進められている。
- イ 天皇が高齢になられたことで、特例法によって退位の準備が進められている。
- ウ 天皇の定年制が導入され、特例法によって退位の準備が進められている。
- エ 天皇が転職を希望しているため、特例法によって退位の準備が進められている。

問2 だめだこりゃ と思って免許 返納す

- ア 近年、高齢の運転手による交通事故が社会問題化している。
- イ 近年、高齢の調理師による衛生管理が社会問題化している。
- ウ 近年、高齢の教師による不祥事が社会問題化している。
- エ 近年、高齢の医師による医療事故が社会問題化している。

問3 脱北は ミサイルだけに 許される

- ア ロシアはミサイル発射実験を頻繁に実施して、国際社会は困っている。
- イ 中国はミサイル発射実験を頻繁に実施して、国際社会は困っている。
- ウ 北朝鮮はミサイル発射実験を頻繁に実施して、国際社会は困っている。
- エ 北アイルランドはミサイル発射実験を頻繁に実施して、国際社会は困っている。

問4 アマゾンが ネコの悲鳴で 激んでる (※)

※激む…流れが悪く重苦しい雰囲気のこと

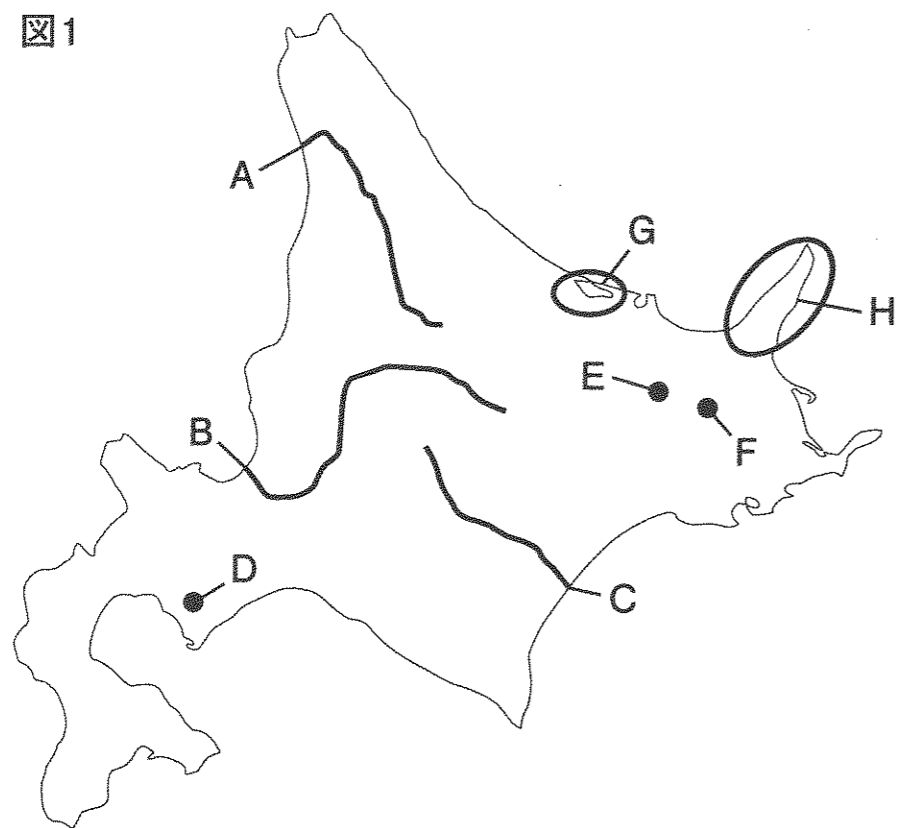
- ア 熱帯雨林のアマゾンで野生のネコが絶滅の危機に瀕している。
- イ アマゾンの森林破壊が進み、ネコの額のように狭い面積しかなくなっている。
- ウ ネット通販でネコの販売が行われているが、売れ行きは不振である。
- エ ネット通販の普及で、運送業の人手不足が深刻化している。

問5 地球より トランプの頭 冷やしたい

- ア 地球規模での温暖化の問題が深刻だが、それよりもトランプ米大統領の病気による高熱が心配である。
- イ 地球規模での温暖化の問題が深刻だが、それよりもギャンブルに依存している人たちの頭を冷やしたい。
- ウ 地球規模での温暖化の問題が深刻だが、それよりもトランプ米大統領の行動が国際社会を驚かせている。
- エ 地球規模での温暖化の問題が深刻だが、それよりも大型カジノの建設を求める国民の熱気が物凄い。

2 北海道地方について、次の各問に答えなさい。

図1



問1 図1のA～Cの河川の正しい組合せを次の①～⑥から1つ選び、番号で答えなさい。

- ① A 十勝川 B 石狩川 C 天塩川
- ② A 十勝川 B 天塩川 C 石狩川
- ③ A 石狩川 B 十勝川 C 天塩川
- ④ A 石狩川 B 天塩川 C 十勝川
- ⑤ A 天塩川 B 石狩川 C 十勝川
- ⑥ A 天塩川 B 十勝川 C 石狩川

問2 図1のD～Fの位置にある湖の正しい組合せを次の①～⑥から1つ選び、番号で答えなさい。

- ① D 洞爺湖 E 摩周湖 F 阿寒湖
- ② D 洞爺湖 E 阿寒湖 F 摩周湖
- ③ D 摩周湖 E 洞爺湖 F 阿寒湖
- ④ D 摩周湖 E 阿寒湖 F 洞爺湖
- ⑤ D 阿寒湖 E 摩周湖 F 洞爺湖
- ⑥ D 阿寒湖 E 洞爺湖 F 摩周湖

問3 図1のGの湖は日本で3番目に広い。その湖名をカタカナで答えなさい。

問4 図1のHの半島は世界自然遺産に登録されている。その半島名を漢字で答えなさい。

問5 下の表は北海道の気候の特色についてまとめたものである。各問に答えなさい。

地域	特色
太平洋沿岸	夏に海からふきつける( X )の季節風が、寒流である( Y )によって冷やされ、濃霧を発生させるため、気温が上がりにくい
オホーツク海沿岸	冬に [あ] がおし寄せ、観光船などから間近で観測することもできる
日本海沿岸	冬に湿った( Z )の季節風がふきつけるので、多く雪がふる


(1) 空らん( X )～( Z )の特色にあてはまる語句を[語群]の①～⑥から1つずつ選び、それぞれ番号で答えなさい。

[語群]


- ① 親潮 ② 黒潮 ③ 北西 ④ 北東 ⑤ 南西 ⑥ 南東

(2) 空らん [あ] に当てはまる語句を表す写真はどれか、次の写真ア～エから選び、記号で答えなさい。


ア



イ

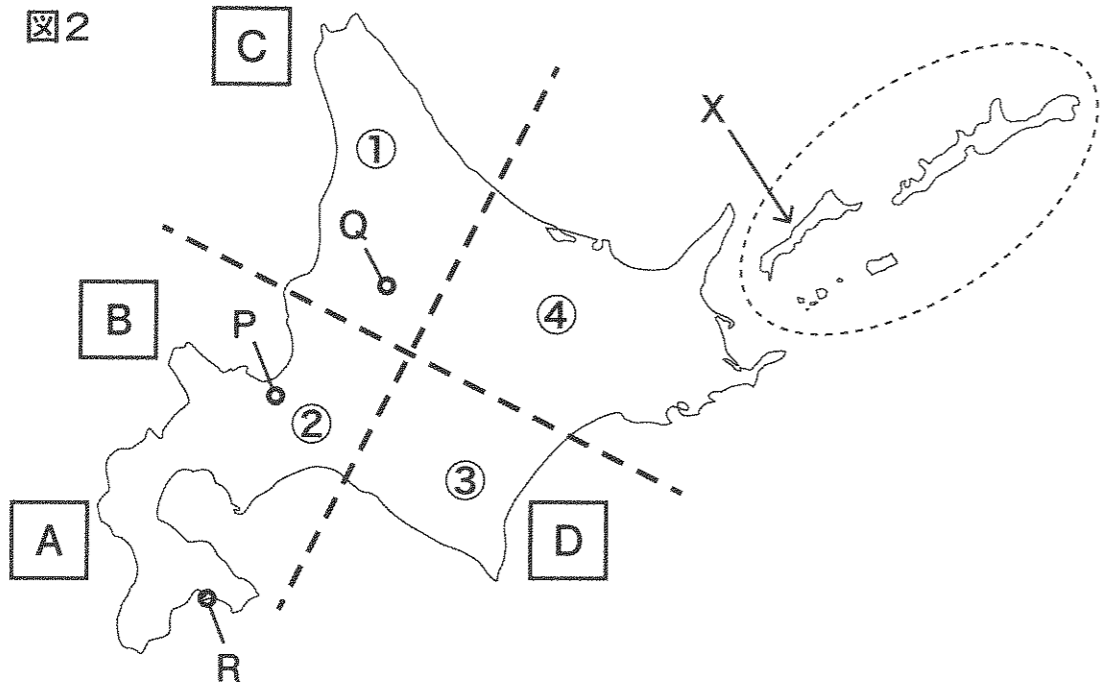


ウ



エ





問6 利尻島は図2のA～Dのどの海域に位置するか。記号で答えなさい。

問7 図2の( )で囲んだ島々を総称して何というか漢字で答えなさい。

問8 図2のXの島の名前を漢字で答えなさい。

問9 次のア～ウの地形は図2の①～④のどの地域に位置するか。それぞれ番号で答えなさい。  
 ア 根釧台地      イ 昭和新山      ウ 日高山脈

問10 次の表は北海道の人口の多い第1位から第5位の都市をあらわしている。  
 なお、表の中の( P ) ( Q ) ( R ) は図2の都市P・Q・Rを指している。

順位	第1位	第2位	第3位	第4位	第5位
都市名	( P )	( Q )	( R )	釧路市	苫小牧市

(1) ( P ) の都市名を漢字で答えなさい。

(2) ( Q ) と ( R ) の都市を説明した文として正しいものを次の①～④からそれぞれ選び、番号で答えなさい。

- ① 動物の行動展示で有名となった旭山動物園がある。
- ② 市内にある刑務所は日本で一番北に位置するものとして知られる。
- ③ メロンの産地として知られるが、2007年に事実上財政破たんした。
- ④ 国際貿易港として開港以来、西洋建築の影響を受けた建物が多くつくられた。

問11 明治時代から昭和時代初期にかけて、北海道最大の商業都市であり、現在では運河ぞいの倉庫群などが観光名所になっている都市名を次の①～④から1つ選び、番号で答えなさい。  
 ① 小樽市      ② 稚内市      ③ 室蘭市      ④ 根室市

問12 北海道にカタカナの地名が多くみられる理由として、もっとも正しいものを次の①～④から1つ選び、番号で答えなさい。

- ① 江戸時代末期に移住してきたロシア人が、開拓した土地にカタカナの地名をつけたため。
- ② 第二次世界大戦直後に、日本を占領した連合国が漢字の地名をカタカナに直したため。
- ③ 先住民の人々が使っていたアイヌ語を起源とするカタカナの地名がつけられたため。
- ④ 明治政府が江戸時代につけられた読みづらい漢字の地名をカタカナに直したため。

問13 北海道地方で生産し、出荷額が全国の85.1% (2014年) をしめる製品を次の①～⑤から1つ選び、番号で答えなさい。  
 ① タオル      ② しょう油      ③ ふとん      ④ バター

問14 北海道の農業について

(1) 北海道産のブランド米にはあてはまらないものを、次の①～④から1つ選び、番号で答えなさい。  
 ① きらら397      ② ななつぼし      ③ ササニシキ      ④ ゆめぴりか

(2) 次の農産物のうち、北海道が生産量1位のものを、次の①～④から1つ選び、番号で答えなさい。  
 ① さつまいも      ② にんにく      ③ れんこん      ④ ジャガイモ

3 今年の大河ドラマ「おんな城主 直虎」を見て興味があったので、ゆかりの地を訪ねながら、静岡方面を旅行した。次の文章を読んで、後の問に答えなさい。

町田駅から新横浜駅に向かった私は、そのまま8時21分発の①東海道新幹線ひかり463号岡山行きに乗った。東海道新幹線沿線には歴史上の名所がたくさんあって、ちょっとした映画を見ている気分になる。8時45分、ちょうど日大三中でも授業が始まる時間だが、小田原城を車窓から見てしばらく走ったところ、石橋山古戦場のわきを通った。ここは②源頼朝が平氏を倒すために挙兵したところだった。そして③世界文化遺産に登録されている富士山。信仰や絵画などの文化に大きく影響を与えたことが評価されたという。ふもとを流れる富士川では源平の戦いもあった。この富士川を上流にさかのぼっていくと、④久遠寺に行きつく。

さて、新幹線は途中、静岡駅に停車した。静岡駅を出るとすぐに大井川をわたる。現在は橋がかかっているが、江戸時代は「箱根八里は馬でも越すが、越すに越されぬ大井川」とうたわれ、交通の不便な場所であった。⑤東海道にかかる川にはいずれも橋がかけられていなかったことは知られているが、特に大井川は渡し船もなく、一般の人たちは人に背負われて渡るしかなかった。新幹線は9時31分に浜松に到着した。

駅前から延びる国道257号線を北上していくと、井伊谷方面へといたる。タクシーに飛び乗った。途中、街道沿いに⑥三方原の古戦場跡があり、ここも井伊家とも関係があるなど思いながら車窓見学。しばらく行くと蜂前神社があったので、タクシーを降りた。

この蜂前神社には、⑦今川家から発令された徳政令を、直虎が認めた際に署名した文書が残っている。この文書に残っている直虎の花押(※1)は、現存する唯一のものだという。直虎はこの徳政令の実行を2年間遅らせたことが知られており、後に責任を問われて失脚した。

さて、タクシーに戻って先に進もう。都田川をこえ、国道362号線を横切って、さらに北へと行くと、井伊谷に着く。

そもそも井伊氏は、⑧平安時代に摂関政治を展開した藤原氏一族の子孫で、中世を通して井伊谷を本拠地とした豪族であった。井伊氏の居城である井伊谷城は、現在、城山公園となっている。浜松駅から遠州鉄道バスで45分。頂上まで少し歩くと、登ってみると、井伊谷の町が一望できた。

井伊氏には他に三岳城という城がある。この城跡は、井伊谷城からさらに車で30分ほど北東へ進んだところにあるのだが、標高460m余りあるこの山城は、戦の際によく使われた。⑨南北朝時代、井伊道政は後醍醐天皇の子で当時比叡山延暦寺の長だった宗良親王をこの三岳城にむかえて、北朝と戦ったという。大河ドラマではこの城について、直虎の曾祖父にあたる直平が、今川氏にうばわれ、のちに井伊氏を今川氏に取り込むために返されたことが紹介されていた。

さて、井伊氏の居館跡や直虎の墓を見学しながら、龍潭寺に向かう。この寺は平安時代から井伊氏の先祖代々の墓所であり、直虎が僧となって、「次郎法師」の名前をさずけられた場所でもある。本堂に入るといきなり大仏が迎えてくれるが、体にずいぶんと傷がある。聞けば、⑩明治時代の廃仏毀釈(※2)のときにつけられたとか。建物や庭園は京都の禅寺に似た構造であり、みごとなものであった。

龍潭寺の前を国道320号線が通っている。井伊谷川沿いにこの道を南へ下ると、国道362号線に出る。ちょうどその交差点に気賀関所跡がある。この362号線は通称「姫街道」とよばれ、もともと⑪東海道といえばこの道を指し、関東地方と近畿地方を結んだ。中世になると浜名湖の南を通る

ルートが一般的になり、裏街道として利用されたため江戸時代に関所が設置された。それが気賀関所である。この周辺には「姫街道と⑫銅鐸の歴史民俗資料館」があるなど、社会教育の施設なども建てられている。

関所跡から歩いて10分、気賀駅から天竜浜名湖線に揺られる。略して「天浜線」。沿線には日本の原風景ともいえるのどかな風景がひろがる。さて三ヶ日駅についた。この三ヶ日には只木遺跡(※3)があって、あの⑬「三ヶ日人」が発見されたところとして知られる。発見当時は氷河時代に生きた人物の骨かもしれないと注目されたが、その後の調査で縄文時代以降の人間の骨であることがわかった。

さて、天浜線にゆられることしばらく、終点の新所原駅が見えてきた。今回の旅も終わりに近づいた。そこからは東海道線に乗り換えて、東京方面に戻ることにする。途中、高塚駅に降りた。この周辺には織物工場などが多く残っている。名産の遠州綿紬(※3)をお土産にすることにしよう。遠州綿紬は江戸時代に農家の冬仕事としてはじまったのが起源だという。「遠州」とは遠江国、現在の静岡県の西側、大井川と浜名湖にはさまれた地域をさす。気候が温暖で、綿づくりに適していたこととから一大産地となった。明治時代にはいと、⑭豊田佐吉が発明した自動織機によって全盛期を迎えたが、やがて海外製品や化学繊維におされて生産量は減少する。しかし、繊維産業を支えた機械技術は、浜松において楽器や自動車などの産業へつながる。日本を代表する自動車メーカーであるトヨタもここで誕生したのだった。

※1 花押…自分の名前を表すサインのこと。

※2 廃仏毀釈…仏教を排除して、寺や仏像をこわすこと。

※3 綿紬…真綿からその繊維を引きだし、よりをかけて糸にしたもの。着物の一種。

問1 下線部①について、東海道新幹線の開通と同時期の出来事を次のア～エから選び、記号で答えなさい。

- ア 阪神淡路大震災がおきる  
イ バブル経済と呼ばれた好景気になる  
ウ 日中平和友好条約の調印される  
エ 東京オリンピックが開催される

問2 下線部②について、

(1) 平氏政権について説明した文章ア～エから間違っているものを1つ選び、記号で答えなさい。

- ア 平清盛は1167年に太政大臣になって政権をにぎった。  
イ 保元の乱のあと、源義朝を倒して、最有力の武士となった。  
ウ 大輪田の泊を改修するなど、日明貿易を積極的に進めた。  
エ 源義経の活躍によって、平氏は壇の浦で滅んだ。

(2) この後源頼朝が開いた鎌倉幕府について述べた文ア～エから正しいものを1つ選び、記号で答えなさい。

- ア 源氏の将軍は3代で滅んだ後、執権北条氏が将軍の位についた。
- イ 全国の荘園には守護が、国ごとには地頭がおかれた。
- ウ 承久の乱を鎮圧した後、京都には六波羅探題がおかれた。
- エ 1274年の弘安の役、1281年の文永の役を総称して元寇という。

問3 下線部③に関連して、次のア～エのうち、世界遺産に登録されていないものはどれか、1つ選び記号で答えなさい。

- ア 石見銀山遺跡とその文化的景観
- イ 日光の社寺
- ウ 明治日本の産業革命遺産
- エ 古都鎌倉の寺院とその景観

問4 下線部④の久遠寺は鎌倉時代に成立した法華宗ほっけしゅうの総本山である。以下の問に答えなさい。

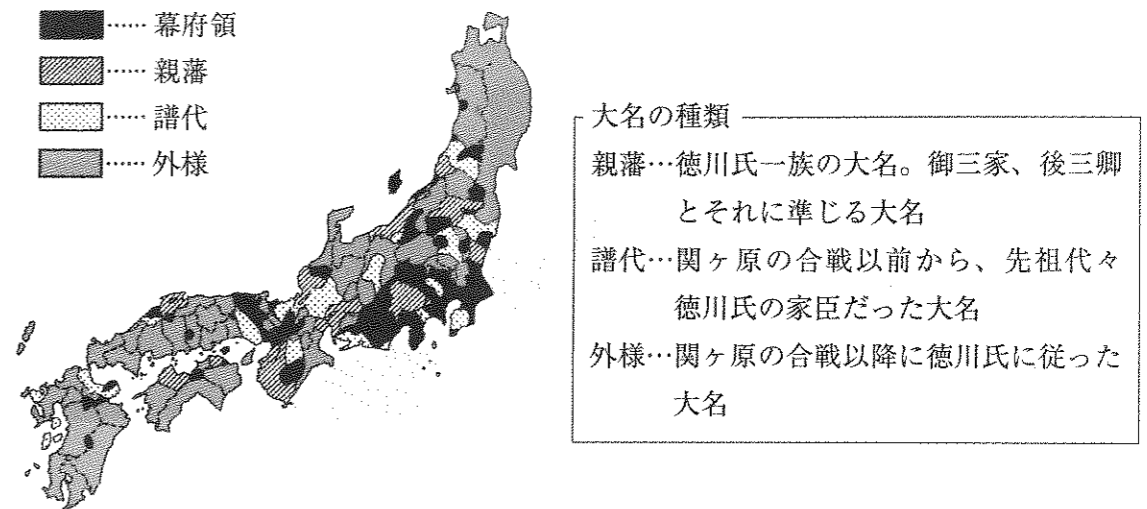
- (1) 法華宗をひらいた人物は誰か、漢字で答えなさい。
- (2) 鎌倉時代に成立した次の宗派のうち、座禅と深く関わりのあるものを1つ選び、記号で答えなさい。
- ア 時宗
  - イ 臨済宗
  - ウ 浄土宗
  - エ 浄土真宗

(3) 右の写真は鎌倉時代につくられた仏像である。製作者の名前と、安置されている寺院の組み合わせとして正しいものを、次のア～エから選び、記号で答えなさい。

- ア くらつくりのとり鞍作鳥 = 法隆寺
- イ かいけい快慶 = 建長寺
- ウ じょうちよう定朝 = 平等院鳳凰堂
- エ うんけい運慶 = 東大寺



問5 下線部⑤について、江戸時代の大名は、下の記述のようにいくつかの種類に分類されていた。また地図はそれらの大名がどこに配置されたかを示している。これらを参考にして、東海道にかかる川に橋がかけられなかった理由を説明しなさい。



問6 下線部⑥について、これは1573年におきた、武田信玄と織田・徳川連合軍の戦いである。同じ年、室町幕府15代将軍が京都を追放され、幕府が滅亡している。室町幕府最後の将軍の名前を漢字で答えなさい。

問7 下線部⑦に関連して、1428年には近江の馬借が室町幕府に徳政を要求して一揆をおこしている。この一揆の名称を答えなさい。

- 問8 下線部⑧について、
- (1) 平安時代の出来事ア～ウを年代の古い順に並べなさい。
- ア 院政の開始
  - イ 坂上田村麻呂の蝦夷征伐
  - ウ 遣唐使の廃止
- (2) 平安時代の文学作品について、次のア～エのうち、作品と作者または編集者の組み合わせとして、間違っているものを1つ選び、記号で答えなさい。
- ア 『源氏物語』 = 紫式部
  - イ 『土佐日記』 = 兼好法師
  - ウ 『枕草子』 = 清少納言
  - エ 『古今和歌集』 = 紀貫之

(3) 平安時代には仏教が滅び世の中が乱れるとする、末法思想が信じられた。そのような中で、阿弥陀あみだぶつ仏にすがれば極楽へ往生できるという信仰がひろまったが、この教えを何というか答えなさい。

問9 下線部⑨について、

- (1) 南北朝の合一は3代将軍義満の時代に実現されるが、彼が建てた金閣はどれか、次のア～エから選び、記号で答えなさい。


ア




イ



ウ



エ



- (2) この将軍が始めた中国との貿易に使用された、海賊と貿易船を区別するための合い札を何というか、漢字で答えなさい。

問10 下線部⑩について、

- (1) 明治時代の政治について述べた文ア～エのうち、間違っているものを1つ選び、記号で答えなさい。

- ア 四民平等によって、国民はすべて平等であるとし、皇族以外はすべて平民となった。  
 イ ヨーロッパの制度にならい、満25歳以上の男子が兵役につくという徴兵令を出した。  
 ウ 地租改正により、地租は土地の持ち主が地価の3%を現金で納めることになった。  
 エ 全国に小学校をつくり、3才以上の男女が義務教育を受けるという学制が出された。


- (2) 明治時代の戦争について述べた文a、bを読み、aとbが両方とも正しい場合はア、aだけが正しい場合はイ、bだけが正しい場合はウ、aとbが両方とも間違っている場合はエと答えなさい。

- a 日清戦争後、賠償金を得られなかったことから日比谷焼打ち事件がおこった。  
 b 日露戦争中、与謝野晶子は戦場の弟を心配して詩をつくり、反戦をとらえた。

- (3) 右のイラストのようなちょんまげ頭は、文明開化によってどのように変化したか、もっともふさわしいものを下のイラストA～Cから1つ選び、記号で答えなさい。




A



B

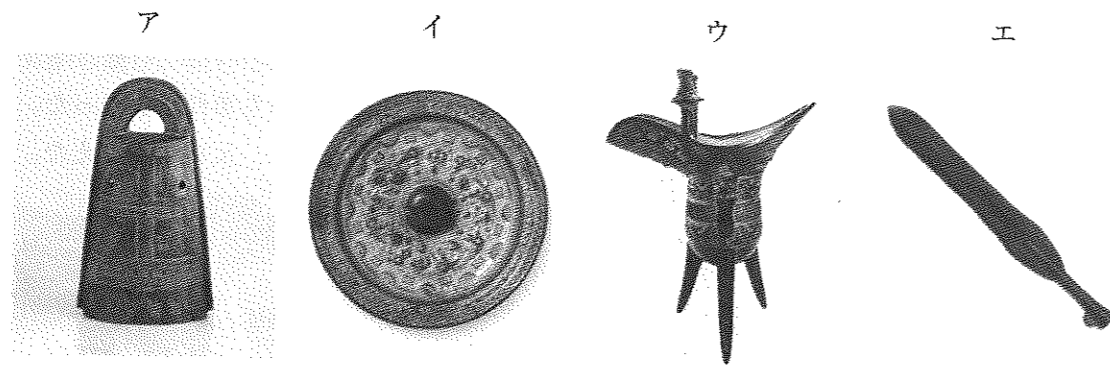


C



- 問11 下線部⑪について、五街道の名称が確定したのは、江戸幕府8代将軍吉宗の頃といわれる。吉宗の実施した政治改革を何というか、漢字で答えなさい。

問12 下線部⑫について、銅鐸はどれか、次のア～エから1つ選び、記号で答えなさい。



問13 下線部⑬について、三ヶ日では縄文時代の人類の化石が発見された。縄文時代の特色について述べた文ア～エから、正しいものを1つ選び、記号で答えなさい。

- ア 王や奴隷といった身分が存在し、それぞれに役割があった。
- イ 薄くて赤褐色で堅い土器がつくられ、調理や貯蔵に使われた。
- ウ 大型動物が全滅し、弓矢を使ってイノシシなど小型の動物を狩るようになった。
- エ 稲作が伝わり、金属製の道具が農具や祭りの道具として使われた。

問14 下線部⑭について、トヨタ自動車の創業者として知られる豊田佐吉は1930年に亡くなっている。翌1931年に日本軍は中国の柳条湖で鉄道爆破事件を起こして、この地域に独立国をつくらせて実質的にこの国を支配した。この一連の事件を何と呼ぶか、漢字で答えなさい。

問題は次のページに続く

4 次の文章は、2017年4月5日の読売新聞『わくわく新聞活用』からの抜粋です。これを読んで後の問に答えなさい。なお、文章は一部改編してあります。

国の「2016年版 障害者白書」によると、心や体などに障害がある人は、全国に約860万人います。内訳は、身体障害が約394万人、知的障害者が約74万人、精神障害者が約392万人。単純に計算すれば、国民の（A）人に1人が、何らかの障害を抱えていることになります。

B国連は、1981年を「国連障害者年」に定め、各国に障害者を支援する取り組みを促してきました。日本でも障害者が生活する上での壁を取り除き、誰もが暮らしやすい環境を整える「（C）フリー」という考えが少しずつ広まりました。D交通機関や商業施設では、障害者の安全性や利便性を高める取り組みが図られてきました。


2016年4月に、障害者差別解消法が施行されました。この法律は、E障害のある人もない人も互いにその人らしさを認め合い、共に生きる社会を目指しています。

問1 文中（A）に入る数字として、最も近いものを次のア～エから1つ選び、記号で答えなさい。

- ア. 5      イ. 15      ウ. 50      エ. 100

問2 下線部Bについて、

(1) 国連の旗として正しいものを次のア～エから1つ選び、記号で答えなさい。



(2) 安全保障理事会の常任理事国にあてはまらない国を次のア～オから1つ選び、記号で答えなさい。

- ア. 中国      イ. イギリス      ウ. イタリア      エ. ロシア      オ. アメリカ合衆国

(3) 常任理事国に認められた特別の権利で、安全保障理事会では常任理事国のうち1国でも反対すると議事が決定できない権限を何というか答えよ。

(4) 国連の専門機関で、世界の人々の健康の向上をはかるため、伝染病の撲滅や保健事業の強化、公害対策などを世界的にすすめる機関として正しいものを次のア～エから1つ選び、記号で答えなさい。

- ア. WHO      イ. ILO      ウ. IAEA      エ. UNCTAD

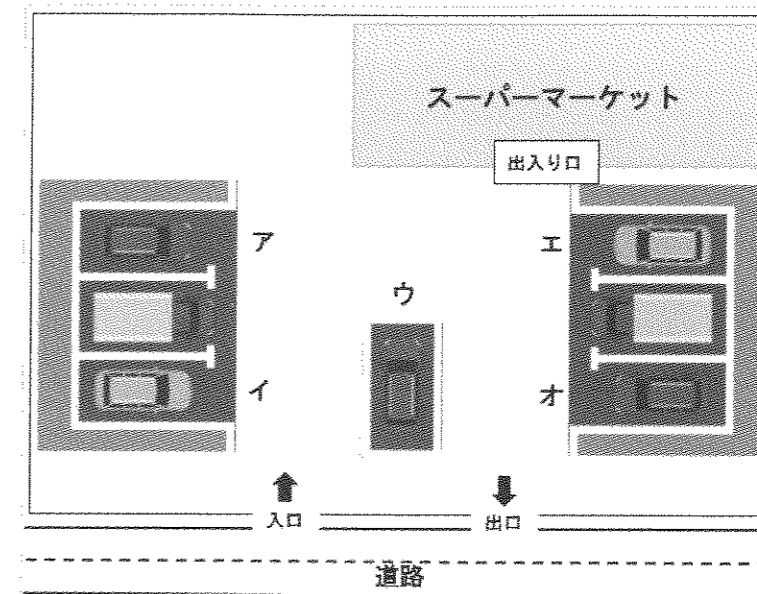
問3 文中（C）にあてはまる語句をカタカナ3文字で答えなさい。

問4 下線部Dについて、

(1) 障害者の安全性や利便性を高める取り組みとして、ふさわしくないものを次のア～エから1つ選び、記号で答えなさい。

- ア. お店のレジに耳や会話の不自由な人が使う筆談ボードを置いた。  
イ. 車椅子でも利用しやすい多機能トイレを増やした。  
ウ. 駅のホームに転落や接触事故を防ぐホームドアを設置した。  
エ. 「盲導犬お断り」の貼り紙を掲示した。

(2) 下の地図で、障害者向けの駐車スペースを設置する場所としてもっともふさわしい場所を次のア～オから1つ選び、記号で答えなさい。



問5 下線部Eについて、それぞれの障害特性や困りごとへの気づかいとして、ふさわしくないものを次のア～エから1つ選び、記号で答えなさい。

- ア. 読み上げ、手話などによるコミュニケーション、分かりやすい表現を使って説明をする。  
イ. 障害の特性に応じた休けい時間の調整などのルール・ならわしの柔軟な変更を行う。  
ウ. 障害を理由に、窓口での対応を拒んだり、順序を後回しにしたりする。  
エ. 情緒不安定になりそうなどときには、別室などの落ち着ける場所で休めるようにする。

受験番号

氏名

## 平成30年度 社会解答用紙

※の欄は記入しないこと

<b>1</b>	問1	問2	問3	問4	問5	
<b>2</b>	問1	問2	問3	問4	湖	半島
	問5 (1)	X	Y	Z	(2)	
	問6		問7		問8	島
	問9	ア	イ	ウ	問10 (1)	市
	問10 (2)	Q	R		問11	
問12		問13		問14 (1)	(2)	
<b>3</b>	問1	問2 (1)		(2)	問3	
	問4 (1)		(2)		(3)	
	問5					
	問6		問7		問8 (1)	→ →
	問8 (2)	(3)		問9 (1)	(2)	
問10 (1)	(2)		(3)	問11	の改革	
問12		問13		問14		
<b>4</b>	問1	問2 (1)		(2)	(3)	
	問2 (4)		問3	<input type="text"/>	<input type="text"/>	問4 (1)
	問4 (2)		問5			/

※
---

※
---

※
---

※
---

※
---

<b>得点</b>	※
-----------	---