

平成26年度

日本大学第三中学校入学試験問題

社 会

〔注意〕

- (1) 「始め」の合図があるまで開いてはいけません。
- (2) 解答用紙に受験番号・氏名を忘れずに記入しなさい。
- (3) 試験時間は50分です。
- (4) 「終わり」の合図があったら、解答用紙だけを提出しなさい。

1 次の川柳は昨年せんりゅうの3月以降、読売新聞よみうりしんぶんに掲載けいさいされた「時事川柳」です。どのような事実にもとづいて作られた川柳か。ア～エの中から正しいものを1つ選び、記号で答えなさい。

問1 春遠し 311が来るつら辛さ

- ア. 3月は春まで遠いが、花粉の季節である。くしゃみや鼻水で辛い日々がまた巡めぐって来る。
- イ. 3月は春まで遠いが、卒業式の季節である。長年付き合ってきた先輩たちとの辛い別れがある。
- ウ. 3月11日の東日本大震災から復興した。春が待ち遠しいが、当時を思い出すと大変辛い。
- エ. 3月11日の東日本大震災。復興がはかどっていない。本当の春は来るのかと思うと辛い。

問2 スーチーをみて日本の平和知る

- ア. ノーベル平和賞を受賞した中国のスーチーさん。政治的な自由がない状態が続いている。彼女の厳しい状況を知れば知るほど、日本の国の平和の良さを知る。
- イ. ノーベル平和賞を受賞した北朝鮮のスーチーさん。政治的な自由がない状態が続いている。彼女の厳しい状況を知れば知るほど、日本の国の平和の良さを知る。
- ウ. ノーベル平和賞を受賞したミャンマーのスーチーさん。政治的な自由がない状態が続いている。彼女の厳しい状況を知れば知るほど、日本の国の平和の良さを知る。
- エ. ノーベル平和賞を受賞した韓国のスーチーさん。政治的な自由がない状態が続いている。彼女の厳しい状況を知れば知るほど、日本の国の平和の良さを知る。

問3 中国の土足に激怒する白書

- ア. 尖閣諸島付近の日本の領海の中に、しばしば入ってくる中国の軍艦。防衛白書も怒っている。
- イ. 尖閣諸島付近の日本の領海に、大量の汚れた靴を投げ入れる中国人。国民生活白書も怒っている。
- ウ. 竹島付近の日本の領海の中に、しばしば入ってくる中国の軍艦。防衛白書も怒っている。
- エ. 靴を脱がなければいけない所に土足で入ってくる中国人。国民生活白書は怒っている。

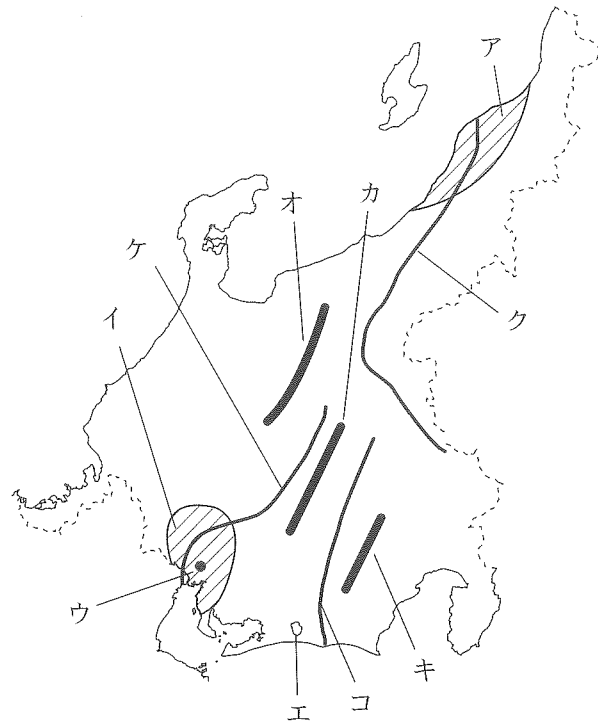
問4 ヨーイからドンまで長い北の国

- ア. 北の方の国では、気温が低いので火が付きにくい。そのためヨーイからドンまでが少し長い。
- イ. 北ヨーロッパのある国は、周りの国に用意をさせ、警戒をさせてからドンとミサイルを撃つ。
- ウ. 北朝鮮はミサイルを撃つぞと見せかけて、相手にプレッシャーをかけて優位に立ちとうとする。
- エ. 日本の北にある中国は、用意周到の国であり、点検と確認を充分におこなってから実行する。

問5 食い溜めたをしたい増税前の秋

- ア. いよいよ消費税が6%に上がる。その前に食い溜めをしておきたい気分である。
- イ. いよいよ消費税が7%に上がる。その前に食い溜めをしておきたい気分である。
- ウ. いよいよ消費税が8%に上がる。その前に食い溜めをしておきたい気分である。
- エ. いよいよ消費税が9%に上がる。その前に食い溜めをしておきたい気分である。

2 中部地方について、次の地図を見て、あとの間に答えなさい。



問1 A～Iの文章について、(1)～(3)の問題に答えなさい。

- A 周辺を堤防でかこまれた では稲作がさかんであり、合掌造りで有名な白川郷は世界文化遺産に登録されている。
- B この県は水田単作地帯で、日本有数の米どころとなっている。(1)島では保護センターを作り、トキの人工繁殖を進めている。
- C この県の台地や丘陵地では、みかんと茶の栽培がさかんである。 市では製紙・パルプ工業が発達し、 市ではオートバイ・楽器の生産がさかんである。
- D (2)半島が日本海につきでている県で、輪島ぬりや加賀友禅などの伝統産業が発達している。
- E (3)盆地でぶどう・ももの栽培がさかんである。県内を 自動車道が通り、各地の生産物を運ぶトラックや観光地に向かうバス・乗用車が利用している。
- F この県は(4)工業地帯の中心で、工業生産額は日本一である。 市は自動車工業の中心地で、ここで生産された自動車は海外にも輸出されている。
- G 神通川流域で1960年代に とよばれる公害病が発生し、四大公害の1つとなった。農業では水田率が高く、日本一になっている。

H この県ではりんごの生産がさかんで、日本で第2位である。(5)湖の周辺では精密機械・電子機械工業が発達している。

I 中部地方で一番人口が少ない県であり、リアス海岸の(6)湾一帯には原子力発電所が集中している。

(1) 次のA～Iの文章があらわす県名を漢字で答えなさい。

(2) 文章中の空欄(1)～(6)にあてはまる語句を漢字で答えなさい。

(3) 文章中の空欄 ～ にあてはまる語句を、次の語群から1つずつ選び、番号で答えなさい。

- 語群 ①関越 ②中央 ③上信越 ④富士 ⑤豊橋 ⑥豊田
 ⑦瀬戸 ⑧沼津 ⑨浜松 ⑩輪中 ⑪埋立地 ⑫干拓地
 ⑬水俣病 ⑭イタイイタイ病 ⑮新潟水俣病 ⑯四日市ぜんそく

問2 地図中のア・イの平野名を漢字で答えなさい。

問3 地図中のウの都市は中部地方の政治・経済・文化の中心である。この都市名を漢字で答えなさい。

問4 地図中のエの湖名を漢字で答えなさい。また、この湖で養殖されている有名なものを次の①～④から選び、番号で答えなさい。

- ①うなぎ ②かき ③ほたて貝 ④わかさぎ

問5 地図中のオ～キの山脈の組み合わせを次の①～⑥から1つ選び、番号で答えなさい。

- ① オ. 赤石山脈 カ. 木曾山脈 キ. 飛驒山脈
 ② オ. 赤石山脈 カ. 飛驒山脈 キ. 木曾山脈
 ③ オ. 木曾山脈 カ. 飛驒山脈 キ. 赤石山脈
 ④ オ. 木曾山脈 カ. 赤石山脈 キ. 飛驒山脈
 ⑤ オ. 飛驒山脈 カ. 赤石山脈 キ. 木曾山脈
 ⑥ オ. 飛驒山脈 カ. 木曾山脈 キ. 赤石山脈

問6 地図中のク～コの川の組み合わせを次の①～⑥から1つ選び、番号で答えなさい。

- | | | | |
|---|--------|--------|--------|
| ① | ク. 木曾川 | ケ. 信濃川 | コ. 天竜川 |
| ② | ク. 木曾川 | ケ. 天竜川 | コ. 信濃川 |
| ③ | ク. 信濃川 | ケ. 木曾川 | コ. 天竜川 |
| ④ | ク. 信濃川 | ケ. 天竜川 | コ. 木曾川 |
| ⑤ | ク. 天竜川 | ケ. 木曾川 | コ. 信濃川 |
| ⑥ | ク. 天竜川 | ケ. 信濃川 | コ. 木曾川 |

3

2013年のNHK大河ドラマの「八重の桜」は、「幕末のジャンヌ・ダルク」、「日本のナイチンゲール」などと呼ばれた新島八重を描いたものであった。「私」はこのドラマを見る中で、新島八重という人物にあらためて関心を持ち、休みの日を利用して、彼女のゆかりの地に実際に行き、彼女の「足跡」をたどってみた。

【A】

新島八重は、江戸時代末期から明治時代にかけて生きた女性である。まず「私」は、八重が生まれ、幼少期を過ごした①会津に向かった。会津は②1955年に会津若松市に市名を変更し、現在に至っている。2011年3月に起きた③「東日本大震災」で被害を受けた街でもある。

八重は、その会津で砲術師範であった兄の影響を受け、男子に交じって砲術や射撃の知識や技術を取得した、ちょっと変わった女性であった。④戊辰戦争が起きると、断髪・男装して若松城に立てこもり、自ら銃を構えて新政府軍と戦っている。

この戊辰戦争の時に会津藩が組織したのが⑤16歳から17歳の武士の男子により構成された部隊であり、中には13歳の少年もいたという。会津藩は若松城（鶴ヶ城）を守るために必死の抵抗をするのだが、新政府軍の軍事力に圧倒されてしまう。この部隊の二番隊が飯盛山にたどり着き、鶴ヶ城の方を見ると天守閣が黒い煙に包まれていた。「もはやこれまで」と思った彼らおよそ20名は、全員切腹をしてしまったのである。

この悲劇は語り継がれ、その霊をなぐさめるために、今でも年に2回春と秋に慰霊祭が行われているとのことである。

【B】

「八重桜は何ととっても青森ですよ」——電車の中で新島八重の話をしていたところ、真向かいの年配の男性が突然私に話しかけてきた。時はちょうど5月の下旬。「今なら、何千と咲いている八重桜を見ることが出来ますよ。」——「桜ではなく、人間の話です」と言うこともできず、ついつい⑥東北新幹線に乗ってしまった。

青森の弘前城は、秋田県の角館と岩手県の北上景勝地と並んで「みちのく三大桜名所」のひとつである。園内にはソメイヨシノや八重桜など50品種以上、約2600本余りの桜が咲き乱れていた。

せっかく青森まで来たので、前から行かなければと思っていた縄文時代の遺跡である（1）遺跡を訪ねた。大型の竪穴住居と、巨大なクリの木を6本立てた、“掘っ立て柱”の建物が予想以上の迫力であった。この遺跡の様子が明らかになったのは1994年頃であるが、この発見が、従来からの縄文時代の認識を大きく変えることになった。この地で人間は、今から5500年前から1500年間の長い間にわたって定住生活をしていたということが分かったのである。

ところで、青森県は（2）海峡に2つの半島が突き出ているが、向かった先は（2）半島である。この半島出身の作家である太宰治の生家に行ってみることにした。彼は実際に自著の『（2）』を執筆するため、1944年に25日間かけてこの地を旅行しているのである。次の日は太平洋側にある隣の下北半島に向かった。⑦江戸時代には、

この地より海産物を北前船で長崎まで運んでいたという。

【C】

新島八重は、兄を頼って⑧京都に移住するのであるが、そこで運命的な出会いが待っている。同志社大学の創立者として知られている新島襄との出会いである。新島襄はアメリカの友人に八重のことを「ハンサムウーマン」（美しい行いをする人）と紹介している。この二人は結婚し、同志社大学の発展に助力したが、新島襄は1890年に他界する。

八重はその後京都に住み続け、⑨日清戦争、日露戦争が起こると、看護婦として現地に行っている。戦場に女の人が行くことは全く考えられなかった時代であるが、そんな時代の常識に対して、八重は勇敢に立ち向かうのだった。

晩年、八重は仏教の禅宗に興味を持ち、建仁寺をたびたび訪れている。建仁寺は栄西によって1202年に開かれた、(3) 宗建仁寺派の総本山である。栄西は当時の中国の(4) で学問を修め、帰国後は京都に寺を開くことを望み、当時の(5) 幕府の将軍であった源頼家の力を借りて、この地に建仁寺を建立したのである。

次に向かった所は、貴船神社である。「どうして」と思うかもしれないが、貴船神社は水の神様であり、2013年の夏は豪雨災害もあったのでお参りをした方が良かったのである。また、貴船神社は観光スポットとして、常に高い評価を得ているのである。そして、⑩平安京遷都以来、水源を守る神様として皇室からも崇敬を受けてきた。平安の女流歌人である和泉式部も参拝しているとのことである。

※ 砲術師範……西洋式の鉄砲や大砲の使い方を教える教師のこと。

問1 空らん(1) ~ (5) に当てはまる語句を漢字で答えなさい。

問2 下線部①について、私が最初に向かったのは何県か、県名を漢字で答えなさい。

問3 下線部②について、次のア～エのうち1955年以前のできごとを1つ選び、記号で答えなさい。

- ア. 日ソ共同宣言 イ. 東京オリンピック
ウ. 日中平和友好条約 エ. 朝鮮戦争

問4 下線部③について、以前に日本は関東大震災を経験した。この頃の日本で普及していないものを、次のア～エから1つ選び、記号で答えなさい。

- ア. ガス灯 イ. テレビ ウ. 鉄道 エ. 新聞

問5 下線部④について、「戊辰戦争」の過程で江戸城が無血開城された。これを進めた幕府側の人物は誰か、漢字で答えなさい。

問6 下線部⑤の部隊は何か、次のア～エから選び、記号で答えなさい。

- ア. 紅虎隊 イ. 玄武隊 ウ. 白虎隊 エ. 赤報隊

問7 下線部⑥について、東北新幹線はどれか、次のア～エから選び、記号で答えなさい。

- ア. つばめ イ. のぞみ ウ. とき エ. はやぶさ

問8 下線部⑦について、(1)～(3)の間に答えなさい。

(1) 江戸幕府2代将軍秀忠の名前で発布された、大名や旗本を統率するための法律の名称を答えなさい。

(2) 長崎は貿易港として重要な位置にあるが、江戸時代の鎖国において、唯一貿易が認められたヨーロッパの国はどこか、次のア～エから選び、記号で答えなさい。

- ア. ドイツ イ. イタリア ウ. オランダ エ. フランス

(3) 老中の田沼意次は、株仲間をすすめ、長崎貿易を盛んにするなど、商人の経済力を利用した政策を行った。この頃おこったききんとして正しいものを次のア～エから1つ選び、記号で答えなさい。

- ア. 享保のききん イ. 天保のききん ウ. 寛政のききん エ. 天明のききん

問9 下線部⑧について、京都に幕府がおかれた時代について、次の(1)～(3)に答えなさい。


(1) その幕府の初代将軍の名前を漢字で答えなさい。

(2) この時代に、石川県の浄土真宗の信者たちが武士と組んで大名を倒し、100年間の自治をおこなった。この一揆は何か答えなさい。

- ア. 加賀の一向一揆 イ. 天文法華一揆
ウ. 正長の土一揆 エ. 山城の国一揆

(3) 右の図版はこの時代に成立した芸能で使用するものである。この芸能と関係の深い人物を次のア～エから1つ選び、記号で答えなさい。

- ア. 運慶 イ. 雪舟
ウ. 足利義政 エ. 世阿弥



問10 下線部⑨について、(1)～(3)の問いに答えなさい。

(1) 日清戦争後に結んだ下関条約について、正しいものを次のア～エから1つ選び、記号で答えなさい。

ア. 朝鮮は清に服属することになった。

イ. この条約が結ばれたのは1894年である。

ウ. 清は日本に賠償金として3億円を支払うことになった。

エ. 日本は領土を得ることはできなかった。

(2) 日清戦争の後に三国干渉がおこる。三国の組み合わせとして正しいものを次のア～エから選び、記号で答えなさい。

ア. ロシア・ドイツ・イタリア

イ. フランス・イタリア・ドイツ

ウ. ドイツ・ベルギー・イギリス

エ. ドイツ・ロシア・フランス

(3) 日露戦争に対して、キリスト教徒の立場から戦争反対を唱えたのは誰か、次のア～エから1つ選び、記号で答えなさい。

ア. 与謝野晶子

イ. 内村鑑三

ウ. 幸徳秋水

エ. 小林多喜二

問11 下線部⑩に関連して、平安時代について次の(1)～(3)の問いに答えなさい。

(1) 平安京遷都は何年か、答えなさい。

(2) 平安時代に「この世をば わが世とぞ思う 望月の 欠けたることも 無しと思えば」
とうたった人物は誰か、漢字で答えなさい。

(3) 平安京から福原京へ遷都を実行した、平安時代後半に太政大臣として政権を握った人物は誰か、漢字で答えなさい。

4

日本大学の創設者である山田顕義^{あきよし}は、明治維新を担い、近代日本の基礎を築いた人物である。彼に関連した内容の文章【A】と、明治時代および現在の政治についての文章【B】を読んで、後の問いに答えなさい。

【A】

彼の生まれ故郷である①山口県の萩市^{はぎ}は、②明治維新で大いに活躍をした人材を輩出している町でもある。山田顕義もそのうちの一人であるが、13歳で藩校の明倫館^{めいりんかん}で学び、14歳で松下村塾の門下生になっている。そこで吉田松陰をはじめ、多くの人たちから先進的な学問を学び成長していった。

松下村塾はJR山陰本線の東萩駅から歩くことができる距離にある。現在は松陰神社が建立されており、松下村塾はその境内^{けいだい}に保存されている。松陰神社は、明治40年に松下村塾出身の③伊藤博文^{いとうひろふみ}らによって建立されたという。ただ、松陰がこの松下村塾において指導した期間は、わずか2年に満たない短いものであった。しかし、松陰の教えに導かれて、久坂玄瑞^{くさかげんずい}や高杉晋作^{たかすぎんさく}が明治維新のさきがけとなり、伊藤博文、木戸孝允^{きとたかよし}といった者達が明治政府のさまざまな役職につき、日本の近代化を担っていった。たとえば伊藤博文は、④明治憲法制定の中心的役割を果たした。山田顕義は、明治政府が成立したすぐ後に、日本の軍隊を近代的なものにするために活躍した。また、1885年に最初の内閣である第1次伊藤博文内閣が成立すると、司法大臣をつとめ、さまざまな法律の整備に貢献するのである。

【B】

第二次世界大戦後、GHQによる占領をうけた日本は、「非軍事化」と「民主化」の方針で改革がされることになった。その「民主化」をすすめる上で、新しい日本国憲法の制定が最大の課題であった。

明治憲法では、主権は天皇にあり、天皇が国の元首として国の統治権をもち、軍隊を統率するとされた。内閣は天皇に対して責任をもち、議会に対しては責任がなかった。しかし、日本国憲法では、⑤三大原則を柱とし、天皇を国民の象徴と位置づけ、また戦争を放棄した。国会を国権の最高機関として、内閣は国会に対して責任を負う、⑥議院内閣制が採用された。

民主政治では、国民全員が直接政治に参加する直接民主制が理想であるが、人口が多いなど規模が大きい国は難しい。そこで、国民が選んだ代表者の集まりである議会で決められた(⑦)に基づいて、行政が政治を行う間接民主制が日本では採用されている。

政治には、立法、行政、司法の3つのはたらきがある。この三権が集中すると、強大な権力になり、国民の自由と権利をおびやかす可能性がある。そこで、三権をそれぞれ⑧国会、内閣、裁判所という独立した機関が担当し、お互いに行き過ぎのないように関わり合って政治を行うしくみとなっている。

問1 下線部①について、戦国時代に山口県を中心とする地域を治めた、「三本の矢」の話で知られる戦国大名は何という一族か、次のア～エから選び、記号で答えなさい。
 ア. 長曾我部氏 ちやうそ しかへ イ. 尼子氏 あまご ウ. 竜造寺氏 りゅうぞうじ エ. 毛利氏

問2 下線部②について、明治維新は明治初めの一連の諸改革である。ア～エの改革を年代順に並べなさい。
 ア. 大政奉還 イ. 五箇条の御誓文
 ウ. 廃藩置県 エ. 富国強兵（徴兵令）

問3 下線部③について、伊藤博文は初代の総理大臣である。現在の憲法の総理大臣について述べた次の文章のうち、正しいものを1つ選び、記号で答えなさい。
 ア. 総理大臣は4年間つとめなければならない。
 イ. 総理大臣は衆議院議員の中から選ばなければならない。
 ウ. 総理大臣は参議院議員の中から選ばなければならない。
 エ. 総理大臣は文民でなければならない。

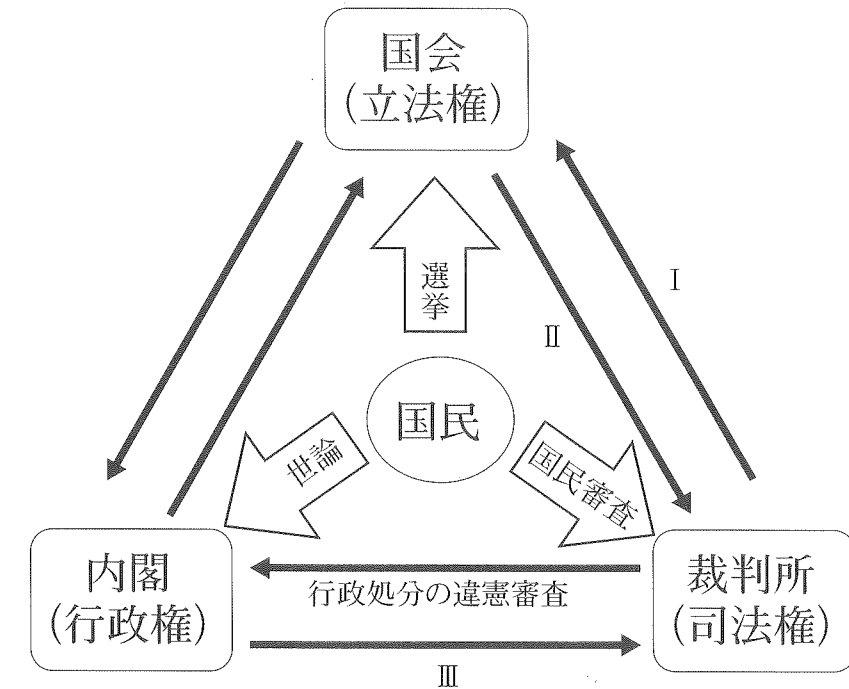
問4 下線部④について、明治憲法は、どこの国の憲法を見本としてつくられたか、次のア～エから選び、記号で答えなさい。
 ア. フランス イ. ドイツ ウ. イギリス エ. アメリカ

問5 下線部⑤について、三大原則ではないものを次のア～エから1つ選び、記号で答えなさい。
 ア. 平和主義 イ. 基本的人権の尊重 ウ. 国民主権 エ. 象徴天皇制

問6 下線部⑥について、次のア～エの文章のうち、国会と内閣の関係について述べたものとして正しいものを1つ選び、記号で答えなさい。
 ア. 衆議院が内閣の不信任決議をした場合は、必ず総辞職しなければならない。
 イ. 参議院が内閣の不信任決議をした場合は、必ず総辞職しなければならない。
 ウ. 内閣は行政権の行使にあたって、衆議院に対してのみ連帯して責任を負う。
 エ. 総理大臣の指名で、衆議院と参議院の意見が分かれた場合は、衆議院が優先される。

問7 空らん（⑦）にあてはまる語句を答えなさい。

問8 下線部⑧について、国会・内閣・裁判所の機能を表した次の図版のⅠ～Ⅲにあてはまるものを、ア～カから選び、それぞれ答えなさい。



- ア. 違憲立法審査権 イ. 国会の召集 ウ. 議会の解散
 エ. 弾劾裁判所の設置 オ. 最高裁判所長官の指名 カ. 内閣不信任決議

受験番号

氏名

平成26年度 社会解答用紙

※の欄は記入しないこと

1	問1	問2	問3	問4	問5	※	
	2	問1	A 県	B 県	C 県		
			(1) D 県	E 県	F 県		
			G 県	H 県	I 県		
		(2)	1	2	3		
			4	5	6		
		(3)	あ	い	う	え	お
	問2	ア 平野	イ 平野	問3	市	※	
	問4	湖名 湖	番号	問5	問6		
	3	問1	1	2	3		
4			5	問2 県			
問3		問4	問5	問6	問7		
問8		(1)	(2)	(3)	問9 (1)		
問9		(2)	(3)	問10 (1)	(2)	(3)	
問11	(1)	年	(2)	(3)			
4	問1	問2	→ → →	問3	問4	問5	※
	問6	問7	問8	I	II	III	※

得点	※
----	---