

平成25年度

日本大学第三中学校入学試験問題

# 社 会

〔注意〕

- (1) 「始め」の合図があるまで開いてはいけません。
- (2) 解答用紙に受験番号・氏名を忘れずに記入しなさい。
- (3) 試験時間は50分です。
- (4) 「終わり」の合図があったら、解答用紙だけを提出しなさい。

1 次の川柳は昨年せんりゅうの4月以降、読売新聞けいせいに掲載された「時事川柳」です。どのような事実にもとづいて作られた川柳でしょうか。ア～エの中から最も正しいと思われるものを1つ選び、その記号を答えなさい。

① 踏み入れば 喝采かつさい浴びる 島がある

- ア、ベトナムとその領有権を巡って争っている尖閣諸島に上陸しただけで英雄視される。
- イ、韓国とその領有権を巡って争っている尖閣諸島に上陸しただけで英雄視される。
- ウ、ロシアとその領有権を巡って争っている尖閣諸島に上陸しただけで英雄視される。
- エ、中国とその領有権を巡って争っている尖閣諸島に上陸しただけで英雄視される。

② メイドイン 次にジャパンが 続かない

- ア、メイドイン ジャパンの製品が、私たちの身の周りから以前よりも少なくなってしまった。
- イ、メイドインとは、「冥土めいどに入ること」であり、それを恐れて日本に来ない外国人が増えている。
- ウ、日本への愛国心が全体的に低くなっているため、メイドインの次に「ジャパン」と言えない人が多い。
- エ、国際社会の時代においてメイドイン世界の感覚が重要である。どこで作ったのかは関係ない。

③ オレオレの 相変わらずの 被害額

- ア、「オーレ、オレオレオレ」と大声で歌ったことによる騒音被害は相当な額になるようだ。
- イ、「オレだよ、オレだよ」と言って息子のふりをしてお金をだまし取る事件は相変わらず減らない。
- ウ、「カフェオレ」のにせ物が大量に市場に出回っており、その被害額は相当な額になるだろう。
- エ、「ぼく」と言わないで「オレ」という悪い言葉が広まっており、相手に対するその精神的被害額は相当な額になるだろう。

④ ミサイルに お腹なかすいたと 書いてあり

- ア、韓国が飛ばした軍事ミサイル。自国民は満足に食糧を得ていないようである。
- イ、中国が飛ばした軍事ミサイル。自国民は満足に食糧を得ていないようである。
- ウ、北朝鮮が飛ばした軍事ミサイル。自国民は満足に食糧を得ていないようである。
- エ、ロシアが飛ばした軍事ミサイル。自国民は満足に食糧を得ていないようである。

⑤ 竹島の 日韓戦は 願い下げ

- ア、竹島を巡って対立している日本と韓国。戦争による決着だけは考えないようにしている。
- イ、竹島を巡って対立している日本と韓国。中国の仲介による決着だけを考えないようにしている。
- ウ、竹島を巡って対立している日本と韓国。経済的な力による決着を考えないようにしている。
- エ、竹島を巡って対立している日本と韓国。サッカーによる決着を考えている。



(2) 東京都でさかんな工業で、都心部に集中しているものを次の①～④から1つ選び、番号で答えなさい。

- ①機 械      ②化 学      ③食 品      ④印刷・出版

(3) 東京都に属す沖ノ鳥島は日本の南端に位置している。この島について説明している文を次の①～④から1つ選び、番号で答えなさい。

- ①この島の近くに海底油田がある可能性もあって、中国が領土権を主張し、外交問題になっている。  
②第2次世界大戦の激戦地で、戦後アメリカ合衆国から返還されたが、自衛隊の基地があるだけで住民はいない。  
③波による侵食により日本の排他的経済水域を失わないようにコンクリートで補強されている。  
④亜熱帯性の気候で、さとうきび・パイナップルなどの栽培がさかんである。

問6 地図中のF県について、次の(1)～(3)の各問に答えなさい。

(1) 次の文はこの県のある地域のことを説明している。あてはまる地名を漢字2字で答えなさい。

火山活動によってできた山や湖があり、江戸時代には東海道の関所が置かれ、山道がけわしい難所といわれた。周辺には温泉が多く、国際的な観光保養地として有名である。

(2) ㊦にはある魚介類の水あげで有名な漁港がある。その魚介類とは何か。あてはまるものを次の①～④から1つ選び、番号で答えなさい。

- ①い か      ②まぐる      ③さんま      ④さ け

(3) この県を通っていない鉄道はどれか、次の①～④から1つ選び、番号で答えなさい。

- ①京王相模原線      ②西武拝島線      ③小田急小田原線      ④東急田園都市線

問7 地図中のG県について、次の(1)～(3)の各問に答えなさい。

(1) おもにD県との境を流れ、太平洋に注ぐ㊦の川の名前を漢字で答えなさい。

(2) 1978年にこの県の台地上に国際空港が開港した。この空港がつくられた台地を次の①～④より1つ選び、番号で答えなさい。

- ①武蔵野台地      ②常陸台地      ③下総台地      ④牧ノ原台地

(3) ㊦と㊧の都市ではある共通した生産物が有名である。あてはまる生産物を次の①～④より1つ選び、番号で答えなさい。

- ①み そ      ②ビール      ③しょうゆ      ④梅ぼし

3

2012年はNHKの大河ドラマで、「平清盛」が放映されている。そこには勇猛心と先見性を武器に、日本初の武家政権を樹立した武士、平清盛の生涯が描かれていた。

「私」はこのドラマを見る中で、清盛という人物にあらためて関心をもった。そこで休みの日を利用して、彼のゆかりの地に赴き、彼の「足跡」をたどってみた。

【A】

大河ドラマは①源頼朝の回想シーンから始まった。「清盛なくして、武士の世は来なかった。……」。そのあと時代が②11世紀末の平安時代にさかのぼり、舞台も京都に移る。清盛は52歳で神戸の福原に移るまで、京都を中心に活躍していた。

「そうだ、京都へ行こう」とふと思ってしまったのである。

京都に着いて、最初に向かった先は③【ろくはら】蜜寺である。ここには、清盛を弔うため、「清盛塚」や五輪塔があり、彼にとって関係が深い寺となっている。さらに、この付近は、鎌倉幕府により④【たんだい】が置かれるなど、中世史跡の宝庫でもある。そこで、妙法院三十三間堂、法住寺、新熊野神社など、清盛と関係のある寺社を見学した。

その後、「疲れたな」と思いながら、自分の健康の祈願のために、稲荷山にある伏見稲荷大社に向かった。この大社は、日本全国約3万社の「お稲荷さん」の総本宮である。お稲荷さんは、衣食住の守護神として、私達の身近に存在する神さまである。稲荷大社は古事記が編纂された頃、この地にご鎮座されたということなので、およそ( ⑤ )年の歳月が流れている。

【B】

清盛は、⑥大輪田泊を整備をし、中国との正式な国交を開く。遣唐使が廃止されてから279年ぶりのことである。

清盛は、海外を強く意識していたといわれる⑦織田信長や坂本龍馬が歴史の舞台に登場する前に、すでに海の向こうの大陸に視線を向けていた武将の一人だった。そんな彼にあこがれて、ゆかりの地をめぐってみることにした。

まず、広島に足を向けた。⑧安芸の宮島がある。この島に建つ厳島神社の創建は推古天皇の時代と伝わるが、中世になって日本と中国の貿易に目をつけた清盛によって、海の守り神として改修・整備されている。ちなみに、厳島神社は平成8年に⑨世界遺産に登録されている。

瀬戸内海の航路を中国船が行き交うことになる。清盛が支配する瀬戸内海はおだやかで、航路として適しているとの判断があった。日本から金、銀、砂金、真珠などを輸出。中国からは中国銭を中心に産品や文化を輸入し、平氏の経済的基盤となってゆく。

私も実際に厳島神社に行ってみた。予想をはるかに超えるその大きさに驚くと同時に、大鳥居が海の中にそびえ立つその姿にしばし見とれてしまった。現地のガイドさんの案内によると、現在の大鳥居はクスノキの自然木を使った高さ16メートルに達するとのこと。⑩明治時代に再建され、国の重要文化財になっている。

【C】

京都では向かうところ敵なしの清盛が、一目置いたのが奥州の藤原氏であった。当時の藤原氏は、平家に並ぶ北の王者。清盛との接点は、中国との貿易である。清盛は奥州の藤原氏が掘り出した「金」を⑪当時の中国との交易に使った。当時は「金」が日本の重要な輸出品であった。奥州藤原氏は初代の清衡から4代目の泰衡まで4代100年にわたって栄華をきわめ、平泉は京都に次ぐ日本第二の都市であった。戦乱が続き荒廃する京都とは対比的に、平泉は発展を続けた。

ところで、平泉の「金文化」を支えたと伝えられている金鉱山は岩手県の今出山、玉山などである。そして、その南隣の県である宮城県気仙沼市の鹿折、大谷から金が産出した。それらは、平泉から東方に位置する三陸海岸沿岸に並んでいる。宮城県の南には東日本大震災の時に大きな被害を受けた(⑫)県がある。がれきの処理が遅れているとのことであるが、ひとりの日本人としてその惨状の一端でも見ておく義務があると思っていたし、三陸の(⑬)海岸を前から見てみたいと思っていた。世界遺産に登録された平泉にもまだ行ったことがなかったので、いい機会と考えて⑭東北新幹線に飛び乗ってしまった。ちなみに、平泉の世界遺産登録は、東北初の世界文化遺産であり、2007年の⑮石見銀山以来4年ぶりであった。

ところで、3代目の秀衡は頼朝に追われた義経をかくまっている。秀衡が活着している間は、義経は安全であったが、秀衡の死後、息子の泰衡は頼朝の要求を拒みきれず、義経を自殺に追い込んでその首を頼朝に引き渡してしまった。弱気の外交は、結局最後は悲劇になるということであろう。

問1 下線部①について、(1)(2)の各問に答えなさい。

- (1) 将軍である源頼朝と御家人は御恩と奉公の関係で結ばれた。「いざ鎌倉」とは、「御恩」「奉公」のどちらの内容を示しているか答えなさい。
- (2) 鎌倉時代の出来事ア～エを、年代の古い順に並び替えて記号で答えなさい。
  - ア. 後醍醐天皇の命令を受けた新田義貞によって鎌倉が攻められた。
  - イ. 御成敗式目がつくれ、政治や裁判のよりどころが示された。
  - ウ. 最初の元寇がおこり、北条時宗が防衛の指揮をした。
  - エ. 後鳥羽上皇が幕府を滅ぼすために、承久の乱を起こした。

問2 下線部②は院政期にあたるが、1159年に挙兵した源氏を、平清盛が鎮圧した事件は何か答えなさい。

問3 下線部③の【ろくはら】を漢字に直しなさい。

問4 下線部④の【たんだい】を漢字に直しなさい。

問5 空らん(⑤)にあてはまる数字を、次のア～エから選び、記号で答えなさい。

- ア. 900                      イ. 1100                      ウ. 1300                      エ. 1500

問6 下線部⑥について、(1)～(4)の各問に答えなさい。

- (1) 大輪田泊は現在のどこの港に当たるか、次のア～エから1つ選び、記号で答えなさい。

ア. 横須賀港                      イ. 神戸港                      ウ. 広島港                      エ. 堺港
- (2) 「中国との正式な国交」とあるが、現代において、中国と日中共同声明を出し、大戦以来途絶えていた国交を回復させた当時の首相は誰か、次のア～エから選び、記号で答えなさい。

ア. 田中角栄                      イ. 佐藤栄作                      ウ. 小泉純一郎                      エ. 吉田 茂
- (3) 遣唐使が廃止されたのは何世紀か答えなさい。
- (4) 今から279年さかのぼると、江戸時代の8代将軍徳川吉宗の時代になる。吉宗の政治の特徴を説明した文として間違っているものを次のア～エから1つ選び、記号で答えなさい。

ア. 目安箱を設置し、ひろく庶民に意見を求めた。

イ. 上げ米の制を定めて、大名から米を上納させ、幕府の財政に役立てた。

ウ. 飢饉に備えて、農民に穀物を蓄えさせる囲い米の制を実施した。

エ. 青木昆陽を登用し、さつまいもの栽培を奨励した。

問7 下線部⑦について、(1)(2)の各問に答えなさい。

- (1) 織田信長について説明した次のア～エの文章のうち、正しいものを1つ選び、記号で答えなさい。

ア. 最初キリスト教を保護したが、後に禁教に転じ、バテレン追放令を出した。

イ. 配下の大名に領地の支配を認め、幕藩体制をしいて全国を支配した。

ウ. 関白・太政大臣として全国統一を進め、北条氏を滅ぼした。

エ. 楽市令を出して商業を発展させる一方、堺を直轄地として経済力を手に入れた。
- (2) 坂本龍馬について説明した次のア～エの文章のうち、正しい内容を1つ選び、記号で答えなさい。

ア. 土佐藩出身で、肥前藩と薩摩藩の同盟を仲立ちした。

イ. 長州藩出身で、薩摩藩と土佐藩の同盟を仲立ちした。


ウ. 土佐藩出身で、長州藩と薩摩藩の同盟を仲立ちした。

エ. 長州藩出身で、肥前藩と土佐藩の同盟を仲立ちした。


問8 下線部⑧について、(1)(2)の各問に答えなさい。

(1) 厳島神社はどれか、次のア～エから選び、記号で答えなさい。


ア.




イ.



ウ.



エ.



(2) 推古天皇の摂政として活躍した人物は誰か、漢字で書きなさい。

問9 下線部⑨について、日本にある世界遺産のうち、日本で初めて登録された遺産は何か、次のア～エから選び、記号で答えなさい。

ア. 熊野古道    イ. 首里城    ウ. 原爆ドーム    エ. 法隆寺

問10 下線部⑩について、(1)(2)の各問に答えなさい。

(1) 明治時代の外交について、次の出来事を年代の古い順に並べ替えなさい。

- ア. 日露戦争がおこる。
- イ. 関税自主権が回復する。
- ウ. 日英同盟が結ばれる
- エ. 三国干渉をうける。

(2) 右の写真の人物は黄熱病を研究している最中に命を落とした科学者である。現在千円札の肖像にもなっているこの人物の名前を漢字で答えなさい。



問11 下線部⑪について、当時の中国の王朝名(国名)を、次のア～エから選び、記号で答えなさい。

ア. 明    イ. 隋    ウ. 宋    エ. 唐

問12 ( ⑫ ) にあてはまる県名を答えなさい。

問13 ( ⑬ ) にあてはまる語句を答えなさい。

問14 下線部⑭について、次のア～エは東北新幹線が通る駅である。このなかで一番北に位置する駅はどこか、記号で答えなさい。

ア. 盛岡    イ. 仙台    ウ. 八戸    エ. 新白河

問15 下線部⑮について、(1)(2)の各問に答えなさい。

(1) 石見銀山から産出した銀を使って、徳川家康は海外との貿易をおこなった。家康が発給した貿易の許可状を何というか、次のア～エから1つ選び、記号で答えなさい。

ア. 勘合符    イ. 黒印状    ウ. 信牌<sup>しんぱい</sup>    エ. 朱印状

(2) この銀山がある都道府県はどこか、次のア～エから1つ選び、記号で答えなさい。

ア. 鳥取県    イ. 島根県    ウ. 山口県    エ. 京都府

4 次の文章を読んで、後の問に答えなさい。

世界中の国と地域を代表し、1つの都市に集まった選手たちが繰り広げるスポーツの祭典。世界はそれを見て4年に1度、世界が1つで多様なことを確認する。①オリンピックには、そういう意義もあるのだろう。

1896年、②ギリシアのアテネを第1回の開催地として始まった近代オリンピックが、ずっとそうだったわけではない。

まず当初は、参加国のほとんどが欧米諸国だった。たとえば前々回のロンドンオリンピック（1908年/第4回大会）では、参加した22の国と地域のうち、18が欧米諸国。

また20世紀の終盤までは、戦争や政治対立が、主要国の不参加、あるいは大会そのものの中止につながったことも少なくない。③前回のロンドン大会（1948年/第14回大会）は、（④）大戦のために、第12回、第13回の両大会が中止になった後に開かれた大会だった。大戦の余韻が残り、（⑤）の影響が出始めるなか、この大会にはドイツと日本が招待されず、ソ連は参加を棄権した。（⑤）中、ソ連のアフガン侵攻をめぐって、米ソ両陣営の諸国がボイコットに<sup>おうしゅう</sup>応酬した80年の（⑥）大会と84年の（⑦）大会のことはより記憶に新しい。

今回のロンドン大会（第30回大会）には、4年前の（⑧）大会と並び過去最多、204の国と地域から約1万人の選手たちが集まった。過去2回のロンドン大会とは異なり、世界が1つであることを確かに感じさせる祭典になった。

考えてみるとイギリスは、⑨産業革命と海外発展（帝国主義）、議会制民主主義の政治制度や英語および英語文化の普及などで、世界を1つにすることに大きな役割を果たした国である。華やかな開会式は、イギリスが、その意味でオリンピック開催国にふさわしいことをアピールしているように思えた。

この開会式を見て私は、オリンピックの東京再招致をぜひ実現してほしいと思うようになった。日本は100年前のストックホルム大会でアジア最初のオリンピック参加国になった。⑩前回のロンドン大会の後に開かれた東京大会は、アジア初、欧米と豪州以外で開かれた初のオリンピックだった。

20世紀後半におけるアジアの<sup>こうりゅう</sup>興隆は、世界の多様性を大きく発展させた。日本はそれをリードしたが、⑪ソウル、そして（⑧）というアジアでの2つの大会を経たいま、かつての東京大会は、そのリードを象徴する祭典だったと考えることもできよう。

坂元一哉「世界のかたち、日本のかたち」（産経新聞 2012.8.11）

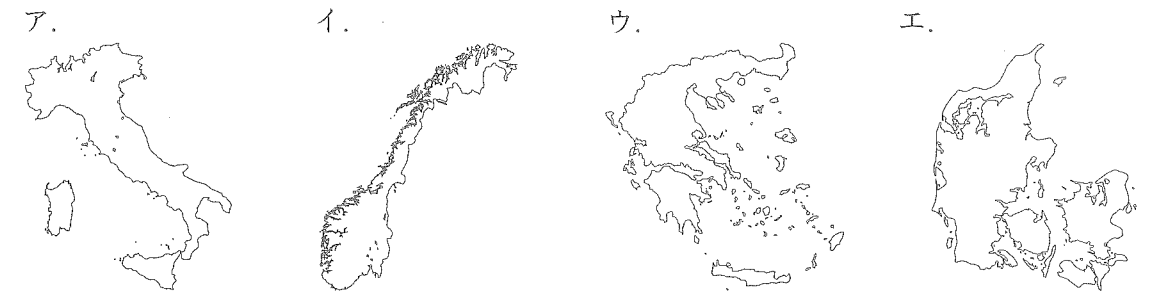
（一部加筆修正）

※応酬…先方からしてきたことに対してやり返すこと。

※興隆…勢いが盛んになること。

問1 下線部①に関連して、オリンピックと同じ年に同じ場所で開かれる障がい者を対象とした世界最高のスポーツ競技大会を何というか答えなさい。

問2 下線部②のギリシアはどれか、次のア～エから1つ選び、記号で答えなさい。



問3 下線部③について、前回のロンドン大会の開催年を元号で答えなさい。

問4 （④）について、あてはまる言葉を入れなさい。ただし、漢字5文字で答えること。

問5 （⑤）の中にあてはまる言葉を次の中から選び、その記号を答えなさい。

ア. 熱戦      イ. 冷戦      ウ. ゲリラ戦      エ. 内戦

問6 （⑥）にソ連（現在のロシア）の都市名が入る。正しいものを次の中から選び、その記号を答えなさい。

ア. モスクワ      イ. ソチ  
ウ. サンクトペテルブルグ      エ. ウラジオストク

問7 （⑦）にアメリカの都市名が入る。正しいものを次の中から選び、その記号を答えなさい。

ア. ロサンゼルス      イ. アトランタ      ウ. シカゴ      エ. サンフランシスコ

問8 （⑧）に中国の首都名を答えなさい。

問9 下線部⑨について、産業革命がおこった時期として正しいものを、次のア～エから1つ選び、記号で答えなさい。

ア. 16世紀～17世紀      イ. 17世紀～18世紀  
ウ. 18世紀～19世紀      エ. 19世紀～20世紀

問10 下線部⑩について、東京オリンピック大会は何年に開催されたか答えなさい。西暦で答えても、元号で答えてもよい。

問11 下線部⑪について、「ソウル」はある国の首都である。国名を漢字で答えなさい。

受験番号

氏名

白大三中

平成25年度 社会解答用紙

※の欄は記入しないこと

1	①	②	③	④	⑤	※
	問1 (1)	山脈 (2)	市 (3)			
2	問2 (1)	県 (2)	(3)			
	問3 (1)	(2)	(3)	問4 (1)	(2)	(3)
	問5 (1)	区 (2)	(3)	/		
	問6 (1)	(2)	(3)			
	問7 (1)	川 (2)	(3)			
3	問1 (1)	(2)	→ → →	問2		
	問3	問4	問5			
	問6 (1)	(2)	(3)	世紀 (4)		
	問7 (1)	(2)	問8 (1)	(2)		
	問9	問10 (1)	→ → →	(2)		
	問11	問12	県	問13		
	問14	問15 (1)	(2)	/		
問1	問2	問3	年			
4	問4	問5	問6	問7		
	問8	問9	問10	年		
	問11	/				

得点	※