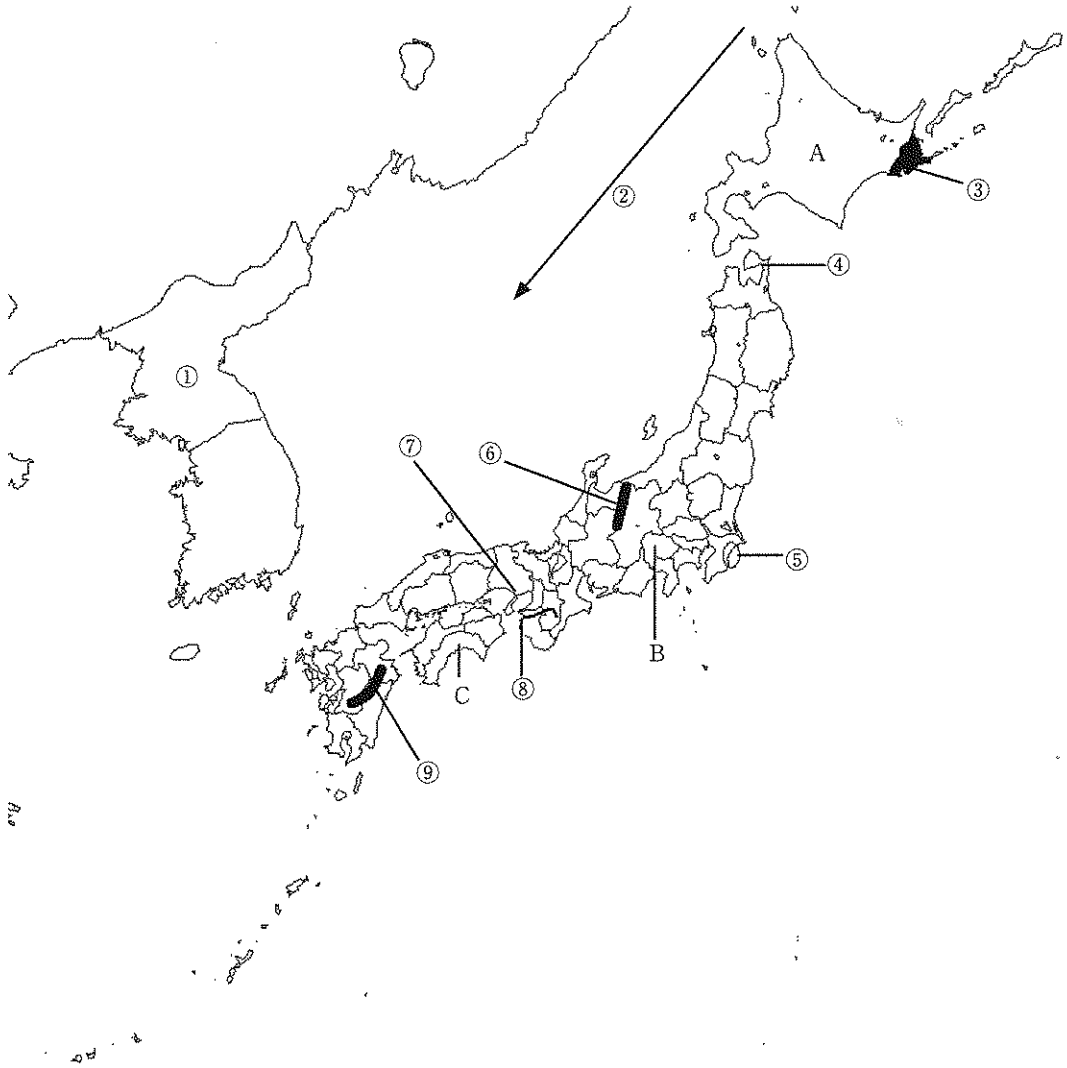


1 地図をみて、下の各問いに答えなさい。



※「CraftMAP」(<http://www.craftmap.box-i.net/>)より作成

問1 ①の正式な国名、②の海流名、③の台地名、④の半島名、⑥・⑨の山地・山脈名、⑧の河川名を答えなさい。

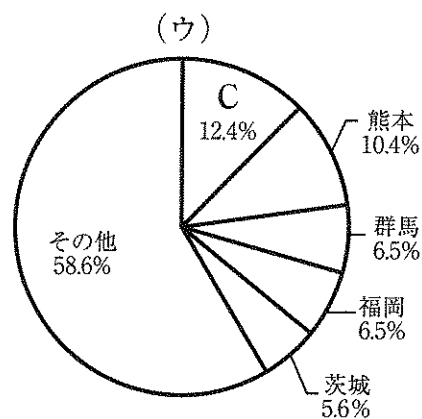
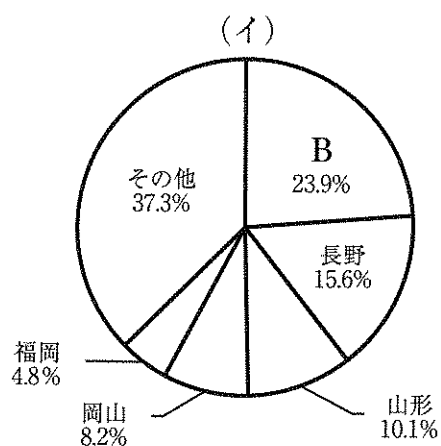
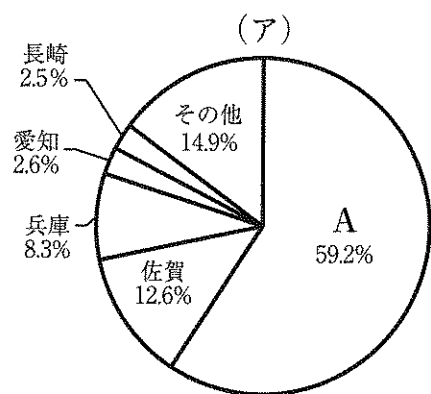
問2 ⑤の海岸にはどんな地形がみられるか。下から選んで答えなさい。

リアス式海岸	砂浜	サンゴしょう	うめ立て地
--------	----	--------	-------

問3 ⑦は日本の標準時の基準となる東経135度に位置する都市である。この都市名を漢字で答えなさい。

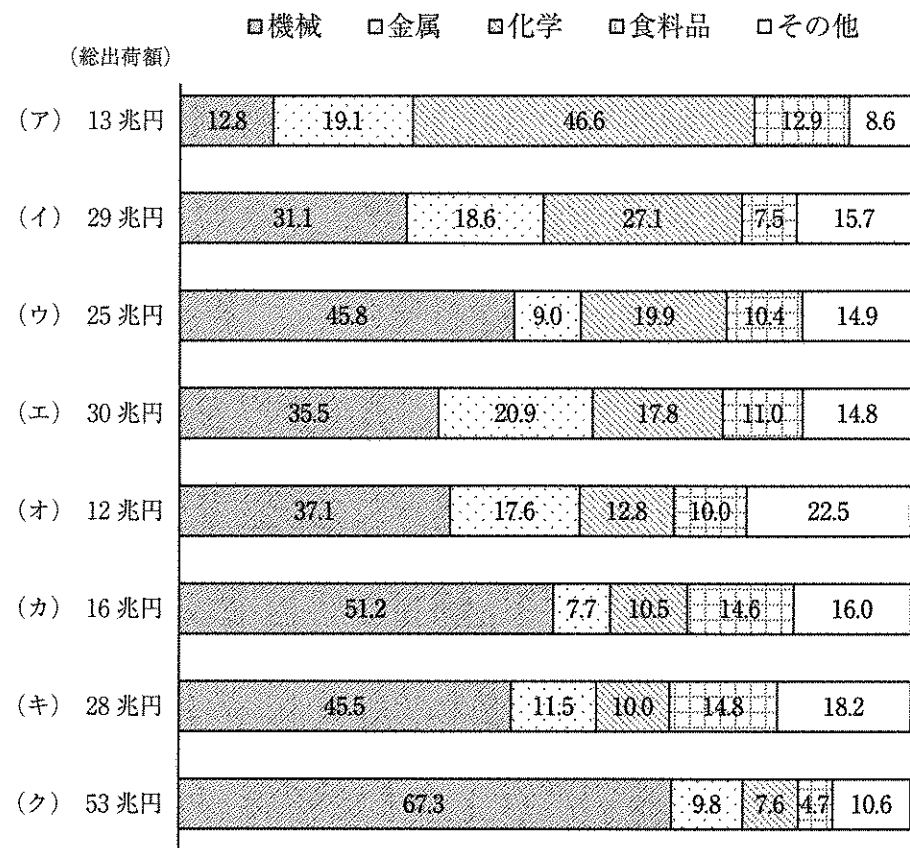
問4 下の(ア)～(ウ)のグラフは地図中A・B・Cの都道府県が全国1位の生産量をほこる農作物を(2014年)表している。グラフ(ア)～(ウ)の農作物を次から選んでそれぞれ答えなさい。

なす キャベツ たまねぎ りんご ぶどう 日本なし



※矢野恒太記念会『日本のすがた2016』より作成

2 次のグラフは日本の主な工業地帯・工業地域の工業出荷額のうちわけ(2013年)を示している。グラフをよく見て、(ア)～(ク)にあてはまる工業地帯・工業地域を<語群>から選び、記号で答えなさい。なお、グラフ中の数字は各工業の総出荷額にしめる割合を表している。



※矢野恒太記念会『日本のすがた2016』より作成

<語群>

A 京浜工業地帯	B 阪神工業地帯	C 中京工業地帯
D 北陸工業地域	E 瀬戸内工業地域	F 関東内陸工業地域
G 京葉工業地域	H 東海工業地域	

3 次の年表を用いて、下の各問いに答えなさい。

年代	できごと
紀元前5世紀ごろ	米づくりが伝わる……………①
672年	壬申の乱がおこる……………②
794年	平安京に都が移る……………③
1232年	執権北条泰時が(A)を定める……………④
1338年	室町幕府が成立する……………⑤
1588年	豊臣秀吉が(B)をおこなう……………⑥
	↑ ↓ C……………⑦
1853年	ペリーがやってくる……………⑧
1894年	日清戦争がおこる……………⑨
1918年	米騒動がおこる……………⑩

問1 ①について。大きな水田のあとが見つかった静岡県の遺跡は何ですか。正しいものを次の(ア)～(エ)から1つ選び、記号で答えなさい。

- (ア) 吉野ヶ里遺跡 (イ) 三内丸山遺跡
(ウ) 岩宿遺跡 (エ) 登呂遺跡

問2 ②について。この戦いに勝って改革を進めた天皇は誰ですか。漢字4文字で答えなさい。

問3 ③について。このときの天皇は誰ですか。漢字4文字で答えなさい。

問4 ④について。空らん(A)は裁判の判決の基準となるものです。空らん(A)にあてはまる語句を漢字5文字で答えなさい。

問5 ⑤について。将軍を助ける役職としておかれたものは何ですか。漢字2文字で答えなさい。

問6 ⑥について。空らん(B)によって、農民の持っていた鉄砲や刀などの武器が取り上げられました。空らん(B)にあてはまる語句を漢字2文字で答えなさい。

問7 ⑦について。次の(ア)～(エ)はいずれも矢印Cの時期におこったできごとですが、年代順に並べたものではありません。これを年代順に正しく並べかえたとき、3番目になるものはどれですか。記号で答えなさい。

- (ア) 島原の乱がおこる (イ) 天保の改革が行われる
(ウ) 関ヶ原の戦いがおこる (エ) 生類憐みの令が出される

問8 ⑧について。1854年に結ばれた、下田と函館を開港することを決め、鎖国が終わることになった条約は何ですか。漢字6文字で答えなさい。

問9 ⑨について。日清戦争の講和条約として結ばれた下関条約の内容として正しいものを、次の(ア)～(エ)から1つ選び、記号で答えなさい。

- (ア) 日本は領事裁判権を撤廃した
(イ) 南樺太を日本の領土とする
(ウ) 南満州鉄道が日本の所有となった
(エ) 台湾を日本の領土とする

問10 ⑩について。米騒動の後、初の本格的な政党内閣を組織した人物は誰ですか。漢字2文字で答えなさい。

4 次の文の (1) ~ (4) に適する語句や数字を答え、下の各問いに答えなさい。

1946年 a 11月3日に公布され、翌年 b 5月3日に施行された現在の憲法は、次の三原則を大切な柱として成り立っています。

一つ目は (1) です。これは、国の政治をどのように進めるかを定める最高の力は、国民が持っているということです。以前の憲法では、国の元首である天皇が持っていたものですが、現在では天皇は国民全体のまとまりをあらわす (2) とされ、政治に関する権利はいっさいもっていません。

二つ目は、c 基本的人権の尊重です。この憲法では、「すべての基本的人権の享有を妨げられない」とし、「侵すことのできない永久の権利として、現在及び将来の国民に与えられる」と定められています。

三つ目は (3) です。これは、憲法第 (4) 条の中で、外国との間の争いを解決する手段としては、永久に戦争や武力を用いることをやめ、陸海空軍などの戦力をもたず、交戦権を認めないことを宣言しています。

問1 下線部 a と b は、それぞれ国民の祝日になっています。それぞれの祝日の名称を正しい漢字を用いて答えなさい。

問2 下線部 c は、「人が生まれながらにもっている、おかしことのできない人間としての権利」です。この権利に関して、下の①・②に答えなさい。

① すべての国民は、人種・信条・性別・身分などによって差別されないという権利を〇〇権といいます。〇〇に当てはまる漢字2文字を答えなさい。

② 1948年12月10日、フランス・パリで開かれた国際連合の総会で、「あらゆる人と国が達成しなければならない共通の基準」として採択され、すべての人間が生まれながらに基本的人権を持っているということを、初めて公式に認めた宣言の名称を漢字6文字で答えなさい。

問3 「戦争は人の心の中で生まれるものであるから、人の心の中に平和のとりでを築かなければならない。相互の風習と生活を知らないことは、人類の歴史を通じて世界の諸人民の間に疑惑と不信を起こした共通の原因であり、この疑惑と不信の為に、諸人民の不一致があまりにもしばしば戦争となった。(一部)」という前文からはじまる憲章にもとづいて発足した国際連合の専門機関の名称を、カタカナ4文字で答えなさい。

問4 世界でただ一国、原子爆弾の被害を受けた日本は、核兵器については「持たず、つくらず、持ち込ませず」ということを国の方針としています。これを何というか答えなさい。

社会解答用紙 4科第1回	受験番号		氏名	

得点

※ 解答らんには、答えのみを記入しなさい。

1	問1 ①	②		
	③	④	⑥	
	⑨	⑧	問2	
	問3 市	問4 (ア)	(イ)	(ウ)

2	(ア)	(イ)	(ウ)	(エ)	(オ)	(カ)	(キ)	(ク)
---	-----	-----	-----	-----	-----	-----	-----	-----

3	問1	問2	問3	
	問4		問5	問6
	問7	問8	問9	問10

4	(1)	(2)	(3)
	(4)	問1 a	b
	問2 ①	②	
	問3	問4	