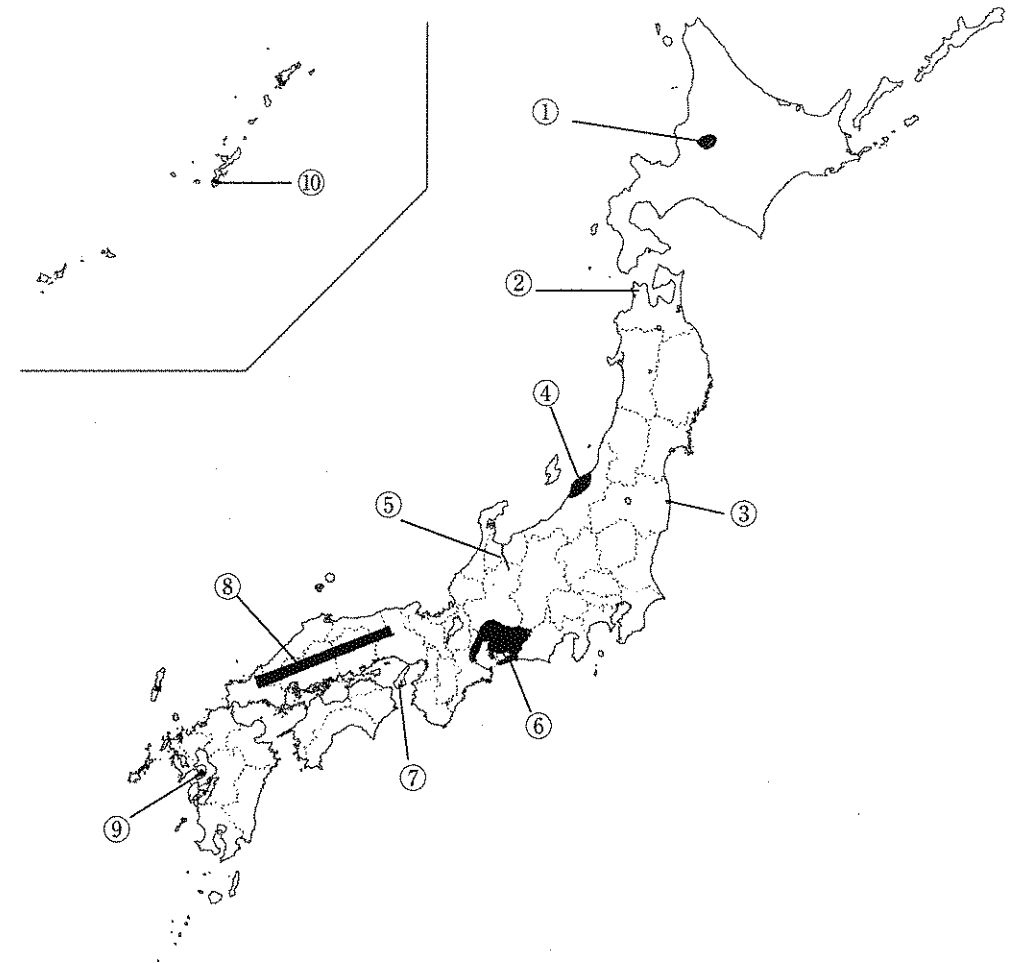


1 地図をみて、下の各問いに答えなさい。



問1 旭川市がある①の盆地名を漢字で答えなさい。また、①の盆地を流れる北海道で一番長い河川名を漢字で答えなさい。

問2 ②の半島の名称を漢字で答えなさい。また、②の半島のある県で全国一位の生産量をほこる「くだもの」(2014年)を下から選びなさい。

みかん・りんご・おうとう・ぶどう・かき

問3 ③は2011年の東日本大震災で事故をおこした原子力発電所です。この原子力発電所の名称を下から選びなさい。また、この事故以降、発電量が急激に増えた発電の種類の名を漢字で答えなさい。

川内・敦賀・東海・福島第一・柏崎刈羽

問4 ④の平野名を漢字で答えなさい。また、④の平野のある県で全国一位の収穫量をほこる農作物を答えなさい。

問5 ⑤の河川名を下から選びなさい。また、⑤の河川の流域で、鉱山から流れ出た排水が原因で起こった公害病の名称を答えなさい。

神通川・阿賀野川・雄物川・利根川

問6 ⑥の工業地帯名を漢字で答えなさい。また、⑥の工業地帯で工業出荷額がもっとも多い工業の種類を下から選びなさい。

化学工業・金属工業・食料品工業・機械工業・よう業

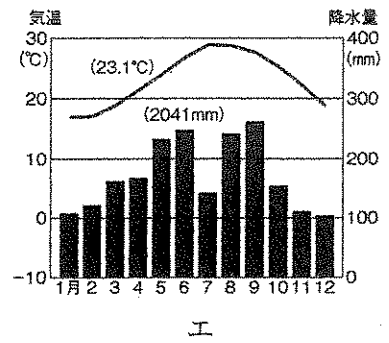
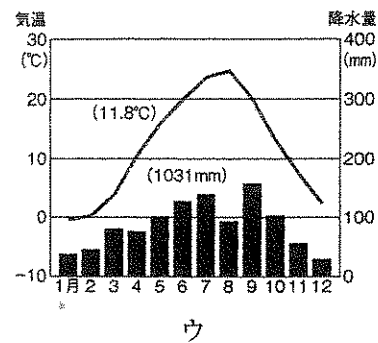
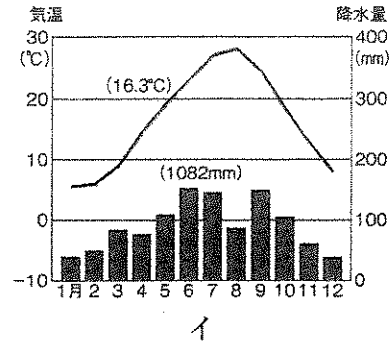
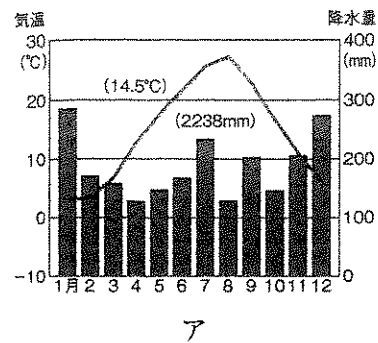
問7 ⑦の島名を漢字で答えなさい。また、⑦の島の都道府県名を漢字で答えなさい。

問8 ⑧の山地名を漢字で答えなさい。また、⑧の山地の南側の地方を何と言いますか。漢字2文字で答えなさい。

問9 ⑨の火山名を下から選びなさい。また、⑨の火山のある県で全国一位の生産量をほこる「くだもの」(2014年)を答えなさい。

御岳(桜島)・御嶽山・雲仙普賢岳・阿蘇山

問10 ⑩は沖縄県の県庁所在地です。都市名を漢字で答えなさい。また、⑩の都市の雨温図として正しいものを次のア～エから1つ選び、記号で答えなさい。



※矢野恒太記念会『日本のすがた2016』より

2 次の年表を用いて、下の各問いに答えなさい。

年代	できごと
239年	邪馬台国の女王が中国に使いをおくる ……………①
607年	遣隋使を中国におくる ……………②
630年	遣唐使を中国におくる ……………③
	↕A ……………④
1401年	足利義満が日明貿易をはじめる……………⑤
1641年	鎖国が完成する……………⑥
1837年	モリソン号事件がおこる ……………⑦
1894年	日清戦争がおこる
1904年	日露戦争がおこる……………⑧
1914年	第一次世界大戦がおこる……………⑨
1941年	太平洋戦争がおこる……………⑩

- 問1 ①について。邪馬台国の女王とは誰ですか。漢字3文字で答えなさい。
- 問2 ②について。中国のすぐれた制度や文化を取り入れるために、中国に渡った人物は誰ですか。漢字4文字で答えなさい。
- 問3 ③について。9世紀初め唐から帰った空海が開いた仏教の宗派は何ですか。漢字3文字で答えなさい。

問4 ④について。次のア～エはいずれも矢印Aの時期におこったできごとですが、年代順に並べたものではありません。これを年代順に正しく並べかえたとき、3番目になるものはどれですか。記号で答えなさい。

- ア 平安京がつくられる                      イ 元が襲来する  
ウ 聖武天皇が国分寺を建てた              エ 保元の乱がおこる

問5 ⑤について。明が貿易船と倭寇を区別するために使わせた合札は何ですか。漢字2文字で答えなさい。

問6 ⑥について。キリスト教の布教をおこなっているという理由で、1639年、来航が禁止された国はどこですか。カタカナ5文字で答えなさい。

問7 ⑦について。このときに、幕府の鎖国政策を批判した蘭学者として正しいものを、次のア～エから1つ選び、記号で答えなさい。

- ア 近松門左衛門                      イ 高野長英  
ウ 杉田玄白                              エ 井原西鶴

問8 ⑧について。日露戦争の講和条約として結ばれたポーツマス条約の内容として正しいものを、次のア～エから1つ選び、記号で答えなさい。

- ア 日本は下田・函館を開港した  
イ 台湾を日本の領土とする  
ウ 韓国に対する日本の支配権を認める  
エ 日本は関税自主権を回復した

問9 ⑨について。⑨のきっかけとなった、オーストリアの皇太子が殺された事件を何というか。カタカナ4文字で答えなさい。

問10 ⑩について。日本の海軍はハワイのどこを攻めて太平洋戦争が始まりましたか。漢字3文字で答えなさい。

③ 次の文を読んで、下の各問いに答えなさい。

日本の最初の選挙は、1890年の〔A〕議員選挙で、選挙権資格は、( 1 ) 歳以上の男子で、一定額の税金をおさめた者だけでした。

1925年に普通選挙法が成立し、税金の額に関係なく( 1 ) 歳以上の男子に選挙権が与えられ、総人口の20%が選挙権をもつようになりました。

第二次世界大戦後の民主化で、( 2 ) 歳以上の男女すべてに選挙権が与えられることになり、総人口の約50%が選挙権をもつようになりました。

2016年7月10日に行われた、第24回〔B〕議員通常選挙から、投票できる年齢が( 3 ) 歳以上になり、70年ぶりで選挙権の拡大となりました。

問1 ( 1 ) ～ ( 3 ) に当てはまる数字を答えなさい。

問2 〔A〕、〔B〕に当てはまる語句の組み合わせとして正しいものを、次のア～カから1つ選び、記号で答えなさい。

- ア A：衆議院    B：参議院                      イ A：衆議院    B：衆議院  
ウ A：参議院    B：参議院                      エ A：参議院    B：衆議院  
オ A：貴族院    B：参議院                      カ A：貴族院    B：衆議院

問3 主権者である国民が選んだ代表者で組織されている「国権の最高機関」を何といますか。漢字で答えなさい。

問4 「国権の最高機関」が決めた法律や予算にもとづいて、国の政治をすすめる組織を「内閣」といいますが、この組織の長を何といますか。漢字6文字で答えなさい。

問5 法律にもとづいて裁判をおこない、社会の秩序をたもつことを□□□□とといいます。憲法では、□□□□権は裁判所に属していて、「国権の最高機関」や「内閣」から独立して□□□□権を行使することを定めています。この□□□□に当てはまる語句を漢字2文字で答えなさい。

社会解答用紙 4科第1回	受験番号		氏名	

得点

※ 解答らんには、答えのみを記入しなさい。

1	問1 盆地名	河川名	問2 半島の名称	くだもの
	問3 原子力発電所の名称	発電の種類  発電	問4 平野名	農作物
	問5 河川名	公害病の名称	問6 工業地帯名	工業の種類
	問7 島名	都道府県名	問8 山地名	地方  地方
	問9 火山名	くだもの	問10 都市名  市	雨温図

2	問1	問2	問3	問4
	問5	問6	問7	問8
	問9  事件	問10		

3	問1 (1)	(2)	(3)	問2
	問3	問4		問5