

(平成 27 年度 第 1 回入試)

社 会 問 題 用 紙

日本大学第一中学校

注意 答えは、すべて解答用紙に記入しなさい。問題用紙は、持ち帰ってもかまいません。

1 地図をみて、下の各問いに答えなさい。

(1) 次の(ア)～(エ)の文にあてはまる平野や盆地の名称を答えなさい。また、平野や盆地の位置を地図①～⑫から選び、記号で答えなさい。

(ア) 信濃川下流の湿田を、分水路や暗きょ排水で乾田に改良して、全国有数の米の生産地になりました。

(イ) 冬の温暖な気候を利用して、野菜の促成栽培がさかんです。きゅうり・ピーマン・日向かぼちゃなどの野菜が、東京や大阪などに出荷されています。

(ウ) 稲作にはむかない泥炭地を、客土で土じょうを改良して全国有数の米の生産地になっています。

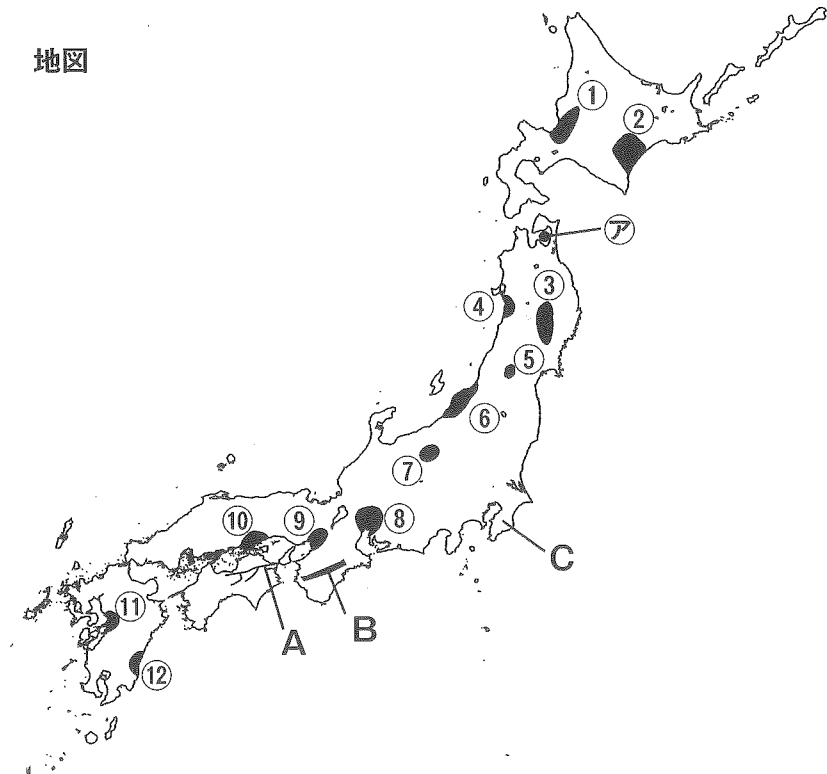
(エ) 最上川の流域に位置し、低地では稲作が、山の斜面では、さくらんぼ・ぶどうなどの果樹栽培がさかんです。また、中心部には県庁所在地になっている都市があります。

(2) 地図中のAの河川名、Bの山脈または山地名、Cの半島名を答えなさい。

(3) ㉗の陸奥湾は、ある水産物の養しよくがさかんなことで有名です。青森県が全国2位の産地になっている水産物名を、次のア～オから選び、記号で答えなさい。

ア. かき イ. くるまえび ウ. のり エ. はまち オ. ほたて貝

地図



2 次の文にあてはまる工業地帯または工業地域の名称を答えなさい。また、その位置を地図中のA～Jから選び、記号で答えなさい。

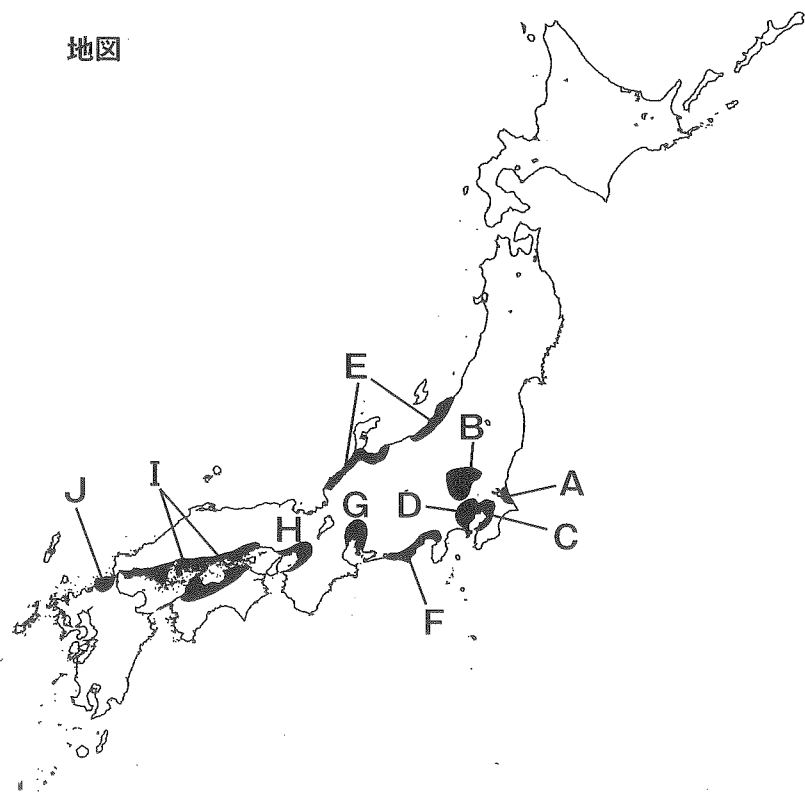
(ア) 静岡県を中心に、浜松市のオートバイ・自動車・楽器、富士市の製紙・パルプなどの工業が発展しています。

(イ) 塩田のあと地や遠浅の海岸を埋め立てた工業用地に、重化学工業が発展しました。倉敷市の水島地区には、大規模な石油化学コンビナートや製鉄所が建設されました。

(ウ) 自動車などの機械工業が中心で、生産額に占める重化学工業の割合が高い。瀬戸・多治見の陶磁器、一宮の毛織物などの工業もさかんである。

(エ) 水力発電による電力と工業用水にめぐまれ発展した。富山・高岡の金属・化学、金沢・福井の化学せんいなどのほかに、伝統工業もさかんである。

地図



3 次の年表を用いて、下の各問いに答えなさい。

| 年代 | できごと |
|--------|-------------------------------|
| 57年 | 奴国の王が中国に使いを送る…………… ① |
| 239年 | 邪馬台国の女王が中国に使いを送る |
| 5世紀 | ヤマト政権が中国に使いを送る ↑↓ A…………… ② |
| 607年 | 遣隋使が派遣される ↑↓ B…………… ③ |
| 894年 | 遣唐使が停止される |
| 13世紀後半 | 元が2度にわたり日本を攻める…………… ④ |
| 1404年 | 日明貿易が始まる…………… ⑤ |
| 1639年 | 鎖国が完成する…………… ⑥ |
| 1858年 | (ア) を結ぶ…………… ⑦ |
| 1895年 | 下関条約を結ぶ ↑↓ C…………… ⑧ |
| 1905年 | ポーツマス条約を結ぶ |
| 1914年 | 第一次世界大戦が始まる ↑↓ D…………… ⑨ |
| 1939年 | 第二次世界大戦が始まる |
| 1940年 | 三国同盟を結ぶ |
| 1945年 | (イ) 宣言を受け入れ、降伏する…………… ⑩ |

問1 ①について。奴国の王が使いを送ったときの中国の王朝を次から選び、記号で答えなさい。

- (ア) 秦 (イ) 漢 (ウ) 魏 (エ) 宋

問2 ②について。矢印Aの時期に中国や朝鮮から日本に伝えられた技術や文化としてあやまっているものを、次の(ア)～(エ)から選び、記号で答えなさい。

- (ア) 養蚕や機織りの技術 (イ) 仏教
(ウ) 律令 (エ) 漢字や儒教

問3 ③について。次の(ア)～(エ)は、いずれも**矢印B**の時期におこったできごとですが、年代順に並べたものではありません。これを年代順に正しく並びかえたとき、**3番目**になるのはどれですか。記号で答えなさい。

- (ア) 平城京ができる (イ) 荘園がつけられるようになる
(ウ) 大化の改新がおこる (エ) 摂関政治が始まる

問4 ④について。元の襲来について**あやまって述べているもの**を、次の(ア)～(エ)から1つ選び、記号で答えなさい。

- (ア) 日本側は元の1度目の襲来のあと、博多湾に石塁(防塁)を築いた。
(イ) 元は日本に服従を求めてきたが、執権北条時宗がこれを拒否したことで元の襲来を招いた。
(ウ) 元は2度にわたって九州北部に攻め寄せたが、日本側は御家人の奮戦と暴風雨により、2度とも元を退けた。
(エ) 元の襲来後、幕府は徳政令を出して御家人の借金を帳消しにした結果、幕府と御家人の結束はよりいっそう強まった。

問5 ⑤について。

- (1) この貿易を開始した人物を**漢字4字**で答えなさい。
(2) この貿易は倭寇とよばれる海賊の船と貿易船を区別するために割り符を用いたことから、別名、何貿易といいますか。**漢字4字**で答えなさい。

問6 ⑥について。江戸時代の外交について**あやまって述べているもの**を、次の(ア)～(エ)から1つ選び、記号で答えなさい。

- (ア) 江戸幕府ははじめ大名や商人などに朱印状をあたえて貿易をさかんにしようと考えた。
(イ) 鎖国が完成することにより、幕府はポルトガルと中国とのみ貿易を行った。
(ウ) 朝鮮からは、將軍の代わりごとに朝鮮通信使が来日した。
(エ) 琉球王国は、17世紀のはじめに薩摩藩に征服され、薩摩藩に服属することになった。

問7 ⑦について。空欄(ア)には、幕府が鎖国を改め、アメリカに日本国内の5つの港を開く約束をした条約が入ります。その名称を**漢字**で答えなさい。

問8 ⑧について。**矢印C**の時期におこったできごとを次の(ア)～(エ)から1つ選び、記号で答えなさい。

- (ア) 甲午農民戦争がおこった (イ) 三国干渉が行われた
(ウ) 韓国併合が行われた (エ) 関税自主権を回復した

問9 ⑨について。**矢印D**の時期におこったできごととして**あやまっているもの**を、次の(ア)～(エ)から1つ選び、記号で答えなさい。

- (ア) 満州事変がおこった (イ) 五・一五事件がおこった
(ウ) 盧溝橋事件がおこった (エ) 太平洋戦争がおこった

問10 ⑩について、空欄(イ)に入る語句を答えなさい。

4 次の文中の空欄（ 1 ）～（ 6 ）に入る語句を、下の語群から選び記号で答えなさい。また、下の各問いに答えなさい。

日本の社会保障制度は、日本国憲法第25条に「すべて国民は、（ 1 ）で文化的な最低限度の生活を営む権利を持っている。」と定められた（ 2 ）の保障にもとづいています。日本の社会保障制度には4つの柱があります。その一つは（ 3 ）で、病気やけがの場合にお金が支給される健康保険・国民健康保険、老後の生活を保障する（ 4 ）、失業した場合にお金が支給される雇用保険などからなります。2つめは生活保護ともいわれ、所得が少なく生活が困難な人に生活費などを支給する（ 5 ）があります。さらに、身寄りのない老人・身体に障害をもった人・保護者のいない子どもなど、社会的に弱い立場にある人たちを援助する（ 6 ）や、保健所などが中心となって、病気の予防や健康管理・食品衛生の監視・公害の防止などを行う公衆衛生があります。

しかし、現在、日本の社会保障制度を支えるうえで、出生率の低下と人口に占める65歳以上の高齢者の割合が多くなる【 A 】が問題となっています。

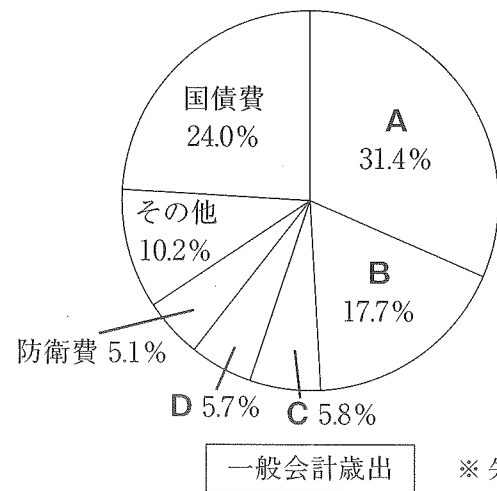
【語群】

- ア 公的扶助 イ 平等権 ウ 医療保険 エ 社会保険 オ 介護保険
 カ 健康 キ 社会福祉 ク 平等 ケ 生存権 コ 年金保険

問1 文中の【 A 】に入る語句を漢字5字で答えなさい。

問2 次の円グラフは、国の2013年度「一般会計歳出」を示しています。

社会保障関係費にあてはまるものを、グラフ中のA～Dから選び、記号で答えなさい。



※ 矢野恒太記念会『日本のすがた2014』参照

| | | | |
|--|------|---|----|
| <h1 style="margin: 0;">社会解答用紙</h1> <p style="margin: 0;">(第一回)</p> | 受験番号 | 番 | 氏名 |
| | | | |

1

| | | | |
|------------|------------|--------|-----|
| (1) (ア) 名称 | 記号 | (イ) 名称 | 記号 |
| (ウ) 名称 | 記号 | (エ) 名称 | 記号 |
| (2) A 河川名 | B 山脈または山地名 | C 半島名 | (3) |

2

| | | | |
|--------|----|--------|----|
| (ア) 名称 | 記号 | (イ) 名称 | 記号 |
| (ウ) 名称 | 記号 | (エ) 名称 | 記号 |

3

| | | | | | |
|----|----|----|----|--------|-----|
| 問1 | 問2 | 問3 | 問4 | 問5 (1) | (2) |
| 問6 | 問7 | 問8 | 問9 | 問10 | |

4

| | | | | | |
|-----|-----|-----|-----|-----|-----|
| (1) | (2) | (3) | (4) | (5) | (6) |
| 問1 | | | 問2 | | |

| |
|----|
| 得点 |
| |