

(平成 26 年度 第 1 回入試)

# 社 会 問 題 用 紙

日本大学第一中学校


注意 答えは、すべて解答用紙に記入しなさい。問題用紙は、持ち帰ってもかまいません。

1 次の各問いに答えなさい。


問1 次の地図記号は何を表していますか。



A



B

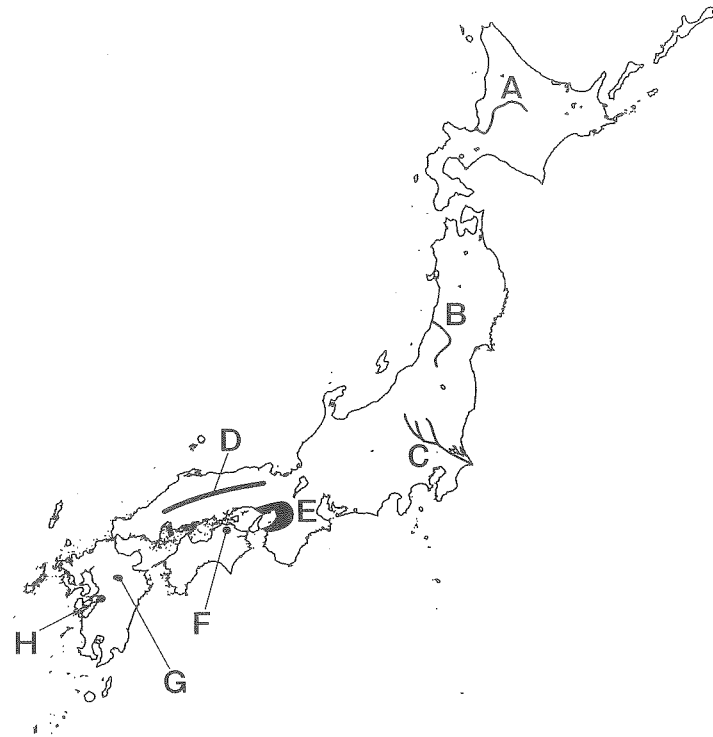


C

問2 海岸線から同じ高さのところを結んだ線で、土地の高さを表したものを何といいますか。

問3 富士山は、2013年6月22日に、富士山に関連する文化財とともに「富士山・信仰の対象と芸術の源泉」の名でユネスコに登録されました。ユネスコの何というリストに登録されたのですか。漢字6字で答えなさい。

2 地図をみて、下の各問いに答えなさい。



問1 A～Cの河川名を漢字で答えなさい。さらに流域の平野名または盆地名を〔A群〕から、都市名を〔B群〕からおのおの1つずつ選び、記号で答えなさい。

〔A群〕

- ①越後平野 ②上川盆地 ③関東平野 ④北上盆地  
⑤庄内平野 ⑥十勝平野

〔B群〕

- ア. 旭川 イ. 帯広 ウ. 酒田 エ. 新潟 オ. 福島  
カ. 前橋 キ. 盛岡

問2 Dの山脈名または山地名を漢字で答えなさい。

問3 Eの工業地帯名または工業地域名を答えなさい。

問4 Fの讃岐平野に、吉野川の水を送るためにつくられた用水路の名称を答えなさい。

問5 Gの八丁原では、地球温暖化の原因の一つとされる二酸化炭素の排出を抑えた新しいエネルギーによる発電がおこなわれています。八丁原で研究・開発が進められてきた新エネルギーを、①～④から選び記号で答えなさい。

- ①太陽光 ②地熱 ③バイオマス ④風力

問6 Hの八代平野では、米の収穫後に冬でも温暖な気候を生かして、い草が栽培されてきました。このように同じ耕地で一年間に2種類の作物を栽培することを何といますか。漢字3字で答えなさい。

3 次の年表を用いて、下の各問いに答えなさい。

年代	できごと
紀元1世紀ごろ	各地に小さくなくができる
	↑↓ A ..... ①
5世紀ごろ	ヤマト政権が国土を統一する
	↑↓ B ..... ②
710年	平城京に都を移す
743年	墾田永年私財法が定められる..... ③
794年	平安京に都を移す
1053年	平等院鳳凰堂がつけられる..... ④
1192年	鎌倉幕府が成立する
1221年	承久の乱がおこる..... ⑤
1392年	南北朝が合一される
	↑↓ C ..... ⑥
1543年	鉄砲が伝わる
1603年	江戸幕府が成立する
1641年	オランダの商館を長崎の(ア)にうつす..... ⑦
1868年	五箇条の御誓文が発表される..... ⑧
1901年	(イ)が操業を開始する..... ⑨
1914年	第一次世界大戦がおこる
	↑↓ D ..... ⑩
1941年	太平洋戦争がおこる

問1 ①について。矢印Aの時期の遺跡として適切なものを、次の(ア)～(エ)から1つ選び、記号で答えなさい。

- (ア) 岩宿遺跡                      (イ) 大森貝塚  
 (ウ) 野尻湖遺跡                    (エ) 吉野ヶ里遺跡

問2 ②について。次の(ア)～(エ)は、いずれも矢印Bの時期におこったできごとですが、年代順に並べたものではありません。これを年代順に正しく並びかえたとき、3番目になるのはどれですか。記号で答えなさい。

- (ア) 大化の改新が始まる              (イ) 百濟から正式に仏教が伝わる  
 (ウ) 大宝律令がつけられる            (エ) 十七条の憲法がつけられる

問3 ③について。この結果、貴族や寺院、地方の豪族はさかんに開墾を行い私有地をひろげました。この私有地はのちに何とよばれるようになりましたか。漢字2字で答えなさい。

問4 ④について。この時期の仏教のようすについて、正しく説明しているものを次の1～4から選び、記号で答えなさい。

1. 仏教の力によって社会の不安を取りのぞき、国の政治の安定をはかろうという考えにもとづいて、国ごとに国分寺や国分尼寺が建てられた。
2. 戦乱や天災・えき病が相つぎ社会の不安が大きくなり、貴族を中心に阿弥陀仏にすがれば死後に極楽浄土へ生まれ変わるという教えがひろまった。
3. だれにもわかりやすく実行しやすい教えが生まれたほか、座禅によって自分でさとりを開こうという教えも中国から伝わった。
4. 人里はなれた山奥の寺で、政治からはなれて学問やきびしい修行にはげむ教えが生まれた。

問5 ⑤について。この乱は朝廷の実権を握っていた人物が、幕府を倒そうとして起こしたのですが、その人物名を漢字5字で答えなさい。

問6 ⑥について。矢印Cの時期の社会のようすにあやまった説明をしているものを、次の1～4から選び、記号で答えなさい。

1. 農民が団結して村の自治をおこなうようになり、村の共有地やかんがい用水の管理をおこなったり、年貢の納入や村のおきてを話し合っ決めてたりした。
2. 近江国(現在の滋賀県)の馬借や農民たちが借金の帳消しを求めて金貸してもあった酒屋や土倉をおそうと、この動きは近畿地方の各地にひろまった。
3. 山城国(現在の京都府)の南部では、村の侍と農民が団結して、争いを続けていた守護を追放し、応仁の乱のきっかけをつくった。
4. 加賀国(現在の石川県)では、浄土真宗(一向宗)の信者たちが守護を滅ぼし、その後、100年近くにわたって国を支配した。

問7 ⑦について。空欄（ア）にあてはまる語句を漢字2字で答えなさい。

問8 ⑧について。明治新政府はこの後、欧米の強国に追いつくため、日本の近代化を急ぎます。1872（明治5）年、近代的な工業の発展をめざした明治政府が群馬県に設置した製糸工場を何といいますか。漢字5字で答えなさい。

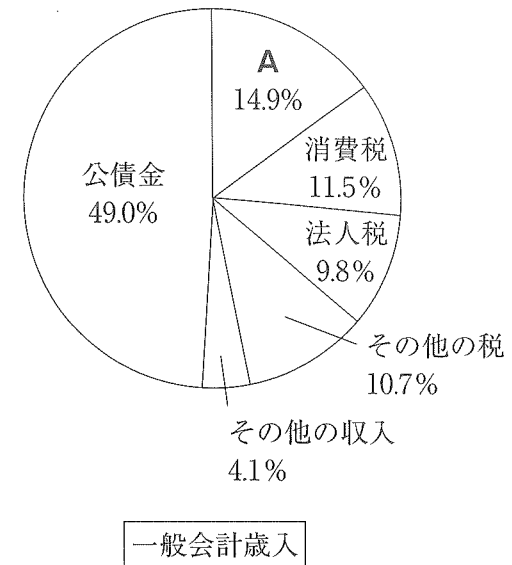
問9 ⑨について。空欄（イ）には日本の重工業化の基礎となった施設名が入ります。漢字5字で答えなさい。

問10 ⑩について、次の（ア）～（エ）は、いずれも矢印Dの時期におこったできごとですが、年代順に並べたものではありません。これを年代順に正しく並びかえたとき、2番目になるのはどれですか。記号で答えなさい。

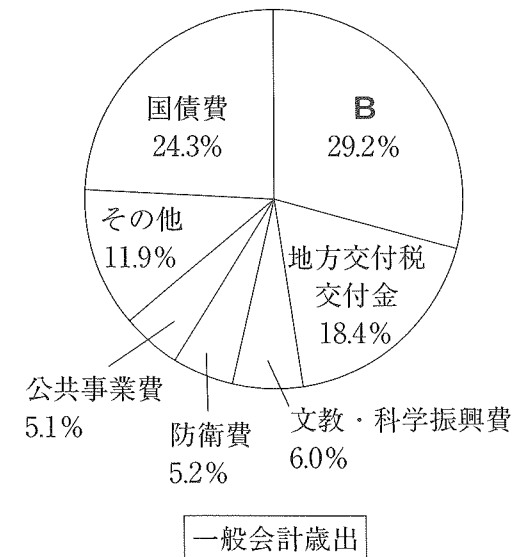
- （ア）満州事変がおこる
- （イ）日中戦争がおこる
- （ウ）米騒動がおこる
- （エ）普通選挙制が成立する

4 次の円グラフは、2012年度の日本の一般会計当初予算の歳入と歳出の内わけを表したものです。グラフをみて、下の各問いに答えなさい。

問1 歳入のグラフ中のAにあたるものは何ですか。



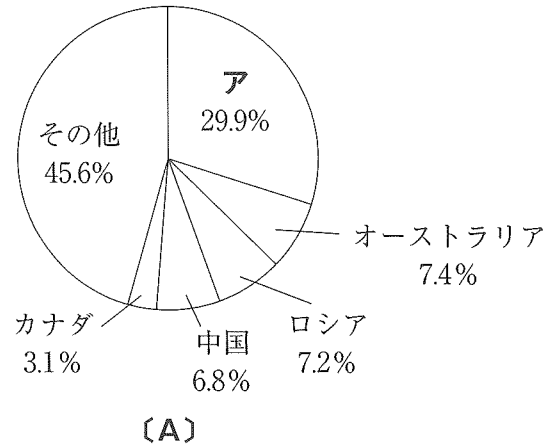
問2 歳出のグラフ中のBにあたるものは何ですか。



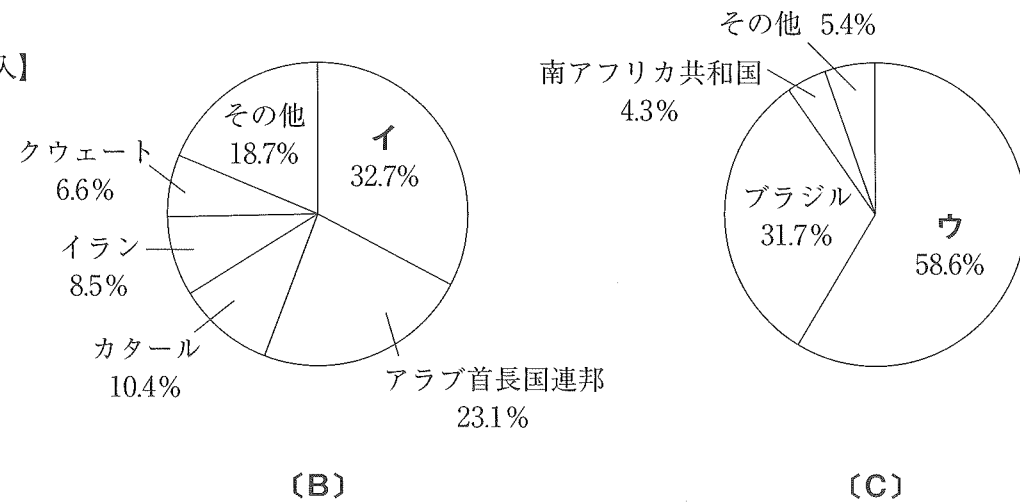
※ 矢野恒太記念会『日本のすがた 2013』参照

5 次のグラフは、日本の主な輸出品〔A〕とその輸出先の国、主な輸入品〔B〕〔C〕とその輸入先の国を表しています。グラフをみて下の各問いに答えなさい。(グラフ中の数字は、割合をしめしています。)

【輸出】



【輸入】



※ グラフ中の数字は、矢野恒太記念会『日本のすがた 2013』参照

問1 〔A〕〔B〕〔C〕の品目は何ですか。次の①～⑧から選び、記号で答えなさい。

- ①内燃機関    ②鉄鋼    ③自動車    ④原油    ⑤石炭  
 ⑥自動車部品    ⑦液化天然ガス    ⑧鉄鉱石

問2 グラフの中のア、イ、ウにあたる国はどこですか。

# 社会解答用紙

(第一回)

受験番号

番

氏名

1

問1 A	B	C	問2
問3			

2

問1 A 河川名	平野・盆地名	都市名	B 河川名	平野・盆地名	都市名
C 河川名	平野・盆地名	都市名	問2	問3	
問4	問5	問6			

3

問1	問2	問3	問4	問5	問6
問7		問8	問9	問10	

4

問1	問2
----	----

5

問1 A	B	C	
問2 ア		イ	ウ

得点

--