

令和5年度

第1回

社 会

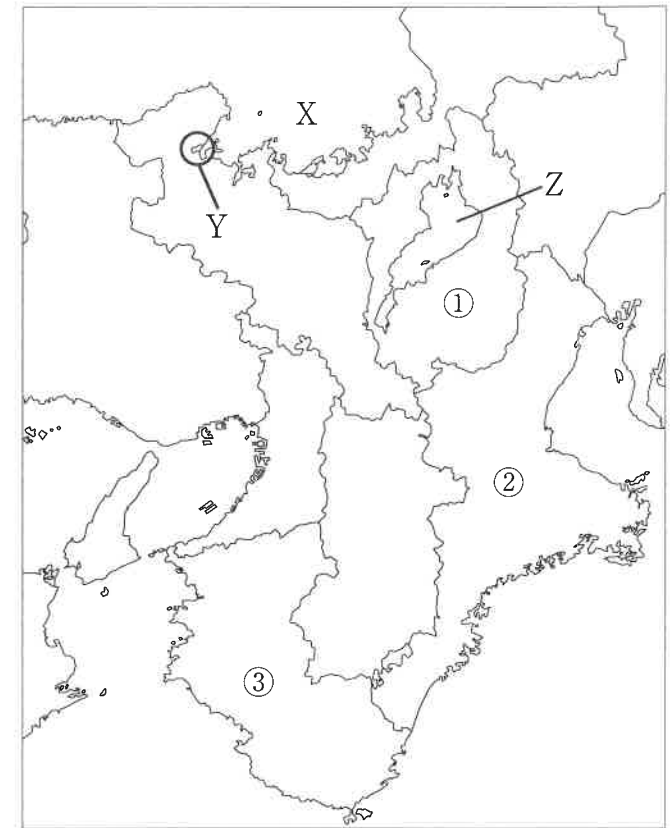
受験上の注意

- ① 試験開始の合図があるまでこの問題用紙を開かないで下さい。
- ② この問題用紙は 15 ページあります。
- ③ 試験中に問題用紙の印刷が読みにくかったり，ぬけているところや汚れに気づいたりした時は手をあげて下さい。
- ④ 解答は解答用紙に記入して下さい。

※試験終了後，問題用紙は持ち帰って下さい。

1 次の近畿地方の【地図1】を参考に問1～問6に答えなさい。

【地図1】



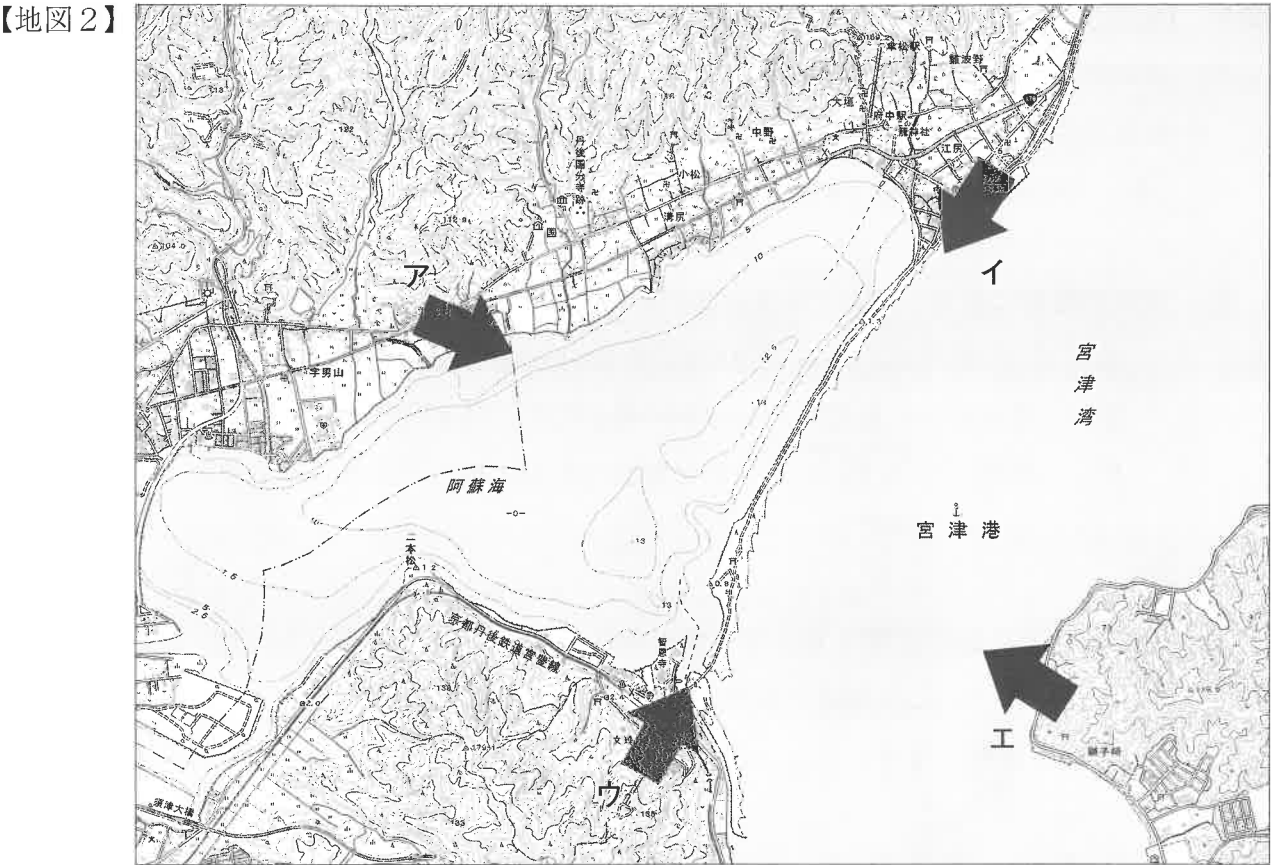
問1 【地図1】のXに位置する湾の名称として正しいものを次のア～エから一つ選び，記号で答えなさい。

ア 若狭湾 イ 英虞湾 ウ 大村湾 エ 富山湾

問2 【地図1】のYでは、日本三景の一つがみられ、次の【図1】はその景勝地を撮影したものです。この景勝地に関して、次の(1)・(2)に答えなさい。



- (1) この景勝地の名称を漢字3字で答えなさい。
- (2) 次の【地図2】は、この景勝地付近を示したものです。【図1】が撮影された方向として最も適切なものを【地図2】のA～Eから一つ選び、記号で答えなさい。



(国土地理院発行2万5千分1地形図「宮津」を加工して作成)

- 問3 【地図1】のZの湖に関して、下線部が正しいものを次のA～Eから一つ選び、記号で答えなさい。
- A この湖の面積は、神奈川県の面積よりも大きい。
- E この湖の面積は、属する県の約6分の1であり、日本最大の湖である。
- ウ 一時この湖に貯められた雨水は、唯一の自然流出河川の瀬田川から宇治川を通り、木津川、桂川と合流し、大淀川となって大阪湾に注いでいる。
- エ この湖は、1993年に京都議定書に登録された湿地である。

問4 【地図1】の①の県に関する次の文章を読み、文章中の I に共通してあてはまる語句を漢字で答えなさい。

この県の旧国名は、「I 国」です。県の中央部に位置する I 盆地や日本最古のブランド牛といわれる I 牛など現在でもその地名は様々なところで使用されています。

問5 【地図1】の②の県について、次の(1)～(3)に答えなさい。

(1) この県北部の四日市市の臨海部では、石油化学 がみられます。原料や燃料、生産施設などを計画的に結び付けた各種工場の集合状態を といいます。
 に共通してあてはまる語句を答えなさい。

(2) 次の空欄Ⅲに共通してあてはまる語句を漢字で答えなさい。
 ・志摩サミット … 2016年に第42回先進国首脳会議が開催された際の愛称。
 うどん … 太くてやわらかい^{めん}麺が特徴の郷土料理。
 神宮 … ^{あまてらすおおみかみ}天照大神などをおまつりし、古くから多くの人々が参拝している神社。

(3) この県の中央部に位置する志摩半島の南部には、リアス海岸がみられ、養殖業が盛んに行われています。この地域で養殖業が盛んに行われている理由をリアス海岸の特徴をふまえて簡単に説明しなさい。

問6 【地図1】の③の県について、次の(1)・(2)に答えなさい。

(1) この県の南端部に位置し、本州最南端の地とされる岬の名称として正しいものを、次のア～エから一つ選び、記号で答えなさい。
ア 宗谷岬 イ 室戸岬 ウ 和田岬 エ 潮岬

(2) この県が収穫量1位(2019年)の果実として誤っているものを、次のア～エから一つ選び、記号で答えなさい。
ア くり イ かき ウ うめ エ みかん

2 次のA～Dの文章を読んで、問1～問10に答えなさい。

- A 私は、「所得倍増」をかかげ①高度経済成長を支え、国民の生活は便利で快適になりました。しかしその一方で、この頃の日本は、②公害問題が深刻化しました。
- B 私は、邪馬台国の女王です。もともと男性の王が支配していましたが、争いが続いたので、相談して女性である私が王となりました。私は、中国に使者を送り、皇帝から金印や銅鏡などを与えられました。
- C 私は、寺院勢力の強い奈良から平安京へ都をうつしました。また、仏教の改革のために、最澄や③空海を遣唐使とともに留学僧として中国へ派遣しました。
- D 私は、④紀州藩主から8代将軍に就任し、幕府政治の改革に努めました。また、(⑤)を設置して町人など庶民の投書も参考にしながら政治を進めました。

問1 A～Dの文章が時代の古い順番に正しく並んでいるものを次のア～カから一つ選び、記号で答えなさい。

- ア B → D → C → A
イ B → C → D → A
ウ C → B → A → D
エ C → B → D → A
オ D → C → A → B
カ D → B → A → C

問2 Aの文の人物は、池田勇人首相です。この人物より前の時期に総理大臣を務めた人物を次のア～エから一つ選び、記号で答えなさい。

- ア 竹下登 イ 菅義偉 ウ 吉田茂 エ 田中角栄

問3 Bの文の「私」にあてはまる人物を答えなさい。

問4 Bの文と同時代に利用されたものとして適切なものを次のア～エから一つ選び、記号で答えなさい。



問5 Cの文の「私」にあてはまる人物を答えなさい。

問6 下線部①について、次の【図2】は衣服などを洗う道具です。高度経済成長期には、機械で洗濯できるようになり家事にかかる時間が短くなったことが、人々の生活や社会に変化をもたらす一因となりました。この時期の具体的な変化として増えたことを「家事にかかる時間が短くなったことにより、」のあとに続くように簡単に説明しなさい。



問7 下線部②について、日本の公害問題の原点は、明治時代に衆議院議員の田中正造が追及した鉱毒事件です。当時問題となった鉱山を次のア～エから一つ選び、記号で答えなさい。

ア 石見銀山 イ 筑豊炭田 ウ 足尾銅山 エ 佐渡金山

問8 下線部③について、この人物は、 大師とも呼ばれています。また、中国風の書の達人であったので、「 にも筆の誤り」と言う諺が生まれました。 にあてはまる語句を漢字で答えなさい。

問9 下線部④の説明として正しいものを次のア～エから一つ選び、記号で答えなさい。

- ア 松平定信は、寛政の改革を行った。
イ 松平定信は、享保の改革を行った。
ウ 徳川吉宗は、寛政の改革を行った。
エ 徳川吉宗は、享保の改革を行った。

問10 文中の(⑤)にあてはまる語句を答えなさい。

3 次の文章を読んで、問1～問6に答えなさい。

2022年7月に①参議院選挙が行われました。その結果、与党が全体で146議席となり、②憲法改正に前向きな政党を合わせると、憲法改正に向けて現実的な取り組みが可能
な状態になったといわれています。ただ、今回の選挙期間中には、元首相 あ
氏が演説中に銃撃され亡くなるという痛ましい事件も起きました。

選挙の後、政府はかかっている政策を進めていくために③内閣改造を行いました。
コロナ対策や経済政策など、多くの問題をかかえる中で、今後の動きが注目されます。

今回の選挙で野党の動きにも変化がありました。野党で一番議席数の多かった
い が、大きく議席を減らしました。様々な国民の意見を、政治に反映させる
ために、野党の動きにも今後注目していくことが大切です。

また、選挙の結果だけではなく、④投票率についても注目していかなければなりま
せん。主権者である私たち国民が、政治に関心を持ち、その権利をしっかりと使うこ
とが民主主義において大切なことです。

問1 文中の あ にあてはまる人物名をフルネームで答えなさい。

問2 文中の い にあてはまる政党名を次のア～エから一つ選び、記号で答えなさい。

ア 国民民主党 イ 立憲民主党 ウ 日本維新の会 エ れいわ新選組

問3 下線部①について、次の(1)～(4)に答えなさい。

(1) 2022年の参議院選挙から、参議院の定数に変更されました。新しくなった定数を答え
なさい。

(2) 参議院選挙では、比例代表区ではドント式という選出方法を使います。【表1】はその
ドント式の事例です。当選者数が全体で6人の場合、C党の獲得議席数を答えなさい。

【表1】

	A党	B党	C党
得票数	240	180	120

(3) 比例代表区では、政党名か候補者名を記入して投票し、その得票数に応じて当選者を
決めていました。しかし、2019年7月の参議院選挙から候補者個人の得票数に関係なく、
政党が決めた候補者を優先的に当選させる制度が定められました。その制度を何というか、
適切なものを次のア～エから一つ選び、記号で答えなさい。

ア 優先枠 イ 特別枠 ウ 特定枠 エ 候補者枠

(4) 参議院は、衆議院とはその性質が異なります。かつては主に参議院に期待される役割は、
衆議院のいきすぎをおさえることと言われていました。そのことを表す以下の言葉の
に当てはまる語句を次のア～エから一つ選び、記号で答えなさい。

「 の府」

ア 内閣 イ 立法 ウ 国政 エ 良識

問4 下線部②について、憲法改正の手続きについて述べた文章のうち適切なものを、次の

ア～エから一つ選び、記号で答えなさい。

ア 各議院の総議員の3分の2以上の賛成で国会が発議し、その後国民投票によって3分
の2以上の賛成を必要とする。

イ 各議院の総議員の過半数の賛成で国会が発議し、その後国民投票によって3分の2以
上の賛成を必要とする。

ウ 各議院の総議員の3分の2以上の賛成で国会が発議し、その後国民投票によって過半
数の賛成を必要とする。

エ 各議院の総議員の過半数の賛成で国会が発議し、その後国民投票によって過半数の賛
成を必要とする。

問5 下線部③について、次の(1)・(2)に答えなさい。

(1) 内閣総理大臣は国務大臣を任命することができますが、その過半数は国会議員でなければならないと憲法に定められています。その理由について考えられるものとして最も適切なものを、次のア～エから一つ選び、記号で答えなさい。

ア 議院内閣制の下では、内閣の仕事は国会と連携して進める必要があり、国民の意見を内閣に反映させるため。

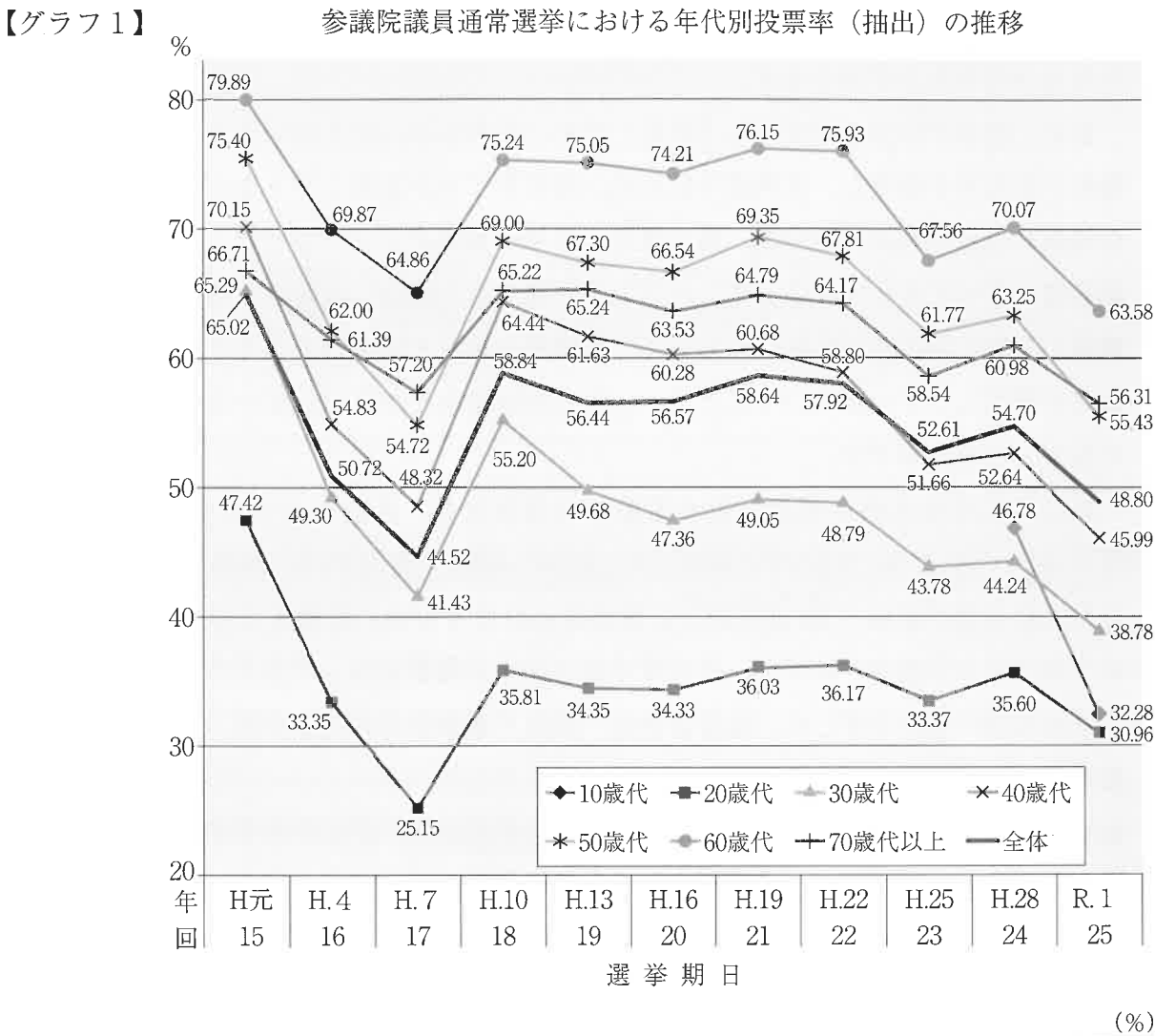
イ 国会、内閣、裁判所の三権分立を深めるよう、国会議員を必ず任命する必要があるため。

ウ 政治の専門家である国会議員を多く任命することが、内閣が政治を運営するために大切なため。

エ 国会議員は、一般の公務員より多く給料を支給されており、その責任が他の公務員よりも大きいため。

(2) 内閣改造時やその他の適切な時に、内閣総理大臣が中心となって、すべての国務大臣とともに、今後の内閣の方針や業務などを話し合う会議を開くことがあります。その会議の名称を答えなさい。

問6 下線部④について、【グラフ1】は過去における参議院通常選挙における年代別投票率(抽出)の推移を表したものです。【表2】は、【グラフ1】の数値を一覧にまとめたものです。以下の【グラフ1】【表2】を読み取り、若い年代(10歳代～30歳代)の投票率と、それ以外の年代との投票率の違いを簡単に説明しなさい。



【表2】

年回	H元15	H.416	H.717	H.1018	H.1319	H.1620	H.1921	H.2222	H.2523	H.2824	R.125
10歳代										46.78	32.28
20歳代	47.42	33.35	25.15	35.81	34.35	34.33	36.03	36.17	33.37	35.60	30.96
30歳代	65.29	49.30	41.43	55.20	49.68	47.36	49.05	48.79	43.78	44.24	38.78
40歳代	70.15	54.83	48.32	64.44	61.63	60.28	60.68	58.80	51.66	52.64	45.99
50歳代	75.40	62.00	54.72	69.00	67.30	66.54	69.35	67.81	61.77	63.25	55.43
60歳代	79.89	69.87	64.86	75.24	75.05	74.21	76.15	75.93	67.56	70.07	63.58
70歳代以上	66.71	61.39	57.20	65.22	65.24	63.53	64.79	64.17	58.54	60.98	56.31
全体	65.02	50.72	44.52	58.84	56.44	56.57	58.64	57.92	52.61	54.70	48.80

※① この表のうち、年代別の投票率は、全国の投票区から、回ごとに142～188投票区を抽出し調査したものです。
※② 第24回の10歳代の投票率は、全数調査による数値です。

(2022年8月時点 総務省 HP より)

4 次の文章を読んで、問1～問10に答えなさい。

今年は A からちょうど100年の節目の年です。A は、1923年9月1日午前11時58分に発生した大地震による大規模な災害です。最近でも、地震や①豪雨災害、②火山の噴火などがありました。「災害は忘れたころにやってくる」。わたしたちはいつ発生するか分からないさまざまな災害に備えておく必要があります。この防災については次のような3つの考え方があります。

まず、自分で自分の身を守る「自助」です。災害直後に生き延びるための準備が肝心です。発生する災害を想定し、食料品や飲料水、防災トイレや除菌シートなどの衛生用品、マスクや体温計などの感染対策用品、懐中電灯、モバイルバッテリーなど考えるといろいろなものが必要になってきます。そして、いざ災害が発生した直後には避難することも考えられます。普段から自宅周辺や行動範囲において、避難所の場所を確認しておくとともに、どのような災害が発生しやすいかということも、③地方自治体などが発行している B で確認しておくことが大事です。

次に、災害発生時の救助活動や避難所の運営など、近隣の方々と協力して地域を守る「 C 」です。1995年に発生した④阪神・淡路大震災では、倒壊家屋の下敷きになった人の約8割が家族や隣近所の方に救出されたそうです。避難所での生活も地域住民が互いに助け合って運営されます。隣近所で助け合える関係を作っておくことが必要です。

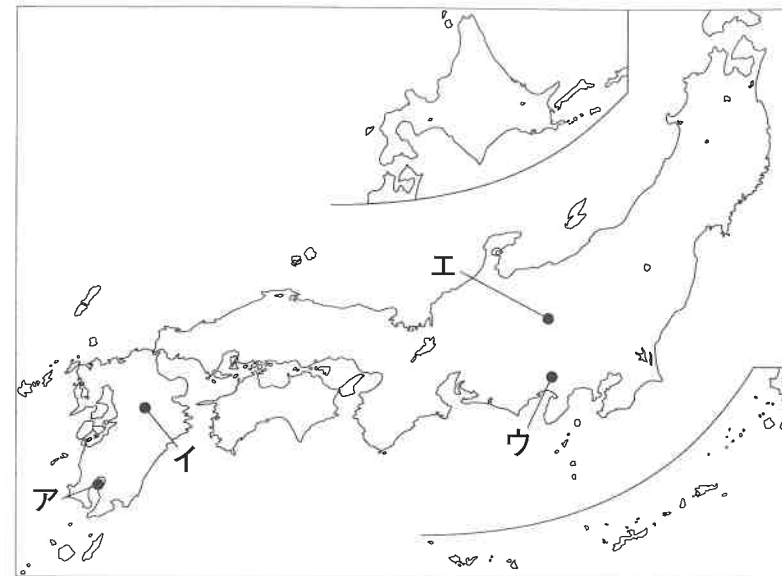
三つめは、⑤国をはじめ、地方自治体・消防・警察などの行政機関、⑥ライフラインの応急対策活動のことを「公助」といいます。地方自治体のホームページなどで確認し、家の安全対策をしておくとともに、⑦正確な情報収集を心がけ、日頃からできる対策や制度について知っておきましょう。

問1 文中の A にあてはまる語句を答えなさい。

問2 下線部①について、2014年に広島市で発生した土砂災害以降にくり返し使われるようになった用語で、次々と発達する積乱雲が並ぶことで同じ場所で数時間にわたり大雨が続く範囲のことを何といいますか。答えなさい。

問3 下線部②について、2022年7月の噴火によって、噴火警戒レベル5特別警報「避難」に引き上げられた火山を、次の【地図3】中ア～エから一つ選び、記号で答えなさい。

【地図3】



問4 下線部③についての説明として、最も適切なものを次のア～エから一つ選び、記号で答えなさい。

ア 地方税収入の自治体ごとの格差を少なくするために、国庫支出金が国から配分される。

イ 個人情報管理する住民基本台帳ネットワークを廃止して、事務の効率化を図っている。

ウ 地方自治体の首長は、地方議会議員の中から住民の直接選挙によって選ばれる。

エ 条例の制定・改廃や議会解散、首長の解職などの請求をする直接請求権が住民に認められている。

問5 文中の B にあてはまる語句をカタカナ7字で答えなさい。

問6 文中の C にあてはまる語句を漢字2字で答えなさい。

問7 下線部④について、この震災の震源地に最も近いものを次のア～エから一つ選び、記号で答えなさい。

ア



イ



ウ



エ



問8 下線部⑤について、国の機関に三権分立の制度が取り入れられている理由を簡単に説明しなさい。

問9 下線部⑥について、ライフラインの役割を果たしている企業の説明として誤っているものを次のア～エから一つ選び、記号で答えなさい。

- ア エネルギーを供給する電力会社やガス会社。
- イ 上下水道を整備し、生活用水を供給する水道会社。
- ウ 携帯電話やインターネットなどの情報を提供する携帯電話会社。
- エ もうけである利潤を追求し、利益を上げる株式会社。

問10 下線部⑦について、情報の取り扱い方について説明した次のⅠ・Ⅱの文が正しいか誤っているかを判断し、最も適切なものを次のア～エから一つ選び、記号で答えなさい。

- Ⅰ 事前の防災訓練などで、危険な場所を確認し、隣近所の方と情報を共有する。

Ⅱ インターネットに掲載されている情報は正しいため、すべて信じたほうが良い。

- | | | | | | |
|---|---------|-------|---|---------|---------|
| ア | Ⅰ：正しい | Ⅱ：正しい | イ | Ⅰ：正しい | Ⅱ：誤っている |
| ウ | Ⅰ：誤っている | Ⅱ：正しい | エ | Ⅰ：誤っている | Ⅱ：誤っている |

受験番号			
<input type="text"/>	<input type="text"/>	<input type="text"/>	<input type="text"/>

氏名
<input type="text"/>

令和5年度 第1回 社会解答用紙

※の付いている ☐ に記入してはいけません。

1	問1		問2	(1)		(2)	
	問3		問4				
	問5	(1)			(2)		
		(3)					
	問6	(1)		(2)			

2	問1		問2		問3		
	問4		問5				
	問6	家事にかかる時間が短くなったことにより， <div>増えた。</div>					
	問7		問8		問9		問10

3	問1		問2						
	問3	(1)		(2)		(3)		(4)	
	問4		問5	(1)		(2)			
	問6								

4	問1		問2		問3			
	問4		問5		問6		問7	
	問8							
	問9		問10					

得点	<input type="text"/>
----	----------------------