

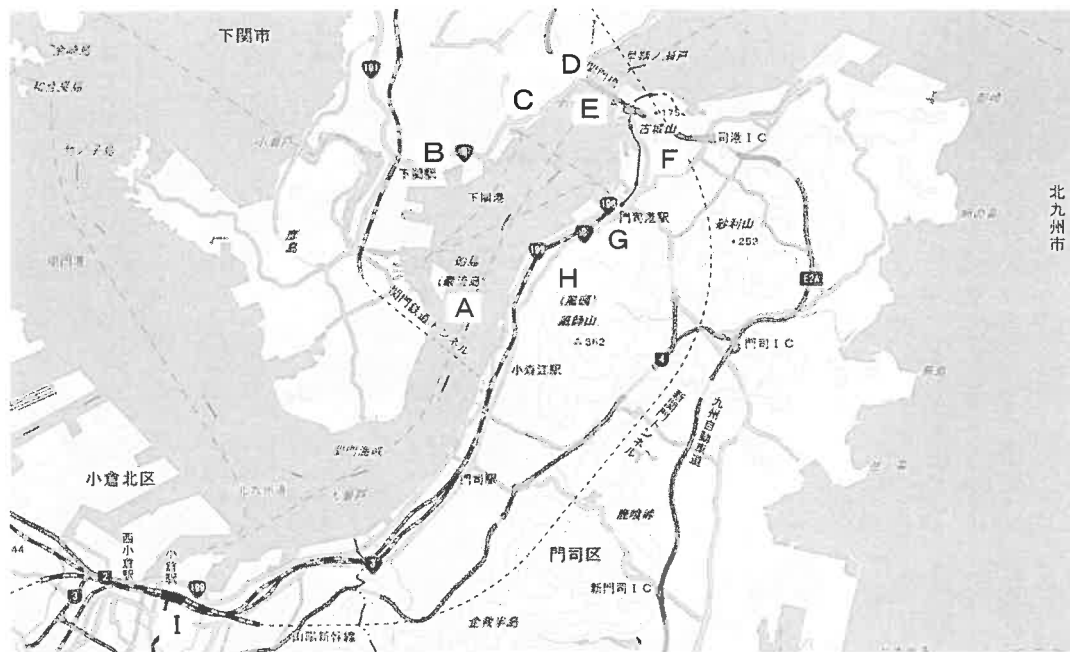
社 会

【注 意】

1. 開始の合図があるまで開けないこと。
2. 問題は1ページから16ページまでに印刷してあります。
開けたらすぐにページを確かめること。
3. 答えはすべて解答用紙に記入すること。下書きは問題用紙の余白を利用すること。
4. 試験終了後は、まず解答用紙を回収し、そのあと問題用紙も回収しますが、問題用紙には名前を書く必要はありません。

問題は次のページから始まります。

1. 次の地図中のA～Iについて、各設問に答えなさい。



(地理院地図より作成)

問1. Aについて、この島は^{かんりゅう}厳流島といい、宮本武蔵に敗れた佐々木小次郎の流派から名づけられたとされています。戦いに敗れた歴史上の人物の説明として正しい文章を、次のア～エの中から一つ選び記号で答えなさい。

ア. 武田勝頼は桶狭間の戦いで織田信長に敗れた。

イ. シャクシャインは反乱を起こしたが薩摩藩に敗れた。

ウ. 平将門は関東で反乱を起こしたが同じ東国の武士に敗れた。

エ. 後醍醐天皇は承久の乱で鎌倉幕府に敗れた。

問2. Bについて、2023年8月19日、20日に下関市で馬関まつりが開かれました。下関市は韓国の釜山広域市と姉妹都市であることから、馬関まつりでは両国の友好関係を象徴して朝鮮通信使の行列が再現されています。朝鮮との外交や貿易の窓口となっていた藩がある場所を、次のア～エの中から一つ選び記号で答えなさい。

ア. 壱岐 イ. 対馬 ウ. 隠岐 エ. 佐渡

問3. Cについて、ここでは1895年に条約が締結されました。その条約を結んだ首相と、締結した相手国の組み合わせとして正しいものを、次のア～エの中から一つ選び記号で答えなさい。

ア. 首相－大隈重信 締結国－大韓帝国

イ. 首相－大隈重信 締結国－清国

ウ. 首相－伊藤博文 締結国－大韓帝国

エ. 首相－伊藤博文 締結国－清国

問4. Dについて、この場所で撮影された二つの写真(X)と(Y)について、(1)と(2)の設問に答えなさい。

(X)



(Y)



(1) 写真 (X) は、この場所で撮影された石碑です。空らん (あ) に当てはまる語句を、次のア～エの中から一つ選び記号で答えなさい。

ア. 壇の浦 イ. 川中島 ウ. 五稜郭 エ. 関ヶ原

(2) 写真 (Y) は、この場所におかれた大砲のレプリカです。この大砲がおかれている理由を考察した文章を読み、空らん (い) と (う) に当てはまる語句の組み合わせとして正しいものを、次のア～エの中から一つ選び記号で答えなさい。

この大砲は 1863 年に (い) 藩が関門海峡を通る外国船に向けて攻撃したときのものではないだろうか。江戸幕府が開国を決めたことで (い) 藩のあいだには (う) の考えがさらに強まり、外国を追い出そうとする (う) 運動がこの場所で起きたと考えられる。


ア. (い) 長州 (う) 尊王

イ. (い) 長州 (う) 攘夷

ウ. (い) 薩摩 (う) 尊王

エ. (い) 薩摩 (う) 攘夷

問 5. E について、次の写真は、関門海峡人道トンネルで撮影されたものです。写真中の (あ) に当てはまる県名を、漢字で答えなさい。



地図中 F 側

問6. Fについて、この地にある甲宗八幡宮は足利尊氏が九州を訪れた際、戦勝祈願をした場所です。足利尊氏について説明した文章(あ)と(い)について、その正誤の組み合わせとして正しいものを、次のア～エの中から一つ選び記号で答えなさい。

(あ) 京都の六波羅探題を攻め落とし、鎌倉幕府を滅亡させた。

(い) 御成敗式目を制定し、室町幕府の基本方針を定めた。

ア. (あ) 正 - (い) 正 イ. (あ) 正 - (い) 誤

ウ. (あ) 誤 - (い) 正 エ. (あ) 誤 - (い) 誤

問7. Gについて、門司港駅前には「バナナの叩き売り発祥の地」という石碑があります。次の文章は、この地でバナナの叩き売りがおこなわれた背景を説明したものです。空らん(あ)に当てはまる国名を、次のア～エの中から一つ選び記号で答えなさい。

門司港は大陸、欧州、(あ)、国内航路の基幹と、九州鉄道の発着の基地点として大いに発展した。1908年以降、門司港では(あ)から輸入されたバナナ売り商人がおり、巧みな口上で販売する様子はこの地を訪れた人々の目を楽しませていた。門司港とバナナの産地である(あ)は地理的にも近いことや、かつて日本の植民地であったため、多くのバナナが荷揚げされていた。



ア. ベトナム イ. フィリピン ウ. 香港 エ. 台湾

問 8. Hについて、この道路は律令政治の頃の山陽道と重なります。次の文章は山陽道について説明したものです。空らん(あ)と(い)に当てはまる語句の組み合わせとして正しいものを、次のア～エの中から一つ選び記号で答えなさい。

7世紀半ば、朝廷は(あ)に敗れると国防上の理由で街道の整備を進めました。山陽道は都へ行くためだけでなく、遠の朝廷と呼ばれた(い)を結ぶ重要な街道でもあり、外国からの使節も利用していました。

ア. (あ) 壬申の乱 — (い) 大宰府

イ. (あ) 壬申の乱 — (い) 多賀城

ウ. (あ) 白村江の戦い — (い) 大宰府

エ. (あ) 白村江の戦い — (い) 多賀城

問 9. Iについて、北九州市では毎年8月9日に平和祈念式典がおこなわれ、その日を忘れてはいけない日としています。その理由を説明しなさい。

2. 次の文章を読んで、各設問に答えなさい。

J R 武蔵野線の府中本町駅から新松戸駅間が①1973年に開業してから、2023年で50周年をむかえました。開業時には都内でも西国分寺、②新小平、新秋津の三駅が新たに設置されました。1978年には西船橋駅まで延伸され、1986年には③東京湾岸を走る京葉線を經由しての東京駅行きの電車も走るようになりました。

この路線が建設された目的はおもに貨物列車を走らせることでした。首都圏の④急激な人口増加により都心部を通過する従来の路線では貨物列車を走らせることが困難になったからです。そこで、都心部を迂回する路線の建設が求められたのです。しかし開通したころになると、貨物輸送の主役の座はトラックへと移り変わっていました。

国鉄民営化を経た1990年代以降になると、武蔵野線沿線でも⑤大規模な住宅地開発がおこなわれるようになりました。電車の本数も増え、⑥新しい駅も次々に設置されました。そして都心へと向かう路線との乗りかえ駅では朝夕の混雑が問題となるまでになっています。⑦比較的農地が残り近郊農業がおこなわれてきた沿線風景も次第に変わりつつあります。

貨物輸送にも、現在大きな期待が寄せられています。⑧「モーダルシフト」と呼ばれる動きが始まっているのです。開業当初には「お荷物」扱いだった武蔵野線ですが、今ではなくてはならない路線の一つとなっているのです。

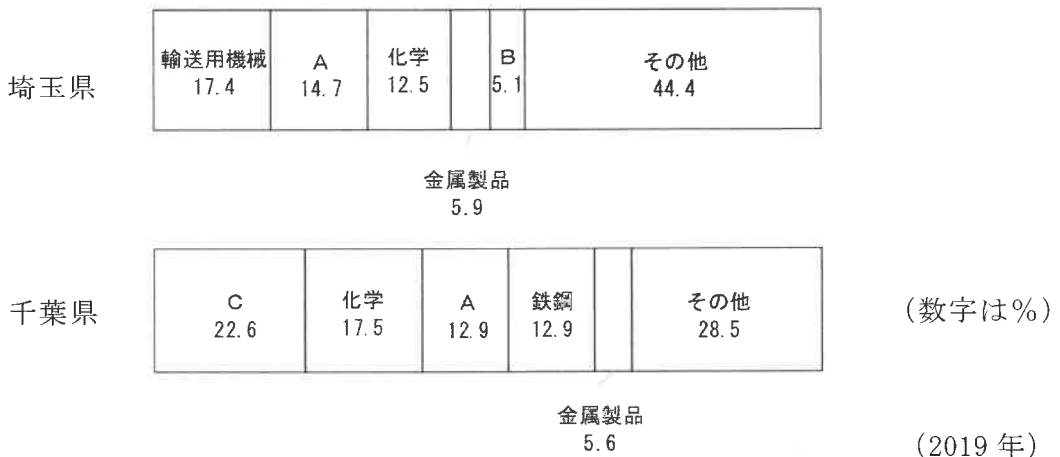
問1. 下線①について、1970年代の日本の様子として正しい文章を、次のア～エの中から一つ選び記号で答えなさい。

- ア. 国内での石炭生産量が増加し輸入量は減少した。
- イ. 貿易摩擦によりアメリカへの自動車輸出台数は減少した。
- ウ. 都市部では自動車や工場の増加による大気汚染が深刻化した。
- エ. ウルグアイラウンドの合意によりコメの輸入が義務化された。

問2. 下線②について、新小平駅周辺の村は江戸時代につくられました。その理由として正しい文章を、次のア～エの中から一つ選び記号で答えなさい。

- ア. 農民は朝廷から口分田を与えられ税を納めることになったため。
- イ. 寺社や有力農民はきそって荘園を開墾し勢力を強めたため。
- ウ. 幕府は新田を開発し年貢の増収をはかったため。
- エ. 関東大震災により被害を受けた都市からの人口流出が進行したため。

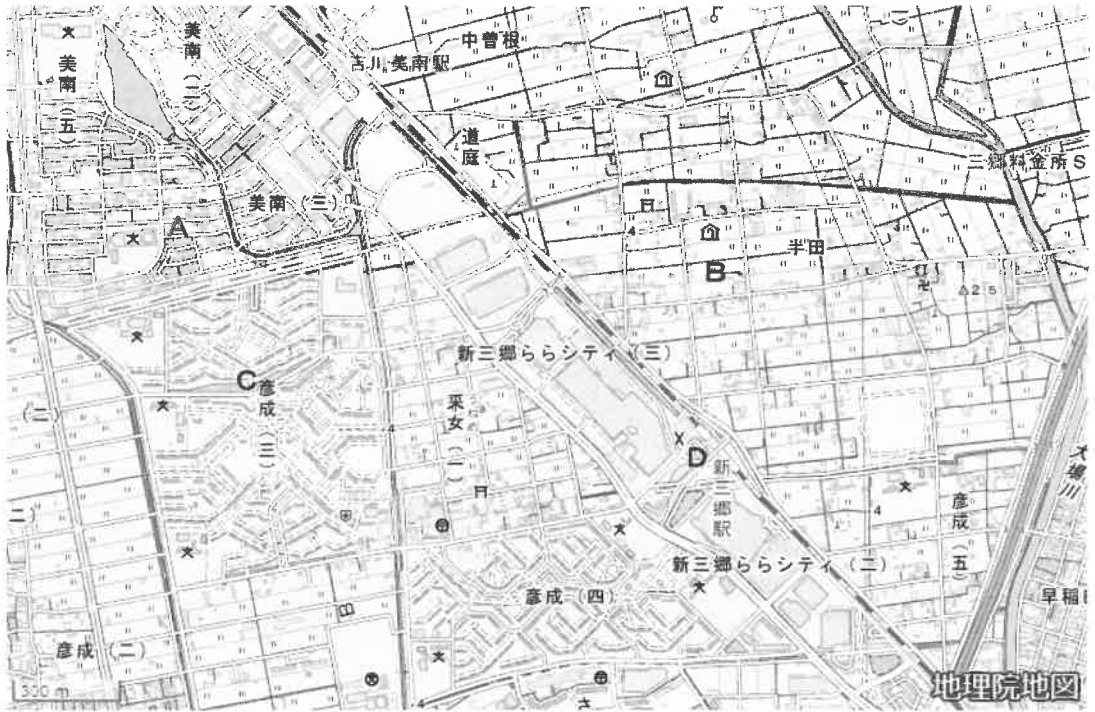
問3. 下線③について、次のグラフは、武蔵野線が通る埼玉県と、京葉線が通る千葉県の製造品出荷額等の割合を示したものです。グラフ中のA～Cが示す品目の組み合わせとして正しいものを、次のア～エの中から一つ選び記号で答えなさい。



- ア. A—食料品 B—印刷 C—石油・石炭製品
- イ. A—印刷 B—石油・石炭製品 C—せんい
- ウ. A—石油・石炭製品 B—せんい C—食料品
- エ. A—せんい B—食料品 C—印刷

問4. 下線④について、2023年に中国を抜いて人口が世界一位となったことが発表された国を答えなさい。

問5. 下線⑤について、次の地形図を見て、(1)～(3)の設問に答えなさい。



(1) 次の写真は、図中A～D地点のいずれかで撮影されたものです。C付近で撮影された写真として正しいものを、次のア～エの中から一つ選び記号で答えなさい。



- (2) 次の地形図は、前ページの地形図と同じ範囲の地形図で、1990年に発行されたものです。新旧の地形図の比較から読み取れることとして正しい文章を、次のア～エの中から一つ選び記号で答えなさい。



- ア. A周辺には新たに高等学校が設置された。
- イ. B周辺には新たに図書館が建設された。
- ウ. C周辺の標高が10m以上高くなった。
- エ. D周辺では駅の位置が一部変更された。
- (3) 図中から読み取れる地形で注意すべき自然災害について正しいものを、次のア～エの中から一つ選び記号で答えなさい。
- ア. 洪水による浸水 イ. 台風による液状化
- ウ. 大雨による土石流 エ. 人工熱によるヒートアイランド現象

問6. 下線⑥について、次の表中のA～Dは、2012年に設置された吉川美南駅のほか、新小平駅、新三郷駅、他路線との乗りかえ駅である南越谷駅いずれかの1日あたりの平均乗車人員数の推移を示しています。駅の組み合わせとして正しいものを、次のア～エの中から一つ選び記号で答えなさい。

年度	A	B	C	D
2012	1.7	11.1	68.6	16.2
2013	2.3	11.3	70.8	16.2
2014	2.9	11.2	70.9	15.9
2015	3.7	11.4	73.2	15.9
2016	4.1	11.5	74.1	15.7
2017	4.8	11.6	75.2	16.0
2018	5.1	11.4	75.7	16.0
2019	5.5	11.4	75.3	15.5
2020	4.6	8.5	56.3	11.9
2021	5.3	9.3	63.1	12.7
2022	5.9	10.2	67.8	13.1

(単位：千人、ただし小数点第2位以下は切り捨て)

(JR 東日本 HP より)

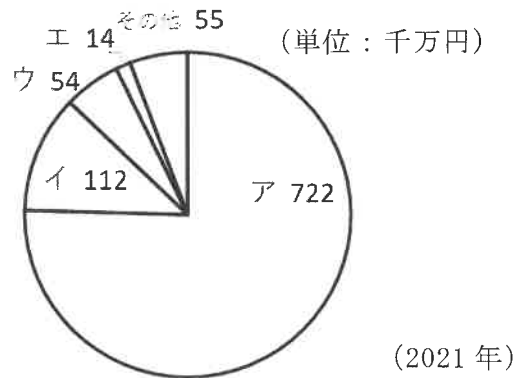
ア. (A) 吉川美南— (B) 南越谷— (C) 新小平

イ. (A) 新三郷— (C) 南越谷— (D) 吉川美南

ウ. (A) 吉川美南— (B) 新小平— (C) 南越谷

エ. (A) 新三郷— (C) 新小平— (D) 吉川美南

問7. 下線⑦について、次のグラフは、沿線にあるさいたま市の農業産出額を示したものです。ア～エはコメ、野菜、花き、果実のいずれかを示しています。野菜を示すものを、表のア～エの中から一つ選び記号で答えなさい。



問8. 下線⑧について、トラック輸送にかわって鉄道による貨物輸送が見直されています。その理由についてまがっている文章を、次のア～エの中から一つ選び記号で答えなさい。


- ア. 自然環境に与える影響が少ない。
- イ. 一度により多くの荷物を運べる。
- ウ. 時間通りに運ぶことができる。
- エ. 台風や地震などの自然災害に強い。

3. 次の会話文を読んで、各設問に答えなさい。

子) お父さん、このカード、お父さんの顔写真が入っているよ。これはなに。

父) これはマイナンバーカードっていうんだ。

①他の国にも似たようなものがあって、日本でも 2016 年から②政府が発行し始めたんだ。国民一人ひとりに割り当てられた 12桁の個人番号が記載されているんだよ。ダイキのカードも見てみるかい。



(東京港健康保険組合 HP より)

子) 名前、住所、性別、誕生日が書いてあるね。これはいつ使うの。

父) ③税金を納めたり④社会保障の給付を受け取ったりするときに、個人番号を会社に伝える必要があるんだ。あとは、⑤役所に書類を申請するときや銀行口座を開設するときの⑥本人確認書類として使ったりするかな。

子) 僕はまだ子どもだから大人になるまで使う機会はなさそうだね。

父) それが、紙で発行されている⑦健康保険証を廃止するという発表が政府から出ていて、その代わりにこのカードが必要になるらしい。

子) この一枚でいろんなことができるんだね。便利な分だけ、悪用されたら怖いな。なくさないようにしなきゃ。

父) そうだね。ダイキと同じように、⑧個人情報がもれることへの不安から、マイナンバーカードを請求しない人もいるらしい。カードをめぐるトラブルも相次いで、自主返納する人も出てきたそうだよ。

子) 他の国ではトラブルはなかったのかな。

父) ⑨他の国でもいろんな議論があって、個人番号の扱いについてもめた国もあるそうさ。

子) そうなんだ。国民一人ひとりの理解を得られるよう、トラブルなく制度が運営されるといいね。

問1. 下線①について、ダイキくんは他の国の制度やカードの内容を比較して
 みることにしました。次の表は、調べた内容をまとめたもので、日本の部分
 はこれから記入する予定です。この4か国を比較した文章(あ)と(い)
 について、その正誤の組み合わせとして正しいものを、次のア～エの中か
 ら一つ選び記号で答えなさい。

国名	スウェーデン	シンガポール	韓国	日本
名称	個人識別番号	国民登録番号	住民登録番号	
導入年	1947年	1948年(※)	1968年	
背景	住民登録を家族単位から個人単位で管理するため	不法移民等を取り締まるため	スパイの侵入や犯罪を防ぐため	
番号	10桁	9桁	13桁	
カード記載内容	顔写真、氏名、生年月日、性別	顔写真、氏名、民族、生年月日、性別、出生地、住所	顔写真、氏名、住所	
利用範囲	行政分野(税、社会保障) 民間分野(銀行、卸売、小売)	行政分野(税、社会保障、教育) 民間分野(銀行、保険、学校教育)	行政分野(税、社会保障) 民間分野(銀行、教育)	

(※) イギリス統治下で制度が導入された。

(出典) デジタル庁「諸外国における共通番号制度を活用した行政手続のワンスオンリーに関する取組等の調査研究(報告書)」

(出典) 総務省「諸外国における国民ID制度の現状等に関する調査研究(報告書)」

(あ) 4か国いずれも、2000年までに共通番号制度が導入されている。

(い) 4か国いずれも、銀行など民間分野でカードの利用が可能である。

ア. (あ) 正 - (い) 正 イ. (あ) 正 - (い) 誤

ウ. (あ) 誤 - (い) 正 エ. (あ) 誤 - (い) 誤


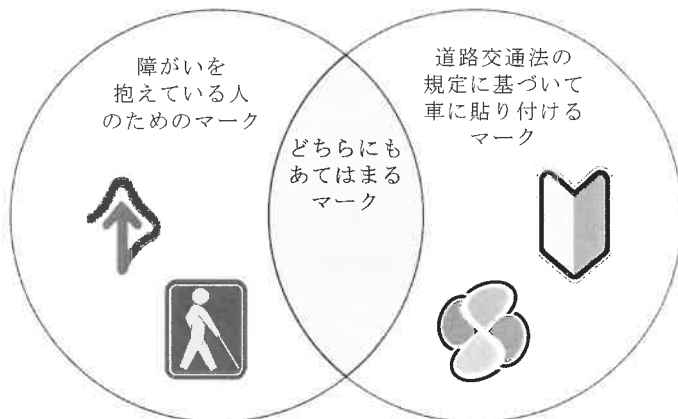
問 2. 下線②について、日本では一つの機関が国家権力を独占しないよう、複数の機関に国家権力を分散するしくみを採用しています。このしくみの名称を漢字四字で答えなさい。

問 3. 下線③について、2023 年 10 月から、ある税金に関して新しい制度が導入されました。これに対し、企業や団体に属さず個人で契約を結んで働く人の多くが、首相官邸前で抗議活動をおこないました。この制度の名称と制度に関わる税金の組み合わせとして正しいものを、次のア～エの中から一つ選び記号で答えなさい。

ア. オンブズマン制度－住民税 イ. インボイス制度－住民税

ウ. オンブズマン制度－消費税 エ. インボイス制度－消費税

問 4. 下線④について、日本ではさまざまな事情を抱えている人をサポートする取り組みがおこなわれています。次の図は、日本で使われているシンボルマークを種類別に分けたものです。重なっている部分にあてはまるシンボルマークを、次のア～エの中から一つ選び記号で答えなさい。



問 5. 下線⑤について、役所の仕事を広域でおこなえるようにするため実施した政策を、次のア～エの中から一つ選び記号で答えなさい。

ア. 市町村合併 イ. 裁判員制度 ウ. ふるさと納税

エ. 累進課税制度

問 6. 下線⑥について、本人確認書類として使用されるパスポートを発行している省庁を、次のア～エの中から一つ選び記号で答えなさい。

ア. 法務省 イ. 防衛省 ウ. 外務省 エ. 国土交通省

問 7. 下線⑦について、健康保険証が発行される年齢として正しいものを、次のア～エの中から一つ選び記号で答えなさい。

ア. 0 歳から イ. 12 歳から ウ. 18 歳から エ. 20 歳から

問 8. 下線⑧について、プライバシー権に関する説明として正しい文章を、次のア～エの中から一つ選び記号で答えなさい。

ア. 日本国憲法の第 14 条に規定された平等権によって保障されている権利である。

イ. 日本国憲法の第 18 条～第 23 条に規定された自由権によって保障されている権利である。

ウ. 日本国憲法の第 25 条に規定された生存権によって保障されている権利である。

エ. 日本国憲法の条文に直接の規定がなく判例などによって認められるようになった権利である。

問9. 下線⑨について、次の文章は、個人番号の取り扱いについてもめた国とその理由をまとめたものです。次の(1)と(2)の設問に答えなさい。

【ドイツ】

1970年ごろに共通番号を割り振ることを検討したが、第二次世界大戦中に強制収容所で(あ)系の人々に番号を割り振って管理していたことなどの歴史から反対の声もあり導入は断念された。現在は行政機関ごとに異なる番号で管理している。

【イギリス】

2000年代にテロ防止や不法就労対策の観点からIDカードの導入が検討されたが、政府による国民の監視につながるなどの批判があり、政権交代にもなって廃止された。

(1) 空らん(あ)について、空らんに入る語句を、次のア～エの中から一つ選び記号で答えなさい。

ア. アラブ イ. ユダヤ ウ. ラテン エ. スラブ

(2) 波線について、イギリスの政治制度の説明として正しい文章を、次のア～エの中から一つ選び記号で答えなさい。

ア. イギリスは日本と同じ大統領制を採用している。

イ. イギリスは日本と同じ議院内閣制を採用している。

ウ. イギリスはアメリカと同じ大統領制を採用している。

エ. イギリスはアメリカと同じ議院内閣制を採用している。

社会解答用紙

採点欄

1

問1	問2	問3
問4 (1)	問4 (2)	問5
問6	問7	問8
問9		

県

	点
--	---

2

問1	問2	問3
問4	問5 (1)	問5 (2)
問5 (3)	問6	問7
問8		

	点
--	---

3

問1	問2	問3
問4	問5	問6
問7	問8	問9 (1)
問9 (2)		

	点
--	---

受験番号	氏名

評点