

社 会

【注 意】

1. 開始の合図があるまで開けないこと。
2. 問題は1ページから14ページまでに印刷してあります。
開けたらすぐにページを確かめること。
3. 答えはすべて解答用紙に記入すること。下書きは問題用紙の余白を利用すること。
4. 試験終了後は、まず解答用紙を回収し、そのあと問題用紙も回収しますが、問題用紙には名前を書く必要はありません。

1. 次のA～Iの歌を読んで、各設問に答えなさい。

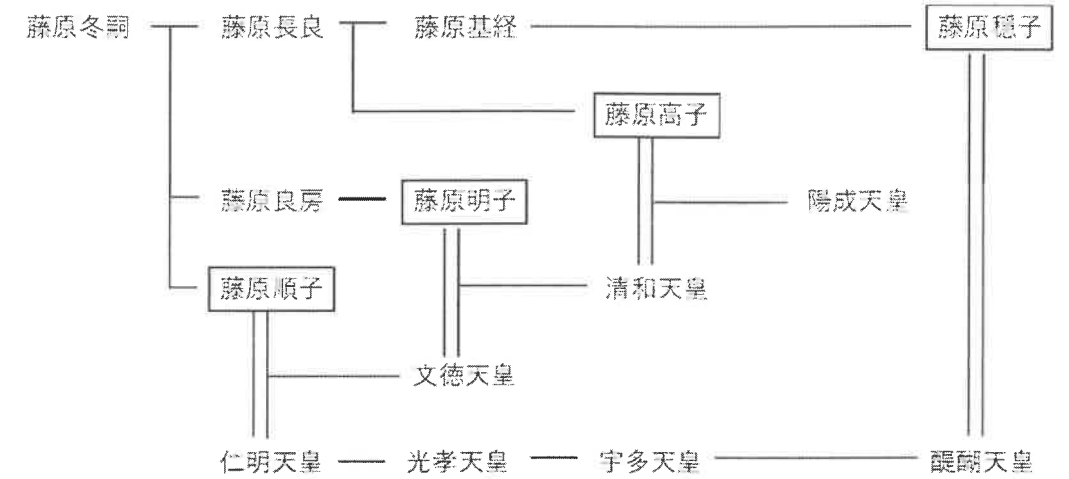
- A. 春過ぎて 夏来にけらし 白妙の 衣干すちょう 天の香具山
- B. ちはやぶる 神代も聞かず 竜田川 からくれなゐに 水くくるとは
- C. 東風吹かば 匂いおこせよ 梅の花 あるじなしとて 春な忘れそ
- D. 人間五十年 下天のうちをくらぶれば 夢幻の如くなり
- E. なれや知る 都は野辺の 夕ひばり あがるを見ても 落つる涙は
- F. 古池や 蛙飛び込む 水の音
- G. 身はたとえ 武蔵の野辺に 朽ちぬとも 留めおかまし 大和魂
- H. 柿くえば 鐘が鳴るなり (㉞)
- I. 地図の上 朝鮮国に くらぐると 墨をぬりつつ 秋風を聴く

問1. 次の文章は、Aの歌を説明したものです。文章中の空らん(あ)・(い)に入る適切な語句の組み合わせを、次のア～エの中から一つ選び記号で答えなさい。

Aの歌をうたった持統天皇は中国の都を参考にして(あ)を築きました。奈良県の飛鳥池遺跡から出土した当時の貨幣である(い)は(あ)を建設するさいの費用にあてられたという説もあります。歌の最後にある「天の香具山」とは、かつての都である(あ)の東に位置する山であり、畝傍山・耳成山にならぶ大和三山の一つです。天上から降りてきたという神話があることから「天の香具山」と呼ばれています。

- ア. (あ) 藤原京 - (い) 富本銭 イ. (あ) 藤原京 - (い) 永楽通宝
- ウ. (あ) 平城京 - (い) 富本銭 エ. (あ) 平城京 - (い) 永楽通宝

問2. 次の系図は、B・Cの歌に関係するものです。系図について、(1)と(2)の設問に答えなさい。



※名前が四角で囲まれた人物は女性

(1) Bは在原業平が藤原高子によんだとも言われる歌です。藤原高子について説明した文章(あ)と(い)について、その正誤の組み合わせとして正しいものを、次のア～エの中から一つ選び記号で答えなさい。

- (あ) 藤原高子は藤原冬嗣の孫であり、藤原基経の子である。
- (い) 陽成天皇は、藤原高子と清和天皇の子である。

- ア. (あ) 正 - (い) 正 イ. (あ) 正 - (い) 誤
- ウ. (あ) 誤 - (い) 正 エ. (あ) 誤 - (い) 誤

(2) 系図中の醍醐天皇は、Cの歌をよんだ人物と政治の改革をおこないました。Cの歌をよんだ人物の提案により使節の派遣が廃止された国を、次のア～エの中から一つ選び記号で答えなさい。

- ア. 新羅 イ. 渤海 ウ. 隋 エ. 唐

問3. Dは幸若舞（室町時代に始まった語りをともなう舞）の演目の一つである『敦盛』の一節です。これについて、(1)と(2)の設問に答えなさい。

(1)『敦盛』は、源平の合戦を描いた演目です。源平の合戦についてまちがっている文章を、次のア～エの中から一つ選び記号で答えなさい。

- ア. 源頼朝は、北条氏の力をかりて兵をあげた。
- イ. 一ノ谷の戦いでは平氏が勝利した。
- ウ. 屋島の戦いでは源氏方の那須与一が活躍した。
- エ. 壇ノ浦の戦いでは源氏が勝利した。

(2)『敦盛』は、織田信長が好んで舞っていたという記録があります。織田信長に関係があるものを、次のア～エの中から一つ選び記号で答えなさい。

- ア. 太閤検地
- イ. 刀狩令
- ウ. 楽市令
- エ. 朝鮮出兵

問4. Eは応仁の乱で荒れはてた京都の様子をなげいた歌です。応仁の乱よりも後に起こったできごととして正しい文章を、次のア～エの中から一つ選び記号で答えなさい。

- ア. 足利義満は、対立する南朝と北朝を一つにまとめた。
- イ. 後醍醐天皇は、幕府と対立して吉野に逃れた。
- ウ. 近江国の馬借が中心となり、正長の土一揆が起こった。
- エ. 加賀国では一向宗の信者が中心となり、守護をたおした。

問5. Fは江戸時代に成立した俳句です。この時代の説明としてまちがっている文章を、次のア～エの中から一つ選び記号で答えなさい。

- ア. 江戸などの上方では、商人を中心とした文化が栄えた。
- イ. 近松門左衛門は、人形浄瑠璃や歌舞伎の作品を手がけた。
- ウ. 新井白石は、貨幣の質を良くして物価の安定につとめた。
- エ. 徳川綱吉は、動物などを保護する政策を実施した。

問6. Gは吉田松陰が処罰される直前に残した句です。吉田松陰を処罰した人物として正しいものを、次のア～エの中から一つ選び記号で答えなさい。

- ア. 木戸孝允
- イ. 井伊直弼
- ウ. 徳川慶喜
- エ. 高杉晋作

問7. Hは正岡子規の俳句です。空らん（㊦）にあてはまる寺院として正しいものを、次のア～エの中から一つ選び記号で答えなさい。

- ア. 法隆寺
- イ. 東大寺
- ウ. 本願寺
- エ. 飛鳥寺

問8. Iは石川啄木が朝鮮半島で起きたできごとについてよんだ短歌です。日本と朝鮮半島の関係について正しい文章を、次のア～エの中から一つ選び記号で答えなさい。

- ア. 朝鮮半島に関東軍をおいて、軍隊と警察による支配をおこなった。
- イ. 朝鮮の学校では、日本の歴史・地理などを教えることはなかった。
- ウ. 第二次世界大戦後には、朝鮮半島南部に大韓帝国が成立した。
- エ. 朝鮮戦争が始まると、日本はアメリカを支援して好景気となった。

2. 次の文章とポスターを見て、各設問に答えなさい。

2023年に、広島県では主要国首脳会議（G7サミット）が開催される予定です。先進国①7か国とEUの代表が集まり、世界の諸課題について話し合います。中学生のもみじさんは広島県について、次のようにポスターにまとめました。

G7サミットが開催される広島県

東京電機大学中学校 安芸もみじ

1. 広島県の概要

広島県は中国地方に位置していて（②）海に面しています。県全体の人口はおよそ280万人で、海沿いの都市に人口が集中しています。③海沿いは年間降水量が少なくおだやかな気候です。一方、県北部には中国山地があり、雪が降ることもあります。このような背景から、県北部の山間部では④過疎化が進んでいます。



2. 広島市について

広島市は広島県の県庁所在地で、⑤政令指定都市です。中国・四国地方で最大の人口を有する都市であり、大企業の支店や行政支局が多く設置されています。写真のように⑥太田川の河口に位置するため、「水の都」と言われています。



3. 広島県の歴史

広島市や呉市は、明治以降、軍事都市として栄えました。そのような背景もあって、第二次世界大戦では多くの場所で空襲があり、広島市には⑦原爆が落とされ、大きな被害を受けました。戦後は復興を果たし、広島市は平和都市として、世界に原爆の恐ろしさを伝えています。

4. 広島県の産業

広島県沿岸部は（②）工業地域に位置し、特に自動車産業がさかんです。また、（②）海の島々では、昔から製塩業や⑧果実の栽培がさかんにおこなわれてきました。このほか、⑨広島県には多くの観光地があるため、観光業もさかんになっています。

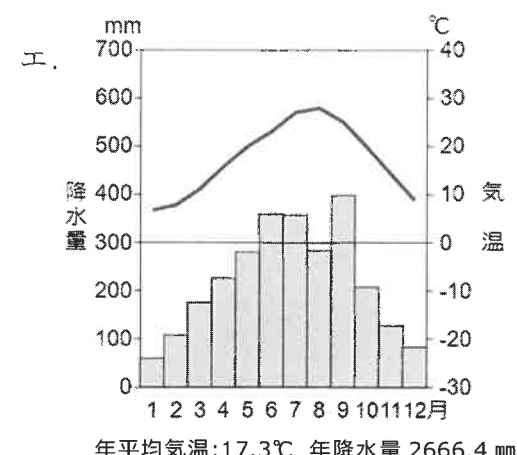
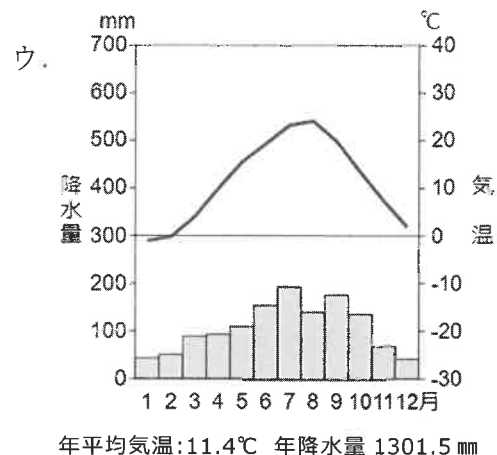
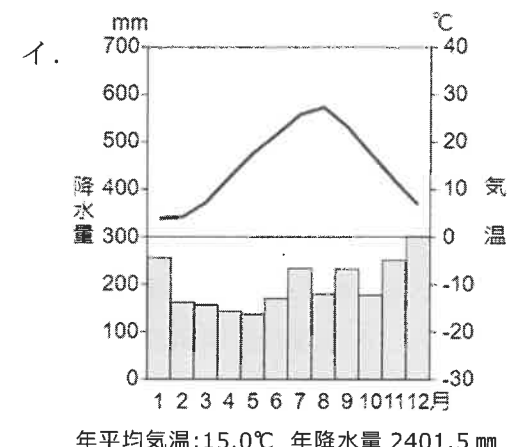
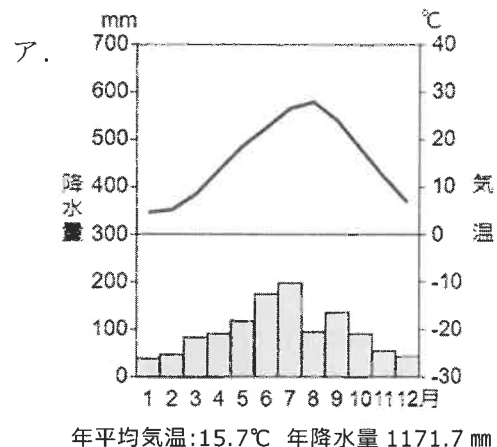
問1. 下線①について、選択肢の国々がすべてG7を構成する7か国にふくまれるものを、次のア～エの中から一つ選び記号で答えなさい。

ア. アメリカ・フランス・中国 イ. カナダ・ドイツ・日本

ウ. ロシア・イギリス・インド エ. オーストラリア・イタリア・韓国

問2. 空らん（②）について、空らんに入る語句を漢字三字で答えなさい。

問3. 下線③について、広島県福山市の雨温図として正しいものを、次のア～エの中から一つ選び記号で答えなさい。



問4. 下線④について、過疎化した地域で起こることとしてまちがっている文章を、次のア～エの中から一つ選び記号で答えなさい。

- ア. 住民の高齢化が進み、町内会などの自治組織が活動できなくなる。
- イ. 空き家や耕作放棄地が増え、イノシシなどによる農業被害が増える。
- ウ. 鉄道やバスが減便や廃止され、自家用車に頼らざるをえなくなる。
- エ. 水道や電気などが使えなくなり、都市部への移住を強制される。

問5. 下線⑤について、政令指定都市が一つしかない県を、次のア～エの中から一つ選び記号で答えなさい。

- ア. 埼玉県 イ. 神奈川県 ウ. 静岡県 エ. 福岡県

問6. 下線⑥について、太田川の河口には写真のような船（浚渫船）が見られます。これに関して説明した次の文章中の空らん（X）・（Y）に入る適切な語句の組み合わせを、次のア～エの中から一つ選び記号で答えなさい。

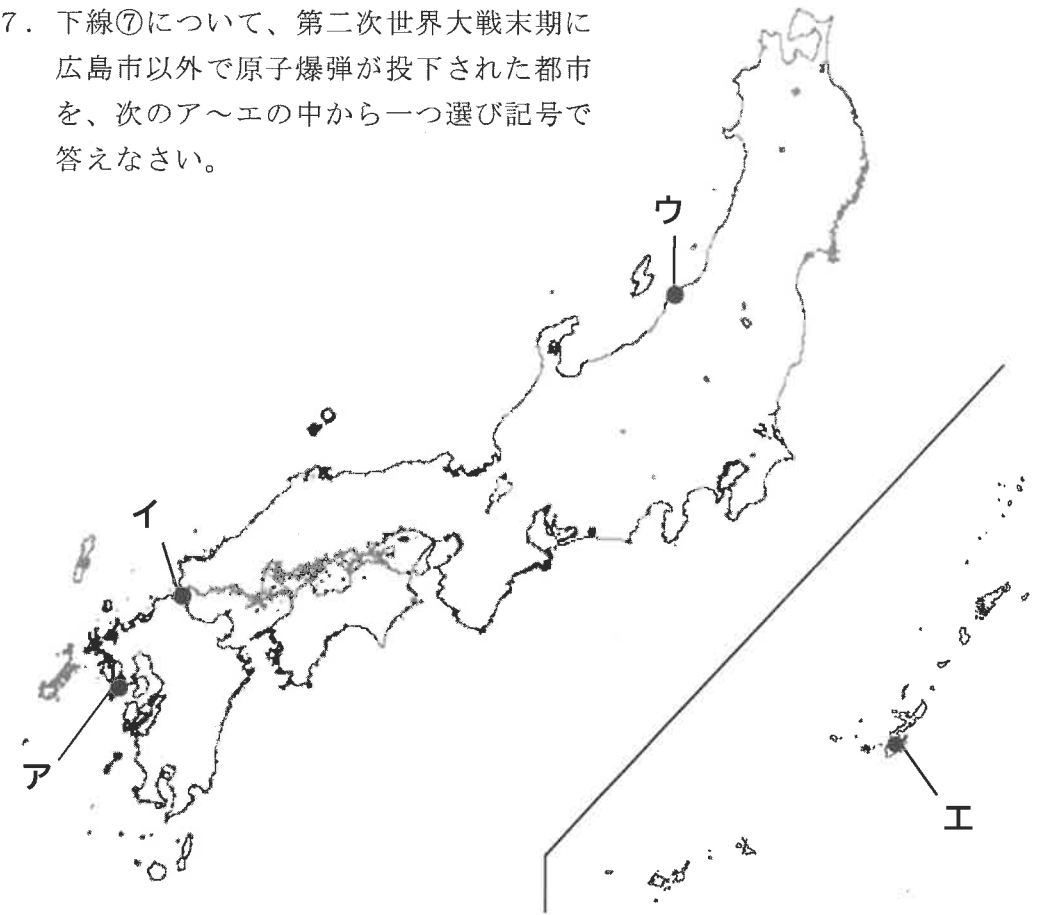


（出典：一般社団法人日本作業船協会）

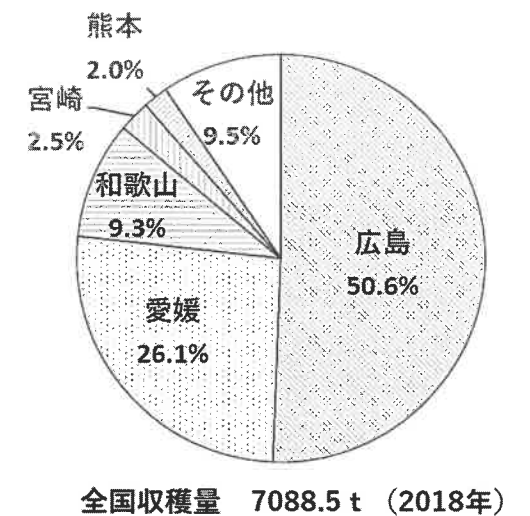
この辺りの地形は、（ X ）と呼ばれ、（ Y ）によって運ばれた土砂がたまってできた地形である。河口付近にも土砂がたまるため、浚渫船を使って海底の土砂を定期的に取り除き、港の機能を維持している。

- ア. （X）扇状地 - （Y）河川の流れ
- イ. （X）扇状地 - （Y）海の波の力
- ウ. （X）三角州 - （Y）河川の流れ
- エ. （X）三角州 - （Y）海の波の力

問7. 下線⑦について、第二次世界大戦末期に広島市以外で原子爆弾が投下された都市を、次のア～エの中から一つ選び記号で答えなさい。



問8. 下線⑧について、次のグラフはある果実の都道府県別収穫量の割合です。この果実にあてはまるものを、次のア～エの中から一つ選び記号で答えなさい。



- ア. りんご イ. レモン
- ウ. ぶどう エ. さくらんぼ

問9. 下線⑨について、次の写真のうち、広島県内にある観光地の組み合わせとして正しいものを、次のア～エの中から一つ選び記号で答えなさい。

A.



B.



C.



D.



ア. AとC イ. AとD ウ. BとC エ. BとD

問10. ポスターの地図について、(あ)・(い)に入る県の組み合わせとして正しいものを、次のア～エの中から一つ選び記号で答えなさい。

ア. (あ) 島根県 - (い) 岡山県 イ. (あ) 岡山県 - (い) 島根県

ウ. (あ) 鳥取県 - (い) 山口県 エ. (あ) 山口県 - (い) 鳥取県

3. 次の文章を読んで、各設問に答えなさい。

世界の首都の移り変わり

インドネシアの場合 (2024年開始予定)

(首都) 移転前: ジャカルタ → 移転後: ヌサンタラ

(理由) ・人口集中による①交通渋滞が深刻なため
・地盤沈下と②海面上昇による水没の危機があるため

ドイツの場合 (1999年実施)

(首都) 移転前: ボン、ベルリン → 移転後: ベルリン

(理由) ・③冷戦が終結し東西に分かれていたドイツを統一することになり、その象徴として首都を一つにする必要があったため

ナイジェリアの場合 (1991年実施)

(首都) 移転前: ラゴス → 移転後: アブジャ

(理由) ・人口密度が高く生活環境が悪化したため
・④部族対立解決のため国の中央に首都を設置する必要があったため

⑤ブラジルの場合 (1960年実施)

(首都) 移転前: リオデジャネイロ → 移転後: ブラジリア

(理由) ・植民地支配の歴史から脱却し独自の首都建設が提案されたため
・沿岸部の人口集中が激しく内陸部との⑥経済格差が大きかったため

子: お父さん見て、インドネシアの首都が変わるってニュースになってるよ。
父: どれどれ。本当だな。このニュースによると、インドネシア以外にも過去に首都が変わった国がいっぱいあるんだな。
子: ほんとだね。ニュースに出てきている国の事例を見ると、ドイツ以外の国の原因は (⑦) という共通点があるね。
父: そうだな。ちなみに同じ理由で、日本でも首都機能を東京から分散させたらどうか、という話が出ているのは知っているかな。
子: そうなんだ。知らなかった。どんな計画なの。
父: ⑧三権の中枢機関を他の都市に分散させる計画らしい。移転費用の⑨財源確保が難しく議論は中断してしまったが、省庁を移転させる計画は進んでいるぞ。例えば、文化庁は (⑩) に移転することが決まっている。
子: 世界遺産に登録されている文化財もたくさんあるし、移転先としてふさわしいね。

問1. 下線①について、次の表は、「世界渋滞都市ランキング」です。この表から読み取れることとして正しい文章を、次のア～エの中から一つ選び記号で答えなさい。

2019年			2021年		
1位	バンガロール (インド)	71%	1位	イスタンブール (トルコ)	62%
2位	マニラ (フィリピン)	71%	2位	モスクワ (ロシア)	61%
3位	ボゴタ (コロンビア)	68%	3位	キーウ (ウクライナ)	56%
4位	ムンバイ (インド)	65%	4位	ボゴタ (コロンビア)	55%
5位	プネ (インド)	59%	5位	ムンバイ (インド)	53%
6位	モスクワ (ロシア)	59%	6位	オデッサ (ウクライナ)	51%
7位	リマ (ペルー)	57%	7位	サンクトペテルブルク (ロシア)	50%
8位	ニューデリー (インド)	56%	8位	ブカレスト (ルーマニア)	50%
9位	イスタンブール (トルコ)	55%	9位	ノボシビルスク (ロシア)	48%
10位	ジャカルタ (インドネシア)	53%	10位	バンガロール (インド)	48%

(TomTom 社 HP より)

※表中の数字 (%) は、その都市の混雑度をしめす。数字が大きいほど、混雑していることを表している。

- ア. 2019年と2021年ともアフリカの都市がランクインしている。
- イ. 2019年と比べて2021年はすべての都市で渋滞の改善がみられた。
- ウ. 2019年と比べて2021年はランクインしたアジアの都市の数は減少した。
- エ. 2019年にランクインしている都市のうち、2021年もランクインしている都市は3つである。

問2. 下線②について、次の文章は、海面上昇について説明したものです。文章中の空らん (X)・(Y) に入る適切な語句の組み合わせを、次のア～エの中から一つ選び記号で答えなさい。

海面上昇とは、氷河がとけたりすることで海面が高くなる現象のことをいいます。海面上昇を防ぐためには世界が協力して対策をとる必要があります。実際に各国では、二酸化炭素の排出量を削減するため、(X) への転換を進めようとしています。具体的には、(Y) などに切り替え、持続可能な社会を目指す工夫をしています。

- ア. (X) 自然エネルギー — (Y) 化石燃料
- イ. (X) 自然エネルギー — (Y) バイオマス燃料
- ウ. (X) 化学エネルギー — (Y) 化石燃料
- エ. (X) 化学エネルギー — (Y) バイオマス燃料

問3. 下線③について、冷戦の説明として正しい文章を、次のア～エの中から一つ選び記号で答えなさい。

- ア. 資本主義を主張するアメリカと、社会主義を主張するソ連との対立。
- イ. 資本主義を主張するソ連と、社会主義を主張するアメリカとの対立。
- ウ. 社会主義を主張するアメリカと、民本主義を主張するソ連との対立。
- エ. 社会主義を主張するソ連と、民本主義を主張するアメリカとの対立。

問4. 下線④について、部族対立などで発生する難民を保護・支援する国連機関の略称を、次のア～エの中から一つ選び記号で答えなさい。

- ア. WHO イ. WTO ウ. UNHCR エ. UNESCO

問5. 下線⑤について、ブラジルの移転についてしめした地図として正しいものを、次のア～エの中から一つ選び記号で答えなさい。

ア.



イ.



ウ.



エ.



問6. 下線⑥について、低所得者と高所得者の経済格差を縮小させる手だてとしてまちがっている文章を、次のア～エの中から一つ選び記号で答えなさい。

- ア. 最低賃金を上げる。
- イ. 消費税の税率を一律に上げる。
- ウ. 所得税の税率に累進課税制度を設ける。
- エ. 生活保護費を支給するなど社会保障制度を充実させる。

問7. 空らん(⑦)について、空らんにあてはまる文章を自分で考えて答えなさい。

問8. 下線⑧について、三権とその中枢機関の組み合わせとして正しいものを、次のア～エの中から一つ選び記号で答えなさい。

- ア. (立法) 裁判所 - (行政) 内閣 - (司法) 国会
- イ. (立法) 国会 - (行政) 裁判所 - (司法) 内閣
- ウ. (立法) 内閣 - (行政) 国会 - (司法) 裁判所
- エ. (立法) 国会 - (行政) 内閣 - (司法) 裁判所

問9. 下線⑨について、財政赤字を抱える現在の日本では、国の借金を国民一人あたりになおしてみると、約1000万円以上になるといわれています。日本が抱える借金の総額として一番近いものを、次のア～エの中から一つ選び記号で答えなさい。

- ア. 125兆円
- イ. 350兆円
- ウ. 1250兆円
- エ. 3350兆円

問10. 空らん(⑩)について、空らんにあてはまる都市として正しいものを、次のア～エの中から一つ選び記号で答えなさい。

- ア. 福岡市
- イ. 札幌市
- ウ. 神戸市
- エ. 京都市

社会解答用纸

採点欄

1

問1	問2(1)	問2(2)
問3(1)	問3(2)	問4
問5	問6	問7
問8		

点

2

問1	問2	問3
問4	問5	問6
問7	問8	問9
問10		

点

3

問1	問2	問3
問4	問5	問6
問7		
問8	問9	問10

点

受験番号	氏名

評点