

1. 次のA～Gの文章を読んで、各設問に答えなさい。

- A. 邪馬台国の王であるこの人物は、魏の皇帝に「親魏倭王」として認められた。占いをおこない、謎めいたリーダーとしてイメージされることが多いが、「魏志倭人伝」によると占いの結果を伝えるのは弟の役目であり、自身は一步も外に出ることがなかったという。
- B. 天皇中心の国家をつくるために立ち上がり、①大化の改新をおこなった政治家である。行動力のある政治のリーダーであったが、弟の②大海人皇子の妻である額田王^{ぬかたのおおきみ}を気に入り、別れさせたあとに自らの妻にしてしまう強引な性格であった。額田王の歌は『③万葉集』に収録されている。
- C. ④聖武天皇と光明皇后の娘であり、⑤女性官僚を積極的に登用した人物として知られている。しかし、自分の病気を治してくれた道鏡という僧を気に入り、次の天皇に任命してしまう。その嘘を見破った和氣清麻呂^{わけのきよまろ}を流罪にするだけでなく、「穢麻呂^{きみなまろ}」という変なあだ名をつけてしまったという。
- D. ⑥摂関政治期に天皇よりも強い権力をもち、朝廷を自由自在にあやつた人物だ。すべてを手に入れた自分自身を満月にたとえた「望月の歌」は有名だ。しかし、その直後から体調を崩し倒れる。ぜいたくなものを食べすぎたことが原因と言われている。
- E. 日本で⑦キリスト教を布教したことで有名な人物だ。しかし、通訳のアンジロウは、この人物を「インドからきたお坊さん」と紹介したり、「キリスト教の神様は大日如来^{だいにとちによらい}」と説明してしまった。そのため、この人物の布教活動はあまりうまくいかなかったという。
- F. 江戸城内に⑧大奥をつくり、将軍の身の回りの世話をする女性たちの頂点に立ち、将軍に意見して政治を動かす力を持っていた。ある時、自分でつくった門限に遅れてしまい、普段から厳しくルールを守らせていたこともあり、自らも特別扱いせず、門の前で野宿することになったという。
- G. 福島の貧しい農家に生まれ、1才の時に大やけどをして、左手を開くことができなくなってしまった。しかし、勉強に励み、アメリカの医学界で認められ、ノーベル生理学・医学賞候補に選ばれた。その一方で浪費家の面もあり、恩師に借金の支払いを肩代わりしてもらうなど、だらしないところもあった。

問1. 下線①について、正しい文章を、次のア～エの中から一つ選び記号で答えなさい。

- ア. 隋や唐の政治の仕組みを学んできた留学生は参加しなかった。
- イ. 聖徳太子がなくなったあとに起こった出来事である。
- ウ. 和を大切にし、争いをやめるよう朝廷の役人の心得をしめした。
- エ. これまで国家が所有していた土地や民を豪族のものとした。

問2. 下線②について、大海人皇子は壬申の乱に勝利し天武天皇となりました。次の文章を読んで、正しい文章になるような語句の組み合わせを、次のア～エの中から一つ選び記号で答えなさい。

これまで「大王」であった称号を「(あ)」に、「倭国」を「(い)」と改めるなど、天皇中心の中央集権国家をめざした。

- ア. (あ) 天子 — (い) 奴国 イ. (あ) 天子 — (い) 日本
- ウ. (あ) 天皇 — (い) 奴国 エ. (あ) 天皇 — (い) 日本

問3. 下線③について、次のうたは『万葉集』に収録された「防人のうた」です。このうたの説明として正しい文章を、次のア～エの中から一つ選び記号で答えなさい。

韓衣^{かなころも}、裾^{すそ}に取りつき泣く子らを、置きてぞ来ぬや母なしにして

- ア. 国を守るために九州に行く兵士の悲しみを表している。
- イ. 政治家の不正を批判したようすを表している。
- ウ. 重い税によって生活が苦しくなったつらさを表している。
- エ. 都で強盗や放火などが相次いだようすを表している。

問4. 下線④について、聖武天皇と光明皇后の時代について正しい文章を、次のア～エの中から一つ選び記号で答えなさい。

- ア. 都では貴族の争いが起こり、地方ではききんが起っていた。
- イ. 聖武天皇は全国に神社をつくったが、寺院をつくることはなかった。
- ウ. この頃の都である平安京には各地の品物を売る市が開かれていた。
- エ. 外交的な混乱をさけるため、朝鮮からの渡来人の受け入れを禁じた。

問5. 下線⑤について、日本で女性が参政権を得た時期について正しい文章を、次のア～エの中から一つ選び記号で答えなさい。

- ア. 国民が選んだ議員からなる国会をめざして自由民権運動が起こった。
- イ. 治安維持法が制定され思想の取り締まりがきびしくなった。
- ウ. アメリカを中心とした連合軍が日本を民主化した。
- エ. 日米安全保障条約に対する激しい反対運動が起こった。

問6. 下線⑥について、摂関政治期の貴族の屋敷にないものを、次のア～エの中から一つ選び記号で答えなさい。

- ア. 畳 イ. 釣りができる部屋 ウ. 枯山水 エ. 大きな池

問7. 下線⑦について、正しい文章を、次のア～エの中から一つ選び記号で答えなさい。

- ア. 東日本から布教が始まった。
- イ. 民衆に広まったが大名には広まらなかった。

ウ. 織田信長は教会を建てることを禁止した。

エ. 江戸時代においてキリスト教徒は弾圧された。

問8. 下線⑧について、徳川吉宗は増えすぎた大奥の女性たちの人数を減らしたりするなど、幕府の改革をおこないました。この改革の名称として正しいものを、次のア～エの中から一つ選び記号で答えなさい。

- ア. 享保の改革 イ. 寛政の改革 ウ. 天保の改革
- エ. 安政の改革

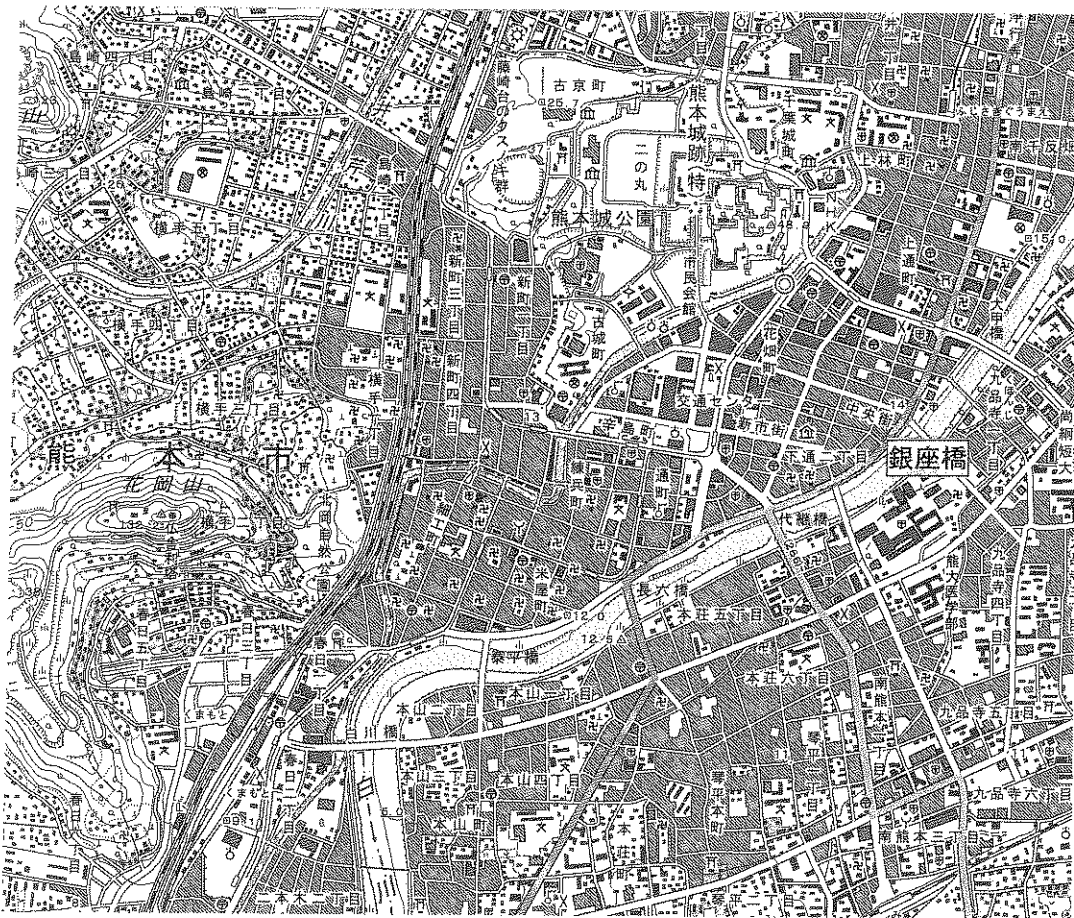
問9. Dの人物の子が建てた京都府宇治市にある阿弥陀堂^{あみだどう}を、次のア～エの中から一つ選び記号で答えなさい。

- ア. 中尊寺金色堂 イ. 平等院鳳凰堂 ウ. 法隆寺金堂
- エ. 東大寺大仏殿

問10. A・E・Gの人物の組み合わせとして正しいものを、次のア～エの中から一つ選び記号で答えなさい。

- ア. (A) 推古天皇 - (E) フロイス - (G) 野口英世
- イ. (A) 卑弥呼 - (E) フロイス - (G) 新渡戸稲造
- ウ. (A) 推古天皇 - (E) ザビエル - (G) 新渡戸稲造
- エ. (A) 卑弥呼 - (E) ザビエル - (G) 野口英世

2. 次の地形図と文章を読んで、各設問に答えなさい。



(国土地理院発行 2万5千分の1地形図「熊本」より)

熊本市は九州地方のほぼ中央に位置しています。人口は約74万人で、九州地方では(①)市、②北九州市に次いで三番目です。この都市のシンボルは何といても熊本城です。③2016年の地震により大きな被害を受け、復旧にはまだまだ多くの時間がかかるとのこと。

地形図を使って、中心部のようすを観察してみましょう。市の中心部を流れる大きな川が白川で、過去にたびたび洪水を発生させてきたことで知られる暴れ川です。④現在も活発な火山活動を続けている阿蘇山のおもとから流れてきます。熊本城はこの白川にかかる銀座橋から見て(⑤)方向に築かれ、城跡のすぐとなりには(⑥)があることから、このあたりは現在も行政の中心エリアであることが分かります。

次に、近年、新幹線も開通した熊本駅を探してみましょう。駅は町の中心部から離れたところにあるのが分かります。これは鉄道が開通した時点で、すでに市街地ができあがっており、そのために駅は当時の町はずれにつくられたと考えられます。現在、熊本駅から市の中心部へは⑦路面電車が走っており、移動に不便さはあまり感じられないのではないのでしょうか。

さらに熊本市について資料を使って調べてみると、⑧市の上水道は100%地下水を使用していることが分かりました。これだけの人口規模の都市では日本で唯一です。こうした豊富な水資源などに恵まれていることから、⑨熊本市やその周辺には多くの工場が進出しています。

東京や大阪といった大都市以外にも、こうした⑩地方都市が各地にあることに注目することも大切でしょう。

問1. 空らん(①)について、空らん適切な都市名を、漢字で答えなさい。

問2. 下線②について、この都市にある正しいものを、次のア～エの中から一つ選び記号で答えなさい。

- ア. 八幡製鉄所 イ. 川内原子力発電所 ウ. 吉野ヶ里遺跡
- エ. 太宰府天満宮

問3. 下線③について、この地震では次の写真のような被害が出ました。この城郭の石垣が崩れた原因を説明するときに必要なとされる語句を、次のア～エの中から一つ選び記号で答えなさい。



- ア. 活断層 イ. V字谷 ウ. 干拓地 エ. 扇状地

問4. 下線④について、火山活動と関係のないものを、次のア～エの中から一つ選び記号で答えなさい。

ア. 温泉 イ. 火砕流 ウ. 地熱発電 エ. カルスト地形

問5. 空らん(⑤)について、空らんに適切な方位を、次のア～エの中から一つ選び記号で答えなさい。

ア. 北東 イ. 北西 ウ. 南東 エ. 南西

問6. 空らん(⑥)について、空らんに適切な施設を、次のア～エの中から一つ選び記号で答えなさい。

ア. 図書館 イ. 大学 ウ. 県庁 エ. 市役所

問7. 下線⑦について、正しい文章を、次のア～エの中から一つ選び記号で答えなさい。

ア. 地下鉄よりも建設費が高い。

イ. すべての都市で近い将来に廃止される。

ウ. バスに比べ環境にやさしい。

エ. 日本でしか見ることができない。

問8. 下線⑧について、同じように豊富な水資源で知られている場所を、次のア～エの中から一つ選び記号で答えなさい。

ア. 富士・富士宮地域 イ. 石垣島 ウ. 知多半島 エ. 讃岐平野

問9. 下線⑨について、その理由としてまちがっている文章を、次のア～エの中から一つ選び記号で答えなさい。

ア. 広い土地がある。

イ. 豊富な労働力がある。

ウ. 空港や高速道路が整備されている。

エ. 貿易相手である中国や東南アジア諸国から遠い。

問10. 下線⑩について、正しい文章を、次のア～エの中から一つ選び記号で答えなさい。

ア. 豊田市は大きな寺院を中心に発展した都市である。

イ. 釧路市は自動車産業で知られる工業都市である。

ウ. 長野市は江戸時代に築かれた城の周辺に広がる都市である。

エ. 神戸市は外国と貿易をおこなう港のある都市である。

3. 次の文章を読んで、各設問に答えなさい。

2018年夏、私は学校でおこなっているカンボジアボランティアツアーに参加しました。このツアーは、カンボジアの村でホームステイをしながら、現地の小学校で子どもたちに日本語を教えるプログラムです。

カンボジアはベトナムとタイの間に位置する東南アジアの国で、日本からは飛行機で約7時間(乗り継ぎなどを含めると約10時間)かかります。首都のプノンペンや観光地のシェムリアップ市内は車が多く行き交う都市ですが、私たちが滞在する村は①日本とは異なり、水道や電気などの公共サービスが整っていない場所だと、


ツアー担当者から聞きました。確かに村に行ってみると実際いろいろな面でもどいました。もちろん日本のような②家電製品はほとんどありません。一番困ったのはコンタクトレンズをつける時です。手元が見えず、手さえ洗えないカンボジアでの生活に不安を感じました。

それでもやはり、一番大きな衝撃を受けたのは子どもたちの③教育環境でした。自分が担当した小学3年生の教室は外にあり、風よけのためにトタン板で仕切られているだけでした。④子どもたちの持っている物のほとんどが寄付なので、みんなバラバラなものを使っていました。ノートに小さな字で隙間なくひらがなの練習をしている子もいて、一生懸命に勉強する姿にとっても感動しました。現地スタッフの先生にカンボジアの教育事情をたずねると、日本と同じように(⑤)年間の義務教育があると教えてくれました。ただし、⑥1974~1979年に起こった内戦で教室や先生の数が足りないため、授業は午前と午後の二部制で、子どもたちは半日しか授業を受けられないそうです。

そんな状況で生活している子どもたちですが、彼らと過ごした1週間は楽しい思い出ばかりです。鬼ごっこや縄跳びをして遊んだり、絵本を読んでもらったり、日本語の歌と一緒に歌ったりもしました。学校から帰ったあとは、近所にある売店でキンキンに冷えたコーラを買ってみんなで飲み、夜はステイ先の子どもたちとトランプをして盛り上がりました。⑦その国の政治や⑧経済状況は違っても、心は通じるのだと感じました。

帰国後、事後学習として⑨日本とカンボジアの関係について調べてみると、昔も今も深いつながりのあることが分かりました。短い滞在でしたが、今後もカンボジアという国に関心をもってニュースを見たいと思います。

カンボジア王国



人口：1583万人
面積：18.1万km²
国旗：中央の建物は
アンコール・ワット

問1. 下線①について、日本における公共サービスについてまちがっている文章を、次のア～エの中から一つ選び記号で答えなさい。

- ア. ごみの回収方法は地域によって異なる。
- イ. 水道の料金はどこの都道府県でも同じである。
- ウ. 警察や消防の仕事は公共サービスにふくまれる。
- エ. 公園や上下水道の整備には税金が使われている。

問2. 下線②について、日本の家電製品の歴史について正しい文章を、次のア～エの中から一つ選び記号で答えなさい。

- ア. 石油危機後に洗濯機が普及した。
- イ. 冷戦終結後に冷蔵庫が開発された。
- ウ. 第一次世界大戦前にラジオ放送が始まった。
- エ. 第二次世界大戦後に白黒テレビが普及した。

問3. 下線③について、日本とカンボジアの識字率(2018年)の組み合わせとして正しいものを、次のア～エの中から一つ選び記号で答えなさい。

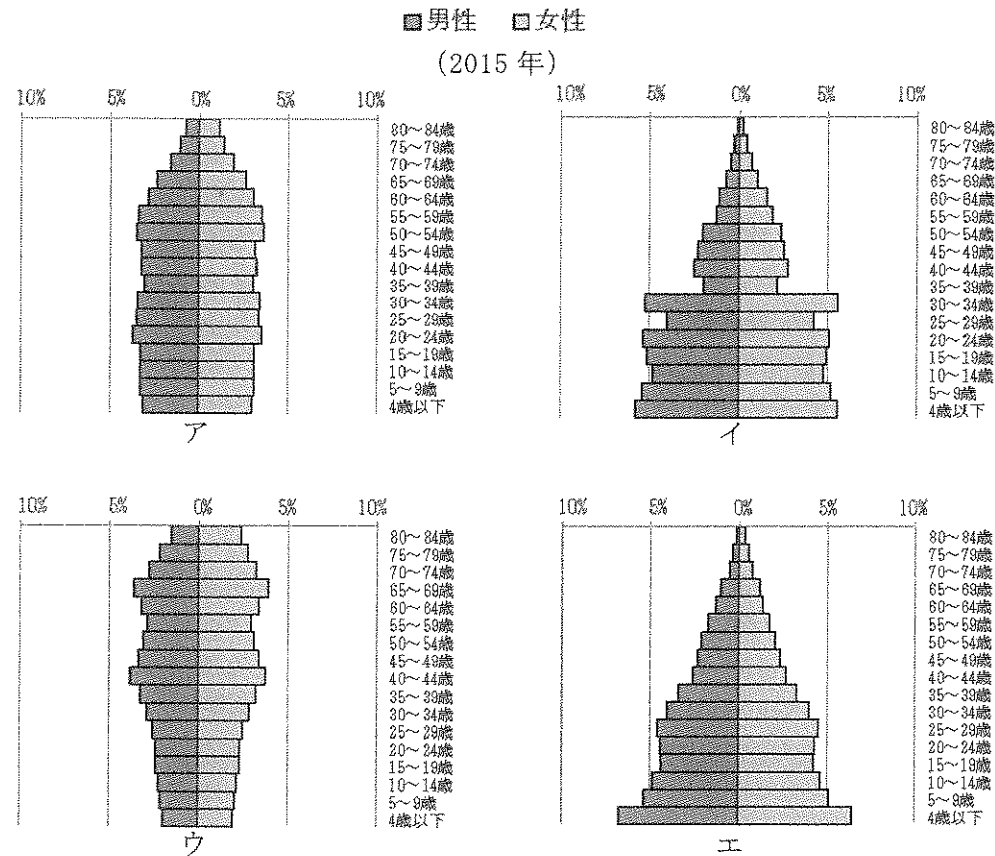
- ア. 日本-99% カンボジア-76% イ. 日本-64% カンボジア-38%
- ウ. 日本-53% カンボジア-53% エ. 日本-47% カンボジア-99%

問4. 下線④について、世界の子どもたちに援助をおこなっている「国連児童基金」の略称として正しいものを、次のア～エの中から一つ選び記号で答えなさい。

- ア. WTO イ. IMF ウ. IAEA エ. UNICEF

問5. 空らん(⑤)について、空らんに適切な数字を答えなさい。

問6. 下線⑥について、カンボジアでは内戦の影響で多くの知識人が殺され、出生率も大幅に下がったそうです。そのことをふまえて、現在のカンボジアの人口ピラミッドとして正しいものを、次のア～エの中から一つ選び記号で答えなさい。



問7. 下線⑦について、カンボジアの総選挙が2018年7月におこなわれ、全125議席のほとんどを人民党が獲得し、世界から批判を浴びました。全ての議席を一つの政党が占めるとどのような問題が起こりますか。「意見」という語句を必ず一回は使って説明しなさい。

問8. 下線⑧について、(1)と(2)の問いに答えなさい。

(1) カンボジアが加盟している地域協力機構「ASEAN」について正しい文章を、次のア～エの中から一つ選び記号で答えなさい。

ア. 加盟国数は2018年現在10か国である。

イ. 加盟国のイギリスが2016年に脱退することを決定した。

ウ. 加盟国はユーロを共通通貨として使用する決まりがある。

エ. 加盟国間ではパスポートなしで国を行き来することができる。

(2) カンボジアの経済は主に観光業で成り立っています。カンボジアにある世界遺産として正しいものを、次のア～エの中から一つ選び記号で答えなさい。

ア. 万里の長城 イ. バチカン市国 ウ. アンコール・ワット

エ. マダガスカル島

問9. 下線⑨について、日本とカンボジアのつながりについて正しい文章を、次のア～エの中から一つ選び記号で答えなさい。

ア. 明治から大正にかけて日本人がもっとも多く移住した国である。

イ. 両国は長い間朝貢貿易をおこなっていた。

ウ. 明治政府が最初に国交を結んだ国である。

エ. 自衛隊がPKO活動の一環として初めて派遣された。

社会解答用紙

1

採点欄

問1	問2	問3
問4	問5	問6
問7	問8	問9
問10		

点

2

問1	問2	問3
市		
問4	問5	問6
問7	問8	問9
問10		

点

3

問1	問2	問3
問4	問5	問6
問7		
問8 (1)	問8 (2)	問9

点

受験番号	氏名

評点