

1. 次の文章を読んで、各設問に答えなさい。

太郎が通う中学校の文化祭では1年生は富士山に関する展示、2年生は合唱、3年生は演劇をおこなっています。3年生になった太郎はリーダーとなり、準備をすすめていました。

先生：劇の準備は順調かな。

太郎：はい。今年は今までで一番の作品となるようがんばります。でも、上手くいくかどうか心配です。この間も大道具づくりでもめてしまって。どうしたら一生懸命取り組んでくれるのかな。こういうときにリーダーはどんなことをすればいいのでしょうか。

先生：道具づくりは誰が一番早くつくれるか競争させるといいんじゃないかな。あの有名な①豊臣秀吉は、城を早く築いた順番で、家臣たちにほうびを渡していたみたいだよ。みんな一生懸命取り組んだそうだよ。

太郎：そうだったんですね。豊臣秀吉はとてもえらい人だからみんないうことを聞いていたのだと思っていたけれど、やる気を出させるような工夫を考えていたんですね。先生、もっと歴史上のリーダーについて教えてください。

先生：歴史上のリーダーに共通することは、がまん強いことかな。例えば、②源頼朝は平治の乱に負けてしまい、ずっと監視されながら生活をしてたし、③江戸幕府を開いた徳川家康も少年時代は人質として生活をしてたんだ。

太郎：意外ですね。がまんすることはつらいけど、劇を成功させるためには必要なことですね。

先生：だからといって自分一人だけががんばってもだめだ。毛利敬親という④長州藩のお殿さまは、「そうせい(=そのようにしなさい)」と言って家臣たちの意見を聞いて藩の政治に取り入れた。その結果、長州藩は意見を出した中級武士たちによって財政が回復し、また⑤明治時代に活躍する人物を世に出していったんだ。

太郎：なるほど。意見が言いやすい雰囲気づくりも必要ですね。

先生：でも、人の意見に流されすぎてもいけないよ。リーダーは反対されながらも決断しなくてはいけないこともある。⑥田中角栄は強いリーダーシップで地元の新潟と首都圏を結ぶ関越トンネルや上越新幹線を開通させたんだ。

太郎：道具づくりでもめたときもみんなそれぞれの意見がぶつかってしまったことが原因でした。リーダーが方針を示すことで解決する問題もありますね。先生、いろいろ教えていただきありがとうございました。とてもやる気が出てきました。がんばっていい劇にしますから見に来て下さいね。

先生：うまくいくといいね。最後に一つだけ覚えておいて欲しい。リーダーだからといってえらそうにしてはいけないよ。歴史上のリーダーたちも権力を利用して⑦独裁者になってしまった人もいるからね。気をつけてね。

問1. 下線①について、豊臣秀吉の時代をあらわしている正しい史料を、次のア～エの中から一つ選び記号で答えなさい。

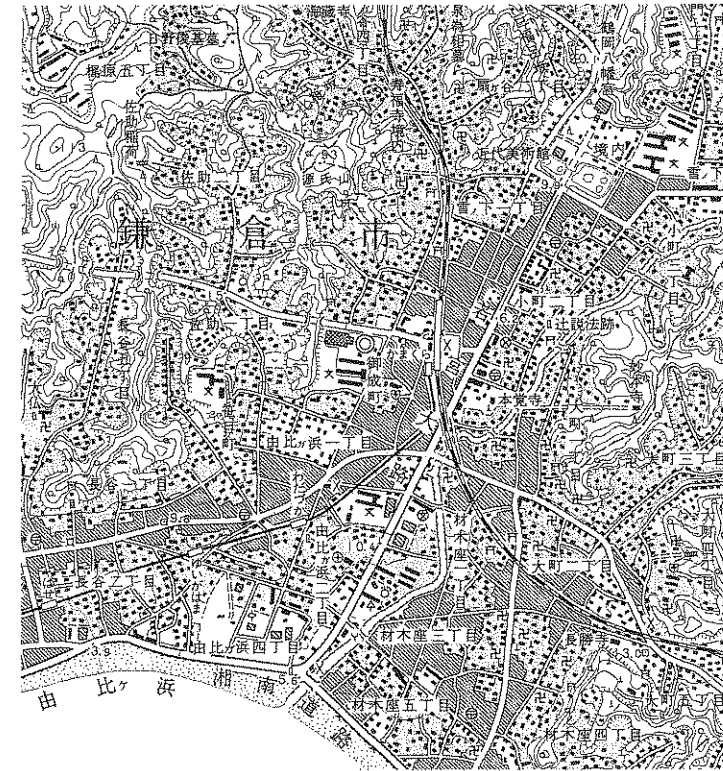
ア. このごろ都ではやっているものは、夜討ち・強盗・にせの天皇の命令書。

イ. 諸国の農民が、刀・やり・鉄砲などの武器を持つことをかたく禁止する。

ウ. 大名は、学問と武芸にはげむこと。

エ. 日本が輸出入する品物にかかる関税は、アメリカと相談して決める。

問2. 下線②について、次の図は源頼朝が幕府を開いた土地です。この土地について正しい文章を、次のア～エの中から一つ選び記号で答えなさい。



(国土地理院発行2万5千分の1地形図「鎌倉」より)

- ア. 切通しと呼ばれる尾根をけずってつくった道がある。
- イ. 鎌倉時代に天皇家が移り住んだ鶴岡八幡宮がある。
- ウ. この地は武士の足利義満によって滅ぼされた。
- エ. 蒙古襲来の際に元軍が上陸した由比ヶ浜がある。

問3. 下線③について、江戸時代のできごとア～エを古い方から順番にならべたとき、二番目になる文章を、次のア～エの中から一つ選び記号で答えなさい。

- ア. 徳川吉宗は漢訳洋書の輸入を許した。
- イ. 島原・天草地方で天草四郎を頭に一揆が起こった。
- ウ. 大坂の陣で豊臣氏が滅んだ。
- エ. 近松門左衛門によって人形浄瑠璃が人気を得た。

問4. 下線④について、(1)と(2)の設問に答えなさい。

(1) 長州藩は現在の山口県にあたります。山口県で起こった争いを、次のア～エの中から一つ選び記号で答えなさい。

- ア. 本能寺の変    イ. 五稜郭戦争    ウ. 壇の浦の戦い

エ. 壬申の乱

(2) 長州藩出身の人物で、大正時代に護憲運動によって首相を辞任した人物を、次のア～エの中から一つ選び記号で答えなさい。

- ア. 東条英機    イ. 鳩山一郎    ウ. 犬養毅    エ. 桂太郎

問5. 下線⑤について、明治時代につくられた次の詩を読んで、(1)と(2)の設問に答えなさい。

ああおとうとよ 君を泣く 君死にたもうことなかれ  
 末に生まれし君なれば 親のなさはまさりしも  
 親は刃やいばをにぎらせて 人を殺せとおしえしや  
 人を殺して死ねよとて 二十四までをそだてしや

(1) この詩は日露戦争中に発表されました。日露戦争について正しい文章を、次のア～エの中から一つ選び記号で答えなさい。

- ア. 日英同盟を理由に戦争を始めた。
- イ. 毒ガスや戦車などの兵器が登場した。
- ウ. 戦争後に下関で講和会議が開かれた。
- エ. 日本はロシアから賠償金を手に入れられなかった。

(2) この詩の作者を、次のア～エの中から一つ選び記号で答えなさい。

- ア. 夏目漱石    イ. 樋口一葉    ウ. 与謝野晶子
- エ. 石川啄木

問6. 下線⑥について、(1)と(2)の設問に答えなさい。

(1) 田中角栄が首相時代に国交を回復させた国を、次のア～エの中から一つ選び記号で答えなさい。

- ア. アメリカ合衆国    イ. ソビエト連邦    ウ. 中華人民共和国
- エ. 北朝鮮 (朝鮮民主主義人民共和国)

(2) 田中角栄は、前首相であった佐藤栄作が支持した福田赳夫と首相の座をめぐり党内で激しく対立しました。この政党名を、漢字四字で答えなさい。

問7. 下線⑦について、1930年代、ドイツではナチスのヒトラーが政権をにぎり、ユダヤ人を迫害していました。この迫害に対し、リトアニアにいた日本人外交官は、ビザを発行してユダヤ人が安全な国へ脱出できるようにしました。この外交官を、次のア～エの中から一つ選び記号で答えなさい。

ア. 小村寿太郎    イ. 岩倉具視    ウ. 杉原千畝    エ. 陸奥宗光

2. 次のA～Dの文章を読んで、各設問に答えなさい。

A. 71年前、晴天の朝、空から死がふってきて世界がかわりました。閃光と炎の壁がこの街を破壊し、①人類が自分自身を破壊する手段を手に入れたことをしめしました。②私たちはなぜここ広島に来るのでしょうか。それほど遠くない過去に恐ろしい力が解きはなされたことを考えるために来ます。また、10万人を超える日本の男性、女性、子ども、多数の朝鮮半島出身者、12人の米国人捕虜の死者を追悼するために来ます。

(2016年5月28日 毎日新聞より)

B. 四国経済に爆発的な変化をもたらすはずだった三つの(③)は、当初は多くの観光客を集め、物流をいっぺんさせた。しかしやがて典型的な(④)をおこし、香川県は1995年以降20年近く、人口減少が続くこととなった。もっとも大きな打撃は、「四国の玄関口」と言われた⑤高松から、多くの支店が撤退していったことだった。そこにバブル崩壊が重なり、90年代後半、高松の繁華街はいっきよにさびれていったと言う。

(2016年4月刊 講談社現代新書 平田オリザ『下り坂をそろそろと下る』)

C. (⑥)タオルは長らく存亡の危機にあった。安い中国産などにおされ減産につぐ減産。反転のきっかけは、06年度に国の補助を受けて始めたブランド化事業だ。組合が独自に決めた基準に合格した商品のみ「(⑥)タオル」として、組合発行のブランドマークのネームやタグ、シールをつけることを許した。業界団体はかつて中国産タオルについて、国に⑦セーフガードを申請したが、発動されなかった経緯がある。

(2016年6月25日 朝日新聞より)

D. 瀬戸内海の景勝地、⑧鞆の浦(広島県福山市)の埋め立てと架橋建設計画について、広島県は正式に断念することを決めた。地元住民らが埋め立て免許を県と福山市へ交付しないように県知事に求めた訴訟の進行協議が15日に広島高裁であり、県側が免許申請を取り下げる方針を住民側に伝えた。これを受け、住民側は訴えを取り下げた。1983年に策定され、⑨「景観保全」と「利便性」をめぐる論争が巻き起こった計画にピリオドがうたれる。

(2016年2月15日 朝日新聞より)

(A～Dの各文章は一部表現をかえています)


問1. 下線①について、ここで言っている「人類が自分自身を破壊する手段」とは何のことですか。

問2. 下線②について、(1)と(2)の設問に答えなさい。


(1) この文章は、ある人物が2016年5月に広島市でおこなった演説の一部です。この人物名を答えなさい。

(2) 広島県にある平清盛と関係の深い世界遺産を、次のア～エの中から一つ選び記号で答えなさい。


ア.



イ.



ウ.



エ.



問3. 空らん(③)について、空らんに適切な語句を、次のア～エの中から一つ選び記号で答えなさい。

ア. トンネル    イ. 橋    ウ. 港    エ. 空港

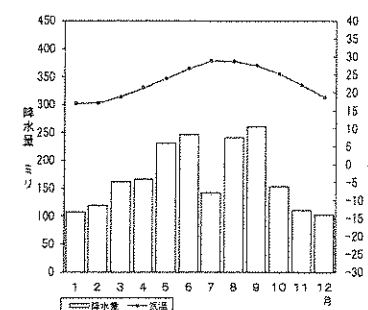
問4. 空らん(④)について、空らんには交通網の開通によりかえって都市が衰退することをさす用語が入ります。次のア～エの中から一つ選び記号で答えなさい。

ア. ドーナツ化    イ. Uターン現象    ウ. ヒートアイランド

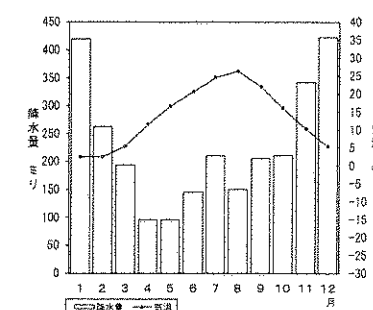
エ. ストロー効果

問5. 下線⑤について、高松の雨温図を、次のア～エの中から一つ選び記号で答えなさい。

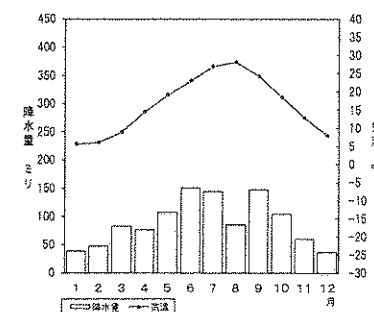
ア.



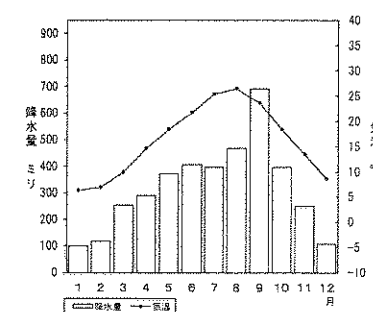
イ.



ウ.



エ.



問6. 空らん(⑥)について、空らんに適切な地名を、次のア～エの中から一つ選び記号で答えなさい。

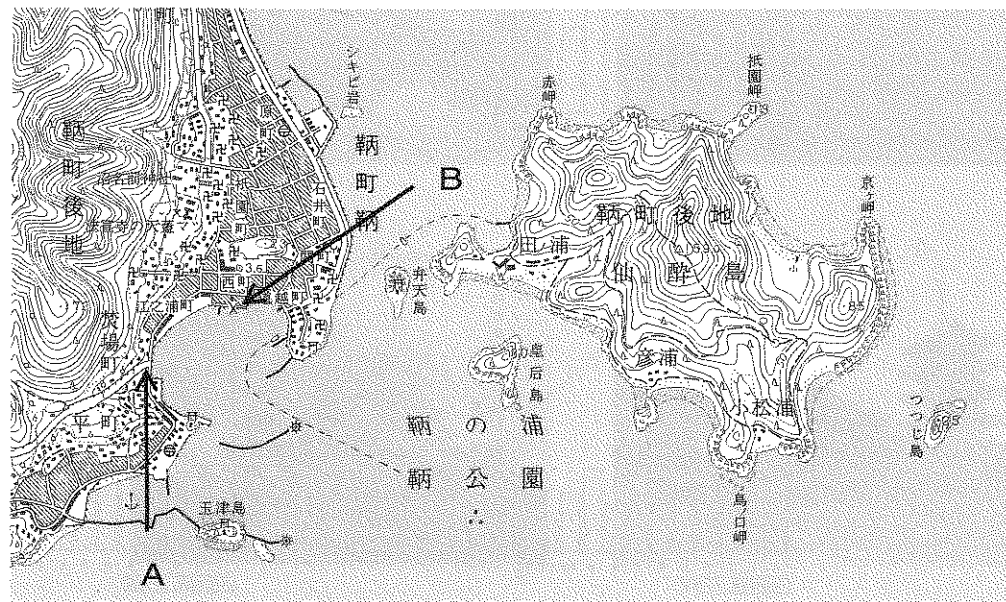
ア. 今治    イ. 釜石    ウ. 鯖江    エ. 燕

問7. 下線⑦について、セーフガードについて正しい文章を、次のア～エの中から一つ選び記号で答えなさい。

- ア. 関税の廃止などをおこない自由な経済活動を実現する。
- イ. 外国からの借金の支払いを一時的に停止する。
- ウ. 輸出産業の利益に対して税金を無くすなどの優遇を与える。
- エ. 国内産業を守るため一定期間だけ特定の輸入商品の関税を引き上げる。

問8. 下線⑧について、計画では次の地形図中のA点とB点を埋め立てて橋をかける予定でした。A-B間のおおよその直線距離を、次のア～エの中から一つ選び記号で答えなさい。

- ア. 50m    イ. 100m    ウ. 500m    エ. 1000m



(国土地理院発行2万5千分の1地形図「那覇」より)

問9. 下線⑨について、歴史的に価値のある景観（景色、眺めのこと）を守りながら、住民の利便性を高めるためには工夫が必要です。電線を地中に埋めるなどして景観を保全している自治体もあります。ほかにはどんなことが考えられますか。具体例をあげて説明しなさい。

3. 次の図と文章を読んで、各設問に答えなさい。

	日本		イギリス		アメリカ		ドイツ		フランス		イタリア		カナダ		ロシア		韓国		ニュージーランド	
	選挙	成人	選挙	成人	選挙	成人	選挙	成人	選挙	成人	選挙	成人	選挙	成人	選挙	成人	選挙	成人	選挙	成人
1960年時点	20	20	21	21	21	21	21	21	21	21	21	21	21	21	18	18	20	20	21	21
1969年			18	18															20	20
1970年																				
1971年																				
1972年																				
1973年																				
1974年																				
1979年																				
2005年																				
2008年現在	20	20	18	18	18	18	18	18	18	18	18	18	18	18	18	18	19	20	18	20

(国立国会図書館HP「主要国の選挙権年齢・成人年齢の変遷」より)

昔は、「大人は大人、子どもは子ども」という線引きがありませんでした。子どもは「小さな大人」としてあつかわれ、①大人たちと一緒に仕事をさせられていました。

しかし、18世紀ごろのヨーロッパで、子どもは「大人の所有物ではなく独自の考え方や感じ方があり、思春期や青年期を通して成長していくものだ」と考えられるようになりました。こうしてしだいに、②子どもは「守り育てるべきもの」としてあつかわれるようになっていったのです。これにより、ある一定の年齢(成人年齢)になると、大人とみなされるようになりました。

上の図「主要国の選挙権年齢・成人年齢の変遷」を見て下さい。これを見ると、主要国のほとんどが選挙権年齢および成人年齢を18歳と定めています。例えばアメリカでは③ベトナム戦争が起こった④1960年代以降に定められました。「18歳で徴兵されるのに、政治や政策について自分の意見を言えないのはおかしい。選挙権がないのはまちがっている。」という若者の声があいついだからです。他の主要国も事情はちがいますが、⑤多くの国が成人の基準を18歳以上とする法律をつくっていきました。

日本でも⑥2016年7月に選挙権が18歳に引き下げられてから初めての選挙がおこなわれました。これにあわせて⑦成人年齢も20歳から18歳に引き下げべきだという⑧意見も出始めています。急激な高齢化が進む日本において、今まで以上に若者の意見を政治に反映させることが求められています。

問1. 下線①について、発展途上国では今でも子どもが働かされています。この問題を解決するために、商品を適正な価格で取引しようという動きのことを、次のア～エの中から一つ選び記号で答えなさい。

ア. フェアトレード    イ. デフレーション    ウ. クーリングオフ

エ. ノーマライゼーション

問2. 下線②について、子どもの権利を守るための活動をおこなっている国連の組織名を、次のア～エの中から一つ選び記号で答えなさい。

ア. FAO    イ. WTO    ウ. IAEA    エ. UNICEF

問3. 下線③について、この戦争について正しい文章を、次のア～エの中から一つ選び記号で答えなさい。

ア. ソ連はベトナムにミサイル基地を設置した。

イ. 経済難だったベトナムは石油を保有しているクウェートに侵攻した。

ウ. PKO活動で自衛隊が派遣された。

エ. ベトナムで資本主義勢力と共産主義勢力が争った。

問4. 下線④について、1960年代以降の日本で起こったできごとア～エを古い方から順番にならべたとき、二番目になる文章を、次のア～エの中から一つ選び記号で答えなさい。

ア. 石油危機が起こった。

イ. 新日米安保条約を締結した。

ウ. 阪神淡路大震災が起こった。

エ. 年号が昭和から平成にかわった。

問5. 下線⑤について、世界の約70%の国が成人年齢を18歳に設定しています。こうした国の数としてもっとも近いものを、次のア～エの中から一つ選び記号で答えなさい。

ア. 約40カ国    イ. 約100カ国    ウ. 約140カ国    エ. 約200カ国

問6. 下線⑥について、(1)と(2)の設問に答えなさい。

(1) この選挙について正しい文章を、次のア～エの中から一つ選び記号で答えなさい。

- ア. この選挙の結果によって特別国会を開くことが決まった。
- イ. 与党が衆議院だけでなく参議院も過半数の議席をとることができず、ねじれ国会になった。
- ウ. この選挙の結果によって郵政民営化を進めることが決まった。
- エ. 合区が決まってから初めておこなわれた選挙で、鳥取県と島根県、徳島県と高知県をそれぞれ一つの選挙区とした。

(2) 2016年7月には東京都知事選挙もおこなわれました。この選挙で投票できる条件を満たしている人物を、次のア～エの中から一つ選び記号で答えなさい。

- ア. 女性、18歳、埼玉県所沢市在住、東京都にある私立高校に通学
- イ. 女性、20歳、千葉県船橋市在住、東京都にある国立大学に通学
- ウ. 男性、22歳、神奈川県川崎市在住、埼玉県の県庁に勤務
- エ. 男性、24歳、東京都世田谷区在住、千葉県にある企業に勤務

問7. 下線⑦について、(1)と(2)の設問に答えなさい。

(1) 成人年齢について定めているものを、次のア～エの中から一つ選び記号で答えなさい。

ア. 憲法    イ. 刑法    ウ. 民法    エ. 道路交通法

(2) 20歳になったらできるようになることとしてまちがっている文章を、次のア～エの中から一つ選び記号で答えなさい。

- ア. お酒を飲んでもよい。
- イ. 国民年金に加入する。
- ウ. 国会議員に立候補できる。
- エ. クレジットカードを自由につくれる。

問8. 下線⑧について、多くの人の意見をまとめるための方法として、しばしば「多数決」がとられます。「多数決」とは、意見を聞いた人たちのうち多数が賛成した決定を全体の意志として認める方式です。この方法の問題点を一つあげなさい。

# 社会解答用纸

採点欄

1

問1	問2	問3
問4 (1)	問4 (2)	問5 (1)
問5 (2)	問6 (1)	問6 (2)
		党
問7		

点

2

問1	問2 (1)	問2 (2)
問3	問4	問5
問6	問7	問8
問9		

点

3

問1	問2	問3
問4	問5	問6 (1)
問6 (2)	問7 (1)	問7 (2)
問8		

点

受験番号	氏名

評点