

2014 年度 ラ・サール中学校入学試験問題（社会）

注意：解答はすべて解答用紙に記入しなさい。

1 2013 年の世界や日本で起きたできごとについて、以下の問いに答えなさい。

問1 2月、ローマ法王ベネディクト16世が退位し、3月に新たな法王フランシスコが選ばれました。このフランシスコの出身地域を、次のア～エから一つ選び、記号で答えなさい。

ア. アジア イ. 中南米 ウ. ヨーロッパ エ. オセアニア

問2 6月、サッカーの日本代表チームがアジア最終予選でオーストラリアと戦い、2014年のワールドカップ大会の出場を決めました。大会は、ブラジルで開催されます。このブラジルで使用される主要な言語を、次のア～エから一つ選び、記号で答えなさい。

ア. ポルトガル語 イ. スペイン語 ウ. オランダ語 エ. フランス語

問3 6月、「富士山」を世界文化遺産にすることが決まりました。「富士山」は、山梨県と静岡県にまたがっています。この静岡県にあたる地域を治めていた大名が1560年の合戦で滅ぼされましたが、その大名の名前と、その合戦の名前をそれぞれ答えなさい。

問4 7月、エジプトのモルシ大統領が軍により解任され、暫定政権が発足しました。モルシ氏の支持組織である「ムスリム同胞団」はこれに強く反発し、大規模なデモを起こすなど、暫定政権との対立が続いています。「ムスリム」とはイスラム教徒のことですが、イスラム教徒は聖地とされる都市に向かい、1日に5回の礼拝をします。その都市の名前を答えなさい。

問5 7月、イギリスの王子夫妻に男の子が生まれ、ジョージという名前がつけられました。これは先代のイギリス国王と同じ名前ですが、現在の国王の名前を、次のア～エから一つ選び、記号で答えなさい。

ア. ウィリアム イ. キャサリン ウ. チャールズ エ. エリザベス

問6 9月、東京が、2020年の夏季五輪・パラリンピックの開催都市に決まりました。パラリンピックは体にハンディキャップのある人が、各国・各地域の代表として競技を行うスポーツの祭典です。ハンディキャップのある人やお年寄りが不自由を感じないように工夫された施設や社会のありかたを何といいますか。カタカナで答えなさい。

問7 10月、ノーベル平和賞が「化学兵器禁止機関」に与えられることが決まりました。内戦が続くシリアなどで、化学兵器を廃棄することに努力したことが評価されたためです。この「化学兵器禁止機関」の略称を次のア～エから一つ選び、記号で答えなさい。

ア. APEC イ. OPCW ウ. NGO エ. WFP

問8 11月、イランの新たな大統領となったロハニ師が、欧米との対話をめざしたことにより、6か国との間でイランの核開発問題をめぐる交渉がなされました。その6か国とは、国連の安全保障理事会の常任理事国に、もう1か国が加わったものです。加わったこの国を、次のア～エから一つ選び、記号で答えなさい。

ア. イギリス イ. フランス ウ. ドイツ エ. ロシア

問9 12月、南アフリカ共和国の元大統領が亡くなりました。元大統領は、1993年にノーベル平和賞を受賞しています。南アフリカ共和国で行われていた人種差別の政策を、廃止に導いたことが評価されたためです。この元大統領の名前を答えなさい。

2 昨年、鹿児島県内のいくつかの博物館で、歴史に関する特別展示や企画展示が行われました。また、歴史に関するニュースも多い一年でした。塩屋君は、これまでに博物館で見たものや新聞で読んだニュースの中で、関心を持ったものについて写真・表や文章などでカードを作りました。次の①～⑫は、その一部のカードの文章を年代順に抜き出したものです。これに関して、下の問いに答えなさい。

- ①巻物に本物そっくりに描かれたよろい・かぶと・鏡。これらの品々は日向国（今の宮崎県）の古墳から発掘されたものだそう。
- ②福岡県で出土した木簡。奈良時代に奄美大島から九州を治める役所に送られた品物に付けられた荷札だそう。
- ③大隅国の役所跡で見つかった土器。平安時代の中ごろのものでひらがなで和歌の一部が記されている。
- ④南九州で最大の神社である大隅正八幡宮（霧島市にある現在の鹿児島神宮）に附属する寺院跡で出土した元（中国）の時代の焼き物。全国的にもめずらしい。
- ⑤16世紀半ばに、当時の島津氏の当主が大隅正八幡宮に奉納したよろい。
- ⑥伊能忠敬が地図作りの時に使った距離を測る道具。
- ⑦那覇の港のようすが描かれた屏風。薩摩藩の船も描かれている。
- ⑧京都にあった薩摩藩の屋敷の絵図。この屋敷で薩摩藩と長州藩の同盟が結ばれた。今は同志社大学の敷地になっている。
- ⑨日露戦争に従軍した人が書いた記録。戦いで負ったけがや、たてたてがらが書いてある。
- ⑩南さつま市万世の竹やぶの中で、特攻基地として用いられた飛行場の門柱が見つかった。
- ⑪国際的な火山科学者の集まりが開かれた。
- ⑫水俣病研究で知られたお医者さんが亡くなって1年たったので回顧展が開かれた。




問1 文章①のよろい・かぶと・鏡がつくられた時代より前の時代に関する文章として誤っているものを、次のア～エから一つ選び、記号で答えなさい。

- ア. 貝塚の位置によって、その時代の海岸線を想定することができる。
- イ. 三内丸山遺跡ではひととき大きな建物跡が見つかっており、このむらの首長の身分をもつ人の住まいであったことがわかる。
- ウ. 佐賀県でほりや欄に囲まれ、物見やぐらをもつ遺跡が見つかったので、むらどうしの戦いが起こっていたことがわかる。
- エ. 出雲（島根県）から大量の銅鐸・銅矛などが見つかったので、この地方に有力な豪族がいたことがわかる。

問2 文章②の木簡が使われたころの九州のようすを説明する文章として誤っているものを、次のア～エから一つ選び、記号で答えなさい。

- ア. 防人と呼ばれる兵士が、九州の沿岸を警備していた。
- イ. 遣唐使の船が、往路や復路に九州の沿岸を航行した。
- ウ. 九州の各国にも、聖武天皇の命令でお寺が造られた。
- エ. 九州の政治の中心として多賀城が造られた。

問3 文章③に関連して、平安時代の文化ともっとも関係の深いものを、次のア～エから一つ選び、記号で答えなさい。



問4 文章④の焼き物が作られた時代の日本のようすを説明する次の文章の〔 〕に漢字で適語を入れなさい。
肥後（熊本県）の御家人竹崎季長が勇ましく戦う姿を描いた絵巻物がつくられた。この絵巻物には、元軍の上陸を防ぐため〔 〕湾沿岸に九州の武士に命じて造らせた防塁（石塁）も描かれている。

問5 文章⑤の世紀の鹿児島のようなすを説明する文章として正しいものを、次のア～エから一つ選び、記号で答えなさい。


- ア. ポルトガル人の宣教師フランシスコ＝ザビエルがやって来て、キリスト教を伝えた。
- イ. 種子島の人々は、ポルトガル人によって伝えられた鉄砲の生産をながく独占し、全国に売って巨大な利益をあげた。
- ウ. 朝鮮半島から連れてこられた人々が、焼き物をつくりはじめた。
- エ. 鹿児島の大名は、関ヶ原の戦いで豊臣方について戦い、滅ぼされた。

問6 文章⑥のころの学問や文化を説明する文章として誤っているものを、次のア～エから一つ選び、記号で答えなさい。


- ア. 本居宣長が、『古事記伝』をあらわし、国学という学問を完成させた。
- イ. 『ハルマ和解』という日本で最初のオランダ語の辞典がつくられた。
- ウ. 葛飾北斎が、『富嶽三十六景』をはじめとする多くの浮世絵をえがいた。
- エ. 参勤交代の旅行を題材とする『東海道中膝栗毛』が出版された。

問7 文章⑦に関連して、アは琉球国王を任命するためにやって来た中国（清）皇帝の使いを迎える儀式のようすを再現した模型、イは琉球国王の使いが国王就任のお礼のため江戸へ向かうようすを描いた絵です。これらから、この時代の琉球は、中国と日本とどのような関係を結んでいたと考えられますか。句読点を含めて20字以内で答えなさい。

ア



イ

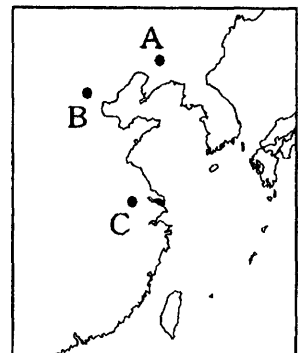


問8 文章⑧に関連して、薩摩藩と長州藩が同盟を結んだ時点は、次の年表のア～ウのどこに入れるのが正しいですか。一つ選び、記号で答えなさい。

- | | |
|-------|------------------------------|
| 1860年 | 勝海舟を艦長とする咸臨丸が、太平洋をわたった。 |
| ア | |
| 1863年 | イギリスの艦隊が、鹿児島城下に砲撃を加えた。 |
| イ | |
| 1868年 | 西郷隆盛と勝海舟が、江戸城のあつかいをめぐって会談した。 |
| ウ | |
| 1871年 | 岩倉具視を中心とする使節団が欧米に向けて出発した。 |

問9 次のア～ウは、文章⑨と⑩の間に入るできごとです。ア～ウを年代の早い順番に並べ替え、各文章中の「ここ」の場所を右の地図で探して、解答らんの表を完成させなさい。

- ア. この郊外で日本軍と中国軍の衝突が起り、日中の全面戦争が始まった。
- イ. 日本軍は、ここで起こした鉄道線路の爆破事件をきっかけに、中国軍への攻撃を始め、翌年新しい国をつくった。
- ウ. 日本軍は、中国の首都であったここで、武器を捨てた兵士や女性、子どもを含む多数の市民の命をうばった。



問10 文章⑪の会議は、大正3年(1914年)の桜島の大噴火から間もなく100年たつので開かれました。これに関連して、大正時代の日本のようすを説明する文章として誤っているものを、次のア～エから一つ選び、記号で答えなさい。

- ア. 全国各地で米騒動がおこり、政府は軍隊を出動させて、ようやくしずめた。
- イ. 差別に苦しんでいた人々が、全国水平社をつくり、差別をなくす運動を進めた。
- ウ. 東京で直下型の大地震が起こり、混乱の中で、数千人の朝鮮の人々が殺された。
- エ. 25歳以上のすべての男女に、税金の額に関係なく選挙権を与える法律が成立した。

問11 文章⑫の水俣病は、四大公害病の一つです。四大公害病のうち、三重県で発生したものを何といいますか。漢字かなまじりで7字で答えなさい。

3 次の文章を読み、以下の問いに答えなさい。

憲法の主要な目的は人権の保障にあります。人権の保障という目的を達成するには、権力を制限する必要があります。一人の人または一つの組織だけに権力が集中すると、権力が乱用され、人権が侵害されるおそれがあるからです。

日本国憲法は、第3章「国民の権利及び義務」において、国民のa 基本的人権を保障しています。

また、憲法は、第4章「国会」、第5章「内閣」、第6章「司法」などの章で、統治のしくみについて規定しています。

国会について、憲法は、「国の唯一のb 立法機関」としています(第41条)。また、法律案の議決について、c 憲法第59条は、次のように定めています(第3項は省略)。

「第59条第1項 法律案は、この憲法に特別の定めのある場合を除いては、両議院で可決したとき法律となる。

第2項 衆議院で可決し、参議院でこれと異なった議決をした法律案は、衆議院で出席議員の3分の2以上の多数で再び可決したときは、法律となる。

第4項 参議院が、衆議院の可決した法律案を受け取った後、国会休会中の期間を除いて60日以内に、議決しないときは、衆議院は、参議院がその法律案を否決したものとみなすことができる。」

国会を構成する両議院議員については、「両議院は、全国民を代表するd 選挙された議員でこれを組織する」(第43条第1項)としています。

内閣について、憲法は、「行政権は、e 内閣に属する」(第65条)と定めています。内閣の下で、f 一つの府と11省が行政の仕事を担当して進めています。

司法権を担うg 裁判所について、憲法は、「すべて司法権は、最高裁判所及び法律の定めるところにより設置する下級裁判所に属する」(第76条第1項)としています。現在、司法の分野では、国民が参加する裁判の実現を目指して、h 裁判員制度が実施されています。

問1 下線部aに関する記述として誤っているものを、次のア～エから一つ選び、記号で答えなさい。

- ア. 憲法は、労働者が労働条件を維持・改善するために労働組合を結成し、または、それに加入する権利を団結権として保障しており、この権利を実現するために労働組合法などの法律が制定されている。
- イ. 憲法では、法の下での平等の実現が求められているので、憲法および法律は、国会議員を選挙する権利を、日本国籍をもつ国民に限らず、日本に居住する外国人にも保障している。
- ウ. 憲法は、教育を受ける権利を保障すると同時に、親は子どもに教育を受けさせる義務を負うとしている。
- エ. 憲法は、信教の自由を保障すると同時に、国が特定の宗教と結びつくことを制限するために、「国及びその機関は、宗教教育その他いかなる宗教的活動もしてはならない」と定めている。

問2 下線部b「立法機関」について、国会の立法に関する記述として誤っているものを、次のア～カから一つ選び、記号で答えなさい。

- ア. 参議院議員が行う法律案の提出などを補佐する機関として、参議院に参議院法制局が設置されている。
- イ. 議員が法律案を提出する場合、一人の議員で提出することはできず、その議員以外に、法律が定める一定数の賛成者が必要である。
- ウ. 衆議院議員が行う法律案の提出などを補佐する機関として、衆議院に衆議院法制局が設置されている。
- エ. 法律案の提出を受けた衆議院または参議院の議長は、原則として、その法律案を委員会の審議に掛ける。
- オ. 内閣提出の法律案については、内閣総理大臣が内閣を代表して国会に提出する。
- カ. 天皇の国事行為に「助言と承認」を与える権限をもつ内閣が提出して成立した法律については、天皇の公布は行われな

問3 下線部c「憲法第59条」は法律案の議決に関する規定である。2013年に国会に提出された法律案の一つとして特定秘密保護法案（特定秘密の保護に関する法律案）がある。憲法第59条に照らし合わせたとき、この法律案の議決に関する記述として正しいものを、次のア～エから一つ選び、記号で答えなさい。

- ア. 衆議院で可決し、参議院で否決したため、法律は成立しなかった。
- イ. 衆議院で可決し、参議院でも可決したため、法律は成立した。
- ウ. 衆議院で可決し、参議院で否決した後、衆議院で出席議員の3分の2以上の多数で再び可決し、法律は成立した。
- エ. 衆議院で可決し、参議院では議決しないまま法律案を受け取ってから60日を経過したので、衆議院で出席議員の3分の2以上の多数で再び可決し、法律は成立した。

問4 下線部dに関する記述として誤っているものを、次のア～エから一つ選び、記号で答えなさい。

- ア. 2013年の参議院議員通常選挙で、選挙時点における民主党の当選人数は、選挙区・比例代表選出議員あわせて、20人未満であった。
- イ. 参議院選挙区選出議員は、都道府県単位の選挙区で選出される。
- ウ. 参議院比例代表選出議員は、全国を一つの選挙区として選出される。
- エ. 2013年の参議院議員通常選挙で、選挙時点における自由民主党の当選人数は、選挙区・比例代表選出議員あわせて、80人を超えた。

問5 下線部e「内閣」について、内閣または内閣総理大臣などに関する記述として誤っているものを、次のア～エから一つ選び、記号で答えなさい。

- ア. 内閣は、内閣総理大臣・国務大臣・副大臣によって構成されている。
- イ. 内閣総理大臣は、国会が、国会議員の中から指名する。
- ウ. 衆議院議員総選挙の後に初めて国会の召集があったとき、内閣は総辞職をしなければならない。
- エ. 内閣総理大臣が死亡などによって欠けたとき、内閣は総辞職をしなければならない。

問6 下線部f「一つの府と11省」について、1府11省およびそこに置かれる委員会または庁に関する記述として誤っているものを、次のア～エから一つ選び、記号で答えなさい。

- ア. 財務省に国税庁が置かれている。
- イ. 内閣府に公正取引委員会が置かれている。
- ウ. 商務産業省に金融庁が置かれている。
- エ. 厚生労働省に中央労働委員会が置かれている。

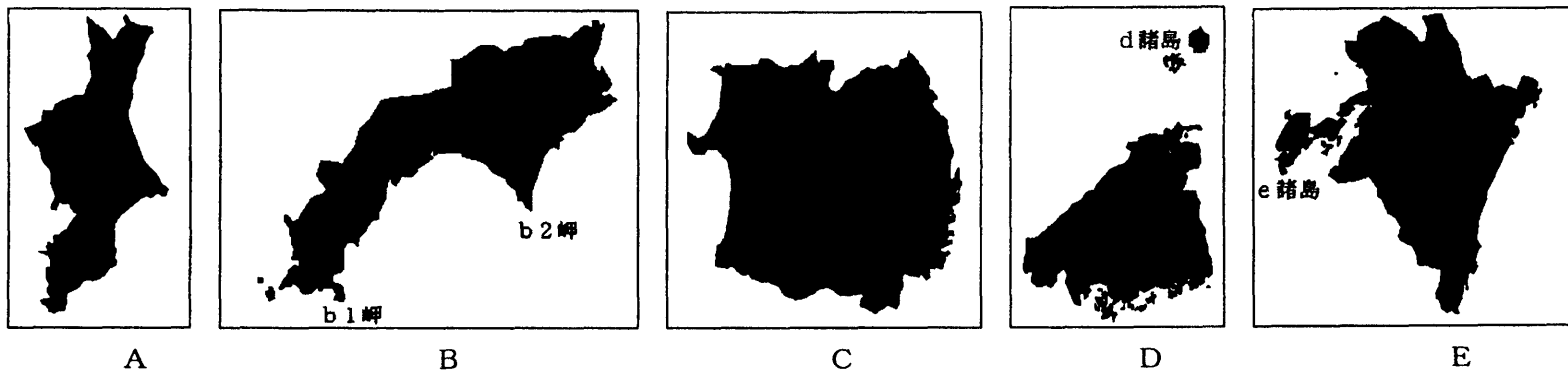
問7 下線部g「裁判所」について、裁判所または裁判官に関する記述として誤っているものを、次のア～カから一つ選び、記号で答えなさい。

- ア. 最高裁判所は、一人の最高裁判所長官と、14人の長官以外の最高裁判所裁判官によって構成されている。
- イ. 最高裁判所は、全国でただ一か所、東京都に設置されている。
- ウ. 下級裁判所の裁判官について、憲法は、「任期を10年とし、再任されることができる」と定めている。
- エ. 三審制において、第一審が簡易裁判所・地方裁判所・家庭裁判所のいずれであるかを問わず、第二審は常に高等裁判所になる。
- オ. 最高裁判所の裁判官について、憲法は、「法律の定める年齢に達した時に退官する」と定め、法律はその年齢を70歳としている。
- カ. 高等裁判所は、全国で8か所に設置されている（ただし、支部は除く）。

問8 下線部hに関する記述として誤っているものを、次のア～エから一つ選び、記号で答えなさい。

- ア. 法律は、裁判員を、衆議院議員の選挙権を有する者の中から選任するとしている。
- イ. 裁判員制度が適用されるのは、刑事事件のうち、原則として、殺人罪など、一定の重大な犯罪についての事件の裁判である。
- ウ. 訴えられた人が有罪か無罪かの判断は裁判員のみで行い、有罪の場合にどのような刑罰を科するか^{けい}の判断は裁判官のみで行う。
- エ. 法律は、国会議員・裁判官・検察官・弁護士など一定の地位にある者については、裁判員の職務に就くことができないとしている。

4 次の図A～Eは、それぞれ日本の2つの県で構成された地域を示しています。縮尺はそれぞれ異なりますが、上が北です。A～Eの地域に関する下の問いに答えなさい。



問1 次の文章は、A～Eについて述べたものです。文章中の下線部①～⑦にあてはまる地名を答えなさい。

Aは一部をのぞいて低地や台地が広がっており、標高の低い地域が多いです。①中央部を東へ流れる川が2つの県の境となっており、太平洋に注いでいます。この川の近くにはいくつもの湖があり、②そのうち最も大きい湖は、日本で2番目の大きさです。

Bはけわしい山地が多い地域で、南部は太平洋に面しています。台風の被害を受けやすく、③図中のb2岬は、b1岬とともに強風を観測する地点として知られています。

Cはいくつかの山地が南北方向に走ります。④中央部の山脈が2つの県の境となっており、この山脈と⑤東部の高地との間を南へ流れる川にそって盆地が形成され、人口が集まっています。西部の日本海ぞいは平野が比較的広いです。

Dは日本海に面しており、図中の⑥d諸島や竹島もふくまれます。南部は瀬戸内海に面しており、人口は瀬戸内海に面した地域に集まっています。

Eは海ぞいには平野が広がっていますが、内陸部はけわしい山地が多く、火山もみられます。東部は太平洋に面し、西部の図中の⑦e諸島の西側は東シナ海です。

問2 次の表中のア～オは、A～Eのいずれかについて、面積、人口、農業産出額と各農産物の割合を示したものです。ウ・エ・オにあてはまる地域をA～Eから一つずつ選び、記号で答えなさい。

	面積 (km ²)	人口 (万人)	農業産出額 (億円)	米 (%)	野菜 (%)	畜産 (%)
ア	26,915	237	4,353	42.8	11.0	37.6
イ	15,188	355	1,758	33.3	15.6	34.7
ウ	15,141	293	6,281	10.9	30.5	41.6
エ	11,253	914	8,434	21.6	38.9	25.1
オ	11,252	153	2,023	14.2	46.1	16.8

統計年次は2012年。

問3 次の表中のカ～コは、A～Eのいずれかについて、工業の統計を示したものです。カ・キにあてはまる地域をA～Eから一つずつ選び、記号で答えなさい。

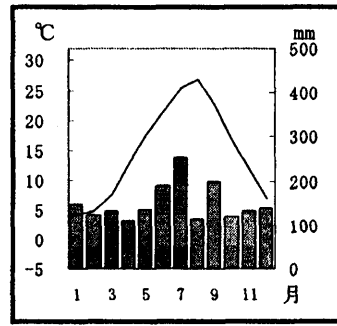
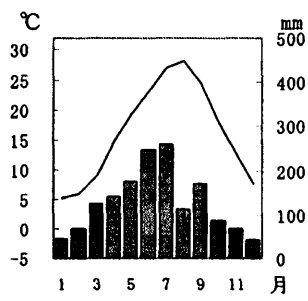
	製造品出荷額等 (億円)	出荷額の多い業種と割合 (%)
カ	232,914	化学工業 17.4 石油製品・石炭製品 12.2 鉄鋼業 10.9
キ	97,589	輸送用機械器具 26.9 鉄鋼業 16.7 生産用機械器具 7.0
ク	38,520	食料品 14.6 電子部品・デバイス・電子回路*14.2 輸送用機械器具 12.1
ケ	34,371	電子部品・デバイス・電子回路 20.7 輸送用機械器具 13.2 食料品 12.6
コ	21,594	化学工業 24.4 電子部品・デバイス・電子回路 13.4 食料品 9.5

統計年次は2010年。

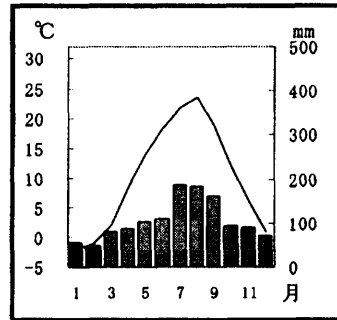
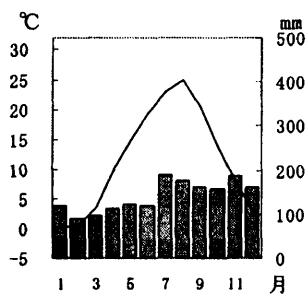
*電子部品・デバイス・電子回路……電気機器や情報通信機器の部品

問4 次の図サ～ソは、A～Eのいずれかについて、県庁所在都市2つの雨温図を示したものです。サ・シ・スの右側の雨温図（四角のわくをつけたもの）にあてはまる県庁所在都市名を、それぞれ答えなさい。

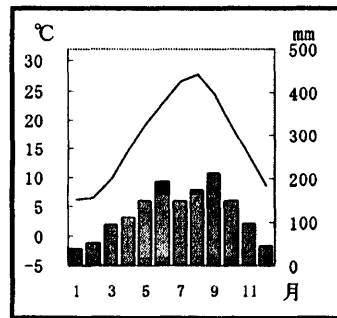
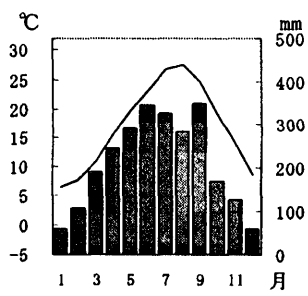
サ



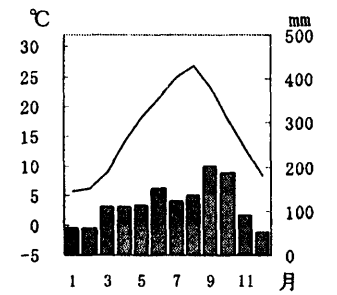
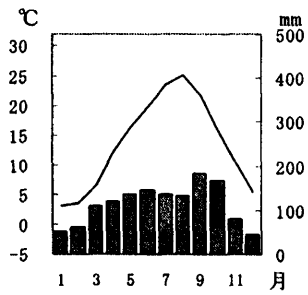
シ



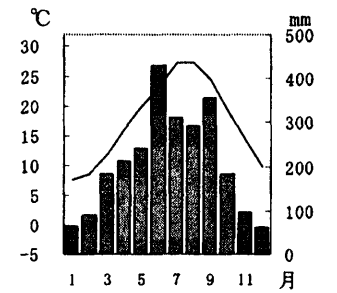
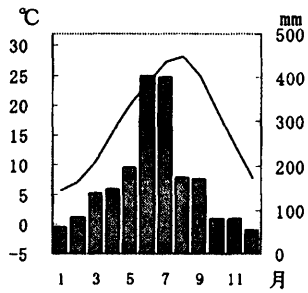
ス



セ



ソ



(以上で問題は終わり)

解答用紙 2014年度中学社会

1

問 1	問 2	問 3 大名	合戦	問 4
問 5	問 6	問 7	問 8	問 9

点

2

問 1	問 2	問 3	問 4	問 5	問 6
問 7 →					
問 8	問 9	順番	文章	地図の記号	問10
		1			問11 →
		2			
		3			

点

3

問 1	問 2	問 3	問 4	問 5	問 6	問 7	問 8
-----	-----	-----	-----	-----	-----	-----	-----

点

4

問 1 ①	②	③	④
⑤	⑥	⑦	
問 2 ウ	エ	オ	問 3 カ
問 4 サ	シ	ス	

点

受験番号		得点	
------	--	----	--