

2013 年度 ラ・サール中学校入学試験問題（社会）

注意：解答はすべて解答用紙に記入しなさい。

1 次は、のび太くんが書いた日記の一部を抜き出したものです。これを読んで、以下の問いに答えなさい。

- ◆（2012 年 1 月 8 日）今年の大河ドラマ『平清盛』が始まりました。最初の場面で清盛の一族は滅亡してしまいましたが、これからこのドラマは清盛の誕生から一族の滅亡までを描いていくのだそうです。

問 1. 平清盛と平氏の滅亡について述べた、次の文中の空欄 [] に適する語を漢字で答えなさい。

清盛は [] の乱で源義朝を破り、^{むすめ}娘を天皇に嫁がせるなどして強い力を持つようになった。しかし、伊豆に流されていた義朝の子が平氏討伐の兵をあげて間もなく清盛が亡くなり、平氏は追い詰められていった。最後には壇ノ浦（現在の山口県）の戦いで敗れて平氏は滅亡した。

- ◆（3 月 4 日）ロシアで大統領選挙が行われ、プーチン首相が当選しました。プーチン首相は 4 年ぶりに大統領に復帰することになります。

問 2. 世界の大統領と首相について述べた次のア～エのうち、正しいものを 1 つ選び、記号で答えなさい。

- ア. 中国では 3 月の全国人民代表大会で、習近平首相が経済成長の方針を示す報告を行った。
イ. フランスでは 5 月に大統領選挙が行われ、サルコジ大統領がオランド氏を破って当選した。
ウ. 韓国では 12 月に大統領選挙が行われ、李明博大統領が再選を果たした。
エ. ドイツのメルケル首相は、12 月に与党の党首に再び選ばれた。

- ◆（6 月 5 日）イギリスのエリザベス女王の即位 60 年を祝う行事が行われました。

問 3. 次のア～オのうち、エリザベス女王が即位する以前の出来事が 1 つだけあります。それを除外し、残った 4 つを年代順にならべ、記号で答えなさい。

- ア. 日本の国民総生産額が、はじめてアメリカ合衆国に次いで世界第 2 位になった。
イ. 日本はソ連との国交を回復したが、歯舞諸島・色丹島・国後島・択捉島は返還されなかった。
ウ. アメリカ合衆国が北ベトナムを爆撃し、ベトナム戦争が激しくなった。
エ. サウジアラビアなどの産油国が原油価格を引き上げたため、石油危機が起こった。
オ. イギリス連邦内の自治領として、インドとパキスタンが独立した。

- ◆（8 月 10 日）ロンドンオリンピックのテレビ中継を見ていました。今日は女子レスリングの吉田沙保里選手が優勝！ アテネ・北京オリンピックに続いて大会 3 連覇を達成しました。

問 4. ロンドン・アテネ・北京について述べた次のア～エのうち、正しいものを 1 つ選び、記号で答えなさい。

- ア. この 3 つの都市は全て、それぞれの国の首都である。
イ. この 3 つの都市のうちには、南半球にある都市がある。
ウ. この 3 つの都市がある国のうちには、日本よりも広い国土を持つ国が 2 つある。
エ. この 3 つの都市がある国のうちには、海岸線を持たない内陸国がある。

- ◆（8 月 15 日）今日は田舎のおばあちゃんの家に行きました。おばあちゃんが地図を描いてくれたのですが、それによるとおばあちゃんの家は、駅から大通りをまっすぐ進んで（△）の手前の交差点を左に曲がり、（⊕）を過ぎた最初の交差点を右折して、……

問 5. 文中の記号△・⊕は地図記号です。それぞれ何を表しますか、漢字で答えなさい。

- ◆（10 月 8 日）2012 年のノーベル医学生理学賞に、iPS 細胞（人工多能性幹細胞）を作成した京都大学の山中伸弥教授ら 2 人が選ばれました。

問 6. 日本人で山中教授以外にノーベル医学生理学賞を受賞した人物を、以下のア～エから 1 つ選び、記号で答えなさい。

- ア. 益川敏英 イ. 利根川進 ウ. 大江健三郎 エ. 湯川秀樹

◆ (12月16日) 今晚のテレビは衆議院議員選挙の特集番組ばかりでした。結果はというと、自民党が過半数の議席を獲得しました。

問7. 今回の選挙について、自民党が獲得した議席数にもっとも近い数字を次のア～エから1つ選び、記号で答えなさい。

ア. 250 イ. 300 ウ. 350 エ. 400

◆ (2013年1月2日) 今日のニュースによると、円相場が1ドル87円になっていました。お年玉をくれたおじさんが「去年のお年玉をドルで預金しておいて、今、円に交換すれば得したのにね。」と笑っていました。

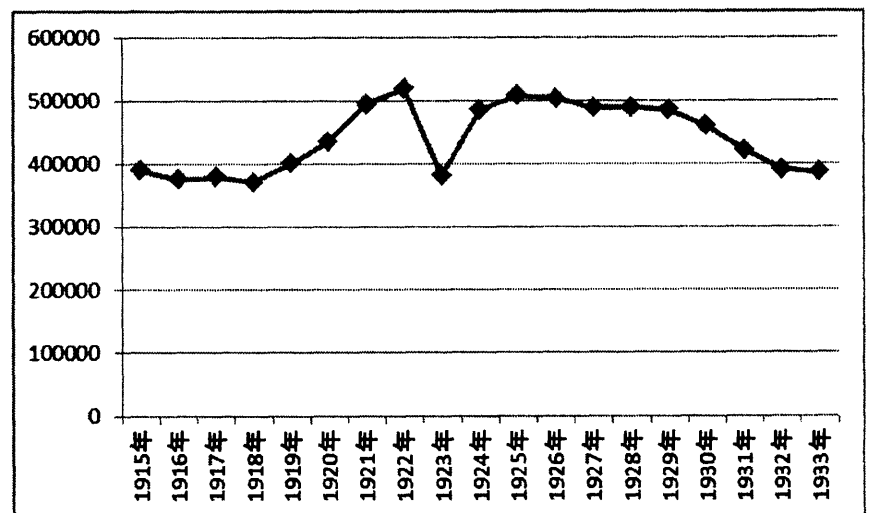
問8. おじさんの話から考えると、昨年(2012年)のお正月ごろの円相場は、1ドルがだいたい何円でしたか。もっとも近い数字を次のア～エから1つ選び、記号で答えなさい。

ア. 77 イ. 87 ウ. 97 エ. 107

2 一昨年(2011年)8月には東京都交通局が、昨年(2012年)12月には鹿児島市の市内電車が、それぞれ開業100年を迎えました。そこで、電車をはじめとする乗り物や私たちの移動について、歴史を振り返りながら考えてみましょう。

問1. 1944年、鹿児島市交通部(今の交通局の前身)は、市内電車の運転士として初めて女性や学生を採用しました。その理由を考えて40字以内で説明しなさい。

問2. 右のグラフは、東京を走っていた市内電車の車両が一年間に何両使われたかを表しています。例えば、100両の電車が10日間動いたら「1000両」と考えます。このグラフの中で、大きな落ちこみが1か所見られますが、そのことと深い関係をもつできごとの名を答えなさい。



問3. 東京市電気局(今の東京都交通局の前身)ができた1911年に、日本は不平等条約の改正に成功しています。江戸時代の終わりごろから明治時代の終わりごろまでの日本と外国のかかわりについてのべた次の文章ア～オのうち、内容に明

らかな誤りを含むものを2つ除外し、残った3つを時代の古い順に並べかえ、記号で答えなさい。

- ア. 日本は朝鮮や満州の支配をめぐってロシアと対立し、日英同盟を結んでイギリスとのつながりを強めつつ、日露戦争を始めた。その後戦争に勝った日本は、ロシアが南満州に持っていた鉄道や鉱山などの権利をもらい受けた。
- イ. 日清戦争の直前、陸奥宗光外務大臣はイギリスとの交渉に成功し、日本にいる外国人の裁判を日本の法律にもとづいて行うことが決められた。その後戦争に勝った日本は、清から多額の賠償金を手に入れ、また台湾をゆずり受けて日本の植民地とした。
- ウ. アメリカの武力をおそれた江戸幕府は日米和親条約を結び、箱館(函館)と横浜の二港を開いて鎖国をやめた。続いて幕府は日米修好通商条約を結んだが、それは関税を相手の国と話し合って決めることにするなど、日本に不利なものだった。
- エ. 日本はソウルに役所を置き、伊藤博文をその長官として、大韓帝国(韓国)への支配を強め、それに反対する運動を軍隊の力でおさえた。さらには日本に併合する形で大韓帝国そのものをなくし、日本の植民地として支配するようになった。
- オ. ノルマントン号事件が起こり、イギリス人領事による裁判が不公平なものだったため、関税自主権がないことによる不利益を多くの国民が感じ、条約改正を求める声が高まった。

問4. 日本で初めて鉄道が走ったころ、まだ電気がないため、東京では馬が客車を引っ張る「馬車鉄道」が走っていました。このころ、汽車や馬車はすべて外国から輸入していました。

(あ) 次のア～カはいろいろな時代の日本への輸入品や日本からの輸出品です。この中から輸出品を2つ除外し、残った4つの輸入品を日本に入ってきた時代の古い順に並べかえ、記号で答えなさい。

ア. 正倉院にあるガラスの器や琵琶 イ. 刀や扇 ウ. 鉄砲(火縄銃)や火薬 エ. 軍艦や機械
オ. テレビや自動車 カ. 鉄器や青銅器

(い) 江戸時代初めごろまで盛んに輸入され、その後国産化が進んで、江戸時代の終わり以後は盛んに輸出されたものは何ですか。

問5. 今、東京都交通局が運営する地下鉄のひとつに都営大江戸線があります。この線は、相模で有名な両国国技館、歌舞伎で有名な歌舞伎座の近くを通っています。相撲や歌舞伎は、江戸時代にとっても流行しました。それらをはじめとするこの時代の文化についてのべた次の文章ア～エの中に、1つだけ内容に誤りを含むものがあります。それを探し、その記号と訂正した語句をそれぞれ答えなさい。

- ア. 絵画では、このころ発達した活字の技術を用いて、色鮮やかな浮世絵がつくられた。中でも葛飾北斎の『富嶽三十六景』、歌川広重の『東海道五十三次』などの風景画や、喜多川歌麿の美人画、東洲斎写楽の役者絵などが有名である。
- イ. 江戸時代の前半には、京都や大阪を中心とした文化が栄え、町人に広く受け入れられた。近松門左衛門は人形浄瑠璃や歌舞伎の脚本を書き、井原西鶴は小説を書いて、町人の姿を生き生きと描いた。俳句では松尾芭蕉が活躍した。
- ウ. 杉田玄白たちが『ターヘル＝アナトミア』を訳して『解体新書』として世に出すことで本格的に始まった蘭学は、医学だけでなく地理学や天文学にも広まった。伊能忠敬は日本全国を測量し、忠敬やその弟子たちによって正確な日本地図がつけられた。
- エ. 武士の息子たちは幕府や藩がつくった学校で学んだ。一方、寺子屋が各地につくられ、武士や僧などが子どもに読み書きやそろばんなどを教えた。シーボルトの鳴滝塾、吉田松陰の松下村塾のような私塾も開かれ、多くの人々が学問を志した。

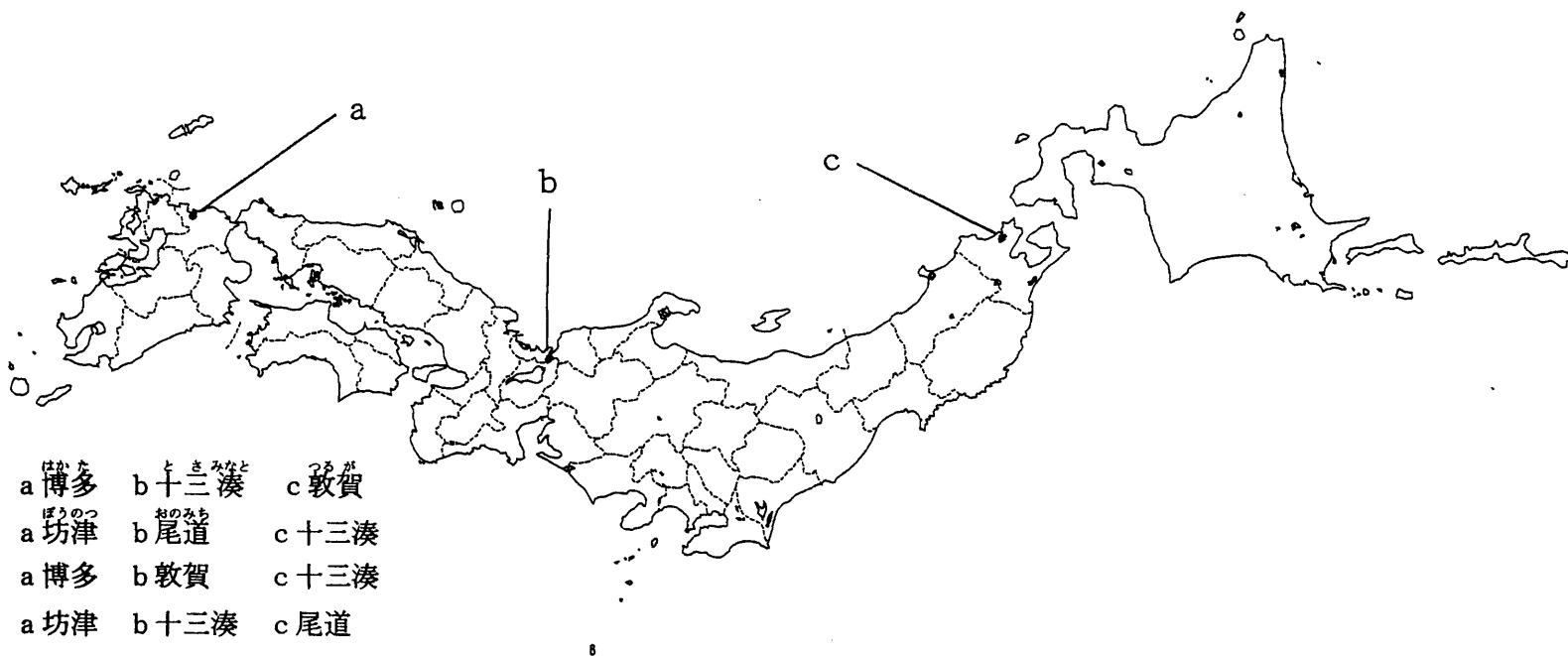
問6. 地下鉄の都営浅草線にある日本橋駅からしばらく歩くと日本橋に着きます。ここは江戸時代の五街道の出発地でした。

(う) 五街道を始めとする街道の整備は、幕府が全国支配のため、あるしくみを整えたことと深い関係があります。そのしくみとは何ですか。

(え) いろいろな時代の陸上交通についてのべた次の文章ア～エの中から、内容が正しいものを1つ選び、記号で答えなさい。

- ア. 奈良時代、政治の中心地と全国を結ぶ道路が造られ、一定の距離ごとに駅と一里塚がおかれた。駅には世話をする人や乗り継ぎのための馬や食料などが用意され、国司を始めとする役人たちがそれを利用した。
- イ. 奈良時代、農民たちは、かりとった稲を税として都に運び、それ以外の税としての産物は国府に運んだ。かれらの荷物には産地や品物を書いた木簡がつけられた。
- ウ. 鎌倉時代には、関東各地から鎌倉に向かう「鎌倉街道」がいくつも造られた。これは将軍が日ごろ御家人の土地を守っている「奉公」に対し、御家人が戦いの時には鎌倉にかけつけて「御恩」を差し上げるためだった。
- エ. 安土桃山時代、織田信長は安土城を築き、その城下町に街道を通して旅人を立ち寄らせ、またこの町で自由に商工業を営むことを許した。さらに、琵琶湖の水運を利用してものの行き来を活発にした。このため、安土の町はたいへん栄えた。

問7. 鉄道や自動車ができるまでは、ものを大量に運ぶ手段は船に限られました。次の地図中のa～cは、室町時代の代表的な港です。それぞれの名前の組み合わせとして正しいものを、次のア～エの中から1つ選び、記号で答えなさい。



問8. 古い時代には、馬も貴重な乗り物でした。馬に関する次の文章ア～エの中に内容に明らかな誤りを含むものが1つあるのでまずそれを除外し、残った文章のうち、もっとも新しい時代の文章の下線部が何を指すかを答えなさい。記号は必要ありません。

- ア. 日本は蒙古襲来を二度とも退けることができたが、最初の時には馬に乗って一騎打ちをしようとした武士たちは元の軍勢の集団戦法に苦しめられた。この時の指揮をとったのが、当時執権を務めていたこの人物であった。
- イ. 古墳には馬や家などをかたどった埴輪がおかれた。古墳はしだいに九州から東北にまで広がり、埼玉にあるこの古墳からは「自分はワカタケル大王の政治を助けた」という意味の内容が書かれた鉄剣が出た。
- ウ. 平清盛は朝廷の最も高い官職であるこの役職について政治の実権を握ったが、清盛がなくなった後、平氏はおとろえる。一ノ谷の戦いでは、源義経らが馬に乗ったまま急ながけをかけおりに攻めてきたため、平氏は敗れたといわれる。
- エ. 織田信長と上杉謙信の連合軍は、長篠の合戦で武田軍の騎馬隊を破った。この時信長に従っていた豊臣秀吉は、その後天下を取り、田の面積や収穫量、耕作者を全国にわたって調べさせた。さらにこの法令を出して、武士と農民をはっきり分けた。

問9. 鹿児島には「唐湊」という市内電車の停留所があります。その由来はよくわからないのですが、昔中国の船が入っていたとか、中国の人が住んでいたから、などと言われています。その中国と日本との行き来についてのべた次の文章ア～エのうち、平安時代が始まる前のことをのべていて、しかも内容が正しいものをすべて選び、記号で答えなさい。

- ア. 卑弥呼は魏に使いを送り、魏の皇帝から「漢委奴国王」と彫られた金印や銅の鏡をさずけられた。
- イ. 菅原道真が意見をのべたことがきっかけとなり遣唐使は廃止された。その後、道真は大宰府に流されてそこでなくなった。
- ウ. 冠位十二階を定めた聖徳太子は遣隋使として小野妹子を送り、隋の進んだ政治のしくみや文化を取り入れようとした。
- エ. 朝廷は阿倍仲麻呂や吉備真備などを遣唐使とともに唐へ送り、学ばせた。同じ時代に鑑真が来日し、唐招提寺を開いた。

3 2012年におこったことに関して、次の問いに答えなさい。

◆ 2月、天皇が心臓の手術を受けました。

問1. 憲法に定められている天皇の国事行為として、明らかに誤っているものを下から1つ選び、記号で答えなさい。

- ア. 儀式を行う。
- イ. 勲章などを授与する。
- ウ. 外交の文書を認める。
- エ. 法律や条約を公布する。
- オ. 内閣総理大臣を任命する。
- カ. 国会議員の選挙を行うことを国民に知らせる。
- キ. 外国の大使などに会ったり、もてなしたりする。
- ク. 最高裁判所長官およびその他の最高裁判所裁判官を任命する。

◆ 5月、沖縄は本土に復帰して40周年を迎えました。

問2. 沖縄に関する説明として、明らかに誤っているものを下から1つ選び、記号で答えなさい。

- ア. 江戸時代末期、アメリカ合衆国から来航したペリーの艦隊は、浦賀沖に現れる前後に沖縄に立ち寄った。
- イ. 第2次世界大戦において、沖縄では本格的な地上戦が行われ、多くの島民が犠牲になった。
- ウ. 1951年に日米安全保障条約が結ばれ、日本の各地にアメリカ軍がとどまることになったが、現在、日本にあるアメリカ軍施設の面積のうち約4分の3が沖縄県にある。
- エ. 第2次世界大戦後、アメリカ合衆国の統治下にあった地域は、小笠原諸島・奄美諸島・沖縄の順に、日本への復帰を果たした。

◆ 8月、消費税増税法が成立しました。

問3. 消費税増税法に関する説明として、明らかに誤っているものを下から1つ選び、記号で答えなさい。

- ア. 消費税増税法は、社会保障に必要な財源を確保することと、政府の借金を減らすことの2つの目標を同時に達成することを目指して制定された。
- イ. 消費税増税法は、今後の経済状況がよくなることを条件に、現在の消費税率を2段階で引き上げる予定で制定された。
- ウ. 消費税増税法は、参議院で否決された後に衆議院で再可決されて成立した。
- エ. 自由民主党と公明党は、消費税増税法に賛成した。

◆ 9月、日本は中国と国交を回復して40周年を迎えました。

問4. 日本と周辺諸国との外交に関する説明として、明らかに誤っているものを下から1つ選び、記号で答えなさい。

- ア. 1956年に日本はソ連（現在のロシア）と国交を回復したが、両国間の平和条約はいまだに結ばれていない。
- イ. 1965年に日本は韓国と日韓基本条約を結んだ。
- ウ. 1978年に日本は中国と日中平和友好条約を結んだ。
- エ. 2002年に日本は北朝鮮と首脳会談を行い、両国間に国交が開かれた。

◆ 11月、アメリカ合衆国で、大統領選挙と連邦議会上下両院議員選挙が行われました。

問5. 2012年11月に行われた、アメリカ合衆国の大統領選挙と連邦議会上下両院議員選挙に関連する説明として、明らかに誤っているものを下から1つ選び、記号で答えなさい。

- ア. 任期については、大統領は4年、上院議員は6年、下院議員は2年となっている。
- イ. 大統領選挙では、民主党のオバマ候補が共和党のロムニー候補を破り再選された。
- ウ. 連邦議会の下院議員選挙の結果、民主党が下院の多数を占めることになった。
- エ. 連邦議会の上院議員選挙の結果、民主党が上院の多数を占めることになった。

◆ 12月、東京都知事選挙が行われました。

問6. 都道府県の自治に関する説明として、明らかに誤っているものを下から1つ選び、記号で答えなさい。

- ア. 立候補できる年齢が25歳以上である都道府県知事は住民から直接選挙され、その任期は4年である。
- イ. 都道府県議会から不信任の議決を受けた都道府県知事は、その議会を解散することができる。
- ウ. 立候補できる年齢が25歳以上である都道府県議会議員は住民から直接選挙され、その任期は4年である。
- エ. 都道府県議会は提出された条例案を審議するが、その条例は憲法や法律の規定に違反してはならない。

◆ 12月、国際連合の総会で、2013年から2015年の3年間に適用される各加盟国の国際連合分担金比率が決定されました。なお、国際連合分担金比率とは、国際連合の活動費用を負担する割合です。

問7. 国際連合分担金に関する説明として、明らかに誤っているものを下から1つ選び、記号で答えなさい。

- ア. 国際連合分担金比率は、各加盟国の支払い能力に応じて決定される。
- イ. 日本の国際連合分担金比率は、2000年以後下降傾向にあり、2010年には10%を下回った。
- ウ. 2010年において、国際連合分担金比率が最も高かった加盟国はアメリカ合衆国で、20%を超えていた。
- エ. 2010年末において、定められた期間内に国際連合分担金を納めていない額が最も大きい加盟国は、アメリカ合衆国であった。

◆ 12月、国際連合の平和維持活動に派遣されていた自衛隊の部隊が中東のゴラン高原から帰国しました。

問8. 国際連合に関連する説明として、明らかに誤っているものを下から1つ選び、記号で答えなさい。

- ア. 国際連合はアメリカ合衆国やイギリスなど51か国が参加して1945年に設立され、現在193か国が加盟している。
- イ. 国際連合では、安全保障理事会が中心となって、戦争の予防などに取り組み、平和を守るための活動を進めている。
- ウ. 日本は、1956年に国際連合への加盟を認められ、これまでに安全保障理事会の非常任理事国を10回務めた。
- エ. 国際連合の平和維持活動に対して日本が初めて自衛隊を派遣した国は、カンボジアである。
- オ. 国際連合の総会で採択された人権に関する条約のひとつである「子どもの権利条約」は、世界のすべての子どもは生きる権利や教育を受ける権利などを平等に持っているとして定めている。
- カ. 「持続可能な開発」を合言葉として1972年に開かれた国際連合人間環境会議の提案を受け、国際連合は国際連合環境計画という機関を設立し、地球環境問題に取り組んできた。
- キ. 国際連合の一機関であるユニセフは、生活などが困難な状況にある子どもたちを守るために活動しており、「子どもの権利条約」にうたわれている権利の実現を目指している。
- ク. 国際連合の一機関であるユネスコは、教育や文化などの分野で世界の平和につながる活動をしており、文化遺産の修復や保存もその活動のひとつである。

4 次の文章を読んで、以下の問いに答えなさい。

日本の①国土は南北に長く、気候環境は多様です。加えて②山がちで平野が少ないため、国土の幅がせまく山地が海にせまっています。そのため、外国に比べて川は短く、流れが急になっています。また、それらの自然環境は、③美しい風景をはじめとして恵みをもたらす一方で、時に大きな災害を引き起こすこともあります。

日本の気候は、北海道など高緯度の地域や一部の標高の高い地域を除くと温帯気候で、降水に恵まれています。(1)の影響で、太平洋側の地域は夏に降水が多く、日本海側の地域は冬に降水が多くなります。太平洋側の地域では、梅雨や台風などの影響で一度に大量の降水がもたらされることがあり、それらが洪水や、土砂と水と一緒に一気に斜面を下る(2)などの被害をあたえることがあります。また、日本海側の地域では、大雪によって被害がおこります。

日本には、およそ100余りの活火山が存在しています。そのため、火山噴火は日本国内では日常的におこり、それにとまなう災害もみられます。近年、人的な被害が大きかったのは、1991年に、(3)で発生した火砕流によるものであり、40名をこえる人命が失われました。また、きわめて稀ではありますが、数百立方キロメートルにもおよぶ物質を短時間に噴出し、大規模な火砕流を発生させる噴火が日本でも過去に起こったことが知られています。

2011年におき、マグニチュード9.0におよんだ東日本大震災は、海の《A》プレートが陸の《B》プレートの下にもぐりこむことによって生じたひずみをもどることでおこった地震です。この地震で生じた津波によって多くの被害が出ました。空前絶後の被害の大きさに、日本社会は大きな衝撃を受けました。このようなプレートの境界で発生する大地震以外に、活断層を震源とする大地震も日本では数多くみられます。1995年におきた阪神・淡路大震災や2004年と2007年に続けておきた(4)県を震源とする地震はこの例にあたります。

これらの災害に対して、④防災への様々な取り組みが進められています。最近では、森林の破壊や⑤地球温暖化など、人間が引き起こした環境破壊が災害の発生を助長しています。そのため、⑥私たちは自然環境を守っていく努力をしていくことも求められています。

ます。

問1. 文中の空欄 (1) ~ (4) にあてはまる語句を答えなさい。ただし、(3) には火山名を入れること。

問2. 文中の空欄 < A > ・ < B > にあてはまる語句の正しい組合せを、次のア～エから1つ選び、記号で答えなさい。

	ア	イ	ウ	エ
A	太平洋	太平洋	フィリピン海	フィリピン海
B	北アメリカ	ユーラシア	北アメリカ	ユーラシア

問3. 下線部①について、

(1) 日本の国土のおよその緯度はどの範囲ですか。次のア～エから1つ選び、記号で答えなさい。

ア. 北緯20度～北緯46度 イ. 北緯20度～北緯56度 ウ. 北緯30度～北緯46度 エ. 北緯30度～北緯56度

(2) 日本の南端はどこですか。次のア～エから1つ選び、記号で答えなさい。

ア. 与那国島 イ. 南鳥島 ウ. 魚釣島 エ. 沖ノ鳥島

問4. 下線部②について、日本の国土面積の中で山地が占めるおよその割合として適当な数値を、次のア～エから1つ選び、記号で答えなさい。

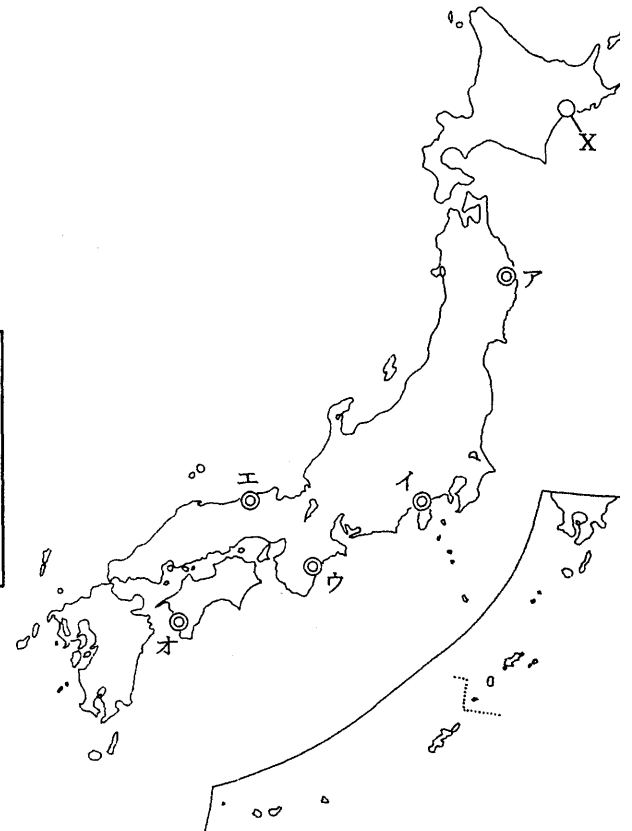
ア. 45% イ. 60% ウ. 75% エ. 90%

問5. 下線部③について、日本政府は日本の美しい風景を保護し活用するために、全国で30カ所の地域を国立公園に指定しています。

(1) 次の文章はある国立公園について説明した文章です。この国立公園のおよその位置を、右の日本地図中のア～オから1つ選び、記号で答えなさい。

この国立公園は3県にまたがり、山岳地帯とそこから流れ出る川および海岸部からなっています。桜が史跡となっている山、古くから修験道の道場とされてきた山脈や山が広く知られ、2004年には山地の霊場と参詣道が世界遺産に登録されました。海岸部は、リアス式海岸とともに直線的な海岸線も見られます。また、日本でもっとも年間の降水量が多い地域もこの国立公園内にあります。

(2) 右の日本地図中のXの国立公園内にある湿地は、水鳥の生息地としての湿地を守るための国際条約に登録されています。この条約名を答えなさい。



問6. 下線部④について、災害にあうことが予想される地域や避難場所、避難経路を示して、被害を最小限にとどめるために作成された地図を何といいますか。カタカナ7字で答えなさい。

問7. 下線部⑤について、

(1) 地球温暖化が進むことによって直接的におこると考えられる被害として適当でないものを、次のア～エから1つ選び、記号で答えなさい。

- ア. 乾燥地域が広がって、農作物が作れなくなる地域が広がる。
- イ. 紫外線がきつくなり、皮膚がんや白内障などの病気にかかる人が増える。
- ウ. 海水面が上昇して、土地の低い国や地域が水没してしまう。
- エ. 病気を広める害虫の住む区域が広がり、病気にかかる人が増える。

(2) 地球温暖化を引き起こす原因となる物質名を1つ答えなさい。

(3) 1997年に日本で国際会議が開かれ、地球温暖化の原因となる物質をどれだけ削減したらよいかの数値目標が示されました。この会議が開かれた都市名を答えなさい。

問8. 下線部⑥について、1992年に地球環境を守るため、国際連合によって会議が開催されました。この会議が開催された都市名を答えなさい。なお、この都市は次の夏季オリンピックが開催される都市です。

解答用紙 2013年度中学社会

1

問 1	問 2	問 3	→	→	→	問 4
問 5	↑	⊕		問 6	問 7	問 8

点

2

問 1																	20
																	40
問 2					問 3	→		→	問 4 (あ)	→			→	→	(い)		
問 5 記号			語句					問 6 (う)				(え)			問 7		
問 8					問 9												

点

3

問 1	問 2	問 3	問 4	問 5	問 6	問 7	問 8
-----	-----	-----	-----	-----	-----	-----	-----

点

4

問 1 (1)	(2)			(3)			(4)		
問 2	問 3 (1)		(2)	問 4	問 5 (1)		(2)	条約	
問 6	→			問 7 (1)		(2)			(3)
問 8									

点

受験番号	
------	--

得点	
----	--