

2012 年度 ラ・サール中学校入学試験問題（社会）

注意：解答はすべて解答用紙に記入しなさい。

1 のび太くんが書いた 2011 年の日記を読んで、以下の問いに答えなさい。

◆（2月20日）リビアで長年続いた独裁政権に反対する運動が occurred。中東や北アフリカの国々には大きな変化が occurring。先月にはチュニジアでも政権が崩壊（ほうかい）していますし、エジプトでも大きな運動が occurred ようです。エジプトはこれからどうなっていくのでしょうか。

問1 リビアとエジプトでそれぞれ独裁政権を続けていた国家元首の名前の組合せとして正しいものを、次のア～エから1つ選び、記号で答えなさい。

ア. ベン＝アリーとムバラク イ. ベン＝アリーとサーレハ ウ. カダフィとムバラク エ. カダフィとサーレハ

◆（3月18日）以前から建設されていた東京スカイツリーが高さ 634 メートルに到達（とうたつ）したそうです。これで「世界一高いタワー」としてギネスブックにのることになります。

問2 現在、東京スカイツリーに抜かれて日本で2番目に高いタワーになっているのが東京タワーです。東京タワーが完成した、1958 年前後の日本のようすについて述べた次のア～エのうち、正しいものを1つ選び、記号で答えなさい。

- ア. ソ連との国交が回復したが、歯舞群島・色丹島・国後島・択捉島は返還されなかった。
- イ. 沖縄に続いて小笠原諸島が日本に返還された。
- ウ. テレビ・洗濯機・自家用車という、いわゆる「三種の神器」が家庭に備えられるようになった。
- エ. アジアで最初のオリンピックが札幌で開催され、東京～新大阪間に新幹線が開通した。

◆（6月25日）ユネスコの世界遺産委員会は、東京都の小笠原諸島を世界自然遺産に、岩手県の奥州藤原氏が栄えた時代の寺院などを「平泉の文化遺産」として世界文化遺産に、それぞれ登録することを決めたそうです。これで日本には 12 の文化遺産と 4 つの自然遺産の、合わせて 16 の世界遺産があることになります。

問3 奥州藤原氏が栄えた 11 世紀から 12 世紀の日本の説明として最も適切なものを、次のア～エから1つ選び、その選んだ文中の空欄〔 〕に適する語を答えなさい。ただし、選んだ記号を答える必要はありません。

- ア. 舎人親王が編集した、日本の歴史書である〔 〕が完成し、天皇に献上された。
- イ. 将軍家のあとつぎ争いなどから、〔 〕の乱が京都を戦場にして 11 年間も続いた。
- ウ. 平氏が、反対する武士たちをまとめた源頼朝ら源氏によって、現在の山口県でおこなわれた〔 〕の戦いで滅ぼされた。
- エ. 2 度にわたる〔 〕軍の襲来（しゅうらい）を撃退（げたい）したが、御恩（ごおん）としての領地をほとんどもらえなかった武士たちは幕府に不満を持つようになった。

◆（7月7日）政府が東日本大震災後の電力不足にそなえて、東京電力と東北電力管内の大企業などに対し、昨夏比 15% の節電を義務付ける電力使用制限令を発動したそうです。これは 37 年ぶりの発動になるそうです。ぼくたちも家庭で節電に協力しようと思います。

問4 前回の電力使用制限例は、1974 年に出されました。それは、前年（1973 年）の出来事で電力供給が不足するおそれが出たためとされています。その出来事は何ですか。

◆（7月19日）ドイツで開かれていた、サッカーの女子ワールドカップで優勝した日本代表選手たちが帰国しました。今回のワールドカップで日本代表は準々決勝でドイツ、準決勝でスウェーデン、そして決勝でアメリカ合衆国をそれぞれ破って優勝しました！

問5 ドイツ・スウェーデン・アメリカ合衆国について述べた次のア～エのうち、誤っているものを1つ選び、記号で答えなさい。

- ア. この3つの国は、全てそれぞれ2つ以上の国と陸上で国境を接している。
- イ. この3つの国は、全て人口が日本よりも多い。（2010 年の時点で）
- ウ. この3つの国は、全て海岸線を持っている。
- エ. この3つの国の首都は、全て東京都よりも北にある。

◆（8月15日）今日は田舎（いなか）のおばあちゃんの家に行きました。おばあちゃんが地図をかくてくれたのですが、それによるとおばあちゃんの家は、駅から大通りをまっすぐ進んで（Y）の手前の交差点を左に曲がり、（田）を過ぎた最初の交差点を右折して、……

問6 文中の記号 Y・田 は地形図記号です。それぞれ何を表しますか。

◆ (10月7日) 2011年のノーベル平和賞に、3人の女性が選ばれました。このうちの1人でリベリアという国の大統領であるサーリーフ氏は、アフリカで女性として初めて選挙で選ばれた大統領なのだそうです。

問7 2004年にアフリカ出身の女性として初めてノーベル平和賞を受賞したのは誰ですか。ごみを減らし、循環型社会を作っていくためのキーワードとして「MOTTAINAI (もったいない)」という言葉の世界に広めた人です。

◆ (10月31日) 国連の潘基文事務総長が、世界の人口が70億人に達したと発表したそうです。しかし、新たに生まれた子どもたちの中には飢えに苦しんだり、教育を受けられなかったりしている人もいます。世界の子どもたちがみな健康で豊かな生活ができるようになってほしいです。

問8 国際連合の中の1つの機関で、近年は「子どもの権利条約」にもとづいて、保健・栄養・教育などの子どもの権利を守るための活動を行っている組織の名前は何ですか。

2 「四季」や「三冠王」など、ある数字をあたまにかぶせて、同じような事物をその数だけ集めていうことばを「名数」といいます。次の文章は、日本の歴史に関係する名数とその説明です。これを読んで、下の問いに答えなさい。解答は特に指示がない限り正しい漢字で答えること。

- A 一の人 第一の席に着くことから、摂政や関白を指す。
- B 両統 持明院統と大覚寺統という、天皇家の二つの血筋を指す。この両統の対立が、やがて南北朝の対立につながった。
- C 三傑 ①政治の大きな改革を実行する上で重要な働きをした、木戸孝允・()・西郷隆盛を指す。
- D 四座 大和国にあった、猿楽を行う人々の集団。金剛座・金春座・宝生座・観世座の4つ。観世座から世阿弥が出た。
- E 五街道 主要な交通路である、東海道・中山道・日光街道(道中)・奥州街道(道中)・甲州街道(道中)を指す。
- F 七雄 ②北条・織田・毛利・今川・武田・上杉・豊臣を指す。
- G 十大紡 紡績業の中でも最大手の10社を指した。日本国内で綿糸を作る一方、中国に工場を建ててそこでの生産も行った。
- H 十二階 日本で初めてできた、役人に与える位のしぐみ。
- I 九州 この場所が、筑前・筑後・肥前・肥後・豊前・豊後・日向・薩摩・大隅に分かれていたことからこう呼ばれる。

問1 A~H (Iは含まない) を、内容に注目して時代の古い順に並べ替えたときに、3番目と6番目になるものを選び、それぞれ記号で答えなさい。ただし、Aは関白が初めて置かれた時期として考えること。

問2 Aについて。摂政や関白が正式に廃止された時期と、都(天皇がいるところ)が京都から離れた時期とはほぼ一緒ですが、それはいつ頃のことですか。次のア~エのうち、時期が最も近いものを選び、記号で答えなさい。

- ア. 平安時代の終わり頃 イ. 鎌倉時代の終わり頃 ウ. 室町時代の終わり頃 エ. 江戸時代の終わり頃

問3 Bについて。次のア~エは様々な時代の対立に関する文章です。このうち1つの文章だけに明らかな誤りが1つ含まれ、その語句を訂正すればその文章は正しくなります。誤りを含む文章の記号と、誤りを訂正した語句を、それぞれ答えなさい。

- ア. 政府は西南戦争など、不満をもつ士族による各地の反乱を、軍隊の力で抑えた。この頃板垣退助は、国会を開くことを主張し、自由民権運動の中心になった。これに対し政府は取りしまりを強めたが、いずれ国会を開くと1881年に約束した。
- イ. 朝廷は、北条氏が政治を行っている幕府を倒せという命令を出した。しかし幕府側は北条政子の演説もあって団結を固め、朝廷の軍勢を破った。これ以後幕府の力は西国にもおよび、やがて武家諸法度が作られて、幕府の支配力は強まった。
- ウ. 中大兄皇子や中臣鎌足は、645年に蘇我氏を倒し、すべての土地と人民を天皇が治める新しい政治のしぐみを整え始めた。それにより庶民は様々な税を出すこととされ、その後衛士として都の警備に、防人として北九州の防衛にあたることもあった。
- エ. 島原や天草で、キリスト教の信者を中心とした人々が一揆を起こしたが、徳川家光は大軍を送ってこれを抑えた。この後幕府はポルトガル船の来航を禁じ、長崎を通じた貿易相手をオランダと中国に限った。この他朝鮮や琉球とも交流があった。

問4 Cについて。


- (1) 空欄に入る適切な人名を答えなさい。明治政府の基礎を築いた薩摩出身の人物です。
- (2) この人たちは日本がどんな国になればよいと思って下線部①のような改革を目指したのでしょうか。幕末に激しい政治上の争いが起こったきっかけが何であったかを考えて(ただし、その内容を解答に含める必要はない)、20字以内で答えなさい。

問5 Dについて。次の図ア～エのうち、Dと最も関係が深いものはどれですか。1つ選び、記号で答えなさい。

ア




イ



ウ



エ



問6 Eについて。

- (1) 五街道がつくられ、使われた時代に、東海道のすべての宿場町の風景を描いて有名になった浮世絵師は誰ですか。
- (2) ものを大量に運ぶために使われた手段は、江戸時代までと明治以降では変化が見られます。江戸時代までの手段と、明治時代の初め頃に新たに加わった手段を、順に答えなさい。

問7 Fについて。下線部②の4人の領地を東西に並べた時に、東から2番目に位置するのは誰の領地ですか。ただし、解答はその一族で最も有名な武将の名を、姓名ともに答えること。

問8 Gについて。明治以降の日本と中国に関する次の文章ア～エのうち、内容が正しいものを1つ選び、記号で答えなさい。

- ア. 1894年、日本は朝鮮半島の支配をめぐって清と対立し、日清戦争が起こった。日本は勝ち、台湾と遼東半島を譲り受け、多額の賠償金をもらった。しかしロシア・ドイツ・イギリスから強く求められたため、遼東半島を清に返した。
- イ. 日露戦争で勝利した日本は、ポーツマス条約を結び、ロシアが南満州に持っていた鉄道や港の権利を得た。その後日本の経済が行きづまると、一部の人が、この満州の権利を足かぎりに大陸に進出することで景気をよくしようと主張し始めた。
- ウ. 1931年、満州にいた日本軍が南満州鉄道の線路を爆破し、これを中国軍のしわざだとして攻撃を始め、満州を占領した。翌年日本はこの地方を独立させて満州国と呼んだが、国際連合はこれを認めなかったため、日本は国際連合を脱退した。
- エ. 1937年に日中戦争を始めた日本は、1941年まで中国と戦った。その後国交はとだえていたが、1972年によりやく中華人民共和国との間で国交が正常化され、1978年には日中共同声明が発表されて両国の交流は活発になった。

問9 Hについて。日本史のそれぞれの時代には、このようなしくみをはじめとして、政治上必要なしくみがさまざまな形で作られました。次のア～カは、地方を支配するしくみに関する文章です。これらを時代の古い順に並べ替え、記号で答えなさい。

- ア. 朝廷に任命される役人の他に、将軍の家来である御家人が守護に任命されて地方を治めた。
- イ. 全国が60あまりの国に分けられ、朝廷から派遣された役人が、天皇の命令に従ってそれぞれの国を治めた。
- ウ. 選挙で選ばれた人が都道府県の代表となり、その地方の特徴にあわせた政治を行うことができるようになった。
- エ. 将軍の家来である大名が、幕府の方針に従ってそれぞれの領地を治め、参勤交代を行って政治の中心地と領地を往復した。
- オ. 天皇がすべての力を握るようになり、政府が任命した役人が地方に派遣され、それぞれの府や県を治めた。
- カ. 実力のある大名が自分の力で土地とそこに住む人を支配し、その支配する場所を広げるために盛んに合戦を行った。

問10 Iについて。九州には古い時代の遺跡が多くあります。次のア～カのうち、九州にある遺跡を全て選び、記号で答えなさい。

- ア. 板付遺跡 イ. 三内丸山遺跡 ウ. 吉野ヶ里遺跡 エ. 登呂遺跡 オ. 鳥浜貝塚 カ. 野尻湖遺跡

3 次の文章を読んで、下の問いに答えなさい。

近代憲法は、a 基本的人権と統治機構の二つの部分から構成されていますが、統治機構の基本原理は国民主権と権力分立です。

統治機構のうち、立法権・行政権・司法権について、日本国憲法は、立法権が国会に属し、行政権が内閣に属し、司法権が裁判所に属するものとしています。

国会について、憲法は、「国権の最高機関であつて、国の唯一の立法機関である」(第41条)と定め、b 選挙によって選出された議員を構成員とし、国民代表機関としての性格をもつ国会を中心にして政治が行われるべきという指針を示しています。また、国会は立法機関としてc 法律を制定します。国会では、d 衆議院および参議院によって構成される二院制が採られています。

内閣について、憲法は、「行政権は、内閣に属する」(第65条)とした上で、「内閣は、法律の定めるところにより、e その首長たる内閣総理大臣及びその他の国务大臣でこれを組織する」(第66条第1項)と定めています。

f 裁判所について、憲法は、「すべて司法権は、最高裁判所及び法律の定めるところにより設置する下級裁判所に属する」(第76条第1項)と定めています。また、裁判所法は、「裁判所は、g 日本国憲法に特別の定めのある場合を除いて一切の法律上の争訟を裁判し、その他法律において特に定める権限を有する」(第3条第1項)と規定しています。

憲法の統治機構に関する部分は、国の立法権・行政権・司法権以外に、財政や地方自治などについても規定しています。このうち、地方自治について、憲法は、「地方公共団体は、その財産を管理し、事務を処理し、及び行政を執行する権能を有し、法律の範囲内で(A)を制定することができる」(第94条)としています。

問1 本文中の空欄(A)には地方公共団体の議会が制定する法の名^{しやう}称が入ります。適切な言葉を漢字で答えなさい。

問2 下線部a「基本的人権」と日本国憲法に関して述べた次のア～エのうち、明らかに誤っているものを1つ選び、記号で答えなさい。

- ア. 憲法に「プライバシー」という言葉はないが、プライバシーの権利は裁判所の判決などを通じて新しく認められてきた人権である。
- イ. 憲法は、健康で文化的な生活を営む権利を保障しているが、この権利は戦前の大日本帝国憲法にはなかったものである。
- ウ. 憲法は、勤労の権利を保障しているが、この保障は、国がすべての失業者を雇わなければならないということを意味するものではない。
- エ. 憲法には、言論の自由を保障する定めはあるが、集会の自由を保障する定めはない。

問3 下線部b「選挙」に関して、法律は公職の候補者として選挙に出ることができる者の資格を何歳以上というように年齢で制限しています。この年齢に関して述べた次のア～エのうち、適切なものを1つ選び、記号で答えなさい。

- ア. 参議院議員に立候補できる者と都道府県議会の議員に立候補できる者の年齢は同じだが、その年齢と市町村長に立候補できる者の年齢は異なる。
- イ. 衆議院議員に立候補できる者と都道府県議会の議員に立候補できる者の年齢は同じだが、その年齢と市町村長に立候補できる者の年齢は異なる。
- ウ. 衆議院議員に立候補できる者と市町村議会の議員に立候補できる者の年齢は同じだが、その年齢と都道府県知事に立候補できる者の年齢は異なる。
- エ. 参議院議員に立候補できる者と市町村議会の議員に立候補できる者の年齢は同じだが、その年齢と都道府県知事に立候補できる者の年齢は異なる。

問4 下線部c「法律」が成立する過程に関して述べた次のア～エのうち、明らかに誤っているものを1つ選び、記号で答えなさい。

- ア. 憲法は、法律案の提案について、先に衆議院に提案しなければならないと定めている。
- イ. 憲法は、法律案について、憲法が定める特別の例外を除き、原則として両議院で可決したときに法律となると定めている。
- ウ. 衆議院で可決し、参議院で否決した法律案については、衆議院で出席議員の3分の2以上の多数で再び可決したとき、法律となる。
- エ. 法律案の提案は、国会議員だけでなく、内閣も行うことができる。

問5 下線部dに関して述べた次のア～エのうち、明らかに誤っているものを1つ選び、記号で答えなさい。

- ア. 憲法は、予算案について、衆議院と参議院とが異なった議決をし、両院協議会を開いても意見が一致しないときは、衆議院の議決を国会の議決とすると定めている。
- イ. 憲法は、衆議院および参議院の両議院で内閣不信任決議案が可決されたとき、この内閣は10日以内に衆議院を解散しない限り、総辞職をしなければならないと定めている。
- ウ. 憲法は、衆議院および参議院が、それぞれ、その会議などの手続きおよび内部の規律に関する規則を定めることを認めており、この規定に基づいて衆議院規則および参議院規則が制定されている。
- エ. 憲法は、衆議院議員の任期を4年とし、衆議院が解散された場合には、4年の期間満了前に任期が終了すると定めている。

問6 下線部eに関して述べた次のア～カのうち、明らかに誤っているものを1つ選び、記号で答えなさい。

- ア. 内閣総理大臣の指名について、衆議院が指名の議決をした後、国会休会中の期間を除いて10日以内に参議院が指名の議決をしないときは、衆議院の議決に基づいて内閣総理大臣が決まる。
- イ. 内閣総理大臣は、国务大臣を辞めさせることができる。
- ウ. 内閣総理大臣は、国务大臣を任命するが、その過半数を国会議員の中から選ばなければならない。
- エ. 内閣総理大臣およびその他の国务大臣は、衆議院または参議院に議席をもっているか否かにかかわらず、議案について発言するため議院に出席することができる。
- オ. 内閣総理大臣以外の内閣の構成員は、財務大臣など省の長として各省に1人ずつ置かれる合計11人の国务大臣に限られており、それ以外の者が内閣の構成員になることはできない。
- カ. 内閣総理大臣の指名について、衆議院と参議院とが異なった指名の議決をし、両院協議会を開いても意見が一致しないときは、衆議院の議決に基づいて内閣総理大臣が決まる。

問7 下線部fに関して述べた次のア～カのうち、明らかに誤っているものを1つ選び、記号で答えなさい。

- ア. 最高裁判所長官は、内閣が指名し、天皇が任命する。
- イ. 最高裁判所は、訴訟に関する手続き、弁護士、裁判所の内部規律および司法事務処理に関する事項について、規則を定める権限をもっている。
- ウ. 下級裁判所の裁判官は、最高裁判所の指名した者の名簿に基づいて、内閣が任命する。
- エ. 憲法は、人が裁判所において裁判を受ける権利をもつことを保障している。
- オ. 最高裁判所長官以外の最高裁判所裁判官は、内閣が任命する。
- カ. 裁判所は、国会が制定した法律が憲法に違反するか否かを裁判によって判断する権限をもつが、内閣またはその他の行政機関が行った行政処分が憲法に違反するか否かを裁判により判断することはできない。

問8 下線部gの例として適切なものを、次のア～エから1つ選び、記号で答えなさい。

- ア. 内閣が、裁判官を辞めさせるかどうかの裁判をするために、内閣の構成員全員で組織する分限裁判所を設ける場合
- イ. 国会が、裁判官を辞めさせるかどうかの裁判をするために、両議院の議員の一部で組織する弾劾裁判所を設ける場合
- ウ. 法務省が、内閣総理大臣を辞めさせるかどうかの裁判をするために、法務大臣などで組織する弾劾裁判所を設ける場合
- エ. 内閣が、国会議員を辞めさせるかどうかの裁判をするために、内閣の構成員全員で組織する分限裁判所を設ける場合

4 昨年、九州新幹線鹿児島ルートが全線開業しました。次の図1は、新幹線の駅のある市町村について、鹿児島市との距離と市町村人口との関係を示したものです。図1を見て、下の問いに答えなさい。

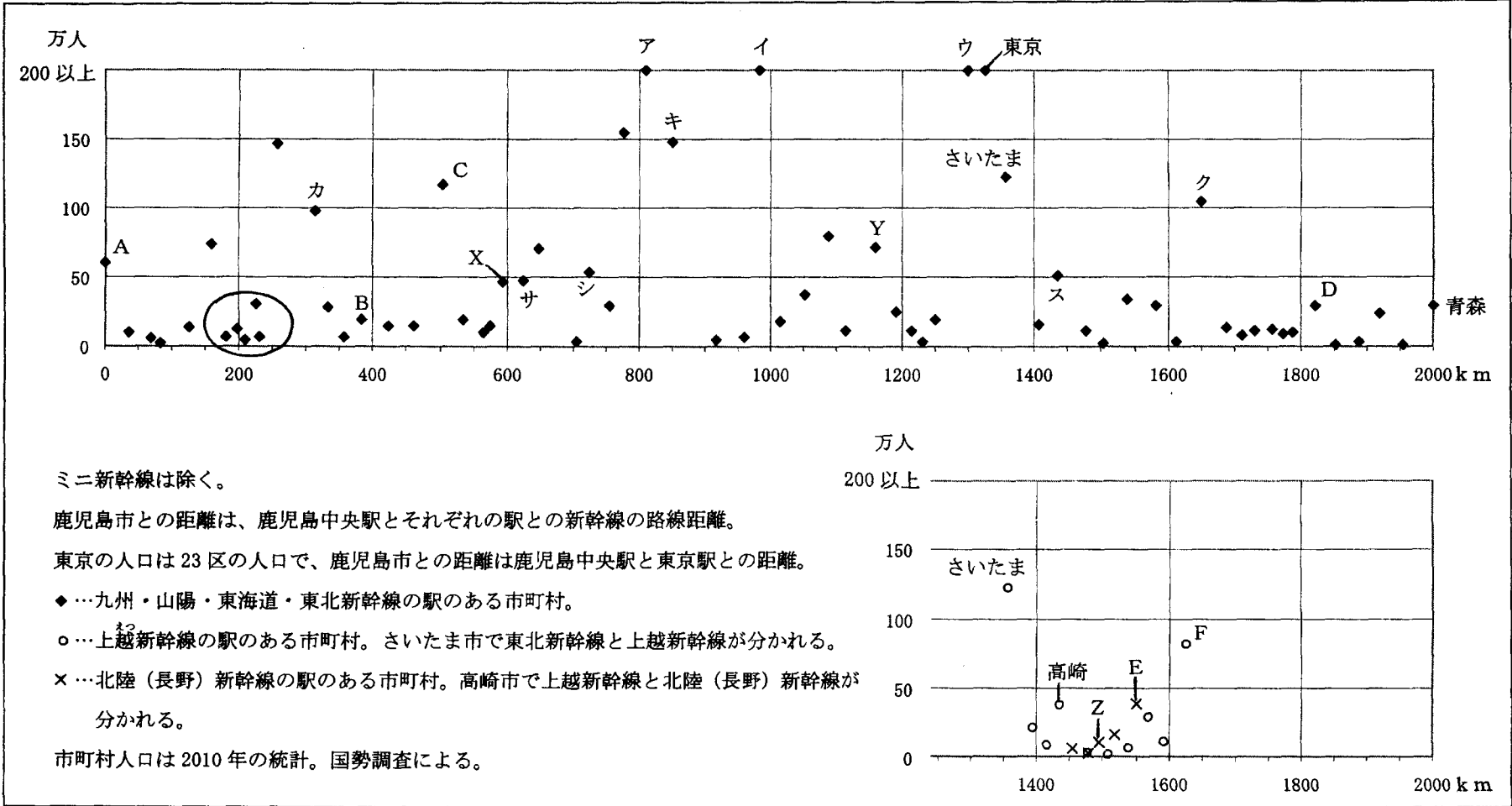


図 1

問1 図1中の○には、比較的短い距離に多くの駅が設置されています。これらの駅が位置する都道府県名を3つ答えなさい。
ただし順序は問いません。

問2 右の図2は、図1中のア～ウの人口の変化を示したものです。P～Rとア～ウとの正しい組合せを、次の1～6から1つ選び、番号で答えなさい。

	1	2	3	4	5	6
P	ア	ア	イ	イ	ウ	ウ
Q	イ	ウ	ア	ウ	ア	イ
R	ウ	イ	ウ	ア	イ	ア

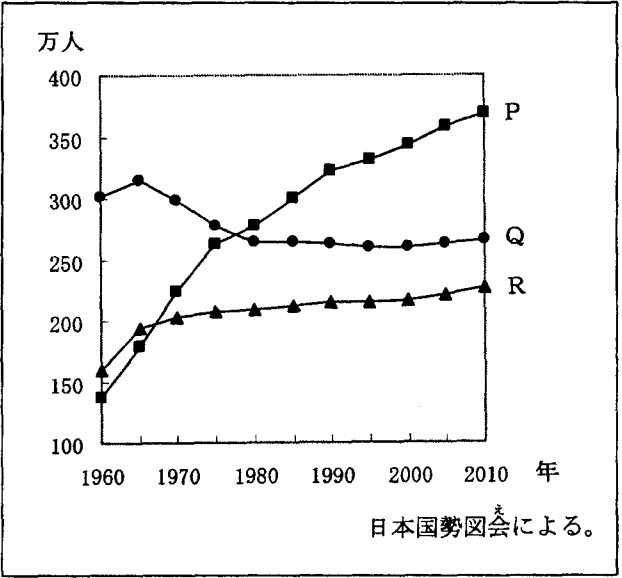


図 2

問3 図1中のカ～クの市名を答えなさい。

問4 次の文S～Uは、図1中のサ～スのいずれかの市について述べたものです。S～Uとサ～スとの正しい組合せを、次の1～6から1つ選び、番号で答えなさい。

- S 新幹線の駅から北へ向かうと、世界遺産の城があります。
- T 新幹線の駅から南東へ向かうと、水島臨海工業地帯があります。
- U 新幹線の駅から西へ向かうと、県庁があります。

	1	2	3	4	5	6
S	サ	サ	シ	シ	ス	ス
T	シ	ス	サ	ス	サ	シ
U	ス	シ	ス	サ	シ	サ

問5 図1中のA～Fは、すべて県庁所在都市です。

(1) 次の表中のタ～ツは、A～Cがそれぞれ属する県のいずれかについて、工業出荷額の内訳を示したものです。タ～ツとA～Cとの正しい組合せを、次の1～6から1つ選び、番号で答えなさい。

	金属	機械	化学	食料品	その他
タ	22.0	52.6	4.3	7.5	13.6
チ	14.9	25.0	43.8	4.7	11.6
ツ	4.1	21.2	1.9	57.9	14.9

	1	2	3	4	5	6
タ	A	A	B	B	C	C
チ	B	C	A	C	A	B
ツ	C	B	C	A	B	A

統計年次は2009年。日本国勢図会による。単位：％

(2) 次の表中のナ～ヌは、D～Fがそれぞれ属する県のいずれかについて、農業産出額の内訳（％）を示したものです。ナ～ヌとD～Fとの正しい組合せを、次の1～6から1つ選び、番号で答えなさい。

	米	野菜	果実	畜産
ナ	60.1	12.4	3.5	17.7
ニ	21.9	30.7	21.9	14.3
ヌ	25.7	10.1	4.9	52.4

	1	2	3	4	5	6
ナ	D	D	E	E	F	F
ニ	E	F	D	F	D	E
ヌ	F	E	F	D	E	D

統計年次は2009年。地理統計要覧による。単位：％

問6 次の図3中のハ～フは、図1中のX～Zのいずれかの市町村の気候の特徴を示したものです。ハ～フとX～Zとの正しい組合せを、下の1～6から1つ選び、番号で答えなさい。

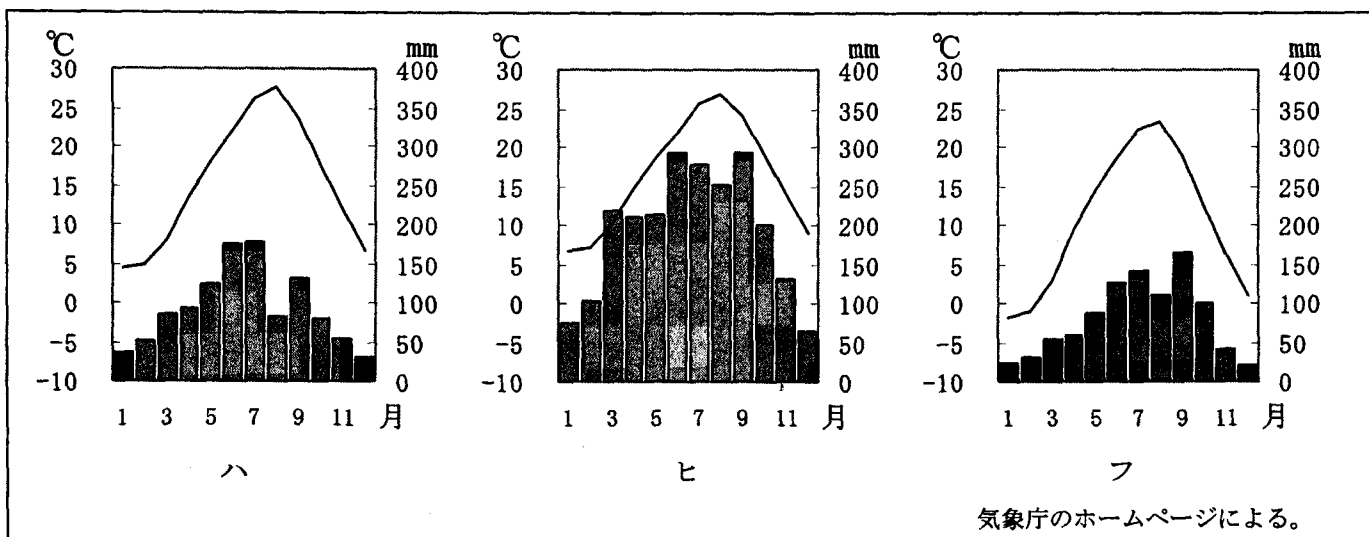


図 3

	1	2	3	4	5	6
ハ	X	X	Y	Y	Z	Z
ヒ	Y	Z	X	Z	X	Y
フ	Z	Y	Z	X	Y	X

（以上で問題は終わり）

解答用紙 2012年度中学社会

1	問 1	問 2	問 3	問 4	問 5	
	問 6 ヲ	問 7	問 8		点	

2	問 1	問 2	問 3 記号	語句	
	3番目	6番目			
	問 4 (1)	(2)			
	問 5	問 6 (1)	(2)	問 7	
	問 8	問 9	→ → → → →	問10	点

3	問 1	問 2	問 3	問 4	問 5	問 6	問 7	問 8	
								点	

4	問 1	問 2			
	問 3 カ	市		市	問 4
	問 5 (1)	(2)		問 6	

受験番号		得点	
------	--	----	--