

2011年度 ラ・サール中学校入学試験問題 (社会)

(その1)

*解答は、すべて解答用紙に記入しなさい。

1 2010年の日本や世界で起きたできごとについて、以下の問いに答えなさい。

問1 2010年は、奈良に平城京がおかれてから1300年目にあたります。奈良県ではこれを記念してさまざまな催しが行われました。では、平城京が都であったのは約何年間ですか。最も近い数字を、次のア～エから一つ選び、記号で答えなさい。

ア. 30 イ. 50 ウ. 80 エ. 100

問2 1月、カリブ海の島国で地震があり、大勢の人が亡くなるなど、大きな被害が出ました。この国では、貧しい人が多いうえに、政治も混乱しているため、以前より国連が平和維持活動(PKO)を行っていましたが、今回の地震による被害を救援するため日本もPKOに参加しました。この国の名前を、次のア～エから一つ選び、記号で答えなさい。

ア. タヒチ イ. ドミニカ ウ. ジャマイカ エ. ハイチ

問3 2月、バンクーバーで、冬季オリンピックが開催されました。冬季オリンピックとしては、今までで最も多くの国と地域が参加したそうです。バンクーバーはどこの国にある都市ですか。その国の名前を答えなさい。

問4 3月、イラクで国民議会選挙が行われ、12月に新政権が発足しました。政権の発足がこのように遅れたのは、国内にある3つの勢力のバランスをとりつつ、1つの政権にまとめるのに時間がかかったため、といわれています。その3つの勢力とは、イスラム教シーア派、イスラム教スンニ派、そしてある民族からなる勢力ですが、その民族の名前を、次のア～エから一つ選び、記号で答えなさい。

ア. タジク イ. グルジア ウ. クルド エ. グルカ

問5 4月、宮崎県で家畜伝染病の口てい疫が発生し、牛・豚などに感染して、約29万頭が処分されるなど大きな被害が出ました。8月になり口てい疫はおさまりましたが、全国の畜産農家に大きな不安をあたらしました。次の表は、牛の飼育頭数の多い順に都道府県を上から5つ示したものです。X、Yにあてはまる都道府県名を答えなさい。

	乳用牛(万頭)			肉用牛(万頭)	
	2008年	2009年		2008年	2009年
X	81.9	82.3	X	51.1	53.5
栃木県	5.7	5.6	Y	36.7	37.6
岩手県	5.1	4.8	宮崎県	29.5	29.8
熊本県	4.5	4.3	熊本県	14.8	14.7
千葉県	4.3	4.1	岩手県	11.2	11.2

問6 5月、中国で上海万博が始まり、なかでも日本館は大きな人気を呼びました。日本と中国とは長い交流の歴史があり、むかしから日本は仏教などの進んだ文化を中国から取り入れてきました。では、今から約1400年前に、聖徳太子が建てた寺は何ですか。次のア～エから一つ選び、記号で答えなさい。

ア. 唐招提寺 イ. 東大寺 ウ. 法隆寺 エ. 興福寺

問7 8月、南米にある国のサンホセ鉱山で落盤事故があり、33人が地下に閉じ込められました。世界が注目するなか政府は懸命な救援活動を行い、10月に全員無事救出されました。この国の名前を次のア～エから一つ選び、記号で答えなさい。

ア. ペルー イ. チリ ウ. アルゼンチン エ. ブラジル

問8 8月、環境にやさしい自動車(エコカー)であるハイブリッドカーを買う人が多かったそうです。ハイブリッドカーは、ガソリンエンジンともう一つの動力機関を組み合わせています。その動力機関とは何か答えなさい。

問9 11月、ロシアのメドベージェフ大統領が北方領土を訪問しました。ソ連時代をふくめロシアの最高指導者としては初めてのことで、これにより日本とロシアとの領土問題の解決は難しさを増した、といわれています。では、北方領土のなかで最も北に位置する島の名前を、次のア～エから一つ選び、記号で答えなさい。

ア. 国後 イ. 択捉 ウ. 歯舞 エ. 色丹

2 次の【A】～【E】は、日本のある県について述べた文章です。これらの文章を読んで以下の問いに答えなさい。

【A】この県は広い平野の南西部に位置しています。南部と東部は海に面しており、西部は山がちな地形です。県東部の臨海部は、古くから都市化・工業化が進んでいます。高度経済成長以降、急速に人口が増加し、現在では日本で2番目に人口の多い都道府県です。また、①県内には政令指定都市が3都市あり、日本で最も多くの政令指定都市をかかえる都道府県になっています。県南部の海岸は、夏は海水浴でにぎわうと同時に、かつて日本の政治の中心地であった(1)があり、国内外から多くの観光客が訪れます。

【B】この県は、東部でとなりの県と陸地で接している以外は、周囲を海に囲まれています。多くの離島と半島があり、海岸線は非常に複雑であるため、②海岸線の長さは全国2位です。県内は多くの良い港にめぐまれており、古くから海外との交流がさかんに行われ、鎖国をしている時にも海外に開かれていました。県庁所在地は港湾都市で、造船がさかんです。県第2の市である(2)市は、昔からの軍港があり、現在も海上自衛隊の基地があります。また、この市にはヨーロッパの町並みを模した観光施設があり、国内外から多くの観光客が訪れます。県南部の(3)半島には火山があり、1991年の噴火にともなう火砕流によって多くの被害がもたらされました。

【C】この県は、北部は海に面し、南部は山地になっています。《 あ 》の季節風の影響で、冬に降水量が多く、内陸地域では降雪もみられます。県東部には2つの湖があり、その2つの湖の間に県庁所在地である[X]市が位置しています。県中央部には、約400年にわたり採掘されてきた(4)銀山の跡があり、2007年に③世界文化遺産に登録されました。また、この県に所属する《 い 》については、韓国も領有を主張しています。

【D】この県の内陸部の大部分は山岳丘陵地帯で、西側には県境に(5)山脈があり、これと平行して東側には高地が広がっています。そして、この二つの山系の間を川が南に向かって流れ、その流域には平地が広がっています。県庁所在地の[Y]市もこの川の流域に位置します。県東部は海に面しており、出入りのはげしい海岸になっています。また、その沖合は日本有数の漁場となっており、優れた漁港・港湾にもめぐまれています。産業は農林水産業がさかんですが、④最近では先端技術産業の工場が進出しており、工業の発展も見られます。

【E】この県は南部には約500キロメートルの海岸線が、北部は3000メートル級の山々からなる山岳地帯が、東西に長い地形を囲んでいます。⑤山地から流れ出た川が何本も県内を縦断し、海に流れています。この県は茶の生産量など日本一を記録するものが多く、県のホームページには200以上の日本一が掲載されています。そのうちの1つである“日本一高い山”も県北東の県境に位置しています。県内には政令指定都市が2つありますが、そのうち県西部に位置する都市では、楽器やオートバイの生産がさかんです。

問1 文中の空欄(1)～(5)にあてはまる地名を答えなさい。

問2 文中の空欄《 あ 》・《 い 》に入る語句として最も適当なものを、次のア～エから一つ選び、それぞれ記号で答えなさい。

《あ》：ア. 北東 イ. 北西 ウ. 南東 エ. 南西

《い》：ア. 英蘭諸島 イ. 佐渡島 ウ. 与那国島 エ. 竹島

問3 文中の空欄[X]・[Y]にあてはまる都市名を答えなさい。

問4 下線部①について、この県の政令指定都市を3都市とも答えなさい。

問5 下線部②について、海岸線の長さが全国1位の都道府県を答えなさい。

問6 下線部③について、アメリカ合衆国が核実験をくり返してきた太平洋上のさんご礁が、2010年8月に世界文化遺産に登録されました。そのさんご礁の名前を答えなさい。

問7 下線部④について、先端技術産業の工場では半導体やICなどの生産を行います。この県では、先端技術産業の工場はどのような場所に進出していますか。製品の性質や輸送の便を考えた上で答えなさい。

問8 下線部⑤について、この県を流れている河川として正しいものを、次のア～エから一つ選び、記号で答えなさい。

ア. 天竜川 イ. 吉野川 ウ. 利根川 エ. 信濃川

問9 都道府県のほとんどは、都道府県章を制定しています。そのデザインは都道府県の風土・歴史・文化などを象徴的に表現したもの、都道府県名にふくまれる文字の一部もしくは全体をデザインに採用しているもの、県の形(地形)や特産物を抽象化したものなどがあります。次のア～オの県章は【A】～【E】の県のいずれかのものです。【E】の県章を次のア～オから一つ選び、記号で答えなさい。

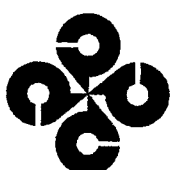
ア

イ

ウ

エ

オ



3 次の文章を読み、以下の問いに答えなさい。

1945年8月14日、日本がポツダム宣言を受諾し、第二次世界大戦は終わりました。敗戦国日本は、主権が天皇にあることなどを定めた、従来の大日本帝国憲法を使い続けることはできず、新しい憲法の制定が必要になりました。新しい憲法の制定は、1946年6月に始まったa 帝国議会で行われ、そこでの審議・可決を経て、日本国憲法として1946年11月3日に公布、1947年5月3日に施行されました。

日本国憲法第41条は、「国会は、国権の最高機関であって、国の唯一の立法機関である」と定めています。国会は、b 立法をおもな仕事とし、衆議院および参議院によって構成されています。両議院の議員について、憲法第43条第1項は、「両議院は、全国民を代表するc 選挙された議員でこれを組織する」としています。

行政権を担う機関がd 内閣であり、内閣の組織について、憲法第66条第1項は、「内閣は、法律の定めるところにより、その首長たる内閣総理大臣及びその他の国务大臣でこれを組織する」としています。内閣のもとには、内閣府およびe 11の省が置かれています。

司法権を担う裁判所について、憲法第76条第1項は、「すべて司法権は、f 最高裁判所及び法律の定めるところにより設置するg 下級裁判所に属する」としています。

日本国憲法が施行された当時、日本は連合国の占領下にありました。その後、サンフランシスコ平和条約（日本国との平和条約）により、連合国との戦争状態を終了させた日本は、h 国際社会に復帰していきました。

問1 下線部aに関する以下の記述のうちから、明らかに誤っているものを一つ選び、記号で答えなさい。

- ア. 衆議院は、衆議院議員選挙法の定めるところに従って公選された議員によって組織された。
- イ. 衆議院議員の選挙について、25歳以上の男女による普通選挙が認められたのは1925年のことであり、この年、治安維持法も制定された。
- ウ. 帝国議会がはじめて開かれたのは、大日本帝国憲法公布の翌年に当たる1890年であった。
- エ. 大日本帝国憲法は、1人の人が同時に衆議院議員と貴族院議員の資格をもつことを禁止していた。

問2 下線部b「立法」について、法には、国会が制定する法律以外にさまざまなものがありますが、それらの法に関する以下の記述のうちから、明らかに誤っているものを一つ選び、記号で答えなさい。

- ア. 憲法は、条約については天皇が公布すべき法に含めていない。
- イ. 憲法は、地方公共団体の議会が、「法律の範囲内で、条例を制定することができる」と定めている。
- ウ. 憲法は、「この憲法及び法律の規定を実施するために、政令を制定すること」を内閣の権限とし、天皇は国事行為として政令を公布する。
- エ. 憲法は、両議院が、それぞれの会議の手続きや議院内部の規律に関して規則を定める権限をもつと規定している。
- オ. 憲法は、最高裁判所が、訴訟に関する手続き、弁護士、裁判所の内部規律、司法事務処理に関する事項について、規則を定める権限をもつと規定している。
- カ. 法律は、地方公共団体の住民が、有権者の一定割合の署名を集めて、地方公共団体の長に対して、条例の制定・改正・廃止の請求をすることができるように定めている。

問3 下線部cに関する以下の記述のうちから、明らかに誤っているものを一つ選び、記号で答えなさい。

- ア. 2010年7月の参議院議員通常選挙の時点における選挙区選出議員の改選議席について、民主党の獲得議席数は、自由民主党のそれを下回った。
- イ. 衆議院比例代表選出議員の選挙については、政党は、名簿に記載される候補者に、当選人となるべき順位を付けて名簿を作成する。
- ウ. 2010年7月の参議院議員通常選挙の時点における改選議席について、民主党と共に与党を形成していた国民新党は、比例代表選出議員選挙でも選挙区選出議員選挙でも、議席を獲得することができなかった。
- エ. 参議院比例代表選出議員の選挙については、政党は、名簿に記載される候補者に、当選人となるべき順位を付けないで名簿を作成する。
- オ. 2010年7月の参議院議員通常選挙の時点における改選された議席および非改選議席を合わせた議席数について、民主党と国民新党からなる与党は、参議院における総議席数の過半数を超えた。
- カ. 2010年7月の参議院議員通常選挙の時点における比例代表選出議員の改選議席について、民主党の獲得議席数は、自由民主党のそれを上回った。

問4 下線部dに関する以下の記述のうちから、明らかに誤っているものを一つ選び、記号で答えなさい。

- ア. 内閣は、衆議院を解散する権限をもち、衆議院が解散されたときは、解散の日から40日以内に衆議院議員総選挙を行い、その選挙の日から30日以内に特別国会を召集することになっている。
- イ. 憲法は、国会議員の選挙の施行を公示することなど、天皇の国事行為については内閣の「助言と承認」により行うべきものと定めている。
- ウ. 内閣は、国会に法律案を提出する権限をもち、内閣総理大臣が内閣を代表して提出する。
- エ. 憲法は、参議院で、内閣を構成する内閣総理大臣またはその他の国务大臣に対して、問責決議案が可決されたときは、10日以内に、その内閣が総辞職すべきものと定めている。

問5 下線部eとして、明らかに誤っているものを一つ選び、記号で答えなさい。

- ア. 消費者省 イ. 環境省 ウ. 経済産業省 エ. 総務省 オ. 防衛省

問6 下線部fに関する以下の記述のうちから、明らかに誤っているものを一つ選び、記号で答えなさい。

- ア. 最高裁判所は、15人全員の裁判官で構成される大法廷、または5人の裁判官で構成される小法廷で審理および裁判をする。
- イ. 最高裁判所長官およびその他の最高裁判所裁判官は、内閣が指名し、天皇が任命する。
- ウ. 最高裁判所裁判官は、70歳になったときに定年となり、退官する。
- エ. 最高裁判所は、ある法律が憲法に違反すると判断する場合、その裁判を小法廷ではなく、大法廷で行わなければならない。

問7 下線部gに関する以下の記述のうちから、明らかに誤っているものを一つ選び、記号で答えなさい。

- ア. 法律は、下級裁判所として、高等裁判所・地方裁判所・家庭裁判所・簡易裁判所の4種類の裁判所を設けることとしている。
- イ. 憲法は、下級裁判所裁判官の任期を10年とし、再任されることができると定めている。
- ウ. 下級裁判所が行う事件の審理および裁判について、高等裁判所は3人の合議制または5人の合議制で行い、地方裁判所は1人制または3人の合議制で行う。
- エ. 簡易裁判所の判決に不服があるときは、地方裁判所に訴えることになっており、簡易裁判所の判決への不服を理由に高等裁判所に訴えることはできない。

問8 下線部h「国際社会」への日本の復帰は国際連合への加盟などを通じて実現していきました。国際連合に関する以下の記述のうちから、明らかに誤っているものを一つ選び、記号で答えなさい。

- ア. 国際連合は、連合国によって開かれたサンフランシスコ会議において採択された国際連合憲章に基づき、1945年に成立した。
- イ. 国際連合の成立当初の原加盟国は51か国であったが、その後加盟国が増加し、2006年にモンテネグロが加盟したことにより、加盟国数は192か国となった。
- ウ. 日本は、日中共同声明により、中華人民共和国との戦争状態の終結および国交の正常化を果たした後、1972年に国際連合に加盟した。
- エ. 国際連合憲章は、国際連合の目的として、最初に「国際の平和及び安全を維持すること」を挙げている。

4 次の文章は、現在の鹿児島県の地域にかつて住んでいた人々が見たであろう情景などを時代の早い順に記したものです。これに関して、以下の問いに答えなさい。

- A 北の方から、人々がやってきました。南の島でとれる貝を手に入れるためです。北の方では稲作りが始まっているようで、そのために使う石の道具を見せてくれました。
- B 円形と四角形を組み合わせた大きな墓がつくられました。ここに葬られる人は、近畿地方の有力者と強いつながりをもっており、身につけていた甲冑（よろいとかぶと）も近畿地方から手に入れた物と聞いています。
- C 都の人々は、私たちのことを隼人とよんでいます。この前、都に貢ぎ物を持っていった仲間が数年ぶりに戻ってきました。都のすぐ隣の場所に、巨大な仏像を造り始めたということでした。
- D 都から派遣されてきた役人が、この地方の政治をみています。その役所のある一角で、和歌をよむ集まりがありました。その時使っていた器にひらがなで和歌の一部を書き付けていました。
- E 私が仕えている主人は、今度幕府の命令で、3か月間北の方へ出張します。仕事は、砂浜に造られた石壁（石造りの塀のようなもの）のそばで、いつ攻めてくるかわからない敵に備えることだそうです。
- F 2人の天皇がいて、私の主人は京都の天皇を認め、幕府に従っていますが、すぐとなりの領主はもう1人の天皇を認めており、しばしば戦争が起こっています。

- G 桜島が大噴火を起こし、農作物が大きな被害を受けました。都では、將軍のあとつぎ争いなどから、有力な武士たちが2つに分かれてはげしく戦っているということです。
- H 中国よりも遙かに遠い国の人がやってきて、1年近く滞在していました。この人は、この地を治める大名に布教の許可を求めましたが、うまくいかず、都に向かって旅立ちました。
- I 私の主人は、都から大軍を率いてやってきた関白と戦いましたが敗れ、今まで戦で勝ち取ってきた多くの領地を奪われました。また、関白からの命令で、農民たちから刀を取り上げることになりました。
- J 南の島の国王がやってきました。この前の戦争で私の主人に敗れたからです。この国は、滅ぼされませんでした。このあと中国と日本の両方に属することになり、国王は江戸まで出かけるということです。
- K 島原というところで大きな戦がありました。その藩の農民の多くが亡くなったため、その藩を立て直すため、幕府の命令で、私の住む村からもそこに移住することになった人がいます。
- L 幕府の許可を受けて、全国の地図づくりを進めている人の一行が、私の村にもやってきました。距離を測る器械などめずらしいものを使っていました。
- M 城下町から少し離れた所に、大砲などを製造するための近代的な工場がありましたが、先月、イギリスの軍艦がやってきて、はげしく砲撃し、大きな被害が出ました。
- N 先日、城山で西郷さんの率いた軍勢が敗れました。城山にこもっていたのは約300人、攻撃した政府軍の総勢は約5万人ということでした。
- O 昨年9月にロシアとの戦争が終わりました。私の村から出征した人々が無事に帰ってくることを記念して、3月には立派な石造りの「凱旋門」ができました。
- P 今年の1月桜島が大噴火しました。3月には鹿児島出身の首相が辞任し、そのあとの首相は、ヨーロッパで起こっていた戦争に参加することを決定しました。
- Q 12月8日に、日本海軍がハワイの真珠湾を奇襲攻撃しました。その少し前、たくさんの軍用飛行機が桜島の近くの錦江湾(鹿児島湾)で訓練を行っていました。真珠湾と錦江湾の地形が似ているからだそうです。
- R 私のいとこが今度中学を卒業して関西方面の会社に就職することになりました。きょうは、同じような人々を乗せた特別列車の見送りのため駅にきました。今年の夏、大阪の万国博覧会の会場で会おうと約束しました。

問1 次の文章群ア～ウのなかに1つだけ正しい文章があります。その文章は、上のA～Rの文章のどこに位置づけるのが適当ですか。

○と○の間という形で答えなさい。答えが同じになることもあります。

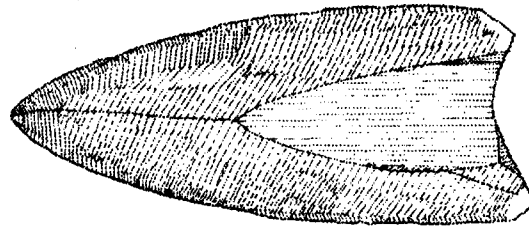
- (1) ア. 卑弥呼は、中国の魏に使いを送り、金印をもらった。
 イ. 平家を倒した源義経が、武士の政権を開いた。
 ウ. オランダの船だけが貿易を許され、それ以外の外国の船は日本への来航を禁止された。
- (2) ア. 鑑真が唐から渡ってきて、日本に初めて仏教を伝えた。
 イ. 京都に、金色に輝く3層の建物を完成させた人物が、中国(明)との貿易を始めた。
 ウ. 尾張(今の愛知県)出身の人物が、延暦寺を焼き討ちし、大阪に城を築いて天下統一の拠点とした。
- (3) ア. 藤原道長は、自分の子どもを天皇の座につけ、大きな力をふるった。
 イ. 近松門左衛門という人形浄瑠璃の台本作者が、数々の作品を著し、人気を得た。
 ウ. 政府は、伊藤博文らを欧米に派遣し、国王の下で長い議会の歴史をもつイギリスを手本に憲法作りを進めた。
- (4) ア. ペリーが率いるアメリカの艦隊が浦賀に来て、圧力をかけたため、幕府は通商のための条約を結んだ。
 イ. 政府は、岩倉具視を中心とする使節団を欧米に派遣し、条約の改正に一部成功した。
 ウ. 空襲を避けるために、多くの人々が疎開した。
- (5) ア. 政府は、江戸時代の身分の仕組みを廃止したので、人々のなかでの差別は行われなくなった。
 イ. 満州事変で国際的地位を高めた日本は、国際連盟の常任理事国になった。
 ウ. 水俣病・イタイイタイ病などの四大公害病が起こり、公害対策基本法が制定された。
- (6) ア. 幕府のもと役人であった人物が、飢饉で苦しむ人々を救おうとして、大阪で乱を起こした。
 イ. 「学問のすずめ」という書物が著され、蘭学がさかんになった。
 ウ. 教育基本法が制定され、天皇中心の国づくりを支える教育の進め方が示された。

問2 下は石の^{やじり}鎌の図(実物大)です。これに関して、次の文章の()に入る語を1～2字で答えなさい。

ア



イ



アは、ほぼ1万年の間使われました。イは、その次のAの文章の時代の物で、大きさも重さも2倍以上になっています。アとイでは、用いる対象がちがいました。アの対象は(a)、イは(b)になります。

問3 Eの下線部に関して、国(王朝)の名前を2つあげなさい。漢字で書けば1文字になる国と2文字になる国です。

問4 Hの下線部に関連して、布教しようとした宗教と関係の深いできごとについて触れている文章を、A～R(Hを除く)から1つ選び、記号で答えなさい。

問5 Nの下線部に関して、政府軍は兵力を集めるためにどのような仕組みをつくっていましたか。15字以内で説明しなさい。

問6 Oのころを説明する文章として、誤っているものを次のア～ウから1つ選び、記号で答えなさい。

ア. 日清戦争の賠償金の一部を使って北九州に八幡製鉄所をつくり、重工業が発展した。

イ. 田中正造が、足尾銅山の鉱毒で苦しむ人々を救おうとして活発に活動した。


ウ. 日本とイギリスは、条約上完全に対等な関係になったので、同盟を結んだ。

問7 次の図版ア～クを年代の早い順に並べかえ、2番目・5番目・7番目となるものと同じ時代あるいはもっとも近い時代の文章を、A～Rから1つ選び、それぞれ記号で答えなさい。道具などについては、日本で使われ始めたときの年代で考えなさい。


ア




イ



ウ



エ



オ




カ



キ



ク



問題は以上です。

解答用紙 2011年度中学社会

1

点

2

3

点

4

点

受験番号

得点