

1. 次の文章を読み、問いに答えなさい。

高知県では、大家族で暮らすのが一般的で、近所の人やお客様にも家族のように接する伝統があります。お祝いなどで振る舞われる【資料1】のような皿鉢料理は、地元の食材を大きな皿に盛って人々をもてなすもので、高知県の伝統的な料理です。

(a) 四国の南側に位置している高知県は、(b) 太平洋に面しているため
(c) 漁業がさかんです。気候は、(d) 年間を通して降水量が多いという特徴があります。【資料2】は、高知県西部で見られる伝統的な造りの建物です。で示されている壁付きの瓦は、もともと雨が直接壁に当たらないようにするためのものです。

また、(e) 高知県の面積の84%を林野が占めているため耕地は狭いのですが、気候の特徴を活かした(f) 農業が行われています。

【資料1】

(高知市観光協会ホームページより)

【資料2】

(ひがしこうち旅ホームページより)

問1 下線部（a）について。【資料3】は、四国4県の食料品工業、繊維工業、金属製品工業、化学工業のいずれかの製造品出荷額（2016年）を示しています。

繊維工業を示しているものを、【資料3】中のア～エから1つ選び、記号で答えなさい。

【資料3】四国4県の食料品工業、繊維工業、金属製品工業、化学工業のいずれかの製造品出荷額（2016年）

（単位 億円）

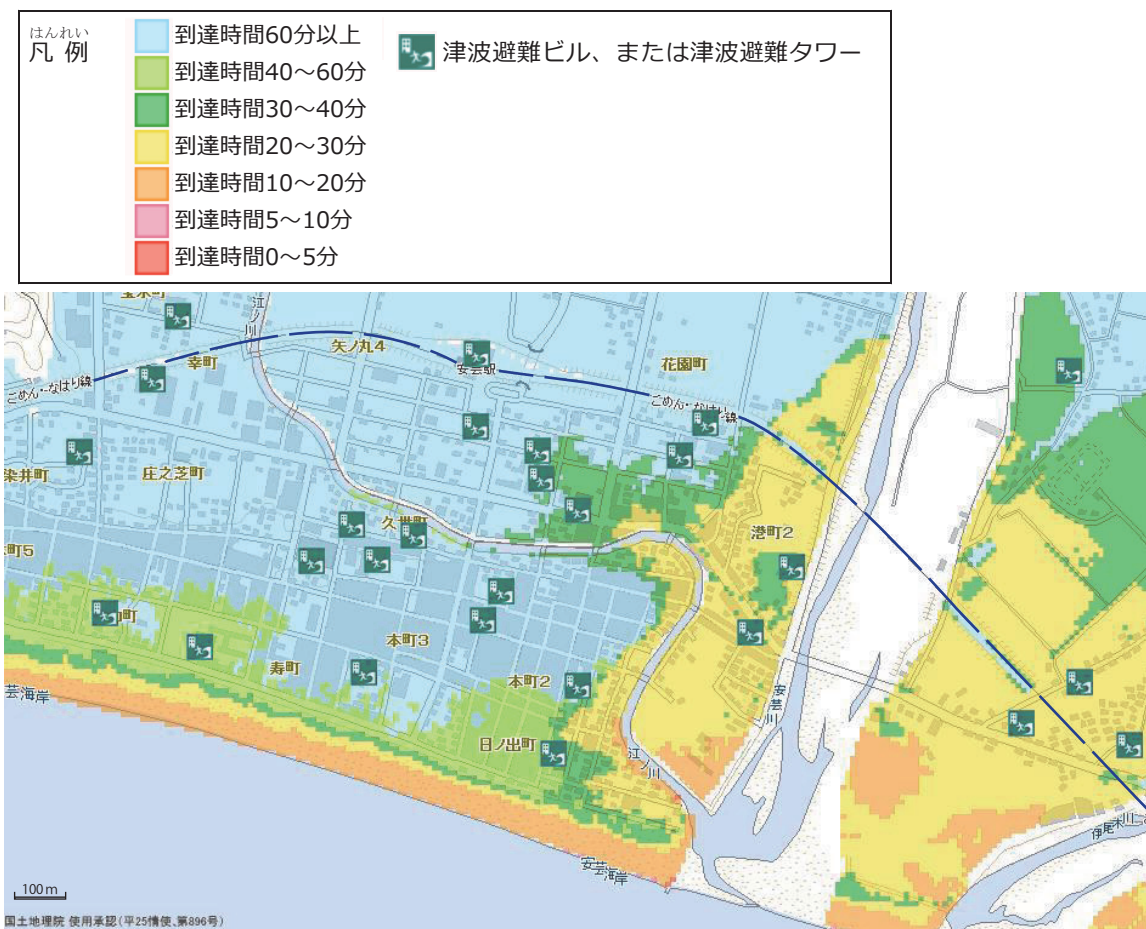
	香川県	愛媛県	高知県	徳島県
ア	3687	2797	964	1442
イ	422	2028	155	285
ウ	1647	715	195	721
エ	1722	3021	81	5361

（矢野恒太記念会『日本国勢図会 2019/2020』をもとに作成）

問2 下線部（b）について。太平洋に面している高知県では、地震や津波などの防災対策に力を入れています。【資料4】は、高知県安芸市周辺の津波到達予想時間を表したハザードマップの一部です。【資料4】を読み取り、津波からの避難について考えてみました。

その内容として適切なものを次のア～エから1つ選び、記号で答えなさい。

【資料4】高知県安芸市周辺の津波到達予想時間ハザードマップの一部



（高知県防災マップホームページをもとに作成）

ア. 「ごめん・なはり線」は、60分経^たっても津波が到達しないところを過^ひるので、比較^{ひかくてき}的避難するまでの時間がある。

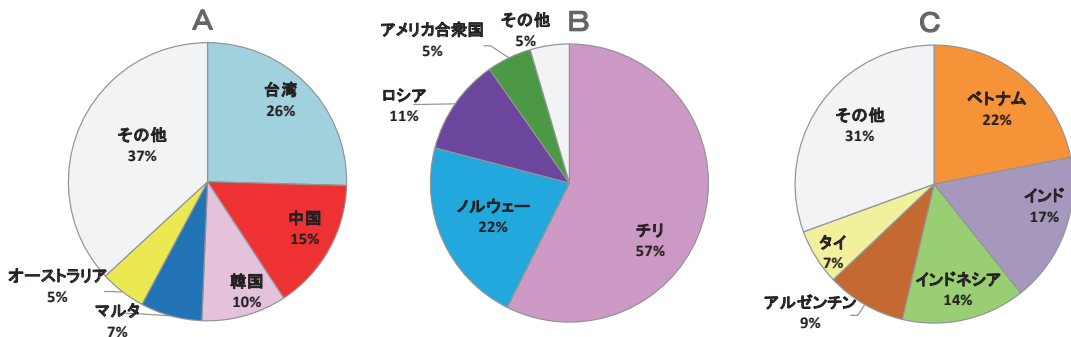
イ. 「津波避難ビル」または「津波避難タワー」は、すべて津波の到達時間が30分より遅^{おそ}い場所にあるので、比較^{ひかくてき}的避難するまでの時間がある。

ウ. 「港町2」は、海岸近くの「本町3」よりも津波の到達時間が早いので、すぐに避難する必要がある。

エ. 「安芸川」と「伊尾木川」に挟^{はさ}まれた地域は、堤防^{ていぼう}に囲まれていて、津波が到達するまでには40分以上あるが、すぐに避難する必要がある。

問3 下線部（c）について。日本は漁業がさかんですが、近年、水産物の輸入量が
多くなっています。

次のA～Cのグラフは、サケ・マス類、エビ、マグロ・カジキ類、いずれかの
輸入相手国・地域を示しています。それぞれの組み合わせとして正しいものを次
のA～カから1つ選び、記号で答えなさい。



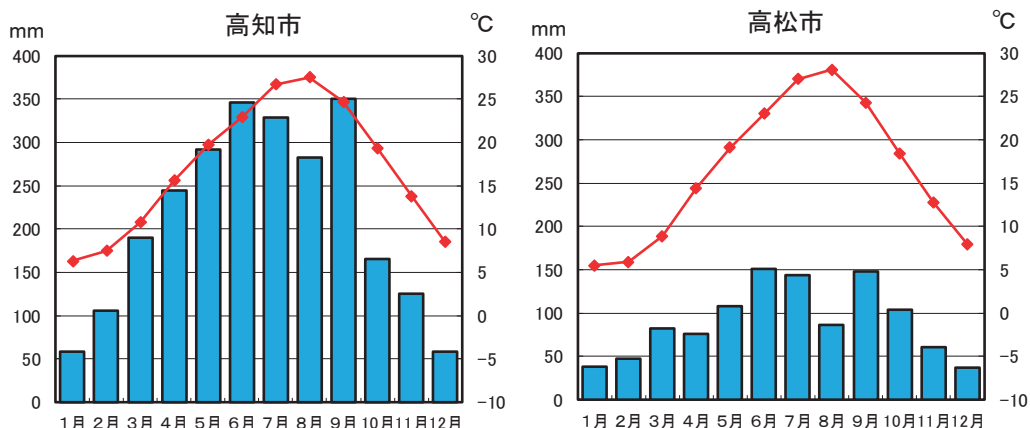
（財務省「貿易統計 2017年」をもとに作成）

- | | | |
|---------------|------------|------------|
| ア. A＝サケ・マス類 | B＝エビ | C＝マグロ・カジキ類 |
| イ. A＝サケ・マス類 | B＝マグロ・カジキ類 | C＝エビ |
| ウ. A＝エビ | B＝サケ・マス類 | C＝マグロ・カジキ類 |
| エ. A＝エビ | B＝マグロ・カジキ類 | C＝サケ・マス類 |
| オ. A＝マグロ・カジキ類 | B＝エビ | C＝サケ・マス類 |
| カ. A＝マグロ・カジキ類 | B＝サケ・マス類 | C＝エビ |

問4 下線部（d）について。【資料5】を見ると、同じ四国に位置する高松市と比べても、高知市は、年間を通して降水量が多いことがわかります。

高松市に比べ、高知市の降水量が多くなるのはなぜか、具体的な地名を1つ挙^あげて説明しなさい。

【資料5】



（矢野恒太記念会『日本国勢図会 2019／20』をもとに作成）

問5 下線部（e）について。都道府県面積に占める林野の割合は、全国で高知県が最も高くなっています。

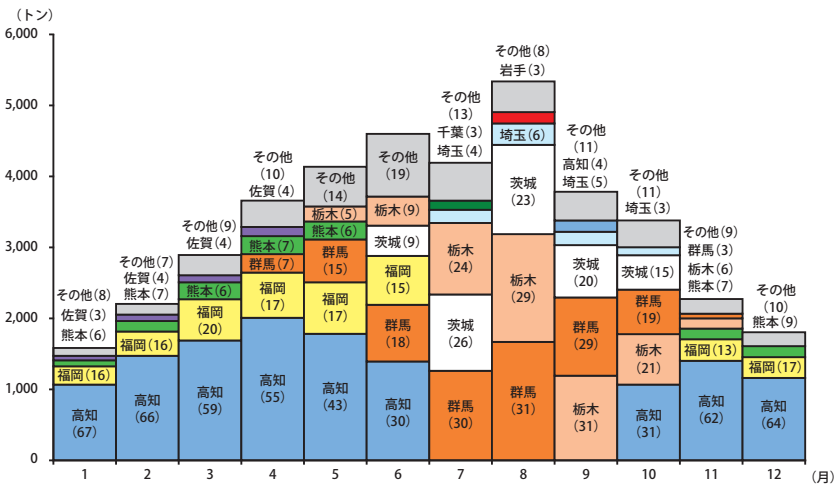
都道府県面積に占める林野の割合が最も低い都府県として正しいものを次のア～エから1つ選び、記号で答えなさい。

- ア．青森県 イ．大阪府 ウ．岐阜県 エ．東京都

問6 下線部（f）について。

- （1）【資料6】は、ある農作物の東京中央卸売市場における月別入荷実績（2016年）を表しています。この農作物名を答えなさい。

【資料6】ある農作物の東京中央卸売市場における月別入荷実績（2016年）



（「平成28年東京中央卸売市場年報」）

(2) 近年、全国各地で、次世代型の「植物工場」と呼ばれる施設でトマトやレタスなどを生産する取り組みが行われています。

【資料7】は、高知県にある「植物工場」で、【資料8】は、千葉県にある「植物工場」です。

【資料7】

(Plant Factory ホームページより)

【資料8】

(「流通ジャーナル」 on the Webより)

「植物工場」で野菜を生産する利点について、このような施設と一般的な畑^{いっぽんてき}との違い^{ちが}を1つ挙げながら、答えなさい。

問 7 近年、高知県では小さな村の良さを活かしていける産業の開発を進めています。

例えば、【資料 9】は、杉すぎの間伐材かんぱつざいを薄く切った板うすを用いて作ったカバンです。

だんりょくせい
弾力性のある木材で作られているため、中に入っているものがつぶれない、という理由で多くの人たちに人気があります。

【資料 9】

(m o n a c c a ホームページより)

【資料 9】 のカバンを製造する取り組みは、村にとってどのような利点があるか、考えて答えなさい。その際、間伐材を使う理由についても触ふれて答えなさい。

2. 次の文章を読み、問いに答えなさい。

元号は中国で生まれたもので、日本について記した中国の歴史書『後漢書東夷伝』^{ご かんじょうとう い でん}には、中国の元号で「建武中元2年」に、倭^わから来た使いに（a）金印^{あた}を与えたとあります。時代が下って、（b）『隋書倭国伝』^{ずいしょ わ こく でん}には、遣隋使^{けんずい し}が派遣^{は けん}された西暦^{せいれき}607年が「大業3年」と書かれています。その同じ年が、『日本書紀』では「推古15年」と書かれています。

日本で初めて定められた元号は、（c）「大化」です。これ以来、（d）元号を使い続けています。

江戸時代^{え ど}には幕府が元号の決定^{か け}に関わるようになり、元号は（e）改革や文化^{めい}の名称^{しょう}として、時代の区切りを示すために使われ続けました。

1868年に（f）一世一元の制が定められました。また、この時期には、神話で初代天皇とされる神武天皇^{そく い}が即位した年を紀元、つまり、国の始まりとする数え方も新たに生まれました。その数え方によると、1940（昭和15）年が、神武天皇が即位した年から数えて「二千六百年」目にあたるとして、（g）東京オリンピックや万国博覧会^{ばんこく}が計画^{かい かく}されましたが、開催^{かい さい}の2年前に中止が決定されました。しかし、政府は、1940年に紀元二千六百年記念式典を日本国内だけでなく、日本の支配下にあった朝鮮や満州でも盛大に行い、国民の結束を固めました。【資料10】は、そのときのポスターです。

アジア・太平洋戦争が終わり、（h）新しい憲法が制定されると、元号を使い続けるかどうかの議論が行

**【資料10】 紀元二千六百年
記念式典のポスター**

（『図説日本史要覧』より）

われましたが、慣例としてそのまま使い続けられ、1979年の元号法によって根拠^{こんきょ}づけられました。

1989年1月8日から始まった（i）平成は、天皇の退位によって31年で終わることとなりました。時代の区切りとしても意識される元号、改元に向けての関心の高まりをみると、これからも日本独自の元号は続いていくようです。

問1 下線部（a）について。【資料11】は、このとき与えられた金印であると考えられています。この金印に刻まれた「漢委奴国王」の5文字の一般的な読み方を答えなさい。

【資料11】



問2 下線部（b）について。なぜ、『日本書紀』では「大業3年」を使わずに「推古15年」という書き方をしたのか、この時期に日本がめざした外交のあり方に触れながら答えなさい。

問3 下線部（c）について。【資料12】は、大化の改新の^{みことのり}詔として出されたと
いわれる内容をわかりやすくまとめたものです。【資料12】中の波線部に書かれ
ている「人民に田を割り当てる制度」を何というか、答えなさい。

【資料12】

- 一 すべての土地と人民を国のものとする。
- 一 全国を国と郡に分けなさい。
- 一 戸籍^{こせき}を作り、それに基づいて^{もと}田を割り当てなさい。
- 一 新しい税の制度を作りなさい。

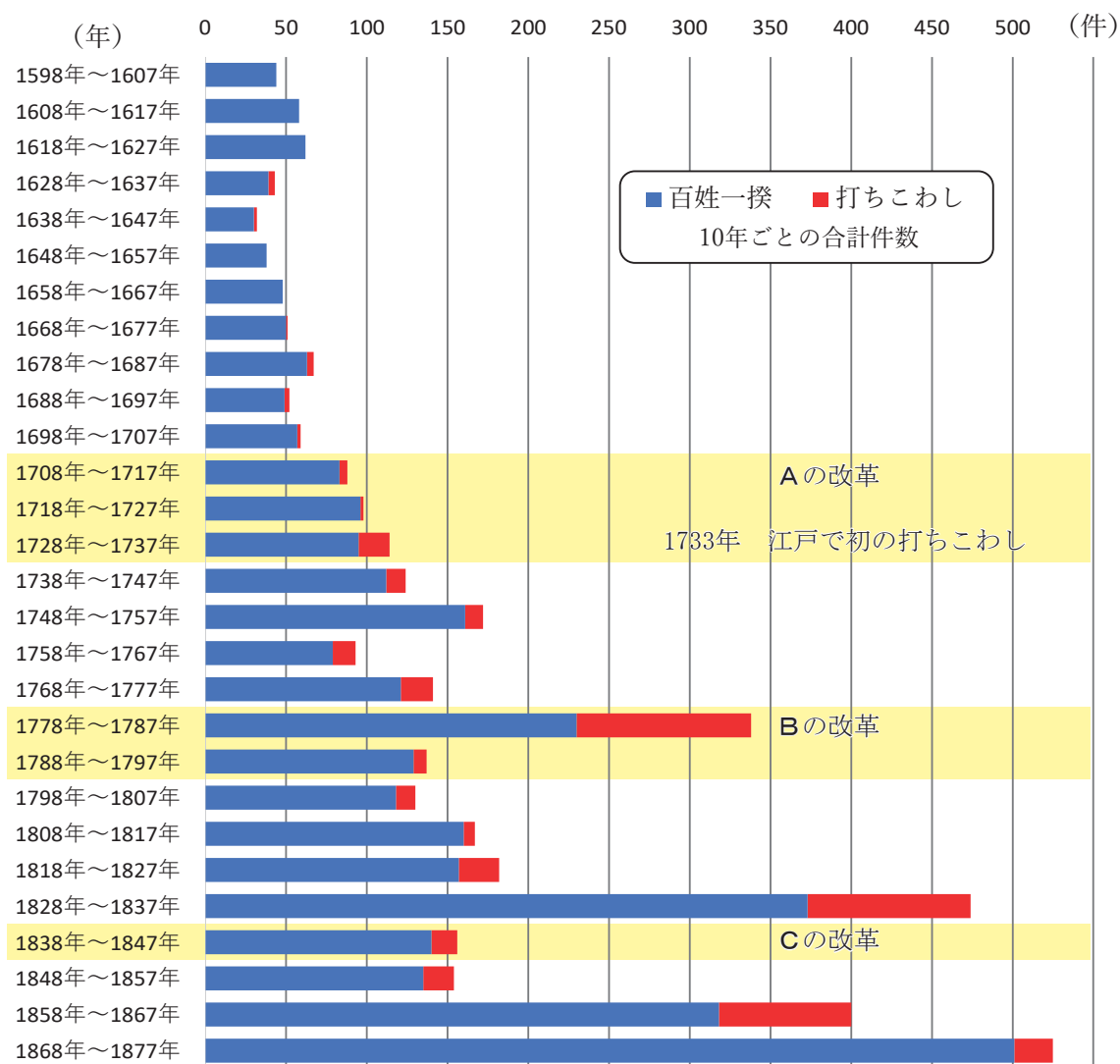
問4 下線部（d）について。14世紀に、2つの元号が同時に使われた時期がありま
した。以下の①～④のうち、この時期のできごととして正しい文の組み合わせを
次のア～カから1つ選び、記号で答えなさい。

- ①後醍醐^{ごだいご}天皇が建武の新政を行った。
- ②京都に室町幕府が開かれた。
- ③足利義満^{せいいたいしょうぐん}が征夷大將軍となった。
- ④応仁^{おうにん}の乱が11年にわたって続いた。

- ア．①と② イ．①と③ ウ．①と④
エ．②と③ オ．②と④ カ．③と④

問5 下線部（e）について。【資料13】は百姓一揆^{ひやくしやういつき}と打ちこわしの10年ごとの合計件数のグラフです。江戸時代の三大改革A～Cが行われた時期が、それぞれ
 で示されています。

【資料13】 百姓一揆と打ちこわしの10年ごとの合計件数



(青木虹二『百姓一揆の総合的研究』をもとに作成)

(1) 【資料13】のグラフから読み取れることとして正しいものを次のア～エから1つ選び、記号で答えなさい。

ア. 徳川家康によって江戸幕府が開かれる前から、百姓一揆と打ちこわしが起きていた。

イ. 江戸幕府の三大改革によって、百姓一揆も打ちこわしも件数を減らすことができた。

ウ. 百姓一揆が最も少なかったのは1638年～1647年で、毎年30件程度しか起こっていない。

エ. 百姓一揆は明治時代になってからも起こっており、江戸時代のどの期間と比べても10年ごとの合計件数が多い。

(2) 【資料13】中の三大改革 **A**～**C**の内容として誤っているものを次のア～ウから1つ選び、記号で答えなさい。

ア. **A**の改革では、新田開発などを行って年貢^{ねんぐ}を増やそうとした。

イ. **B**の改革では、農業中心の政策から商業中心の政策に変えた。

ウ. **C**の改革では、江戸に出てきた農民を村に帰らせる人返しの令を出した。

(3) 【資料14】は、打ちこわしのようすを描いた絵です。この絵の中には、赤い丸で囲まれたア・イ・ウの3つの立場の人がいます。アは、この店の主人夫婦とその使用人です。イの人々は店を打ちこわしています。彼らは要求を突きつけることが目的で、堂々と顔も隠していません。ウの人々は、顔を隠して、ばらまかれたものを拾って盗もうとしています。

【資料14】 打ちこわしのようす

(「幕末江戸市中騒動記」東京国立博物館所蔵)

打ちこわし起きる原因を、次の〔条件〕に従って説明しなさい。

〔条件1〕 アが何を扱う商人か、答えること。

〔条件2〕 イの人々の要求が何か、答えること。

問6 下線部（f）について。次の**X**と**Y**の文は、一世一元の制と元号について述べたものです。それぞれの文が正しいか、誤っているかを判断し、その組み合わせとして適切なものを次のア～エから1つ選び、記号で答えなさい。

X. 一世一元の制では天皇の代替わりごとに元号を変えると定め、天皇の権威を高めようとした。

Y. 一世一元の制が定められた時の元号を含めて数えると、現在使われている元号は4つめになる。

- | | |
|--------------------|-----------------|
| ア. X ＝正しい | Y ＝正しい |
| イ. X ＝正しい | Y ＝誤っている |
| ウ. X ＝誤っている | Y ＝正しい |
| エ. X ＝誤っている | Y ＝誤っている |

問7 下線部（g）について。国際的催しであるオリンピックと万国博覧会が2年前の1938年に中止になったのは、日本での開催が困難になったためです。

開催が困難になった理由を、東京オリンピック開催が決まった1936年から中止を決めた1938年までの国際関係のできごとと国内のできごとを1つずつ挙げて説明しなさい。

問 8 下線部（h）について。大日本帝国憲法と日本国憲法について述べた文として誤っているものを次のア～エから 1 つ選び、記号で答えなさい。

ア．大日本帝国憲法では、天皇が主権者であり、統治権をすべて握っていた。

イ．大日本帝国憲法では、天皇は神聖にして侵すべからずとされていた。

ウ．日本国憲法では、主権は国民にあり、天皇は元首とされた。

エ．日本国憲法では、天皇は日本国及び国民統合の象徴とされた。

問 9 下線部（i）について。

（1）平成元年に導入された消費税は段階的に引き上げられました。その税率の変化を、解答欄の形式に従って答えなさい。

（2）平成時代に起きたできごととして誤っているものを次のア～エから 1 つ選び、記号で答えなさい。

ア．中距離核戦力（INF）全廃条約が締結される。

イ．ヨーロッパ連合（EU）が成立する。

ウ．ソビエト連邦が崩壊する。

エ．バブル景気が崩壊する。

3. 次の文章を読み、問いに答えなさい。

高齢者人口の増加に伴い高齢者を対象にした医療や食品、ファッションなどの商品が登場しています。商品の（a）市場では売り手や買い手の行動のほか、天候や社会情勢、国際情勢なども価格に影響を与えます。今後、高齢者を対象にした市場は拡大していくでしょう。こうした中、高齢者を狙った（b）訪問販売による被害も増えています。被害を防ぐには、（c）法律の制定も必要ですが、高齢者が安心して暮らせる社会になっていくことが望まれます。これからの日本は、人口減少社会です。

（d）将来への不安を減らすことや人手不足対策は政治の役割の一つです。人手不足対策として、最近では、【資料15】のような無人のセルフレジを置くお店も増えてきています。

【資料15】

また、A I（人工知能）技術が「人手不足を解消する」と期待されています。

A Iによる自動運転の技術が注目される一方、海外ではA Iを活用した配車サー

ビスにより仕事が奪われることを心配し

たタクシー運転手が、ストライキを起こしたというニュースもあります。

A Iの登場は第4次産業革命ともいわれ、（e）政治や経済に大きな影響を与えると考えられています。これまでも、（f）日本国憲法制定時には規定されていませんでしたが、社会や経済の進展に伴い、新たに主張されるようになった権利があります。

（g）A Iが普及し、社会に変化が起こると、新たな権利の保障が必要になってくるかもしれません。

出典：本文中の写真 『食品産業新聞社ニュースweb』2019年8月23日版より

問1 下線部（a）について。【資料16】は、日本国内の段ボール古紙の価格についての新聞記事です。段ボール古紙は、段ボール紙のもとになる紙です。

【資料16】 段ボール古紙の価格についての新聞記事

（『日本経済新聞』2018年9月19日付より）（『日本経済新聞』2019年7月5日付より）

現在、 X Y の両国の間では「貿易摩擦^{ま さん}」が問題となっています。

以下の文章を読んで、それぞれにあてはまる国名の組み合わせとして正しいものを、次のア～カから1つ選び、記号で答えなさい。

2018年8月、 X Y は、 Y の制裁関税^{そ ち}に対する報復措置として、輸入品に一律25%の関税を課しました。これにより X では、 Y から輸入する段ボール古紙の価格が上 昇^{じょうしょう}したため、調達先を日本に替えました。その結果、日本の段ボール古紙への需要^{じゅよう}が急増し、段ボール古紙価格は【資料16】の左の記事のようになりました。

貿易摩擦^{ぼったん}の発端は、 X の多額の貿易黒字です。両国の間では報復関税の措置^{く かい}が繰り返行われており、解決を見いだせない状態です。その結果、 X の景気減速にともない、日本の段ボール古紙の価格は【資料16】の右の記事のようになりました。

- ア. X = 韓国^{かんこく} Y = アメリカ
- イ. X = 韓国 Y = 中国
- ウ. X = アメリカ Y = 中国
- エ. X = アメリカ Y = 韓国
- オ. X = 中国 Y = アメリカ
- カ. X = 中国 Y = 韓国

問 2 下線部 (b) について。国の行政機関の中には、訪問販売によるトラブルなどの情報を集め、悪質商法の予防と被害者救済などの業務を行う機関があります。この機関は、これ以外に、食品の表示基準や製造物責任に関する業務を行います。2009年に内閣府のもとに置かれたこの省庁を答えなさい。

問 3 下線部 (c) について。法律の制定について述べた文として誤っているものを次のア～エから 1 つ選び、記号で答えなさい。

- ア. 国民は法律案の提出はできないが、法律の制定などを願い出る権利 (請願^{せいがん}権^{けん}) を持っている。
- イ. 衆議院の可決した法律案を参議院が受けとった後、30日以内に議決しない時に、衆議院が出席議員の 3 分の 2 以上の多数で再可決すると、法律は成立する。
- ウ. 衆議院の再議決が行われない時、両院協議会が開催されない場合、または開催されても一致^{いっち}しなかった場合に法律案は廃案^{はいあん}になる。
- エ. 憲法改正、法律、政令及び条約は、すべて天皇によって公布されることが憲法で規定されている。

問4 下線部（d）について。保険料を納める人が高齢になったときや怪我や病気によって障がいを負ったとき、死亡したときに国や基金から給付金が支給される制度があります。この制度を何というか、答えなさい。

問5 下線部（e）について。政治や経済について述べた文として正しいものを次のア～カから2つ選び、記号で答えなさい。

ア．裁判員裁判は、重大な刑事裁判の第一審にくじで選ばれた満20歳以上の国民が裁判員として参加する制度である。

イ．内閣は、国会による政治運営が正しく行われているかを調査する国政調査権の権限を持っている。

ウ．住民から行政についての苦情や要望をうけて、解決を図る制度をクーリングオフ制度という。

エ．消費者が直接お店に税金を支払う直接税の一つである消費税には、2019年に軽減税率の制度が一部導入された。

オ．2年に一度行われる統一地方選挙が2019年に行われたが、過疎化の進行する限界集落に比べ、大都市では無投票で当選者が決まるところが多かった。

カ．一国二制度が保障されている香港では、言論の自由が侵害されるおそれがあるとして、2019年に大規模なデモがおこった。

問6 下線部（f）について。日本国憲法が制定され70年以上が経過しました。近年、日本国憲法の改正議論が一部におこっています。そもそも「憲法」とは、どのようなものか、次の〔条件〕にしたがって説明しなさい。なお、【資料17】は、日本国憲法 第10章最高法規 第99条の規定です。

【資料17】日本国憲法 第10章最高法規 第99条

第99条 天皇又は摂^{また}政^{せつしょう}及び国務大臣、国会議員、裁判官その他の公務員は、この憲法を尊重し擁護^{ようご}する義務を負ふ。

〔条件1〕 憲法は、国民にとってどのようなものかに触れること。

〔条件2〕 なぜ、第99条のような規定があるのかに触れること。

問7 下線部（g）について。人間はA I とどう向きあっていけばよいのでしょうか。

以下の文章を読んで、問いに答えなさい。

A I とは、膨^{ぼうだい}大なデータをもとにコンピュータが状^{じょうきょう}況に応じて自ら判断をする最先端の技術です。私たちの身近なところでも既^{すで}に実用化が進んでいます。例えば医療の現場です。病気や異常がないかを見つけるため、膨大な数の画像^{しんだん}診断をすることがあります。この作業を人間が行うと、どうしても ということが起こり得るので、A I を利用することで、高い成果を上げている例もあります。

このようにA I が人間に取って代わることがありうる、といわれています。

(1) 文中の にあてはまる内容を答えなさい。

(2) 「シンギュラリティ」という言葉があります。A I が人間の知能^{ちのう}を超えるとされる^{てんかんてん}転換点のことです。この^{とうらい}到来を2045年と予想している人もいる一方で、「シンギュラリティ」は起こらないという人もいます。

「シンギュラリティ」は起こらないと考える人は、なぜ、そのように考えるのでしょうか。A I にとって不得意であり、人間にとって得意だと思われることに触れながら、答えなさい。

2020 年度 鷗友学園女子中学校 第一回入学試験【社会】 解答用紙

受験番号

氏名

↑ここにシールを貼ってください↑



202130

1.

問 1

問 2

問 3

問 4

問 5

問 6 (1)

問 6 (2)

問 7

2.

問 1

問 2

問 3

問 4

問 5 (1)

(2)

問 5 (3)

問 6

問 7

問 8

問 9 (1) 平成元年

% → 平成 9 年

% → 平成26年

%

(2)

問題3の解答らんは裏面にあります



3.

問 1

問 2

問 3

問 4

問 5

問 6

問 7 (1)

(2)

