

中学校入学試験問題

(第1回)

社会・理科

(2024 年度)

指示があるまで、この問題冊子を開いてはいけません。  
それまでこのページをよく読んで待ちなさい。

〔注 意 事 項〕

- この問題冊子には、社会・理科 2 科目の問題があります。  
社会 [ 1 ページ～ 9 ページ]  
理科 [11 ページ～ 18 ページ]
- 監督<sup>かんとく</sup>の先生の指示があるまで、この問題冊子を開いてはいけません。
- 問題の内容についての質問には答えられません。それ以外のことがらについてたずねたいことがあれば、手をあげて監督の先生に申し出なさい。
- 定規、コンパス、分度器、計算機などを使用してはいけません。
- この問題冊子に受験番号と氏名を記入しなさい。
- 答えは、必ず解答欄<sup>らん</sup>のおくの中におさまるように書きなさい。

受 験 番 号				

氏 名	

1

次の文章を読んで、下の各問いに答えなさい。

① 気候変動による<sup>かんきょう</sup>環境への大きな<sup>えいきょう</sup>影響が止まりません。2023年8月、ハワイ・マウイ島で起きた大規模な山火事は、古くから本校高校生の修学旅行先として来訪していた地域だったため、本校関係者も悲しみに胸が張り<sup>き</sup>裂けそうな気持ちになりました。山火事は世界的に増加しており、気候変動がそれをさらに悪化させているといわれています。森林火災は世界中で起こる深刻な問題です。特に現在は大規模化や長期化が世界各地で相次いでおり、火災が起こった国や地域の住民を中心に、世界中の人々を悩ませています。今年は新たに森林環境税が課税されることで、温室効果ガスの削減や災害の防止への対応が期待されています。

② 環境負荷を減らす目的から、都市部でも環境に負担にならないような暮らしが求められています。その中でも、都市のスポンジ化に関する解決策の1つに「コンパクトシティ」が注目されています。近年、「コンパクトシティ」を<sup>じっせん</sup>実践した富山市では、<sup>じゅうたいかんわ</sup>渋滞緩和の観点から市内のあらゆる場所にアクセスできるよう、【 X 】という次世代型路面電車を走らせています。【 X 】は主に低床式車両の活用や、定時性などの優れた<sup>とくちよう</sup>特徴を持つ路面電車を指します。近年、道路交通を補完するため、人と環境にやさしい公共交通として再評価されていました。その影響もあり、富山市は世界先進モデル都市に選出され話題となりました。

同調する動きは続いており、富山市を参考に2023年8月、宇都宮市でも宇都宮駅東口から芳賀・高根沢工業団地間で、宇都宮【 ③ 】が開業し、渋滞緩和や利便性の向上が期待されています。

栃木県は関東地方の北部に位置しており、新潟県や福島県との県境となっています。関東地方北部は群馬県と新潟県との県境に【 Y 】山脈、県南部に関東平野が広がる恵まれた環境から、群馬県下仁田町では【 ④ 】<sup>さいばい</sup>の栽培が行われるなど特色ある農産物が生産されています。栃木県で栽培される【 ⑤ 】<sup>しゅうかくりょう</sup>は収穫量で全国1位です。また、<sup>らくのう</sup>酪農も盛んであり、乳用牛の飼育頭数は北海道に次いで全国2位となっています。

県内には江戸時代の五街道の一つであった【 ⑥ 】街道が日本橋から約140 km 伸びており、街道には幕府から許可を得た21の宿場が配置されました。宇都宮宿で奥州街道と合流することから、古くから人の往来が激しい地域でした。現在でも関東屈指の観光地として知られています。

問 1 下線部 ① に関連して、台風などの影響で高潮などの被害を受けやすいにもかかわらず、国内では空港が海上に立地されています。その理由を日本の地形条件を踏まえて簡潔に説明しなさい。

問 2 下線部 ② に関連して、環境負荷を軽くするために、トラックなどの負荷が大きい手段から、鉄道や船舶に積み替えて負荷が小さい手段に転換することを何といいますか。正しいものを次の中から一つ選び、記号で答えなさい。

- (ア) モーダルシフト (イ) コールドチェーン  
(ウ) ポートアイランド (エ) モータリゼーション

問 3 空欄【 X 】・【 Y 】にあてはまる語句を答えなさい。【 X 】はアルファベット 3 文字で答えなさい。

問 4 空欄 ③ にあてはまる語句として正しいものを次の中から一つ選び、記号で答えなさい。

- (ア) ライトレール (イ) ترام (ウ) スイッチバック (エ) ループ

問 5 空欄 ④ にあてはまる語句として正しいものを次の中から一つ選び、記号で答えなさい。

- (ア) りんご (イ) ゆず (ウ) ほうれんそう (エ) こんにゃくいも

問 6 空欄 ⑤ にあてはまる語句として正しいものを次の中から一つ選び、記号で答えなさい。

- (ア) いちご (イ) 日本なし (ウ) おうとう (エ) みかん

問 7 空欄 ⑥ にあてはまる語句として正しいものを次の中から一つ選び、記号で答えなさい。

- (ア) 川越 (イ) 日光 (ウ) 青梅 (エ) 甲州

## 2

次の文章を読んで、下の各問いに答えなさい。

昨年、被爆地・広島においてウクライナ情勢や核軍縮を大きなテーマとする主要国首脳会議が開催されました。今回のサミットの開催地であった広島は長い日本の歴史の中で度々登場しています。

律令制の時代、全国は畿内・七道に行政区分され、現在の広島県は山陽道に位置する安芸国・備後国と呼ばれていました。安芸・備後を含む山陽道には都と大宰府を結ぶ大路が整備され、この陸上交通路によって地方官である国司が往復し、各地域からの税が都まで運ばれました。また、山陽道の南側に広がる瀬戸内海は、九州と近畿地方とをつなぐ人・もの・情報の大動脈として、古くから日本列島の文化の形成に重要な役割を果たしてきました。平安時代には、当時安芸の国司であった〔②〕が瀬戸内海航路の安全をはかるため、厳島神社をうやまい保護したことが知られています。

鎌倉時代には全国に守護・地頭がおかれ、承久の乱後には安芸国内の地頭にも関東の御家人が任命されました。その後、室町時代には守護が力を伸ばし守護大名と呼ばれましたが、応仁の乱によってその多くはおとろえ、戦国大名が次第に勢力をのびします。特に、安芸国・備後国を含む中国地方では〔⑤〕が急速に勢力を拡大しました。

江戸時代、広島県には広島藩と福山藩がおかれていました。関ヶ原の戦いの後、福島正則が広島藩主となりましたが、広島城を無断で修築した罪で改易されてしまいました。一方、福山藩出身の人物として知られている阿部正弘は、幕末のペリー来航時に老中をつとめ、日米和親条約を結びました。

明治以降、広島は軍都として発展していきます。明治の兵制改革で広島に鎮台がおかれ、広島は中国・四国地方の軍事拠点として位置づけられました。日清戦争では朝鮮半島・中国大陆への派兵基地となり、広島の宇品港から多くの兵士や兵器、食糧が大陸へ送り出されました。その後、大本営が広島に移され、臨時帝国議会も開かれるなど、広島は臨時首都のような状況を見せるのでした。以後、相次ぐ戦争により軍関係の施設が次々とおかれ、広島は軍事拠点としての性格を強めていくのです。それまで、日本軍は相次ぐ戦争を優勢に進めていましたが、太平洋戦争におけるミッドウェー海戦をきっかけに戦局は変化し、サイパン島を占領されて以降は日本の各都市への空襲が激しくなりました。そして、1945年〔⑩〕、広島に原子爆弾が投下され、広島は壊滅的な被害を受けたのです。

このように人類史上最初の原子爆弾による被爆を経験した広島は、その経験をもとに核兵器廃絶と世界平和の実現を訴え続けています。その広島でサミットが開催されたことは、世界の平和を構築していく上で、大いに意味のあることだったといえるでしょう。

問 1 下線部 ① に関連して、『日本書紀』などの内容をみると、安芸国や備後国から白絹や塩などの特産物が都に運ばれていたことが分かっています。このような税を何といいますか。正しいものを次の中から一つ選び、記号で答えなさい。

- (ア) 租                      (イ) 調                      (ウ) 庸                      (エ) 雑徭

問 2 空欄 ② にあてはまる人物名を漢字で答えなさい。

問 3 下線部 ③ に関する記述として間違っているものを次の中から一つ選び、記号で答えなさい。

- (ア) 源頼朝は自らと対立するようになった弟・義経をとらえるという理由で、全国に守護と地頭をおくことを朝廷に認めさせた。
- (イ) 源氏の将軍がとだえると、かねてから幕府を倒そうと考えていた後白河上皇は、北条義時を討つ命令を出して承久の乱をおこした。
- (ウ) 承久の乱では、北条政子が武士たちに頼朝の恩を説いて団結を訴えたことで、幕府軍は結集して戦いにのぞみ上皇方をやぶった。
- (エ) 承久の乱に勝利した幕府は、その後京都に六波羅探題をおいて朝廷の監視や西国の御家人の取りしまりにあたらせた。

問 4 下線部 ④ よりも後の時代の出来事として正しいものを次の中から一つ選び、記号で答えなさい。

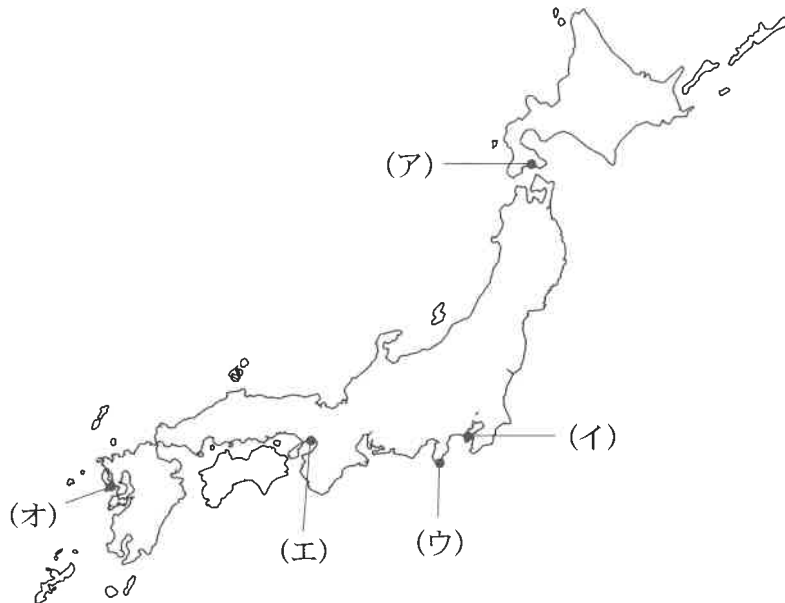
- (ア) 加賀国（石川県）で一向宗（浄土真宗）の信者が中心となって守護を滅ぼし、100 年近くにわたって加賀国を支配した。
- (イ) 御家人の生活を救うために、借金の取り消しを命じる徳政令を出したが、効果はあまりあがらず、幕府の信用を失った。
- (ウ) 日本が明との国交を開き、貿易船と倭寇を区別するために合い札を用いた朝貢形式の勘合貿易を始めた。
- (エ) 全国の武士をまきこみ、約 60 年間続いた吉野の南朝と京都の北朝との内乱が終わり、南北朝の合一が実現した。

問 5 空欄 ⑤ にあてはまる戦国大名として正しいものを次の中から一つ選び、記号で答えなさい。

- (ア) 島津貴久              (イ) 大村純忠              (ウ) 毛利元就              (エ) 大友義鎮

問6 下線部⑥について、この処分は幕府が大名を統制するために定めた法令に違反したことを理由としています。その法令名を答えなさい。

問7 下線部⑦に関連して、この条約で開港された港のうちアメリカの領事館がおかれ、総領事ハリスも来日した場所として正しいものを次の地図の（ア）～（オ）の中から一つ選び、記号で答えなさい。



問8 下線部⑧に関する記述として間違っているものを次の中から一つ選び、記号で答えなさい。

- （ア） 日清戦争の直前には、外務大臣の陸奥宗光がロシアの東アジア進出を警戒するイギリスと交渉して、領事裁判権（治外法権）の廃止を実現した。
- （イ） 朝鮮でおこった甲午農民戦争をきっかけとして日清戦争が始まり、軍隊の近代化を進めていた日本が勝利し、下関条約が結ばれた。
- （ウ） 日清戦争後、ロシアはフランスとドイツをさそい、日本に対して遼東半島と台湾を清に返すように求め、日本がこれを受け入れた。
- （エ） 日清戦争後、官営の八幡製鉄所が設立され、中国から輸入した鉄鉱石と筑豊炭田などで産出した石炭を使って鉄鋼の生産が始まった。

問9 下線部⑨に関連して、次のA～Cの出来事を年代の古い順に並べたものとして正しいものを下の選択肢から一つ選び、記号で答えなさい。

A 関東軍は、奉天郊外の柳条湖で南満州鉄道を爆破した。関東軍はこれを中国軍のしわざとして攻撃を開始し、満州を占領した。

B 北京近くの盧溝橋で日中両軍が衝突したことをきっかけに、日中の全面的な戦争となった。日本は多くの兵を投入したが中国の抵抗が強く、戦争は長期化していった。

C 日本は連合国側についてドイツに宣戦し、ドイツ領南洋諸島について中国の青島を占領した。また、中国に二十一か条の要求をつきつけ、要求の大部分を認めさせた。

- |               |               |               |
|---------------|---------------|---------------|
| (ア) A → B → C | (イ) A → C → B | (ウ) B → A → C |
| (エ) B → C → A | (オ) C → A → B | (カ) C → B → A |

問10 空欄 ⑩ にあてはまる月日を答えなさい。

3

次の文章を読んで、下の各問いに答えなさい。

2023年8月31日、日本の百貨店である「そごう・西武」の労働組合がストライキを<sup>じっし</sup>実施しました。大手百貨店では、約60年ぶりです。日本でのストライキは、<sup>①</sup>高度経済成長期以降、一貫して減少し続けてきました。<sup>②</sup>厚生労働省によると、全体でのストライキの件数は、1974年の約5,000件をピークに減少<sup>けいこう</sup>傾向で、近年では二ケタの件数にとどまっています。そもそも、ストライキとは、どのようなものなのでしょうか。

ストライキとは、<sup>こよう</sup>雇用の維持<sup>いじ</sup>や<sup>③</sup>労働条件の改善などを会社側に認めさせることを目的に、労働者がまとまって労働を行わないで<sup>こうぎ</sup>抗議することです。<sup>④</sup>日本国憲法は、労働者に<sup>⑤</sup>労働三権を認めています。正当なストライキであれば、参加した労働者に不利益なあつかいをしてはならず、企業に損害があったとしても、労働組合に<sup>ばいしょうせいきゅう</sup>賠償請求できないことが<sup>⑥</sup>法律で定められています。

日本では大規模なストライキが減っている一方、欧米では現在も大規模なストライキが多く行われています。アメリカでは映画業界最大の労働組合によるストライキが実施され、ヨーロッパでも記録的な<sup>⑦</sup>物価高から賃金引き上げを求めるストライキが発生しています。欧米に比べ日本でストライキが少ない理由には、日本的な労使協調路線や、産業構造の変化など、様々なものが考えられます。現代の日本は、従来の日本型雇用慣行の変化や非正規労働者の増加など、<sup>⑧</sup>労働者を取り巻く環境も大きく変化してきています。そうした中で、労働者の権利についてもあらためて考えていく必要があるのではないのでしょうか。

問1 下線部①に関連して、高度経済成長期におこった出来事ではないものを次の中から一つ選び、記号で答えなさい。

- |                 |               |
|-----------------|---------------|
| (ア) 国民所得倍増計画の発表 | (イ) 東海道新幹線の開通 |
| (ウ) 消費税3%の導入    | (エ) 沖縄の日本復帰   |

問2 下線部②の役割に関する次のA・Bの記述について、その正誤の組み合わせとして正しいものを下の選択肢から一つ選び、記号で答えなさい。

- A 国民の健康増進や病気の予防などに関する業務を行っており、新型コロナウイルス対策でも中心的な役割を果たした。
- B 働く人の雇用安定や働く環境の整備に関する行政を担当しており、地方自治や地方公務員制度、選挙や消防など、国の基本的な諸制度を担っている。

- |                    |                    |
|--------------------|--------------------|
| (ア) A - 正    B - 正 | (イ) A - 正    B - 誤 |
| (ウ) A - 誤    B - 正 | (エ) A - 誤    B - 誤 |



問 3 下線部 ③ に関連して、労働三法の中で、賃金、労働時間、休日などについて使用者が守るべき最低限のことを定めた法律名を答えなさい。

問 4 下線部 ④ に関連して、次の条文の空欄  にあてはまる語句を漢字四文字で答えなさい。

第22条 何人も、公共の福祉<sup>ふくし</sup>に反しない限り、居住、移転、及び  の自由を有する。

問 5 下線部 ⑤ に関連して、ストライキは労働三権のうち何という権利に基づいて行われるものか、答えなさい。

問 6 下線部 ⑥ の成立過程に関する記述として、間違っているものを次の中から一つ選び、記号で答えなさい。

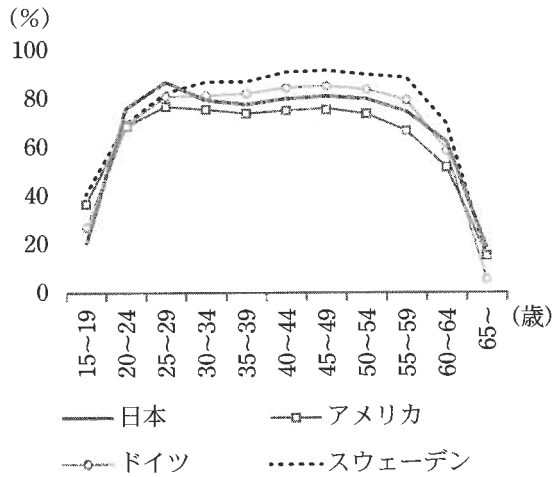
- (ア) 衆議院と参議院で異なる議決をした場合、衆議院で出席議員の 3 分の 2 以上の賛成で再可決した場合、衆議院の議決が国会の議決となる。
- (イ) 国会議員だけでなく、内閣も法律案を国会に提出することができる。
- (ウ) 法律案は、本会議で審議<sup>しんぎ</sup>する前に各委員会で細かい審議を行うが、必要に応じて専門家などの意見を聞く公聴会を開くことができる。
- (エ) 国会に提出された法律案は、必ず衆議院から先に審議しなければならない。

問 7 下線部 ⑦ に関連して、日本でも物価が上昇する原因の一つとして、「円安」の影響が考えられますが、「円安」が日本経済に与える一般的な影響についての記述として、適切でないものを次の中から一つ選び、記号で答えなさい。

- (ア) 日本からの輸出品の価格が下がるため、日本の輸出が増加する。
- (イ) 海外旅行の費用が安くなるため、海外旅行に行く日本人が増える。
- (ウ) 円の価値が下がることにより、海外から日本への投資が増える。
- (エ) 外貨預金をしている人が円に換金<sup>かんきん</sup>すると為替差益<sup>かわせさえき</sup>（ドル預金では得）が発生する。

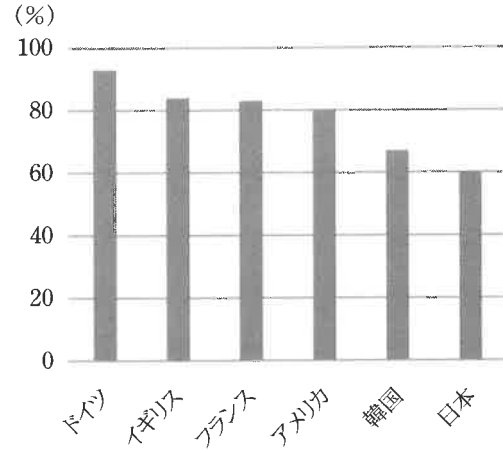
問 8 下線部 ⑧ に関連して、日本の労働者が、趣味やレジャーなど自由に使う時間が少ないことを説明する資料の一つとして、最も適切なものを次の中から一つ選び、記号で答えなさい。

(ア) 女性の年齢別労働力率



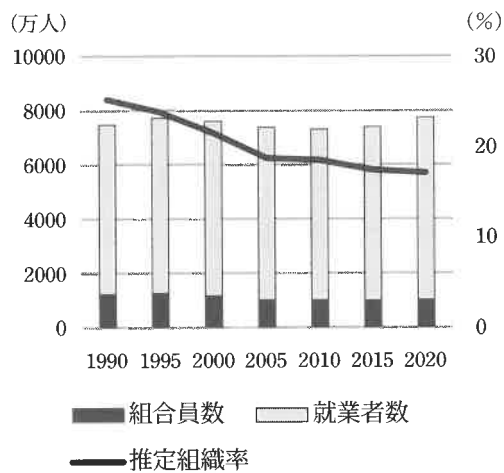
(『データブック国際労働比較』2023)

(イ) 年次有給休暇の消化率



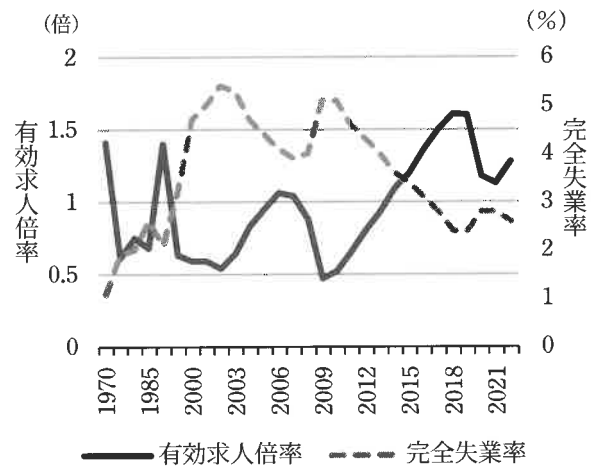
(『有給休暇・国際比較調査』2021)

(ウ) 労働組合の組織率の推移



(厚生労働省資料より作成)

(エ) 有効求人倍率と完全失業率の推移



(総務省統計局・厚生労働省資料より作成)

このページは余白です。

2024 年度 中学校入学試験(第 1 回)社会 解答用紙

受験 番号						氏 名	
----------	--	--	--	--	--	--------	--

1

問 1				
問 2	問 3			
	X	Y		
問 4	問 5	問 6	問 7	

2

問 1	問 2	問 3	問 4	問 5	
問 6		問 7	問 8	問 9	問 10
					月 日

3

問 1	問 2	問 3	問 4	
問 5		問 6	問 7	問 8

※	
得 点	

※には記入してはいけません。