

## 1

以下の「橋」についての文章をよく読んで、各問いに答えなさい。

「橋」によって、人やモノの往来おうらいが便利になります。川の兩岸にかけられるものが代表的です。橋がなければ、船を使わなければなりません。風雨の強さによっては船を動かさない場合もありますが、橋があれば陸上と同じように移動ができます。世界には無数の橋がありますし、日本も古来より橋が利用されてきました。1937年に開通した「A ゴールデンゲートブリッジ」は別名「金門橋」とも呼ばれ、完成当時はつり橋として世界最長を誇りました。世界一の橋は日本国内にもあります。それは世界一長いつり橋である明石海峡大橋で、本州と B ある島を結んでいます。人が歩くことができる日本で一番長いつり橋は、「三島スカイウォーク」です。雄大な景色を眺めながら渡ることができる橋で、人気の観光地となっています。この橋がある静岡県三島市は、明治初期には「C 韮山県」に属しており、かつては「三島宿」と呼ばれ、D 東海道沿いの宿場町として栄えていました。橋は人の手による人工物ですが、自然の世界には橋のような地形も見られます。日本三景にふくまれる E 天橋立がその一つです。沿岸を流れる海流と河口からの水流がぶつかることで、砂が積み重なり、海をへだてるような地形が形成され自然にできた橋のようになっています。

「橋」という言葉には「懸け橋」のような、遠い地域との結びつきをたとえることがあります。日本は資源の少ない国であり、多くの国と結びつきをもつことで成り立っています。F 外国から多くのモノを輸入しており、G 発電のための資源も外国から輸入しています。また、「懸け橋」という言葉は、人と人との結びつきをたとえる際にも使われます。H 日本の中でも多様な文化を見ることができます。このことは社会の豊かさを示していると言えます。社会は、人々によってつくられ、日本では1億人以上が結びついています。さまざまな考えを持つ人々の意見を反映させるため、I 国会があります。多くの人が生活をしていれば、トラブルをゼロにすることは難しいです。もしトラブルが起きた場合は、J 裁判によって最終的に解決をめざすこともあります。これからの時代をになう皆さんには、人と人、そして世界との「橋」となることを願わずにはられません。

問1 下線部Aについて、この橋がある国の説明として正しいものをア～エから1つ選び、その記号を答えなさい。

- ア. 社会主義の国として建国されたが、経済に関しては資本主義を導入しはじめた。
- イ. 軍事優先の思想を持つ社会主義国家で、最高指導者は世襲制せしゅうせいである。
- ウ. 国家の元首であり、行政府の最高責任者となる者が1年がかりの間接選挙で選出される。3選は禁止されている。
- エ. 日本においてもとられている「議院内閣制」の発祥とされている国で、議会で多数を得た政党の党首が「政府の長」となる。

問2 下線部Bについて、この島の説明として正しいものをア～エから1つ選び、その記号を答えなさい。

- ア. 鎌倉幕府の打倒をめざした後鳥羽上皇や後醍醐天皇が流されたことがある。
- イ. 四国の次に大きな島で、西単冠山が島内で最高峰である。この島の隣にある国後島も沖縄本島より大きい。
- ウ. 第2次世界大戦後アメリカに占領され、1968年に日本へ返還された。他の地域では見られない動植物が見られ、世界自然遺産に登録されている。
- エ. タマネギの産地として有名である。南西の海域では海峡がせまく水位の高さが違うため、うずしおが発生する。

問3 下線部Cについて、現在のこの地には、2015年に「明治日本の産業革命遺産」として世界遺産に登録された文化財があります。この「明治日本の産業革命遺産」を構成する文化財として、あてはまらないものをア～エから1つ選び、その記号を答えなさい。

- ア. 三井三池炭鉱
- イ. 端島（軍艦島）
- ウ. 松下村塾
- エ. 富岡製糸場

問4 下線部Dについて、以下の各問いに答えなさい。

① 「東海道五十三次」の作者として正しい人名をア～エから1つ選び、その記号を答えなさい。

- ア. 菱川師宣
- イ. 歌川広重
- ウ. 葛飾北斎
- エ. 加納探幽

② 東海道の起点となる橋として正しいものをア～エから1つ選び、その記号を答えなさい。

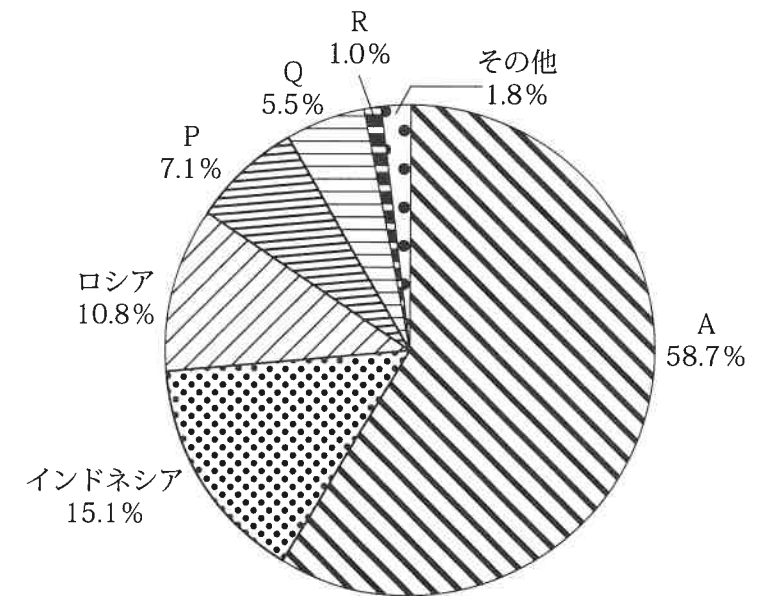
- ア. 道頓堀橋
- イ. 渡月橋
- ウ. 日本橋
- エ. 勝どき橋

③ 奈良時代の歌人である山部赤人が、東海道を下る際に詠んだ歌がおさめられている日本最古の歌集の名称を漢字で書きなさい。

問5 下線部Eについて、この地域の説明として正しいものをア～エから1つ選び、その記号を答えなさい。

- ア. 戦国時代から江戸時代にかけて、明智光秀の娘を妻としていた細川忠興が治めていた。この地域は雪が多く、絹織物の丹後ちりめんが18世紀ころよりさかんであった。
- イ. 『奥の細道』で松尾芭蕉が訪れて俳句を残している。都道府県庁所在地は、伊達政宗が17世紀の始めに城を築いた地であり、現在は政令指定都市となっている。
- ウ. 国内で珍しい星型をした城郭の五稜郭があり、日米和親条約で開港された。本州との間に航路が設けられており、昭和時代の終わりまで鉄道の連絡船が運行されていた。
- エ. 文永の役の後、再び元軍が襲来したときに備えて沿岸に防塁がつくられた。筑紫平野が広がり、日本の中でも歴史的に早い時期から稲作が行われている。

問6 下線部Fについて、下のグラフは日本の石炭の輸入先を表している。グラフの中のAにあてはまる国をア～エから1つ選び、その記号を答えなさい。



(公益財団法人 矢野恒太記念会編『日本国勢図会2020 / 21年版』より作成)

- ア. カナダ
- イ. ブラジル
- ウ. オーストラリア
- エ. 中国

問7 下線部Gについて、下の表は日本国内で発電されている電力のうち、原子力の割合をあらわしている。2010年から2018年への変化の理由について、わかりやすく説明しなさい。

	2010年	2018年
原子力	24.9%	6.2%

(公益財団法人 矢野恒太記念会編『日本国勢図会2020 / 21年版』より作成)

問8 下線部Hについて、アイヌ民族に関する内容として正しいものをア～エから1つ選び、その記号を答えなさい。

- ア. 江戸時代、対馬藩との間で不平等な交易をさせられていたことに対して、反乱をおこした。
- イ. 北海道の先住民族であると定められた法律がつけられた。
- ウ. 古代にあった王国でつくられたルールが、くさび形文字で書かれた記録に残されていた。
- エ. おもな農作物として、さつまいもがさかんに生産されてきた。

問9 下線部Iについて、参議院に関する内容として不適切なものをア～エから1つ選び、その記号を答えなさい。

- ア. 内閣不信任決議案を提出することができる。
- イ. 衆議院が解散総選挙を行っている際、必要な場合に緊急集会が開かれる。
- ウ. 選挙は、比例代表区と都道府県を1つの選挙区とする選挙を行っている。都道府県の選挙区では、人口の少ない2つの県が1つの選挙区となっている場合がある。
- エ. 衆議院が可決した予算案を参議院が否決した場合、必ず両院協議会が開かれる。

問10 下線部Jについて、裁判に関する内容として正しいものをア～エから1つ選び、その記号を答えなさい。

- ア. 違憲立法審査権は最高裁判所のみが持っている。
- イ. 地方裁判所は、全国に8ヶ所ある。
- ウ. ある犯罪の事件で、有罪か無罪かの判決が下される裁判は、民事裁判である。
- エ. 弾劾裁判所は、国会に設置されている。

2 以下の「水」についての文章をよく読んで、各問いに答えなさい。

古来より、日本では「水」と深いかわりがあります。海からは、様々な種類のA水産物をとって食べてきました。工業においても、水は重要です。( B )は、八ヶ岳中信高原国定公園の中にある霧ヶ峰高原から、雨水が地中を通ってきれいで豊富な水を利用することができます。この水のおかげで、かつては製糸業がさかえ、後に精密機械工業の工場が多く建てられました。日本は、国土の面積がロシアやアメリカ合衆国と比べて小さいですが、地域によって雨の量や気温といったC気候は異なります。日本には多くの湖や沼があります。かつて湖沼面積第2位だった( D )は、干拓がおこなわれて水田が広がっています。ここは東経140度線と北緯40度線が交わる地点としても有名です。日本は海に囲まれていることから、E海運もさかんです。日本の大きな河川は、世界と比べると源流から河口までの距離が短く、流れが急という特長があります。「( F )川」は昔より氾濫が多く、「坂本太郎」とたとえられました。江戸時代には河口を太平洋に移す大工事が行われました。国内の河川の流域面積としては最も広いです。

問1 文章中の下線部Aについて、次の各問いに答えなさい。

① 「ほたて貝」の内容として正しいものをア～エから1つ選び、その記号を答えなさい。

- ア. 真水で生息する種と、真水と海水がまじる水域で生息する種がいる。産地は宍道湖が有名である。
- イ. 冷たい海水で生息する。北海道や東北地方で漁獲量の多くを占めている。
- ウ. 温かい海水で生息する。この貝を用いた真珠の養殖が志摩半島でさかんである。
- エ. 世界的に食用に養殖されている。日本でも様々な地域で養殖されており、漁獲量の多いところとして、広島県や宮城県がある。

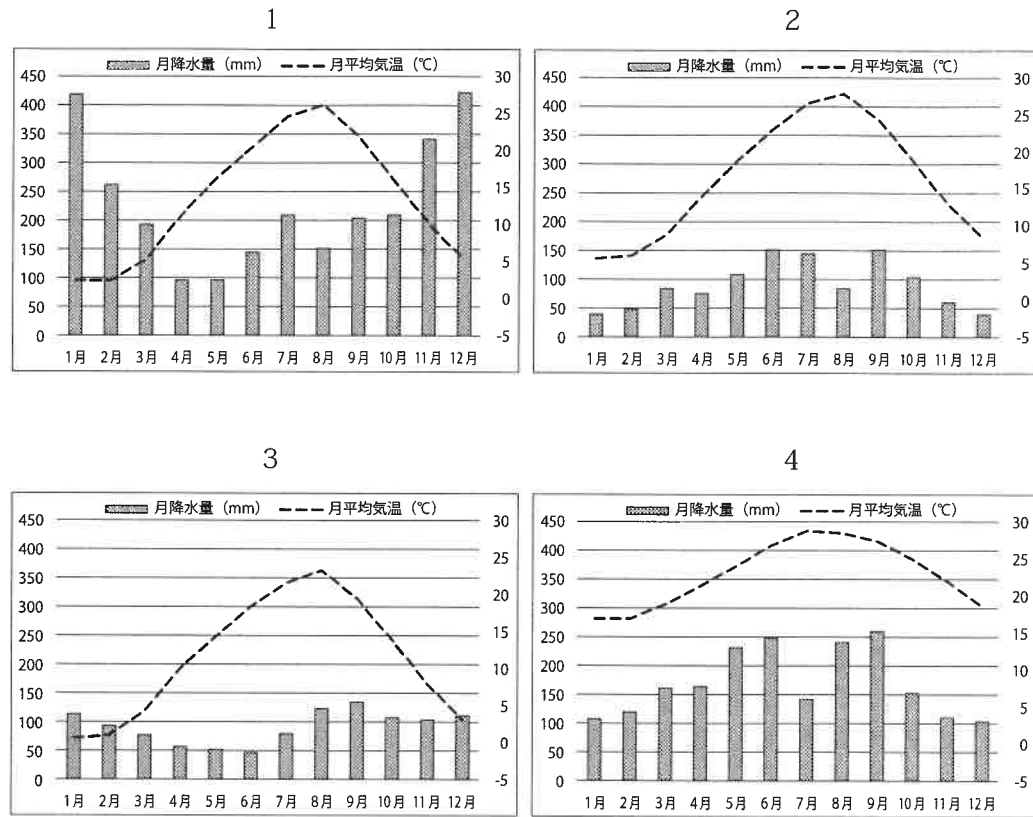
② 下線部Aに関連して、2010年代の日本の漁業の内容として不適切なものをア～エから1つ選び、その記号を答えなさい。

- ア. 遠洋漁業・沖合漁業・沿岸漁業の中でもっとも生産量が多いのは、沿岸漁業である。
- イ. おもな漁港である石巻・銚子・焼津の中でもっとも水揚げ量が多いのは、銚子である。
- ウ. すべての都道府県で水産物の出荷が記録されている。
- エ. 海で行われる漁業の生産量の中で、養殖は約2割を占めている。

問2 文章中の空欄( B )にあてはまる都市がある都道府県を漢字で書きなさい。

問3 文章中の下線部Cについて、次の各問いに答えなさい。

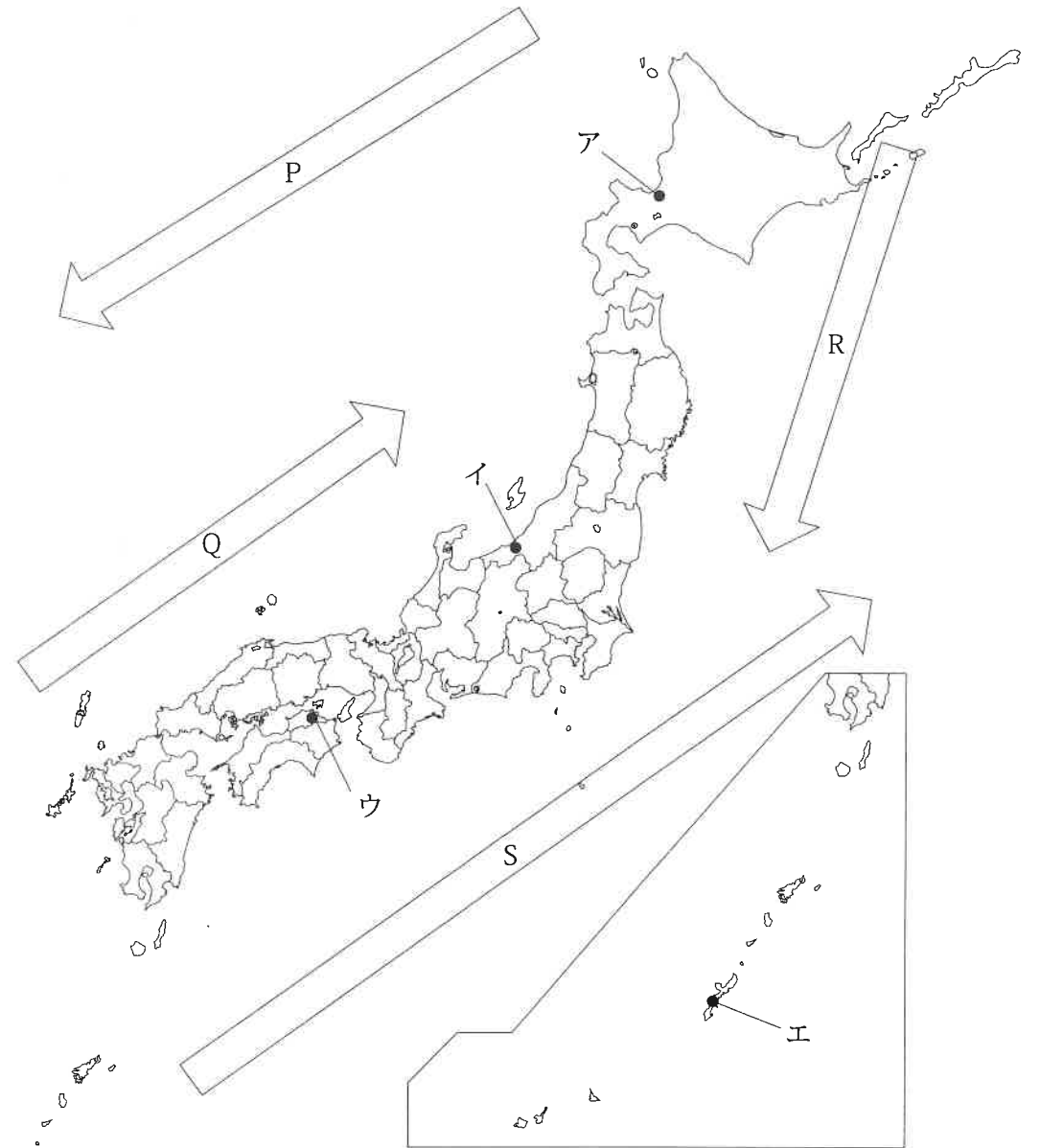
① 1～4のグラフは、折れ線グラフが月平均気温、たての棒グラフが月ごとの降水量を表しており、それぞれ次のページの【地図】中のア～エの都市にあてはまります。1のグラフにあてはまる都市を【地図】中のア～エから1つ選び、その記号を答えなさい。



(気象庁ホームページ「過去の気象データ検索」より作成)

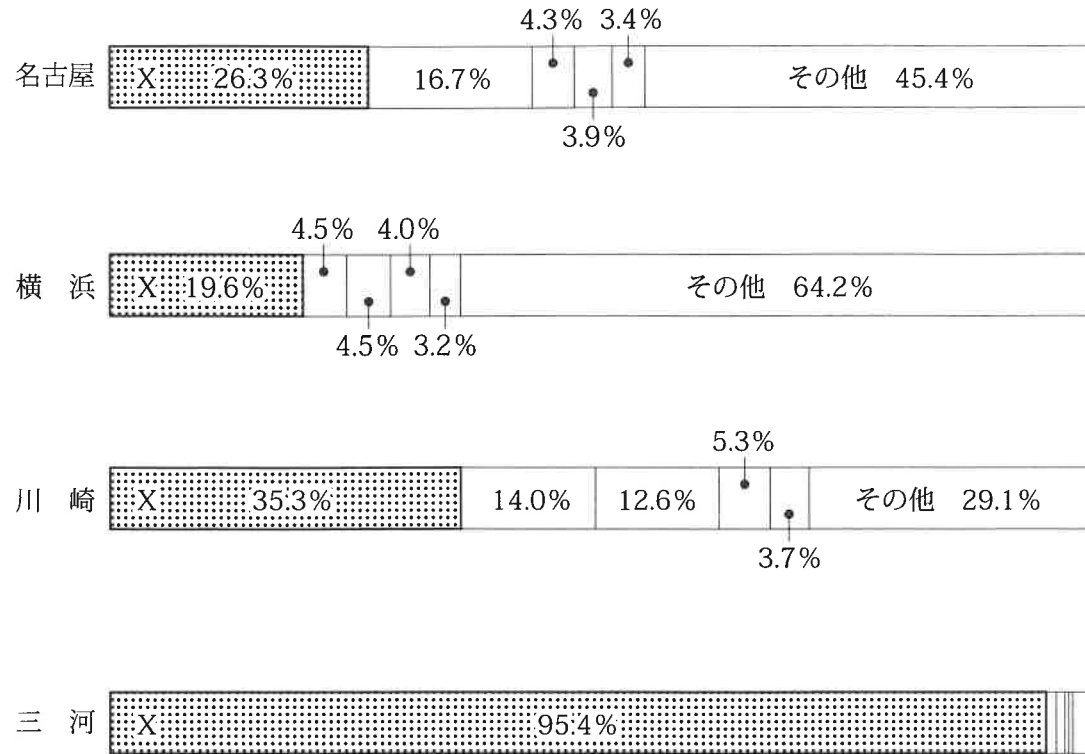
② 【地図】の矢印P・Q・R・Sは海流を表しています。「やませ」と関係が深い海流をP～Sから1つ選び、解答用紙の「記号」の欄に答えなさい。また、その海流の名称を「名称」の欄に漢字で書きなさい。

【地図】



問4 文章中の空欄（ D ）にあてはまる湖沼の名称を漢字で書きなさい。

問5 文章中の下線部Eについて、下のグラフはそれぞれの港での主要貿易品目の割合を示したものです。グラフの中のXには、共通の品目があてはまります。Xにあてはまるものをア～エから1つ選び、その記号を答えなさい。



（公益財団法人 矢野恒太記念会編『日本国勢図会2020 / 21年版』より作成）

ア. 石油製品      イ. 集積回路      ウ. 鉄鋼      エ. 自動車

問6 文章中の空欄（ F ）にあてはまる語句を漢字で書きなさい。

3 以下の「四国地方」についての文章【1】～【6】をよく読んで、各問いに答えなさい。

【1】 774年に讃岐国（現在の香川県）に生まれた空海は、遣唐使の学問僧として中国に渡りました。日本では（ 1 ）に金剛峰寺を建てて、A 仏教の新しい宗派を開き、この教えは皇族や貴族に広まりました。

【2】 土佐国（現在の高知県）の役人としておもむいていた（ 2 ）は、都に帰る最中に起きた出来事を仮名でつづった日記として著しました。これは、平安時代に成立した日本最初の日記文学といわれ、仮名を用いた女性による文学作品に影響を与えました。

【3】 江戸幕府は貨幣などをつくるために、金・銀・銅などの鉱山開発を進めました。四国では、17世紀に伊予国（現在の愛媛県）で（ 3 ）銅山が発見され、B 住友家がその開発にたずさわりました。明治時代以降になると、銅山以外にも様々な会社を経営するようになり、日本を代表する企業に成長していきました。

【4】 17世紀後半から1世紀の間、江戸時代の農業は、その生産力が著しく発展しました。一般の農民たちも商品作物を生産し、阿波国（現在の徳島県）では、染め物に使う原料の（ 4 ）などが特産物としてつくられました。

【5】 1837年に土佐藩（現在の高知県）の武士の子として生まれた板垣退助は、1868年から1869年にかけておきた（ 5 ）とよばれる戦いで、旧幕府勢力と戦いました。  
明治政府の要職についたのち、西郷隆盛が唱えた征韓論の問題で反対され、政府を退きました。その後は、新聞や演説会などでも意見を発表しながら、政治的な運動を活発にすすめていきました。

【6】 1867年に伊予国に生まれた（ 6 ）は、俳句の革新運動をおこし、近代文学に影響をおよぼしました。「柿くえば鐘がなるなり法隆寺」の句はよく知られています。  
また、明治時代に日本に入ってきた野球にも熱心で、バッターを「打者」、ランナーを「走者」などと訳し、野球を広めることにも力をつくしました。

問1 文章中の空欄（ 1 ）にあてはまる語句を解答欄にあわせて漢字で書きなさい。

問2 文章中の下線部Aについて、日本での新たな宗派とそれを開いた人物との組み合わせとして、正しいものをア～エから1つ選び、その記号を答えなさい。

- ア. 浄土真宗 - 法然                      イ. 法華宗 - 日蓮  
ウ. 曹洞宗 - 栄西                      エ. 真言宗 - 最澄

問3 文章中の空欄(2)にあてはまる人名をア～エから1つ選び、その記号を答えなさい。

- ア. 紀貫之              イ. 大伴家持              ウ. 在原業平              エ. 菅原道真

問4 文章中の空欄(3)にあてはまる地名をア～エから1つ選び、その記号を答えなさい。

- ア. 佐渡              イ. 足尾              ウ. 石見              エ. 別子

問5 文章中の空欄(4)にあてはまる語句をア～エから1つ選び、その記号を答えなさい。

- ア. あい              イ. こうぞ              ウ. あぶらな              エ. いぐさ

問6 文章中の下線部Bについて、明治時代から戦前における住友家のような同じ一族による巨大な企業集団を何といいますか。漢字2文字で書きなさい。

問7 文章中の空欄(5)にあてはまる語句を漢字4文字で書きなさい。

問8 文章中の下線部Cについて、この運動の内容として正しいものをア～エから1つ選び、その記号を答えなさい。

- ア. 普通選挙を実現するように要求した。  
イ. 租税としての年貢を減らすように要求した。  
ウ. 国会の開設を要求した。  
エ. 労働者による長時間労働の改善を要求した。

問9 文章中の空欄(6)にあてはまる人名をア～エから1つ選び、その記号を答えなさい。

- ア. 森鷗外              イ. 正岡子規              ウ. 夏目漱石              エ. 高村光太郎

4

以下のオリンピックについての文章をよく読んで、各問いに答えなさい。

1964年、アジアで初めてとなる東京オリンピックが開催されました。開催が決定した当時の日本では「東京オリンピック委員会」が組織され、A国家予算として約280億円が計上される一大国家プロジェクトとなりました。この歴史的なイベントにより、日本の高度経済成長はさらに加速しました。

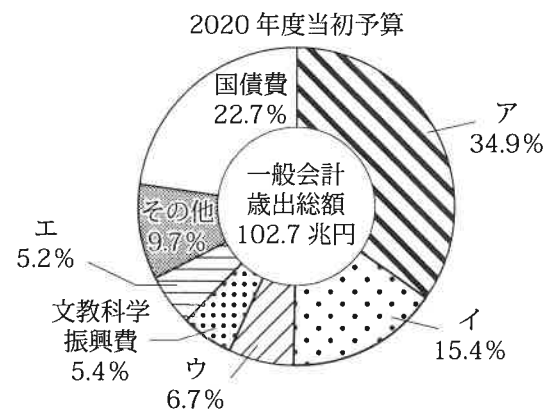
2016年には、ブラジルのリオデジャネイロでオリンピック・パラリンピックが開催されました。この地は、深刻化する環境問題について各国の首脳が話し合うため、1992年に(1)サミットが開催された場所でもあります。過去最多の国・地域が参加したこの大会では、各国の代表として戦う選手たちの姿に世界中が感動しました。また、初めての試みとなる「B難民選手団」も組織され、内戦などで母国を離れなくてはならなくなった選手たちに、あたたかい歓声と拍手が送られたのです。世界中の選手が、C人種や宗教などの枠をこえ、お互いに全力を尽くし戦う姿は、「いかなる差別も伴わず、フェアプレーの精神で理解しあうことから、D平和でよりよい国際社会をつくる」というオリンピック理念のあらわれといえるでしょう。

問1 文章中の下線部Aについて、次の各問いに答えなさい。

① 国家の予算について説明した文として、不適切なものをア～エから1つ選び、その記号を答えなさい。

- ア. 予算の決定について両院の意見が食い違ったときは両院協議会を開く。  
イ. 予算の審議は、毎年1月に開催される特別国会で審議される。  
ウ. 予算は必ず衆議院で先に話し合われる。  
エ. 予算を審議する本会議は、総議員の3分の1以上の出席を要する。

② 以下は2020年度予算の歳出グラフです。「社会保障費」を表すものをア～エから1つ選び、その記号を答えなさい。



(財務省ホームページ <https://www.mof.go.jp/zaisei/current-situation/index.html> より作成)

問2 文章中の空欄（ 1 ）にあてはまる語句を漢字で書きなさい。

問3 文章中の下線部Bについて、世界の難民の保護や支援を行っている組織を表す語句として正しいものをア～エから1つ選び、その記号を答えなさい。

ア. I L O          イ. O P E C          ウ. U N E P          エ. U N H C R

問4 文章中の下線部Cについて、白人と有色人種を差別するための人種隔離政策である「アパルトヘイト」を1991年まで実施していた国名として正しいものをア～エから1つ選び、その記号を答えなさい。

ア. 南アフリカ          イ. カナダ          ウ. メキシコ          エ. イギリス

問5 文章中の下線部Dについて、以下の文章は、国際社会の平和と安全を守るための組織の1つである「国際連合」について説明した文です。よく読んで、各問いに答えなさい。

国際連合は1945年に成立した。本部はアメリカの（ 2 ）に置かれている。中心機関として安全保障理事会が組織されており、常任理事国はアメリカ、ロシア、（ 3 ）、イギリス、中国で構成される。重要な問題について決議をとる際、この常任理事国である5か国には（ 4 ）権が認められており、1か国でも反対すれば決定できない仕組みとなっている。

① 文章中の空欄（ 2 ）・（ 3 ）にあてはまる語句をカタカナで書きなさい。

② 文章中の空欄（ 4 ）にあてはまる語句を漢字で書きなさい。

## 社 会 解 答 用 紙

<b>1</b>	問 1		問 2		問 3	
	問 4	①		②		③
	問 5		問 6			
	問 7					
	問 8		問 9		問 10	

<b>2</b>	問 1	①		②		問 2	
	問 3	①		②	記号	名称	
	問 4			問 5		問 6	

<b>3</b>	問 1		山	問 2		問 3	
	問 4		問 5		問 6		
	問 7			問 8		問 9	

<b>4</b>	問 1	①		②		問 2	
	問 3		問 4				
	問 5	①	2			3	
		②					

受験番号		氏名		得点	
------	--	----	--	----	--