

1

以下の「はきもの」についての文章をよく読んで、各問いに答えなさい。

はきものは我々の生活にとって欠かせないものの一つです。昔から足の保護や農作業の際の転倒防止のために利用されてきましたが、その起源はよくわかっていません。5000年前には各地で様々なはきものが見られ、古代エジプトではサンダル の原型、A 古代中国の遺跡では農民が水田で作業する際に足が沈まないようにするための(1)、イラク南部にあるメソポタミア文明の遺跡では陶器製の靴が見つかっています。

我が国でも B 弥生時代の登呂遺跡から (1) が発見されました。C 3世紀ころの中国の歴史書には、倭の人々は裸足で生活をしてたと記されており、その後には作られた各地の D 古墳から出土した金属製の靴や埴輪を見ると、高い身分の人によってはきものが利用されていたことが推測できます。E 奈良時代では中国の影響を受けて制定された律令制度にともない、階級に応じた衣服の規則が作られました。この時代も F 身分の高い人々が特別なはきものを用いていましたが、この段階では一般の人々には広まりませんでした。平安時代は「わらじ」や「ぞうり」などの日本独自のはきものが発達し、武士階級が台頭した鎌倉時代にはこれらが一般に広まりました。徳川家と大名の強い力で厳しい身分制度を確立した江戸時代に入ると、諸産業が発達して G 五街道と呼ばれる交通網が整備されました。これらの道を利用した旅人は「わらじ」が壊れることが多かったため、予備の「わらじ」を持参したり、宿場町で「わらじ」を購入したと言われています。

幕末に入ると、海外との交流の影響で少しずつ西洋文化が入り、靴の輸入が始まりました。その需要は増大し、明治3年(1870)に H 東京築地に製靴工場が設けられ、文明開化の風潮に乗って I 大正時代には様々なデザインの靴が作られるようになりました。戦時中はぜいたく品が禁止されたため、革靴の生産は減少し、牛馬のかわりにサメやクジラなどの皮が用いられました。戦後、日本がGHQの占領下に置かれると、日本人はアメリカ文化の影響を受けて革靴の人气が再燃しました。J 1951年に日本は主権を回復した後、K 高度経済成長期に入り、これら革靴は多くの働く日本人の足を支えました。

問1 文章中の下線部Aに関連して、現在の中華人民共和国の説明として正しいものをア～エから1つ選び、その記号を答えなさい。

- ア. この国は天然ゴムの栽培や米作りがさかんである。政治や経済の安定を目的に、周辺国とASEANと呼ばれる地域協力機構を設立した。
- イ. 多くの国民はイスラム教徒で、イスラム教徒の聖地メッカがある。世界有数の石油産油国としても知られ、日本もこの国から多くの石油を輸入している。
- ウ. 北部にはヒマラヤ山脈が見られる。人口は12億を超えており、その多くはヒンドゥー教徒だが、イスラム教徒やシク教徒も多く見られる。
- エ. 社会主義国家であるが、経済特区と呼ばれる地域を設置して外国資本を受け入れた。2001年に世界貿易機関に加盟したことで知られる。

問2 文章中の空欄(1)にあてはまる語句を3字で書きなさい。

問3 文章中の下線部Bに関連して、この遺跡が発見された県の説明として正しいものをア～エから1つ選び、その記号を答えなさい。

- ア. 大井川・天竜川が南北に流れており、北部には赤石山脈が見られる。全国有数のみかんの産地で、太平洋側の都市では楽器やオートバイを輸出している。
- イ. 本州の最北端に位置しており、世界自然遺産に登録されている白神山地が見られる。津軽平野のりんご栽培が有名で、漁業ではほたて貝の養殖がさかんである。
- ウ. 県の南西部は有明海に面している。平野部では米の生産が行われており、八女市周辺では茶の栽培がさかんである。自動車工業が発展していることでも知られる。
- エ. 北部の盆地では、ため池を利用した米作りが見られ、南部の紀伊山地では林業がさかんである。多くの寺院が見られ、観光地としても知られている。

問4 文章中の下線部Cに関連して、3世紀ころの倭についての記述が見られる書物をア～エのうちから1つ選び、その記号を答えなさい。

- ア. 『漢書』
- イ. 『魏志』
- ウ. 『後漢書』
- エ. 『風土記』

問5 文章中の下線部Dに関連して、古墳の代表例で知られる大仙古墳のある都道府県では、2019年6月に主要国首脳が政治や経済など様々な問題について話し合う非公式の国際会議が行われる予定です。この会議の名称をカタカナ4字で書きなさい。

問6 文章中の下線部Eについて、この時代の説明として不適切なものをア～エから1つ選び、その記号を答えなさい。

- ア. 土地の私有を認める墾田永年私財法が制定された。
- イ. 開墾をすすめるため、三世一身の法が制定された。
- ウ. 天皇に権力を集めるため、大宝律令が制定された。
- エ. 中国の高僧であった鑑真が唐招提寺を建立した。

問7 文章中の下線部Fに関連して、現在の日本国憲法には、法の下での平等、貴族の禁止、栄典について規定している条文があります。これらの内容を含むものをア～エから1つ選び、その記号を答えなさい。

- ア. 第9条
- イ. 第14条
- ウ. 第19条
- エ. 第25条

問8 文章中の下線部Gに関連して、五街道の起点は日本橋となっていました。現在の日本橋が位置する東京都の区の名称をア～エから1つ選び、その記号を答えなさい。

- ア. 江戸川区
- イ. 千代田区
- ウ. 江東区
- エ. 中央区

問9 文章中の下線部Hについて、この地には1935年から80年以上にわたって公設の卸売市場が置かれました。しかし、老朽化の上、狭い面積でゆとりがないため、東京都は2018年10月11日に新しい場所に市場を開場しました。この新しい市場の名称を解答欄にあわせて漢字2字で書きなさい。

問10 文章中の下線部Iについて、この時代の出来事として不適切なものをア～エから1つ選び、その記号を答えなさい。

- ア. ニューヨーク株式取引所での株価大暴落を契機に、世界恐慌が始まった。
- イ. オーストリア皇太子夫妻殺害を契機に第一次世界大戦が始まった。
- ウ. 中国の北京では、学生を中心に反帝国主義運動である五・四運動が起こった。
- エ. 世界平和を目的に国際連盟が設立され、スイスのジュネーブに本部が置かれた。

問11 文章中の下線部Jについて、この時期にアメリカはアジア地域で行われた戦争に参加していました。1950年に始まったこの戦争の名称と、アメリカがこの戦争に参加した理由についてわかりやすく説明しなさい。

問12 文章中の下線部Kについて、高度経済成長期の日本には多くの公害問題が生じました。その中に石油化学コンビナートから出た煙に含まれる亜硫酸ガスにより、近畿地方の都市で大勢のぜんそく患者が出た問題があります。この都市の名称をア～エから1つ選び、その記号を答えなさい。

- ア. 川崎市
- イ. 水俣市
- ウ. 四日市市
- エ. 倉敷市

帝京大学中学校のトキオ君とこしのさんの会話文をよく読んで、各問いに答えなさい。

こしの：トキオ君。去年はいっぱい日本に^A台風が来たよね。
 トキオ：そうだったね。そのうちの一つは、^B日本最南端の島を北上してから、日本列島をおそったよね。
 こしの：そうそう。^C鹿児島県、宮崎県の沖合を通過して、高知県の^D室戸岬に上陸したね。
 トキオ：それから瀬戸大橋付近を通り、^E工業地域の中心地、水島地区を通過したんだってよね。
 こしの：そのあと、リアス海岸で有名な湾を経て、江戸時代以来の伝統を受け継いだ^F製菓業がさかんな市を通り過ぎて、新潟県に入ったのよ。
 トキオ：ぼくの親戚は^G燕市に住んでいるんだけど、あの時はすごい暴風雨だったそうだよ。

問1 文章中の下線部Aについて説明した文章として正しいものをア～エから1つ選び、その記号を答えなさい。

- ア. 小笠原気団とオホーツク気団との間に停滞する前線に沿って、大陸から低気圧が次々と日本に近づくことによって発生する。
- イ. 夏に太平洋側から南東季節風が日本列島の中央にある山地をこえて吹き下ろしてくる時に生じる、高温の風のはたらきによって発生する。
- ウ. 東北地方太平洋岸の寒冷な海水と、沖縄地方太平洋岸の温暖な海水との温度差が生み出すエネルギーによって発生する。
- エ. 地球の自転の働きにより、太平洋の南西部に集まった温かい海水にたくわえられた熱がもとになって発生する。

問2 文章中の下線部Bの島の名称を、漢字で書きなさい。

問3 文章中の下線部Cに関連して、次の各問いに答えなさい。

① 右の資料のように、2016年において鹿児島県・宮崎県・高知県が生産量の上位を占めた農産物をア～オから1つ選び、その記号を答えなさい。

- ア. ピーマン イ. だいこん ウ. たまねぎ
- エ. にんじん オ. トマト

県名	数量 (t)	全国比 (%)
茨城	33,900	23.4
宮崎	27,000	18.6
高知	13,000	9.0
鹿児島	13,000	9.0
全国	144,800	100.0

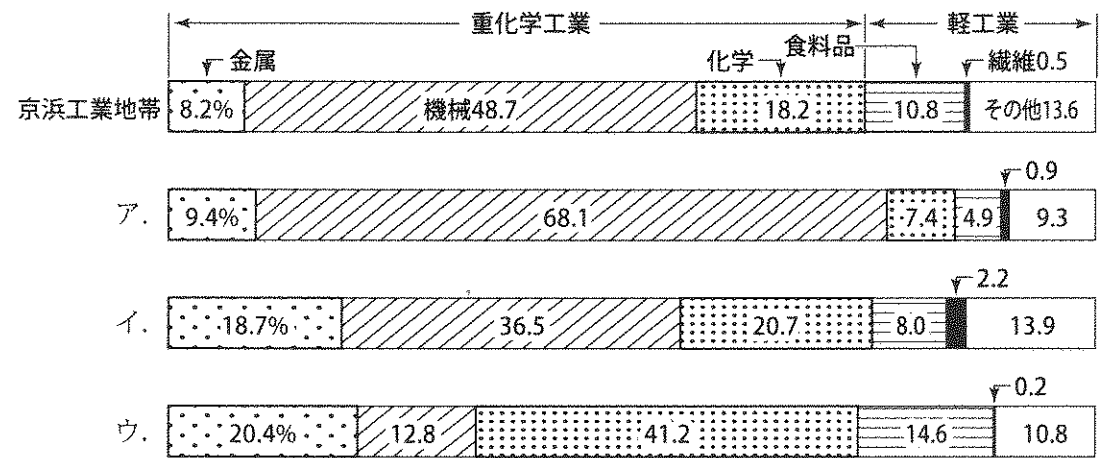
(公益財団法人 矢野恒太記念会編『日本国勢図会 2018/19年版』より作成)

② 次ページの【日本部分地図】中の島Xについて説明する際に必要な語句をア～オからすべて選び、その記号を答えなさい。

- ア. 安納いも イ. 日向かぼちゃ ウ. 世界遺産
- エ. 宇宙センター オ. 縄文すぎ

問4 文章中の下線部Dについて、室戸岬にみられる、海底が数回にわたりもり上がったことにより階段状の台地となった地形は何と呼ばれますか。漢字で書きなさい。

問5 文章中の下線部Eについて、この工業地域の2015年の「製造品出荷額等の構成」を示しているものをア～ウから1つ選び、その記号を答えなさい。



(公益財団法人 矢野恒太記念会編『日本国勢図会 2018/19年版』より作成)

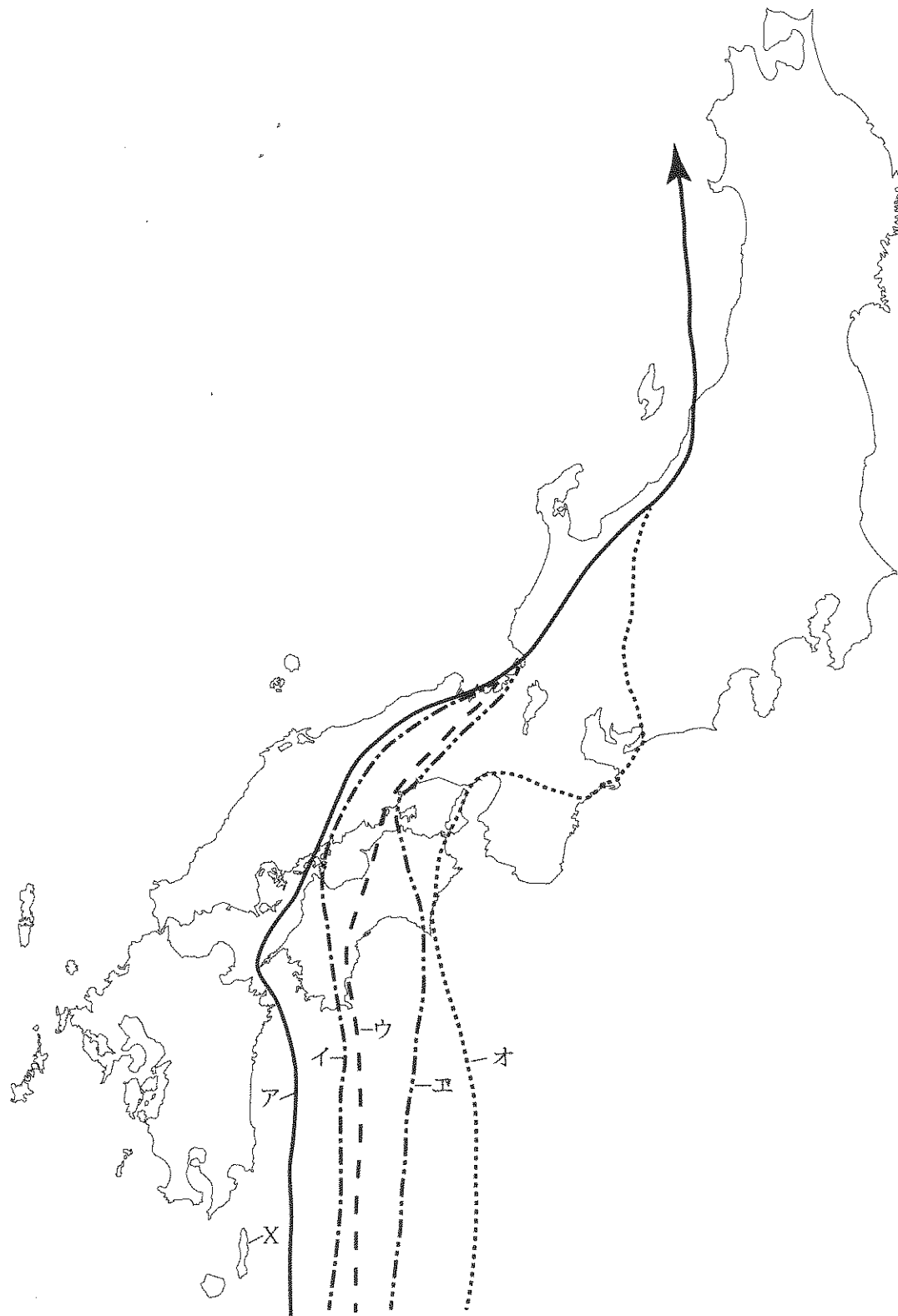
問6 文章中の下線部Fの市の名称を、漢字で書きなさい。

問7 文章中の下線部Gの伝統工業品をア～オから1つ選び、その記号を答えなさい。

- ア. 刃物(包丁) イ. 漆器 ウ. 洋食器
- エ. 和紙 オ. つむぎ(織物)

問8 トキオ君とこしのさんの会話で話題になっている台風は、日本列島をどのように通過しましたか。次ページの【日本部分地図】中のア～オから正しいものを1つ選び、その記号を答えなさい。

【日本部分地図】



3

以下の九州地方に関する文章【1】～【5】をよく読んで、各問いに答えなさい。

- 【1】 ①この場所で1986年に発見された（ A ）遺跡は、弥生時代のむらを守るために、周囲を濠やさくで囲み、物見やぐらといわれる見はり台のような建物もつくられました。そのほか、多数のたて穴住居・高床倉庫のあとや多くの人骨がうもれた墓なども発掘されました。人骨から矢じり（矢の先につけて、目標に突き刺さるようにしたもの）などが見つかることもあり、当時むら同士が武器を使い争っていたことが考えられます。
- 【2】 ②この場所に1274年、元は高麗の軍を合わせて3万数千の大軍で上陸してきました。元軍は新兵器を使い、集団戦法をとったため、幕府軍は苦戦しました。しかし、たまたま暴風雨がおそったため、元軍は日本から引きあげました。
1281年、元は約14万の大軍でふたたびこの場所にやってきました。幕府は九州地方などを中心とした武士を動員し、元軍の上陸を防ぎました。このときも暴風雨がおそい、元軍は退却しました。
- 【3】 この場所では、領主によって重い年貢の取り立てが厳しくなったため、農民たちによる反乱が起こりました。その中にはキリスト教の信者もふくまれていました。
最初は3万人以上の農民側が優勢に戦いをすすめていましたが、（ C ）らを中心にこの場所にたてこもると、幕府側は12万人以上の軍勢を送って鎮圧しました。
将軍徳川家光は、これ以後キリスト教を厳しく取り締まるため、1639年にポルトガル船の来航を禁止しました。
- 【4】 ③この場所は、江戸時代にはいり、1607年に加藤清正によって築られました。やがて、大名をはじめ武士や町人などの暮らす町づくりが行われ、繁栄していきました。
明治時代に、西南戦争が起きると、政府軍は周囲を取り囲まれましたが、耐えることができました。
2016年4月には大地震が発生したため、建物や石垣がこわれたり、屋根のかわらがくずれ落ちたりするなど大きな被害を受けました。現在は復旧に向けて工事が進められています。
- 【5】 この場所は、1549年に宣教師ザビエルが来日してキリスト教を伝えたところです。ザビエルは、大分や山口にも出向いて教を広める活動を行いました。
また、江戸時代のおわりから明治時代にかけて、この場所の出身者である、多くの人物が活躍しました。これらの人々により、幕末には江戸幕府を倒して新たに明治政府がつけられ、近代化政策をおすすめしていきました。

問1 文章中の空欄（ A ）にあてはまる語句を書きなさい。

問2 文章中の下線部Bについて、この戦いの結果として不適切なものをア～エから1つ選び、その記号を答えなさい。

- ア. 生活が苦しくなった御家人は、幕府に不満をもつようになった。
- イ. 幕府はその後警戒を続け、引き続き御家人を動員した。
- ウ. 幕府は2度の戦いに勝利したため、多くの御家人に恩賞を与えた。
- エ. 幕府内における北条氏の権力がさらに強まった。

問3 文章中の空欄（ C ）について、以下の各問いに答えなさい。

- ① （ C ）にあてはまる人名を漢字で書きなさい。
- ② また、（ C ）らが抵抗したこの場所は、江戸時代のキリスト教弾圧のなかで信仰を続けた宗教文化が評価され、2018年ユネスコ世界遺産に登録されました。次の空欄にあてはまる語句を5字で書きなさい。
「長崎と天草地方の潜伏（ ）関連遺産」

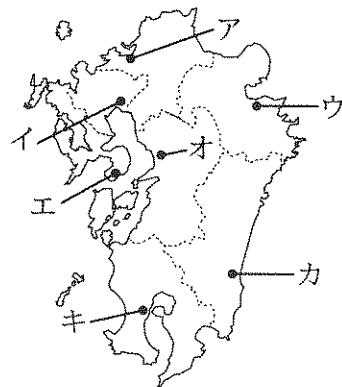
問4 文章中の下線部Dに関連して、この時代に起こった出来事ア～ウを歴史的な順序にならべなさい。

- ア. 政府に対して不平士族らによる佐賀の乱が起こった。
- イ. 自由民権運動がさかんになり、政府は国会開設の勅諭を出した。
- ウ. 政府内で征韓論が反対され、要職にあった人たちが政府をやめた。

問5 文章中の下線部Eについて、あてはまる「この場所」出身の人物をア～カからすべて選び、その記号を答えなさい。

- ア. 岩倉具視 イ. 木戸孝允 ウ. 伊藤博文 エ. 西郷隆盛
- オ. 板垣退助 カ. 大久保利通

問6 【1】・【2】・【4】の各文章中における下線部①～③の「この場所」について、あてはまるものを地図中のア～キから1つずつ選び、その記号を答えなさい。



4 以下の文章をよく読んで、各問いに答えなさい。

今年は参議院議員選挙があります。今回の選挙で（ 1 ）名の参議院議員が改選されます。前回の選挙は（ 2 ）年前でした。投票所では、二種類の投票用紙で投票します。それは、選挙区制と比例代表制によって選挙が行われるからです。参議院議員に立候補するためには（ 3 ）歳以上でなければなりません。国会では法律や予算について議論し、憲法改正の発議を行うことができます。日本国憲法に反する法律は無効となります。

日本国憲法の三大原則の一つに「基本的人権の尊重」があります。また、国民の三大義務として「普通教育を受けさせる義務」・「勤労の義務」・「（ 4 ）の義務」があげられています。どの国でも、憲法は社会の基本となるものです。中学校でも日本国憲法を学びましょう。

問1 空欄（ 1 ）～（ 3 ）にあてはまる数字をそれぞれ書きなさい。

問2 空欄（ 4 ）にあてはまる語句を漢字で書きなさい。

問3 下線部Aについて、参議院議員選挙のしくみを説明した文として正しいものをア～エから1つ選び、その記号を答えなさい。

- ア. 1選挙区から1名を選ぶ選挙区制と、全国を1つの単位とした比例代表制で選ぶ。
- イ. 都道府県を単位とした選挙区制と、全国を1つの単位とした比例代表制で選ぶ。
- ウ. 参議院議員選挙の比例代表制では、投票のとき政党名以外を書いても構わない。
- エ. 参議院議員選挙の選挙区制に立候補している人は、同じ選挙で比例代表制にも立候補できる。

問4 下線部Bについて、憲法改正の手続きとして正しいものをア～エから1つ選び、その記号を答えなさい。

- ア. 憲法改正案が衆議院で可決されて参議院に送られた後、参議院で60日以内に何も決めなかった場合、衆議院の議決が国会の議決となる。
- イ. 選挙権をもつ国民全体の中の50分の1以上の署名を集めて国会に提出したら、国会は憲法改正の発議を行うか決めなければならない。
- ウ. 憲法改正の発議が国会よりなされると、国民投票が行われ、投票の過半数が改正に賛成すると天皇が国民の名で署名し、公布される。
- エ. 衆議院と参議院で憲法改正案が可決しても、内閣総理大臣が拒否した場合に、衆議院の総議員の3分の2以上の多数が憲法改正案に賛成すると、憲法改正の発議ができる。

問5 下線部Cについて、「憲法の番人」とよばれる国の機関の名称を漢字で書きなさい。

問6 下線部Dについて、日本国憲法に定められている基本的人権のなかで、社会権に含まれるものをア～オから1つ選び、その記号を答えなさい。

- ア. 自分の考えを主張する権利
- イ. 健康で文化的な生活をする権利
- ウ. 裁判を受ける権利
- エ. 人種や性別などによって差別されない権利
- オ. 好きな職業を選ぶ権利

社会 解答用紙

1	問 1		問 2			問 3		問 4		
	問 5				問 6		問 7			
	問 8		問 9			市場	問 10			
	問 11	名称								
		理由								
問 12										

2	問 1		問 2		問 3	①		②	
	問 4			問 5		問 6		市	
	問 7		問 8						

3	問 1		問 2					
	問 3	①		②				
	問 4	→		→		問 5		
	問 6	①		②		③		

4	問 1	①		②		③		問 2	
	問 3		問 4		問 5		問 6		

受験番号		氏名		得点	
------	--	----	--	----	--