

1

以下のオリンピックについての文章をよく読んで、各問いに答えなさい。

2016年8月に、Aブラジルのリオデジャネイロで第31回夏季オリンピック競技大会が行われました。28競技306種目で活躍した選手達の競技の様子が全世界に放映されたことから大きな話題となりました。皆さんの中にもテレビを見て応援していた人も少なくないと思われます。このオリンピック競技大会はそもそもどのようなものなのでしょうか。

現在のオリンピックは、Bギリシャで始まったとされる「古代オリンピック（オリンピア祭典競技）」がモデルとなっています。現代のオリンピックは世界平和を目的としたスポーツの祭典ですが、古代オリンピックはギリシャの神々にささげる宗教行事でした。競技に参加したギリシャの各都市の代表者は自分の都市の誇りをかけて競っていたのです。

当初、古代オリンピックで行われていたのは約200mを走る競走のみでした。しかし、大会を重ねるにつれ、C長距離走、円盤投げ、レスリング、槍投げやボクシング、馬を使った戦車競走など競技種目が増えていくことで古代オリンピックは大きな祭典へと発展し、紀元前8世紀ころから1000年以上も継続して行われました。しかし、ギリシャが、Dローマ帝国に支配されて、Eキリスト教がローマの重要な宗教になると、ギリシャの神々にささげてきたこの祭典は、F4世紀末に行われなくなりました。

それから約1500年の年月が流れた19世紀のなかごろ、考古学者がギリシャで古代オリンピックに関する遺跡を発掘しました。これをきっかけにヨーロッパでオリンピックへの関心が高まりを見せました。ほぼ同時期に、若者の健康な肉体と健全な精神を育むことこそが社会の発展につながると考えていたフランスのクーベルタンは古代オリンピックの復興を考えるようになり、1894年に、G国際オリンピック委員会を設立し、その2年後にはギリシャの首都、Hアテネで第1回近代オリンピックを開きました。これが現在のオリンピックとなります。

日本も1912年にスウェーデンの、Iストックホルムで行われた第5回夏季オリンピック競技大会から初めて参加しました。日本はその後もオリンピックへの参加を続けるとともに、オリンピックの招致活動を始めました。その結果、1936年の国際オリンピック委員会の総会にて1940年に東京でオリンピックを開くことが決定しましたが、J諸事情により、このオリンピックは実現しませんでした。

第二次世界大戦が終わり、日本は再び東京でのオリンピック招致にチャレンジしました。1959年のミュンヘンで行われた国際オリンピック委員会において、第18回大会は東京での開催が決定し、とうとう、Kアジア地域で初めてのオリンピック開催が決まりました。これが、L1964年に行われた東京オリンピックです。このオリンピックで多くの日本人選手がメダルを獲得したことから、国民のスポーツに対する関心が高まりました。

問1 文章中の下線部Aについて、ブラジルの説明として正しいものをア～エから1つ選び、その記号を答えなさい。

- ア. 米や綿花、茶の栽培がさかんであり、世界第2位の人口数を有している。
- イ. 酪農業がさかんである。国土の大半が海面よりも低く、干拓地が多い。
- ウ. 小麦の栽培がさかんである。北部にはタイガと呼ばれる針葉樹林が広がっている。
- エ. さとうきびの栽培がさかんである。国土には多くの熱帯林が見られる。

問2 文章中の下線部Bに関連して、2011年に古代ギリシャ展が行われた都内の施設は、2016年に世界文化遺産への登録が決定しました。この施設の説明として正しいものをア～エから1つ選び、その記号を答えなさい。

- ア. この施設は1959年に設立された。フランス人の建築家ル・コルビュジエが設計した国内唯一の建造物で、日本の戦後建築に大きな影響を与えた。
- イ. この施設は1920年に着工し、17年の年月をかけて1936年に完成した。当時は日本一の高さを誇り、「白亜の殿堂」と言われた。
- ウ. この施設は1958年に電波塔として完成した。高さが333mもあるにも関わらず、工事期間はおおよそ1年半であった。
- エ. この施設は1872年に上野公園内に作られた日本最古の博物館であり、5つの展示館と資料館に分けられている。

問3 文章中の下線部Cに関連して、現在オリンピックの長距離は42.195kmと決まっていますが、これはフランスのパリで行われた第8回夏季オリンピック競技大会で正式に採用されました。以下の建築物の中で、パリに見られるものをア～エから1つ選び、その記号を答えなさい。

- ア. ホワイトハウス
- イ. ルーブル美術館
- ウ. ビッグベン
- エ. 聖ピエトロ寺院

問4 文章中の下線部Dに関連して、現在この都市はイタリア共和国の首都ですが、ローマ市内には世界で最も面積が小さい国があります。この国家の名称をア～エから1つ選び、その記号を答えなさい。

- ア. サンマリノ
- イ. バチカン
- ウ. モナコ
- エ. ツバル

問5 文章中の下線部Eに関連して、キリスト教・イスラム教・ユダヤ教の信者が聖なる地として大切にしている都市があります。中東に位置するこの都市の名称を書きなさい。

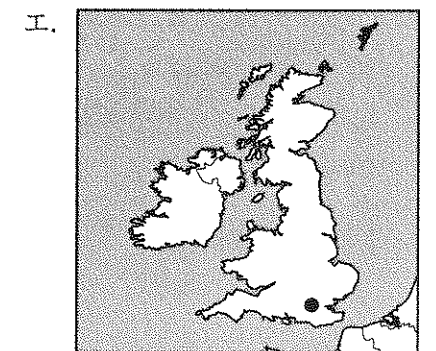
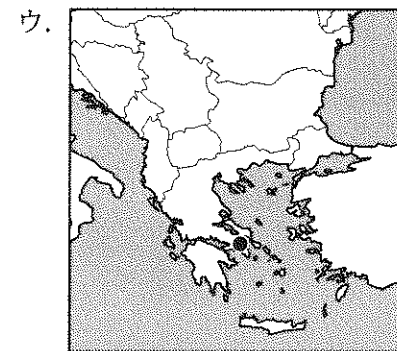
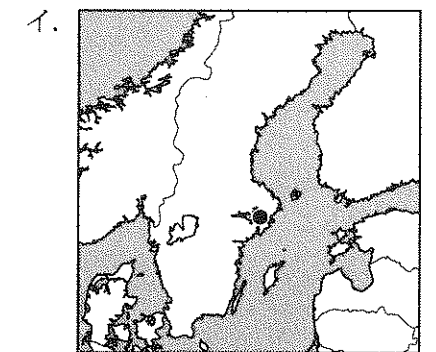
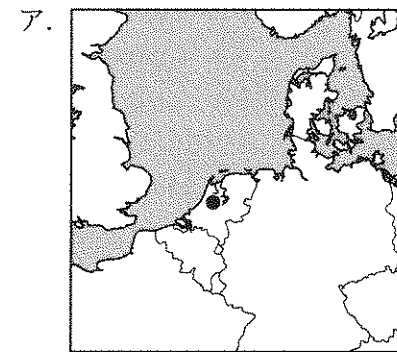
問6 文章中の下線部Fについて、この時期に見られる日本の説明として正しいものをア～エから1つ選び、その記号を答えなさい。

- ア. このころに渡来人が日本に移り住み、本格的な米づくりが始まった。
- イ. このころに卑弥呼は魏に使者を送り、皇帝から「親魏倭王」の称号を授かった。
- ウ. このころに大和政権が大王を中心に大和地方を統一した。
- エ. このころに聖徳太子が遣隋使を派遣し、十七条の憲法を制定した。

問7 文章中の下線部Gについて、この組織をアルファベットで略したものをア～エから1つ選び、その記号を答えなさい。

- ア. IOC
- イ. IMF
- ウ. ICT
- エ. ILO

問8 文章中の下線部Hについて、この都市の位置が確認できる地図をア～エから1つ選び、その記号を答えなさい。



問9 文章中の下線部Iについて、1972年にこの都市で国際連合がはじめて環境をテーマに国際会議を開きました。この会議の名称を解答欄に合わせて漢字で書きなさい。

問10 文章中の下線部Jについて、1940年に東京オリンピックが開催されなかった理由をわかりやすく説明しなさい。

問11 文章中の下線部Kについて、夏季オリンピックが開催されたことのある国の組み合わせとして正しいものをア～エから1つ選び、その記号を答えなさい。

- ア. 中華人民共和国 / 大韓民国 イ. 大韓民国 / シンガポール共和国
ウ. シンガポール共和国 / タイ王国 エ. タイ王国 / 中華人民共和国

問12 文章中の下線部Lについて、この年の出来事をア～エから1つ選び、その記号を答えなさい。

- ア. 沖縄が本土に復帰した。 イ. 日ソ共同宣言が出された。
ウ. 日韓基本条約を結んだ。 エ. 東海道新幹線が開通した。

2

以下の文章は、帝京大学中学校1年生の太郎君が夏休みの旅行についてまとめたものです。よく読んで、各問いに答えなさい。

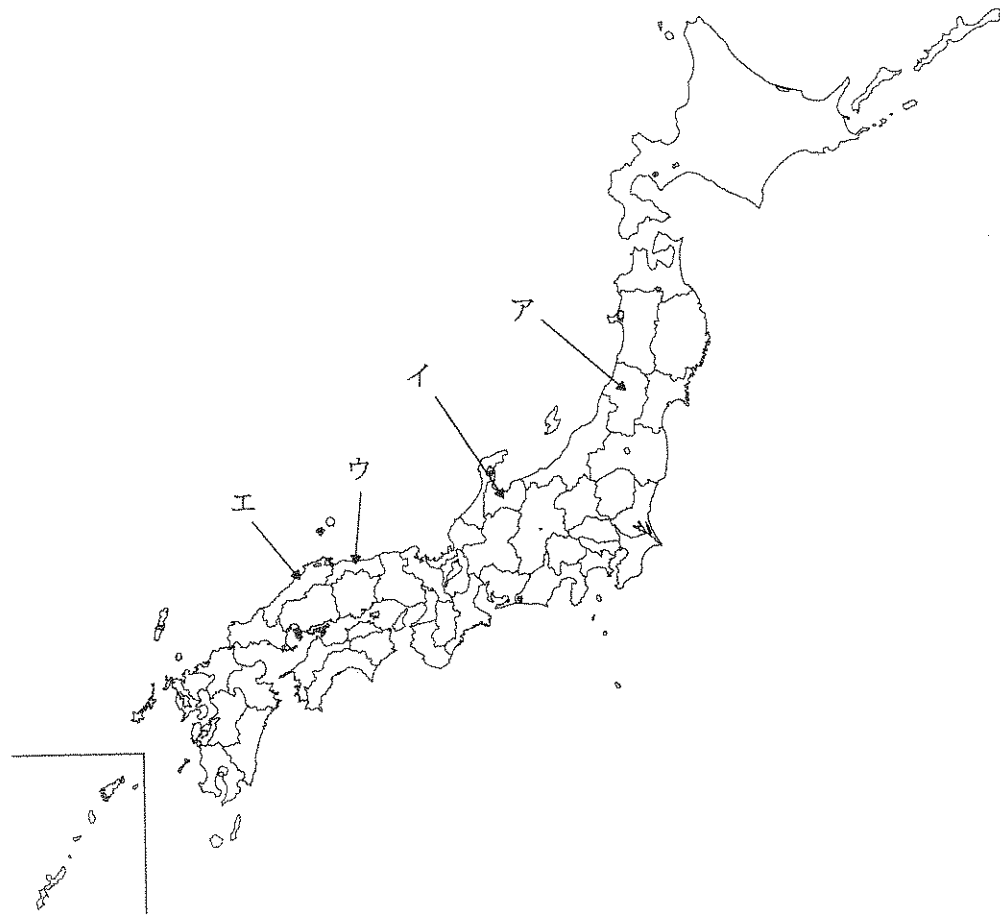
初日、東京都八王子市に住んでいるぼくと家族は、早朝の飛行機で羽田空港から山陰地方の(1) 空港へ到着しました。そこでレンタカーを借りて、空港から日本最大規模の砂丘として知られる(1) 砂丘へ向かいました。ここでラクダに乗って楽しみました。その後、車で移動している途中で、日本なしの直売所に立ち寄り「二十世紀梨」を食べました。車は(1) 県から島根県に入り、(2) に宿泊しました。

2日目、多くの観光客で賑わう(2) 大社に参拝しました。ぼくたちはさらに西へ向かって移動しました。その途中、2007年に世界文化遺産に登録された世界有数の銀鉱山遺跡である(3) 銀山遺跡を訪れ、資料館や町並みを見学しました。ぼくたちはさらに西へ向かい、山陰の小京都といわれる山口県の萩に宿泊しました。

3日目、石灰岩で形成された(4) 地形で有名な秋吉台を訪れました。鍾乳洞である秋芳洞の中はとても涼しかったです。また、その後、本州最西端の下関を訪れ、名物である(5) 料理を食べました。下関から中国自動車道や山陽自動車道などの高速道路を経由して、広島へ移動しました。その移動中、海に浮かぶ赤い鳥居が見えました。広島に到着すると、ぼくたちはお好み焼きを食べながら好きなプロ野球チームの試合を観戦しました。

4日目、広島市内を観光した後、再び山陽自動車道で、尾道へ移動しました。尾道は坂の多い町として有名で斜面にはたくさんの家が建っています。高台から町を見てみると海岸付近では、大きな船を造っている工場が見えました。また、さらに尾道から海岸線を進んでいくと、徐々に狭い道路と古い町並みが見えてきました。ここは鞆の浦といい、宮崎駿監督の映画作品「崖の上のポニョ」でモデルにしたともいわれている場所です。その映画の影響か観光客が多かったです。この後、福山駅でレンタカーを返却して、新幹線に乗って東京へと帰りました。

問1 文章中の空欄(1)にあてはまる県の位置を以下の地図中のア～エから1つ選び、その記号を答えなさい。



問2 文章中の下線部Aについて、以下の表の空欄(X)にあてはまる都道府県名をア～エから1つ選び、その記号を答えなさい。

日本なしの生産量(2014年)			
順位	都道府県名	トン(t)	%
1	(X)	33,500	12.4
2	茨城県	27,100	10.0
3	栃木県	21,700	8.0

(矢野恒太記念会編『日本国勢図会2016/17』より作成)

ア. 千葉県 イ. 山形県 ウ. 長野県 エ. 新潟県

問3 文章中の空欄(2)・(3)にあてはまる地名の組み合わせをア～エから1つ選び、その記号を答えなさい。

ア. 2-松江 3-石見 イ. 2-松江 3-米子
 ウ. 2-出雲 3-石見 エ. 2-出雲 3-米子


問4 文章中の空欄(4)・(5)にあてはまる語句の組み合わせをア～エから1つ選び、その記号を答えなさい。

ア. 4-カルスト 5-カツオ イ. 4-カルスト 5-フグ
 ウ. 4-カルデラ 5-カツオ エ. 4-カルデラ 5-フグ

問5 文章中の下線部Bについて、広島市は人口100万人以上が居住しており政令指定都市にもなっています。政令指定都市でないものをア～エから1つ選び、その記号を答えなさい。

ア. 岡山市 イ. 仙台市 ウ. 松山市 エ. 浜松市

問6 文章中の下線部Cについて、広島県廿日市市にある宮島には以下の写真のような風景が見られます。ここは1996年に世界文化遺産に認定された神社です。この神社の名称を解答欄に合わせて漢字で書きなさい。



(『一般社団法人宮島観光協会』HPより)

問7 文章中の下線部Dについて、本州四国連絡橋として現在3つのルートがあります。広島県尾道市と愛媛県今治市を結ぶルートの名称を解答欄に合わせてひらがなで書きなさい。

問8 文章中の下線部Eについて、広島県や岡山県・愛媛県・香川県などの中国・四国地方の都市を中心に発展した工業地域は、鉄鋼や石油化学・自動車・造船などの工業がさかんで生産額は年々伸びています。この工業地域の名称を解答欄に合わせて漢字で書きなさい。

問9 文章中の下線部Fについて、宮崎駿監督の映画作品「となりのトトロ」の舞台のモデルになった埼玉県の狭山丘陵にある「トトロの森」は、現在土地を購入するための寄付を集めています。このように市民や企業などから寄付を募って自然環境や歴史的建造物などを買い取って保護する運動の名称をア～エから1つ選び、その記号を答えなさい。

ア. グリーンツーリズム
ウ. 環境アセスメント

イ. グリーンコンシューマー
エ. ナショナルトラスト

3

以下の陸上交通の歴史に関する文章をよく読んで、各問いに答えなさい。

A 大宝律令の制定によって、国家の体制が整えられていくと、本格的な都の建設もおこなわれ、奈良時代には平城京がつくられました。この地は、唐の都である長安にならって、碁盤の目のように東西の道路と南北の道路で区画され、B 都から地方にのびる道路も整備されました。

平安時代をへて鎌倉時代には、幕府のおかれた鎌倉と地方とを結ぶ道路が整備され、「鎌倉街道」などの名前で各地に存在しました。現在の道路では、東京都のC 府中市から町田市を結ぶ道路もこのように呼ばれています。鎌倉時代に将軍と主従関係を結んだ家来である(1)たちが、「いざ鎌倉」という場合には、これらの道路も利用されたと考えられています。

鎌倉時代から室町時代にかけて、地方の特色を生かしてD さまざまな特産品などが生産されると、道路も整えられ、市場が定期的にかかれまし。また、室町幕府のおかれた京都の出入り口やその他の交通路に関所がおかれ、通行税をおさめるようになりました。

戦国時代には、戦国大名たちが領国の支配を安定させて、戦いにそなえるために道路の整備に力をいれました。大名どうしの関係がよい場合には問題ありませんが、争いがあった場合は、領国をこえた通行ができない問題も起こりました。関所をおき、通行税を支払うしくみは、流通の発展のさまたげになることがあったため、全国統一がすすむと、E 関所を廃止する政策がだされました。また、大名たちの争いがおさまると、全国的な交通網が整えられていきました。

江戸時代には、将軍のもとに街道整備がすすめられ、東海道・中山道・甲州街道・日光街道・奥州街道は五街道とよばれて、さまざまな街道の中心となりました。これら主要な街道には、一里塚がおかれ、旅行者を検査するための関所が設けられました。歌川広重は『東海道五十三次』を描き、将軍のいる江戸から天皇のいる(2)までの宿場を中心とした浮世絵作品を生みだしました。

明治時代になると、政府により欧米諸国にならった近代化が進み、道路の整備とともに鉄道も開通するようになりました。1872年に新橋・横浜間が開通し、その後、1889年には東海道線が全通して、当時、外国と貿易をおこなう開港地であった(3)までのびることになりました。道路政策は、馬車などの文化が未熟だったために整備がおくれがちでした。

やがて自動車の実用化が進み、戦後になると新道路法という法律が制定されました。このとき、現在の国道1号線は、東京から大阪までを結ぶ道路として指定されました。1960年代から高度経済成長がはじまり、1970年には、F 日本の発展を世界に示すイベントが大阪で開かれました。

現在では、全国にさまざまな新幹線をはじめとする鉄道や高速道路などの建設がすすみ、人々の生活をつなぐ重要な役割をになっています。

問1 文章中の空欄(1)～(3)にあてはまるもっとも適切な語句を漢字で書きなさい。なお、(1)は、解答欄に合わせて漢字3文字で書きなさい。

問2 文章中の下線部Aについて、この律令が制定されたもっとも適切な時期をア～エから1つ選び、その記号を答えなさい。

ア. 6世紀 イ. 7世紀 ウ. 8世紀 エ. 9世紀

問3 文章中の下線部Bについて、奈良時代における道路の役割に関して述べた文として不適切なものをア～エから1つ選び、その記号を答えなさい。

ア. 主に役人の公用として利用された。
イ. 歌人も利用し、『山家集』など旅の歌集もつくられた。
ウ. 地方からは、庸や調などの税を都へ納めるために利用された。
エ. 約16kmごとに駅家が設置され、おかれる馬の数も定められていた。

問4 文章中の下線部Cについて、鎌倉街道を南下して、現在の府中市にある多摩川の分倍河原で幕府軍に勝利し、その後、鎌倉に入って幕府を滅ぼした人物をア～エから1つ選び、その記号を答えなさい。

ア. 新田義貞 イ. 足利尊氏 ウ. 後醍醐天皇 エ. 楠木正成

問5 文章中の下線部Dについて、室町時代における各地の特産品の組み合わせとして不適切なものをア～エから1つ選び、その記号を答えなさい。

ア. 宇治—茶 イ. 紀伊—みかん ウ. 西陣—織物 エ. 有田—磁器

問6 文章中の下線部Eについて、この政策を実施した人物に織田信長がいます。彼が商工業者に自由な営業活動を認めた政策を何といいますか。解答欄に合わせて漢字2文字で書きなさい。

問7 文章中の下線部Fについて、もっとも適切なものをア～エから1つ選び、その記号を答えなさい。

ア. 万国博覧会 イ. 国際海洋博覧会 ウ. サミット エ. 国際科学技術博覧会

4

以下の政治参加についての文章をよく読んで、各問いに答えなさい。

日本国憲法の三大原則には「基本的人権の尊重」「平和主義」とともに、「(1)」があります。私たちは、基本的人権の中の参政権や「(1)」により、政治に参加する権利を持っているのです。

政治に参加する方法はいろいろあります。たとえばデモに参加することも、その1つです。2015年には国会で審議されていた法律案をめぐる、多くの市民が参加したデモがありました。人びとが集まって言葉を使って主張することは憲法に書かれている人権にふくまれますが、暴力を用いて主張を行うことは当然許されません。

政治参加と聞いてすぐに思い浮かぶのは、選挙かもしれません。衆議院や参議院の選挙が近づくと、テレビなど多くのメディアで選挙のニュースがとりあげられます。参議院では2016年に選挙が行われました。参議院の選挙では、有権者は2種類の投票をします。1つめは都道府県別に分かれた選挙区の候補者に投票するものです。2016年の選挙から、「鳥取・島根」と「徳島・高知」がそれぞれ1つの選挙区になりました。2つめは政党に投票する(2)です。参議院の(2)の選挙で投票するときは、政党名の他に(2)に立候補している人の名前を書くこともできます。

ほとんどの衆議院の総選挙では、国民審査も同時に行われます。この国民審査の結果で、ある仕事をしている国家公務員を解任することができますが、いままで解任された人はいません。

衆議院と参議院は国の政治にかかわることを議論します。私たちが暮らす地域のことも政治参加をすることができます。都道府県では議会の選挙の他に、(3)の選挙も行います。(3)と市長・町長・村長などをまとめて首長とよびます。地方の政治の中で都道府県の(3)は、国の政治の中での内閣総理大臣にあたる役割をにないます。(3)は有権者から選挙で直接選ばれますが、内閣総理大臣を直接選ぶことはできません。国と地方の政治のしくみで大きく異なる点の1つです。その他に異なる点として、地方の政治には有権者による、直接請求権が地方自治法で認められています。これは、地方の政治に対してある要望を出したい場合に、有権者から署名を集めて実現することができる権利です。

ここまで国や地方の政治にどのように参加できるかを考えてきました。選挙権をまだ持っていないみなさんにとっては、遠い話のように感じるかもしれません。しかし、みなさんは小学校の生活の中で実は「政治」を経験してきています。政治とは、集団の中で意見が異なる者どうしが納得して1つの決定をすることといえます。小学校のクラスでいろいろなことを決めるのも政治だったのです。4月からはじまる中学校の生活では、新しいクラスで新しい仲間と出会います。その中で、ぜひ政治参加や、民主主義を経験して行ってほしいと願っています。

問1 文章中の空欄（ 1 ）にあてはまる語句を漢字で書きなさい。

問2 文章中の下線部 A について、以下の各問いに答えなさい。

① 2015年に成立した法律の内容として正しいものをア～エから1つ選び、その記号を答えなさい。

- ア. 選挙の活動にインターネットを使用できるようにした。
- イ. 日本と同盟している国が攻撃された場合に、日本が攻撃されていなくても同盟国とともに反撃することが限定して認められるようにした。
- ウ. 選挙の投票日に、投票所が開いている時間が夜6時までだったのを夜8時までに延長した。
- エ. 防衛庁が防衛省となった。

② この国会のときに内閣総理大臣を務めていた人物の名前を漢字で書きなさい。

問3 文章中の空欄（ 2 ）にあてはまる語句を漢字4文字で書きなさい。

問4 文章中の下線部 B について、国民審査で審査される人びとを漢字8文字で書きなさい。

問5 文章中の空欄（ 3 ）にあてはまる語句を漢字で書きなさい。

問6 文章中の下線部 C について、不適切なものをア～エから1つ選び、その記号を答えなさい。

- ア. 暮らしている地域の問題について住民投票を行うよう求める。
- イ. 今ある条例を廃止するよう求める。
- ウ. 議会の解散を行うよう求める。
- エ. 首長の解任を求める。

問7 文章中の下線部 D について、クラスで何かを決めるときに民主主義の考えから不適切なものをア～エから1つ選び、その記号を答えなさい。

- ア. クラスで話し合いを行う前に、先輩に相談してアドバイスしてもらう。
- イ. クラスで話し合いを行う前に、同級生たちと相談して意見をできるだけまとめておく。
- ウ. クラスで話し合いをするときに、議論してケンカをしないためにすぐに多数決をとる。
- エ. クラスで話し合いをするときに、自分の意見が理解されるように資料のプリントをつくってクラス全員に配る。

社会解答用紙

1	問 1		問 2		問 3		問 4		
	問 5				問 6			問 7	問 8
	問 9				会議				
	問 10								
	問 11		問 12						

2	問 1		問 2		問 3		問 4		問 5	
	問 6				神社	問 7			海道	
	問 8				工業地域	問 9				

3	問 1	(1)			(2)		(3)	
	問 2			問 3			問 4	問 5
	問 6		楽座	問 7				

4	問 1				問 2	①			②			
	問 3				問 4							
	問 5				問 6			問 7				

受験番号		氏名		得点	
------	--	----	--	----	--