

1 私たちの身のまわりには、様々な記号があります。これらの記号は、情報を伝えることや、多くの人の記憶にとどめてもらうために使われます。A～Jの記号をよく見て、各問いに答えなさい。


A



B



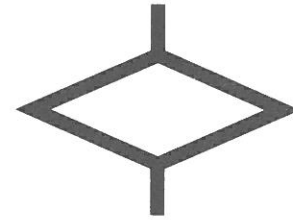
C



D




E




F



G



H



I




J



問1 Aの記号は、代表的な古代文明の1つで使用された文字です。各問いに答えなさい。

① 以下の図には、Aと同種類の様々な文字が記されています。この文字が使用された文明の名称として正しいものをア～エから1つ選び、その記号を答えなさい。

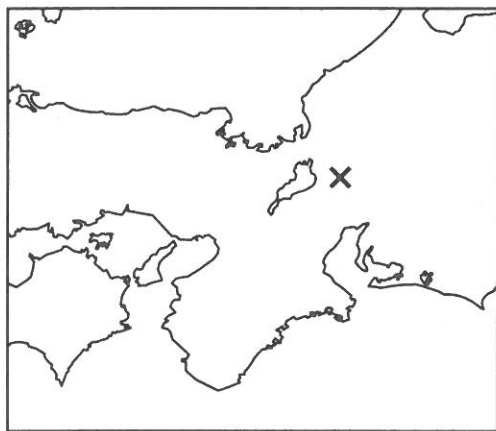


ア. インダス文明 イ. アンデス文明 ウ. メソポタミア文明 エ. 中国文明

② この文明を育んだ川の名称をア～エから1つ選び、その記号を答えなさい。

ア. ドナウ川 イ. 黄河 ウ. チグリス川 エ. アマゾン川

問2 BとCの記号は、家紋と呼ばれる日本の“家〔一族〕”を象徴する記号です。この2つの家の対立は、地図中×の場所でその後の歴史を大きく変える戦いになりました。各問いに答えなさい。



① この戦いの名称を書きなさい。

② BとCの家紋を持つ一族として、正しい組み合わせとなるものをア～エから1つ選び、その記号を答えなさい。

ア. B…豊臣家／C…徳川家

イ. B…徳川家／C…武田家

ウ. B…武田家／C…徳川家

エ. B…豊臣家／C…武田家

問3 Dの記号は、ある宗教を信仰する人々が、安全に食事をするために作られた記号です。この宗教の名称として正しいものをア～エから1つ選び、その記号を答えなさい。

ア. キリスト教

イ. 仏教

ウ. イスラム教

エ. ヒンズー教

問4 Eの記号は、地図記号です。各問いに答えなさい。

① この記号が意味する施設の名称を、漢字3文字で書きなさい。

② この記号は、日本で昔から使われていた道具の形をもとに作られました。その道具の名称を書きなさい。

問5 Fの記号は、道路標識の1つです。道路交通法が改正され、2015年の6月1日より自転車の運転に対して交通ルールが厳しく適用されるようになりました。この道路標識のある場所で守らなければならないルールとして正しいものをア～エから1つ選び、その記号を答えなさい。

ア. この標識のある道路では、すぐに停止できる速度で走行しなければならない。

イ. この標識のある道路では、追越しをしてはいけない。

ウ. この標識のある道路では、一時停止して左右の安全確認をしなければならない。

エ. この標識のある道路に進入することはできない。

問6 Gの記号は、2016年に開催される夏季オリンピックのシンボルマークです。各問いに答えなさい。

- ① 開催地の名称をカタカナで書きなさい。
- ② この都市がある国の説明として正しいものをア～エから1つ選び、その記号を答えなさい。

- ア. 南北に細長い国土を持つこの国は、TPPにも参加している。
- イ. 北米大陸に位置するこの国は、世界で2番目の面積を持つ国である。
- ウ. 国別に見ると日系移民の数が一番多い国である。
- エ. 2015年の夏に、アメリカとの国交を約50年ぶりに回復させた国である。

問7 Hの記号は、2015年度に起きた出来事に関連するシンボルマークです。説明として正しいものをア～エから1つ選び、その記号を答えなさい。

- ア. 行政の効率化などを目的とした、マイナンバー制度の導入が決定した。
- イ. 明治日本の産業革命遺産が、世界遺産に登録された。
- ウ. 一票の格差を是正するために、参議院議員選挙での合区が決定した。
- エ. 安全保障関連法案が成立し、集団的自衛権の行使が可能となった。

問8 記号は、2つの要素を組み合わせることで意味を持たせることがあります。Iの記号は、建物と杖を組み合わせた地図記号で老人ホームを表したものです。

私たちが日常的に使用する漢字の中にはその由来を読み取ることのできる文字があります。Jの漢字の由来を考え、わかりやすく説明しなさい。

2 以下の文章は帝京大学中学校1年生の太郎さんが家族で夏休みに北海道旅行へ行ったときのことをまとめたものです。よく読んで、各問いに答えなさい。

8月のある日、北海道へ飛行機で向かうために羽田空港へ移動しました。夏休みということもあり、羽田空港の中は多くの観光客で混雑していました。初日は宗谷岬を目指すため、羽田空港から(1) 空港へ飛行機で移動しました。空港へ到着して外へ出ると、東京に比べて非常に涼しく感じました。そしてバスを利用して宗谷岬へ向かいました。宗谷岬には「日本最北端の地」と記された記念碑があり、初日は天気が良かったので、記念碑の背後にはサハリンの島影をうっすらと見ることができました。

2日目には、(1) を出発して、バスを乗り継いで冬には流水も見られる(2) に沿って、北海道で一番大きい湖である(3) や日本最北端の刑務所である網走刑務所の歴史などをまとめた博物館を見学しました。最終的には、2005年に貴重な生態系が残されていることが評価され、世界自然遺産に登録された知床半島まで移動しました。

3日目、知床半島からバスに乗って、根釧台地の広大な牧草地とたくさんの家畜たちを眺めながら中標津空港へ到着しました。ここから飛行機に乗って北海道の空の玄関口といわれる新千歳空港へ移動しました。さらに、新千歳空港から札幌市内へ移動していると、中心部では道路が渋滞していました。そして北海道庁の旧庁舎や時計台、冬には雪祭りが行われる大通公園などを訪れました。

4日目、札幌駅から電車に乗って移動し、途中で苫小牧・室蘭などの工業都市や登別・洞爺などの観光地に立ち寄りました。電車は途中から内浦湾に沿って最終的に函館駅へ到着しました。函館に到着後、ロープウェイに乗って函館山に登りました。すでに夜ということもあり、展望台から眺める函館市内の夜景はとても綺麗でした。

5日目、早朝から函館朝市を訪れ、御土産を買い、名物の海鮮丼も食べました。そして、函館港から(4) を経由して青森港へ向かいました。さらに新青森駅から東北新幹線で東京へと帰りました。

この旅行で、北海道には「興部」・「長万部」など珍しい地名が多いことや、夏の北海道は東京に比べて気温が低く、過ごしやすいことを知りました。広大で豊かな自然が広がり、おいしい食べ物がたくさんある北海道をまた訪れたいと思います。

問1 文章中の空欄(1)・(2)にあてはまる地名の組み合わせとして正しいものをア～エから1つ選び、その記号を答えなさい。

- ア. 1－釧路 2－日本海 イ. 1－釧路 2－オホーツク海
ウ. 1－稚内 2－日本海 エ. 1－稚内 2－オホーツク海

問2 文章中の空欄(3)にあてはまる地名をア～エから1つ選び、その記号を答えなさい。

- ア. 支笏湖 イ. 洞爺湖 ウ. 阿寒湖 エ. サロマ湖

問3 文章中の空欄(4)にあてはまる地名を解答欄に合わせて漢字2文字で書きなさい。

問4 文章中の下線部Aに関連して、日本の最南端は沖ノ鳥島です。この島が属している都道府県名をア～エから1つ選び、その記号を答えなさい。

- ア. 東京都 イ. 和歌山県 ウ. 高知県 エ. 沖縄県

問5 文章中の下線部Bについて、以下の表はある家畜の飼育頭数を表したものです。この家畜の名称をア～エから1つ選び、その記号を答えなさい。

順位	都道府県	2014年(頭数)	2014年(割合)
1位	北海道	79.5万頭	57.0%
2位	栃木	5.3万頭	3.8%
3位	岩手	4.5万頭	3.2%
4位	熊本	4.4万頭	3.2%
5位	群馬	3.9万頭	2.8%

(矢野恒太記念会編『日本国勢図会2015/16』より作成)

- ア. 肉用牛 イ. 乳用牛 ウ. 豚 エ. 羊

問6 文章中の下線部Cについて、雪の多い地域では道路に雪が積もらないように様々な対策をしています。その中で、道路を温めて雪をとかす方法の名称をア～エから1つ選び、その記号を答えなさい。

- ア. ヒートアイランド イ. シリコンアイランド
ウ. ロードヒーティング エ. パイロットファーム

問7 文章中の下線部Dについて、この湾や青森県の陸奥湾、三陸海岸などではある海産物の養殖がさかんです。この海産物の名称をア～エから1つ選び、その記号を答えなさい。

- ア. 真珠 イ. カキ ウ. ホタテ貝 エ. シジミ

問8 文章中の下線部Eについて、2016年3月に北海道新幹線が新青森～新函館北斗間で開業します。この新幹線は本州と北海道の間で海底トンネルを通過します。このトンネルの名称を解答欄に合わせて漢字2文字で書きなさい。

問9 文章中の下線部Fについて、北海道には、昔からこの地で生活している民族の言葉に由来した地名が多くあります。この民族の名称を解答欄に合わせてカタカナ3文字で書きなさい。

3 以下の文章をよく読んで、各問いに答えなさい。

みなさんは、戸籍というものをご存じでしょうか。戸籍とは、国民を戸という家族単位ごとに登録することで、家族内における各人の関係を明らかにする書類のことです。元々は、中国で生まれた制度なのですが、戸籍を今も使っている国は、日本以外にほとんどありません。

720年に作成された歴史書である『(B)』には、すでに540年ころに国内で戸籍が作られたことが記されていますが、この戸籍は全ての人々を対象としたものではなく、朝鮮半島からの渡来人を管理するためのものだったようです。そのため、その後の670年に作成された庚午年籍が、日本初の全国的な戸籍であったと考えられています。続く690年に作成された庚寅年籍からは、戸籍は家族の名前や年齢を細かく記したものになりましたが、当時の戸籍は現在と違い、朝廷が人々から税を取ることを目的に作成したものでした。

やがて朝廷の力がおとろえたことで古い戸籍制度は崩壊し、人々を個別に管理する制度のない状態が長く続くことになりました。江戸時代になると、今度は江戸幕府や各地の寺社が作成した人別帳や宗門帳によって、人々は管理されるようになり、やがて幕末の長州藩で1852年に作られた戸籍帳が、その後の戸籍の原型となりました。

江戸幕府の滅亡後は、新たに支配者となった明治政府が、現在まで続く戸籍制度を創設しました。古代最大の皇位継承争いであった(G)の乱から、ちょうど1200年後の1872年に作られた明治政府初の戸籍は、(G)戸籍と呼ばれましたが、江戸時代の身分差別を引き継ぐ内容であったために、後の時代に問題を残すこととなりました。その後も戸籍制度は、1886年と1914年に改正が行われましたが、父親に戸主と呼ばれる家族内での支配的な地位を認め、戸主を中心に他の家族の身分関係を定めるという点に、変化はありませんでした。

第二次世界大戦後の1948年の改正では、それまでの家を基本単位とする制度から、夫婦を基本単位とする制度に、戸籍は変更されました。しかしながら、各人が個人ではなく戸を構成する形でしか戸籍に登録されず、それぞれの家に戦前の戸主に代わる筆頭者が定められることで、それ以外の家族が筆頭者を中心とした戸に出入りをする形式で記録されるなど、実際には家制度の名残が、戸籍には今も色濃く残り続けているのです。

諸外国では現在、これまで戸籍を使っていた国々も、家族を単位とした「戸籍」のような制度から、個人を対象とした「個籍」と呼ばれる登録制度へ移行しています。最高裁判所でも争われることとなった「夫婦(I)姓」を巡る議論も、その根底には古い家制度に基づいた、日本の戸籍制度の持つ問題が横たわっているのです。

問1 文章中の下線部Aについて、中国で初めて生まれたものではない文化を、ア～オの中から2つ選び、その記号を答えなさい。なお、2つとも正答の場合のみ、正解とします。

ア. 律令 イ. 儒教 ウ. 仏教 エ. 漢字 オ. 鉄器

問2 文章中の空欄(B)にあてはまる書物の名称を、漢字で書きなさい。

問3 文章中の下線部Cについて、古墳時代に朝鮮からの渡来人が作製技術を日本に伝えたとされる、窯で焼いた硬質で灰色をした土器の名称を、漢字3文字で書きなさい。

問4 文章中の下線部Dについて、朝廷が一定の年齢以上の男女に口分田という農地を支給して、引き換えに各種の税を納めさせる規定を何と言いますか。漢字5文字で書きなさい。

問5 文章中の下線部Eについて、安土桃山時代になると天下統一を実現した人物が、各農地の石高や耕作者の名前を記録した書類を作成させました。農地を耕す農民の管理と農地の収穫量の確認を同時に行うことができるこの書類の名称を、漢字3文字で書きなさい。

問6 文章中の下線部Fについて、幕末から明治維新にかけて活躍したア～エの人物の中から、長州藩の出身者を一人選び、その記号を答えなさい。

ア. 大久保利通 イ. 坂本竜馬 ウ. 勝海舟 エ. 伊藤博文

問7 文章中の空欄(G)にあてはまる語句を、漢字2文字で書きなさい。

問8 文章中の下線部Hについて、この年に国会で効力を失うことが決議された、忠君愛国を説く戦前・戦中の教育の指導理念であった勅語の名称を、漢字4文字で書きなさい。

問9 文章中の空欄(I)にあてはまる語句を、漢字1文字で書きなさい。

4 以下の文章は、生徒のTさんが2015年8月に行った社会科見学について書いた感想文です。よく読んで、各問いに答えなさい。

小学校や中学校で、日本の政治のしくみについて学習してきました。インターネットで調べてみると、国会では衆議院と参議院で、それぞれ見学できることがわかりました。せっかくの夏休みだったので、衆議院の見学に行ってみることにしました。

地下鉄の国会議事堂前駅で降り、衆議院の参観受付入口に行きます。国会見学の受付は午前9時から午後4時まで、1時間ごとに行われます。開始10分前に入口で用紙に氏名、住所や電話番号を書き、集合場所に向かいました。そこには私の他に10人くらいの見学者がいました。

いよいよ見学の開始です。警備を担当する衛視の方が案内をしてくれます。ちなみに衛視は警察官ではなく、衆議院の職員なのだそうです。まず、集合場所の地下1階から階段で3階まで歩いて上ります。現在の国会議事堂の建物は1936年につくられたものなので、エスカレーターはありません。3階には、(1)を行う部屋があります。法律案などの話し合いは、いきなり衆議院議員全員で議論するのではなく、まず数十人の衆議院議員が集まる(1)で行われます。(1)は17あり、その他に「特別(1)」がつくられることもあります。3階から中庭を見るとき綺麗な池があり、鯉が泳いでいました。鳥がたまに食べてしまうこともあるそうです。この階には、^A天皇が国会に来たときに使用する御休所もあり、ろうかからその部屋を見ることができました。

続いて、衆議院と参議院の間にある中央広間に進みました。1階には日本の議会政治をつくるのに貢献した^B3人の銅像があります。天井にはステンドグラスがはめこまれています。現在の国会議事堂を建設する際、材料はすべて日本製のものを使おうとしたのですが、ステンドグラスは外国から輸入することになったのだそうです。

さらに行くと、すべての衆議院議員が集まる本会議の議場につきました。2014年に行われた^C選挙から、議員の総人数は475人になりました。日本国憲法の前文では、「日本国民は、正当に選挙された国会における代表者を通じて行動し……」と書かれており、憲法第15条の中で、議員の選挙では普通選挙を行うと定められています。選挙は、日本国憲法の3つの原則の1つである「^D基本的人権の尊重」を守るために大切なものだと社会科の授業で学んだことを思い出しました。本会議が行われているとき、私たちはそれを実際に行って見ることができます。これを傍聴といいますが、早く並んだ人から見ることができます。私はこの日、傍聴席から議場を見ました。議員の机は桜の木でできているのだそうです。

建物の外に出ると、大きな時計台が見えます。時計台には3つの時計がかけられてい

ます。これは^E三権分立を表しています。緑が生い茂ったところには、それぞれの都道府県を代表する木が植えられています。国会議事堂がある東京都は「いちよう」でした。これを見て、今度は東京都庁にも行ってみたいとなりました。地方の政治も学習していたので、興味がわいてきました。

翌日、東京都庁をおとすれました。現在の庁舎は1991年4月に建設されたものです。まず、都議会議事堂に行ってみました。2階にPRコーナーがあり、都議会のしくみなどが展示されています。都議会選挙は、東京都を42の選挙区に分けて127人の議員を選びます。^F都で行われる政治のしくみと国のしくみは似ているところが多くあります。都議会にも9つの(1)があり、そこで話し合いがされた後に、本会議ですべての都議会議員が集まって最後に多数決を行います。6階にある「第15(1)室」も見学することができました。ここでは予算について話し合いを行うそうです。残念ながら7階にある本会議室は、工事中で見ることができませんでした。

次に、第一本庁舎に行きました。この建物の45階には展望室があり、だれでもエレベーターで上ることができます。展望室は観光客でにぎわっていました。外国からの観光客も多く、ボランティアの方が案内していました。展望室からは、建物がぎっしりと立ち並ぶ風景が見えました。その中で、近くに緑の豊かな場所があります。^G明治神宮です。初もうでにおとすれる人の数は、毎年日本国内でもっとも多いといわれています。

「百聞は一見にしかず」ということわざがありますが、授業で学んだところに実際に行ってみて、とても楽しかったです。また機会があれば、いろいろなところへ見学に行きたいと思います。

- 問1 文章中の空欄（ 1 ）にあてはまる語句を漢字で書きなさい。
- 問2 文章中の下線部Aについて、日本国憲法では天皇による行為は内閣による助言と承認にもとづいて行われると定められています。このような行為を何と言いますか。解答欄に合わせて漢字で書きなさい。
- 問3 文章中の下線部Bについて、この3人には、自由民権運動の指導者がふくまれています。1881年に自由党を結成したことで知られる、この人物の名を漢字で書きなさい。
- 問4 文章中の下線部Cについて、「選挙で投票できる年齢」と「衆議院議員に立候補できる年齢」と「都道府県知事に立候補できる年齢」をたして、もっとも小さい数字を書きなさい。
- 問5 文章中の下線部Dについて、日本国憲法に定められている基本的人権の中で、生存権や教育を受ける権利などをまとめて何と言いますか。解答欄に合わせて漢字で書きなさい。
- 問6 文章中の下線部Eについて、その説明として正しいものをア～エから1つ選び、その記号を答えなさい。
- ア. 国会は、裁判官の任命や弾劾を行うことができる。
 - イ. 内閣は、衆議院と参議院の解散を行うことができる。
 - ウ. 裁判所は、内閣が法律にもとづいてつくった決まりを審査できる。
 - エ. 国民は、国会議員を辞めさせるために署名を集めて内閣総理大臣に提出できる。
- 問7 文章中の下線部Fについて、その説明として正しいものをア～エから1つ選び、その記号を答えなさい。
- ア. 国会には衆議院と参議院の2つがあるが、都議会も上院と下院の2つがある。
 - イ. 内閣総理大臣は、衆議院と参議院両方で可決した法律案を拒否することはできないが、都知事は都議会で可決した条例を拒否することができる。
 - ウ. 国は最高裁判所をつくっているが、都も地方裁判所をつくっている。
 - エ. 都民は、都知事を選挙で選ぶことはできないが、内閣総理大臣を選挙で選ぶことができる。
- 問8 文章中の下線部Gについて、明治時代に大日本帝国憲法がつくられましたが、現在、この憲法が発布された日は祝日になっています。この祝日は何月何日なのか、解答欄に合わせて数字で書きなさい。

社会解答用紙

1	問 1	①		②		問 2	①		②	
	問 3		問 4	①			②		問 5	
	問 6	①			②			問 7		
	問 8									

2	問 1		問 2		問 3		海峡	問 4	
	問 5		問 6		問 7		問 8		トンネル
	問 9			民族					

3	問 1		問 2		問 3		
	問 4				問 5		問 6
	問 7		問 8			問 9	

4	問 1		問 2		行為	
	問 3			問 4	問 5	権
	問 6		問 7		問 8	月

受験番号		氏名		得点	
------	--	----	--	----	--