

# 社 会 問 題

- 注 意
1. 解答用紙に受験番号、氏名を忘れずに記入すること。
  2. 解答はすべて定められた欄に記入すること。
  3. 鉛筆は濃いものを使い、はっきりと書くこと。
  4. 試験終了後、解答用紙のみ提出すること。
  5. 試験問題は 1 から 4 まで。
- 試験時間 30 分、50 点満点。

以下の暦<sup>こよみ</sup>についての文章をよく読んで、各問いに答えなさい。

A 私たちは常に“時間”と密接に関係した生活を送っています。なかでも暦は、私たちが予定を立てる時や、季節の動きを読み取る時にも役に立つ身近で便利な道具です。

さて、この暦は時代や地域によって様々な種類がありました。原始的な暦の例として、B イロコイ族やアイヌ族が使っていた暦があります。彼らは季節の移り変わりによって起きる様々な自然現象を暦の呼び名に使っていました。両者の暦の呼び名には共通の要素がたくさんありました。九州か畿内かの所在地をめぐっていまだに論争となっている( 1 )国の記述が含まれる魏志倭人伝には「…春に耕し、秋に収穫<sup>しゆかく</sup>することで年紀<sup>ねんき</sup>となす。」と記されています。おそらく3世紀ごろの日本人も自然現象を暦として使って生活していたと考えられます。

日本で本格的な暦を学ぶ動きが起き始めたのは、中国を統一していた( 2 )で考案された暦が伝わってくるようになってからのことです。特に9世紀半ばに( 2 )から日本に伝えられた宣明<sup>せんめい</sup>暦は、C 渋川春海が暦を改定するまで約820年間も使われました。しかし、D この暦は月の動きを主たる基準としたもので、地球が太陽をまわる周期とずれが生じるため、細かく修正して使ってきました。これが、私たちが旧暦と呼ぶ暦です。

複雑な修正が必要になる従来の旧暦に替えて日本が太陽暦を取り入れたのは1873年のことです。明治政府のもとで近代化を図る日本は、西洋諸国にならい西暦を使うようになりました。

さて、現在の標準<sup>ひょうじゆん</sup>暦とも言える西暦は、古代( 3 )で作られたユリウス暦と呼ばれる暦を、後にイタリアの( 3 )に拠点を置くE カトリック教会の責任者である教皇が、16世紀に指示を出して修正を加えたものです。この暦は、キリスト教の布教と共に世界にも伝えられました。しかし、同じヨーロッパでもロシアのようにかつてのユリウス暦を使い続ける国もありました。長期にわたって地域の人々の基準となってきた暦は、簡単に捨て去られるものではなかったのです。

このように宗教や民族と大きなかかわりを持ってきたそれぞれの地域の暦は、今でも人々の実生活に大きな影響を及ぼしています。F イスラーム世界では、イスラーム教の創始者( 4 )の教えにより月を基準とした暦が人々の信仰と結びついています。そのため大切な宗教行事でもある巡礼<sup>じゆんれい</sup>の期間は、徐々に季節がずれてしまっています。暦は正確さのみを基準に人々に受け入れられているわけではないのです。

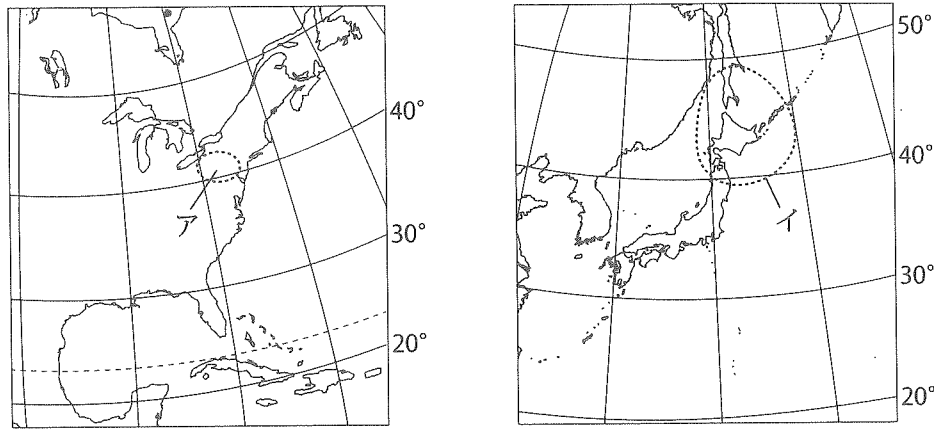
日本でも、旧暦に由来<sup>ゆらい</sup>する多くの習慣が残っています。例えば、G 季節の移り変わりの目安となる二十四節気に基づいて、小暑から大暑の期間に親しい人に( 5 )見舞いの手紙を書いたり、H 冬至の日に特定の食材をたべることが健康に結びつくとも、私たちの生活の中に旧暦の価値観が残っていることを意味しています。このように暦は様々な形で、今でも私たちの生活を支えているのです。

問1 文章中の空欄( 1 )～( 5 )にもっとも適する語句を書きなさい。なお、( 1 )・( 2 )・( 5 )は漢字で書きなさい。

問2 文章中の下線部Aについて、不適切な内容を含むものをア～エから1つ選び、その記号を答えなさい。

- ア. 世界の標準時子午線は、ロンドン郊外にある旧グリニッジ天文台を通る。
- イ. 経度15度分の角度が1時間の時差に相当する。
- ウ. 日本標準時子午線は、兵庫県の明石市を通る東経135度である。
- エ. 世界標準時子午線から西経方向に経度が増えるほど時間は進む。

問3 文章中の下線部Bについて、以下の地図中点線部“ア”はイロコイ族が、点線部“イ”はアイヌ族が伝統的に暮らしてきたおおよその地域です。この2つの民族の「暦の呼び名」に共通点が多い理由について、地図をふまえてわかりやすく説明しなさい。



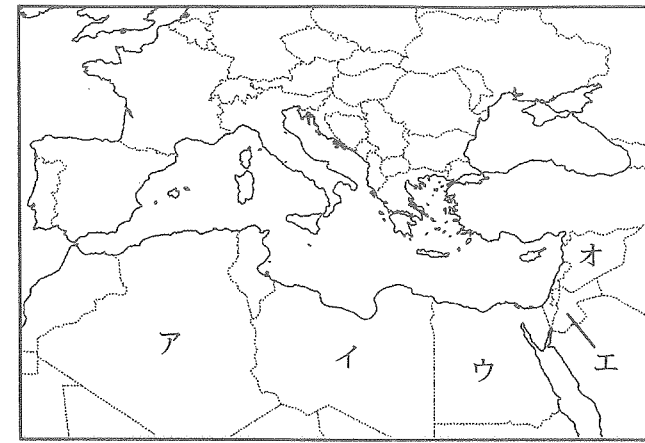
問4 文章中の下線部Cについて、この時代の説明として正しいものをア～エから1つ選び、その記号を答えなさい。

- ア. 徳川綱吉は湯島に孔子を祭る聖堂を建築した。
- イ. 水野忠邦は天保の改革の一環として株仲間の解散を命じた。
- ウ. 後醍醐天皇は京都に戻り、自らが政治を行った。この政治を建武の新政という。
- エ. 織田信長は本能寺の変で明智光秀の裏切りによって自害した。

問5 文章中の下線部Dについて、このような暦の名称を書きなさい。  
めいしう

問6 文章中の下線部Eについて、日本でカトリック教会の教えを広めたフランシスコ・ザビエルが属していた修道会の名称を書きなさい。

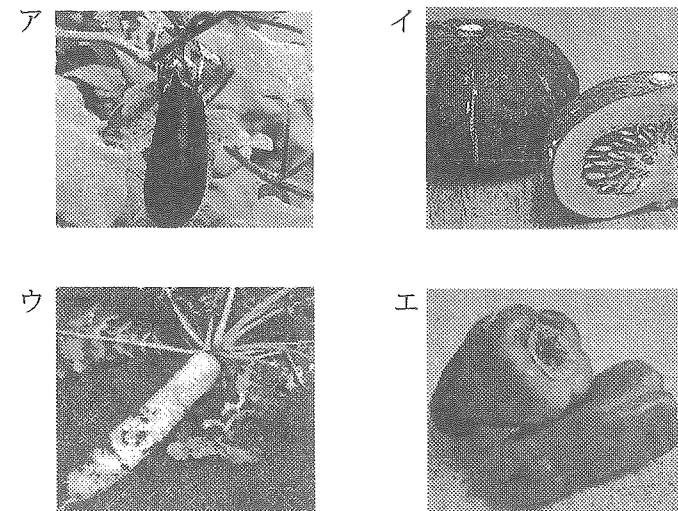
問7 文章中の下線部Fについて、以下の地図中ア～オは、イスラーム教を信仰する人々が多い地域です。2012年に内戦状態が続き、日本人ジャーナリストの死者が出た国をア～オから1つ選び、その国名も書きなさい。



問8 文章中の下線部Gについて、季節に関係のある出来事について正しいものをア～エから1つ選び、その記号を答えなさい。

- ア. 「アラブの春」の結果、ムバラク政権が倒れたアルジェリアでは、2012年6月に自由な選挙によって新しい政権が誕生した。
- イ. ペルー沖から太平洋中部にかけての海水温が低下するエルニーニョと呼ばれる現象が起きると日本の夏は猛暑になりやすい。
- ウ. 東京大学は国立大学で初めて秋入学について、本格的に検討を始めた。
- エ. 2014年に開かれる冬季オリンピックはフィンランドのソチが開催地である。

問9 文章中の下線部Hについて、この特定の食材をア～エから1つ選び、その記号を答えなさい。



2

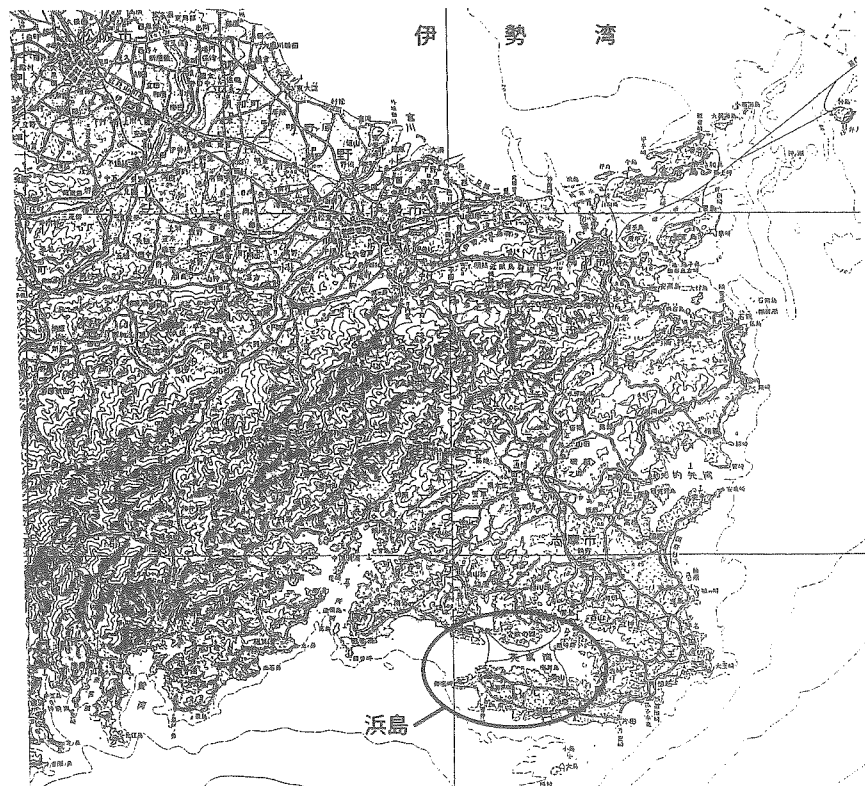
以下はトキオ君が社会科の授業で発表するために調べたメモです。□1～□4には日本の都道府県名が入ります。よく読んで各問いに答えなさい。

- □1は、牛のブランドで有名。1960年代には、この都道府県の中で発生した「四日市ぜんそく」が四大公害病の一つとして問題になった。
- 発表で使う地図Aは、□1の中の地域である。
- □1は、海岸線がない□2と接している。□1と□2は本州最南端の潮岬がある□3とも接している。
- □1と□2と□3にまたがる地域が世界遺産に登録されている。
- □4は伊勢湾に面しており、その都道府県庁所在都市にはよく知られた貿易港がある。□1と接している。

問1 メモの中の空欄□1にあてはまる都道府県名を漢字で書きなさい。

問2 下線部Aについて、次の「地図Ⅰ」・「地図Ⅱ」はトキオくんが発表で使うものです。「地図Ⅰ」は縮尺20万分の1であり、「地図Ⅱ」は「地図Ⅰ」の「浜島」地域を縮尺2万5千分の1で表したものです。次の各問いに答えなさい。

「地図Ⅰ」

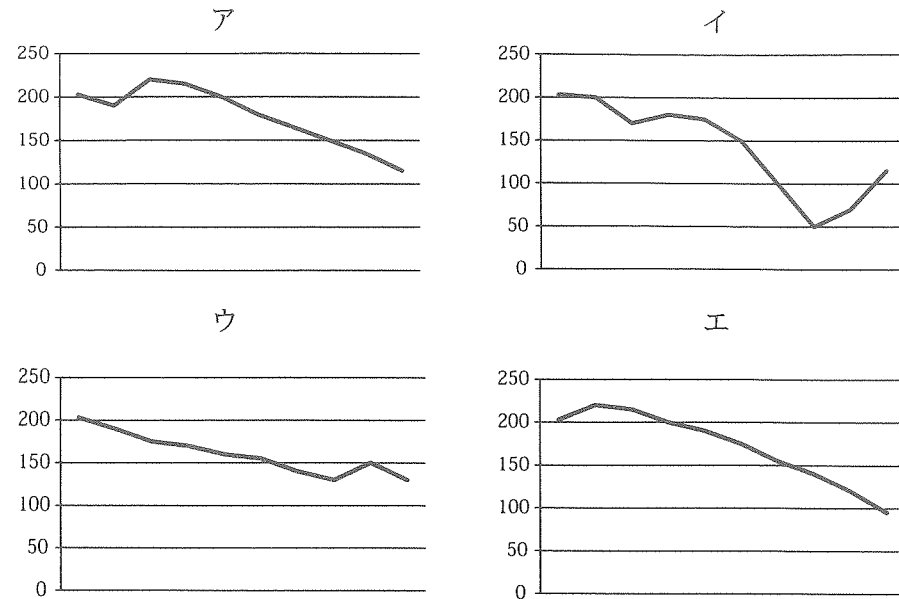


「地図Ⅱ」



- ① 「地図Ⅱ」のような海岸地形あしりょうの名称を書きなさい。
- ② 「地図Ⅱ」の□Pには、この地域でさかんに養殖されているものがあてはまります。もっとも適する語句を書きなさい。

③ 「地図Ⅱ」のXYで示した地形の断面としてもっとも適切なものをア～エから1つ選び、その記号を答えなさい。



問3 メモの中の空欄  と接している中で、もっとも面積が小さい都道府県名を漢字で書きなさい。

問4 下線部Bについて、あてはまるものをア～エから1つ選び、その記号を答えなさい。

ア. 熊野三山    イ. 厳島神社    ウ. 清水寺    エ. 石見銀山

問5 メモの中の下線部Cについて、次の各問いに答えなさい。

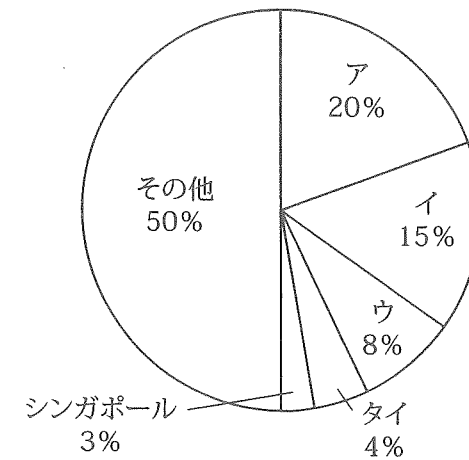
① 次の表のア～エは、「東京港」・「横浜港」・「大阪港」と下線部Cからの輸出品目の内容を表しています。このうち、下線部Cにあてはまるものをア～エから1つ選び、その記号を答えなさい。

ア		イ		ウ		エ	
輸出品目	割合 (%)	輸出品目	割合 (%)	輸出品目	割合 (%)	輸出品目	割合 (%)
自動車	27.3	集積回路	14.2	コンピュータ部品	8.7	自動車	20.7
自動車部品	14.9	プラスチック	8.1	自動車部品	6.5	自動車部品	6.9
内燃機関	5.4	電気回路用品	3.6	プラスチック	6.2	内燃機関	4.6
金属加工機械	3.4	板ガラス	3	内燃機関	4.3	プラスチック	4.2
鉄鋼	3.1	鉄鋼	2.8	ポンプなど	3.7	金属加工機械	3.9
輸出額 (億円)	89,398	輸出額 (億円)	32,563	輸出額 (億円)	46,068	輸出額 (億円)	71,026

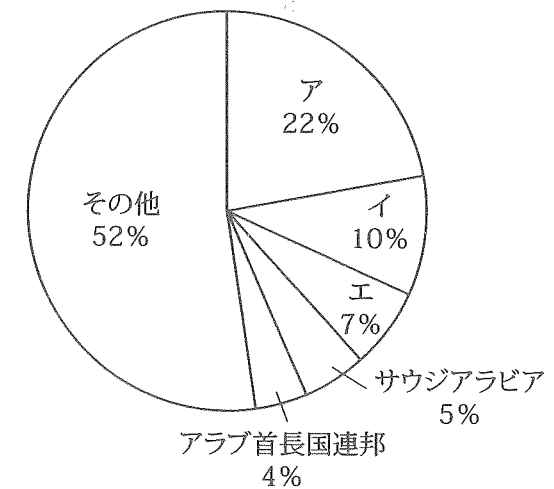
(『日本国勢図会2011 / 12』より作成)

② 次のⅠ・Ⅱのグラフの中のイには共通する国名があてはまります。その国名を書きなさい。

Ⅰ 貿易額からみた日本のおもな輸出相手国の割合 (2010年)

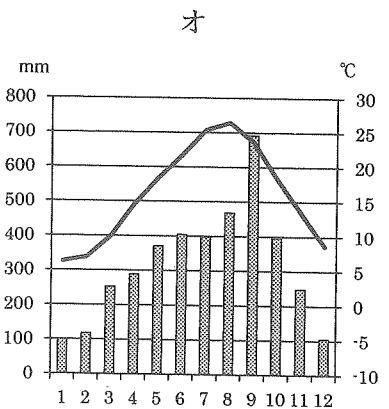
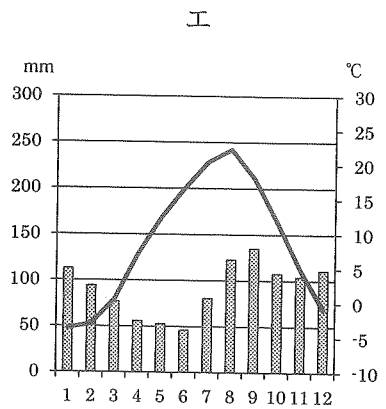
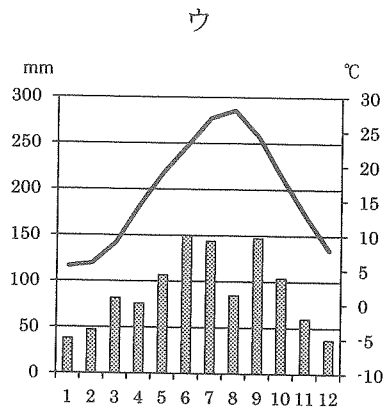
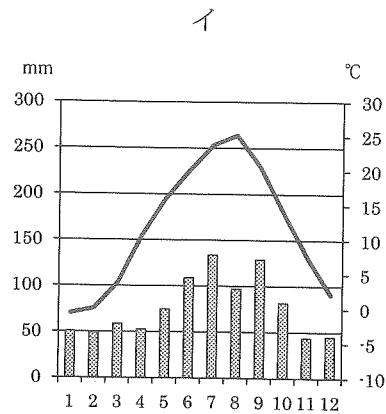
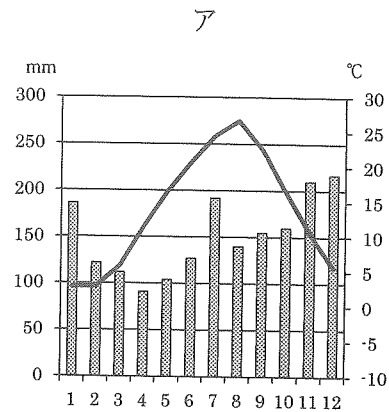


Ⅱ 貿易額からみた日本のおもな輸入相手国の割合 (2010年)



(グラフⅠとグラフⅡともに『財務省 貿易統計』より作成)

問6 次のア～オのグラフは、「長野県」・「香川県」・「北海道」・「新潟県」の道庁所在地都市と 1 の「尾鷲」の各月の平均気温と降水量を表したものです。このうち、香川県にあてはまるものをア～オから1つ選び、その記号を答えなさい。



(『理科年表 平成24年』より作成)

3

以下の文章をよく読んで、各問いに答えなさい。

みなさんの中にも、マンガを読んだり、A アニメや実写のヒーロー番組などを見たりすることが好きな人が、数多くいるだろうと思います。しかしながら、このような日本の現代文化が、日本人の伝統的な文化や美意識と深いつながりを持っていることを、みなさんは知っているでしょうか。

例をあげるならば、現在のアニメには話のあらすじとは関係なく、メイド姿をした女の子やネコの耳を生やした人物がしばしば登場したりしますが、物語のテーマと関係なく、登場人物の表面的な特徴や型にはまった描写にこだわるのは、すでに平安時代の日本文学にも見られた共通の要素なのです。B 平安時代の長編文学作品には、初期には明確なテーマがなく、細かな部分の描写の積み重ねだけで構成されていたのですが、そこに物語全体を通したテーマを持ち込んだとされるのが、藤原氏全盛時代の貴族の生活を描いた『( C )』でした。その後の平安時代後期に成立した『堤中納言物語』には、「虫愛ずる姫」という話が収められているのですが、その主人公である姫は、平安時代の文学に登場した独自の個性を持った人物像のもっとも初期の例と考えられると同時に、昭和時代の終わりに日本でヒットしたアニメ映画の主人公のモデルともなりました。

問1 文章中の下線部Aについて、日本で制作されたアニメが初めて公開されたのは、大正時代のこととされています。この時代に起こったア～オの出来事を、発生年が古いものから順にその記号を並べて答えなさい。

- ア. 関東大震災が発生した。
- イ. 普通選挙法が制定された。
- ウ. 米騒動が発生した。
- エ. 第二次大隈重信内閣が、中国に21カ条の要求を突きつけた。
- オ. 国際連盟が設立された。

問2 文章中の下線部Bについて、「物語の祖」とも呼ばれる日本最古の物語文学とされる作品の名称を漢字で書きなさい。

問3 文章中の空欄 ( C ) にあてはまる作品をア～エから1つ選び、その記号を答えなさい。

- ア. 今昔物語集
- イ. 雨月物語
- ウ. 平家物語
- エ. 源氏物語

その一方で、日本の伝統的な文化の中には、想像力をふくらませることに楽しみを見出す流れもあります。三大和歌集の一つで鎌倉時代に成立した『( D )』では、題詠という歌の作り方が多く見られているのですが、これは作者が自分の気持ちに基づかずに、与えられた題材に従って、想像力を駆使して和歌を作るものでした。また、現代では、マンガやアニメの愛好者の一部が自分の愛する物語や登場人物の設定を使って、自由に創作を行うものですが、朝廷文化の衰退期に作られた『( D )』にも、それまでに作られた優れた和歌を下敷きにして新たな歌を作る、本歌取りという手法の作品が数多く収録されています。

想像力をふくらませることで楽しもうとする日本人の心は、やがて室町時代になると、幽玄という美意識を生み出しました。簡素なものの中に想像力によって華やかな美を見出そうとする幽玄は、現在のミュージカルにあたる当時の能楽という芸能に加えて、茶道や華道にも大きな影響を与えました。江戸時代の、松尾芭蕉の俳諧に見られる、わび・さびなどの美意識も、その延長線上に生まれたものと言えます。

さらに江戸時代に ( G ) が書いた『南総里見八犬伝』は、様々な能力を持った複数のヒーロー達が団結して悪と戦うという、現在のマンガ・アニメ・戦隊ヒーローものに見られるパターンを、日本で初めて確立した作品となりました。マンガやアニメなどの、日本の現代文化は、世界に広く受け入れられる魅力を備えているようですが、それらの根底には日本人の伝統的な美意識が息づいているのであり、これらの文化は、日本人であればこそ、生み出すことができたものなのかもしれません。

問4 文章中の空欄 ( D ) にあてはまる作品の編纂を命じた、1221年に自らが起こした乱に敗北して隠岐に流された皇族の名を漢字で書きなさい。

問5 文章中の下線部Eについて、この美意識の成立には、禅宗の教えも大きな影響を与えました。日本における禅宗仏教の開祖である人物をア～オから1つ選び、その記号を答えなさい。

ア. 行基      イ. 日蓮      ウ. 道元      エ. 親鸞      オ. 源信

問6 文章中の下線部Fについて、この人物が弟子の曾良と共に東北地方を旅した際の俳諧紀行文を答えなさい。

問7 文章中の空欄 ( G ) にもっとも適する人名を漢字で書きなさい。

問8 文章中の下線部Hについて、江戸時代後期の江戸や大阪では多くの文芸作品が出版され、貸本屋が店を連ねていました。このことは、当時の民衆の中にどのような能力を備えた人が増えたことを示すものでしょうか。「寺子屋」という語句を使って、わかりやすく説明しなさい。

問9 文章中の下線部Iについて、昭和時代に活躍した「戦後ストーリーマンガの開拓者」とも呼ばれ、日本初の連続テレビアニメの制作者としても知られる、『鉄腕アトム』の作者をア～オから1つ選び、その記号を答えなさい。

ア. 長谷川町子      イ. 手塚治虫      ウ. 水木しげる  
エ. 宮崎駿      オ. やなせたかし

以下のこしのお父さんとの会話をよく読んで、各問いに答えなさい。

お父さん :これからお父さんの会社で、A 言語の違いや、老若男女のような差異、障がいの有無にかかわらず誰でも使いやすいデザインの新しい商品を、積極的につくることになったんだよ。

こしのお父さん :これからさらに、B 高齢化が深刻になるかもしれない、という話題が学校の授業でもあったから、きっと重宝されるでしょうね。

お父さん :そうだね。高齢化といえば、C 社会保障の面ばかり気になってしまうけれど、こうした身近な物から変えていくことも大切だよ。

こしのお父さん :きっとお父さんのお仕事は、これからますます忙しくなるわね。

お父さん :少し、D 残業は増えてしまうかもしれないけれど、お父さんの会社には、E 労働組合があって、無理な働き方が頻繁に起こらないように、体制を整えているんだ。それにお母さんも働いていて、F 共働き家庭であるし、なるべく家事は分担できればと考えているところだよ。

こしのお父さん :私も進んでお手伝いをするから、お父さんもお仕事がんばってね。

問1 文章中の下線部Aについて、このようなデザインを解答欄にあわせてカタカナ6文字で書きなさい。

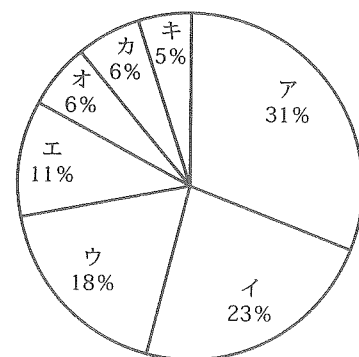
問2 文章中の下線部Bについて、高齢化が進んだ社会に備え、日本では間接税の割合を高めていこうとする考えがあります。この間接税の種類として不適切なものをア～オから2つ選び、その記号を答えなさい。

ア. 都道府県民税 イ. 消費税 ウ. たばこ税 エ. 所得税 オ. 関税

問3 文章中の下線部Cについて、次の各問いに答えなさい。

① 以下のグラフは、平成23年度の政府の一般会計歳出内訳を表しています。このうち、「社会保障費」の歳出を表すものをア～キから1つ選び、その記号を答えなさい。

平成23年度 一般会計 歳出内訳



(『財務省ホームページ』より作成)

② 一定の年齢に達すると定期的・継続的に金銭が給付される制度で、主に民間企業の労働者が加入するものを何と言いますか。もっとも適する語句を漢字4文字で書きなさい。

問4 文章中の下線部Dについて、次の各問いに答えなさい。

① 世界から強制的な労働や、過酷な残業などをなくすことを目的の一つとして設立された機関をア～エから1つ選び、その記号を答えなさい。

ア. UNEP イ. ILO ウ. IMF エ. WHO

② 日本の労働環境において賃金、就業時間、休息などの勤労条件を取り決めている法律を何と言いますか。もっとも適する語句を漢字で書きなさい。

問5 文章中の下線部Eについて、労働組合を結成することのできる権利を何と言いますか。もっとも適する語句を漢字で書きなさい。

問6 文章中の下線部Fについて、現代の日本では夫婦ともに仕事を持つ家庭が増えていきます。男女の性差にとられない労働環境や採用基準を、企業に対して求めた法律を解答欄にあわせて漢字8文字で書きなさい。

社会 解答用紙

1	問 1	(1)		(2)		(3)	
		(4)		(5)		問 2	
	問 3						
	問 4		問 5		問 6		
	問 7	記号		国名		問 8	

2	問 1		問 2	①		②		③
	問 3		問 4		問 5	①		②
	問 6							

3	問 1		→		→		→		→		問 2
	問 3		問 4		問 5		問 6				
	問 7										
	問 8										
	問 9										

4	問 1						デザイン	問 2	
	問 3	①		②					
	問 4	①		②			問 5		
	問 6						法		

受験番号		氏名		得点	
------	--	----	--	----	--