

2023年度

第1回 一般入試問題

時間25分 50点満点

社 会

受験上の注意

1. 試験開始の合図があるまで、この問題冊子を開いてはいけません。
2. 実施時間は理科と合わせて50分で、50点満点です。時間配分に注意して解答してください。
3. 解答は解答用紙にていねいに記入してください。
4. 解答用紙・問題用紙両方に、受験番号、座席番号、名前を記入してください。座席番号は、机に貼ってある番号のことです。
5. 試験中は携帯電話の電源を必ず切ってください。
6. 私語や物の貸し借りなどは認めていません。困ったことがある場合は、手をあげて先生に相談し、その指示に従ってください。

受験番号 _____ 座席番号 _____

名 前 _____

聖学院中学校

1 半島が属する県について書かれている次の文章A～Eを読んで、あとの問いに答えなさい。

- A この県には湾をぐるりと囲む形で大きな2つの半島があり、湾の中心にある山では2022年7月に①大きな噴火が発生しました。半島の一つには②九州最南端の新幹線の駅があり、対岸の大隅半島には観測ロケットや衛星の打ち上げが行なわれている宇宙センターがあります。
- B この県の半島の西部地域には③工業地帯が形成され、石油化学工業や鉄鋼業が盛んに行なわれています。海岸線に沿って砂浜が南北に続いている九十九里浜や南部地域は豊かな自然に恵まれている一方で、人口減少や西部地域との経済格差の問題もみられます。
- C この県の東部にある半島には、かつての谷が沈み海岸線が形成された地形がみられます。そこでは入り組んでいる地形を活かして真珠の生産が盛んに行なわれています。また国立公園にも指定されており、公園内には人々から「お伊勢さん」などとも呼ばれる伊勢神宮もあります。
- D この県の東部にある半島は黒船が来航した地として知られており、④農業が盛んに行なわれています。他にも半島の東側にアメリカ軍や自衛隊の基地がある一方で、西側には、かつて幕府が置かれた地域や別荘地が多く建てられた地域があります。
- E 東北地方に属するこの県の北西部にある半島は、かつての山が陸地とつながったことによって形成されました。陸地側には湖がありましたが、農地拡大の事業として干拓が行なわれました。またこの半島のある地域では、⑤伝統的な行事が開かれることでも有名であり、ユネスコ無形文化遺産にも選ばれています。

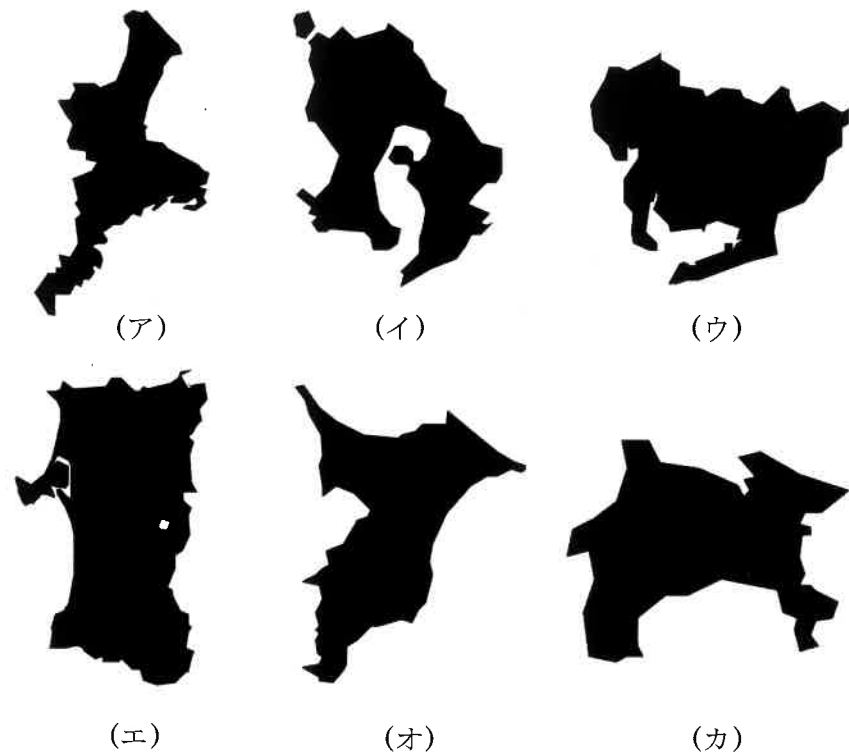
問1 文章A～Eのうち、次の半島について書かれているものを選び、記号で答えなさい。

- (1) 志摩半島 (2) 房総半島

問2 文章A～Eのうち、次の内容にあてはまるものを選び、記号で答えなさい。なお同じ記号を何度使ってもよい。

- (1) 日本海に面している県である。
(2) 日本のらっかせいの約8割を生産している県である。
(3) 利根川に面している県である。
(4) 政令指定都市を複数有している県である。

問3 文章A・D・Eにあてはまる県をそれぞれ下から選び、記号で答えなさい。なお地図の縮尺は一定ではない。



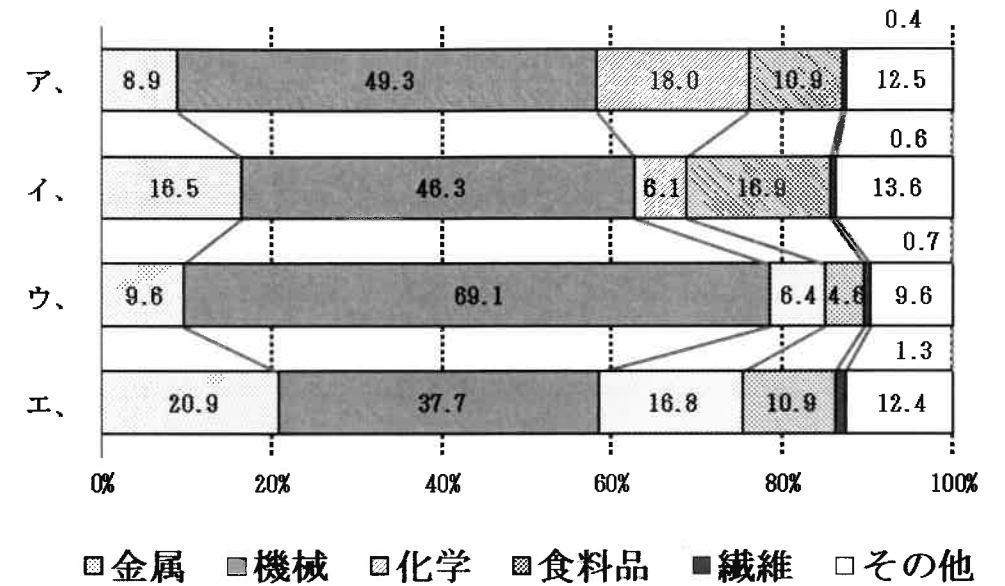
問4 下線部①に関して、近年、火山のエネルギーを利用した地熱発電など地球環境にやさしい再生可能エネルギーが注目されている。再生可能エネルギーとして間違っているものを下から選び、記号で答えなさい。

ア、風力 イ、太陽光 ウ、原子力 エ、バイオマス

問5 下線部②について述べた文として、間違っているものを下から選び、記号で答えなさい。

- ア、たたみの原料となるい草の多くが熊本県と福岡県で生産される。
- イ、大分県にある有明海は大きな干潟がみられるとともに、かきの一大養殖地となっている。
- ウ、長崎県は江戸時代から始まった造船業が盛んに行なわれ、造船施設が世界遺産にも認定された。
- エ、宮崎県は温暖な気候を活かして、野菜の促成栽培が盛んに行なわれる。

問6 下線部③に関して、次の図は日本の四大工業地帯の製造品出荷額等の構成をあらわしている。中京工業地帯に関するものを下から選び、記号で答えなさい。



矢野恒太記念会『2020/21 日本国勢図会』より作成

問7 下線部④に関して、次の表は2021年の乳牛、肉牛、豚、ブロイラーの飼育頭数と全国に占める割合をあらわしている。表中の(a)・(b)にあてはまる都道府県名の組み合わせを下から選び、記号で答えなさい。

| 乳牛 | | | 肉牛 | | |
|-------|----------|-------------|-------|----------|-------------|
| 都道府県名 | 飼育頭数(万頭) | 全国に占める割合(%) | 都道府県名 | 飼育頭数(万頭) | 全国に占める割合(%) |
| (a) | 83.0 | 61.2% | (a) | 53.6 | 20.6% |
| 栃木 | 5.3 | 3.9% | (b) | 35.1 | 13.5% |
| 熊本 | 4.4 | 3.2% | 宮崎 | 25.0 | 9.6% |
| 岩手 | 4.1 | 3.0% | 熊本 | 13.5 | 5.2% |
| 群馬 | 3.4 | 2.5% | 岩手 | 9.1 | 3.5% |
| 全国 | 135.6 | | 全国 | 260.5 | |

| 豚 | | | ブロイラー | | |
|-------|----------|-------------|-------|----------|-------------|
| 都道府県名 | 飼育頭数(万頭) | 全国に占める割合(%) | 都道府県名 | 飼育頭数(万頭) | 全国に占める割合(%) |
| (b) | 123.4 | 13.3% | 宮崎 | 2801.2 | 20.1% |
| 宮崎 | 79.7 | 8.6% | (b) | 2708.5 | 19.4% |
| (a) | 72.5 | 7.8% | 岩手 | 2260.0 | 16.2% |
| 群馬 | 64.4 | 6.9% | 青森 | 708.7 | 5.1% |
| 千葉 | 61.5 | 6.6% | (a) | 508.7 | 3.6% |
| 全国 | 929.0 | | 全国 | 13965.8 | |

『2021年 畜産統計』より作成

| | (a) | (b) |
|----|-----|-----|
| ア、 | 北海道 | 茨城 |
| イ、 | 長野 | 茨城 |
| ウ、 | 北海道 | 鹿児島 |
| エ、 | 長野 | 鹿児島 |

問8 下線部⑤に関して、東北地方には伝統的な行事として、東北四大祭りが有名である。このうち宮城県で開催されるものを下から選び、記号で答えなさい。

- ア、七夕祭り イ、竿灯まつり
ウ、ねぶた エ、花笠まつり

2 次の文章を読んで、あとの問いに答えなさい。

①『日本書紀』によると、5世紀後半～6世紀に朝鮮半島から絹を張った長い柄の傘が伝わったと書かれており、この時に日本に初めて傘(笠)が伝わったと考えられます。②『源氏物語絵巻』の中にも、主に竹と和紙を用いた傘が描かれていて、平安時代には宮廷で暮らす女性に使われていたことが分かります。

『一遍上人絵伝』に描かれた市場の様子を見ると、③鎌倉時代の定期市で頭に笠をかぶる女性の商人が活躍する姿が描かれています。また、④室町時代になると産業が発達し、食料以外の生活に必要なものを作って売り、生計を立てる職人が現われていたことがうかがえます。

江戸時代の⑤浮世絵には、紙張りの雨傘をさす人が描かれているものがあります。紙張りの雨傘は庶民の間に広く普及しました。また、頭に直接かぶる笠は髪型を乱すことから、雨傘が女性の間で人気の品になりました。

1853年、⑥鎖国を続けていた日本にペリーが来航し、開国を要求しました。江戸幕府はついにアメリカの圧力に屈し、1854年に(1)条約を結びます。その4年後に始まった⑦貿易により、日本にも西洋の材質で作られた洋傘が伝わりました。洋傘は、その黒い色や形から「こうもり傘」と呼ばれ、⑧明治時代になると西洋の技術や文化を積極的に取り入れようとする政府の方針や社会の流行もあって庶民にも広く普及し、国産の洋傘も誕生しました。⑨大正時代に入ると、洋傘はファッションアイテムとしても注目されるようになり、⑩昭和時代にかけて傘のデザインも多様化していきました。

戦後に入り、⑪連合軍総司令部による日本の民主化が進みます。1960年代に入り⑫高度経済成長期を迎えると、持ち運びができる「折りたたみ傘」やワンタッチでひらく「ジャンプ傘」が開発されました。傘は現在の私たちの日常に欠かせないものになっています。

問1 文中の(1)にあてはまるものを漢字4字で答えなさい。

問2 下線部①について、『日本書紀』を編さんした人物を下から選び、記号で答えなさい。

- ア、舎人親王 イ、大伴家持 ウ、紀貫之 エ、山上憶良

問3 下線部②に関して、平安時代の貴族の社会を描いた長編小説『源氏物語』の作者を下から選び、記号で答えなさい。

- ア、源義家 イ、北条政子 ウ、紫式部 エ、清少納言

問4 下線部③について、以下の問いに答えなさい。

(1) 1192年に征夷大將軍となって鎌倉に幕府を開いた人物を漢字で答えなさい。

(2) 鎌倉時代のできごととして正しいものを下から選び、記号で答えなさい。

ア、藤原道長による摂関政治が行なわれた。

イ、朝鮮半島の高麗を征服した元が、日本に攻め込んだ。

ウ、フランシスコ=ザビエルによりキリスト教が伝来した。

エ、武家諸法度が制定され、大名は厳しく統制された。

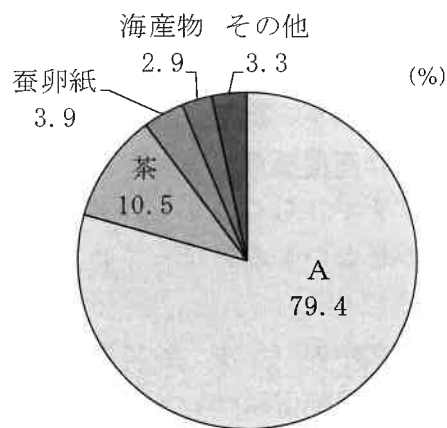
問5 下線部④に関して、1488年に加賀の国では浄土真宗を信仰する農民が中心となって守護を滅ぼし、約100年間にわたり加賀の国を支配する「加賀の(2)一揆」が起こった。(2)にあてはまるものを漢字2字で答えなさい。

問6 下線部⑤に関して、浮世絵作家として正しいものを下から選び、記号で答えなさい。

ア、雪舟 イ、狩野永徳 ウ、葛飾北斎 エ、平塚雷鳥

問7 下線部⑥について、鎖国中、江戸幕府は外国との貿易を限定していた。このうち、キリスト教の布教を貿易の条件としないことを理由に江戸時代を通じて貿易を認められた、ヨーロッパで唯一の国を答えなさい。

問8 下線部⑦について、右のグラフは1865年の日本から外国に輸出された主な輸出品の割合をあらわしたものである。グラフの中のAにあてはまる輸出品を下から選び、記号で答えなさい。



石井孝『幕末貿易史の研究』を参考に作成

ア、鉄鋼 イ、毛織物

ウ、武器 エ、生糸

問9 下線部⑧について述べた文として間違っているものを下から選び、記号で答えなさい。

ア、欧米諸国の曆と統一するため、それまでの曆に代わって太陽曆が採用された。

イ、渋沢栄一は、著書の『学問のすすめ』で自由・平等・独立の精神など西洋の思想を日本に紹介して学問の重要性を説いた。

ウ、アメリカ人のクラークは、お雇い外国人として日本に招かれて札幌農学校で教育にあたった。

エ、「ざんぎり頭」の髪型や牛鍋を食べることが流行し、銀座や横浜にはガス灯が設置された。

問10 下線部⑨に関して、大正デモクラシーを象徴する人物である吉野作造が唱えたのは(3)主義である。(3)にあてはまるものを下から選びなさい。

全体 資本 社会 民本 帝国

問11 下線部⑩について、昭和時代のできごととして間違っているものを下から選び、記号で答えなさい。

ア、関東大震災が起こった。 イ、国家総動員法が制定された。

ウ、日本国憲法が公布された。 エ、東海道新幹線が開通した。

問12 下線部⑪について、この組織の略称をアルファベット3字で答えなさい。

問13 下線部⑫に関して、高度経済成長期に所得倍増計画を打ち出した内閣総理大臣を下から選びなさい。

吉田茂 池田勇人 田中角栄 佐藤栄作 竹下登

③ 次の文章を読んで、あとの問いに答えなさい。

「①国民の意思」という意味をさす「民意」は、国の運営に大きな影響を与えています。国民は②選挙を通して民意を示すことができます。③内閣を支持する国民の割合をあらわす内閣支持率も、政策決定の指標の一つです。

④大日本帝国憲法の時代には、国のあり方の最終決定権である(1)は臣民には認められていませんでしたが、現在の日本では(1)は国民に認められています。国民の生活や安全が守られることで、国民は自由な意見を表現することができます。内閣も、国会も、⑤裁判所も、国民の⑥人権を不当に侵害しないようお互いがチェックしあうしくみがあります。

問1 文中の(1)にあてはまるものを漢字2字で答えなさい。

問2 下線部①に関して、日本国憲法における国民の義務は、「子女に(2)
を受けさせる義務」「納税の義務」「勤労の義務」である。(2)にあて
はまるものを漢字で答えなさい。

問3 下線部②について、日本の選挙に関する下の文章中の(3)・(4)
にあてはまるものをそれぞれ下から選び、記号で答えなさい。

日本の国政選挙では、国民が選んだ代表者が国民の代わりに話し合う
(3) 民主制を採用している。公正な選挙を実施するために、4つ
の原則が定められている。その一つが、納税額によって有権者が制限さ
れることがないという(4) 選挙という原則である。

ア、間接 イ、直接 ウ、秘密 エ、公開 オ、普通

問4 下線部③について、内閣の仕事として正しいものを下から選び、記号で
答えなさい。

ア、法律の議決 イ、内閣総理大臣の任命
ウ、政令の制定 エ、弾劾裁判

問5 下線部④について、大日本帝国憲法の説明として間違っているものを下
から選び、記号で答えなさい。

ア、黒田清隆が内閣総理大臣のときに発布された。
イ、天皇は国の象徴という位置づけであった。
ウ、天皇のみが軍の統帥権を持った。
エ、帝国議会は衆議院と貴族院で構成された。

問6 下線部⑤について述べた文として正しいものを下から選び、記号で答え
なさい。

ア、裁判所は最高裁判所と高等裁判所に分類され、高等裁判所には家
庭裁判所などが含まれる。
イ、民事裁判において、訴えた人を被告、訴えられた人を原告と呼ぶ。
ウ、裁判は原則2回まで受けられるが、その後は何があっても、再度
裁判を受けることはできない。
エ、現在、国民が裁判に参加する裁判員制度が採用されている。

問7 下線部⑥に関して、基本的人権として日本国憲法に明文化はされていな
いものの、時代の変化にともなって認められるべきと主張されている権利
を新しい人権と呼ぶ。新しい人権として正しいものを下から選び、記号で
答えなさい。

ア、団結権 イ、環境権 ウ、請願権 エ、生存権

2023年度 第1回 一般入試

社会・解答用紙

聖学院中学校

| | | | | | |
|------|--|------|--|----|--|
| 受験番号 | | 座席番号 | | 名前 | |
|------|--|------|--|----|--|

| |
|---|
| ※ |
|---|

| | | | | | | | | | | | | | | |
|---|----|-----|----|-----|--|-----|-----|----|-----|----|-----|----|-----|--|
| 1 | 問1 | (1) | | (2) | | 問2 | (1) | | (2) | | (3) | | (4) | |
| | 問3 | (A) | | (D) | | (E) | | 問4 | | 問5 | | 問6 | | |
| | 問7 | | 問8 | | | | | | | | | | | |

| | | | | | | | | | | | |
|---|-----|-----|-----|--|-----|-----|----|----|-----|----|--|
| 2 | 問1 | | | | | 問2 | | 問3 | | | |
| | 問4 | (1) | | | (2) | | 問5 | | | 問6 | |
| | 問7 | | | | 問8 | | 問9 | | 問10 | | |
| | 問11 | | 問12 | | | 問13 | | | | | |

| | | | | | | | | | | | |
|---|----|--|----|----|----|--|----|-----|--|-----|--|
| 3 | 問1 | | | 問2 | | | 問3 | (3) | | (4) | |
| | 問4 | | 問5 | | 問6 | | 問7 | | | | |