

1 日本の工業について、あとの問いに答えなさい。ただし、統計類については、矢野恒太記念会編『日本国勢図会 2020/21』による。

問1 次の日本の工業地帯・地域について、それぞれの説明にあてはまるものを下から選び、記号で答えなさい。また、次のページの地図からあてはまる場所をそれぞれ選び、記号で答えなさい。

- (1) 京浜工業地帯
- (2) 瀬戸内工業地域
- (3) 鹿島臨海工業地域
- (4) 阪神工業地帯
- (5) 北九州工業地帯
- (6) 中京工業地帯
- (7) 関東内陸工業地域

ア、四大工業地帯の中では、一番生産額が大きな工業地帯であり、特に自動車生産の占める割合が高い。

イ、京浜工業地帯の用地不足から内陸部にのびてきた工業地域であり、栃木県・群馬県・埼玉県に広がっている。機械工業が中心である。ウ、かつての軍用地や塩田を利用したり、埋め立てによって工業用地が得やすかった。造船業の呉などはこの工業地域に属する。

エ、茨城県の東南部に広がり、製鉄と石油化学工業が中心である。太平洋に面して作られた掘り込み港がある。

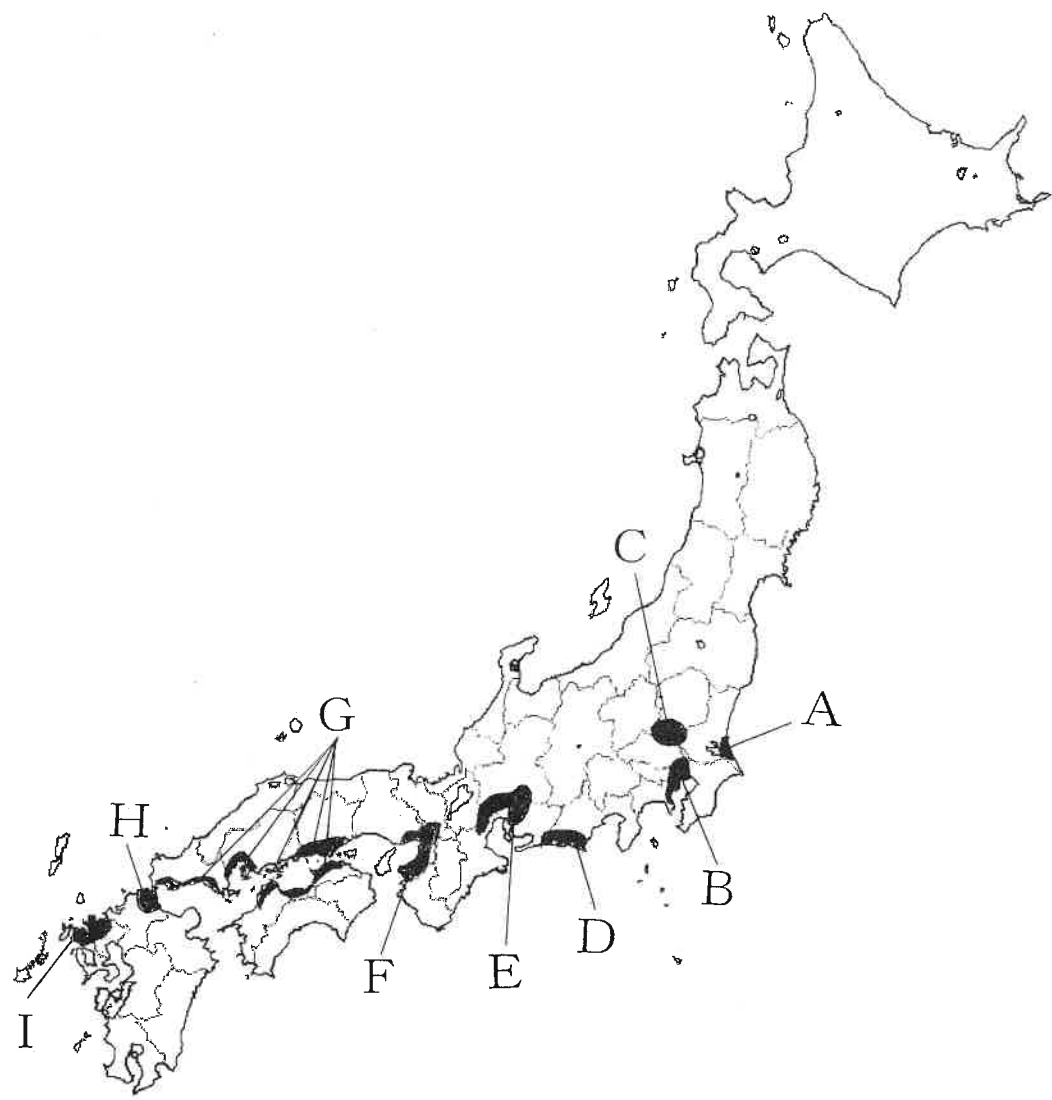
オ、駿河湾沿岸に広がり、地元の原材料を利用した食料品工業も行なわれているが、機械工業の占める割合が一番高い。

カ、この工業地帯でも機械工業の占める割合が高いが、印刷工業が全国の16%を占めている。

キ、明治時代にできた日本で最初の官営製鉄所を中心に発達してきた工業地帯であり、石炭の産地が近くにあったことで発展したが、近年生産額は伸び悩んでいる。

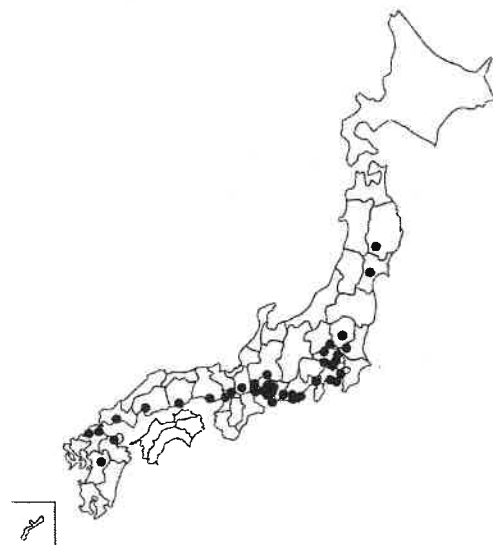
ク、日本で最初に発達した工業地帯であり、中小工場が多い工業地帯である。四大工業地帯の中で、機械工業の占める割合が一番小さい。

ケ、化学工業の占める割合が日本一であり、工業用地も埋め立てによるものが多い。

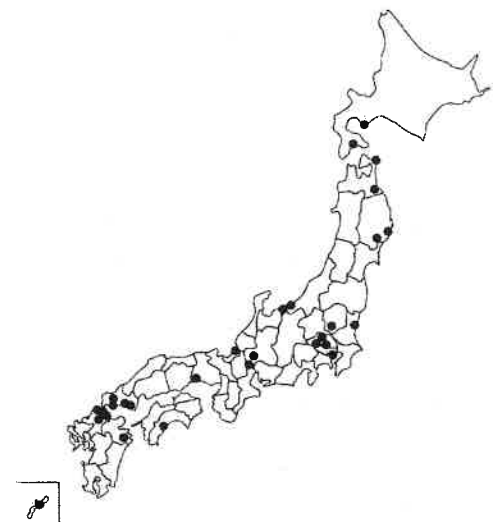


問2 次の地図は [A群] のいずれかの工場の分布を示したものである。あてはまるものを [A群] からそれぞれ選び、記号で答えなさい。また、その説明として正しいものを [B群] からそれぞれ選び、記号で答えなさい。

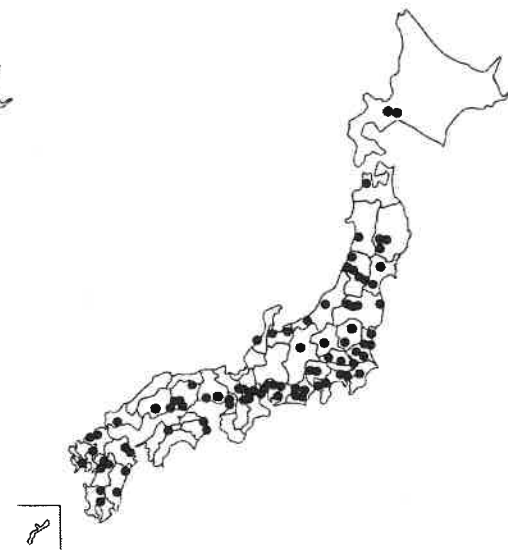
(1)



(3)



(2)



[A群]

- ア、セメント工場
- イ、半導体工場
- ウ、自動車工場

[B群]

カ、製品が比較的軽くて小型であるため、輸送に便利なように高速道路や空港近くの内陸に工場が建てられた。

キ、製品の輸出に便利なように、臨海部に建設された工場が多い。

ク、製品の消費地が主に大都市であるために、大都市の近郊に工場が多く建設された。

ケ、国内で原材料が取れるため、産地の近くに工場が建設された。

コ、広大な敷地が必要であることから、地方自治体などが用意した工業用地に建設されることが多い。

② 次の文章を読んで、あとの問いに答えなさい。

暗号通貨とは貨幣の代替に用いられるもので、デジタル通貨であるビットコインなどが有名です。では、暗号通貨は現代に突然生まれた貨幣なのでしょうか。どこの国でも貨幣は時代と共に大きく変化を続けてきました。私たちが当たり前に使用をしている「円」や①その紙幣も明治時代に生まれたものになります。そこで、貨幣の歴史をたどりながら、貨幣が持つ役割や経済の中で果たす役割について、歴史の流れを追ってみたいと思います。

貨幣の大きな役割として、「交換手段」という機能があります。日本では②縄文時代から、矢じりなどを物品貨幣として、物々交換を行なっていました。③708年に発行された貨幣から、958年に発行された貨幣まで、朝廷は全12種類の貨幣を発行しましたが、貨幣経済には移行せず、物品経済が継続し、(1)などが交換手段として用いられていました。貨幣が存在していたにも関わらず、律令制下の税制である租庸調において、租として(1)を納めさせたのもこの影響と言われています。

こうした状況の中、日本に流入してきたのが中国銭です。12世紀中頃には(2)が博多、さらには④大輪田泊の港湾開発に力を入れ、中国王朝の宋との貿易が本格化しました。この貿易の中で輸入されたものが中国製の銅銭で、⑤長い間日本国内に流通することになりました。朝廷は中国銭の使用を禁止し、⑥鎌倉幕府でも当初この流れを引き継ぎましたが、当時の日本では、⑦中国銭の流通は拡大していきました。こうした背景には、荘園数増加に伴う物品生産の多様化があります。743年に土地の永久所有を認める(3)法によって成立した荘園の数が増加し、平安時代後半から鎌倉時代には各荘園村落で木製農具の先端に鉄製部品が装備されました。農作業の効率が増したことから、裏作で麦を栽培する(4)や、楮・藍・えごまなどを栽培する村落、漆器・^{たなみ}臺など加工品を生産する村落が現れました。物品の多様化が、交換手段としての貨幣の流通を促進しました。

また、貨幣には取引を完了させる役割もありました。⑧江戸時代には、^{さか}遠隔地貿易が発展し、貨幣で決済することを約束して、遠隔地どうしの取引相手と決済できる工夫が生み出されました。江戸時代では三種類の貨幣が行き交っており、⑨江戸を中心に金貨、京都・大阪を中心に銀貨、小さな取引では銅貨が全国的に使用されていました。その中で、ある種の貨幣をそれと等しい額の他の種類の貨幣と交換する(5)という商売も増加しました。

こうして、貨幣が「交換手段」、「取引を完了させる役割」という機能を備えるためには、貨幣の価値の裏付けが必要になります。さらに、明治時代以降は

国家間での貿易も促進され、貨幣が国境を超えて移動することになります。この時、貨幣の価値を裏付けたのが、国際金本位制になります。日本がこの体制に参加したのは、1895年の(6)条約の賠償金や⑩この際に得た遼東半島を返却した際の賠償金を元にしてのことでした。しかし、金が貨幣の価値を保証した期間は決して長くなく、1931年に⑪犬養毅内閣が発足すると大蔵大臣であった高橋是清がこの体制からの脱却を徐々に始め、⑫1942年には完全に脱却することになります。また、⑬1970年代には金が貨幣の価値を保障する体制自体が崩れていきました。

暗号通貨は様々な交換手段や決済の形を私たちに示してくれています。しかし、国際的な枠組みをどのように作るのかが、大きな課題として残っています。

問1 文中の(1)～(6)にあてはまるものを下から選び、記号で答えなさい。

- ア、座 イ、平清盛 ウ、ポーツマス エ、二毛作
オ、両替商 カ、ベルサイユ キ、布 ク、平将門
ケ、源頼朝 コ、米 サ、株仲間 シ、新田開発
ス、農地改革 セ、班田収授 ソ、墾田永年私財 タ、下関

問2 下線部①に関して、以下の資料は戦前の紙幣の肖像に選ばれた人々の一覧である。この人々の共通点は、ある身分の人物を助けた人々である。この人々が助けた身分について、あてはまるものを下から選び、記号で答えなさい。

資料-戦前の紙幣の肖像に選ばれた人物

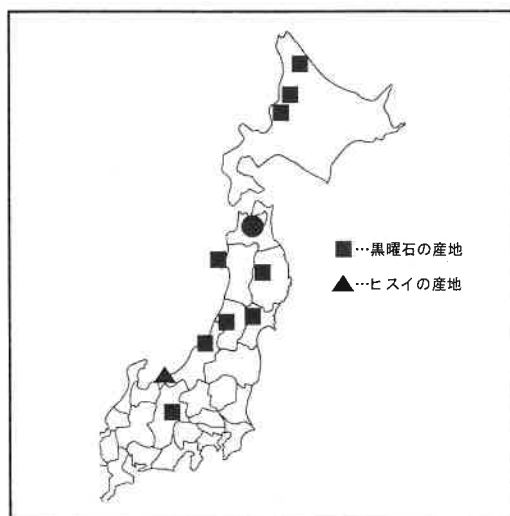
聖徳太子
藤原鎌足
菅原道真
楠木正成
新田義貞

- ア、天皇 イ、摂政 ウ、関白 エ、太政大臣

問3 下線部②に関して、以下の資料は、資料中の●遺跡から発見された黒曜石やヒスイの分布であり、縄文時代の交易の根拠とされている。●にあてはまる遺跡を下から選び、記号で答えなさい。

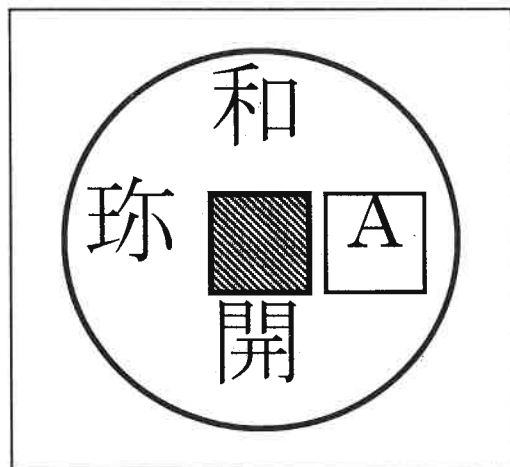
- ア、岩宿遺跡 イ、三内丸山遺跡 ウ、野尻湖遺跡
エ、吉野ヶ里遺跡

資料

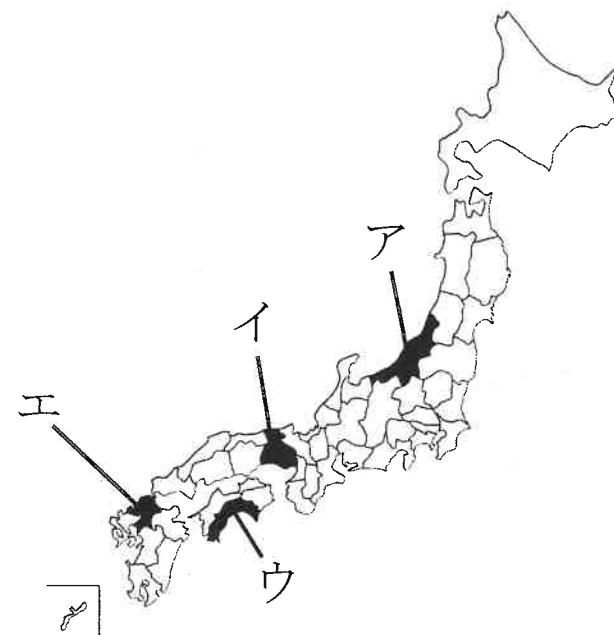


問4 下線部③について、以下の資料は、この貨幣の模式図になる。貨幣の特徴は、中央に穴が開けられている。空欄Aにあてはまる漢字1字を答えなさい。

資料



問5 下線部④について、大輪田泊が位置した都道府県を、下の地図から選び、記号で答えなさい。



問6 下線部⑤に関して、日本国内における貨幣の製造は、武田信玄や豊臣秀吉が製造するまで行なわれなかった。日本では約何年間、貨幣の製造が行なわれなかったか、下から選び、記号で答えなさい。

- ア、300年 イ、400年 ウ、500年 エ、600年

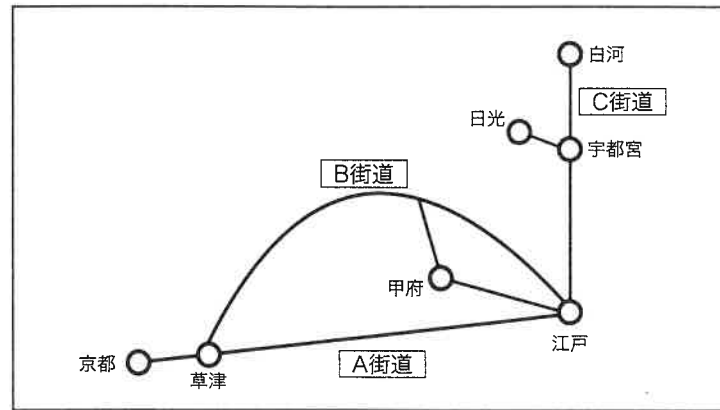
問7 下線部⑥に関して、鎌倉幕府の統治機構について、間違っているものを下から選び、記号で答えなさい。

- ア、将軍を補佐する役職として、管領が置かれた。
イ、政所は政治一般を取り扱い、侍所は軍事や御家人の取締りを行なった。
ウ、朝廷の監視を目的として、六波羅探題が京都に設置された。
エ、地方では、守護が御家人を統率し、地頭が土地の管理などを行なった。

問8 下線部⑦に関して、中国銭の流通は室町時代になるとより多くなり、明銭も流通した。明との貿易の際に、倭寇と識別するために用いられた札の名称を答えなさい。

問9 下線部⑧について、以下の資料は江戸時代の陸上交通の模式図である。資料の説明に関して、間違っているものを、下から選び記号で答えなさい。

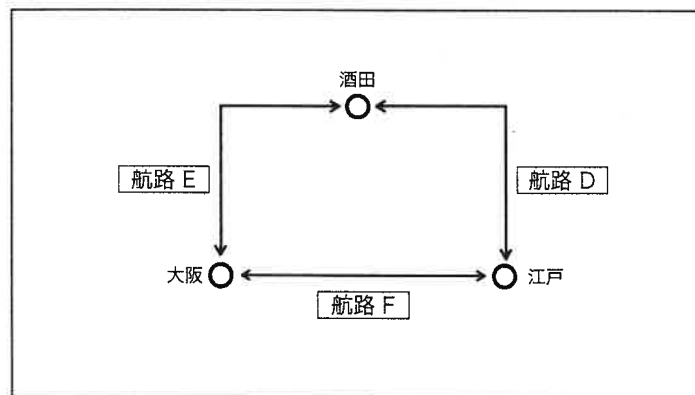
資料



- ア、A街道は東海道で、この街道は十返舎一九の『東海道中膝栗毛』や歌川広重の『東海道五十三次』などの舞台や題材となった。
- イ、B街道は中山道で、この街道には箱根などの関所が置かれ、江戸に入る鉄砲や江戸から出ていく女性を厳しく審査した。
- ウ、C街道は奥州街道で、他の街道同様に大名が参勤交代で、民衆は旅行などでも使用した。
- エ、五街道は地図中A～C街道の他に甲州街道・日光街道がある。

問10 下線部⑧について、以下の資料は、江戸時代の海上交通の模式図である。航路D～航路Fのうち、東回り航路にあてはまるものを、下から選び、記号で答えなさい。

資料



問11 下線部⑨について、江戸時代にはこうした金や銀が外国に流出することが問題となった。そこで、6・7代将軍の下で政治を行ない、長崎貿易を制限して、金銀の流出を防ごうとした人物を下から選び、記号で答えなさい。

- ア、新井白石 イ、田沼意次 ウ、松平定信 エ、水野忠邦

問12 下線部⑩について、ロシアなどを中心とした国々によって、日本が遼東半島を清に返すに至った出来事を答えなさい。

問13 下線部⑪の首相が暗殺され、政党政治が終わった出来事について、あてはまるものを、下から選び、記号で答えなさい。

- ア、五・四運動 イ、三・一運動 ウ、五・一五事件
- エ、二・二六事件

問14 下線部⑫について、1942年以降の出来事として、正しいものを下から選び、記号で答えなさい。

- ア、日本はアメリカ・イギリスに宣戦布告し、太平洋戦争が開戦した。
- イ、日本が国際連盟を脱退した。
- ウ、日本本土の空襲が激しくなり、学童疎開や配給が実施された。
- エ、日中戦争が始まった。

問15 下線部⑬について、アメリカが金とドルの交換を停止した背景の一つとして考えられる、冷戦下の東南アジアにおける戦争の名称を下から選び、記号で答えなさい。

- ア、カンボジア内戦 イ、朝鮮戦争 ウ、ビルマ紛争
- エ、ベトナム戦争

3 次の文章を読んで、あとの問いに答えなさい。

聖学院中学校の1年A組では、Aくん、Bくんと先生の3人で、学級委員長の決め方を話し合っています。

Aくん「ぼくは、学級委員長になってほしい人をみんながそれぞれ推薦しあって決める方法が良いな。」

先生「なるほど。もしその方法で決まらなかった場合、先生が学級委員長を指名するので良いですか。」

Bくん「それだと、今度は①みんなの意見が通らないからいやです。ぼくは、学級委員長にやってほしいことをみんなで話し合っ、それを実行できる人に立候補してほしいです。立候補した人の中でみんなで投票をするんです。」

先生「それは名案かもしれないですね。立候補する人には、学級委員長になったときに、②どんなことを実行するかをあらかじめ宣言してもらおうと、より良いかもしれません。」

Aくん「確かにそれは良い案かも。でも、③学級委員長にならなかった人に入れられた票は意見が結果に反映されにくいですね。」

先生「たくさんの選び方があるね。どんな選び方でも1つの方法だけで全員が完全に納得するのは難しいかもしれないね。今の日本における④国会議員の選び方がどうなっているか知っていますか。」

Bくん「小選挙区制、大選挙区制などですね。また、⑤地方の選挙は方法が異なると聞きました。先生、質問です。⑥内閣総理大臣はどうやって選ばれているのですか。」

先生「良い質問だね。国会議員とは異なる選ばれ方をするよ。具体的な内容は⑦日本国憲法などで決まっているんだ。」

問1 下線部①に関して、社会や政治などの問題について、国民が持つさまざまな意見を何というか、漢字2字で答えなさい。

問2 下線部②に関して、選挙において政党や候補者が行なう政策の約束を何というか、下から選び、記号で答えなさい。

ア、公約 イ、条約 ウ、法律 エ、条例

問3 下線部③について、このように落選者に入った票のことを何というか、漢字2字で答えなさい。

問4 下線部④について、以下の問いに答えなさい。

(1) 現在の日本の国会では二院制を採用している。参議院と()院である。()にあてはまるものを漢字2字で答えなさい。

(2) 下の表は参議院の特徴をまとめたものである。空欄にあてはまるものの組み合わせとして正しいものを下から選び、記号で答えなさい。

任期	(a)年
解散	(b)

ア、a—4 b—あり

イ、a—4 b—なし

ウ、a—6 b—あり

エ、a—6 b—なし

(3) 国会の仕事として間違っているものを下から選び、記号で答えなさい。

ア、予算の議決 イ、弾劾裁判

ウ、条約の承認 エ、違憲立法審査

問5 下線部⑤に関して、地方自治について正しいものを下から選び、記号で答えなさい。

ア、知事は議会からは選ばれず、住民によって直接選ばれる。

イ、条例は、その地域だけで適用されるルールのため、憲法に違反しても良い。

ウ、住民は条例をつくることを地方公共団体に求める権利がない。

エ、地方の財政のうち地方交付税交付金や国庫支出金が占める割合が増えると、地方自治の自主性が高まる傾向にある。

問6 下線部⑥について、内閣総理大臣を指名するものを下から選び、記号で答えなさい。

ア、内閣 イ、国会 ウ、最高裁判所 エ、天皇

問7 下線部⑦について、以下の問いに答えなさい。

(1) 日本国憲法に規定された基本的人権として間違っているものを下から選び、記号で答えなさい。

ア、平等権 イ、自由権 ウ、行政権 エ、社会権

(2) 日本国憲法の三原則は「国民主権」「基本的人権の尊重」「()主義」である。()にあてはまるものを漢字2字で答えなさい。

2021年度 第1回 一般入試

社会・解答用紙

聖学院中学校

受験番号

座席番号

名前

※

1

問1	(1)	説明	場所	(2)	説明	場所	(3)	説明	場所
	(4)	説明	場所	(5)	説明	場所	(6)	説明	場所
	(7)	説明	場所						
問2	(1)	A群	B群	(2)	A群	B群	(3)	A群	B群

2

問1	(1)	(2)	(3)	(4)	(5)	(6)
問2	問3	問4	問5	問6	問7	
問8	問9	問10	航路	問11		
問12	問13	問14	問15			

3

問1	問2	問3			
問4	(1)	(2)	(3)	問5	問6
問7	(1)	(2)	主義		