

A F A

時間 40分 100点満点

第1回 一般入試問題

社 会

受験上の注意

1. 試験開始の合図があるまで、この問題冊子を開いてはいけません。
2. 実施時間は40分で、100点満点です。時間配分に注意して解答してください。
3. 解答は解答用紙にていねいに記入してください。
4. 解答用紙・問題用紙両方に、受験番号、座席番号、名前を記入してください。座席番号は、机に貼ってある番号のことです。
5. 試験中は携帯電話の電源を必ず切ってください。
6. 私語や物の貸し借りなどは認めていません。困ったことがある場合は、手をあげて先生に相談しその指示に従ってください。

受験番号 _____ 座席番号 _____

名 前 _____

聖学院中学校

1 次の文章を読んで、あとの問いに答えなさい。

九州地方（沖縄県を除く）の人口は、約 8,132,000 人で日本の人口の約（ 1 ）%を占めています。また、この地方の面積は、約 42,191 km²で日本の国土面積の約（ 2 ）%を占めています。

九州地方の地形は北部には（ 3 ）山地、中央部には九州山地があり、南部には火山噴出物が積もってできた（ 4 ）台地が広がっています。

中央にある①阿蘇山、南部にある御岳は活火山で有名です。

気候は②太平洋側の気候が多く、沖縄は③亜熱帯の気候です。

工業に関しては北九州工業地帯が有名です。ここは石炭の産地が近くにあり、官営（ 5 ）製鉄所とともに発達してきました。

しかし今から 50 年ほど前には、熊本県の化学工場から垂れ流された廃液によって引き起こされた公害病である（ 6 ）が発生するなど、日本の産業の発達の裏側には暗い過去がありました。その後、日本各地で公害病が問題になり、1967 年には（ 7 ）が制定され、1971 年には環境行政を行なう（ 8 ）が設置されました。また環境への影響について事前に調査をする環境（ 9 ）が行なわれるようになりました。

最近九州では半導体などの生産がさかんで、アメリカのシリコンバレーにならってシリコン（ 10 ）とも言われています。

問 1 文中の（ 1 ）にあてはまるものを下から選びなさい。

3 6 9 12

問 2 文中の（ 2 ）にあてはまるものを下から選びなさい。

11 14 17 19

問 3 文中の（ 3 ）にあてはまるものを下から選びなさい。

筑紫 肥後 豊後 肥前

問 4 文中の（ 4 ）にあてはまるものをカタカナで答えなさい。

問 5 文中の（ 5 ）にあてはまるものを答えなさい。

問 6 文中の（ 6 ）にあてはまるものを下から選びなさい。

イタイイタイ病 四日市ぜんそく 黄熱病 水俣病

問 7 文中の（ 7 ）にあてはまるものを下から選びなさい。

環境維持基本法 公害防止基本法 環境保全基本法

公害対策基本法

問 8 文中の（ 8 ）にあてはまるものを下から選びなさい。

国土交通省 文化庁 経済産業省 環境庁

問9 文中の(9)にあてはまるものを下から選びなさい。

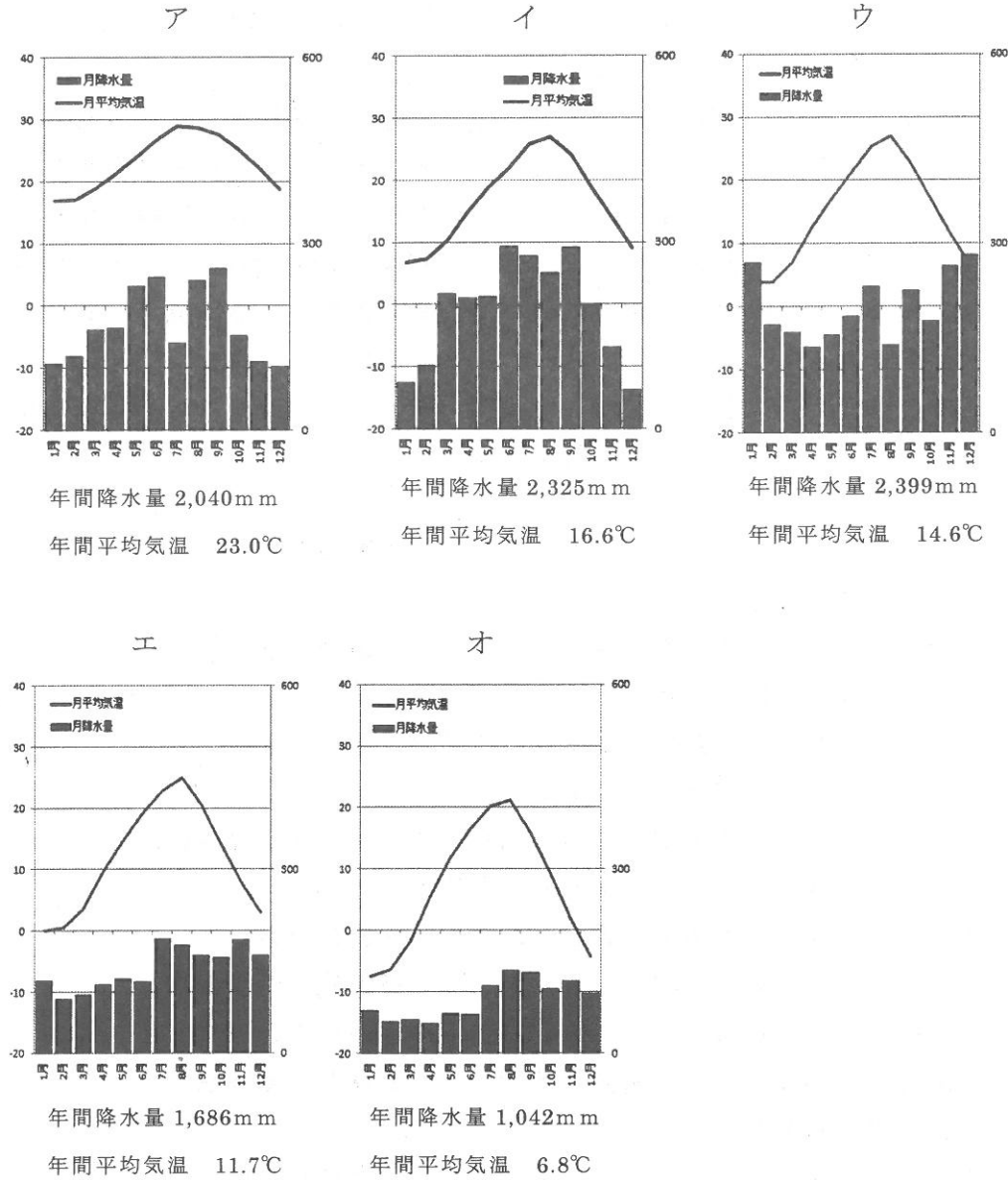
ラムサール フェーン アセスメント アイランド

問10 文中の(10)にあてはまるものを下から選びなさい。

ラムサール フェーン アセスメント アイランド

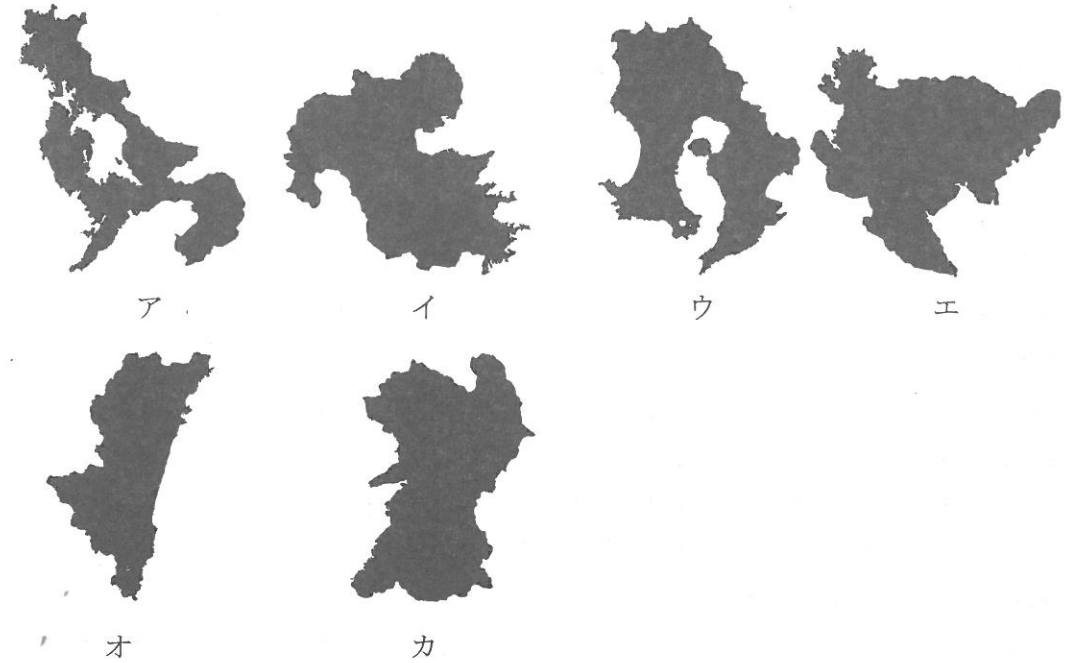
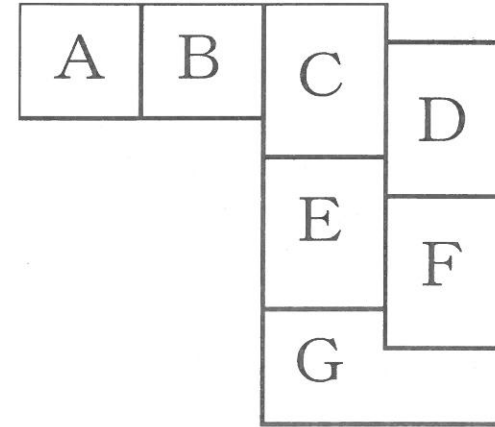
問11 下線部①に関して、阿蘇山は火山活動によって世界最大級の凹地が形成された。この凹地を何というか、答えなさい。

問12 下線部②③について、②宮崎と③那覇の雨温図をそれぞれ下から選び、記号で答えなさい。



問13 次の【九州模式図】のB、D、Fにあてはまる県の地図(島は含まない)を下から選び、記号で答えなさい。なお、縮尺は同一ではない。

【九州模式図】



問14 九州には北海道について海岸線の長さが長い県がある。出入りの激しい複雑な海岸線があることがその理由だが、その県を問13のア～カから選び、記号で答えなさい。

問15 阿蘇山とともに活火山として活発な活動をしている御岳がある県はどこか。問13のア～カから選び、記号で答えなさい。また県名を答えなさい。

問16 稲作とい草の二毛作で有名な八代平野のある県はどこか。問13のア～カから選び、記号で答えなさい。

2 次の文章を読んで、あとの問いに答えなさい。

昨年（2015年）は「戦後70年」でした。現在に至るまでに、日本は隣国の中国や朝鮮とどのような関係にあったのでしょうか。

飛鳥時代、^{うまやとのおうじ}厩戸皇子（聖徳太子）は（1）を遣隋使として派遣しました。その後、皇族の（2）と中臣鎌足らが天皇の力をしのぐほどになっていた（3）氏を滅ぼし、中国を手本とした国づくりをすすめました。

鎌倉時代、執権（4）は①元からの襲来を退けました。

室町時代、明に対して、足利義満は（5）を行ないました。この貿易では、日本海や東シナ海を中心に活動していた（6）の活動と区別するために合い札が用いられました。

安土桃山時代、天下を統一した（7）は2度の朝鮮出兵を行ない、朝鮮半島の人々に大きな被害を与えました。

江戸時代、幕府は鎖国をしていましたが（8）と清の両国とは貿易を行ない続けました。

明治時代、日本は朝鮮に進出をはかります。1894年から（9）戦争が行なわれ、②下関条約が結ばれます。この日本の動きが中国東北部に力をのばそうとしていた（10）との対立をうみました。1902年に日本は（11）と同盟を結びます。1904年から（12）戦争が行なわれました。この戦争の主な戦場は中国でした。③ポーツマス条約が結ばれた後、1910年に日本は（13）を併合しました。

昭和時代、④1931年におきた満州での鉄道爆破事件をきっかけに、⑤日本と中国との戦争が1945年まで続くこととなりました。

戦後、日本が植民地とした朝鮮では⑥南北2つの国が成立しました。中国大陸では、1949年に中華人民共和国が成立し、1972年に日本との間で⑦日中共同声明を発表しました。

日本は、朝鮮半島の国々や中国と領土問題や歴史認識問題で対立しています。この課題を乗り越えることは東アジアの平和にとり大切なことと言えます。

問1 文中の（1）～（13）にあてはまる語を下から選びなさい。

豊臣秀吉	中大兄皇子	小野妹子	織田信長	日露
北条時宗	足利義政	勘合貿易	朱印船貿易	日清
イギリス	フランス	ロシア	韓国	オランダ
藤原	蘇我	元寇	倭寇	平清盛

問2 下線部①について、間違っているものを下から選び、記号で答えなさい。

ア、元軍の二度の襲来は文永の役、弘安の役と呼ばれる。

イ、フビライ＝ハンの命令により、元軍は日本を攻めてきた。

ウ、元軍は火薬を使用したり、集団戦法を行なうなど、当時の日本の武士の戦い方とは異なる戦法で攻めてきた。

エ、元軍の襲来の後、恩賞が十分与えられたため、御家人の生活はゆたかになった。

問3 下線部②について、正しいものを下から選び、記号で答えなさい。

ア、清は鉄道（後の南満州鉄道）を日本にゆずる。

イ、清は樺太を日本にゆずる。

ウ、清は賠償金2億テールを日本に支払う。

エ、清は蝦夷地を日本にゆずる。

問4 下線部③について、この講和条約を結んだ人物を下から選びなさい。

陸奥宗光 井上馨 小村寿太郎 岩倉具視

問5 下線部④について、このできごとは何と呼ばれるか、下から選びなさい。

義和団事件 済南事件 柳条湖事件 西安事件

問6 下線部⑤に関して、間違っているものを下から選び、記号で答えなさい。

ア、日本は中国東北部の「満州国」を承認した。

イ、日本は中華民国の首都南京を占領した。

ウ、日本本土は中国から空襲を受けた。

エ、1945年に戦争は終わり、日本は中国に降伏した。

問7 下線部⑥に関して、2つの国は1950年に戦争を開始した。この時、北朝鮮を支援した国はどこか、下から選びなさい。

アメリカ イギリス ソ連 フランス

問8 下線部⑦について、この当時の首相はだれか、下から選びなさい。

佐藤栄作 田中角栄 吉田茂 鳩山一郎

3 次の文章を読んで、あとの問いに答えなさい。

裁判所とはどのような機関なのでしょうか。日本国憲法では「（1）権は、①最高裁判所及び②下級裁判所に属する」と書かれています。（1）とは、法に基づいて争いごとを解決することをいいます。

争いごとを解決するためには、③中立的な立場の人がルールに従って判断を下す必要があります。憲法には「すべて裁判官は、その（A）に従い独立してその職権を行い、この憲法及び法律にのみ拘束される」と規定されていま

す。争いごとの種類としては、「お金を貸したのに返してもらえない」などのように、一般人と一般人の間の争いごとである(2)裁判、「人のものを盗む」などのように犯罪を行なったとされる人を国家が裁判所に訴える④刑事裁判があります。2009年には(B)制度が導入され、一般市民も裁判に参加するようになりました。

裁判は人の一生を大きく左右するため、間違いがあってははいけません。そこで、日本国憲法では慎重に裁判を行なうために、⑤原則として三回まで裁判を受けられるようにしています。また、基本的人権の(3)権の一つである身体の(3)で、もくひけん黙秘権やどれい奴隷的拘束・くえき苦役からの(3)を保障しています。

問1 文中の(1)～(3)にあてはまるものを、それぞれ漢字2字で答えなさい。

問2 文中の(A)にあてはまるものを下から選び、記号で答えなさい。

ア、良心 イ、学問 ウ、思想 エ、信教

問3 文中の(B)にあてはまる語を漢字3字で答えなさい。

問4 下線部①に関して、最高裁判所は違憲審査の最終判断を行なっている。

そのため、最高裁判所は何と呼ばれるか。下から選び、記号で答えなさい。

ア、民主主義の学校 イ、憲法の番人
ウ、選挙された王 エ、最後の貸し手

問5 下線部②について、日本国憲法のもとで設置されている下級裁判所として間違っているものを下から選び、記号で答えなさい。

ア、高等裁判所 イ、簡易裁判所 ウ、行政裁判所
エ、家庭裁判所

問6 下線部③に関して、裁判官についての記述として正しいものを下から選び、記号で答えなさい。

ア、長官以外の最高裁判所裁判官は、天皇が任命し、国会が認証する。
イ、最高裁判所の裁判官は国民審査を受けなければならない。
ウ、内閣が設置する弾劾裁判所により、ひめん罷免されることがある。
エ、裁判官の身分を強く保障するために、定年がない。

問7 下線部④に関して、刑事裁判において国家を代表して原告となるのは何という役職の人か。下から選び、記号で答えなさい。

ア、警察官 イ、刑務官 ウ、裁判官 エ、検察官

問8 下線部⑤に関して、このような制度を何というか。漢字3字で答えなさい。

※

受験番号		座席番号		名前	
------	--	------	--	----	--

1

問1		問2		問3		問4	
問5		問6		問7			
問8		問9		問10			
問11		問12	②	③			
問13	B	D		F		問14	
問15	記号	県名		問16			

2

問1	(1)		(2)		(3)		(4)	
	(5)		(6)		(7)		(8)	
	(9)		(10)		(11)		(12)	
	(13)		問2		問3		問4	
問5		問6		問7		問8		

3

問1	(1)		(2)		(3)		問2		問3	
問4		問5		問6		問7		問8		