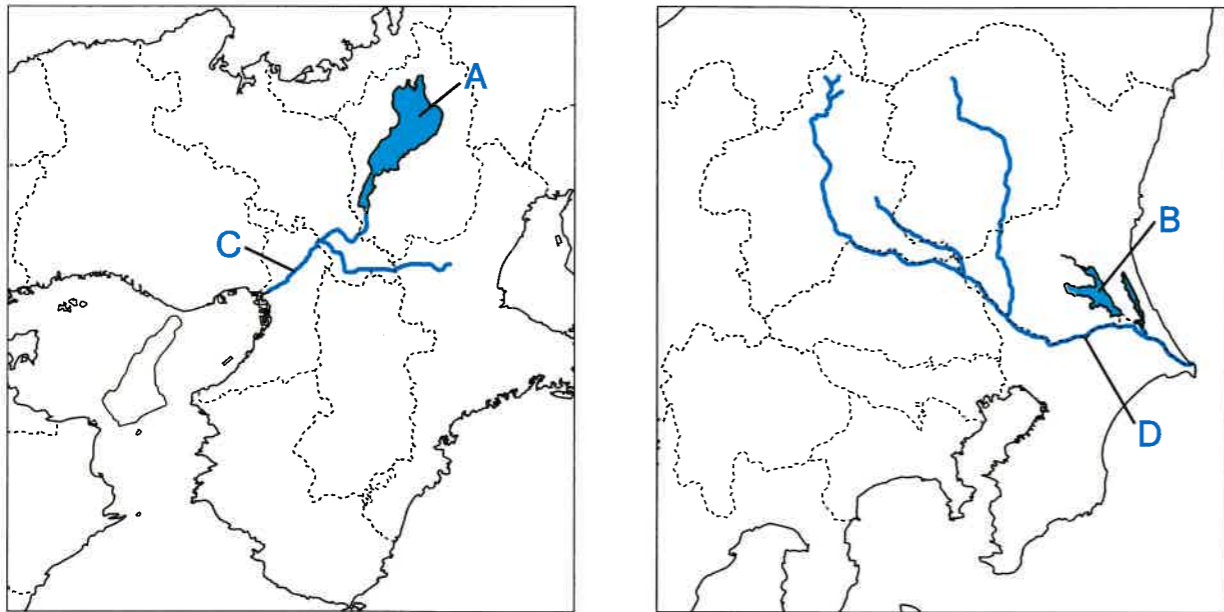


【1】 さくらさんは、かつて日本の中心だった近畿地方と、現在日本の首都がおかれている関東地方について、その地理的特徴を調べてみる事にしました。これに関する以下の問いに答えなさい。

(1) 近畿地方と関東地方にある湖Xと川Yに関する説明文を読み、それぞれの場所を地図上の選択肢A～Dより1つ選び、記号で答えなさい。

湖X この湖は日本最大の湖で、古くから複数の都市圏の生活や経済を支えてきた。  
 川Y この川は、日本で最も流域面積の広い河川であり、かつては暴れ川としても有名だった。



(2) 近畿地方の二つの都市の気候の違いに関する文章を読み、空欄に適切な語句の組み合わせを次のア～エより1つ選び、記号で答えなさい。

近畿地方は、太平洋側から日本海側まで広がっているため、同じ地方でも場所によってその気候には大きな違いがあります。例えば、福井市では夏の降水量よりも冬の降水量が多いです。これは、福井市が日本海に面しているため、( X ) の影響を受けて雪が降りやすいからだと考えられます。  
 一方、太平洋に面している尾鷲市では、夏、特に9月の平均降水量が突出しています。これは主に( Y ) の影響だと考えられます。この事から、同じ近畿地方でも、太平洋側にある都市は、( Y ) の影響を受けやすい事がわかります。

- ア. X = 季節風      Y = 台風                  イ. X = 偏西風      Y = 梅雨前線  
 ウ. X = 季節風      Y = 梅雨前線                  エ. X = 偏西風      Y = 台風

(3) さくらさんが見つけた、阪神工業地帯と関東内陸工業地域の2016年度における品目別生産割合と総生産額を示したグラフに関する短文X・Yの正誤の組み合わせとして正しいものを次のア～エより1つ選び、記号で答えなさい。

阪神 31.4兆円	金属 20.0%	機械 36.2%	化学 17.2%	食料品 11.6%	その他 15.0%
--------------	-------------	-------------	-------------	--------------	--------------

関東内陸 30.7兆円	11.1%	46.4%	9.3%	15.5%	17.7%
----------------	-------	-------	------	-------	-------

X 阪神工業地帯の「金属」と「化学」を合計した生産割合は、関東内陸工業地域の「金属」と「化学」を合計した生産割合と比べて、多い事がわかる。  
 Y 関東内陸工業地域で「機械」の規模が大きいのは、この地域では高速道路が整備されていて、組み立てる部品を集めやすいからである。

- ア. X = 正 Y = 正      イ. X = 正 Y = 誤      ウ. X = 誤 Y = 正      エ. X = 誤 Y = 誤

(4) さくらさんが地球温暖化と農業に関して書いた以下の文章の下線部に関して、なぜ食料品を輸入する際にCO<sub>2</sub>が排出されるのか、考えて答えなさい。

農林水産省のホームページを見ると、日本は世界でもトップクラスの食料品の輸入国で、野菜や肉類などさまざまな食料品を多くの国から輸入していることがわかりました。そして、これらを輸入する際に排出されるCO<sub>2</sub> (二酸化炭素) は、年間で1,690万トンにもなるそうです。

(5) さくらさんは、関東地方と近畿地方の物流や人の移動について調べてみました。

問1 現代では、様々な輸送手段が目的や距離に応じて使われています。間違っているものを次のア～エより1つ選び、記号で答えなさい。

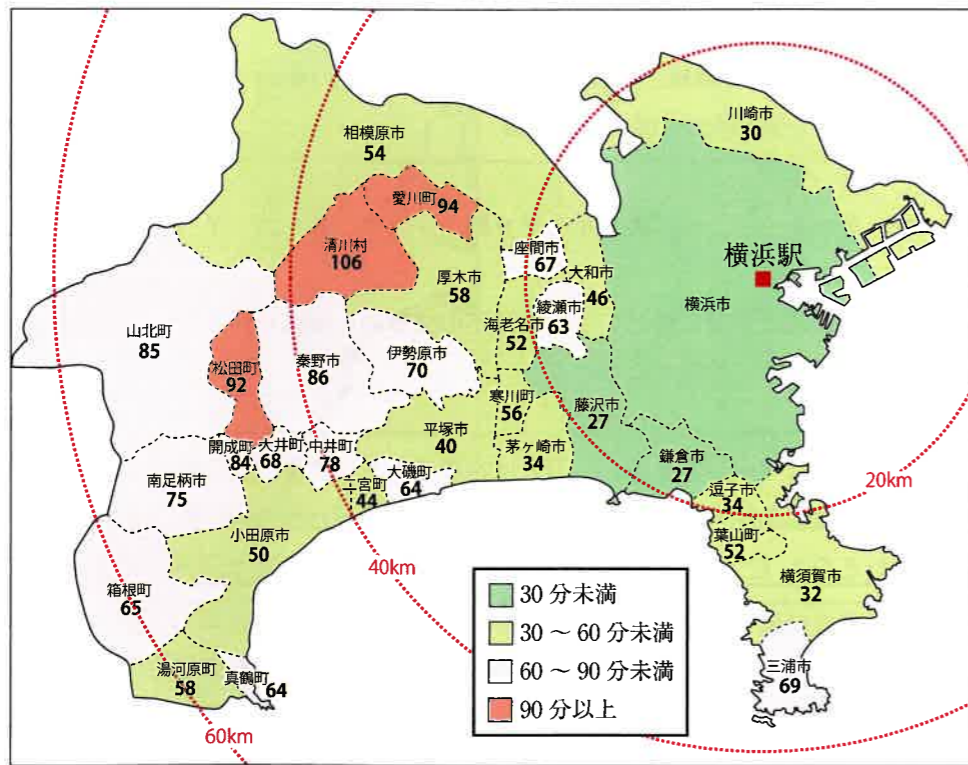
- ア. 日本国内での物流の多くは自動車に頼っているが、これは全国に道路が整備され、小回りが利くからである。  
 イ. 鉄道による輸送は、自動車と比べてより多くの物を運べるが、線路がある所にしか運べないのが弱点である。  
 ウ. 重量のある鉄鋼製品やサイズの大きい建築資材は、より早く運ぶために主に飛行機によって運ばれている。  
 エ. 自動車のような大型の機械製品は、一度に多く運べる船によって海外に輸出されるが、時間がかかることが弱点である。

問2 以下の図1は、横浜駅から神奈川県内の各市町村役場／役所までの移動時間を示しています。また図2は神奈川県内の各市町村における2005年から2010年にかけての人口の増減率を示しています。これらの図からわかる事について、短文X・Yの正誤の組み合わせとして正しいものを次のア～エより1つ選び、記号で答えなさい。

X 横浜駅からの距離が近ければ近い場所ほど、短時間で到着できている事がわかる。  
 Y 横浜駅からの移動時間が90分を超えるすべての市町村で、人口が減少している事がわかる。

ア. X = 正 Y = 正    イ. X = 正 Y = 誤    ウ. X = 誤 Y = 正    エ. X = 誤 Y = 誤

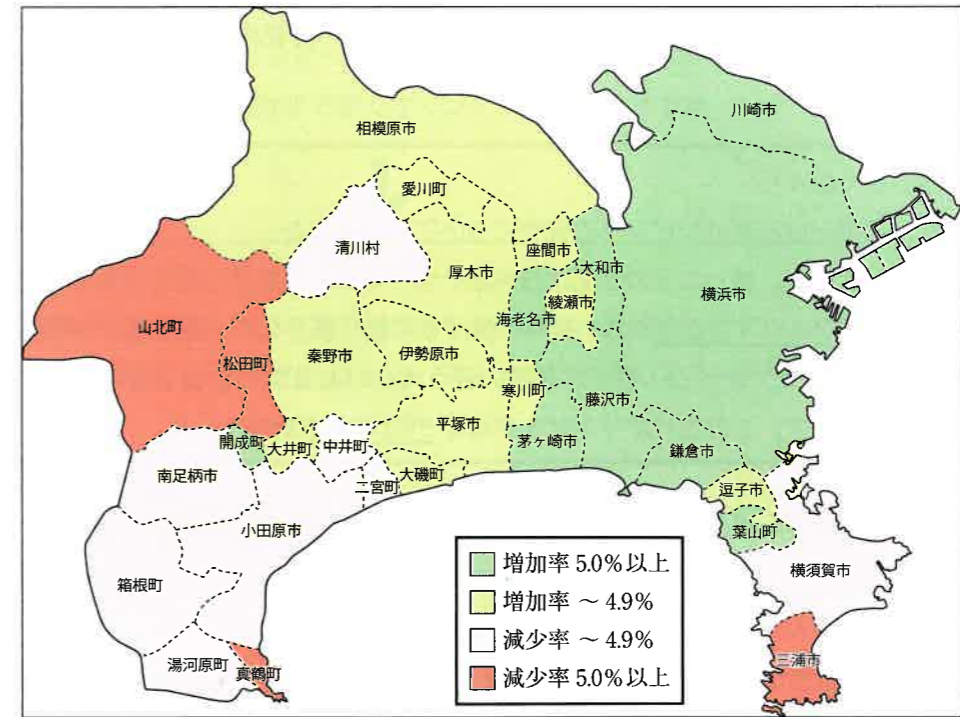
図1



※図1注釈

- ・インターネットの検索サイトにて、平日12時に出発し、鉄道と徒歩およびバスを利用する設定です
- ・赤の円は、横浜駅からそれぞれ20kmずつの距離を示す同心円です

図2



※図2注釈

- ・2005年度と2010年度の国勢調査を比較した、各市町村の人口増減率です

【2】 さくらさんとあおいさんは、スポーツの歴史について調べ、クラスで発表することになりました。以下はその発表原稿を、読みあげる順（年代順）に並べたものです。発表原稿1～9を読み、下記の各問いに答えなさい。

原稿1（発表者：さくら）  
 私たちは、スポーツとオリンピックの歴史について調べました。  
 スポーツはもともと、狩りなどの合間に技を競い合ったことが始まりだとされています。古代ギリシアでは今から①2900年ほど前から、神々に捧げる宗教行事として、短距離走や幅跳び、円盤投げ、レスリング、ボクシングなどのスポーツを競い合う大会がおこなわれるようになりました。これが古代オリンピックです。この古代オリンピックは②393年まで続きました。

<あ>

原稿2（発表者：あおい）  
 日本でも、③8世紀につくられた『日本書紀』に、天皇の命令で行われた力比べの話がのっています。これが相撲の起源とされています。他にも④平安時代の貴族たちは、蹴鞠やタカ狩りなどを楽しんでいましたが、これもスポーツの起源と言ってもいいかもしれません。

<い>

原稿3（発表者：あおい）  
 民衆も相撲や水泳・鬼ごっこ・綱引きなどを遊びとして楽しんでいました。また⑤江戸時代になると、プロの力士集団が形成され、見て楽しむ娯楽としてのスポーツも登場します。

<う>

原稿4（発表者：さくら）  
 ヨーロッパでは19世紀になると、サッカー・陸上・水泳・ラグビー・ボクシングなどで共通のルール作りが進み、私たちがよくイメージするような近代スポーツが確立したようです。

原稿5（発表者：あおい）  
 それが明治維新後の日本に入ってくるのです。外国人教師たちによって日本に伝えられた近代スポーツは、⑥遊びの要素が切り捨てられ、体を鍛えることが主な目的とされていきます。

<え>

原稿6（発表者：さくら）  
 ⑦1896年に、古代オリンピックの復活を目指して、アテネで近代オリンピックの第1回大会が開催されました。これが現在まで続くオリンピックの始まりです。

原稿7（発表者：あおい）  
 日本が参加したのは1912年第5回ストックホルム大会が最初です。この時は陸上短距離・マラソンの二人の代表選手だけが参加しました。この大会で世界のスポーツとのレベルの違いを見せつけられたそうです。

<お>

原稿8（発表者：さくら）  
 1916年には第6回ベルリン大会が予定されていましたが、第一次世界大戦中だったため、開催できませんでした。その後、日本は少しずつ参加種目を増やし、メダルも獲得するようになりましたが、⑧1940年の第12回東京大会も日本が[A]と戦争中だったために中止となってしまいます。その後アメリカなどとの戦争にも突入り、オリンピックへの道は遠のきました。日本が再びオリンピックに参加できることとなったのは、⑨第二次世界大戦後の1952年ヘルシンキ大会でした。

原稿9（発表者：あおい）  
 2020年開催予定だった東京オリンピックも昨年時点で延期となってしまいましたが、多くの人がスポーツを楽しめる機会を、大切にしたいなと思いました。  
 これで発表を終わります。

(1) 文中の下線部①について、この頃の日本は図版Aのような道具が使われていた時代でした。この時代の説明として最も近いものを次のア～エより1つ選び、記号で答えなさい。

- ア. 日本は大陸と陸続きで、大型動物を追って、大陸から人々が日本へやってきた。
- イ. 気候は温暖で、人々は狩猟や採集を中心とする生活を送っていた。
- ウ. 大陸から仏教が伝わり、日本でも仏教の教えにもとづく政治がおこなわれるようになった。
- エ. 各地に有力者が出現し、古墳がつくられるようになった。

図版A



(2) 文中の下線部②について、「393年」は日本では各地で前方後円墳がつくられた時代にあたります。この段階で日本に存在していなかったと思われるものを次のア～エより1つ選び、記号で答えなさい。



(3) 文中の下線部③について、次の各問いに答えなさい。

問1 『日本書紀』の編纂に関する説明文のうち、正しいものを次のア～エより1つ選び、記号で答えなさい。

- ア. 聖徳太子が役人の心得を示すために、『日本書紀』をつくった。
- イ. 中臣鎌足が中国の文化を研究し、その成果を『日本書紀』にまとめた。
- ウ. 聖武天皇が国家の平安を願って、仏教についての研究書として『日本書紀』を編纂させた。
- エ. 天武天皇が天皇の支配を正当化するために『日本書紀』を編纂させた。

問2 『日本書紀』が完成したころの都を、次のア～エより1つ選び、記号で答えなさい。

- ア. 平安京      イ. 平城京      ウ. 大津宮      エ. 江戸

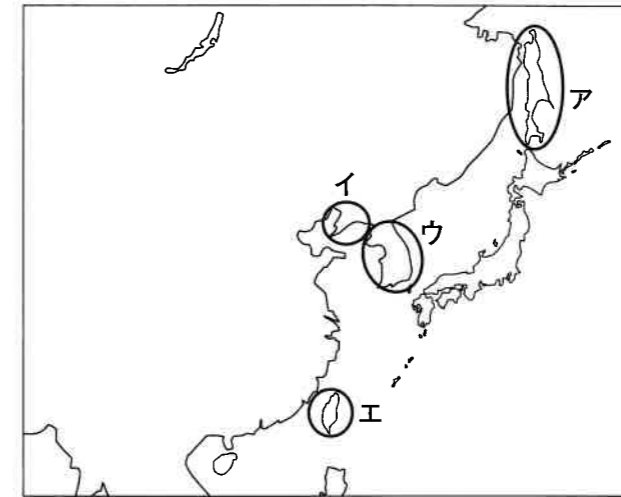
(4) 文中の下線部④について、平安時代の貴族の住宅様式を何というか答えなさい。

(5) 文中の下線部⑤について、この絵のように、江戸時代には色鮮やかな版画が数多く印刷されました。このような絵画を何というか答えなさい。



(6) 文中の下線部⑥について、この時代のスポーツが「体を鍛えることを主な目的とする」ようになったのはなぜでしょうか。当時の日本がどのような時代だったのかをふまえて、詳しく説明しなさい。

(7) 文中の下線部⑦について、この段階で日本が支配していた場所を、次の地図中のア～エより1つ選び、記号で答えなさい。



(8) 文中の下線部⑧について、[A]に当てはまる国名を答えなさい。

(9) 文中の下線部⑨について、第二次世界大戦中の日本の出来事A～Cを、年代順に正しく並べ替えなさい。

- A: アメリカ軍が太平洋の島々を占領し、日本への空襲を始めた。
- B: 日本軍がハワイの真珠湾を攻撃した。
- C: アメリカ軍が沖縄に上陸し、地上戦が行われた。

(10) 次の文章は、さくらさんとあおいさんが用意していた発表用の原稿の一部です。発表原稿の順番に組み込む場合、<あ>～<お>のどこに入れるとよいですか。記号で答えなさい。またあなたがそう考える理由も説明しなさい。

原稿の一部：

源氏や平氏といった武士たちは、相撲をたしなむとともに、流鏑馬やタカ狩りなども武芸の一つとして重視しました。

【3】 2020年の春、先生、かなこさん、さくらさんの三人は、アメリカ大統領選挙について授業をしていました。以下の会話文をよく読み、各問いに答えなさい。

先生：みんな、2020年は何があるか知っていますか？

かなこ：a 2020年はアメリカ大統領選挙の年です。大統領選挙は [ 1 ] 年に一度行われ、今年、前回大統領に選ばれた [ 2 ] 党のドナルド・トランプ氏が再選するかが注目されています。

先生：大統領は国のリーダーだから、誰が大統領になるかは常に注目されています。「首相」と呼ばれる日本の [ X ] と同じで、行政権を握る人物ですね。

さくら：日本の首相とアメリカの大統領は、何が違うんだろう？

先生：面白い疑問ですね。それには両国の政治の仕組みを知る必要がありますね。アメリカの大統領制は三権分立が厳格で、大統領は、議会が成立させた法律を拒否する権利を持っています。その点で大統領は強いリーダーシップを発揮できます。

かなこ：でも、日本の場合、b 行政権を持つ内閣が [ 3 ] 権を持つ国会の中から選ばれて、国会の信任に基づいて政治をする [ 4 ] だから、そもそも議会が成立させた法律を拒否することはないと思います。

さくら：そうすると、[ 3 ] 権と行政権の結びつきが強い日本の方が政治をしやすいたとも言えそう。

先生：するどい指摘ですね。政治の進め方として、リーダーの決断で政治を進めることができるのか、法律を作る機関と協力しやすい関係にあるのか、どの角度から見るかで行政権の捉え方も変わりそうですね。その他にも、c リーダーの選び方を両国で比較するのも有意義でしょう。では、政治以外の面での両国の関係はどうでしょう？

さくら：d 経済的にもアメリカと日本は結びつきが強いです。

先生：そうですね。そのほかにも日本はアメリカの様々な文化を取り入れています。そのことはまた別の機会に学びましょう。

(1) 空欄の [ 1 ] ~ [ 4 ] に当てはまるものを以下の語群ア~シから1つずつ選び、記号で答えなさい。

語群				
ア. 民主	イ. 立法	ウ. 議院内閣制	エ. 2	オ. 司法
カ. 幕藩体制	キ. 4	ク. 共和	ケ. 8	コ. 民法
サ. 大統領制	シ. 自民			

(2) 空欄 [ X ] には「首相」の別名が入る。[ X ] に当てはまる用語を漢字6文字で書きなさい。

(3) 下線部aに関して、2020年のアメリカ大統領選挙で当選した人物として適切なものを次のア~エより1つ選び、記号で答えなさい。

ア.



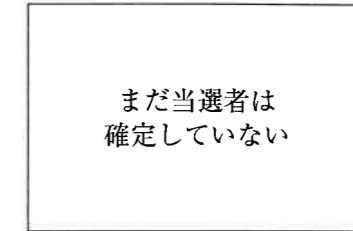
イ.



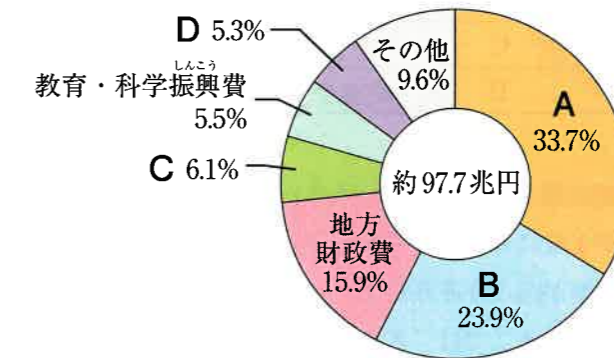
ウ.



エ.



(4) 下線部bに関して、内閣の仕事の1つに、国の予算を適切に扱うことがあります。以下のグラフは、国がどのようなことにお金を使っているかを示しています。



問：以下の文章はグラフのAについての文章です。上のグラフを参考に、Aが何の費用か次のア~エより1つ選び、記号で答えなさい。

このお金は、国民の健康や労働などに関する業務を扱う厚生労働省で主に使われます。憲法第25条の生存権を守るために、生活保護などの制度が作られています。

- ア. 国債費      イ. 社会保障費      ウ. 公共事業費      エ. 防衛費

(5) 下線部 c に関して、以下の問いに答えなさい。

問1 2020年9月、日本では、臨時国会が召集され、首相指名選挙が行われました。国会には、臨時に議論が必要な議題がある場合に召集される「臨時国会」の他に、毎年1月に召集され、約150日間開かれる国会があります。それを何というか漢字で答えなさい。

問2 日本の選挙・政治に関する文章ア～エより 間違っているもの を1つ選び、記号で答えなさい。

- ア. 選挙権を持つのは18歳以上の国民すべてである
- イ. 衆議院議員に立候補できるのは25歳以上の国民すべてである
- ウ. 参議院には解散があるため、任期満了を待たずに選挙になることがある
- エ. 衆議院の任期は参議院の任期よりも短い

問3 かなこさんたちのクラスでは、秋の文化祭の出し物について決めています。候補は3つ挙がり、A案は展示発表、B案は演劇、C案は喫茶店です。アさん～ケさんの9人の班では「多数決をしよう」となり、9人でやりたい順に順位をつけました。表1はその結果です。この結果を見たかなこさんたちの会話を読み、以下①と②の問いに答えなさい。

表1 アさん～ケさんの9人がA案、B案、C案をやりたい順に順位付けした結果

	アさん	イさん	ウさん	エさん	オさん	カさん	キさん	クさん	ケさん
1位	A	A	A	A	B	B	B	C	C
2位	C	C	C	C	C	C	C	B	B
3位	B	B	B	B	A	A	A	A	A

先生 : この結果を見て、どの案を選ぶべきだと思いますか。

かなこ : やっぱ一番多くの人が1位にしているA案を選ぶべきじゃないですか？

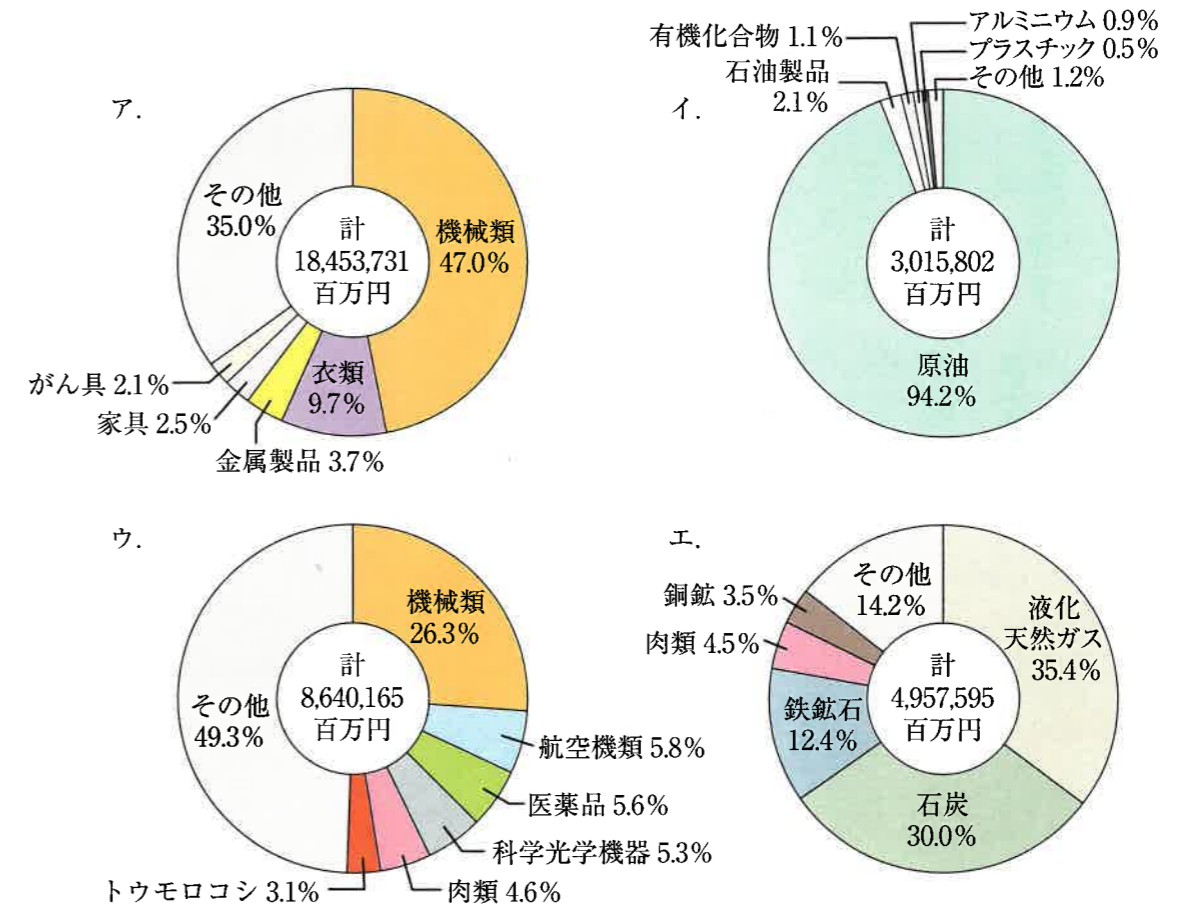
さくら : でも、A案を選ぶのも問題が起こりそうだよ。だって、[ Y ] だから。

先生 : さくらさんの心配はわかります。では、どうするべきでしょうか。

① [ Y ] に入る文章を考えて書きなさい。

② A案以外を選ぶとして、表1の結果からあなたならB案かC案のどちらを選びますか。理由と共に答えなさい。

(6) 下線部 d に関して、以下のア～エは、アメリカ、中国、サウジアラビア、オーストラリアからの輸入品目を示したグラフです。この中から「アメリカから日本へ輸入された品目」を示しているグラフを次のア～エより1つ選び、記号で答えなさい。



【日本国勢図会2020 / 21 第78版】より

2021年度

神奈川学園中学校入学考査 社 会 解答用紙 (A日程)

受験 番号		名前		得点	
----------	--	----	--	----	--

【1】	(1)	X:	Y:	(2)	(3)		
	(4)						
	(5)	問1	問2				
【2】	(1)	(2)	(3)	問1	問2		
	(4)				(5)		
	(6)						
	(7)	(8)	(9)	→	→		
	(10)	記号	理由				
【3】	(1)	[1]	[2]	[3]	[4]		
	(2)				(3)	(4)	
	(5)	問1				問2	
		問3	①				
	②						
	(6)						