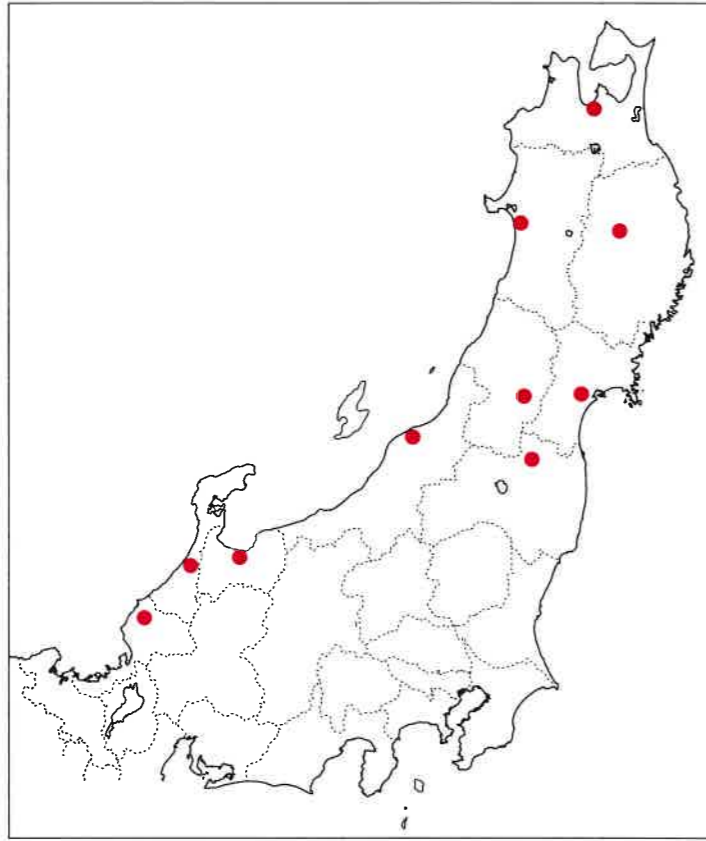


【1】「地域の違い」に関する以下の文章を読み、各問いに答えなさい。

図1



日本列島は東西南北に大きく広がった弧状の地形をしているため、同じ「日本」といっても様々な違いがみられます。こうした違いを比べながらそれぞれの地方の特性をきちんと理解することが大切です。

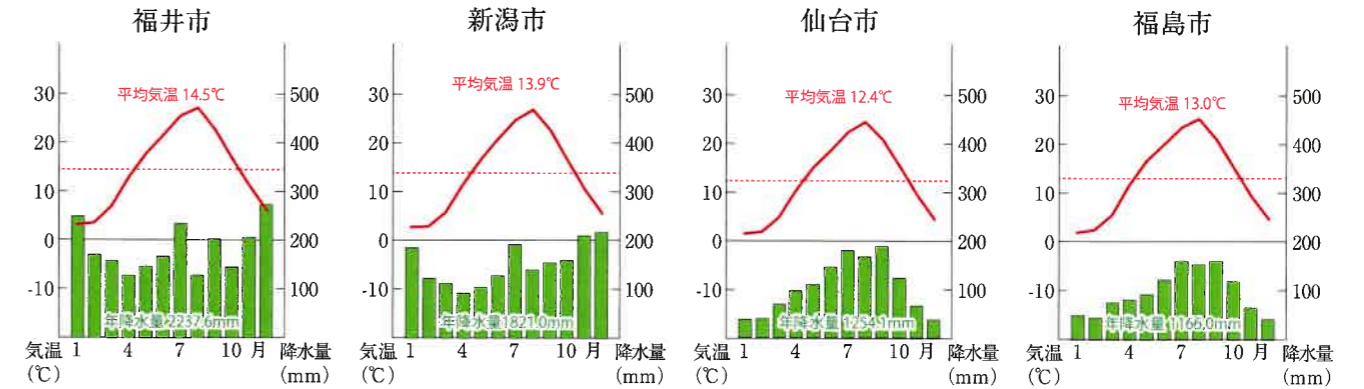
さて、今回は「東北地方」と「北陸地方」について比べてみます。まずは図1をご覧ください。図1は東北・北陸地方の地図に、県庁所在地の位置を記入したものになります。これらの地域では、a 太平洋側と日本海側の都市を比較する事で、気候の違いがよくわかります。例えば（あ）。このような気候を作っている大きな要因として、東北地方の（A）や、北陸地方の（B）の存在があげられます。

さて、これら地域では稲作を中心としたX農業が盛んですが、一方で農作物に被害が出るような自然災害も発生します。例えば、太平洋側で夏に海から陸へ（C）が吹く事で発生する冷害などは、発生する地域に傾向があり、農業に被害が出やすい自然災害といえます。

また、地形的な特徴も大切です。東北地方の太平洋側には、Yリアス海岸と呼ばれる、漁港を設置したり、養殖漁業を行うのに適した地形が存在しています。一方で、Zリアス海岸は地震などの際に、津波の被害が大きくなりやすいという特徴もあります。この地方の人々は、こうした地形の特徴の両面を理解しながら、活用してきました。

(1) 以下は、東北・北陸地方の4つの都市の雨温図です。文中の空欄（あ）に入る、下線部aの説明に沿った適切な文章を次のア～エより1つ選び、記号で答えなさい。

- ア. 福井市と仙台市を比較すると、日本海側にある仙台市の方が平均気温が低いですね。
- イ. 仙台市と福島市を比較すると、太平洋側にある福島市の方が平均気温が高いですね。
- ウ. 福井市と新潟市を比較すると、太平洋側にある福井市の方が冬の降水量が多いですね。
- エ. 新潟市と福島市を比較すると、日本海側にある新潟市の方が冬の降水量が多いですね。



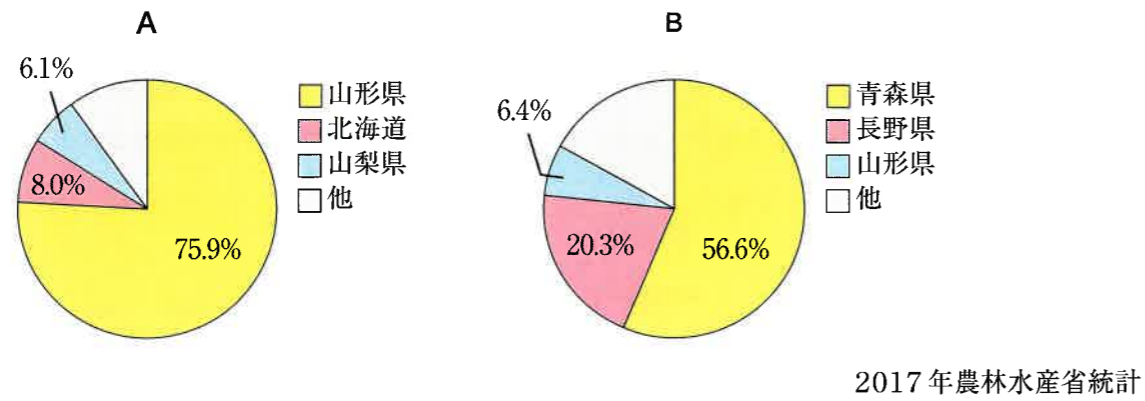
(2) 空欄（A）・（B）に入る山脈の名称として、適切な組み合わせを次のア～エより1つ選び、記号で答えなさい。

- ア. A = 越後山脈 B = 奥羽山脈 イ. A = 越後山脈 B = 日高山脈
- ウ. A = 奥羽山脈 B = 越後山脈 エ. A = 奥羽山脈 B = 日高山脈

(3) 空欄（C）に入る適切な風の名称を次のア～エより1つ選び、記号で答えなさい。

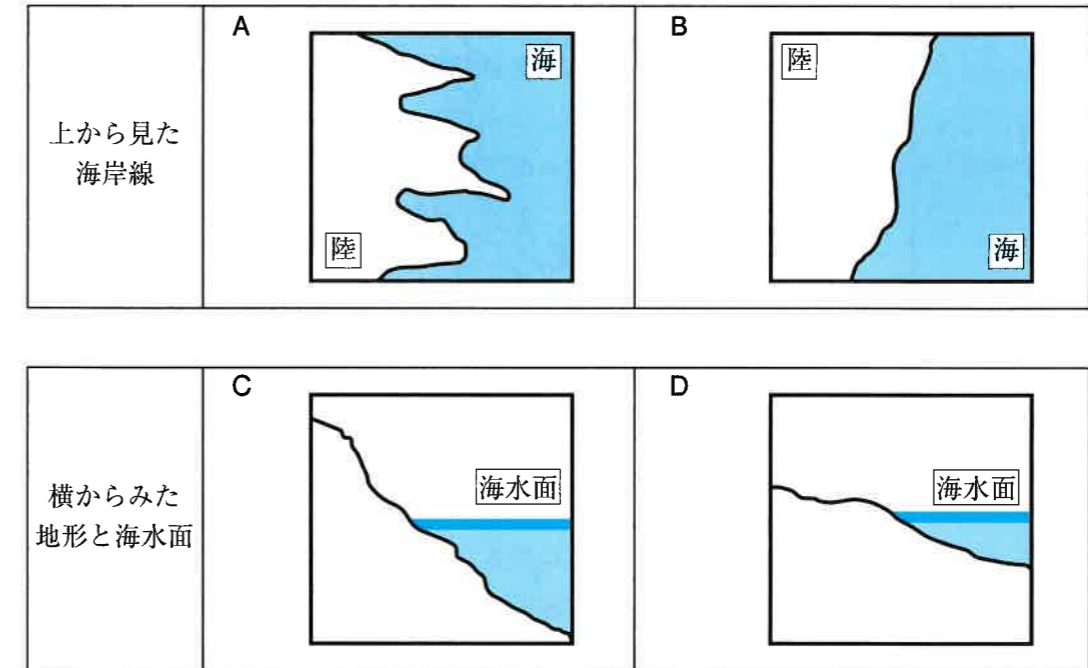
- ア. おろし イ. やませ ウ. からっ風 エ. あらし

(4) 下線部Xについて、以下は東北地方などで主に栽培されている農産物の都道府県別生産量を表したグラフです。A・Bのグラフがあらわす作物の組み合わせを、下のア～カより1つ選び、記号で答えなさい。



- | | | | |
|--------------|-----------|--------------|---------|
| ア. A = りんご | B = さくらんぼ | イ. A = りんご | B = ぶどう |
| ウ. A = みかん | B = りんご | エ. A = みかん | B = ぶどう |
| オ. A = さくらんぼ | B = りんご | カ. A = さくらんぼ | B = ぶどう |

(5) 下線部Yについて、リアス海岸が漁港の建設や養殖漁業に適している理由は、地形の形にあります。リアス海岸の地形について、見下ろした形状A・Bと、断面図C・Dから、それぞれ適切なものを選び、組み合わせとして正しいものを次のア～エより1つ選び、記号で答えなさい。

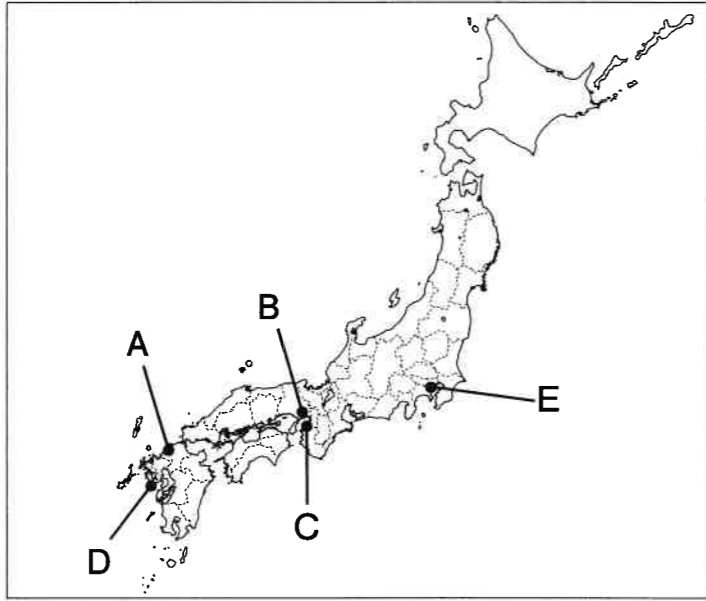


- | | | | |
|------------|---------|------------|---------|
| ア. 上から = A | 横から = C | イ. 上から = A | 横から = D |
| ウ. 上から = B | 横から = C | エ. 上から = B | 横から = D |

(6) 下線部Zについて、今年から国土地理院は下記のような、「自然災害伝承碑」の地図記号を新しく設定しました。今後、日本各地にある災害に関する伝承碑や慰霊碑などを調査して、地図に載せていく事が決まっています。
これについて、なぜ国土地理院はこのような地図記号を設置したと思いますか。また、あなたがこの地図記号を活用するとしたら、どのように活用したいか、あなたの考えを述べて下さい。



【2】 次の地図中A～Eは、日本の歴史に深く関わりのある港や港町を示しています。これらの港・港町に関する説明文を読み、下記の各問いに答えなさい。(地図中A～Eと、説明文A～Eは対応しています。)



- A. ①中大兄皇子は、外国からの使節を迎える役所があるこの場所を守るために、水城と呼ばれる堀をつくり、防人と呼ばれる兵士を全国から集めた。
- B. ②平清盛は③中国との貿易を進めるために、この港を整備した。
- C. この港町は貿易だけでなく、ヨーロッパから伝わった [1] を大量に生産して栄えた。
- D. 江戸時代には貿易の相手国を、[2] 教を広めるおそれのないオランダと中国に限り、貿易船の出入りは④この港の「出島」に限って認められた。
- E. この港は [3] 条約で開港され、生糸がこの港から大量に輸出された。

(1) Aについて、下線部①の「中大兄皇子」に関する説明文として正しいものを次のア～エより1つ選び、記号で答えなさい。

- ア. 中臣鎌足とともに蘇我氏を倒し、天皇を中心とする国づくりをすすめた。
 イ. のちに天武天皇として即位した。
 ウ. 中国にならって、日本で最初の本格的な都である平城京をつくった。
 エ. 役人の心得として、十七条の憲法を定めた。

(2) Bについて、以下の各問いに答えなさい。

問1 下線部②の「平清盛」に関する説明文として正しいものを次のア～エより1つ選び、記号で答えなさい。

- ア. 娘を天皇の後として、征夷大將軍となった。
 イ. 平治の乱で源氏を破り、太政大臣となって権力を握った。
 ウ. 守護・地頭を置いて、鎌倉を拠点として全国を支配した。
 エ. 平泉を拠点として、馬と金で財力を得た。

問2 下線部③の「中国」は、当時何という国であったか。次のア～エより1つ選び、記号で答えなさい。

- ア. 隋 イ. 唐 ウ. 宋 エ. 元

(3) Cについて、空欄 [1] に当てはまる語句を答えなさい。

(4) Dについて、以下の各問いに答えなさい。

問1 空欄 [2] に当てはまる語句を答えなさい。

問2 下線部④「出島」のある港町の名を答えなさい。

(5) Eについて、空欄 [3] に当てはまる語を答えなさい。

【3】 さくらさんたちは、外国からの留学生に「日本の歴史と文化」を紹介するため、いくつかの写真を用いてカードを作成しています。それぞれの写真と説明文を読み、下記の各問いに答えなさい。

さくらさん：

写真Aは、弥生時代の [1] とよばれる建物です。この時代に大陸から稲作の文化が伝わり、[1] は収穫した稲を保管するために使われていました。稲作が始まったことで日本の生活は大きく変化し、また水や土地をめぐる争いも起こるようになり、強いムラの指導者は豪族となって周りのムラを従え、日本各地にクニがつくられていきました。そのクニの王や豪族の力の大きさを示す遺跡が、古墳と呼ばれる権力者の墓です。写真Bは、大阪にある①大仙古墳で、日本最大の古墳です。

A



B



みどりさん：

日本の歴史と仏教には深いかわりがあります。写真Cは [2] 寺にある大仏です。聖武天皇が仏教の力で社会の不安を鎮めて国を治めようと思い、大仏をつくることを命じたそうです。また、平安時代に権力を握った貴族である [3] 氏の中には、世の中の不安から逃れて死後は極楽浄土に行くことを願い、写真Dのような平等院鳳凰堂を建てた人物もいました。

C




D



あきこさん：

明治時代になると②政府はさまざまな改革をすすめて、西洋の国々と対等に付き合えるような国づくりを目指しました。図版Eは、その一環として政府がつくった官営の製糸場です。ここには最新式の機械が導入され、製糸業の育成がすすめられました。

E



ゆきこさん：

20世紀に入ると、世界的な不景気を背景に日本も大不況に見舞われ、軍の指導者や政治家は中国東北部を手に入れば国民の生活はよくなる、として中国との戦争に突き進んでしまいました。日中戦争が長期化する中で【あ】との戦争もはじめ、国民生活を犠牲にして戦争を続けました。やがて日本の主な都市は空襲を受け、1945年8月には [4] ・長崎に原爆が投下され、日本は敗戦しました。写真Fの建物はこの戦争の記憶を失わないよう、原爆で破壊された状態で保存され、戦争の恐ろしさや平和の尊さを訴え続けています。

F



(1) 文中の [1] ~ [4] に当てはまる語句を答えなさい。

(2) 文中の下線部について、次の各問いに答えなさい。

問1 下線部①について、この古墳のように、円と四角形を組み合わせた形の古墳を何と呼ぶか、答えなさい。

問2 下線部②について、これらの改革に反発した人々の動きに関する説明文として正しいものを次のア～エより1つ選び、記号で答えなさい。

- ア. 武士としての収入を失い、生活に困るようになった士族を率いて、板垣退助が西南戦争を起こした。
- イ. 西郷隆盛は国会の開設と憲法制定を目指した自由民権運動を起こした。
- ウ. 1890年に政府は、10年後に国会を開設することを約束した。
- エ. 大隈重信は国会開設に先立って立憲改進黨という政党を結成した。

(3) 文中の【 あ 】にあてはまる国の組み合わせとして正しいものを次のア～エより1つ選び、記号で答えなさい。

- ア. アメリカやイギリス
- イ. アメリカやドイツ
- ウ. フランスや朝鮮
- エ. フランスやイタリア

(4) あなたが外国の友人に「日本の文化」について説明するとしたら、どの図版を使って、何を伝えたいですか。次の図版X～Zのうち1つを選び、その図版を使って説明文をつくりなさい。

(図版の名称もしくはその特徴などを説明に入れること。)

X



Y



Z



【4】 次の文章を読み、問いに答えなさい。

a 2019年には、参議院選挙が実施されました。日本の**b**国会には衆議院と参議院があり、同じように法律や予算の審議を行います。が、c議員の数や任期、また権限などに違いがあります。参議院選挙は3年に一度必ず実施され、これまでは7月に行われてきました。選挙はその時に国民が強い関心を持っている問題が争点になります。2019年の参議院選挙では、消費税問題、d年金問題、e日本国憲法やf憲法改正について話題になりました。また、選挙の争点とともに関心を集めたのがg投票率でした。

(1) 下線部a、2019年に実施された参議院選挙の様子や、その結果について示した説明文として正しいものを次のア～エより1つ選び、記号で答えなさい。

- ア. 自民党が大きく支持率を低下させ議席を減らした。
- イ. 車椅子の議員が国会に出席できるよう、国会議事堂のバリアフリー化が行われた。
- ウ. 戦後の参議院選挙の中では二番目に高い投票率だった。
- エ. この選挙の後に内閣が総辞職し、新しい内閣総理大臣が選ばれた。

(2) 下線部b、日本の国会について各問いに答えなさい。

問1 国会の位置付けについて定めた次の憲法条文の空欄()に当てはまる語を入れなさい。

「国会は、国権の最高機関であり、国の唯一の()機関である。」

問2 国会議員の身分や職務について述べた以下の文章のうち正しいものを次のア～エより1つ選び、記号で答えなさい。

- ア. 国会議員は国民のためにボランティアで行うものなので、収入は別の仕事で得ている議員がほとんどである。
- イ. 国会議員の発言は社会への影響が大きいため、国会での発言の内容が国民の反発を受けた場合は逮捕されることもある。
- ウ. 日本では、国会議員を親子二代で務めている人がいるが、それは国会議員の家族が優先的に議員になれる取り決めがあるからである。
- エ. 国会議員には、特別国会が開かれたときに内閣総理大臣を投票で決めるという役割もある。

- (3) 下線部 c、衆議院の任期は四年です。以下の表は最近4回の衆議院の選挙が行われた年月を示したものです。これに関して以下の各問いに答えなさい。

第45回	2009年 8月
第46回	2012年 12月
第47回	2014年 12月
第48回	2017年 10月

- 問1 これを見ると、任期である四年を迎える前に選挙が行われていることがわかります。なぜこのような間隔で選挙が行われているか、答えなさい。
- 問2 参議院と衆議院ではしくみや権限に違いがあります。そのことについて述べた次の文章のア～エより、まちが間違っているものを1つ選び、記号で答えなさい。
- ア. 予算案は必ず衆議院から先に審議するという決まりがある。
- イ. 衆議院と参議院で異なった議決が行われた場合、衆議院の議決を優先する場合がある。
- ウ. 衆議院選挙に立候補できる年齢は25歳以上、参議院選挙に立候補できる年齢は30歳以上である。
- エ. 内閣総理大臣とその他の国務大臣に就くことができるのは衆議院議員だけである。

- (4) 下線部 d、年金制度について各問いに答えなさい。

- 問1 年金のしくみについて、以下の文章のせいご正誤の組み合わせとして正しいものを次のア～エより1つ選び、記号で答えなさい。

- A 働く世代が収める年金の保険料は、その時々の高齢者の年金給付に用いられている。
- B 20歳以上の国民が公的な年金に加入することは義務ではなく、自由に選んでよいとされている。

ア. A = 正 B = 正 イ. A = 正 B = 誤 ウ. A = 誤 B = 正 エ. A = 誤 B = 誤

- 問2 年金は社会保障制度の一つです。社会保障について定めた次の憲法条文について、各問いに答えなさい。

「すべて国民は、健康で文化的な最低限度の生活を営む権利を有する。()は、すべての生活部面について、社会福祉、社会保障及び公衆衛生の向上及び増進に努めなければならない。」

- ① 文中下線部のような基本的人権を特に何というか、解答欄に沿って答えなさい。
- ② 文中の()に当てはまる語を答えなさい。

- (5) 下線部 e、日本国憲法に関する以下の各問いに答えなさい。

- 問1 日本国憲法には三つの原則があります。「平和主義」「基本的人権の尊重」とあと1つを答えなさい。

- 問2 基本的人権の意味をあらためて考えるため、世界の状況を例に考えてみましょう。子どもの基本的人権について定めた「子どもの権利条約」では、子どもが「社会において個人として生活するため十分な準備が整えられるべき」と定められています。「個人として生活する」にはいろんな意味がありますが、ここでは次の<資料1>のようなことと考えます。

<資料1 「個人として生活する」ことの例>

- ア. 自分の生き方を自分で決めることができる。たとえば学問・職業・結婚などを自分の意志で決めることができる。
- イ. 経済的に自立できる。つまり働いてよい年齢になったら仕事をして、生活に必要な収入や物が得られること。
- ウ. 社会的な活動に参加できる。たとえば地域の役割、ボランティア、政治に参加することなど。

現在、世界には次のような生活を送る子ども達があります。次の文章は、開発途上国に関する様々な報告を参考に、架空のある少女について書いたものです。

<資料2 ある少女の生活>

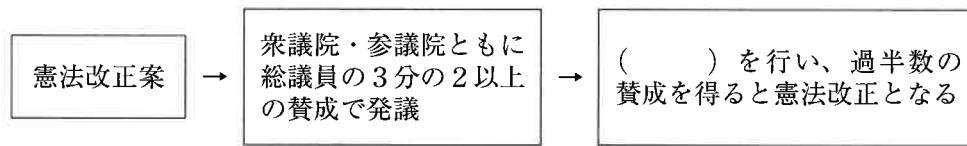
ある国に生まれた少女は5人きょうだいの次女で、5人のきょうだいのうち2人は赤ちゃんのときに栄養不足や病気で命を失ってしまった。

この少女は6歳になったとき、兄と一緒に家の手伝いをするようになった。電力や水道のない場所で暮らす少女の毎日は、早朝の暗いうちから、大きな容器をかつぎ、歩いて3時間かかる川まで生活に使う水を汲みに行くことから始まる。帰宅したら午後になっている。その後、家畜の世話をし、幼いきょうだいの面倒を見ると、1日が終わる。日が沈むと家の中も外も真っ暗になり、何もできないので就寝する。食事は1日2食なので昼食はない。そんな生活は14歳まで続いた。

14歳になったある日、知らない大人の男性がやってきて、少女の両親と何か話していた。次の日両親から「おまえはあの男の人と結婚しなさい。」といわれ、少女はその男の人と結婚した。その後、出産をして18歳になった彼女の生活は、生まれた子どもの世話や家事に追われる忙しい毎日だ。将来は人の役に立つことがしたいと思っていたが、そのための技術や能力を身に付ける時間もほとんどない。

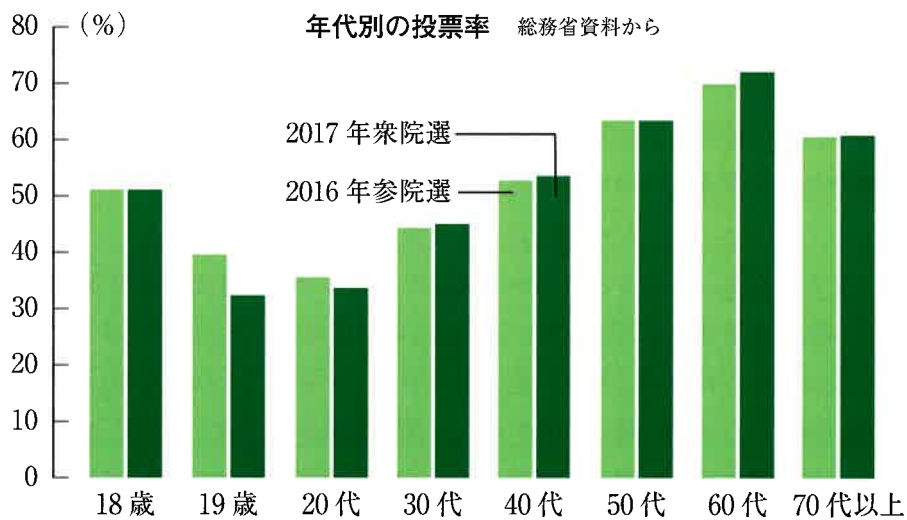
- ① この文章では、ある少女が18歳になるまでの歩みを描きましたが、「社会において個人として生活」できているとは言えません。それはなぜか、<資料1>と<資料2>を読み、具体的に答えなさい。
- ② この少女が暮らす「ある国」に、子どもが「個人として生活するための十分な準備」ができるようになるための新しいルールやしくみを作る提案を1つできるとしたら、あなたならどのような提案をしますか。理由とともに述べなさい。

(6) 下線部 f、次の図は、憲法改正の流れを示しています。() に当てはまる語を次のア～エより1つ選び、記号で答えなさい。



- ア. 住民投票 イ. 指名投票 ウ. 期日前投票 エ. 国民投票

(7) 下線部 g、選挙における投票率について、次のようなデータがあります。最近行われた二度の国政選挙の年代別の投票率です。このグラフから考えられることを述べた2つの文章A・Bの正誤の組み合わせとして正しいものを次のア～エより1つ選び、記号で答えなさい。



2019年7月17日朝日新聞掲載の資料より

A 両方の選挙に共通して、高齢になればなるほど投票に行く人の割合が増えているという特徴がある。
 B 10代・20代の若い世代を見ると、2016年より2017年の方が投票率が上がっており、選挙への関心が高くなったと言える。

- ア. A = 正 B = 正 イ. A = 正 B = 誤 ウ. A = 誤 B = 正 エ. A = 誤 B = 誤

2020 年度

神奈川県立中学校入学考査 社 会 解答用紙 (A日程)

受験 番号		名前		得点	
----------	--	----	--	----	--

【1】	(1)		(2)		(3)		(4)		(5)			
	(6)	なぜ 活用										
【2】	(1)		(2)	問1		問2		(3)				
	(4)	問1					問2					
	(5)	条約										
【3】	(1)	[1]					[2]					
		[3]					[4]					
	(2)	問1					問2		(3)			
	(4)	選んだ図版 の記号										
【4】	(1)		(2)	問1					問2			
	(3)	問1						問2				
	(4)	問1		問2	①	権			②			
	(5)	問1										
		問2	①									
	(6)		(7)									