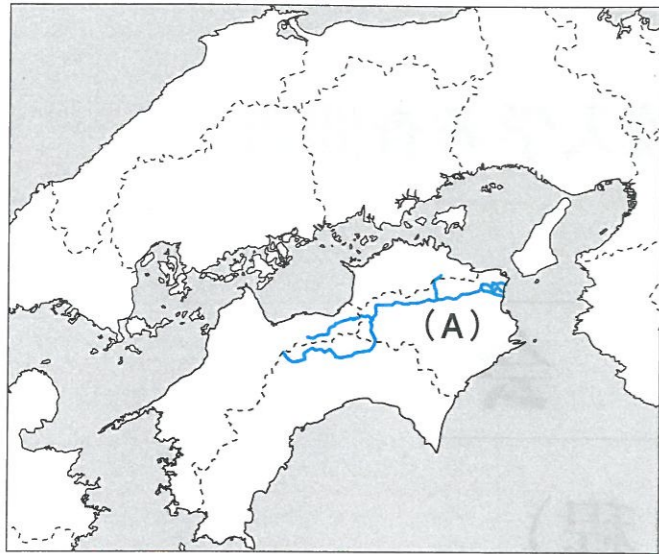
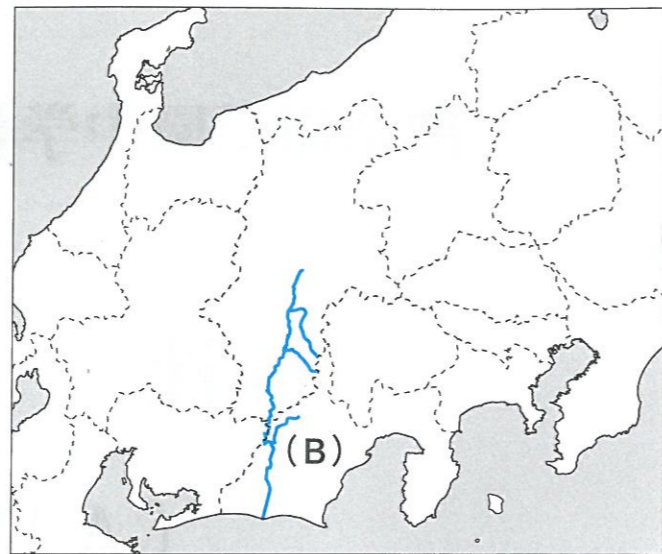


【1】 以下の地図を見て、問いに答えなさい。

地図1



地図2



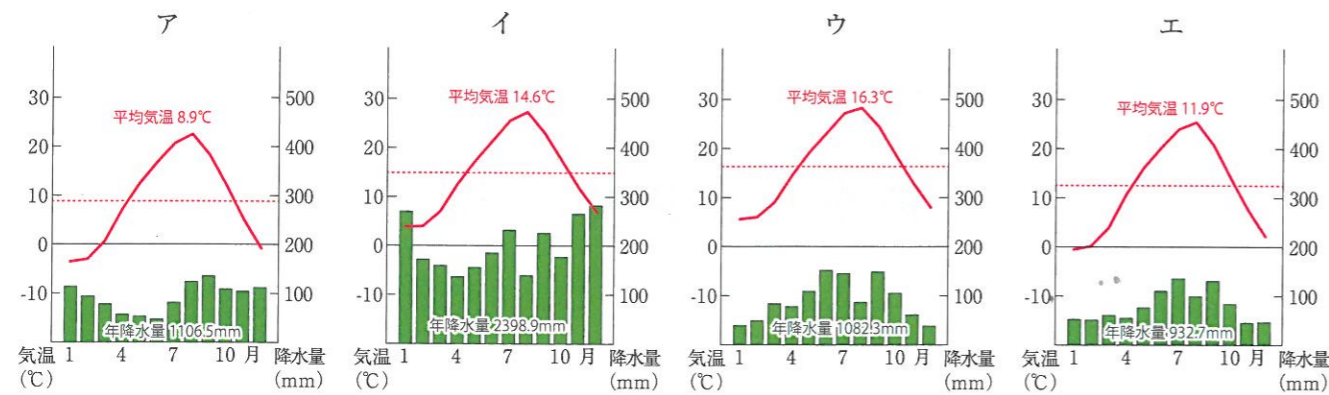
上記地図1・2の地図内の地域には、**a**瀬戸内海周辺の「瀬戸内式気候」や、中部地方の内陸地域の「中央高地式気候」とよばれる気候が分布しています。これらの気候は、どちらもその地域に存在する山地や山脈の影響を強くうけて作られている点で、似た特徴を持った気候であるといえます。一方で、瀬戸内式気候と中央高地式気候には明確に異なる点もあり、その**b**最大の違いは海と面しているかどうかにあるといえます。

(1) 地図1・2内にある河川(A)・(B)について、以下の説明文を参考にして、その名称を答えなさい。

河川(A) 四国で最大の流域面積を持っており、複数の河川が合流し水害が多発してきたことから日本三大暴れ川の一つとされる。四国の山中に水源をもち、河口は徳島県にある。

河川(B) 諏訪湖を水源として木曾山脈と赤石山脈の間の狭い土地を流れていく河川で、古くから水害が多い事で有名だった。現在では、この急流を利用した川下りが観光の目玉となっている。

(2) 下線部**a**について、以下の雨温図から瀬戸内式気候にあたる「高松市(香川県)」のものを次のア～エより1つ選び、記号で答えなさい。なお、他の雨温図はそれぞれ札幌市、長野市、金沢市のものです。

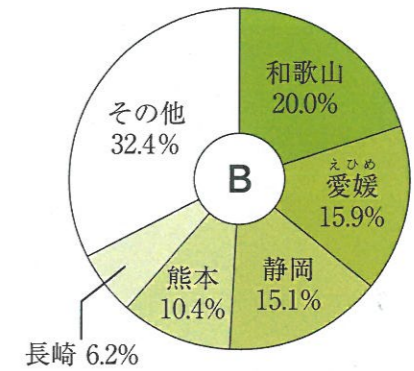
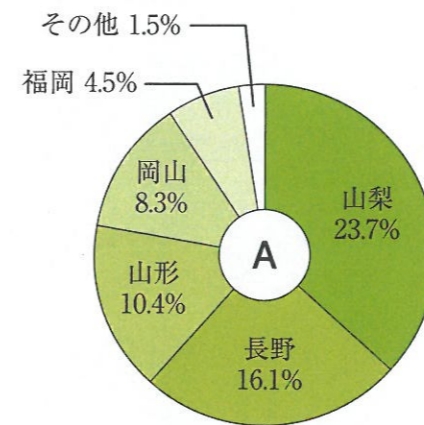


(3) 下線部**b**について、「海と面しているかどうか」は気候にどのような影響を与えますか。以下の文章を読み (X) (Y) に適切な語句の組み合わせを下のア～エより1つ選び、記号で答えなさい。

海に面していない内陸地域は、海に面した沿岸地域と比べると気温の変化が (X) になりやすく、特に山に囲まれた盆地ではその傾向が出やすい。一方で、海に近い沿岸地域ほど、海から発生した湿気や水蒸気の影響を受けやすく、その影響で降水量が (Y) になりがちである。

- ア. X = 大きく Y = 多く イ. X = 大きく Y = 少なく
 ウ. X = 小さく Y = 多く エ. X = 小さく Y = 少なく

(4) 以下のグラフA・Bは、ある農作物の都道府県別生産量を表したものです。これについて、それぞれのグラフはどの作物を表しているのですか。グラフA・Bと農作物の組み合わせとして正しいものを下のア～カより1つ選び、記号で答えなさい。



(平成28年度 農林水産省 作物統計より)

- ア. A = ミカン B = リンゴ イ. A = ミカン B = ブドウ
 ウ. A = ブドウ B = ミカン エ. A = ブドウ B = リンゴ
 オ. A = リンゴ B = ミカン カ. A = リンゴ B = ブドウ

(5) 昨年7月の西日本豪雨では、各地で大きな浸水被害が生じました。これに関して、次の資料Aおよび資料Bは、岡山県真備町で発生した浸水に関する、国土地理院の資料を元にした地図です。この資料に関する文章X・Yの正誤の組み合わせとして正しいものを下のア～エより1つ選び、記号で答えなさい。

- X 資料Aと資料Bを比較すると、浸水被害は川に面していて、標高の低い土地に集中していた事が分かる。
- Y 資料Aから、この浸水被害は高梁川と小田川が合流する地点にあった堤防の決壊※によって起きた事が分かる。

※堤防の決壊=堤防が破壊される事

ア. X=正 Y=正 イ. X=正 Y=誤 ウ. X=誤 Y=正 エ. X=誤 Y=誤

資料A



資料B



(6) 日本列島は山がちな地形で、急流も多い事から、人々は古くから水害に悩まされ、それに対して様々な水害対策を考えてきました。その一つが、写真(1・2)の、「沈下橋」と呼ばれる独特な形状の橋です。私たちが日ごろよく目にする写真(3・4)のような一般的な橋と比べた時、なぜ沈下橋は「水害対策」になっているといえるのか、一般的な橋の周辺で水害が起きた時の様子をうつした写真(5・6)も参考にしながら、具体的に説明しなさい。

写真1：高知県四万十市 高瀬沈下橋



写真2：高知県四万十市 半家沈下橋 (手前)



写真3：横浜市西区 浅岡橋



写真4：横浜市鶴見区 末吉橋




写真5：平成29年北九州豪雨福岡県朝倉市



写真6：平成28年台風10号岩手県岩泉町



【2】 次の会話文を読んで、以下の各問に答えなさい。

けい子：いよいよ今年で「平成」が終わるわね。これまで私たちが学習してきた日本の歴史における様々な時代の名前って、どのようなものがあったのかな。

かな子：教科書の年表を見てみましょう。時代の移り変わりはこのようになっているわね。

- ①縄文時代→②弥生時代→③古墳時代→④飛鳥時代→⑤奈良時代→⑥平安時代→⑦鎌倉時代→⑧室町時代→⑨戦国時代→⑩安土桃山時代→⑪江戸時代→⑫明治時代→⑬大正時代→⑭昭和時代→⑮平成時代

けい子：これを見ると、**a** 明治時代より前は、都の名前や地名が時代の名前に使われているのかな。

かな子：そうね、ただ **b** 明治時代より前でも、それ以外の理由でつけられている時代の名前がいくつかあるわよ。

けい子：本当だわ。ところでかな子は時代の移り変わりの中で、一番大きな変化だったと思うのはどこ？

かな子：**c** ⑪から⑫の変化かな。政治の担い手が大きく変化しているもの。

けい子：なるほどね。それなら **d** ⑥から⑦も、同じように政治の担い手が変わっていて大きな変化よ。

かな子：でもよく考えたら、同じ時代の中で、政治の担い手が変わったといえる時代もあるように思うわ。例えば **e** 大きな戦争を経験した昭和時代はどう？

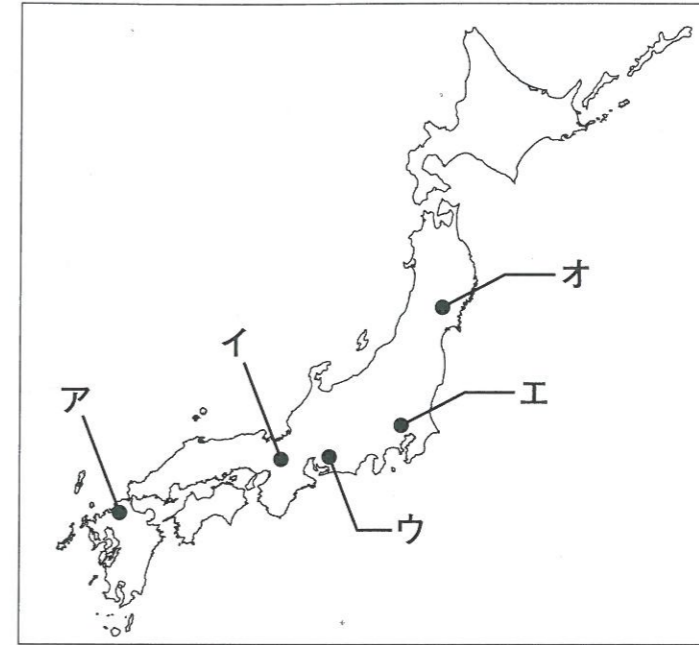
けい子：そうね。政治の担い手と時代の区分が一致しているとは必ずしも言えないってことね。

かな子：時代の名前と区分は絶対的なものではないし、あいまいな部分もあるわ。あくまで私たちが過去を理解しやすくするためのものよ。だから今後、過去の時代の名前と区分が変わっていく可能性も大いにあるわね。

(1) 次のア～ウの写真や図は、それぞれどの時代と最も関係していますか。適切な時代を会話文中の①～⑮からそれぞれ1つずつ選び、番号で答えなさい。



(2) 下線部 **a** について、会話文中の⑥の時代の都の位置を、次の地図中のア～オの都市より1つ選び、記号で答えなさい。



(3) 下線部 **b** について、都の名前や地名以外の理由でつけられている時代の名前を会話文中の①～⑮から1つ選び、番号で答えなさい。その上で、その時代の名前の由来を説明しなさい。

(4) 下線部 **c** について、この⑪から⑫の時代の移り変わりの際に、当時政権を持っていた人物が政権を返した出来事を何というか、答えなさい。

(5) 下線部 **d** について、例えば上記(4)の⑪から⑫では、政治の担い手が「武士」から「天皇」へと変化したといえます。では、⑥から⑦にかけては、政治の担い手はどのように変化したといえますか。解答欄に合うように答えなさい。

(6) 下線部 **e** について、以下の各問に答えなさい。

問1 「政治の担い手」に関する昭和時代の出来事として間違っているものを次のア～ウより1つ選び、記号で答えなさい。すべて正しい場合は「エ」と解答しなさい。


- ア. 女性参政権が認められた。
- イ. 一部の軍人たちによって首相が暗殺された。
- ウ. 主権を天皇のものとする憲法が公布された。

問2 下線部中の昭和時代に経験した「大きな戦争」について、この戦争中に日本が新たに占領した地域として正しいものを次のア～エより1つ選び、記号で答えなさい。

- ア. 朝鮮半島
- イ. マレー半島
- ウ. 台湾
- エ. インド

【3】 次の3つの資料をみて、以下の各問に答えなさい。


資料A



資料B



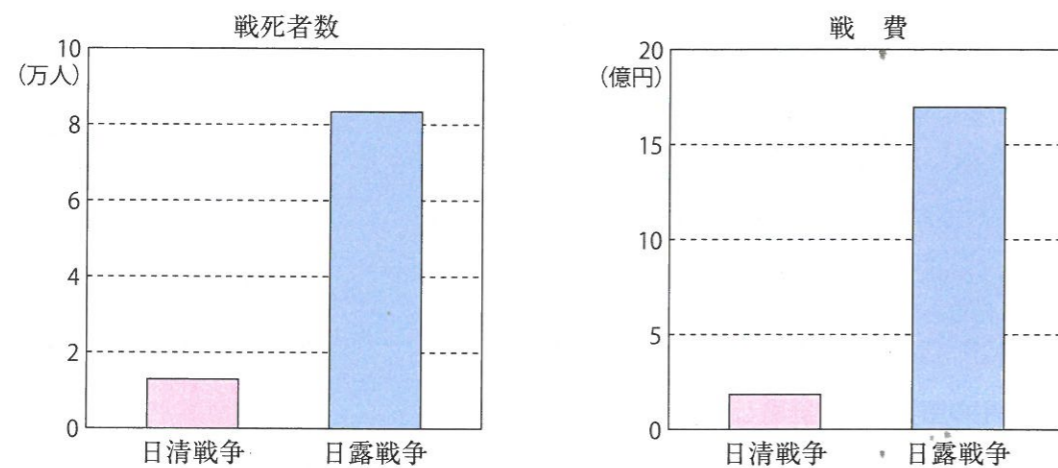
資料C



(1) 資料Aについて、以下の各問に答えなさい。

問1 この写真は日清戦争の賠償金の一部を用いて建てられた施設です。この名前を答えなさい。

問2 日清戦争と、その10年後に開戦した日露戦争の結果は全く異なるものでしたが、その違いは結果だけではありませんでした。下の2つのグラフをふまえて、日露戦争の特徴について、日清戦争と比較しながら説明しなさい。



グラフ：日清日露戦争の戦死者数・戦費

(2) 資料Bについて、以下の各問に答えなさい。

問1 これは空襲を受ける兵庫県神戸市の様子です。このような日本に対する空襲を避けるため、特に都市の子どもたちが地方に移住したことを何というか、答えなさい。

問2 この空襲が行われた戦争に関する説明として誤っているものを次のア～エより1つ選び、記号で答えなさい。

- ア. この戦争で、日本では地上戦は行われなかった。
- イ. この戦争では、軍人だけでなく多くの民間人も犠牲になった。
- ウ. 日本の同盟国であるイタリアやドイツが先に降伏する中、日本は戦争を続けた。
- エ. この戦争中、学校の教科書には戦争に関する内容が多くなるようになった。

(3) 資料Cについて、以下の各問に答えなさい。

問1 この資料が描いた運動において、国民から開設が要求されたものは何か、答えなさい。

問2 この運動では、上記問1の要求の他に、外国と結んだある条約の改正も要求されました。この改正を求められた条約について述べた次の短文X・Yの正誤の組み合わせとして正しいものを下のア～エより1つ選び、記号で答えなさい。

- X この条約では、日本は輸入品に対し自由に税金をかける権利が認められていた。
- Y この条約は、第二次世界大戦後によく改正を達成した。

- ア. X=正 Y=正
- イ. X=正 Y=誤
- ウ. X=誤 Y=正
- エ. X=誤 Y=誤

(4) 資料A、B、Cを年代順に並び替えなさい。

【4】 以下の文章を読み、各問に答えなさい。

近年、地球環境を汚染するものとして話題になることが増えたのが「**a** 海洋プラスチックごみ」の問題です。毎年6月5日は「世界環境デー」とされていますが、2018年のこの日に**b** 国際連合の事務総長が行なったスピーチでは「伝えるべきことはただ一つ、プラスチックによる汚染をなくすことである」と強調しました。同じく6月に**c** カナダで開かれた主要7カ国首脳会議では、プラスチックごみのもとになるプラスチック製品の利用を中止できるかどうかことが話題になりました。こうしたこともあり、欧米では、徐々に**X** プラスチックの使用そのものを減らしていくようになり、世界的な大手コーヒーチェーン店がプラスチックのストローの使用を取りやめるなど、話題になっています。

では日本はこの問題にどう取り組んでいるのでしょうか。日本では、**d** 戦後の高度経済成長期になって急速にプラスチックの生産が増え、現在もプラスチックの生産・利用ともに世界で上位に入ります。現在、日本では、プラスチックごみの分別回収が進んでおり、再び別のプラスチック製品に**Y** 再生利用する技術の開発が進んでいます。一方、プラスチックごみの減量化については、いくつかの企業が取り組みを始めている状況です。

また、この海洋プラスチックごみの問題は、**e** 温室効果ガスによる地球温暖化の問題と同じく、国ごとに努力するだけでは難しい問題があり、大きな課題といえます。しかし、先ほどの主要7カ国首脳会議で、**f** 日本はプラスチックの利用を中止することには慎重な立場を取りました。このように、国や地域によって考え方の違いもあり、世界共通のルールを作る取り組みはあまり進んでいません。

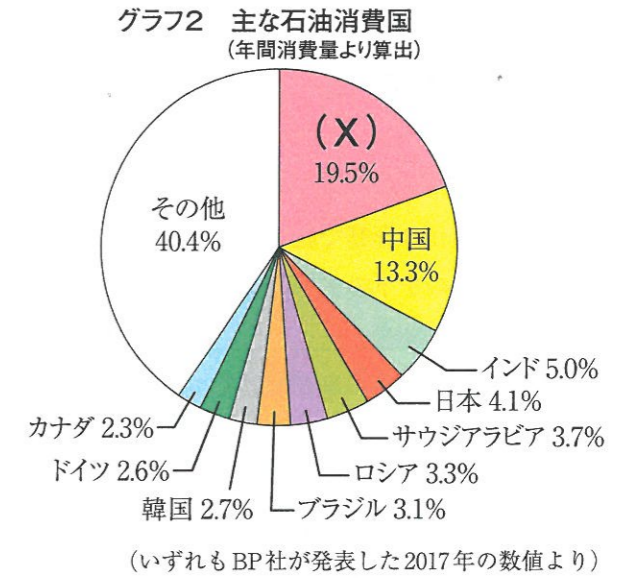
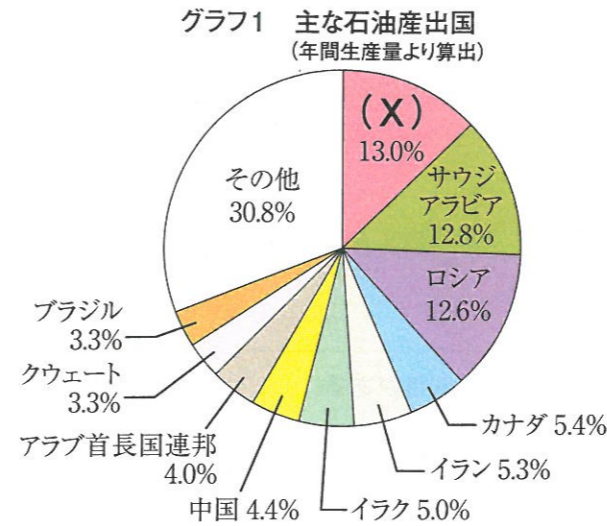
(1) ごみを減らす活動として「3つのR」があります。「①リデュース」「②リユース」「③リサイクル」の3つです。文章中の**X** プラスチックの使用そのものを減らしていく、**Y** 再生利用、は3つのRのどれにあたるか、①～③よりそれぞれ1つずつ選び、番号で答えなさい。

(2) 下線部 a に関する以下の各問に答えなさい。

問1 プラスチックやプラスチックごみについて述べた文章として**間違っているもの**を次のア～エより1つ選び、記号で答えなさい。

- ア. 海に直接捨てられたものだけでなく、街中に捨てられたプラスチックごみが雨に流され、川から海へ流れ込むこともある。
- イ. プラスチックが海に捨てられると、海の生き物がエサと間違えて食べてしまい、体内を傷つけるというケースが報告されている。
- ウ. プラスチックの主な原材料は石油であるため、プラスチックをたくさん消費することは石油を消費することにつながる。
- エ. 海に捨てられたプラスチックゴミは、細かく砕けることなくそのままの形や大きさで海を漂い続けていくため、問題となっている。

問2 現在の石油の主な生産国と主な消費国を示したグラフ1・2に共通の(X)に当てはまる国を答えなさい。



(3) 下線部 b について、国際的な問題を考える機関として国際連合がありますが、国際連合について、以下の問いに答えなさい。

問1 国際連合についての説明として**間違っているもの**を次のア～エより1つ選び、記号で答えなさい。

- ア. 主に国際社会の平和を実現することを大きな活動の目標としている。
- イ. 日本は、領土問題をめぐる意見が認められず、国際連合を脱退した。
- ウ. 安全保障理事会では5つの常任理事国が拒否権という強い権限を持っている。
- エ. 貿易の安定や世界遺産の登録活動も国際連合に所属する専門機関のしごとである。

問2 国際連合の中で、加盟国すべてが集まって話し合いと多数決で様々なことを決める場を何といいますか。

(4) 下線部 c、主要国首脳会議はおおむね一年に一度開催されていますが、この「主要国首脳会議」を意味する語として正しいものを次のア～エより1つ選び、記号で答えなさい。

- ア. サミット
- イ. EU
- ウ. アセアン
- エ. TPP

(5) 下線部 d、日本では戦後、高度経済成長期を通じて、生活に使うエネルギー資源が大きく変化し、それにあわせてプラスチックの生産量も急速に増加しました。そのことに関わる以下の問いに答えなさい。

問1 この時期の日本の様子を述べた文章として**間違っているもの**を次のア～エより1つ選び、記号で答えなさい。

- ア. 東京オリンピックが開催され、それにともなって東海道新幹線などの交通網が整備された。
- イ. 水俣病などの四大公害病が発生し、大きな社会問題となった。
- ウ. 税を納める額が多い国民にだけ選挙権が認められ、結果的に選挙権を持つ人が増加した。
- エ. 工業製品の生産が拡大し、洗濯機・冷蔵庫・白黒テレビなどの家庭電化製品に人気が集まった。

問2 この時期とそれ以前とで、日本で利用される主なエネルギー資源が大きく変化しました。そのことを示した内容として正しいものを次のア～エより1つ選び、記号で答えなさい。

- ア. 原子力から石油への変化 イ. 石油から原子力への変化
ウ. 石炭から石油への変化 エ. 石油から石炭への変化

(6) 下線部 e について、以下の問いに答えなさい。

問1 地球温暖化の影響で起きると考えられることについて述べた次の短文A・Bの正誤の組み合わせとして正しいものを次のア～エより1つ選び、記号で答えなさい。

- A 北極や南極の氷が溶けて、地球全体の海水面が上昇する可能性がある。
B 海水の温度が上昇し、現在より勢力の強い台風が多く発生する可能性がある。

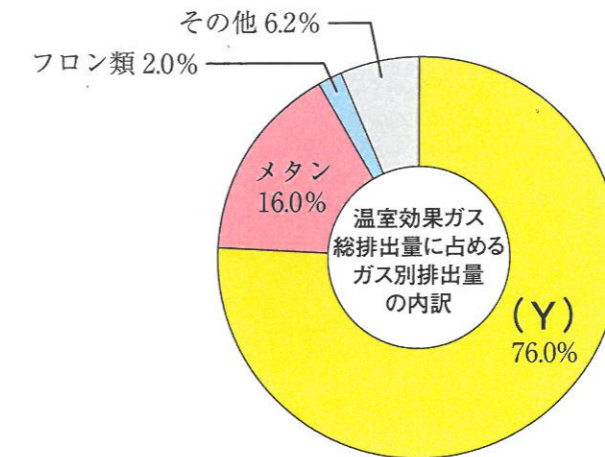
- ア. A = 正 B = 正 イ. A = 正 B = 誤 ウ. A = 誤 B = 正 エ. A = 誤 B = 誤

問2 地球温暖化の抑制と温室効果ガスの削減に関する国際的な取り決めについて、次の文章A・Bと、その名前の組み合わせとして正しいものを次のア～エより1つ選び、記号で答えなさい。

- A 1997年に採択されたもので、温室効果ガスを多く排出している先進国に、削減の目標を定めた。
B 2015年に採択されたもので、先進国と開発途上国の双方が温室効果ガス削減にむけて協調して努力することを定めた。

- ア. A = 京都議定書 B = ラムサール条約
イ. A = パリ協定 B = 京都議定書
ウ. A = ラムサール条約 B = パリ協定
エ. A = 京都議定書 B = パリ協定

問3 排出されている温室効果ガスを示す以下のグラフの(Y)に当てはまる語を答えなさい。



全国地球温暖化防止活動推進センターが発表した2010年のデータより

問4 近年では温室効果ガスを排出しないクリーンエネルギーを用いた発電が注目されています。クリーンエネルギーとしてふさわしくないものを次のア～エより1つ選び、記号で答えなさい。

- ア. 風力発電 イ. 石炭火力発電 ウ. 地熱発電 エ. 太陽光発電

(7) 下線部 f について、日本ではいくつかの企業がプラスチックストローの使用を取りやめるうごきが出てきており、国としてのルール作りも行われつつあります。では、仮に、次のような法律が制定されるとします。

すべての会社・商店・飲食店は、店や事務所で使用しているすべてのプラスチックストローの使用を全面的に禁止する。違反した場合には罰を受けることがある。

問：もし、上記のような法律を作った場合、どのような人（または人々）から、どのような反対意見が出るか考えなさい。ただし、その反対意見の理由も述べることを。

2019 年度

神奈川学園中学校入学考査 社 会 解答用紙 (A日程)

受験 番号		名前		得点	
----------	--	----	--	----	--

【1】	(1)	(A)	川			(B)	川	(2)	
	(3)		(4)		(5)				
	(6)								
【2】	(1)	ア	イ	ウ	(2)				
	(3)	番号	名前の由来						
	(4)				(5)	から に変化した			
	(6)	問1		問2					
【3】	(1)	問1							
		問2							
	(2)	問1		問2					
	(3)	問1		問2		(4)	→	→	
【4】	(1)	X	Y	(2)	問1		問2		
	(3)	問1		問2		(4)			
	(5)	問1		問2					
	(6)	問1		問2		問3		問4	
	(7)								