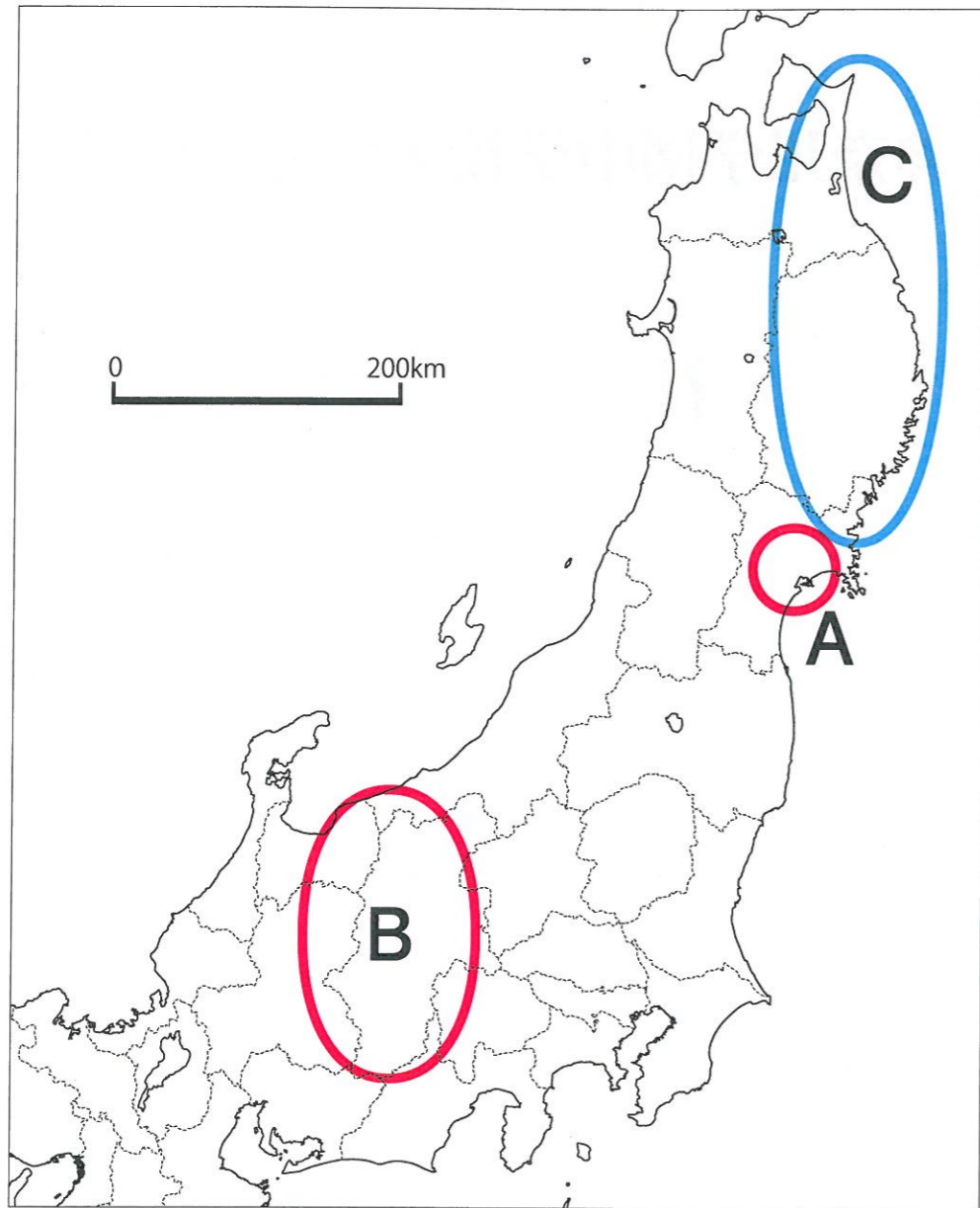


【1】 東北地方と中部地方に関する以下の問いに答えなさい。

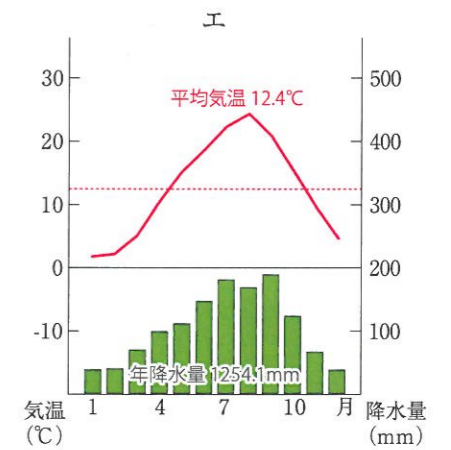
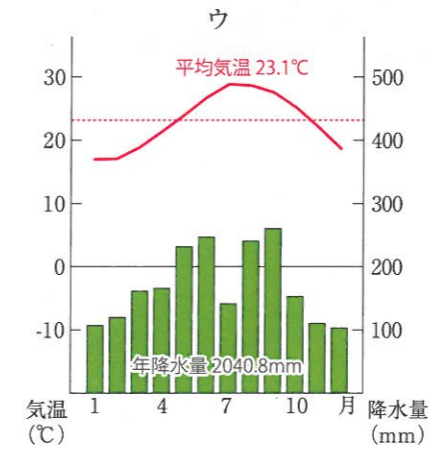
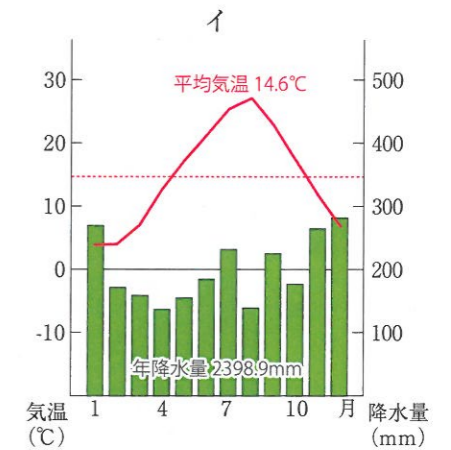
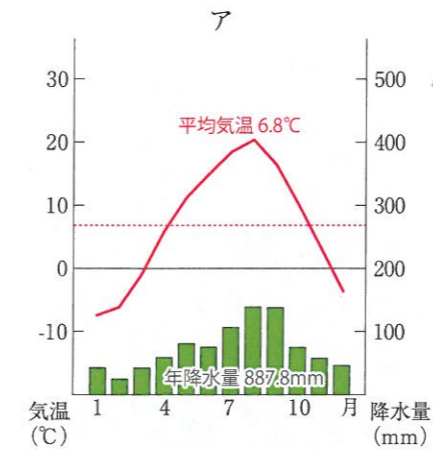


(1) 地図中の赤い丸で囲われた地域A・Bについて、以下の説明文を読み、適切な語句を答えなさい。

問1 地図中Aの地域には、東北地方最大の平野である仙台平野が広がっていますが、この平野には、岩手県から、東北地方で最も長い河川が流れ込んでいます。この河川の長さは、全国でも4位です。この河川の名称を答えなさい。

問2 地図中B地域には3つの険しい山脈が存在し、これを総称して日本アルプスと呼んでいます。この日本アルプスを構成する3つの山脈のうち、飛騨山脈と木曾山脈を除くもう1つの山脈の名称を答えなさい。

(2) 以下のア～エは、仙台市、金沢市、帯広市、那覇市の4都市の雨温図です。仙台市の雨温図はどれか、正しいものを次のア～エより1つ選び、記号で答えなさい。



(3) 地図中の青い丸で囲われた地域Cでは、夏の時期に日照時間の不足や「やませ」と呼ばれる冷たい風が吹く事で、農作物の成長に大きな影響が出る事があります。このような害を何というか答えなさい。

(4) 以下の図表は、「北海道地方」・「東北地方（青森、岩手、宮城、秋田、山形、福島）」・「東海地方（岐阜、静岡、愛知、三重）」の3つの地方において生産される生乳が、どのように利用（および消費）されているか、その割合を表したものです。このうち「東海地方」にあたるものを、次のア～ウ地方から1つ選び、答えなさい。

	乳製品（飲用として）	乳製品（加工製品として）
ア地方	16.1%	83.9%
イ地方	74.7%	25.3%
ウ地方	94.1%	5.9%

（一般社団法人Jミルク 2016年度）

(5) 地形と土地利用に関する以下の各問に答えなさい。(出典：航空写真・地形図ともに『地理院地図』)

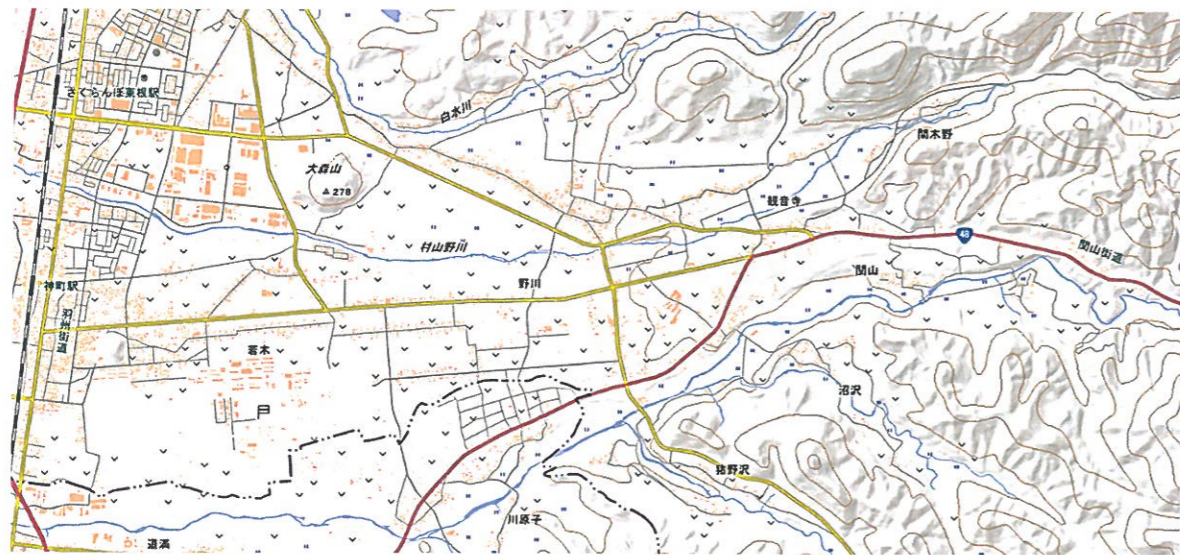
問1 下の航空写真に見られる、河川が山間部から平野部に出たところに広く土砂が堆積してできる地形を何というか、適切な語句を答えなさい。

航空写真



問2 下の地形図は、上の航空写真に写った地域を拡大したものです。この地域の土地利用に関する以下の短文(あ)・(い)の正誤の組み合わせとして正しいものを下のア～エより1つ選び、記号で答えなさい。

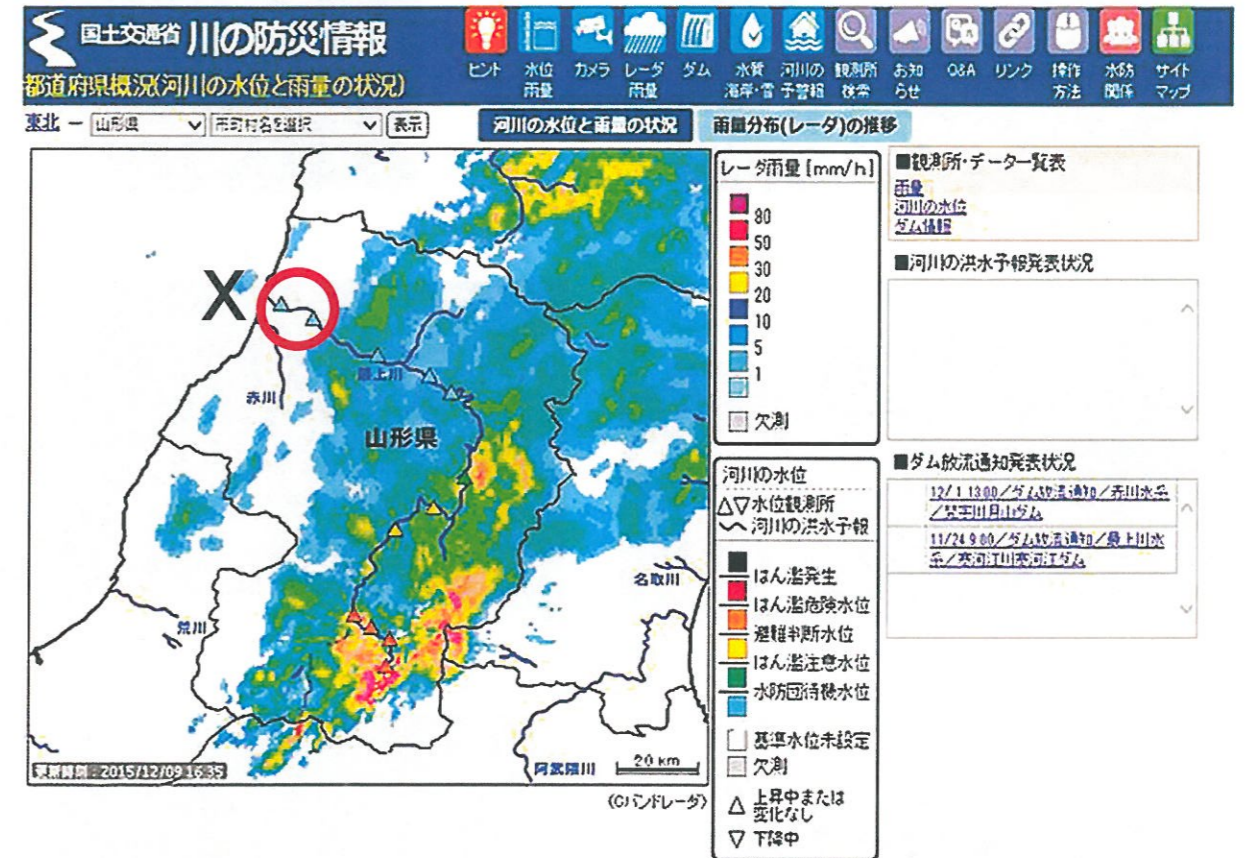
地形図



- (あ) この地形は、土砂が堆積して水はけが悪いことから、水田よりも畑としての利用に適している。
 (い) 川が山から平らな平野に出ると、川の流れが速くなるため、運べなくなった土砂が堆積してこの地形が出来る。

ア. あ=正 い=正 イ. あ=正 い=誤 ウ. あ=誤 い=正 エ. あ=誤 い=誤

(6) 最上川の下流(X地点)付近の酒田市に住んでいるAさんは2015年12月9日、友人たちと最上川の川沿いにある河川公園でバーベキューをやることを考えていました。友人のBさんと念のためにインターネットで天気や防災情報を調べていると、防災情報を見ていたBさんがバーベキューを中止にしようと言い出しました。Bさんは、以下の防災情報の何を見て、どういう事が危険であると考えたか、読み取れる事を説明しなさい。



※出題者より


この防災情報には、気象レーダーで観測されている各地の雨量の他、最上川の複数地点における河川の水位などが示されている。

【2】 次の写真を見て、以下の問いに答えなさい。

1



2



3



4



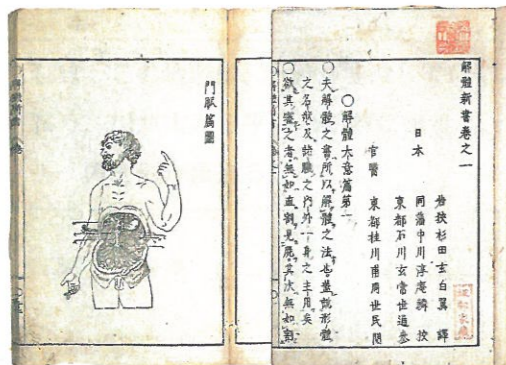
5



6



7



- (1) 写真1の遺跡が造られた時代について述べた文章として適切なものを次のア～エより1つ選び、記号で答えなさい。
- ア. 巨大な前方後円墳が造られた。
 - イ. 竪穴住居が造られ始めた。
 - ウ. 大陸から鉄器・青銅器が伝わった。
 - エ. 大陸から仏教が伝えられた。
- (2) 写真2と3は、ある考え方をもとにつくられました。その考えとして適切なものを次のア～エよりそれぞれ1つずつ選び、記号で答えなさい。
- ア. 仏教の力で国をまもる。
 - イ. 死後、仏によって浄土に導かれる。
 - ウ. 坐禅を組み、悟りを得る。
 - エ. 題目を唱え、社会を良くする。
- (3) 写真3を造った人物が就いていた官職を次のア～エより1つ選び、記号で答えなさい。
- ア. 摂政 イ. 征夷大將軍 ウ. 管領 エ. 執権
- (4) 写真4は、戦乱で焼失した寺院の門を復興したときに造られました。この戦乱として適切なものを次のア～エより1つ選び、記号で答えなさい。
- ア. 文永の役 イ. 源平合戦 ウ. 関ヶ原の戦い エ. 平将門の乱
- (5) 写真5を造った人物を答えなさい。
- (6) 写真6の建物について述べた文章X・Yの正誤の組み合わせとして正しいものを次のア～エより1つ選び、記号で答えなさい。
- X 鉄砲などに対する守りを固めるために、高い石垣などが造られた。
 Y 建物の周囲には、家臣や商工業者が集まる都市が作られた。
- ア. X = 正 Y = 正 イ. X = 正 Y = 誤
 - ウ. X = 誤 Y = 正 エ. X = 誤 Y = 誤
- (7) 写真7が書かれた当時、日本と外交関係や通商関係があった国として当てはまらないものを次のア～エより1つ選び、記号で答えなさい。
- ア. オランダ イ. ロシア ウ. 朝鮮 エ. 清国

【3】 次の年表を見て、以下の問いに答えなさい。

年	出来事
1854年	a <u>日米和親条約</u> が結ばれた (①)
(あ)年	西南戦争が起こった (②)
1895年	b <u>台湾が日本の領土</u> となった 【 ★ 】
1925年	c <u>治安維持法</u> が制定された (③)
1945年	広島と (い) に原子爆弾が投下された (④)

(1) 年表中の (①) (②) (③) (④) に当てはまる出来事を次のア～カよりそれぞれ1つずつ選び、記号で答えなさい。

- ア. ポツダム宣言を受け入れた イ. 第一次世界大戦が始まった ウ. 世界恐慌が起こった
エ. 廃藩置県が行われた オ. 日英同盟が結ばれた カ. 国会の開設が決定した

(2) 年表中の (あ) に当てはまる年号を答えなさい。

(3) 年表中の (い) に当てはまる都市名を答えなさい。

(4) 下線部 a について述べた文章として当てはまるものを次のア～エより1つ選び、記号で答えなさい。

- ア. 下田と函館の港が開かれた。
イ. アメリカと貿易が開始された。
ウ. 琉球が日本の領土となった。
エ. 関税自主権が認められなかった。


(5) 下線部 b を清国との間で決めた条約を答えなさい。

(6) 下線部 c の制定と同時に行われたことについて述べた文章 X・Y の正誤の組み合わせとして正しいものを下のア～エより1つ選び、記号で答えなさい。

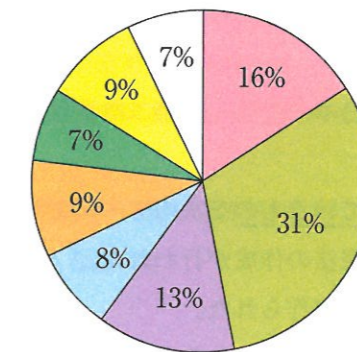
- X ソ連との国交が結ばれ、日本の国際連合加盟が認められた。
Y 大日本帝国憲法が制定され、25歳以上の男子に選挙権が認められた。

- ア. X=正 Y=正 イ. X=正 Y=誤
ウ. X=誤 Y=正 エ. X=誤 Y=誤

(7) 【 ★ 】の時期には、機械による工業生産が盛んになりました。「工業生産の中心となった産業」と「中心となって働いた人々」について、写真とグラフをもとにして説明しなさい。



1900年の工場労働者の割合



全労働者数 38万 7796人

- 紡績(綿糸をつくる) ■ 製糸
■ 織物 ■ 機械 ■ 化学
■ 飲食物 ■ 官営工場 □ その他

【4】 次の文章を読み、以下の問いに答えなさい。

2017年は、日本国憲法が施行されて70年目の節目の年に当たりました。日本国憲法は、**a** 第二次世界大戦の経験を経て作られた憲法です。憲法の前文には、戦争への反省と国際平和を目指すことが掲げられています。そして、**b** 憲法第9条では、戦争放棄が書かれています。これが日本国憲法の三つの柱の一つの平和主義です。

日本国憲法の三つの柱のもう一つが、**c** 自由権・平等権・社会権について定めた基本的人権の尊重です。人権の多くの条文により、私たちの平和で安全な生活が脅かされないよう保障されているのです。

また、憲法では、**d** 国会・内閣・裁判所の3つの機関が仕事を分担して行うことや、**e** 実際に政治を執り行う権力を持った政府にこの憲法を守る義務があることを定めています。このように、憲法に基づいて政治を行うことを立憲主義と言います。

政府が政治を執り行う権力を持っている理由は、政治を行う権限を持っている（**X**）によって、国会議員が選ばれているためです。つまり、政治を行う権限を持つ（**X**）の信頼を得て、公正な選挙で代表者が選ばれ政府が組織されることにより政府が政治を執り行うことができるのです。このことは、日本国憲法の三つの柱のうちの一つになります。

(1) 文中の空欄（**X**）に適する語句を入れなさい。

(2) 下線部**a**に関する次の各問に答えなさい。

問1 第二次世界大戦に関する次のア～エのうち、間違っているものを1つ選び、記号で答えなさい。

- ア. 第二次世界大戦中、日本本土はたびたび米軍の空襲に襲われ、横浜も大きな被害を受けた。
- イ. 第二次世界大戦では、無差別爆撃などにより、軍人が多く亡くなったが民間人への影響は少なかった。
- ウ. 日本の侵略により、長引く日中戦争からアジア各地に戦局が広がり、アジア全体で多くの犠牲者が出た。
- エ. 連合国軍のポツダム宣言を日本が受諾し、第二次世界大戦は終結した。

問2 日本国憲法の成立に関して間違っているものを次のア～エより1つ選び、記号で答えなさい。

- ア. GHQの指令により日本国憲法の作成が行われた。
- イ. 日本政府が修正を加え憲法案が作られた。
- ウ. 日本政府の案は国会で審議され、1つも修正されることなく成立した。
- エ. 日本国憲法が審議された国会は、初の女性議員を含む国会であった。

(3) 下記の条文は、下線部**b**の9条の条文です。これに関する次の各問に答えなさい。

問1 9条の空欄〈1〉〈2〉に適する語句を入れなさい。

- 1項 日本国民は、正義と秩序を基調とする国際平和を誠実に希求し、国権の発動たる戦争と、〈1〉による威嚇又は〈1〉の行使は、国際紛争を解決する手段としては、永久にこれを放棄する。
- 2項 前項の目的を達するため、〈2〉その他の戦力は、これを保持しない。国の交戦権は、これを認めない。

問2 日本政府は、近年憲法9条でこれまで禁止される、としてきたある権限を9条の下でも行使可能である、としました。ある権限とは、日本の同盟国が攻撃された場合、自分の国が攻撃されたとみなして攻撃する権利です。この権限を何とよいか答えなさい。

問3 2017年5月に安倍首相は自民党の代表者としての立場で、憲法9条の改正をすべきとの方針を出しました。安倍首相はどのような憲法9条の改正の方針を出したでしょうか。次のア～エより1つ選び、記号で答えなさい。

- ア. 1項・2項の条文はそのままに、新たに自衛隊を明記する。
- イ. 1項を改正して、戦争の放棄を削る。
- ウ. 1項・2項の条文のどこかに徴兵制を明記する。
- エ. 2項を改正して、国の交戦権を認める。

(4) 下線部**c**の基本的人権の尊重に関する次のア～エのうち、間違っているものを1つ選び、記号で答えなさい。

- ア. 憲法では、居住・移転、職業を選ぶ自由が定められている。
- イ. 憲法では、税金を納める権利が定められている。
- ウ. 憲法では、言論・出版の自由が定められている。
- エ. 憲法では、健康で文化的な生活を営む権利が定められている。

(5) 下線部**d**にあるように、日本では、国会・内閣・裁判所の3つの機関が仕事を分担して行う仕組みがとられています。これに関する各問に答えなさい。

問1 こうした仕組みを何と言いますか。

問2 憲法に基づき法律を制定する機関はどこですか。

問3 次の文章を読み、各問に答えなさい。

□ Y □ 病にかかった人々は、長い間、法律によって強制的に療養所^{りょうようじょ}に入れられ、社会から切り離された生活を強いられました。この病気がほとんど感染しないことや療養によって完全に治ることがわかってからも、こうした国の政策が見直されなかったこともあり、人々は差別や偏見に苦しめられました。1996年によようやく法律が廃止されました。

こうした国の政策に対して、2001年には熊本地方裁判所が□ Y □ 病にかかった人々を強制的に療養所に入れる法律は憲法に違反していたこと、また、国が政策を見直さなかったことによって、□ Y □ 病にかかった人々が人権を著しく侵害されたことを認めました。これにより、2001年当時の内閣総理大臣、国会は元患者に謝罪するとともに、元患者に補償金^{ほしょうきん}を出す法律を新たに成立させました。

① 文章中の空欄 □ Y □ に適する語句を答えなさい。

② 3つの機関が仕事を分担して行っている理由の一つの表れが上の文章にあります。上記の文章の内容を踏まえて、3つの機関が仕事を分担して行っている理由を説明しなさい。

(6) 下線部 e について、次のア～オのうち、憲法第99条で、憲法を守る義務があると定められていないものを選び、記号で答えなさい。

ア. 天皇 イ. 国務大臣 ウ. 国民 エ. 公務員 オ. 裁判官

(7) 憲法や法律で定められた国民が政治に参加するための仕組みに関する次のア～エのうち、まちが間違っているものを1つ選び、記号で答えなさい。

- ア. 誰でも、法律の制定や改廃について政府に平穩に請願することができる。
- イ. 憲法では、表現と集会の自由が認められており、デモ活動を行うことができる。
- ウ. 18歳以上の国民は、選挙を通じて国や地方の代表者を選ぶことができる。
- エ. すべての有権者は、希望により裁判員裁判に参加することができる。

平成 30 年度

神奈川学園中学校入学考査 社 会 解答用紙 (A日程)

受験 番号		名前		得点	
----------	--	----	--	----	--

【1】	(1)	問1	川		問2	山脈		(2)	
	(3)	(4)		(5)	問1	問2			
	(6)								
【2】	(1)	(2)	写真2	写真3	(3)	(4)			
	(5)	(6)		(7)					
【3】	(1)	①	②	③	④	(2)	年		
	(3)	(4)		(5)	条約		(6)		
	(7)								
【4】	(1)	(2)		問1	問2				
	(3)	問1	〈1〉		〈2〉				
		問2	問3		(4)				
	(5)	問1	問2						
		問3	①						
			②						
(6)	(7)								