

【1】 関東地方と中国・四国地方の離島に関する沢渡さんと鶴屋さんの会話を読み、問いに答えなさい。

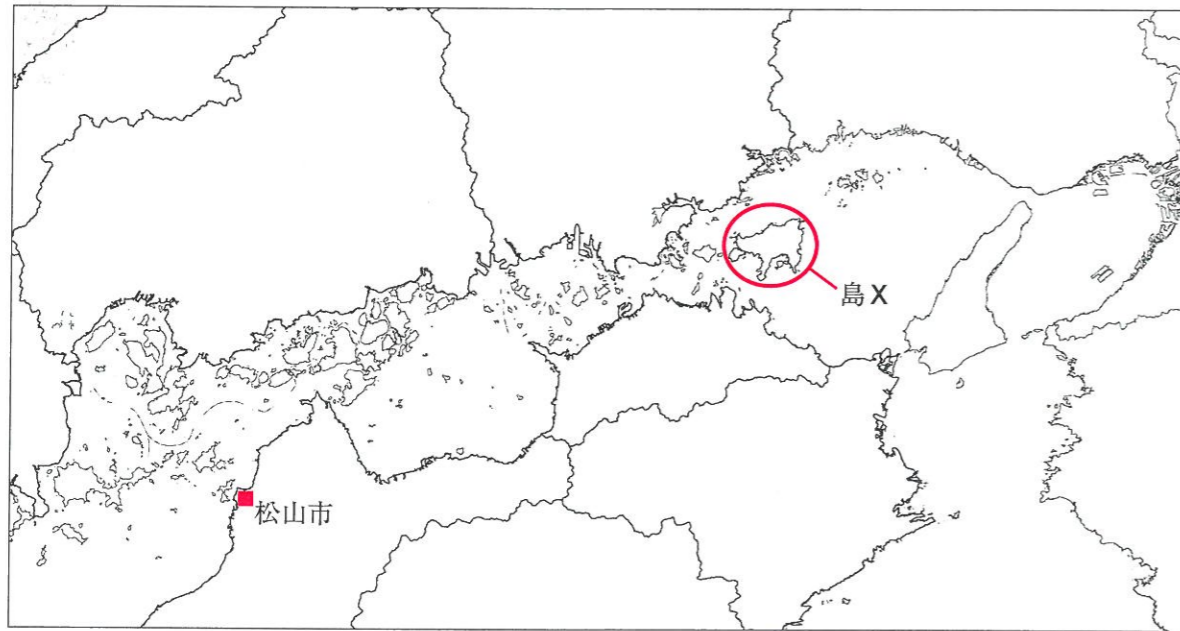
沢渡さん（以下「沢」）：お久しぶりね、鶴屋さん。

鶴屋さん（以下「鶴」）：元気にした？ この前は素敵なウサギさんたちの写真を送ってくれてありがとう。

沢：あれはこの前、旅行で瀬戸内に行ってきたときに、大久野島で取った写真なのよ。あのときは、広島県から **a 瀬戸内海の島々**をつなぐ橋を使って **b 愛媛県**にいて、そこから飛行機で帰ってきたわ。そういえば、鶴屋さんも小笠原諸島にいったって聞いたわよ。2011年に世界遺産に登録されて話題になったわよね。

鶴：あのあたりは最近も **c 海底から珍しい資源**が発見されたりして、話題に事欠かないわね。

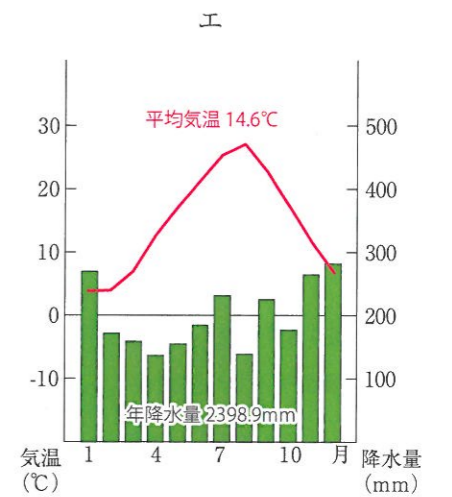
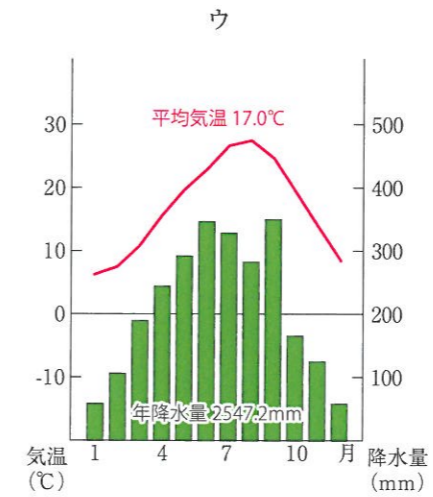
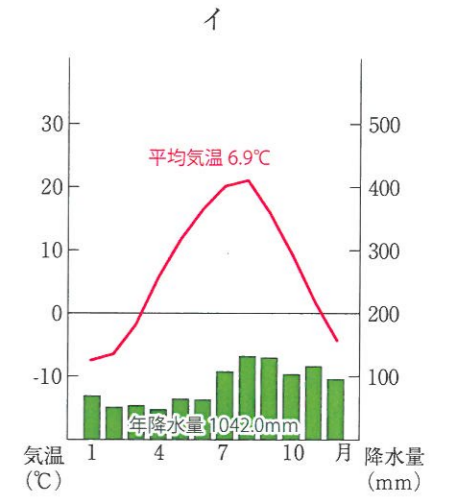
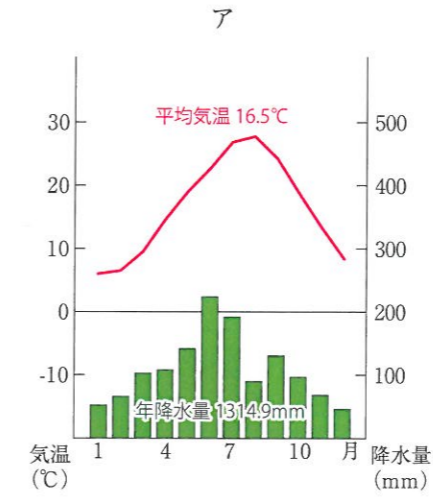
沢：でもやっぱり離島で生活していくのには、色々な苦労があるらしいわ。 **d 電気を作るにも、燃料を運んでこないといけないから、大変みたい。だから、それぞれの島で色々な工夫をしているそうよ。**それでも、離島でしか見られない動植物がいたり、離島ならではの貴重な食や生活の文化が残っているのは、やっぱり魅力よね！ せっかく島に行くのだから、 **e 離島での暮らしにも興味を持ってみるといいわね。**



〈地図〉

(1) 下線部 **a** について、瀬戸内海に浮かぶ島の中で2番目に大きく、オリーブの生産で有名な、〈地図〉にある島Xの名前を、漢字で答えなさい。

(2) 下線部 **b** について、愛媛県松山市の雨温図を次のア～エより1つ選び、記号で答えなさい。なお他の3つはそれぞれ北海道旭川市、高知県高知市、石川県金沢市のいずれかです。

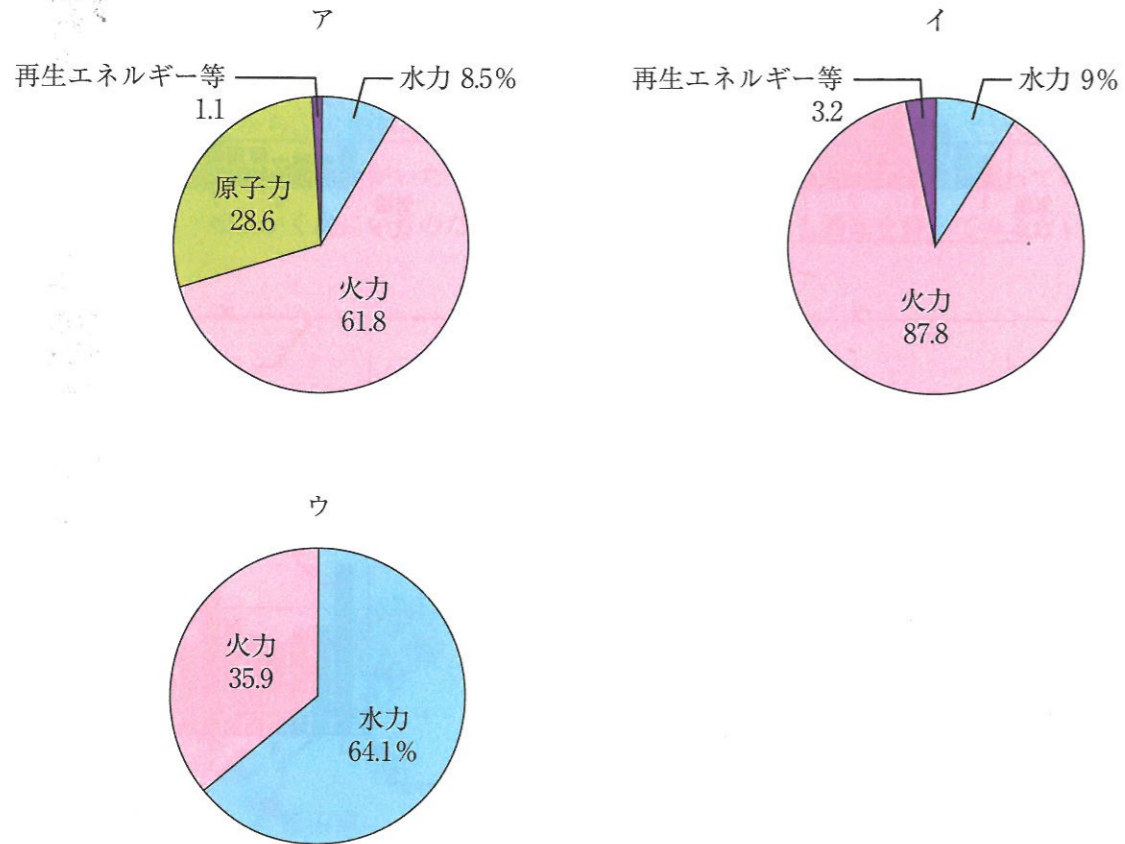


(3) 下線部 **c** について、小笠原諸島の海底で発見されたマンガンのような、生産量こそ少ないものの、携帯電話の部品や燃料電池の原料として必要となる「希少な金属資源」のことを何というか、カタカナで答えなさい。

(4) 下線部 d について、以下の問いに答えなさい。

問1 八丈島では、島の地下にあるマグマの熱や蒸気を利用した発電が行われている。このような発電を何と  
いうか、漢字で答えなさい。

問2 以下の円グラフは、それぞれ【1940年】・【2010年】・【2014年】における日本の発電方法の割合を  
示したものです。このうち、【2014年】のグラフとして正しいものをア～ウより1つ選び、記号で答え  
なさい。



(5) 下線部 e について、小笠原諸島での暮らしに関する以下の問いに答えなさい。

問1 小笠原諸島では、地域の気候に適した作物の栽培が広く行われている。これについて、小笠原諸島で生  
産される主要な農産物として誤っているものを、次のア～エより1つ選び、記号で答えなさい。

ア. バナナ      イ. マンゴー      ウ. リンゴ      エ. サトウキビ

問2 以下の資料は小笠原諸島の位置と、村内の教育・医療関係の情報をまとめたものです。あなたが家族と  
一緒に小笠原諸島で生活する事になったとき、以下の資料からどのようなことが考えられるか、「小笠  
原諸島の位置」をふまえながら情報①もしくは情報②のどちらかに必ずふれて、説明しなさい。

小笠原諸島の位置	東京から南へ、約1000 km (父島) 客船にて、東京から片道約25時間 (父島) (緊急時のみ) 海上自衛隊の航空機で片道約9時間
情報① 村内の教育機関 概要	村立小学校2 (父島1、母島1) 村立中学校2 (父島1、母島1) 都立高等学校1 (父島1)
情報② 村内の医療機関 概要	小笠原村診療所 (父島) 医師 3名 病床 9室9床 ※ 母島診療所 (母島) 医師 1名 病床 2室4床 ※

(小笠原村公式サイト、小笠原診療所公式サイトより抜粋)

※ 病床とは、入院用のベッド設備の事

【2】 かな子さんは日本の歴史を外国とのかかわりから整理することにしました。次の《A》～《E》は、かな子さんがそれぞれある時期の日本を、外国とのかかわりから説明したものです。これに関して、以下の各問に答えなさい。

- 《A》 この時期、中国の都にならって日本にも都が造られ、天皇は大陸から伝わってきた仏教を社会の安定のために利用しようとし、国ごとにお寺を建てることを命じました。
- 《B》 この時期、大陸から日本に伝わった稲作が西日本を中心に広がり、安定した食料生産が可能となりました。人々はむらで共同生活を営み、遺跡からはむら同士の対立の様子もうかがえます。
- 《C》 この時期、中国を支配していた元軍の襲来に対し、武士たちは幕府のために命がけで戦いましたが、元軍撤退後に武士たちは新しい領地をもらえず、幕府と武士の関係が崩れるきっかけとなりました。
- 《D》 この時期、天下統一を果たした〔 X 〕は中国の支配をもくろみ、協力を拒んだ朝鮮へ2度にわたり出兵しました。この際日本に連行した朝鮮人によって、日本に高度な焼き物の技術が伝わりました。
- 《E》 この時期、日本独特の文字である「かな文字」が誕生し、この文字を用いた文学作品が貴族の間で流行しました。

(1) 説明文《A》について、文章中の「天皇」とは誰のことか、答えなさい。

(2) 説明文《B》について、この時代に使用されるようになった「器」としてもっとも適するものを、次のア～エの図版より1つ選び、記号で答えなさい。



(3) 説明文《C》について、以下の各問に答えなさい。

問1 中国ではこのあと元に代わって明という国ができるが、この明と国交を開き、貿易を始めた日本側の人物を答えなさい。

問2 この《C》の出来事より後に起こった出来事として正しいものを、次のア～エより1つ選び、記号で答えなさい。

- ア. 源頼朝が征夷大將軍に任命され幕府を開いた。  
 イ. 観阿弥・世阿弥によって能が大成された。  
 ウ. 承久の乱で朝廷が北条氏を中心とする幕府を滅ぼそうとした。  
 エ. 平清盛が武士で初めて太政大臣に就任した。

(4) 説明文《D》について、文章中の〔 X 〕に適する人名を答えなさい。

(5) 説明文《E》について、かな子さんは先生から「この文章では外国とのかかわりがわかりにくいですね」と指摘されました。そこでかな子さんは、《E》の状況がその時代に生まれた背景にある、当時の外国とのかかわりの変化を説明文《E》に付け加えることにしました。かな子さんはどのような内容を付け加えればよいか、答えなさい。

(6) 説明文《A》～《E》を年代順に並び替えたとき、2番目と4番目にくるものをそれぞれ答えなさい。

【3】 次の文章を読んで、以下の各問に答えなさい。

鹿児島県は、例えば鉄砲やキリスト教の伝来など、その地理上の位置から日本の歴史において異文化との接点を多く持ってきた地域である。江戸時代には鹿児島は〔 X 〕藩と呼ばれ、いわゆる a 「4つの窓」の一つとして国外と交わりを持った。

江戸時代末、国外との実力差をいち早く痛感しイギリスへ留学生を送ったのも〔 X 〕藩であり、やがて b 倒幕・明治維新の中心となったのも〔 X 〕藩出身の人々であった。特に西郷隆盛や大久保利通は明治新政府の中心となって日本の近代化を進め、 c 黒田清隆は第2代内閣総理大臣を務めた。この間、〔 X 〕藩（鹿児島）にも近代化を目指して製鉄・紡績工場などが建てられ、その跡は2015年に「d 明治日本の産業革命遺産」の一部として世界遺産に登録されている。

1914年には鹿児島の桜島で大噴火が起こり大きな被害をもたらしたが、同年起きた第一次世界大戦に日本は参戦し、中国領土への野心をあらわにした。1931年には日本軍が中国東北部で〔 Y 〕事変を起こして〔 Y 〕を軍事占領したが、のちに鹿児島からも〔 Y 〕への集団移民が実施された。太平洋戦争末期、 e 空襲が激しくなるにつれ鹿児島市内の子どもたちはそれぞれ親戚、知人を頼って田舎へ疎開した。4月から始まった沖縄戦と前後する形で、鹿児島市は1945年3月18日から8月6日まで計8度もの空襲に見舞われたのだ。

(1) 文章中の〔 X 〕、〔 Y 〕に当てはまる語句をそれぞれ答えなさい。

(2) 下線部 a について、次の図版は、江戸時代に〔 X 〕藩が支配することになった、当時国外にあったある国からの使節を描いたものである。このある国を、当時の名前で答えなさい。



(3) 下線部 b について、このとき倒幕・明治維新の中心となった藩が〔 X 〕藩以外にも一つあります。そのもう一つの藩の位置を、下の地図のア～オより1つ選び、記号で答えなさい。



(4) 下線部 c について、当時の内閣や内閣総理大臣について述べた次の短文 A、B の正誤の組み合わせとして正しいものを、次のア～エより1つ選び、記号で答えなさい。

A : 第1回帝国議会の指名を受けて、伊藤博文が初代内閣総理大臣に就任した。  
B : 内閣は軍隊を統率したり条約を結んだりする権限を持っていた。

ア. A = 正 B = 正    イ. A = 正 B = 誤    ウ. A = 誤 B = 正    エ. A = 誤 B = 誤

(5) 下線部 d について、「明治日本の産業革命遺産」には同じ九州にある「八幡製鉄所」も含まれているが、この製鉄所の建設にかかわっている戦いとして最も適切なものを、次のア～エより1つ選び、記号で答えなさい。

ア. 戊辰戦争    イ. 日清戦争    ウ. 西南戦争    エ. 台湾出兵

(6) 下線部 e について、実は鹿児島県の南西に浮かぶ種子島からは、1945年の4月、空襲から逃れるためだけでなく別のある事態を想定し、鹿児島県内の農村地帯へ向けて児童の疎開が本格的に始まっています。どういう事態を想定して疎開したのか、考えて答えなさい。

(7) 文章中の1914年と1931年について、この1914年から1931年までの間に起きた出来事として正しいものを、次のア～エより1つ選び、記号で答えなさい。

ア. 25歳以上のすべての男性に選挙権が認められた。  
イ. 台湾を日本の植民地にした。  
ウ. 日本が国際連盟から脱退した。  
エ. 陸奥宗光がイギリスとの交渉で領事裁判権をなくすことに成功した。

【4】 昨年5月の新聞記事を見て、問いに答えなさい。

# 核なき世界へ「勇気を」



被爆者の森重昭さんを抱き寄せるオバマ米大統領  
＝27日午後6時8分、市中区、高橋雄大撮影

## オバマ米大統領 X 演説

### 被爆者と言葉交わす

オバマ米大統領は27日夕、米国の現職大統領として初めて被爆地、を訪れ、平和記念資料館（原爆資料館）を巡視し、原爆被害者追悼式で演説した。演説で、戦争の惨状を語り、「核兵器の廃絶」を求め、核兵器のない世界を追求する勇気を持たなければならぬと訴えた。

オバマ氏は戦後、歴史の前に招かれた被爆者らと前に演説し、訪問の理由を「空襲と炎の雨が都市を破壊し、人間が自らを破壊させる手段をしたことが示された。10万人を超える日本人の男女、数千人の朝鮮人、米国人捕虜を含む死者を悼むため、私たちがを訪れる。1945年8月6日朝の記憶を薄れさせてはならない。その記憶は、道徳的な想像力を刺激し、変化を可能にする。米国のような核兵器保有国は、恐怖の論議にとらわれず、核兵器なき世界を追求する勇気を持たなければならない。」と述べた。

オバマ氏は戦後、歴史の前に招かれた被爆者らと前に演説し、訪問の理由を「空襲と炎の雨が都市を破壊し、人間が自らを破壊させる手段をした。私たちがを訪れる。1945年8月6日朝の記憶を薄れさせてはならない。その記憶は、道徳的な想像力を刺激し、変化を可能にする。米国のような核兵器保有国は、恐怖の論議にとらわれず、核兵器なき世界を追求する勇気を持たなければならない。」と述べた。

オバマ氏は戦後、歴史の前に招かれた被爆者らと前に演説し、訪問の理由を「空襲と炎の雨が都市を破壊し、人間が自らを破壊させる手段をした。私たちがを訪れる。1945年8月6日朝の記憶を薄れさせてはならない。その記憶は、道徳的な想像力を刺激し、変化を可能にする。米国のような核兵器保有国は、恐怖の論議にとらわれず、核兵器なき世界を追求する勇気を持たなければならない。」と述べた。

2016年5月28日 朝日新聞 朝刊より

(1) 新聞中  X  に当てはまる都市名を答えなさい。

(2) 原爆の被害について述べた以下の文章について、間違いを含むものを次のア～エより1つ選び、記号で答えなさい。

- ア. 原爆が投下された場所の近くは数千度の高温となり、一瞬のうちに焼きつくされ亡くなった人々がいた。
- イ. 大量の放射線が放出され、投下された後も長期に渡り、多くの人々が血液や内臓に被害を受け、今も苦しんでいる人々がいる。
- ウ. 原爆投下の翌年に、被爆地出身の人が優先的に企業に雇ってもらえる内容の法律が作られたため、働く上では差別されることはほとんどなかった。
- エ. 被爆により治療を受ける必要があると認定されれば、手当のお金をもらえる仕組みがあるが、届出をした人すべてが認定されるわけではない。

(3) 戦後つくられた日本国憲法では、平和についてこのように定めています。

日本国民は、正義と秩序を基調とする国際平和を誠実に希求し、国権の発動たる戦争と、武力による威嚇又は武力の行使は、国際紛争を解決する手段としては、永久にこれを（あ）する。前項の目的を達するため、い.

問1 この条文は何条にかかっているか、解答欄にあわせて答えなさい。

問2 文中（あ）に当てはまる語句を漢字で答えなさい。

問3 文中 いの内容が、日本国憲法には2つ書かれています。この2つとは何か、次のア～オより2つ選び、記号で答えなさい。\*ただし、内容を易しく書き直しているものがあります。

- ア. 国の交戦権を認めない
- イ. 国際連合にすぐに加盟する
- ウ. 徴兵を一切行わない
- エ. 陸海空軍その他の戦力をもたない
- オ. 話し合いを大切にす

(4) 以下の文章の（ ）に当てはまる言葉を答えなさい。

日本国憲法の理念のもと、核兵器については「核兵器を持たず、（ ）、持ちこませず」という非核三原則が国会で決められた。

(5) ここ数年の日本の安全保障政策について当てはまらないものを次のア～エより1つ選び、記号で答えなさい。

- ア. 同盟国が攻撃されたら、自国が直接攻撃されていなくても武力を行使する権利を一部認めた。
- イ. 武器の輸出を認めない国の方針だったのを変えて、輸出を認める方針の原則を作った。
- ウ. 安全保障面で、アメリカよりも中国との同盟関係を強める政策を行った。
- エ. 特定秘密保護法を成立させ、安全保障に関する情報はより厳重に保護されるようになった。



平成 29 年度

神奈川学園中学校入学考査 社 会 解答用紙 (A日程)

受験 番号		名前		得点	
----------	--	----	--	----	--

【1】	(1)	島		(2)	(3)				
	(4)	問1	発電		問2	(5)		問1	
	(5)	問2							
【2】	(1)				(2)	(3)		問1	問2
	(4)				(5)				
	(6)	2 番目 :			4 番目 :				
【3】	(1)	X			Y			(2)	
	(3)	(4)		(5)					
	(6)								
	(7)								
【4】	(1)				(2)	(3)		問1	憲法第 ( ) 条
	(3)	問2				問3			(4)
	(5)	(6)		問1	問2	問3			
	(7)								