

平成 27 年度

神奈川学園中学校入学考查問題

社 会

(A 日程)

問題は、1 ページから 11 ページまであります。

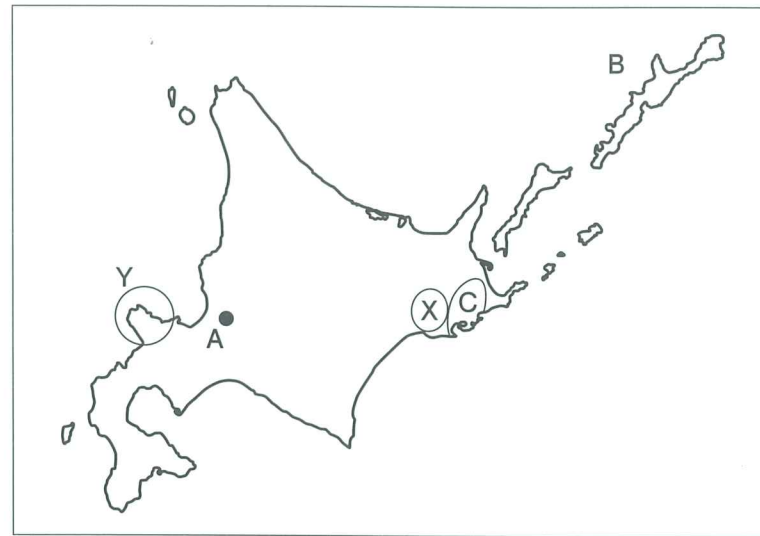
テスト開始前に、問題用紙のページに脱落がないかどうか確認下さい。

解答はすべて解答用紙に記入下さい。

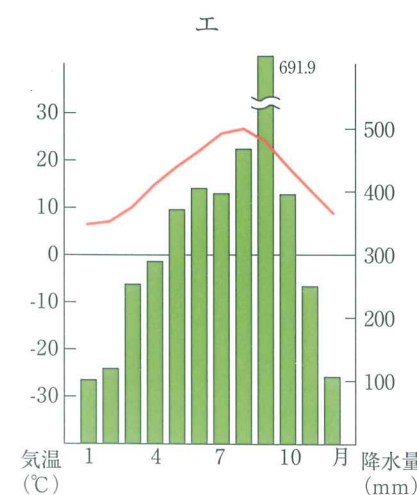
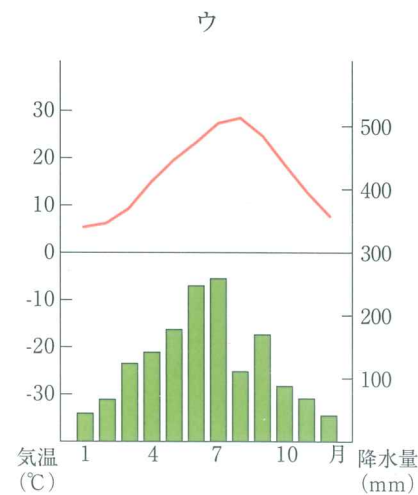
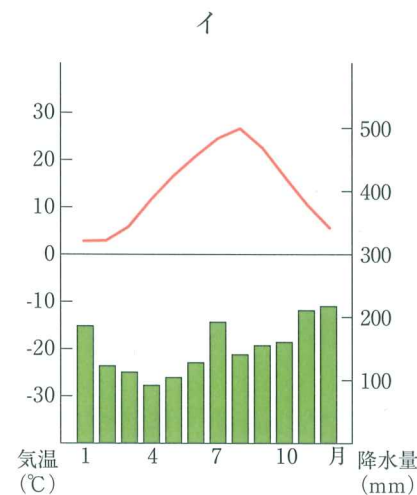
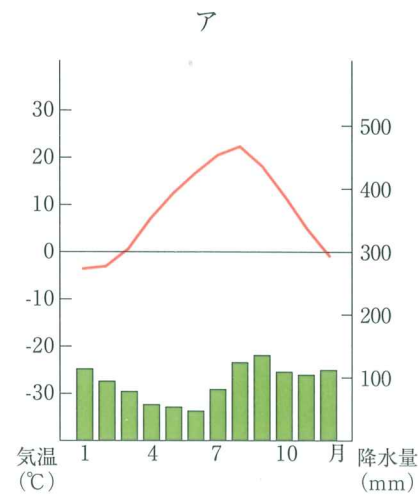
地名、人物名、用語などは正しい漢字で答え下さい。

神奈川学園中学校

【1】 北海道に関する各問に答えなさい。



(1) 次の雨温図から、地図中Aの都市のものを選びなさい。



(2) 北海道の先住民族であるアイヌについて説明した次の文章のうち、誤っているものを次のア～エより1つ選び、記号で答えなさい。

- ア. 北海道は、古くは蝦夷地と呼ばれ、アイヌの住む土地だった。
- イ. アイヌの人々は狩猟対象の獲物に対しても霊魂を大切にし、敬う文化を持っていた。
- ウ. 明治時代に「開拓使」という役所が設置され、北海道の開拓が進められた。
- エ. 明治政府は、アイヌの人々の文化を尊重する政策を取った。

(3) 地図中のBの島は、日本の北端の島として政府は領有を主張しています。この島の名前を次のア～エより1つ選び、記号で答えなさい。

- ア. 利尻島
- イ. 礼文島
- ウ. 奥尻島
- エ. 択捉島

(4) 地図中の、X・Yの地域について説明した次の文章a・bについて、正誤の組み合わせとして正しいものを次のア～エより1つ選び、記号で答えなさい。

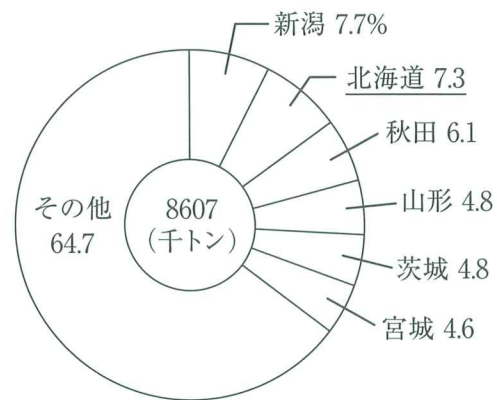
- a. 地図中のXは釧路湿原で、タンチョウヅルの生息地として有名であり、ラムサール条約に登録されている。
- b. 地図中のYは知床半島で、海と陸の生態系のつながりがよく分かる場所であり、世界自然遺産に登録された。

- ア. a = 正 b = 正 イ. a = 正 b = 誤
- ウ. a = 誤 b = 正 エ. a = 誤 b = 誤

(5) 地図中のCの台地について。

- ① この台地の名前を答えなさい。
- ② この台地では酪農が盛んです。北海道では、生乳の大部分がバターやチーズなどの乳製品に加工されています。それはなぜですか。説明しなさい。

(6) 次のグラフは、ある農作物の県別生産高を示しています。



中央の総収穫量の千トン未満は四捨五入

(「日本国勢図会 2014/15」より)

① この農作物は何ですか。また、その生産が北海道においてさかんな平野はどこですか。その組み合わせとして正しいものを次のア～エより1つ選び、記号で答えなさい。

- ア. ジャガイモ - 石狩平野
- イ. ジャガイモ - 十勝平野
- ウ. 米 - 石狩平野
- エ. 米 - 十勝平野

② ①の平野は、かつては枯れた植物がつもった泥炭地が多かったが、土地を改良するため性質の異なる土を入れ替える土壌改良が行われました。これを何といいますか。

【2】 次の「あ・い・う・え・お」の問題文を読み問いに答えなさい。

- あ を中心とする東軍と石田三成を中心とする西軍が、この地で戦闘を行った。この戦闘は天下分け目の戦いともいわれ、勝利した は三年後に征夷大將軍となり幕府を開いた。
- い 幕府は全国に禁教令を出し、キリスト教の取り締まりを徹底していった。もともとキリスト教信者が多かった 1 この地では、領主の重税と禁教への反発から大規模な反乱がおこった。
- う 支配地域を広げようとする中央政府に対して、2 この地ではアテルイをリーダーとする蝦夷の抵抗が続いていた。 天皇は坂上田村麻呂を征夷大將軍に任命してアテルイを降伏させた。
- え 3 この地域で造られた前方後円墳は関東地方から九州まで造られるようになった。前方後円墳の拡大とヤマト政権の勢力拡大には深い関係があると考えられている。
- お 伊豆で平家を倒すために挙兵した源頼朝は、4 この地を拠点とし後に幕府を開いた。この地は海に面し、三方を山に囲まれた場所であり、外からの攻撃を ^{ぼうぎょ} 防御しやすい場所であった。

(1) に当てはまる人名を答えなさい。

(2) 「い」の時期についてのべた文章として当てはまるものを次のア～エより1つ選び、記号で答えなさい。

- ア. 幕府は、収入の不足を補うために、大名たちに年貢の一部を上納させた。
- イ. 幕府は、日本人の海外渡航を禁止するとともに、外国船の来航地を制限した。
- ウ. 幕府は、大阪城と大阪の都市整備をする作業を大名に分担させた。
- エ. 幕府は、借金に苦しむ御家人を救うために徳政令を出した。

(3) に当てはまる天皇を答えなさい。

(4) 「お」の時期とほぼ同時期に造られた建造物として当てはまるものを次の写真ア～エより1つ選び、記号で答えなさい。



ア



イ



ウ



エ

(5) 下線部1・2・3・4に当てはまる場所を地図中のア～オよりそれぞれ1ヶ所ずつ選び、記号で答えなさい。



(6) 「あ・い・う・え・お」を古いほうから並べ替え、3番目に来るものを答えなさい。

【3】 次の年表を見て問いに答えなさい。

年	できごと
1873	① <u>地租改正</u> が実施される [1]
1895	② <u>下関条約</u> が結ばれる [2]
1914	③ <u>第一次世界大戦</u> が始まる [3]
1931	満州事変が起こる [4]
1944	日本本土への空襲が始まる [5]
1951	④ <u>サンフランシスコ平和条約</u> を結ぶ

(1) [1]～[5]にあてはまる事項を次のア～オよりそれぞれ1つずつ選び、記号で答えなさい。


- ア. 西南戦争が始まる
- イ. 義務教育が9年間となる
- ウ. 日中戦争が始まる
- エ. 25歳以上の男子に選挙権が与えられる
- オ. 田中正造が足尾鉾毒問題を天皇に直訴する

(2) 下線部①について、それ以前と税の納め方はどう変化しましたか。解答欄の用語に続けて解答を作成なさい。


(3) 下線部②について、この条約を結ぶ原因となった出来事ともっとも関係の深いものを次のア～エより1つ選び、記号で答えなさい。



ア



イ



ウ



エ

(4) 下線部③について、この戦争で日本と戦った国を次のア～エより1つ選び、記号で答えなさい。

- ア. ロシア
- イ. アメリカ
- ウ. ドイツ
- エ. 朝鮮

(5) 下線部④の条約の内容として誤っているものを次のア～エより1つ選び、記号で答えなさい。

- ア. ソ連は条約調印を拒否した。
- イ. 連合国による日本占領を承認した。
- ウ. 日本は千島列島を放棄した。
- エ. 日本は朝鮮の独立を認めた。

【4】 以下の文章を読み、問いに答えなさい。

みなさんは、新聞を読んでいますか？ 新聞には、日本の政治や世界の情勢、経済の話、スポーツやテレビ番組の内容、地元の情報など、たくさんの情報がつまこまれていて、その情報を自分の好きな所から読むことができます。例えば、いま（2015年2月現在）は（あ）の会期中ですが、**a 国会**において国会議員がどのような発言をしたか、それに対し内閣総理大臣、国務大臣がどう答えたかなどが日々報じられています。また、新聞では、法律が変わったという事柄だけでなくその影響も報道されます。例えば、昨年の4月に消費税の税率が（い）%になりましたが、税率の変化だけでなく、それによる商品をお店へ影響について書かれた記事もありました。

新聞記者は伝えたいことを自由に書く権利があります。それは、日本国憲法の**b 基本的人権**によって、**c 記者の活動が保障されている**からです。新聞記者は自由に取材し記事を書くことで、隠されていた事実を明らかにしたり、国会を批判することもあります。“**国家権力**”を見張ることができます。企業の間違った状況を明らかにして、間違いを正すきっかけを作ることでもあります。新聞記者や新聞社は武力などとは別の“**ペンの力**”で社会に影響を持っている存在といえます。新聞記者や新聞社のもつ“**ペンの力**”は人権を守るために使われるべきもので、**d 使い方を誤ると人を傷つけてしまうことがあります**。強い力を持っていることを考えながら、記事を書く必要があります。

2013年の12月に**e 特定秘密保護法**が成立しました。今後は国の政治に関する報道が制限されていくかもしれません。また、新聞記事を読む、情報の受け手である私たちも、情報を常にすべて正しいと受け入れるだけでなく、正しい情報を選びとる姿勢が大事です。

(1) 文中（あ）に当てはまる言葉を、次のア～エより1つ選び、記号で答えなさい。

- ア. 通常国会 イ. 臨時国会 ウ. 参議院の緊急集会 エ. 特別国会

(2) 下線部 a、国会について、以下の問いに答えなさい。

問1 国会の仕事として正しいものを、次のア～エより1つ選び、記号で答えなさい。

- ア. 法律の内容が憲法に沿っているかを判断すること
イ. 最高裁判所長官を指名すること
ウ. 誰を国務大臣にするかを決めること
エ. 予算を審議して決めること

問2 国会や国会議員について述べた以下の文章のうち、**間違いを含むもの**を次のア～エより1つ選び、記号で答えなさい。

- ア. 国会議員は国民の代表という考えから、国会内で意見を自由に言えるよう憲法で保障されている。
イ. 衆議院議員の任期は4年、参議院議員の任期は6年である。
ウ. 1票の格差の問題を解決するために、昨年12月の選挙から衆議院議員の定数が5つ少なくなった。
エ. 国会議員のうち、委員会に所属している議員は、本会議に出ることが出来ない。

(3) 文中（い）に当てはまる数字を答えなさい。

(4) 下線部 b について、以下の問いに答えなさい。

問1 ある基本的人権について述べた以下の文章（A）・（B）に当てはまる言葉を答えなさい。

日本国憲法には「すべて国民は健康で（A）な最低限度の生活を営む権利を有する」という条文がある。条文で表されている権利を（B）権という。

問2 日本国憲法に書かれた基本的人権のうち、**間違いを含むもの**を次のア～エより1つ選び、記号で答えなさい。

- ア. 基本的人権は、侵すことのできない永久の権利として、国民に与えられると書かれている。
イ. 子どもが教育を受ける権利を認めるとともに、親が子どもに教育を受けさせる義務がある。
ウ. 裁判は個人にかかわる内容が扱われるため、全ての裁判は非公開であると定められている。
エ. 職業選択の自由については、資格が必要な仕事があり、誰でもすべての職業に就けるわけではない。

(5) 下線部 c について、問いに答えなさい。

問1 以下の文章の（C）に当てはまる言葉を答えなさい。

日本国憲法で“（C）の自由”が保障されているので、新聞記者は自由に取材し記事を書くことができる。

問2 戦時中の日本では、自由な報道が制限されていました。以下の文章を読み、問いに答えなさい。

《戦時中の報道のようす》

- 政府を批判する記事を書き続けた人は、1925年に制定された（D）法によって捕まえられ“罪人”となった。
○政府の考えを批判する記事は事前の検査で差し止められ、出すことができなかった。

① [] 中の（D）に当てはまる言葉を答えなさい。

② [] 中のようなことがあったため、国民にとってどのような問題が生じたと考えられるか、具体的に説明しなさい。

(6) 下線部 d について、この文章で書かれている公害病の名を答えなさい。

この病気は発見当初は“奇病”^{きびょう}という間違った報道がされ、報道によって患者が差別され大きな精神的被害を受けた。実際は、この病気は工場の排水として流された有機水銀^{ゆうきすいぎん}によって周辺に住む人に神経障害^{しんけいしょうがい}などの被害が出る公害病だった。その後正しい報道がなされ、四大公害の1つとして挙げられている。

(7) 下線部 e、特定秘密保護法について説明した文章のうち間違^{まちが}いを含むものを次のア～エより1つ選び、記号で答えなさい。

- ア. 公務員が安全保障についての情報を録音・録画してインターネットに公開しないよう、公務員に情報保護の義務を設け、違反した場合は厳しい罰則を設けている。
- イ. 新聞社が安全保障についての情報を民間人に取材した場合は罰則が設けられていない。
- ウ. 原子力発電所は万が一攻撃された時に周辺への影響が大きいため、特定秘密保護法での安全保障についての情報といえる。
- エ. 特定秘密保護法では、安全保障についての情報がどこまでなのかについて厳密な規定がなく、基準がはっきりしていない。

平成 27 年度

神奈川学園中学校入学考査 社 会 解答用紙 (A日程)

受験 番号		名前		得点	
----------	--	----	--	----	--

【1】	(1)		(2)		(3)		(4)		(5)	①	台地	
	(5)	②										
	(6)	①		②								
【2】	(1)					(2)		(3)				
	(4)		(5)	1		2		3		4		
	(6)	3番目										
【3】	(1)	1		2		3		4		5		
	(2)	江戸時代は、										
	(3)		(4)		(5)							
【4】	(1)		(2)	問1		問2		(3)		%		
	(4)	問1	A					B	権			問2
	(5)	問1	C					問2	①	法		
		問2	②									
	(6)					(7)						