

平成 26 年度

神奈川学園中学校入学考査問題

社 会

(A 日程)

問題は、1 ページから 14 ページまであります。

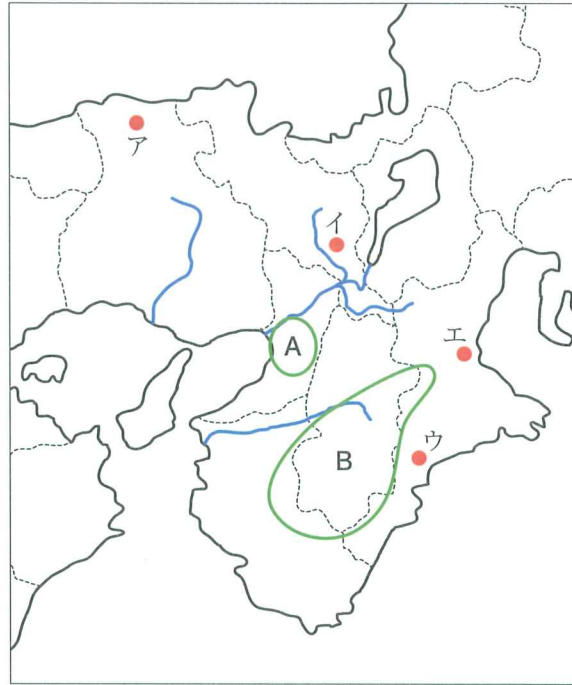
テスト開始前に、問題用紙のページに脱落がないかどうか確認下さい。

解答はすべて解答用紙に記入下さい。

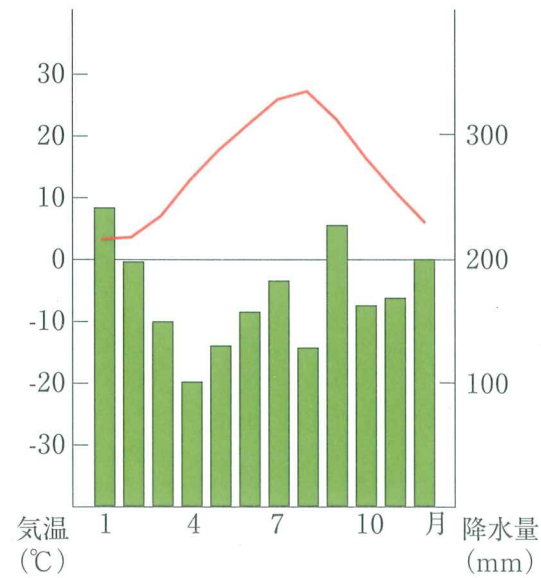
地名、人物名、用語などは正しい漢字で答え下さい。

神奈川学園中学校

【1】 近畿地方に関する各問に答えなさい。

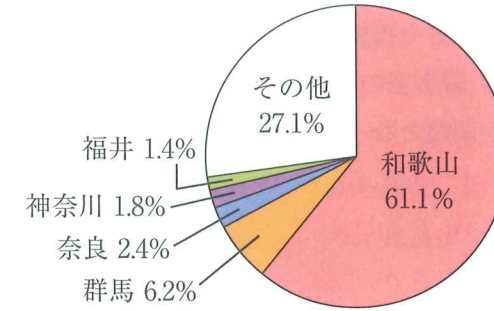


(1) 次の雨温図が示す都市の位置を地図上のア～エより選び、記号で答えなさい。



(雨温図は1981年～2010年の10年間の平均数値である：気象庁統計データより)

(2) 次のグラフが示す農産物は何ですか。次のア～エから選び、記号で答えなさい。



(「日本国勢図絵2013/14」より)

ア. さくらんぼ イ. ぶどう ウ. うめ エ. みかん

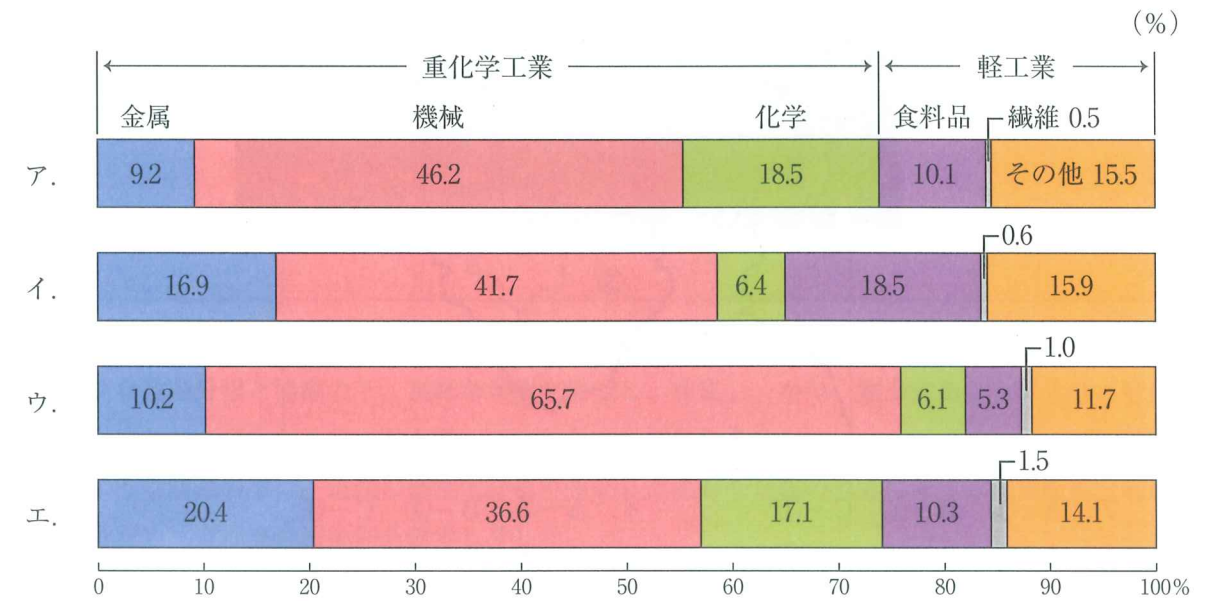
(3) 地図中のA・Bの地域での農業について説明した次の文を読み、その正誤の組み合わせとしてふさわしいものを次のア～エから選び、記号で答えなさい。

- A 大都市の周辺という消費地に近い利点をいかし、野菜等を集約的に栽培する近郊農業が行われている。
 B この地域は温暖で雨が多い気候のため、吉野すざなど林業が盛んで、私有林が多い点に特徴が見られる。

ア. A=正 B=正 イ. A=正 B=誤 ウ. A=誤 B=正 エ. A=誤 B=誤

(4) 阪神工業地帯とその周辺の工業地域について、答えなさい。

問1 次のグラフは2010年の阪神、京浜、中京、北九州工業地帯の製造品出荷額等の構成を示したグラフです。阪神工業地帯を示すグラフを、次のア～エから選び、記号で答えなさい。



(「日本国勢図絵2013/14」より)

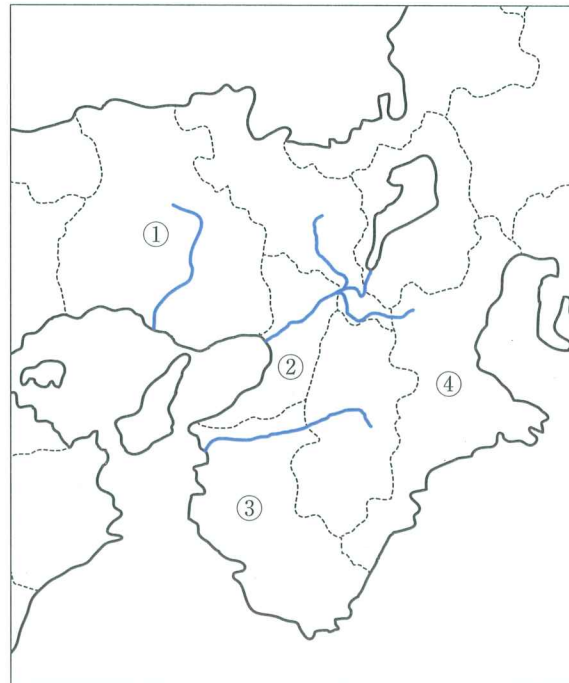
問2 次の短文のうち、誤っているものを一つ選び、記号で答えなさい。

- ア. 第二次世界大戦前までは日本最大の工業地帯だったが、現在の工業出荷額は第2位である。
- イ. 内陸部には中小工場が多く、日用雑貨や機械部品を生産する町工場が数多くある。
- ウ. 大阪南部の堺より南の臨海部で、臨海型の工業地域が形成されている。
- エ. 水質汚濁や大気汚染などの公害が問題となっており、また、大量の地下水をくみ上げるため地盤沈下が問題になっている。

(5) 次の3人の住む府県の説明文について答えなさい。

- Aさん. 私の住むところには、伊勢神宮などの名所も多く、(あ) リアス海岸として有名な半島があり、真珠やのりの養殖がさかんです。
- Bさん. 私の住むところは生駒山地や、和泉山脈に囲まれた平野で、この平野をつくった(い) 大きな川の河口には、西日本最大の都市があります。
- Cさん. 私の住むところは北が日本海に面し、南が瀬戸内海に面しており、中央の大部分は(う) 大きな山地がしめています。

問1 Aさん～Cさんの「私の住む府県」の位置を、次の地図中の記号で答えた時、正しい組み合わせを次のア～エから選び、記号で答えなさい。



- ア. A-① B-② C-③ イ. A-② B-③ C-④
- ウ. A-③ B-② C-① エ. A-④ B-② C-①

問2 下線部 (あ)。この半島の名前は何か。答えなさい。


問3 下線部 (い)。この川の名前を次のア～エから選び、記号で答えなさい。

- ア. 熊野川 イ. 紀ノ川 ウ. 淀川 エ. 加古川

問4 下線部 (う)。この山地の名前を次のア～エから選び、記号で答えなさい。

- ア. 紀伊山地 イ. 中国山地 ウ. 比良山地 エ. 笠置山地

(6) 次の写真は、京都の八坂神社とその向かいにあるコンビニエンスストアの写真です。看板は濃い藍色にされ、また屋根にも配慮がなされました。京都ではなぜ、このような配慮がなされているのですか。資料の「京都府景観条例」も参考にして、説明しなさい。



【資料】

私たちは、一人ひとりが身近にある良好な景観の価値を認識し、府民、事業者、市町村及び京都府の適切な役割分担と協働の下、良好な景観を保全し、育成し、かつ、創造することにより、府民共通の資産として将来の世代に引き継いでいかなければなりません。

このような認識の下に、地域の個性と特色を生かした良好な景観の形成に関する施策を総合的に推進するため、京都府景観条例を制定しました。

※施策…法律・条例や政策を具体的に実行すること
(京都府景観条例のパフレットより抜粋)

【2】 次の[A]～[D]の文を読んで、質問に答えなさい。

- [A]：源氏の将軍がとだえたあと、朝廷の後鳥羽上皇は鎌倉幕府を倒そうと兵をあげた。この時頼朝の妻の北条政子は、動揺する a 御家人たち を団結させ、朝廷の軍を破った。
- [B]： b 日露戦争 が激しさを増すと、歌人の与謝野晶子は戦場の弟を思い、戦争に疑問をいだけて歌を発表した。
- [C]：(X) の女王・卑弥呼はまじないの力で人々をしがえた。また、中国に使者を送り、^{しょうごう} 称号と銅鏡をもらった。
- [D]： c 江戸幕府が開かれた頃、出雲阿国^{いずものおくに} という女性が始めたかぶき踊りは、のちに庶民の娯楽となる歌舞伎に発展していった。

(1) [A]の文章の戦いを何といいますか。

(2) 下線部 a について、鎌倉幕府の将軍と御家人のあいだにはご恩と奉公の関係がありますが、ご恩とはどのような内容か、説明しなさい。

(3) 下線部 b について、この戦争によって日本が^{かくとく}獲得した領土としてふさわしいものを次のア～エより1つ選びなさい。

ア. 台湾 イ. 樺太(サハリン)の南半分 ウ. 千島列島 エ. 対馬

(4) [C]の文章の空欄(X)に当てはまる国名を答えなさい。

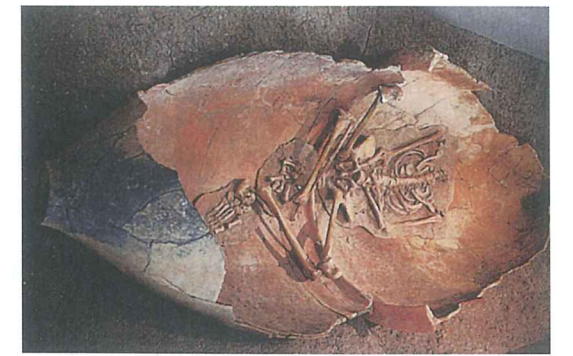
(5) [C]の文章と同時代のものでふさわしくないものを次のア～エより1つ選びなさい。




ア



イ



ウ



エ

(6) 下線部 c について、江戸幕府を開いた徳川家康が天下を治めるきっかけとなった、1600年の戦いを何といいますか。

(7) [A]～[D]を古い順に並べかえた時、3番目にくるものを記号で答えなさい。

- 【3】 神奈川学園は今年創立100周年を迎えます。100年の歴史の中では、北海道や沖縄など様々な地域の方々と交流がありました。大正時代には、創立者の佐藤善治郎先生が北海道を訪問した際に、アイヌの方々に出会い、そしてその方が本校の^{てんらんかい}展覧会（現・文化祭）に訪れ、生徒達と心温まる交流をしました。近年では中学3年生がフィールドワークで沖縄を訪れ、現地で多くの方々に出会い、深く学んでいます。
- 次の年表は本州と北海道・沖縄の関係についてまとめたものです。これを見て、質問に答えなさい。

年	できごと
今から2500年ほど前	大陸から稲作の技術が伝わるが、北海道と沖縄では縄文文化が続く ↑↓<①>
1429年	沖縄に（ X ）王国が成立する 【A】
1609年	^{さつまはん} 薩摩藩が（ X ）を征服する 【B】
1669年	a シャクシャインがアイヌの人たちを率いて戦いを起こす 【C】
1853年	ペリーが沖縄に来島する 【D】
1869年	b ^{えぞち} 蝦夷地を北海道と改称し、開拓使を置く 【E】
1879年	（ X ）処分が行われる 【F】
1899年	北海道旧土人保護法が制定される ↑↓<②>
1945年	アメリカ軍が、沖縄本島に上陸し戦争が激化する

- (1) 年表中の空欄（ X ）に当てはまる王国名を入れなさい。
- (2) 年表中の空欄<①>のできごととして、誤っているものを次のア～エより1つ選びなさい。
- ア. 聖徳太子が奈良の東大寺に大仏を作った。
イ. 清少納言が『枕草子』という随筆を書いた。
ウ. 平清盛が太政大臣になった。
エ. 元が2度にわたって九州北部に攻めこんだ。

- (3) 下線部 a について、この乱は当時アイヌの人たちとの交易を幕府に認められていたある藩が、アイヌの人たちに不利な条件で取引したり、自然を荒らしたりしたため、アイヌの人たちが抗議して起こしたものです。ある藩とはどこの藩ですか。
- (4) 下線部 b について、この頃の政府が行っていた政策としてふさわしいものを次のア～エより1つ選びなさい。
- ア. 農地改革を行って多くの農民が自分の土地を持てるようにした。
イ. 普通選挙法を公布して25歳以上の男子すべてに選挙権を与えた。
ウ. 国家総動員法を公布して戦争のために政府が人や物を動員できるようにした。
エ. 徴兵令を出して20歳になった男子に兵役の義務を定めた。

- (5) 次の文は年表中の空欄【A】～【F】のどこに当てはまりますか。記号で答えなさい。

下関条約で沖縄が日本の領土であることが最終的に決定する。

- (6) 次の①～③のできごとは年表中の空欄<②>の時期のできごとです。古い順に並べ替えなさい。
- ① ^{なんきんじけん}南京事件（^{なんきんだいぎやくさつ}南京大虐殺）が起こる。
② 日本軍が満州を占領し満州国を作る。
③ 日本軍がハワイの真珠湾を攻撃する。

【4】 日本国憲法に関する以下の問いに答えなさい。

(1) ゆう子さんは、社会の時間の調べ学習で日本国憲法について調べました。

日本国憲法について

さわたり ゆう子

私は日本国憲法が、いつどのように作られて、どんなことが書かれているのか調べてみました。すると、戦争や平和と大きな関わりがあることがわかりました。

<いつ・どのようにできたか>

日本は、1931年から軍事力で中国へ進出し、a 1941年からはアメリカなどとの戦争へと拡大し、1945年まで続きました。このような戦争を繰り返さない国となるため、大日本帝国憲法を大幅に改正して日本国憲法は制定されました。

終戦後、1946年に憲法の案が作成され、b 国会で審議・可決されました。そして1947年5月3日に施行されました。

<平和主義について>

日本国憲法の三つの原則は「国民主権」「基本的人権」「平和主義」です。「平和主義」について、c 第9条では、軍隊を持たないことなどが定められています。また、前文には「d 《 X 》の行為によって再び戦争の惨禍（さんか）が起ることのないようにすることを決意し…」とあります。

その後、e サンフランシスコ平和条約により日本は独立しましたが、一方で、アメリカとソ連を中心とする新たな対立が激しくなったことから、各地にアメリカ軍基地が置かれたり、1954年にできた自衛隊は、その後海外にも派遣されるようになっていきます。

つまり、日本は憲法のうえでは軍隊を持たない国ですが、現実には、f 国内に軍隊や、軍隊に近い組織を保有しているという状況が続いているようです。

問1 下線部 a について、この戦争中の人々の暮らしに関する説明として、次のア～エより 間違っているものを1つ選び、記号で答えなさい。

- ア. 戦争反対の立場を唱える人々がデモや集会を行うようになった。
- イ. 女学生が兵器の工場で働いたり、男子学生が兵士として動員されたりした。
- ウ. 空襲が本格化すると、子どもを空襲の被害から守るため学童疎開が行われた。
- エ. 食料や生活必需品が不足し、国民に配給で分けられるようになっていた。

問2 下線部 b について、この新しい憲法案を審議・可決した頃の国会や国の政治に関する説明として 間違っているものを次のア～エより1つ選び、記号で答えなさい。

- ア. 20歳以上のすべての男女に選挙権が認められて選挙が行われた。
- イ. 国会議員の中には、初の女性議員も含まれていた。
- ウ. 貴族院が廃止され、一院制となった。
- エ. 戦時中廃止されていた政党の活動が認められるようになった。

問3 下線部 c について、次の日本国憲法第9条の () に適語を入れなさい。ただし、() には同じ語句が入ります。

第9条

日本国民は、正義と秩序を基調とする国際平和を誠実に希求し、国権の発動たる戦争と、() による威嚇又は () の行使は、国際紛争を解決する手段としては、永久にこれを放棄する。

問4 下線部 d の《 X 》は、戦争は誰が起こすのかということについて書かれています。《 X 》に当てはまる正しい語句を次のア～エより1つ選び、記号で答えなさい。

- ア. 国民 イ. 他国 ウ. 政府 エ. 兵士

問5 下線部 e について、政府は、サンフランシスコ平和条約によって独立が認められた4月28日を「主権回復の日」と名付け、2013年に式典を行いました。そのことに関連する以下の新聞記事を読み、問いに答えなさい。

政権・ あ 広がる溝

安倍晋三首相が主導した「主権回復の日」の式典が28日開催された。首相は式辞で あ への配慮を強調したが、(あ の人々の) 反発は強まるばかりだ。 2013年4月29日朝日新聞

※主導…中心となってものごとをすすめていくこと
※配慮…相手のことを思いやること
※文章の一部を省略、追加しています。

① 「主権回復の日」の式典に反対している あ に当てはまる都道府県名を答えなさい。

(2) 次の文章はゆう子さんのレポートの続きです。文章を読んで、問いに答えなさい。

<基本的人権について>

日本国憲法の三つの原則の一つである「基本的人権の尊重」について調べました。憲法では国民の自由を守る **g** 自由権や、人種や性別などの理由で **Y** されない平等権、 **h** 誰もが健康で文化的な最低限度の生活を送ることができる (Z) 権も保障されています。

また、これらの基本的人権を保障するため、日本国憲法には条文がたくさんあることがわかりました。最近のニュースで、 **i** 憲法を改正するべきかどうかということが今の日本で話題になっていると聞きました。

<レポートの感想>

日本国憲法ができてから67年間、日本は外国と戦争をしていないということを知りました。戦争のない世の中は、憲法で基本的人権が守られている私たちにとってはごく当たり前のようになっています。しかし、世界ではまだまだたくさんの戦争や紛争が起きていることを知りました。

クラスの話合いの時に、「戦争は、人々の人権をうばってしまう」と考えた友達がいました。その意見を聞いて、私は「 **j** 基本的人権が守られることで、戦争のない社会につながるのではないか」と考えました。憲法の平和主義と基本的人権の尊重は、つながっているのだと思いました。

問1 下線部 **g** について、次の文章で示されている権利に当てはまる語句を、次のア～エより1つ選び、記号で答えなさい。

「今の政治について友達と話し合ったり意見文を書いて発表する」

- ア. 精神の自由 イ. 身体の自由 ウ. 職業選択の自由 エ. 経済活動の自由

問2 文中の **Y** に当てはまる内容を答えなさい。

問3 下線部 **h** について、以下の問いに答えなさい。

① 下線部 **h** について、空欄 (Z) に当てはまる語句を答えなさい。

② この権利にもとづいて、国は社会保障の政策を行っています。日本の社会保障についての説明として、間違っているものを次のア～エより1つ選び、記号で答えなさい。

- ア. 生活に困っている家庭に対して、生活費を支給して健康で文化的な最低限度の生活を送ることを保障する生活保護というしくみがある。
イ. 日本では少子高齢化が進んでいるため、高齢者の生活を支える年金の支給額を将来的に増加させることを政府が決定した。
ウ. 社会保障の手続きを簡単にできるように、全ての国民に番号を割り当てるしくみを導入することが国会で決まった。
エ. 政府は、社会保障の充実をめざして、消費税を5%から8%へ引き上げることを決定した。

問4 下線部 **i** について、憲法改正のことが定められているのは、第96条です。現在の96条の内容を説明した次の文章の正誤の組み合わせとして正しいものを次のア～エより1つ選び、記号で答えなさい。

- A 衆議院と参議院で、総議員の2分の1以上の賛成により発議される。
B 発議されてから、国民投票により有権者の過半数の賛成があれば憲法が改正される。

- ア. A=正 B=正 イ. A=正 B=誤 ウ. A=誤 B=正 エ. A=誤 B=誤

問5 下線部 **j** について、基本的人権を守ることが、なぜ戦争のない社会につながると考えられるか、次の資料のいずれかに触れて説明しなさい。

【資料】

<様々な基本的人権>

- ・ 誰にもさまたげられることなく自分の考えや意見を持ったり、発表することができる権利
- ・ 人種や民族、性別に関わらず全ての人が平等に扱われる権利
- ・ 子どもが等しく教育を受ける権利と、義務教育を無償で受けられる権利
- ・ どんな人でも、人間らしい最低限度の衣食住が保障される権利
- ・ 自分の考えにもとづいて選挙で一票投じたり、選挙に立候補できる権利

平成 26 年度

神奈川学園中学校入学考査 社 会 解答用紙 (A日程)

受験 番号		名前		得点	
----------	--	----	--	----	--

【1】	(1)		(2)		(3)		(4)	問1		問2		
	(5)	問1		問2		半島	問3		問4			
	(6)											
【2】	(1)											
	(2)											
	(3)		(4)				(5)					
	(6)					(7)						
【3】	(1)				(2)		(3)					藩
	(4)		(5)		(6)		→		→			
【4】	(1)	問1		問2		問3				問4		
		問5	①				②		問6			
	(2)	問1		問2			問3	①				
		問3	②		問4							
		問5										