

平成 25 年度

## 神奈川学園中学校入学考查問題

社 会

(A 日程)

問題は、1 ページから 11 ページまであります。

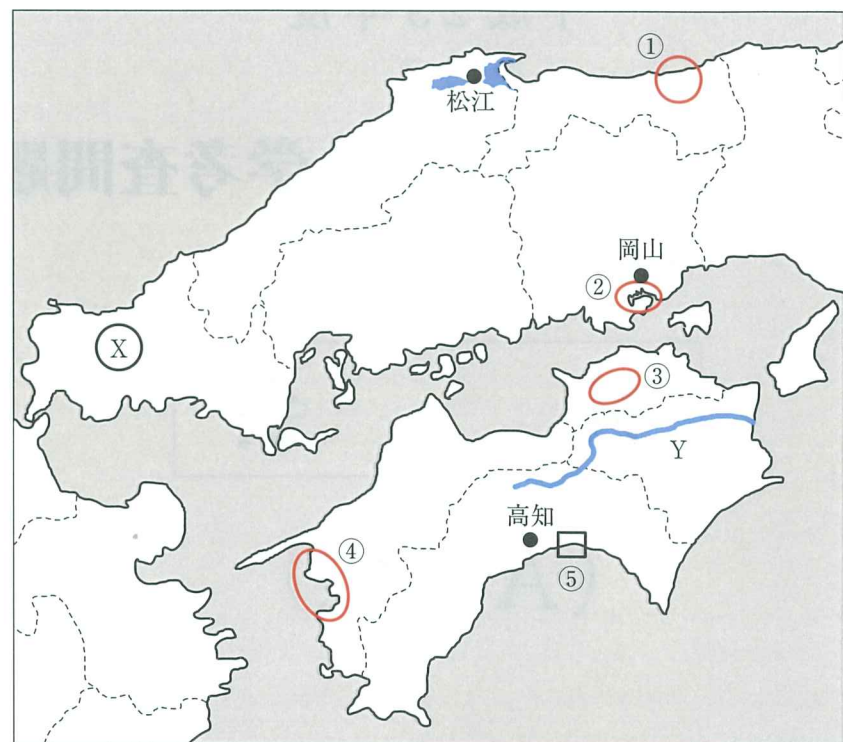
テスト開始前に、問題用紙のページに脱落がないかどうか確認下さい。

解答はすべて解答用紙に記入下さい。

地名、人物名、用語などは正しい漢字で答え下さい。

神奈川学園中学校

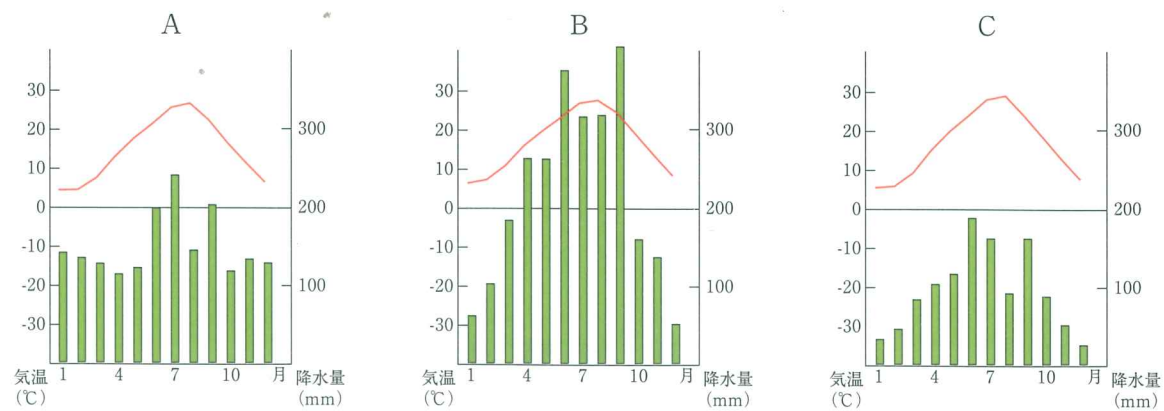
【1】 中国・四国地方について質問に答えなさい。



(1) 地図中のX付近に見られる地形の説明として正しいものを次のア～エより1つ選び、記号で答えなさい。

- ア. 火山の噴火活動が活発で火山灰などによる農作物や生活への被害が時々おこる。
- イ. 石灰岩が水によって溶かされてできた鍾乳洞などがあり、多くの観光客を集めている。
- ウ. 氷河に削られた高くけわしい山がそびえていて、夏には多くの登山客でにぎわう。
- エ. 中国地方で最も長い川の中流域にあたり、3つの盆地が東西につらなっている。

(2) 地図中の3都市(松江 岡山 高知)の気候を表すグラフの組み合わせとして正しいものを次のア～エより1つ選び、記号で答えなさい



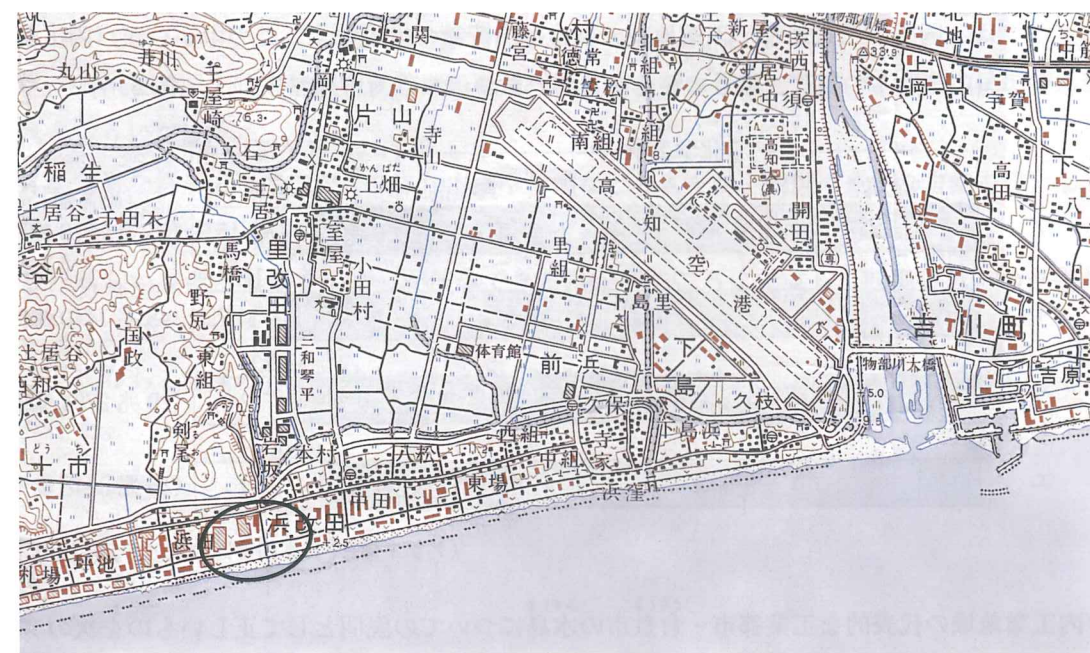
- ア. A—松江 B—岡山 C—高知
- イ. A—高知 B—松江 C—岡山
- ウ. A—松江 B—高知 C—岡山
- エ. A—岡山 B—高知 C—松江

(3) 地図中のYの川の名を答えなさい。

(4) 地図中の①～④の地域の農業の説明としてまちがっているものを次のア～エより1つ選び、記号で答えなさい。

- ア. ①のあたりは農業に向かない砂丘を農地にする取り組みが古くからおこなわれてきて、今ではらっきょうの産地として知られる。
- イ. ②のあたりは遠浅の海で、潮の満ち引きの差が大きいことを利用して、干拓が古くからおこなわれ、農地を広げてきた。
- ウ. ③のあたりは農業に必要な水を得るために、古くから平野のあちらこちらにため池を作り、利用してきた。
- エ. ④のあたりは平地が少ないので山の斜面などを利用し、りんごの栽培がさかんである。

(5) 次の資料は、地図中⑤の地域の地形図の一部を切り取ったものです。○で囲んだところの記号(▨や▩)の農業について正しいものを次のア～エより1つ選び、記号で答えなさい。



(国土地理院発行 1:50,000)

- ア. 記号は収穫したものをいれておく倉庫で、そのあたりは主にレタスを栽培している。
- イ. 記号は温室やビニルハウスで、そこでは主になすを栽培している。
- ウ. 記号は農機具置き場で、そのあたりでは主にジャガイモを栽培している。
- エ. 記号は収穫したものを缶詰やジュースに加工する工場、そのあたりでは主にみかんを栽培している。


(6) 神奈川学園中学校の3年生にはフィールドワークという校外学習があります。4つの方面に分かれて行くのですが、そのうちの1つの方面は四国にある四万十川流域を訪れます。そこでは多くのことを学びますが、参加した生徒のレポートの一部に次のようなことが書いてありました。レポートを読んで問いに答えなさい。

- 地域に昔から伝えられてきたお祭りや地域で一緒にやってきた行事などを行うことが難しくなってきました。
- 学校の数が減ってきて、通学に時間がかかるようになりました。
- バスの便が少なくなってきた通院・通学・買い物などがとても不便です。
- 近くにあった消防署や病院がなくなってしまったので、もしもの時が心配です。

問：このレポートのような状況がなぜ起こっているのか説明しなさい。なお、このようなことは、四万十川流域だけでなく、全国各地で起こっている問題のようです。

(7) 瀬戸内海沿岸は、日本でも有数の工業地域（瀬戸内工業地域）です。

問1 次のグラフは、国内の工業地帯・工業地域の製造品出荷額の構成です。この中から瀬戸内工業地域のもを次のア～エより1つ選び、記号で答えなさい。なお、瀬戸内以外の3つは、京浜、中京、東海です。

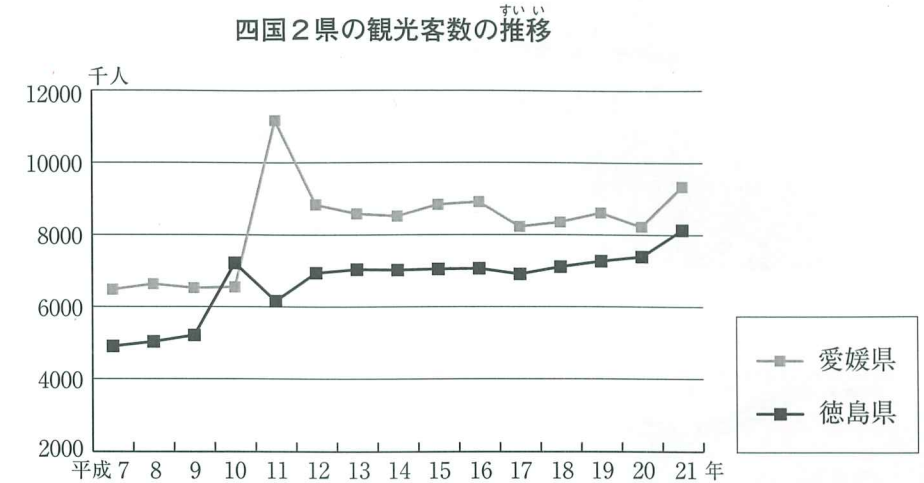


(グラフは、「日本国勢図会2012/2013」より)

問2 瀬戸内工業地域の代表的な工業都市・倉敷市の水島についての説明として正しいものを次のア～エより1つ選び、記号で答えなさい。

- ア. 製鉄所を中心に、鉄を材料とする自動車、造船、建設用機械、車両(電車など)などの工場が結びついて集まっている。
- イ. 火力発電所を中心に、そのまわりにアルミナやアルミニウムを作る工場があり、さらに関連のアルミサッシ、ファスナーの工場が集まっている。
- ウ. IC工場を中心に、パソコン、プリンター、カメラなどの関連工場が集まっている。
- エ. 石油の精製工場を中心に、製鉄所、火力発電所や石油化学工場などがパイプなどで結びつけられている。

(8) 次のグラフは、四国の愛媛県と徳島県の2県の観光客数の推移を表わしたものです。これを見ると、平成10年、11年ころから観光客数が増えていることが分かります。その増えた理由として最も適当なものを次のア～エより1つ選び、記号で答えなさい。



(グラフは、高知県庁ホームページをもとに作成)

- ア. 本州と四国を結ぶ橋が完成し、船や飛行機を使わないで車で直接、本州と四国の行き来ができるようになった。
- イ. 急激な経済成長で豊かになった中国や韓国などの人々が、四国の豊かな自然を味わおうとやって来た。
- ウ. 新しい空港と大型フェリーが接岸できる港が同じころに完成し、四国以外との交通の便が良くなった。
- エ. 現在ある四国の各県を結ぶ高速道路がこのころに完成し、四国内の結びつきがますます強くなった。

【2】 次のA～Dの図版を見て、質問に答えなさい。




A



B



C



D

(1) Aの図版について、以下の各問に答えなさい。

問1 この絵画はある物語の一場面を表したものです。物語名を答えなさい。

問2 この物語が書かれた時代よりも前のできごとを、次のア～エより1つ選び、記号で答えなさい。

ア. 東大寺で大仏が完成した儀式が行われた。

イ. 朝廷が鎌倉幕府を倒そうと兵を挙げるが失敗した。

ウ. 足利義満は中国との貿易を行った。

エ. 刀狩令によって農民たちは武器を没収された。

(2) Bの図版について、この絵画が描かれたのと同じ時代の建築物としてふさわしいものを、次のア～エより1つ選び、記号で答えなさい。

ア. 安土城

イ. 正倉院

ウ. 銀閣

エ. 日光東照宮

(3) Cの図版について、以下の各問に答えなさい。

問1 この絵画には日本とある国々の交流が色鮮やかに描かれています。そのうちの1つの国は1639年まで日本と貿易を続けていましたが、この国はどこですか。

問2 この頃、鉄砲が日本に伝わってきますが、鉄砲が日本に伝わってきたことで、戦い方はどのように変化しましたか。説明しなさい。

(4) Dの図版について、このような絵画を何といいますか。

【3】 次の年表を見て、質問に答えなさい。

年	できごと
1853年	( ① ) が浦賀に来航する
1858年	a <u>日米修好通商条約を結ぶ</u>
1894年	b <u>イギリスとの条約を改正する</u>
1904年	日露戦争が起こる
1914年	第一次世界大戦が起こる
1919年	( ② ) 半島で三・一独立運動が起こる 【A】
1941年	太平洋戦争が起こる 【B】
( ③ ) 年	日本が連合国軍に降伏する 【C】
1951年	サンフランシスコ平和条約を結ぶ

(1) 年表中の空欄①～③に適する語や数字を入れなさい。

(2) 下線部 a について、この条約によって外国と貿易が始まると国内の品物が不足したり値上がりしたりして、人々の生活は苦しくなりました。やがて人々は各地で  を求める一揆を起こしますが、この空欄  に当てはまる語を 3文字 で答えなさい。

(3) 下線部 b について、これと同年に起こったできごとを、次のア～エより1つ選び、記号で答えなさい。

- ア. 廃藩置県が行われ、各県には政府の役人が派遣された。
- イ. 大日本帝国憲法が制定された。
- ウ. 日本は韓国を併合し、植民地にした。
- エ. 中国(清)との戦争が始まった。

(4) 年表中の【A】の時期には普通選挙法が制定されますが、それによって選挙権を持つ人は全人口に対し、何%ぐらいになりましたか。次のア～エより1つ選び、記号で答えなさい。

- ア. 約1%      イ. 約5%      ウ. 約20%      エ. 約50%

(5) 次の①～③のできごとは年表中の【A】～【C】のどこに入れるのがふさわしいですか。【A】～【C】の記号でそれぞれ答えなさい。(同じ記号に入る場合もある。)

- ① 長崎に原子爆弾が投下された。
- ② 日本軍は満州全土を占領し、満州国を作った。
- ③ 日独伊三国同盟が結ばれた。

(6) 年表中の【C】の時期に行われた改革としてまちがっているものを、次のア～エより1つ選び、記号で答えなさい。

- ア. 独占的な企業が解体される。
- イ. 労働組合をつくることが法律で認められる。
- ウ. 軍隊を解散する。
- エ. 6年間の義務教育が始まる。

【4】 戦争と平和に関する次の文章を読み、各問に答えなさい。

1900年代に起こった二度の世界大戦は、各国が自国の利益のために植民地を求めて競い合ったことで引き起こされました。a 日本もアジアへと侵略し、中国、そしてアメリカとの間で戦争を開始していきました。戦争が拡大する中、世界中の国や地域が大きな被害を受けました。

世界各地で争われた二度の大戦への反省から、b 国際連合が作られ、世界の平和を守る取り組みが考えられました。こうした動きの中でc 日本国憲法も制定されました。

しかし、第二次世界大戦後、アメリカとソビエト連邦を中心とした世界を二分する対立が起こりました。この対立は、アメリカとソビエト連邦が直接戦火を交えなかったことからd 冷戦と呼ばれます。この冷戦によってe 民族が分断され、戦争が起こった国もあります。日本の平和主義のあり方も、この対立の中で方向転換を迫られました。

その後、冷戦は終結し、ソビエト連邦も崩壊しました。しかし、現在でも世界では領土をめぐる争いは絶えず起こっています。日本とその周辺の国々との間でも領土をめぐる主張の食い違いが続いています。国の安全保障が問われる中、f 沖縄の米軍基地についての議論も続いています。

また、g 国内での深刻な紛争が続いている地域もあります。人々にとっての「平和」とはどのような状態なのか、今後も考え続けていく必要があります。

(1) 下線部 a に関する次の問いに答えなさい。

問1 日本の植民地になった地域や日本軍が侵略した地域で起こったできごととして、誤っているものを次のア～エより1つ選び、記号で答えなさい。

- ア. 植民地となった地域では、天皇を敬うことや神社への参拝が強制された。
- イ. 植民地となった地域では、反乱がおこらないように各民族の教育や言葉が尊重された。
- ウ. 首都南京をせめた日本軍によって多くの中国人の命が奪われた。
- エ. 占領された地域では食料や資源が奪われたり、住民たちが戦争のために働かされたりした。

問2 次の写真は下線部 a のアジア・太平洋での戦争の時の日本国内の様子です。写真から考えられるこの戦争の特徴を説明しなさい。



(2) 下線部 b に関する次の問いに答えなさい。

問1 平和を維持するためにアメリカ・イギリス・フランス・ソビエト連邦・中国の5つの国が常任理事国となる組織が作られました。この組織の名前を答えなさい。

問2 国際連合では、平和な世界を作るために様々な専門機関が活動しています。専門機関の活動について説明として、誤っているものを次のア～エより1つ選び、記号で答えなさい。

- ア. 食べ物がなく飢える子どもたちを守るため、学校給食の提供を行っている機関がある。
- イ. 学校に通えない人々に教育を行い、文字を読める人を増やす取り組みを行っている機関がある。
- ウ. 経済的に助け合うため、国を超えて共通して使える通貨を作っている機関がある。
- エ. 環境破壊や紛争から人類共通の文化遺産や自然遺産を守る取り組みを行っている機関がある。

(3) 下線部 c に関する次の各問に答えなさい。

問1 憲法に書かれている平和主義の内容として、誤っているものを次のア～オより1つ選び、記号で答えなさい。

- ア. 全世界の人々が平和のうちに生きる権利をもっている。
- イ. 日本国民は正義と秩序に立つ国際平和を願っている。
- ウ. 国権の発動たる戦争を放棄する。
- エ. 国際紛争を解決するための武力は認める。
- オ. 陸海空軍やその他の戦力は持たない。

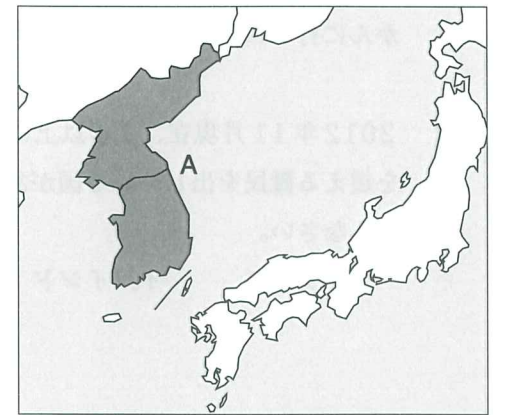
問2 日本国憲法では、国民主権が定められましたが、天皇の地位はどのように定められましたか。次の条文の  X  に当てはまる言葉を入れなさい。

憲法第1条 天皇は、日本国の  X  であり日本国民統合の  X  であって、この地位は、主権の存する日本国民の総意に基づく。

(4) 下線部 d に関し、資本主義経済をとるアメリカに対し、ソビエト連邦がとった政治・経済のしくみを何といいますか。解答欄に合わせて漢字で答えなさい。

(5) 下線部 e について、右の地図中Aの半島は現在でも分裂した二つの国の対立が続いています。

問1 地図中Aで1950年に起こった戦争の名前を答えなさい。





平成 25 年度

神奈川学園中学校入学考査 社 会 解答用紙 (A 日程)

受験 番号		名前		得点	
----------	--	----	--	----	--

【1】	(1)	(2)	(3)	川	(4)	(5)
	(6)					
	(7)	問 1	問 2	(8)		
【2】	(1)	問 1	問 2	(2)		
	(3)	問 1				
		問 2				
	(4)					
【3】	(1)	①	②	③		
	(2)		(3)	(4)		
	(5)	1	2	3	(6)	
【4】	(1)	問 1	問 2			
	(2)	問 1	問 2			
	(3)	問 1	問 2	(4)	主義	
	(5)	問 1	問 2			
	(6)	問 1	問 2			
	(7)	問 1	問 2			