

平成24年度

神奈川学園中学校入学考査問題

社 会

(A日程)

テスト開始前に、問題用紙のページに脱落がないかどうか確認しなさい。

解答はすべて解答用紙に記入しなさい。

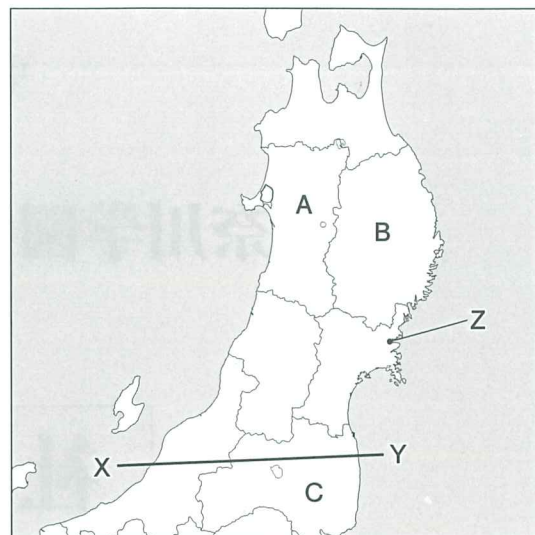
地名、人物名、用語などは正しい漢字で答えなさい。

神奈川学園中学校

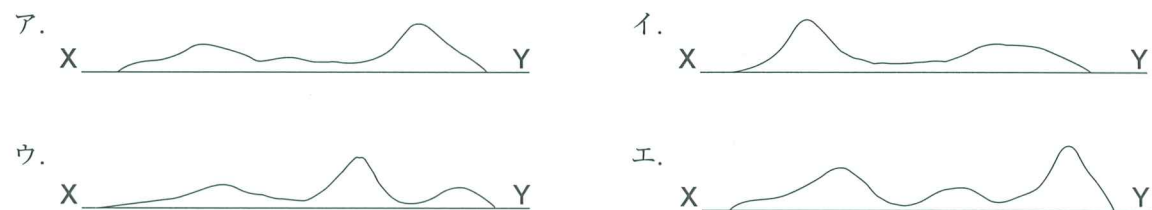
【1】東北地方について、質問に答えなさい。

(1) 地図を見て質問に答えなさい。

問1 地図中のAの県名を答えなさい。



問2 地図中のX—Yの線の地形の断面図を描いた場合、正しいものを次のア～エより1つ選び、記号で答えなさい。

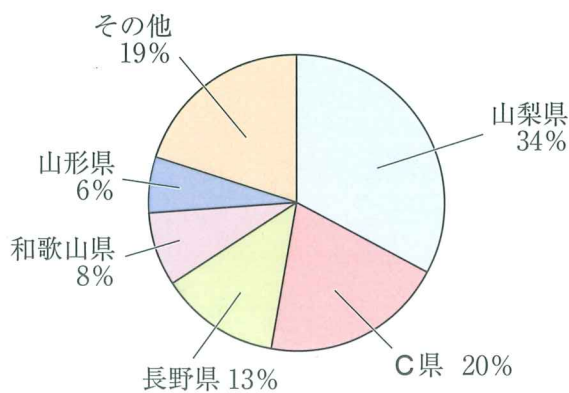


問3 地図中のB県についての説明として正しいものを、次のア～エより1つ選び、記号で答えなさい。

- ア. この県の面積は、47都道府県中、北海道について2番目に広い。
- イ. この県の中央部には、南北に広く郡山盆地こおりやまが広がっている。
- ウ. この県には、昨年世界遺産に登録された小笠原諸島がある。
- エ. この県の北から南に向かって阿武隈川あぶくまがわが流れている。

問4 地図中のC県は、果樹栽培がさかんです。次のグラフはある果樹のC県を含む都道府県別の生産量を表しています。この果樹を次のア～エより1つ選び、記号で答えなさい。

- ア. りんご
- イ. さくらんぼ
- ウ. ぶどう
- エ. もも



(『2011 データブック・オブ・ザ・ワールド』より作成)

(2) 昨年の東日本大震災に関連した次の枠内の文章を読み、質問に答えなさい。

3月11日午後2時46分。日本観測史上最大というマグニチュード9.0の大地震が発生した。震源は、宮城県・牡鹿半島の東南東約130km、深さ約24km。直後に発生した1：津波が海沿いの町々を飲み込み、人も建物も押し流した。 (中略)

() 県では2：原子力発電所が制御不能となり、放射性物質が空气中に放出された。

<『ジュニアエラ 2011年5月号』より一部抜粋し、加筆修正したものです>

問1 文中の()内に適する県名を答えなさい。

問2 文中1の下線部について質問に答えなさい。

- ① このような津波による被害をよりいっそう大きくさせたのは、太平洋岸の、のこぎりの歯のような海岸の地形によるものと言われます。そのような複雑な海岸を何と言うか答えなさい。
- ② 約19.0% (全国平均=約0.3%)。この数字は、地震で大きな被害を受けた南三陸町(地図中のZ地点)における、ある産業についている人たち(15歳以上)の割合です。ある産業とは何か、次のア～エより1つ選び、記号で答えなさい。なお、この地域の①の地形の見られる市町村には同じような特徴がみられます。
ア. 林業 イ. 漁業 ウ. 建設業 エ. 電気・ガス業
- ③ ②の産業で働く人たちの割合が全国平均とくらべ高いのは、自然条件の面から考えるとおもに2つの理由があります。1つは山がちで、低くて平坦な土地に恵まれない地形であることです。では、もう1つの理由とはどのようなことか、説明しなさい。
- ④ 東北地方を中心に被害があったにもかかわらず、大震災の直後には、首都圏の製造業(工業)も生産が一時落ち込みました。その理由としてもっとも正しいものを次のア～エより1つ選び、記号で答えなさい。
ア. 大地震が首都圏でも発生する可能性が大きいということで、消費者がモノを買い控えるようになり、生産を減らさざるを得なくなったから。
イ. 被災地の原子力発電所からの電力だけを使用している工場がほとんどなので、原子力発電所がストップして送電されなくなったから。
ウ. 工場で働く人たちは東北出身者が多いため、被災地=地元の復興が大事と休暇をとってしまい、工場の労働力が不足したから。
エ. 関連会社や子会社などが東北地方にも多数存在していて、工場や道路などの損壊そんかいのために、部品などの生産や供給が震災前のようにはいかなくなったから。

【2】 建物にはその時代の人びとの暮らしや考え方がうかがわれます。次の図版《A》～《D》を見て設問に答えなさい。



《A》



《B》



《C》



《D》

(1) 図版《A》～《D》の建物の時代を古い順に並べたときに、3番目に当たるものを記号で答えなさい。

(2) 図版《A》に関する以下の設問に答えなさい。

問1 このような邸宅に住んでいた人物で、「この世をば 我が世とぞ思う 望月の 欠けたることも なしと思えば」と詠むほど絶大な権力を握っていた人物の名前を答えなさい。

問2 図版《A》のような建物がつくられ始めた時代を答えなさい。

(3) 図版《B》に関する以下の設問に答えなさい。

問1 このような建物がつくられたときの時代背景について述べた説明文として、まちがっているものを、次のア～エより1つ選び、記号で答えなさい。

- ア. 食料保存を目的につくられたこの建物は、長期間保存できるような工夫もされている。
- イ. この建物の中には、当時の人びとが主食にするようになったクリやクルミなどが主に保存されていた。
- ウ. 食料のたくわえがたかさんできるようになり、その奪い合いがムラごとでおこるようになった。
- エ. ムラのなかではムラをまとめる力を持った者と、それに従う立場の者との力の差が強くなった。

問2 このような建物が造られた時代に関する以下の資料を読んで、空欄に適切な人名を補いなさい。

倭(日本)には、邪馬台国というクニがあり、()という女王が、約30のクニを従えている。弟が()を助けている。多くの召使いが仕え、物見やぐらには見張りがたち、宮殿を兵士に守らせている。()は魏(中国)に使いを送り、魏の皇帝から王に任命され、金印や銅鏡などを与えられた。

(4) 図版《C》の建物をつくった人物が将軍であった時期のできごととしてまちがっているものを、次のア～エより1つ選び、記号で答えなさい。

- ア. 大名たちに領地から江戸へ来ることを義務付けた。
- イ. 武家諸法度とよばれる幕府の法律を大名らに向けて出した。
- ウ. 外国船の来航と日本人が海外にわたることを制限した。
- エ. オランダ語の書物を通じて西洋知識をとり入れる蘭学が興った。

(5) 建物にはその時代の様子が表れています。そこで、図版《D》がつくられた時代に関する以下の問に答えなさい。

問1 この建物が作られる直前に、京都を舞台にした大きな戦乱が起きましたがその名前を答えなさい。

問2 上記問1の戦乱によって日本社会はどのように変わったか説明しなさい。

【3】 次の短文《A》～《D》は、近現代史で活躍した人物についてそれぞれ述べたものです。文章を読んで設問に答えなさい。

《A》

情熱的な作風で知られる歌人。「あゝをとうとよ 君を泣く 君死にたまふことなかれ」から始まる、兵士として戦場に行く弟を心配する詩を『明星』に発表した。

《B》

土佐藩出身の政治家で、議会を開くように政府に要求して自由民権運動を始めた。そのあと、自由党をつくり、その党首にもなった。

《C》

外務大臣をつとめた人物で、政府が自由に関税をかけることができる条約をアメリカと結び、条約改正問題を終わらせた。

《D》

新婦人協会の設立に参加し、その後も婦人参政権獲得のために長年運動を続けた。婦人参政権が実現した後も、参議院議員として活躍をした。

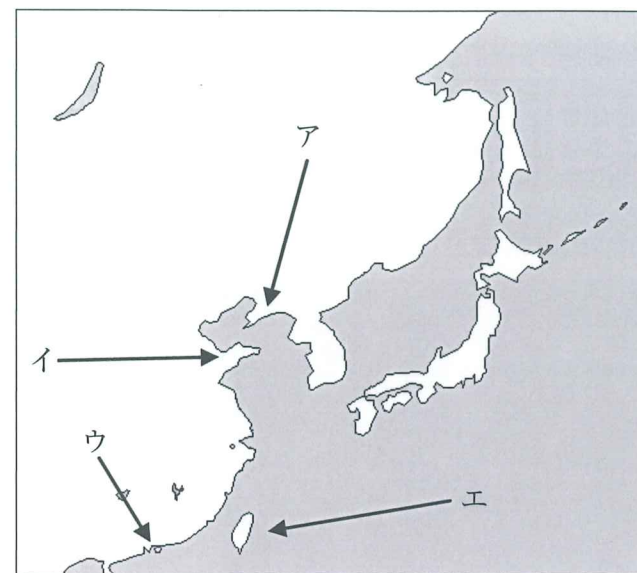
(1) 短文中の下線部を古い順に並べた場合、3番目となるものを《A》～《D》の記号で答えなさい。

(2) 短文《A》に出てくる詩がよまれたときの戦争に関する質問です。

問1 この戦争に関する説明文として正しいものを、次のア～エより1つ選び、記号で答えなさい。

- ア. 日中両国軍の衝突をきっかけに日本軍は中国東北部を支配し、この地に新たな国家をつくらせた。
- イ. 中国東北部を主戦場として行われたこの戦争は、日本兵士にも前の対外戦争に比べ多数の被害を出した。
- ウ. 日本軍は首都南京を占領し、多くの中国国民の犠牲をまねいたが、戦争は長く続いた。
- エ. 戦争末期には日本本土にも激しい空襲が行われ、女性や子どもを含め多くの犠牲者を出した。

問2 この戦争の結果、日本が支配を行った場所を下の地図ア～エより1つ選び、記号で答えなさい。



(3) 短文《B》の人物の名前を姓名ともに答えなさい。

(4) 短文《C》に関する以下の間に答えなさい。

問1 日本政府が条約改正交渉の中で改正をめざした、もう一つの不平等な内容について答えなさい。

問2 日本の不平等条約締結から、条約改正が実現するまでの間かかった年数として、もっとも近い数字を次のア～エより1つ選び、記号で答えなさい。

- ア. 5年
- イ. 15年
- ウ. 30年
- エ. 50年

(5) 短文《D》に関する以下の間に答えなさい。

問1 新婦人協会が設立された時代には、女性以外にも労働者や小作人など社会の中で弱い立場におかれていた人たちが自らの権利を主張しました。このような民衆運動の高まりに示される時代の雰囲気や状況を、当時の元号を含んだ名称で答えなさい。

問2 下線部の時期の日本の改革について説明した選択肢のなかでまちがっているものを、次のア～エより1つ選び、記号で答えなさい。

- ア. 小学校6年、中学校3年の義務教育が決められ、男女共学となった。
- イ. 地主による支配が長く続いた農村で小作人に土地配分が行われた。
- ウ. ソ連を中心とする連合国軍による占領政策が行われた。
- エ. 女性参政権が認められた後の総選挙で女性議員が誕生し、憲法の国会審議に加わった。

【4】 日本の政治についての各問に答えなさい。

(1) 次の新聞記事には野田佳彦氏が民主党の代表に選ばれたことが書かれています。(文章を一部消しています。)



問1 新聞記事は、野田氏が「民主党の代表選挙」で党代表に選ばれた記事です。民主党は国会で多数を占めていたため、野田氏が内閣総理大臣（首相）に選ばれることも確実となりました。記事の空欄 X には、「国会で投票によって内閣総理大臣を選ぶこと」という意味の漢字二字の語句が当てはまります。その語句を答えなさい。

問2 国会で選ばれた後、正式に内閣総理大臣が決まるには、任命を受ける必要があります。内閣総理大臣の任命を、国事行為として行うのは誰か答えなさい。

問3 国会について以下の問に答えなさい。

① 内閣は国会の信任のもとに成り立ち、国会に対して連帯責任を負っています。日本の政治のこのようなしぐみを何というか、正しいものを次のア～エより1つ選び、記号で答えなさい。

ア. 二院制 イ. 三権分立 ウ. 議院内閣制 エ. 比例代表制

② 国会は国の政治のもっとも重要な機関だといえます。次の日本国憲法の条文の空欄に当てはまる語の組み合わせとして正しいものを次のア～オより1つ選び、記号で答えなさい。

41条 国会は、国権の（ 1 ）機関であり、国の唯一の（ 2 ）機関である

ア. (1) 最高 (2) 司法 イ. (1) 立法 (2) 主権
ウ. (1) 最高 (2) 立法 エ. (1) 主権 (2) 防衛
オ. (1) 立法 (2) 最高

③ 国会には「衆議院優越の原則」があります。このことについての問に答えなさい。

1) 次のAとBの文章は「衆議院優越の原則」の内容について説明したものです。その正誤（正しいか、誤っているか）の組み合わせとして正しいものを次のア～エより1つ選び、記号で答えなさい。

A 予算案は必ず衆議院から先に審議する。
B 内閣不信任案を決議できるのは衆議院のみである。

ア. A正 B正 イ. A誤 B正 ウ. A誤 B誤 エ. A正 B誤

2) 衆議院優越の原則がある理由について述べた次の文章の空欄に当てはまる正しい語句の組み合わせとして正しいものを次のア～オより1つ選び、記号で答えなさい。

衆議院は、参議院に比べて（ 1 ）、また、（ 2 ）もあるため選挙の機会が多い。そのため、その時々国民の意見を取り入れやすいからである。

ア. (1) 任期が短く (2) 総辞職 イ. (1) 会期が長く (2) 解散
ウ. (1) 会期が短く (2) 総辞職 エ. (1) 任期が長く (2) 解散
オ. (1) 任期が短く (2) 解散

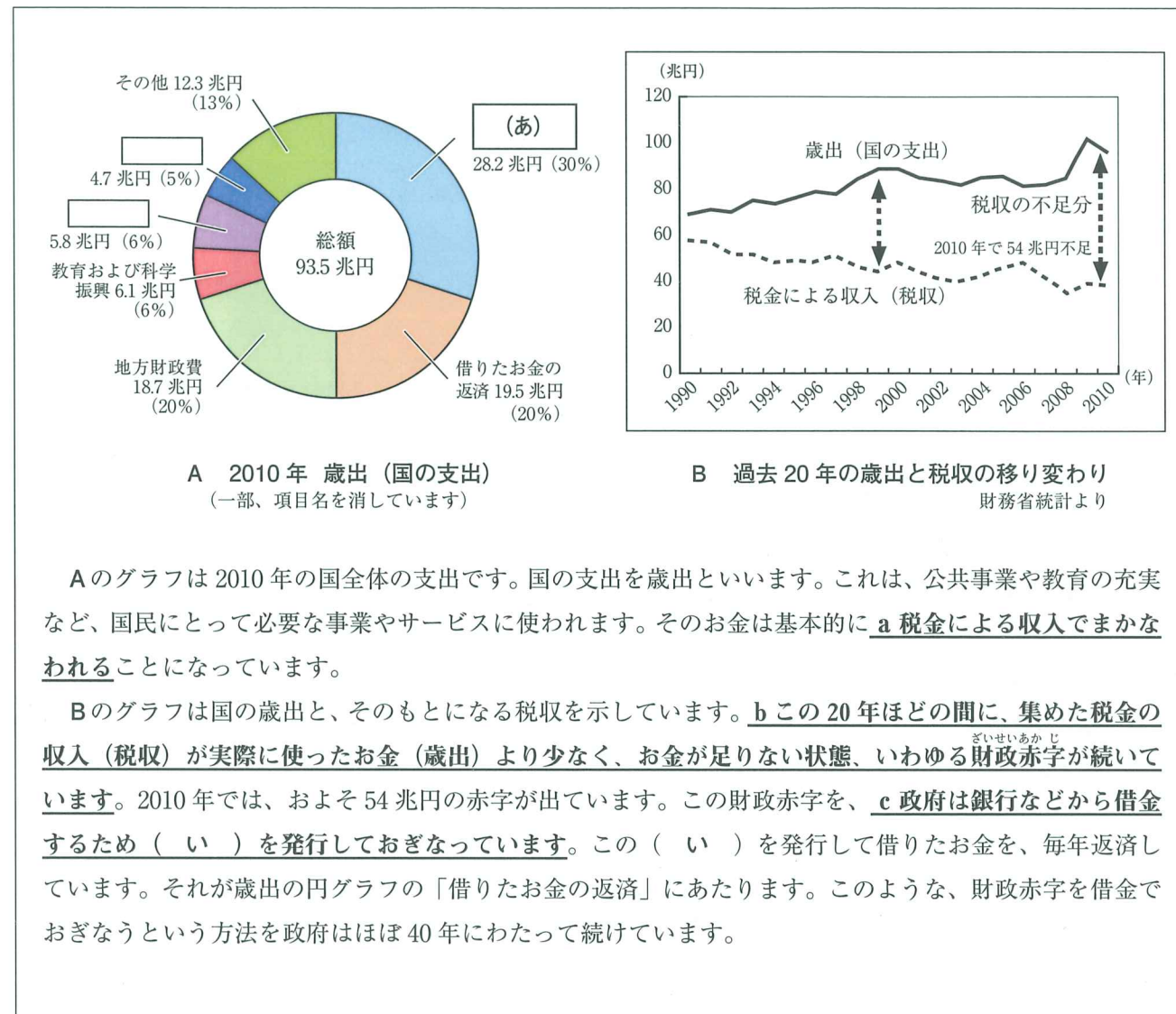
問4 野田首相は9月2日に新しい内閣を組織しました。以下の問に答えなさい。

① 内閣の役割について説明した次の文章のうち、まちがっているものを次のア～エより1つ選び、記号で答えなさい。

ア. 法律案や予算案をつくって、国会に提出する。
イ. 外国と条約をむすぶ。
ウ. 最高裁判所の長官を指名し、裁判官を任命する。
エ. 法律が憲法に違反していないかどうかを審査する。

② 内閣の大きな役割は、国会が決めた法律や予算をもとに「実際に政治を行う」ことである。このことを何というか答えなさい。

(2) 国民の生活や、東日本大震災からの復興にも必要な国の予算について、次のグラフと文章を読んで間に答えなさい。



Aのグラフは2010年の国全体の支出です。国の支出を歳出といいます。これは、公共事業や教育の充実など、国民にとって必要な事業やサービスに使われます。そのお金は基本的に a 税金による収入 でまかなわれることになっています。

Bのグラフは国の歳出と、そのもとになる税収を示しています。b この20年ほどの間に、集めた税金の収入 (税収) が実際に使ったお金 (歳出) より少なく、お金が足りない状態、いわゆる財政赤字が続いています。2010年では、およそ54兆円の赤字が出ています。この財政赤字を、c 政府は銀行などから借金するため (い) を発行しておぎなっています。この (い) を発行して借りましたお金を、毎年返済しています。それが歳出の円グラフの「借りましたお金の返済」にあたります。このような、財政赤字を借金でおぎなうという方法を政府はほぼ40年にわたって続けています。

問1 Aのグラフの(あ)には何が当てはまるか、次のア～エより1つ選び、記号で答えなさい。

- ア. 社会保障費 イ. 防衛関係費 ウ. 公共事業費 エ. 公務員給与

問2 文中の(い)に当てはまる語句を答えなさい。

問3 文中下線部 a、税金は野田内閣でも大きな話題になっています。野田内閣は震災の復興のためのお金をまかなうために増税も考えています。特に、働く人が、収入に応じて払う税を上げることを発表しました。この税を何というか、正しいものを次のア～エより1つ選び、記号で答えなさい。

- ア. 法人税 イ. 所得税 ウ. ガソリン税 エ. 関税

問4 文中下線部 b について、間に答えなさい。

① グラフBを見ると、2007年ごろから、歳出が大きく増え、税収は大きく減ってきているといえます。この時期に財政赤字が大きくなっている理由として まちがっているもの を次のア～エより1つ選び、記号で答えなさい。

- ア. 国民から批判のある消費税の税率を政府が下げたため、税収が減った。
イ. 世界的な不況が起きて、企業の利益が減少したため、税収が減った。
ウ. 高齢化が続き、社会保障に使う費用が増大しているため、歳出が増えた。
エ. 子ども手当や高校無償化などの新しい政策がはじまったため、歳出が増えた。

② 財政赤字はその一カ国だけの問題ではなく、多くの国に影響を及ぼします。公務員が多いことなどから財政赤字となり、他の国からの経済援助を全面的に受けて財政の立て直しを行っている国が2011年に大きな話題になりました。その国はどこか、次のア～エより1つ選び、記号で答えなさい。

- ア. エジプト イ. ギリシャ ウ. ロシア エ. ブラジル

問5 文中の下線部 c について、(い) を発行して、借金によって財政赤字をおぎなうことにどのような問題点があるか、グラフや文章全体を参考にして述べなさい。

平成24年度

神奈川学園中学校入学考査 社 会 解答用紙 (A日程)

受験 番号		名前		得点	
----------	--	----	--	----	--

【1】	(1)	問1	県			問2		問3		問4			
		問1	県			問2	①	海岸		②			
	(2)	問2	③										
		問2	④		問3	①		②					
【2】	(1)		(2)	問1				問2	時代				
	(3)	問1		問2				(4)					
	(5)	問1											
		問2											
【3】	(1)		(2)	問1		問2		(3)					
	(4)	問1									問2		
	(5)	問1						問2					
【4】	(1)	問1				問2				問3	①		②
		問3	③	1)		2)		問4	①		②		
	(2)	問1		問2				問3		問4	①		②
		問5											