

【1】 日本は自動車工業がさかんです。自動車工業についての質問に答えなさい。

問1 乗用車の生産台数のもっとも多い工業地帯(地域)を答え、その位置を地図中のA~Gより1つ選びなさい。




問2 自動車工業についての説明で、まちがっているものを次のア~エの文より1つ選びなさい。

- ア. 自動車を生産するには、たくさんの部品を必要とするために、組み立て工場の周りに関連の部品工場が集まることが多い。
- イ. 日本の自動車生産のうち、およそ半分は輸出に向けられるために、輸出に便利な港に近いところや港まで運びやすいところに工場がある。
- ウ. 自動車の組み立てには、安全性や人件費などの関係上、ロボットが使われるなど機械化が進められている。
- エ. 自動車の生産には、高度な技術が必要とされるので、日本ではようやく昭和の終わりになって自動車が生産されるようになった。

問3 自動車の燃料は、ガソリンです。ガソリンは原油(石油)から得ることができます。原油の日本の自給率(2007年)を表すものを次のア~エより1つ選びなさい。

- ア. 0.4% イ. 8.8% ウ. 12.4% エ. 32.6%

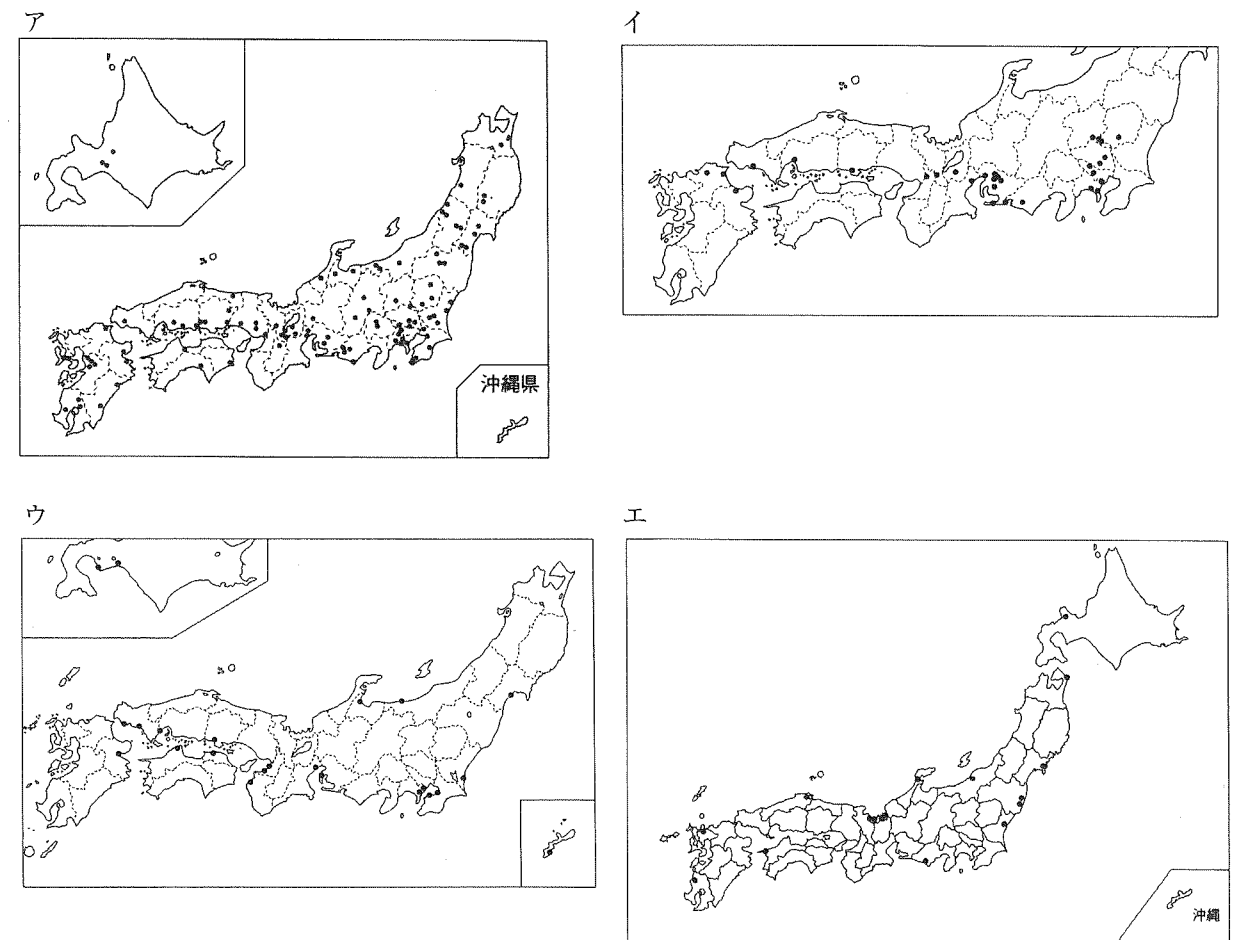
問4 日本が原油を輸入している国々(2007年)を表したグラフのうち、正しいものを次のア~エより1つ選びなさい。



問5 自動車はたくさんの部品を組み立ててできています。その部品の一つで大変重要な意味をもっているものがICです。IC産業の発達に関係することがらとしてまちがっているものを次のア~エより1つ選びなさい。

- ア. ICの生産には、きれいな水や空気が必要である。
- イ. IC工場は、大都市や大きな工業地帯から離れた地域や内陸部にも作られる。
- ウ. ICは、製品は小さいにもかかわらず、価格が高いため、自動車以外の工業製品にはまったく使われていない。
- エ. ICは、製品が小さくて軽いので、高速道路や空港に近いところにも工場が作られる。

問6 次のア~エの地図中にある●印は工場を表しています。IC生産工場の分布を表すものを次のア~エより1つ選びなさい。



(地図は日本国勢図会 2009/10 より)

問7 このところ、自動車産業で積極的に開発を進め、販売台数も急激に増加しているのは、どのような自動車なのか説明しなさい。また、そのような自動車が開発されてきた理由も説明しなさい。

【2】 昨年は横浜開港 150 周年でした。次の文章は横浜の歴史に関する文章です。文章を読んで、以下の質問に答えなさい。

横浜は、今から約 3 万年前に陸地となり、やがて人間が暮らすようになった。横浜では、環濠集落が現れた大塚・歳勝土遺跡や縄文時代から a 古墳時代 にわたって営まれた三殿台遺跡など様々な遺跡が発見され、そうした遺跡から当時の人々の生活がどのようなものであったか、推測できる。

奈良時代になると、日本は律令制度のもとで国の下に郡が置かれたが、現在の都筑区には 8 世紀に成立した郡の役所の跡が発見されている。この都筑郡の名は『A』にも見られ、都筑の防人とその妻らの歌が収められている。奈良時代以降は人口も増え生産力を高め、平安時代には各地の開発も進み有力な豪族も現れた。市内にある弘明寺などの寺院は、こうした豪族たちによって建立されたといわれている。

1192 年に源頼朝が征夷大将軍に任命されて、b 鎌倉が武家政治の中心地となると、金沢区の六浦は鎌倉幕府の交易港として発展した。戦国時代になると、後北条氏が関東一帯を平定するようになり、その後豊臣秀吉によって後北条氏が滅ぼされると、横浜は徳川家康の領地となった。

やがて徳川家康が江戸に幕府を開くと、横浜の大部分は幕府の直轄領などになった。江戸時代には全国各地を結ぶ様々な道が整備されたが、横浜では東海道沿いに神奈川宿や保土ヶ谷宿などが形成され、多くの人々が往来した。

幕末になり日本が開国して、さらに c 1858 年には B 条約を結び、翌年、横浜が貿易港として開港され、活発に貿易が行われた。明治時代になると、政府は積極的に西洋の政治の仕組みや文化などを取り入れるが、それとともに国内では d 生活様式などが西洋化していく現象 が生まれ、特に貿易港である横浜は外国の文化が入る玄関口となり、国際色豊かな街に発展していった。

その後関東大震災の被害にあい、e 第二次世界大戦では空襲の被害にもあった横浜だが、多くの人々の努力によって復興し、現在も国際的な都市として発展し続けているのである。

(1) 下線部 a について、古墳時代の説明として まちがっているもの を、次のア～エより 1 つ選びなさい。

- ア. 5 世紀頃には、近畿地方を中心に巨大な前方後円墳が造られた。
- イ. 朝鮮半島から仏教やかな文字など様々な文化や技術が伝わった。
- ウ. 古墳の周りには人や動物などをかたどったはにわが置かれていた。
- エ. 大和朝廷の大王は有力な豪族たちとともに支配をした。

(2) 文章中の空欄 A には、8 世紀に成立した日本で最も古い和歌集の名前が入る。この和歌集を答えなさい。

(3) 下線部 b について、鎌倉時代には武家で初めての法律が制定されるが、この法律を何というか、答えなさい。


(4) 下線部 c について、以下の各問に答えなさい。

問 1 文章中の空欄 B にはあてはまる条約名を答えなさい。

問 2 外国との貿易の様子について説明したものと まちがっているもの を、次のア～エより 1 つ選びなさい。

- ア. 輸出入品の税金は日本が自由に決めることができなかった。
- イ. 日本からの主な輸出品は生糸だった。
- ウ. 貿易の取り引きは開港場の居留地で行われた。
- エ. 貿易によって製鉄業が発達した。

(5) 下線部 d について、次の図版はこの現象を表したものです。当時の日本の様子の説明として正しいものを、次のア～エより 1 つ選びなさい。



- ア. 西洋の学問を学ぶ人が増え、杉田玄白らが『解体新書』を著した。
- イ. 西洋の思想が広まり、福沢諭吉が『学問のすゝめ』を著した。
- ウ. 民主主義の考えが広まり、全国水平社が差別をなくす運動をおこした。
- エ. 西洋の文化が広がる中で、初めてキリスト教が日本に伝わった。

(6) 下線部 e について、空襲よりも後におこった出来事として正しいものを、次のア～エより 1 つ選びなさい。

- ア. 長崎に原子爆弾が投下される。
- イ. 日本軍がハワイの真珠湾を攻撃する。
- ウ. 日本がドイツ・イタリアと軍事同盟を結ぶ。
- エ. 日本が国際連盟を脱退する。

【3】 次の年表を見て、以下の質問に答えなさい。

年代	できごと
604年	聖徳太子が <input type="text" value="あ"/> を定める A
11世紀初めごろ	a <u>藤原道長が摂関政治を行う</u> B
1338年	b <u>足利尊氏が室町幕府を開く</u> C
1603年	c <u>徳川家康が江戸幕府を開く</u> D
1868年	明治維新の改革が始まる E
1925年	d <u>普通選挙制が定められる</u> F
1931年	満州事変が起こる G
1945年	太平洋戦争が終わる

- (1) 年表中の空欄 にあてはまる法の名を答えなさい。
- (2) 下線部 a について、この頃の都は何という都でしたか。都の名前を答えなさい。
- (3) 下線部 b について、室町時代の農民についての説明として正しいものを次のア～エより1つ選びなさい。
 ア. 農民たちは幕府から口分田を与えられ、租という税を納めた。
 イ. 農民たちは五人組を作らされ、共同責任を負わせられた。
 ウ. 農民たちは耕作の権利を認められる一方、石高に応じて年貢を納める義務を負った。
 エ. 農民たちは重い年貢に反対して一揆を起し、領主に抵抗した。
- (4) 下線部 c について、江戸時代に「天下の台所」とよばれ、全国の生産物が集まり、取り引きされた都市はどこか。都市の名前を答えなさい。

(5) 次の①～③は年表中の E の時期にあてはまる事項である。①～③を年代順に並べ替えるとどのようになるか。次のア～カより1つ選びなさい。

- ①台湾が日本の植民地となる
 ②大日本帝国憲法が公布される
 ③第一次世界大戦が起こる

- ア. ①→②→③ イ. ①→③→② ウ. ②→①→③
 エ. ②→③→① オ. ③→①→② カ. ③→②→①

(6) 下線部 d について、これと同年に、社会主義の運動を取りしめるために制定された法律は何ですか。法律の名前を答えなさい。

(7) 次の中で年表中の G の時期にあてはまらないものを、次のア～オより2つ選びなさい。

- ア. 日本軍がベトナムに兵を進め占領する。
 イ. 沖縄で地上戦が行われる。
 ウ. 朝鮮半島が南北に分断される。
 エ. アメリカが日本への石油の輸出を禁止する。
 オ. 軍事力強化のため八幡製鉄所を作る。

(8) 次の図版を見て、以下の各問に答えなさい。



- 問1 この戦いに勝利した武将は、当時日本に新しく伝えられた武器を効果的に使用して勝利をおさめたが、この武将がとった新しい戦法とはどのようなものか。図版を参考にして説明しなさい。
- 問2 この戦いは年表中の A～G のどこにあてはまるか。A～G より1つ選びなさい。

【4】衆議院議員選挙に関する以下の文章を読み、質問に答えなさい。

昨年夏、日本の政治は大きく変化しました。それまで15年間、それ以前も含めると50年以上日本の政治の中心にいた自民党政権が終わり、新たに民主党へと政権交代が起こったのです。

7月に、a麻生内閣はb衆議院を解散しました。衆議院の任期4年まで、2か月を残しての解散でした。

衆議院が解散した後、8月末にc衆議院議員選挙が行われました。

その結果、最も議席数を伸ばしたのが民主党となり、d480議席中308議席を獲得しました。そして、e民主党に政権が移りました。

(1) 下線部aに関して、麻生内閣時のこととしてまがっているものを次のア～エより1つ選びなさい。

- ア. 年金の保険料を支払わない人が増えたので、保険料を支払わせるため、麻生内閣はねんきん特別便のしくみを作った。
- イ. 麻生内閣は発足時から支持率が低下し、しばしば10%台となって、国民の支持が得られているのかどうか問題となった。
- ウ. 麻生内閣は、振り込め詐欺問題や産地を偽装した食品の問題など、消費者に被害を与える問題に対応するため、消費者庁をつくった。
- エ. 麻生内閣は昨年4月に、会社に資金を貸す制度や、エコポイント制度など、あらたに15兆円を出す景気対策を行った。

(2) 下線部bに関して、衆議院の解散について述べた以下の文章の()に当てはまる言葉を答えなさい。

日本国憲法によると、内閣は衆議院の解散を行うことができる。1つめの方法は、天皇の国事行為に対する助言と承認としての解散であり、昨年解散はこの方法で行われた。2つめの方法は、衆議院から()決議が出されてから10日以内に行う解散である。

(3) 下線部cに関して、以下の各問に答えなさい。

問1 選挙の際の原則について、まがっている文章を次のア～エより1つ選びなさい。

- ア. 性別や財産で差別せず、一定の年齢になれば、選挙権を得ることが出来る。
- イ. 投票する票の数は、すべての有権者で同じである。
- ウ. 有権者が選挙当日に投票できない場合、代わりの人に投票を頼むことが出来る。
- エ. 有権者がどのような投票を行ったか公開されず、責任を問われることはない。

問2 以下の表は、昨年の衆議院選挙の時に各政党が出した公約の一部をまとめたものです。

	(X) 党	Y 党	Z 党
財政	国の予算からムダづかいをなくし、9.1兆円のゆとりを出す。	消費税を含む税金について改革を行い(消費税が上がることもありえる)、そのしくみを2011年度までに作り、景気が良くなったら実施する。	軍事費などのムダづかいをたす。
子育て	中学卒業まで1人当たり月26000円(2010年度は半額)を支給する子ども手当をつくる。	3～5歳児に対する幼稚園・保育所の教育費を無料にする。	・保育所を増やして、保育所に行くことができず困っている子どもをゼロにする。 ・子どもの医療費を無料にする。
安全保障	・アメリカとは対等な関係を目指す。 ・アジアの国とも信頼関係を作り上げる。	日米安全保障条約を基にした、アメリカとの結びつきを強化する。	・憲法9条の改正は認めない。 ・日米安全保障条約をなくし、アメリカ軍基地のない日本を目指す。

① 近年、政党は選挙の際に、上の表の内容のように、具体的目標や数値・金額などを示して国民に公約することが増えました。この公約(または公約を記した文書)のことを何というか、カタカナで答えなさい。

② (X) 党に当てはまるものを次のア～エより1つ選びなさい。

- ア. 自民党 イ. 民主党 ウ. 共産党 エ. 社民党

(4) 下線部dについて、民主党は衆議院では過半数の議席を獲得しました。しかし、参議院では過半数でないため、民主党は単独で政権をとらず、社民党、国民新党と協力して政権を運営するようになりました。2つ以上の政党が協力して政権を運営することを何というか、解答欄に沿って答えなさい。

(5) 下線部eについて、与党となった民主党は《国会のしごと》にも大きな影響力を持つことになります。

《国会のしごと》

- 法律案を審議し、議決する。
- ()を決める。()の案については、必ず衆議院が先に審議して議決する。
- 内閣総理大臣を選び、指名する。衆議院と参議院で意見が分かれたり、決められた期限までに議決しない場合、衆議院の議決が国会の議決になる。

問1 ()に当てはまる言葉を答えなさい。

問2 上の文章の下線部について 昨年の衆議院議員選挙後に選出された内閣総理大臣は誰か、名前を答えなさい。

問3 民主党の内閣について、まちがっているものを次のア～エより1つ選びなさい。

- ア. 行政刷新会議をつくり、それまでの政府の支出を見直した。
- イ. 国の負担を軽くするため、郵政を民営化するための法案を国会に提出した。
- ウ. 公立高校については、授業料を無料にする方針を発表した。
- エ. 温暖化防止のために温室効果ガスを25%削減すると宣言した。

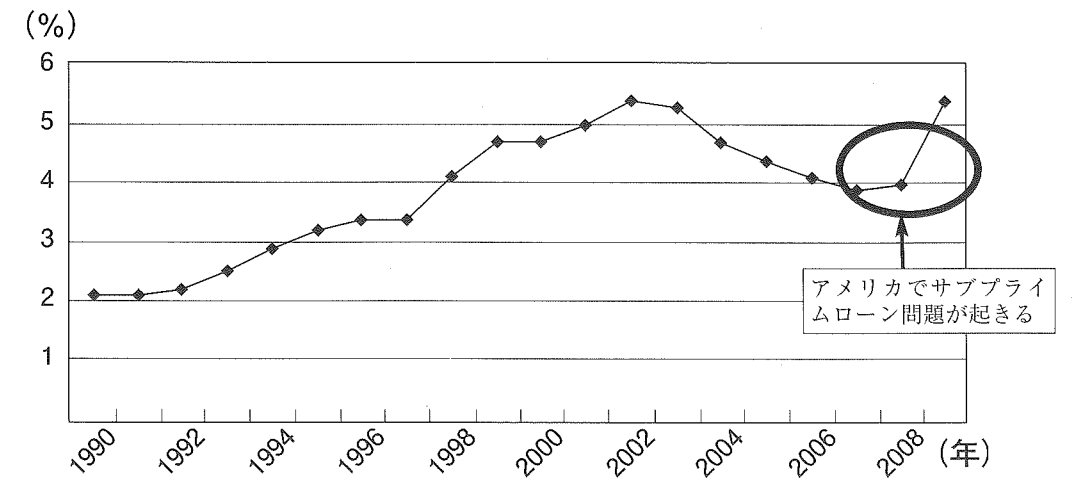
【5】現在の日本のくらしと労働に関する以下の質問に答えなさい。

日本国憲法には、以下のような条文があります。

日本国憲法 第25条
「すべて国民は、健康で文化的な最低限度の生活を営む権利を有する」

上の条文で守られる人の中には、会社に雇われる「労働者」も含まれます。なぜかという、労働者は、会社によって、悪い条件で働かされやすいからです。a 日本でも不況にともない、労働者にかかわるさまざまな問題が起き、b 「非正規雇用」が増えている問題なども起きています。

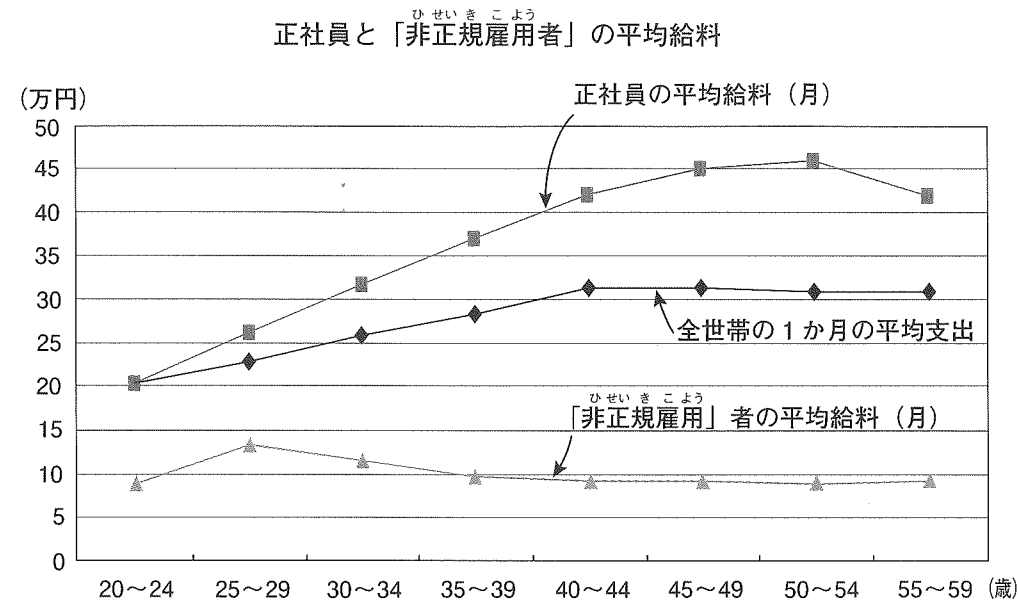
- (1) 日本国憲法第25条で示されている権利を何と言うか、答えなさい。
- (2) この条文に基づいて行われている社会保障のうち、まちがっているものを次のア～エより1つ選びなさい。
 - ア. 仕事を辞めた人が次の職を決めるまでの期間、職業訓練を受けたり、お金の援助を受けたりするための保険がある。
 - イ. さまざまな理由から健康で文化的な最低限度の生活ができない人々へお金を援助するしくみがある。
 - ウ. 障がいを持つ人の自立を支援するため、障がいを持つ人を優先して雇わなければならないとする法律がある。
 - エ. アルバイトやパートで1年間同じ人を雇った場合、次の年以降は必ず正社員にすると会社に義務付けた法律がある。
- (3) 下線部 a について、下のグラフは景気が良いほど低くなり、景気が悪いほど高くなる、日本の労働者に関わるあることがらを示しています。2009年に入ってから、再び5%を超える高い数値となっています。下のグラフは何を示したグラフか、答えなさい。



厚生労働省の資料より

(4) 下線部bについて、「非正規雇用」とは、正社員以外の形で会社に雇われている人々のことです。定年まで雇われる正社員に対し、1ヶ月や1年など期間を決めて働いている、フリーターやアルバイト、派遣社員などという形で働く人のことを言います。「非正規雇用」の人は、ここ20年以上増え続け、現在、働く人の3人に1人は「非正規雇用」の人となっています。

問1 「非正規雇用」の人は、生活の面でも、正社員と比べて違いがあります。具体的にどのようなところか、下のグラフと資料の内容から考えて、説明しなさい。



資料：各支出の平均金額例

食費 (2人以上世帯)	75725 円
医療費 (2人以上世帯)	13048 円
国公立大学初学年の学費	68150 円
私立大学初学年の学費	108227 円

* 月ごとに計算しています。

総務省 厚生労働省の資料より

問2 会社はなぜ、「非正規雇用」の人を雇うようになったのでしょうか。以下の表は、会社に対し「非正規雇用」の人を雇う理由を聞いた結果です。いちばん多い理由だった(A)に当てはまる言葉を答えなさい。

会社が「非正規雇用」の人を雇う理由 (主なもの)	(%)
(A) にかかるお金の節約のため	40.8
一日、一週間の忙しい時期に対応するため	31.8
限られた分野の仕事に応じるため	24.3
正社員に重要な仕事ばかりをしてもらうため	16.8
その他	14.1

厚生労働省の資料より

問3 「非正規雇用」の人々の現状を説明した以下の文章のうち、まちがっているものを次のア～エより1つ選びなさい。

- ア. 出産・子育てなどで一度正社員を辞めた人を、再び正社員として積極的に雇わない会社が多いため、パートなど「非正規雇用」につく女性の割合が多い。
- イ. 寮などの住まいのついている会社で働く「非正規雇用」の人は、契約を打ち切られると職と住まいを両方失うことが深刻な問題となっている。
- ウ. 「非正規雇用」の人に対しては、会社から正社員に対して与えられる団結権が認められていないため、労働組合に入れないことが問題となっている。
- エ. 自民党の小泉首相の時代に、規制をゆるめる改革を進めたので、「非正規雇用」がさらに増えた。