

1 あさこさんは、オリンピックについて説明するパンフレットをつくることにしました。

次の各問に答えなさい。

問1 近代オリンピックが始まった1896年ごろの日本の社会のようすを調べたところ、日清戦争が終わった後だったことが分かりました。日清戦争直後の社会のようすの説明として、最もふさわしいものを次のアからエの中から一つ選び、その記号を書きなさい。

ア 小学生の学童疎開が始まり、中学生が戦争のために工場で働いた。


イ 6歳以上の男女が小学校へ行くことが初めて定められ、全国に小学校がつけられた。

ウ せんい産業が発達し、賠償金の一部を使って八幡製鉄所などがつけられた。

エ 自由民権運動が高まり、明治天皇が国民に与える形で大日本帝国憲法が公布された。

問2 昭和時代の東京オリンピックが行われたころの日本のようすも調べて、資料をパンフレットに入れることにしました。そのころの社会のようすとして、最もふさわしいものを次のアからエの中から一つ選び、その記号を書きなさい。

ア 倒れる阪神高速道路



イ 初の「夢の超特急」の開業



ウ 講和会議で署名する首相



エ 日本復帰を祝う町のようす



問3 図1は2020年の東京オリンピックで予定されているマラソンコースです。あさこさんは、江戸時代の江戸の町の様子を表した図2の地図もあわせてパンフレットにのせることにしました。あとの(1)、(2)の間に答えなさい。

図1 東京オリンピックマラソンコース

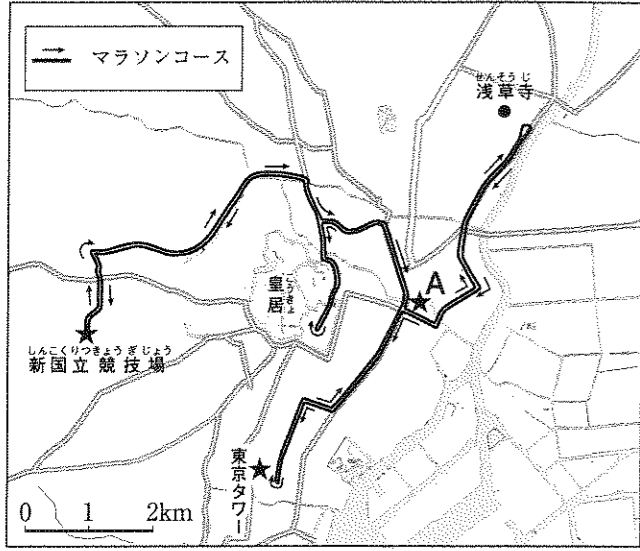
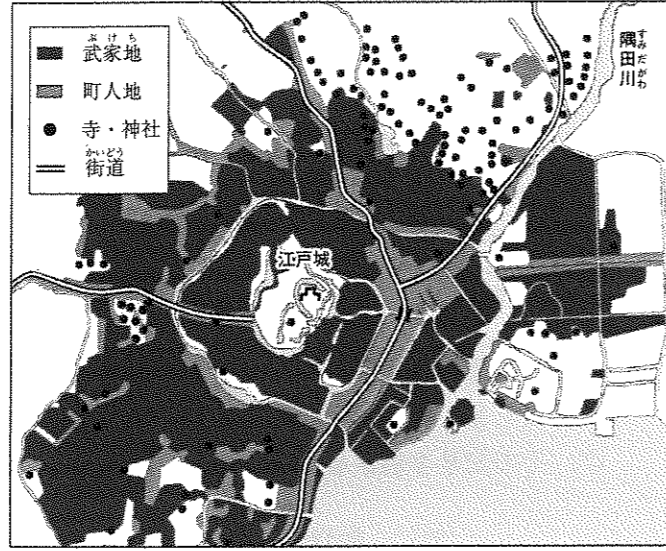


図2 江戸の町の広がり(1670年代)




(1) 図1と図2を見て、次のアからエの中から、マラソンコースの説明として正しいものを一つ選び、その記号を書きなさい。

- ア 新国立競技場の周辺は、主に町人地が広がる江戸の中心地域だった。
- イ 皇居の北側の、主に武家地だった地域を通り、町人地だったA地点の近くを走る。
- ウ 浅草寺から東京タワーまで、寺や神社の多かった地域が続く中を走る。
- エ 江戸時代よりあとにつくられた埋立地をまわって、皇居周辺を一周する。

(2) A地点の様子について描いた図3のような浮世絵を、パンフレットに入れることにしました。ここは江戸時代、五街道とよばれる街道の起点となった地点です。この場所を何というか、書きなさい。

図3



2 ゆう子さんは、九州地方を旅行して、さまざまな史跡を訪ねました。次の各問に答えなさい。

問1 図1は、弥生時代の吉野ヶ里遺跡の様子を表しています。弥生時代の説明として最もふさわしいものを次のアからエの中から一つ選び、その記号を書きなさい。


図1



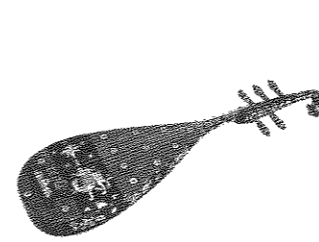
- ア 力を持った豪族が多くの人びとを使って古墳をつくった。
- イ 米づくりが始まり、大陸から青銅器や鉄器も伝わった。
- ウ たて穴住居に住み、狩りや漁を中心とする生活をしていた。
- エ 奈良の都に税として稲や地方の特産物を運んだ。

問2 図2は、奈良時代、外国との窓口となった大宰府の跡です。奈良時代における外国との関わりを示すものとして、最もふさわしいものを次のアからエの中から一つ選び、その記号を書きなさい。

図2



ア



イ



ウ




エ



問3 図3の太宰府天満宮にまつられているのは、平安時代の菅原道真という人物です。この人物は、遣唐使を廃止したことで知られています。遣唐使が廃止されたことなどの影響によって、平安時代は奈良時代と比べて、どのような特色を持った文化が生まれましたか。一つ例をあげて、20字以内で書きなさい。

図3



問4 図4は、元寇の時に、元に対抗するために幕府が築いたものです。この時の幕府の執権の名前を書きなさい。


図4



問5 図5は、世界遺産に登録された大浦天主堂です。

キリスト教に関わりのある次のアからエの歴史的なできごとを、起こった順に並べかえ、その記号を書きなさい。


図5



- ア キリスト教が禁止され、外国に日本人が行くことが禁じられた。
- イ 天草・島原でキリスト教徒の農民が一揆を起こした。
- ウ ザビエルが鹿児島に到着し、キリスト教を伝えた。
- エ 京都でキリスト教の教会や学校をつくるのが初めてゆるされた。

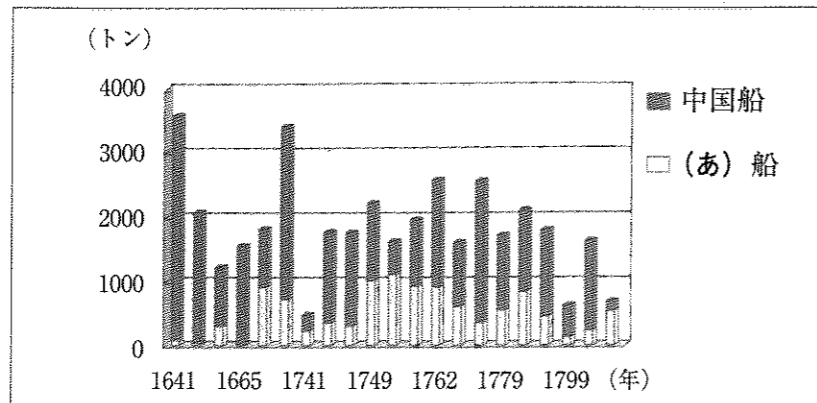
問6 図6の熊本城には、明治時代、政府が軍隊をおき西郷隆盛らと戦いました。この政府軍と西郷隆盛らとの戦いを何というか、書きなさい。

図6



問7 長崎から福岡にかけては、多くの有名な和菓子があり、「シュガーロード」と呼ばれていると分かりました。ゆう子さんは、この地域で和菓子づくりがさかんなのは、外国から砂糖を輸入していたからではないかと思ひ、長崎での砂糖の貿易について資料を調べてみました。図7の(あ)にあてはまる国の名を書きなさい。

図7 長崎貿易砂糖輸入量



(八百啓介『砂糖の通った道』(2011年)より)  
 ※グラフの年の間隔は一定ではない


3 なつこさんは学校の宿泊学習で訪問した旅行先の写真や地図を見ながら、家族と話をしています。次の会話文は、なつこさんとその家族の会話の一部です。会話文1と会話文2を読んで、あとの各問に答えなさい。

会話文1

なつこ：宿泊学習は楽しかったなあ。①この写真を見たら、また行きたくなっちゃった。  
 兄：ああ、長野の写真だね。なつこは7月に宿泊学習で行ってきたんだもんね。なつこが農家からもらったレタス、とてもおいしかったなあ。②茨城県産のレタスは春先に多いけど、夏は長野県産が多いもんね。  
 なつこ：その土地の気候や地形の特徴をよく考えて、人びとが暮らしていることがよく分かるね。  
 兄：③昔から自然災害が多い場所も、工夫して生活しているところが見られるよ。ところで、長野では他にどんな野菜がよくとれるのかな。  
 なつこ：調べてみたら長野は、はくさいのような葉物野菜がさかんなんだって。  
 兄：同じ野菜でも④ピーマンはビニルハウスでつくっているイメージだよな。  
 なつこ：日本は食料自給率が低いけど、比較的野菜は自給率が高いんだって。それが分かる⑤グラフを見たことあるよ。  
 兄：ああ、そうだね。でも、自給率は高いけど、ビニルハウスを使って育てている野菜は、⑥必ずしもすべて国内産とは言えないんじゃないかな。

問1 下線部①と②について、図1は、なつこさんが7月の宿泊学習で撮影したレタス畑の写真です。ここでは、どのような栽培の工夫が行われているのでしょうか。下線部②を参考にして、最もふさわしいものを次のアからエの中から一つ選び、その記号を書きなさい。

図1



- ア 涼しい気候を利用して、出荷時期を早めている。
- イ 暖かい気候を利用して、出荷時期を遅らせている。
- ウ 涼しい気候を利用して、出荷時期を遅らせている。
- エ 暖かい気候を利用して、出荷時期を早めている。

問2 下線部③について、図2は輪中が見られる岐阜県海津市を簡単な地形図で表したものです。また、図3は図2のAの建物とその周辺の様子を表しています。図3を参考にして、建物A周辺の地域で見られる断面のおよその特徴を表している図として、最もふさわしいものを、あとのアからエの中から一つ選び、その記号を書きなさい。なお、図2中の矢印は、図3を撮影した方向を示しています。

図2

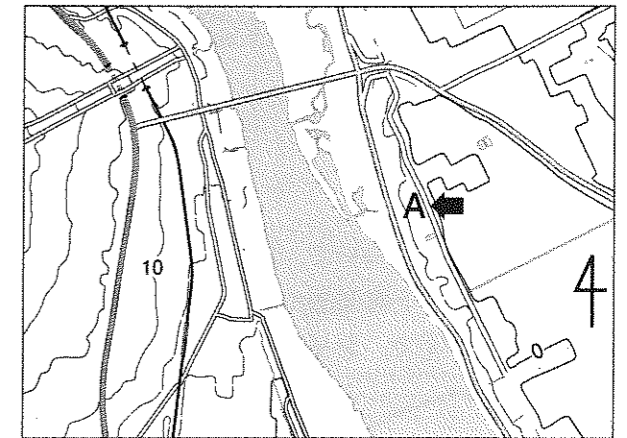
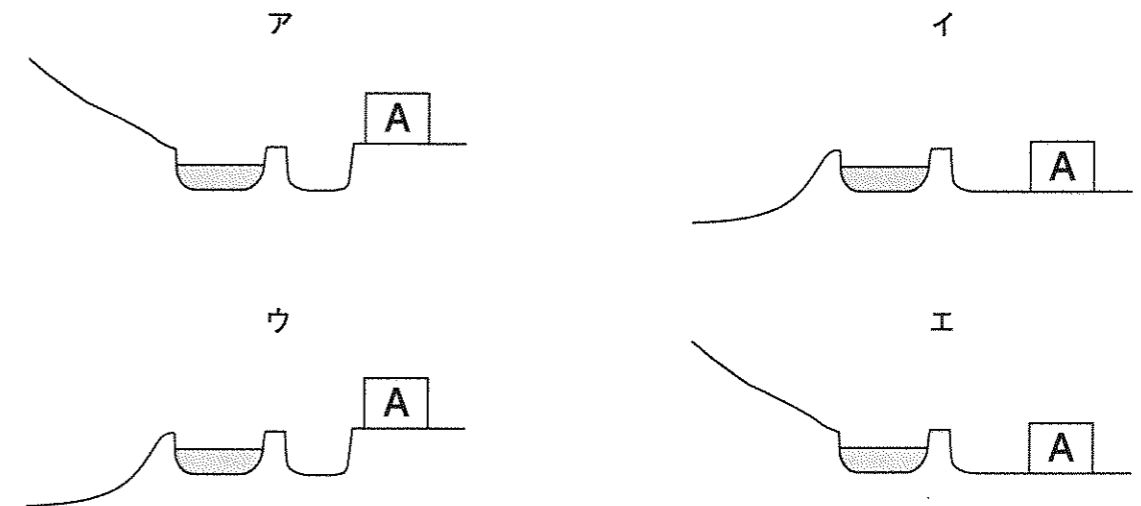


図3

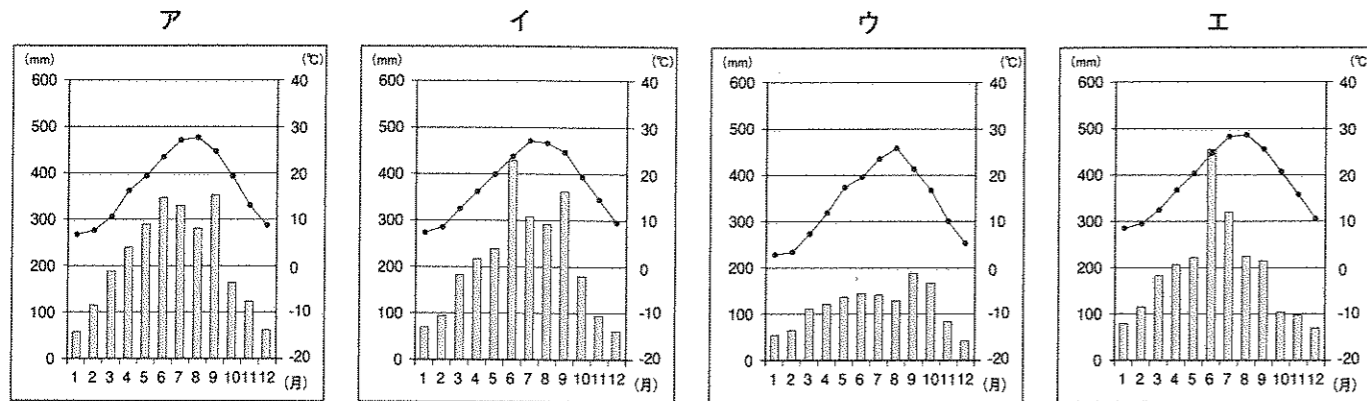


(「海津市立西江小学校」ホームページより)



問3 下線部④について、ピーマンは季節によって出荷量が大きく異なる野菜です。2017年のピーマンの生産量上位4県は茨城県、宮崎県、高知県、鹿児島県です。図4はこれらの県の県庁所在地の月別の気温と降水量を示した雨温図です。この中で、夏期の出荷の割合が高い県を表しているものを図4のAからEの中から一つ選び、その記号を書きなさい。

図4

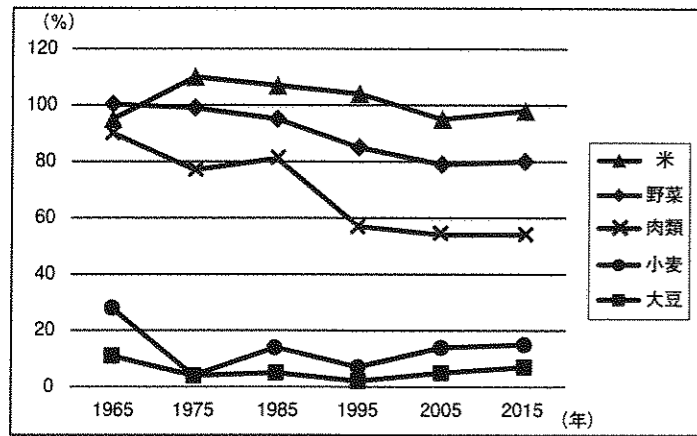


(『データでみる県勢 2019年版』『理科年表平成30年』より作成)

問4 下線部⑤について、図5はなつこさんが学校の授業で見たグラフです。それに対して、図6、図7はお兄さんが下線部⑥のように考えたときの、根拠とした資料です。

下線部⑥で、お兄さんは、なぜこのように考えたのでしょうか。図6、図7を参考にして、理由を書きなさい。

図5 食料自給率の移り変わり



(農林水産省「平成29年食料需給表」より作成)

図6 ビニルハウス



図7 一次エネルギー\*自給率の移り変わり

年度	2000	2005	2010	2015
エネルギー自給率(%)	20.2	19.6	20.2	7.4

\*一次エネルギー 自然から得られたままの物資をもとにしたエネルギー  
(「資源エネルギー庁」ホームページより作成)

会話文2

なつこ：宿泊学習で山登りをしたから、違う場所でまた山登りとか自然に浸れる旅行をしてみたいな。  
 父：山登りか。お父さんも昔たくさん山登りをしたなあ。自分で⑦地形図を見ながら、登山コースを決めたりして、とても楽しかったよ。  
 母：最近、グリーンツーリズムっていう言葉をよく聞くよね。⑧農山漁村地域に滞在して自然、文化、人びととの交流を楽しむ休暇の過ごし方のことよ。今、⑨日本に来る外国からの旅行者がとても多いけど、東京のような都心だけじゃなく、地方の農山漁村地域に行く人も多んだって。  
 なつこ：へえー、わざわざ⑩地方の町や村に行く人も多んだね。意外な気がする。都心に観光に来る人ばかりだと思っていたけど。  
 父：それだけ日本の伝統文化にふれたいという人が増えているのと、⑪自然環境に対する意識が高くなったということじゃないかな。  
 なつこ：これからは⑫外国との交流の方法も色々な形が生まれてくるのかな。

問5 下線部⑦について、図8はある山の周辺の地形図です。地形図の中の線は同じ高さの場所を結んだ等高線で、10mおきに引かれています。この山の登山道を調べたところ、四つの登山道があることがわかりました。図9で示された高低差の登山道を、図8のAからEの中から一つ選び、その記号を書きなさい。ただし、各登山口から頂上(▲)までの、地形図上での直線の長さはすべて同じとします。

図8

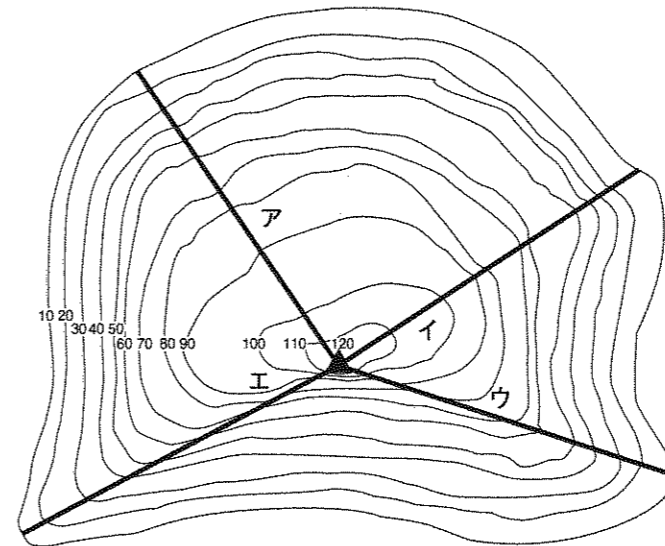


図9

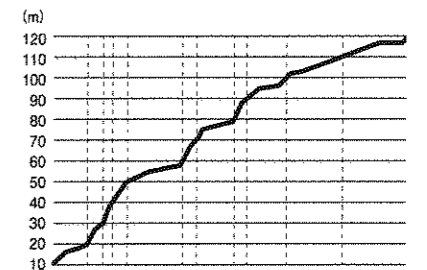


図10

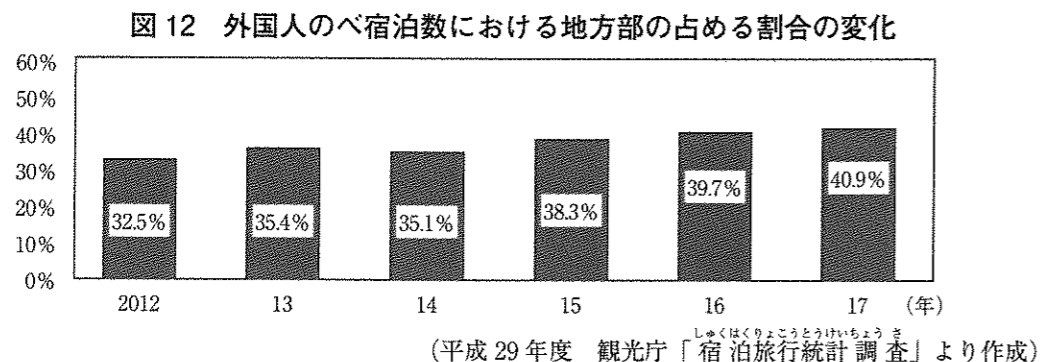
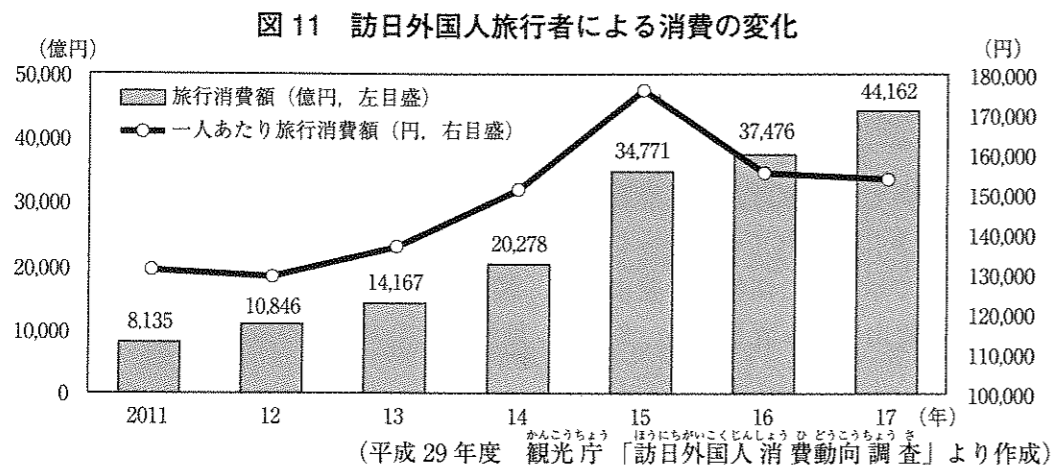


問6 図10は、下線部⑧のある場所で見られる看板です。魚つき保安林の役割としてふさわしくないものを、次のAからEの中から一つ選び、その記号を書きなさい。

- A 魚つき保安林は、土砂の流出を防いだり、水面に波を起こさないよう風を防いだりする役割を持っている。
- I 魚つき保安林は、陸地からの明かりが水面に当たるのを防ぎ、影をつくる役割を持っている。
- U 魚つき保安林は、川を通過して海の漁場に運ばれる養分を育てる役割を持っている。
- E 魚つき保安林は、漁港などの海に面した地域に置かれ、定置網が近くにあることを示す役割を持っている。

問7 下線部⑨について、図11と図12は日本を訪問する外国人旅行者に関する資料です。これを見て、資料の説明として最もふさわしいものを次のアからエの中から一つ選び、その記号を書きなさい。なお、地方部とは、三大都市圏（東京、大阪、名古屋地域）以外の地域を表します。

- ア 外国人のべ宿泊数における地方部の占める割合の変化は、2012年と2013年の間が最も大きい。
- イ 2011年と2017年の訪日外国人旅行者による旅行消費額を比べると、2017年は2011年の約4倍となっている。
- ウ 訪日外国人一人あたりの旅行消費額の伸び率は、2014年から2015年の間が最も高い。
- エ 外国人のべ宿泊数の割合は、2012年から2017年までのいずれの年も、三大都市圏より地方部が占める割合の方が大きい。



問8 下線部⑩について、図13は岩手県と東京都を比較したものです。図中の(あ)から(え)にあてはまる数値として最もふさわしい組み合わせを、あとのアからオの中から一つ選び、その記号を書きなさい。

図13

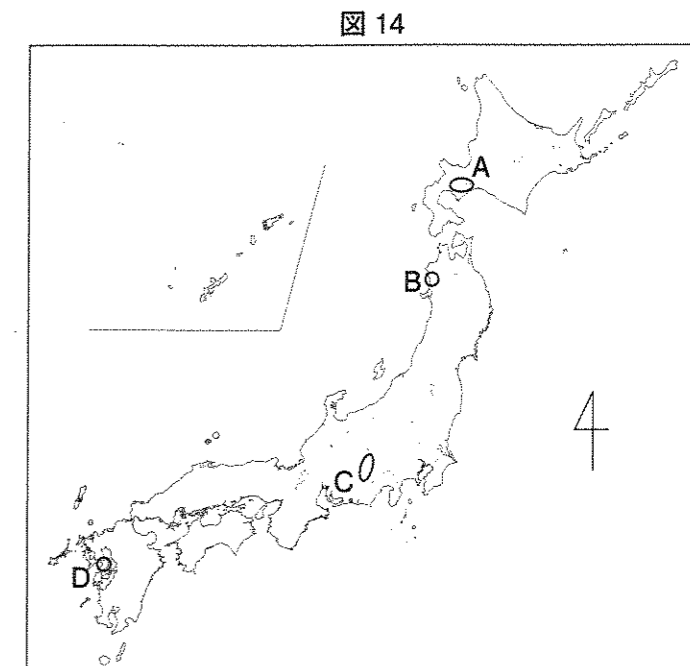
項目	1住宅あたりのべ面積 (m <sup>2</sup> ) (2015年)	100世帯あたり乗用車保有台数 (台) (2015年)	使用電力量 (百万 kWh*) (2014年)	人口増減率 (%) (2010年から2015年の5年間)
岩手県	(あ)	141.4	(う)	3.8 減
東京都	63.5	(い)	(え)	2.7 増

\* kWh とは、電力量を表す単位

(『データでみる県勢 2017年版』『日本国勢図会 2017 / 18』より作成)

- ア (あ) 48.9 (い) 212.8 (う) 31,207 (え) 2,819
- イ (あ) 120.7 (い) 45.7 (う) 2,819 (え) 28,509
- ウ (あ) 120.7 (い) 212.8 (う) 28,509 (え) 2,819
- エ (あ) 160.2 (い) 45.7 (う) 31,207 (え) 28,509
- オ (あ) 48.9 (い) 212.8 (う) 2,819 (え) 31,207

問9 下線部⑪について、次のアからエの文は、図14のAからDのいずれかのジオパークの説明です。図14のDのジオパークについて説明しているものを、次のアからエの中から一つ選び、その記号を書きなさい。



- ア このジオパークは、南北100kmにわたり、3000mを超える山脈がちなっており、その山から流れる川によってつくられた地形が特徴的です。
- イ このジオパークの一部は、広大なブナ林が広がっており、1993年より世界自然遺産に登録され、人の手が入らない自然をつくっています。
- ウ このジオパークは、「火山と人との共生」がテーマです。1991年に発生した噴火災害からの復興や火山がもたらすめぐみと、人びととの関わりを知ることができます。
- エ このジオパークは、大きな噴火でできた湖と火山があり、また、縄文時代の人びとの生活のようすを知ることができます。また、2008年にはサミットが開かれました。

問10 下線部⑫について、図15の国立公園は四つの県にまたがっています。図15を見て、この四つの県の組み合わせを次のアからエの中から一つ選び、その記号を書きなさい。

図15

- ア 石川県 富山県 岐阜県 福井県
- イ 新潟県 富山県 石川県 山梨県
- ウ 石川県 富山県 長野県 福井県
- エ 新潟県 山梨県 長野県 岐阜県



問11 下線部⑫に関連して、図16は酒田港の位置を表し、図17は、酒田港と外国との海上輸送による貨物取引量が多い上位4か国です。次の文を参考にして、図17のアにあてはまる国名を書きなさい。

文

酒田港はオーストラリアとさかんに海上貿易を行っており、さらに日本海に面しているという特徴をいかして、外国との貿易を行っています。

図16

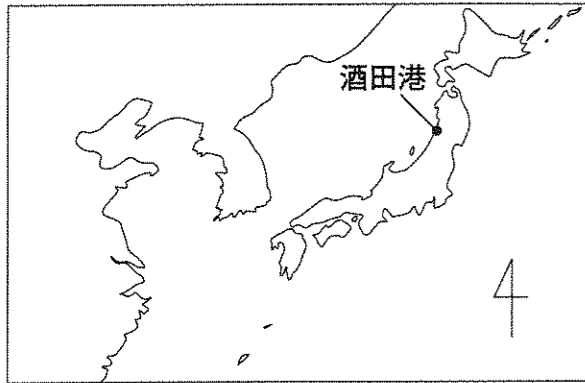


図17

第1位	第2位	第3位	第4位
オーストラリア	中国	ア	ロシア

(「平成29年酒田港統計年報」より作成)

4 次の会話文は、2018年の夏にあきおさんとお父さんが話した会話です。会話文を読んで、あとの各問に答えなさい。

会話文

あきお：お父さん、この新聞記事見て。「①国連の世界気象機関(WMO)によると、今年6月から7月は世界的に気温が上昇し、②カナダでは熱波の影響で多数の死者が出るなど、被害が相次いでいる。」だって。今年の夏は日本だけではなく、世界的に暑かったみたいだね。

父：このインターネットニュースは見たかい。名古屋市③消防署では、7月の1か月間では今まででいちばん多く④救急車が呼ばれたそうだよ。

あきお：⑤救急隊の人たちはとても大変そうだね。ところで、このインターネットニュースは、とても分かりやすい日本語で書かれているね。

父：これは「やさしい日本語」といって、分かりやすい日本語を使うことで、災害が起きたときに、(⑥)も必要な情報を受け取ることができるようにした工夫から始まったのだよ。

問1 下線部①は、気象情報の交換などで世界的に協力し、人びとの暮らしをより良くする目的でつくられた国際連合(国連)の機関の一つです。国連やその機関の説明について、正しくないものを次のアからエの中から一つ選び、その記号を書きなさい。

ア ユネスコは、世界文化遺産の登録決定を行っている。日本ではこれまで、日光の社寺や原爆ドームなどが登録された。

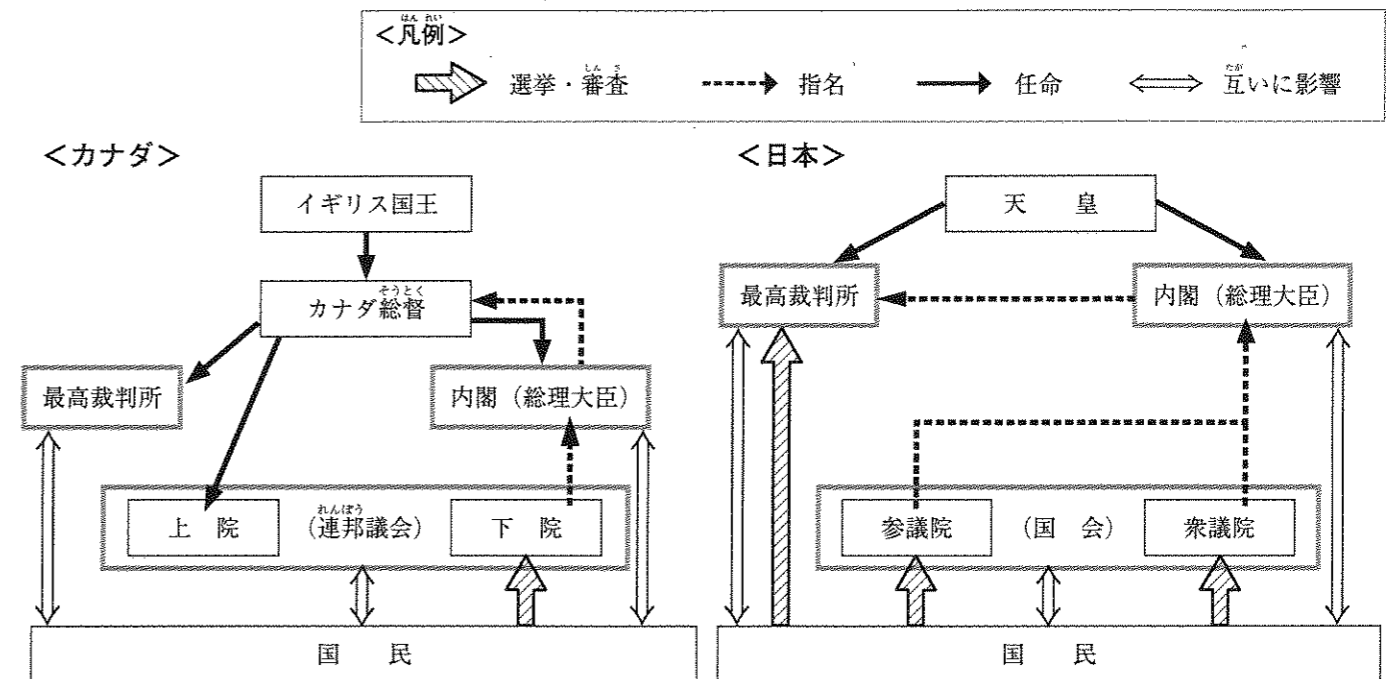
イ ユニセフは、戦争や食糧不足による飢えなど、きびしい暮らしをしている地域の子どもたちを助ける目的で作られた。日本でも各地で募金活動が行われている。

ウ 国連は、加盟する国の協力により成り立っており、国連が必要とするお金の多くは各国が負担している。そのお金(分担金)は、すべての国が同じ額を払っている。

エ 国連は1945年に設立され、本部はアメリカのニューヨークに置かれている。日本人の中にも国連本部で働いている人がいる。

問2 下線部②について、図1はカナダと日本の政治の仕組みをそれぞれ表しています。図1を読み取ってまとめた下の文章中のXに入る適切な語を漢字4字で書きなさい。また、Yに入る適切な言葉を書きなさい。

図1 カナダと日本の政治の仕組み



文章

・日本もカナダも、国会、内閣、裁判所が国の重要な役割を分担するXの仕組みが取り入れられている点が共通している。

・どちらも二つの議会があるという点で似ているが、日本の参議院は、Yという点でカナダの上院と異なっている。

問3 下線部③について、消防署が受け持つ仕事の説明として正しくないものを次のアからエの中から一つ選び、その記号を書きなさい。

ア 地震などの災害に備えて、救命活動や救出活動ができるよう訓練を行う。

イ 火災が発生した時には、#7119番の電話番号で通報を受け、消防車を出動させる。

ウ 心肺蘇生法やAEDの使い方などを市民に教えるための、救命講習会を行う。

エ まちにある消火栓のようすを確認したり、危険物を取り扱う施設の見回りを行ったりする。

問4 下線部④に関連して、救急車を買うお金や消防隊員の給料は、税金でまかなわれています。税金について正しく説明しているものを次のアからエの中からすべて選び、その記号を書きなさい。

ア ものを買ったときや給料をもらったときなど、様々な場面で税金を払っている。

イ 国の税金の使い道(予算)は、内閣総理大臣と各大臣による閣議で最終決定する。

ウ 日本国憲法には国民の義務の一つとして、税金を納める義務が定められている。

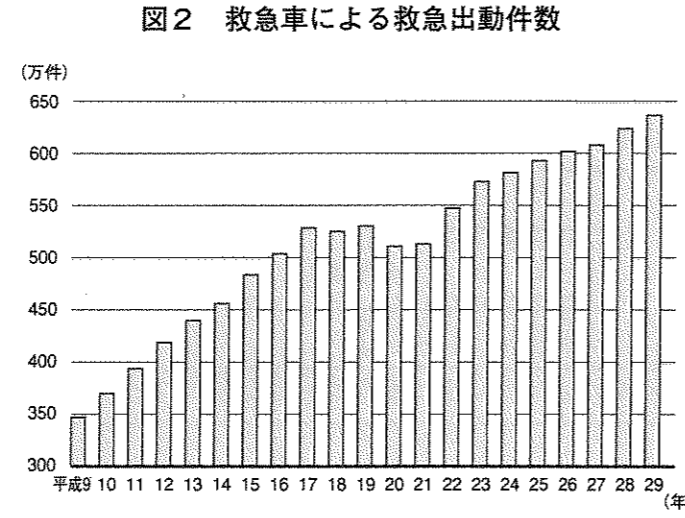
エ 集めた税金は、学校運営や道路建設、災害復興など、公共的な事業に使われている。

問5 下線部⑤について、名古屋市では7月の31日間で、救急車が13,617回出動しました。これは、1日あたりおよそ何回救急車が出動したことになりますか。次のアからエの中から一つ選び、その記号を書きなさい。

- ア 22回                      イ 44回                      ウ 220回                      エ 440回

問6 下線部⑤に関連して、図2のように年間の救急車出動回数は年々増えています。このような中で、「救急車を有料化すべきか、それともすべきでないか。」という議論があります。「有料化すべきでない」という意見を支持する立場にたち、次の文中の□に入る根拠を考え、書きなさい。ただし、どのような人にとって、どのような不都合が起こるかを、それぞれ具体的に示して書きなさい。

私は、救急車の有料化はすべきでないと考えます。なぜなら、有料化することで□  
 □  
 が起こるのではないかと考えるからです。



(総務省「平成29年中の救急出動件数等(速報値)」より作成)

問7 会話文中の(⑥)にあてはまると考えられるのは、どのような人ですか。具体例を一つ書きなさい。

5 次の図1から図3を見て、あとの各問に答えなさい。

問1 図1はある部屋の様子を表しています。地震に備えてあらかじめ対策をとるとしたら、どのようなことをする必要がありますか。

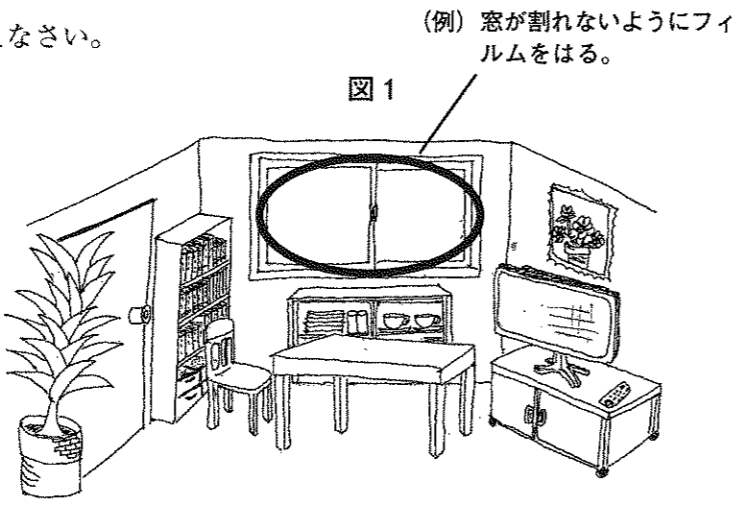



図1中の(例)にならい、解答らんの図に一つ言葉で書き入れなさい。

問2 2018年2月7日の朝、福井県内のあるコンビニエンスストアでは、弁当類やサンドイッチなどが棚の中から完全に消えたという報道がありました。



なぜコンビニエンスストアは弁当類を売ることができなくなったのですか。その理由を、図2を参考にして、解答らんの言葉に続けて書きなさい。

(「毎日新聞」2018年2月7日より)

問3 一般的な水害ハザードマップでは、大雨によって河川等が増水して水があふれた場合の、浸水が予想される区域や浸水したときの深さ、避難所の位置が示されています。

図3は、そのような従来のハザードマップを改善することをめざして作成したものです。図3のハザードマップでは、どのような点が改善されているか、書きなさい。

図3 河川が氾らんしたことを想定して作成したハザードマップ

**このハザードマップの見方**

スタート: 自宅や職場の建物の構造はどっち?

- 鉄筋コンクリート造**
  - マンションやアパート、高層ビルの場合、自宅や職場は何階にあるか?
    - 4階以上: 自宅や職場の位置はマップ上でどの印か? (印: B, C)
    - 2階または3階: 自宅や職場の位置はマップ上でどの印か? (印: A, B, C)
    - 1階: 自宅や職場の位置はマップ上でどの印か? (印: A, C)
- 木造**
  - マンションやアパートの場合、自宅や職場は何階にあるか?
    - 2階以上: 自宅や職場の位置はマップ上でどの印か? (印: A, B, C)
    - 1階: 自宅や職場の位置はマップ上でどの印か? (印: A, C)

**洪水の時、あなたがとるべき行動を確認しよう!**

	【浸水前】	【浸水後】
<b>A</b> 洪水時には大変危険な状況になると予想されます。早めの避難を!	○自宅外避難 ×自宅滞在	×自宅外避難 ×自宅滞在
<b>B</b> 浸水が24時間以上続くことが予想されます。日ごろから十分な備えを!	○自宅外避難 △自宅滞在	×自宅外避難 △自宅滞在
<b>C</b> 浸水時の外出は危険です。日ごろからの備えを!	○自宅外避難 ○自宅滞在	×自宅外避難 ○自宅滞在

(愛知県清須市ホームページをもとに作成)

# 社会

## 答案用紙

1

問1		問2		問3 (1)		(2)	
----	--	----	--	--------	--	-----	--

2

問1		問2	
問3			
問4		問5	→ → →
問6		問7	

3

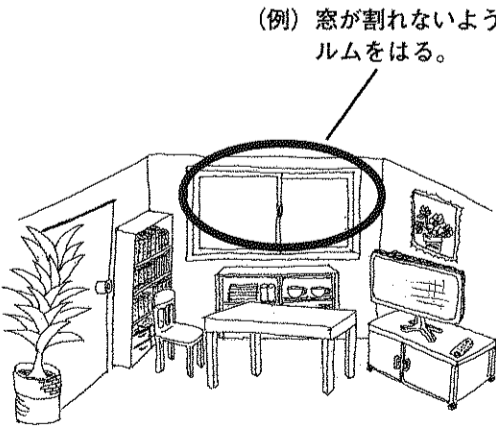
問1		問2		問3					
問4									
問5		問6		問7		問8		問9	
問10		問11							

4

問1							
問2	X					Y	
問3		問4		問5			
問6							
問7							

が起こる。

5

問1		問2	記録的な大雪のために
		問3	

受検番号