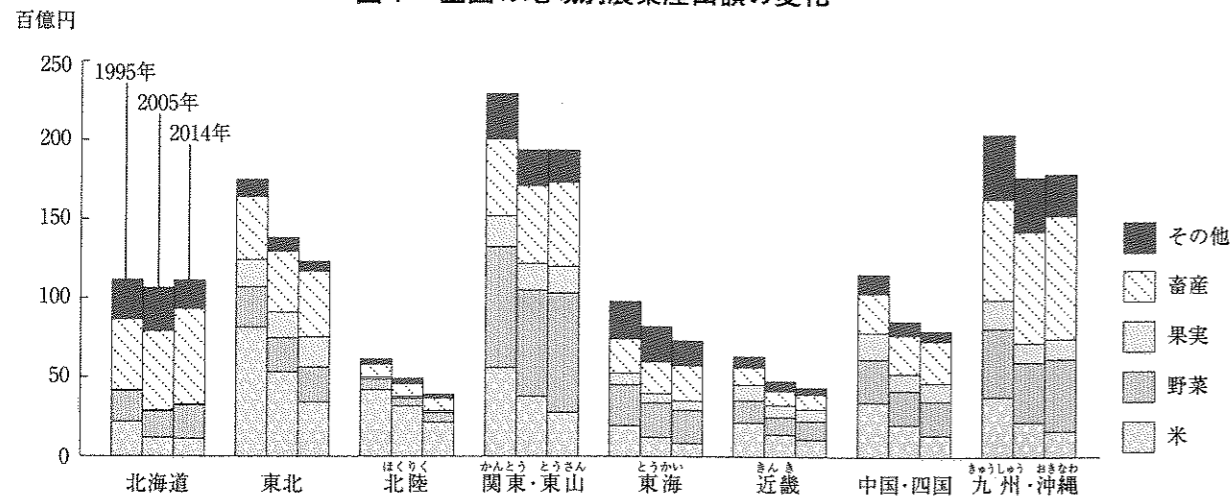


1 次の各問に答えなさい。

問1 まさこさんのクラスでは、日本や東京の農業について調べました。次の(1)から(4)に答えなさい。

図1 全国の地域別農業産出額の変化

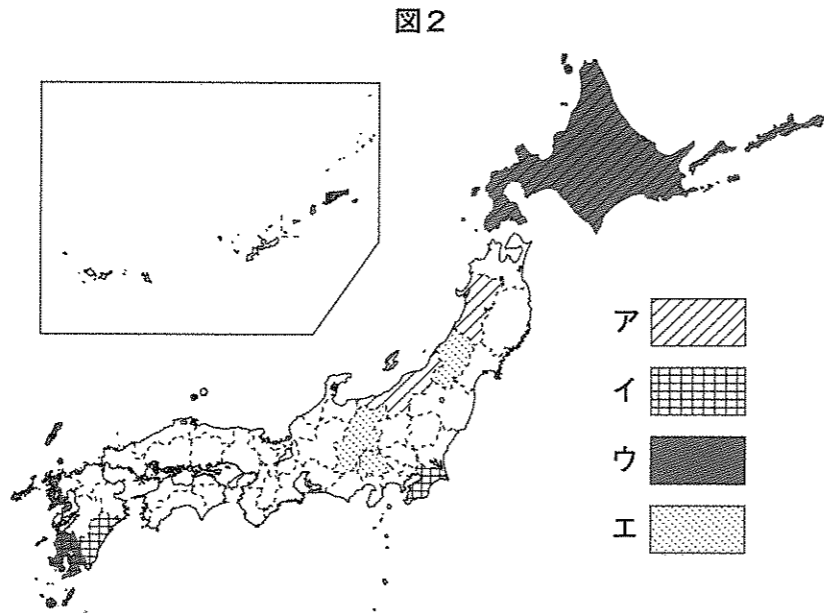


注)「北陸」は新潟・富山・石川・福井,「東山」は山梨・長野,「東海」は岐阜,愛知,静岡,三重の各県を表す。
(農林水産省 ホームページより作成)

(1) 図1から読みとった内容として正しいものを、アからエの中から一つ選び、その記号を書きなさい。

- ア すべての地域で農業産出額は減少している。
- イ 2014年において畜産の割合が最も大きいのは九州・沖縄のみである。
- ウ 農業産出額に占める米の割合が最も大きいのは東北である。
- エ 2014年において関東・東山では野菜と畜産が主な農業となっている。

(2) 図2のアからエは、2015年の米の生産量、ぶたの飼育頭数、じゃがいもの生産量、ぶどうの生産量のいずれかについて、上位3位までの都道府県を表したものです。①米、②ぶたを表しているものを図2中のアからエの中からそれぞれ一つずつ選び、その記号を書きなさい。



(3) まさこさんたちは各地の農業の様子について調べ、分かったことを話し合っています。次のアからエの中から、東京の農業の特色を説明した発言として最もふさわしいものを一つ選び、その記号を書きなさい。

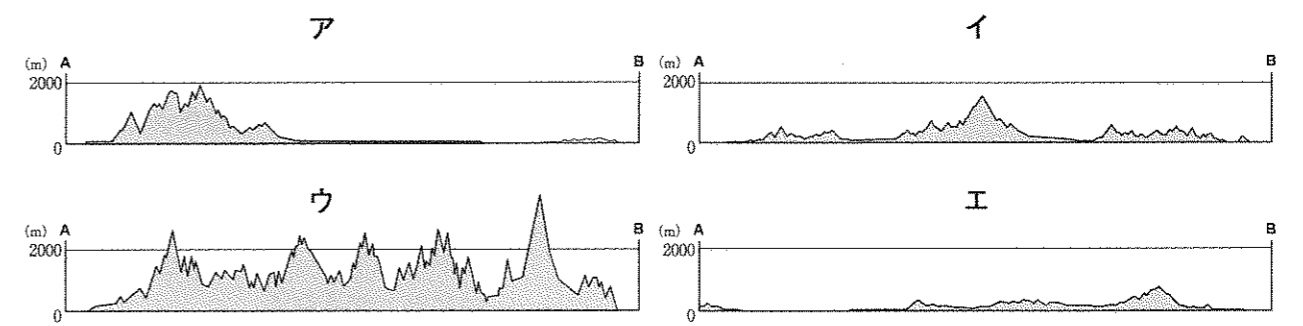
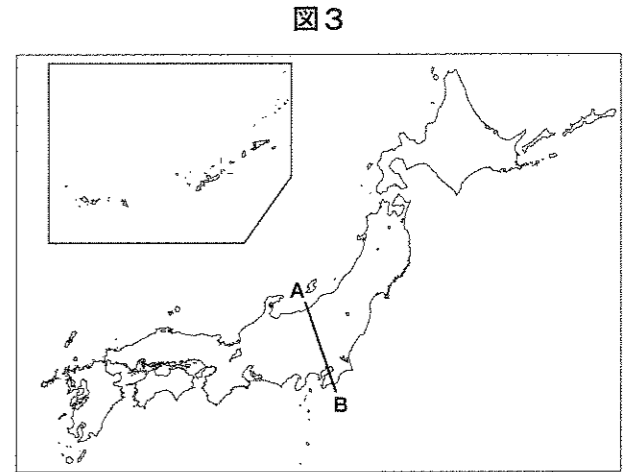
- ア サラダを食べる人が多いから、平野でも涼しい気候をいかしてレタスを夏に作って売り出しているね。
- イ 冬でも温暖な気候をいかし、冬にきゅうりやなすを温室で時期をずらして作って出荷しているね。
- ウ たくさんの方が住んでいる地域にすぐ出荷できることをいかして、ほうれん草などいたみやすい野菜を、一年に何度も作っているね。
- エ 消費者に人気のあるおいしい米づくりを工夫し、大規模に生産しているね。

(4) まさこさんたちは日本の水産業についても調べました。次のアからエは、まさこさんたちが調べた内容です。日本の水産業の説明として正しくないものをアからエの中から一つ選び、その記号を書きなさい。

- ア カツオやマグロをとる遠洋漁業の漁かく量は、燃料の値上げや各国の制限などのため減りました。
- イ エビやマグロなどの輸入量が多く、世界でも有数の水産物の輸入国です。
- ウ ホタテ貝やカキ、サンマやイワシなどを育てる漁業がさかんになってきています。
- エ 魚介類の水揚げの多い漁港では、缶づめなどの加工食品の製造もさかんです。

問2 まさこさんのクラスでは、日本の自然や災害の特色について調べました。次の(1)から(4)に答えなさい。

(1) まさこさんは、図3をみて、A-Bで切った断面図を考えました。次のアからエの中から最もふさわしいものを一つ選び、その記号を書きなさい。



(2) 気象庁のデータによると、2015年の全国の快晴日数1位の都道府県は埼玉県でした。その理由について述べた次の文中の(あ)、(い)にあてはまる適切な語を、それぞれ漢字3字で書きなさい。

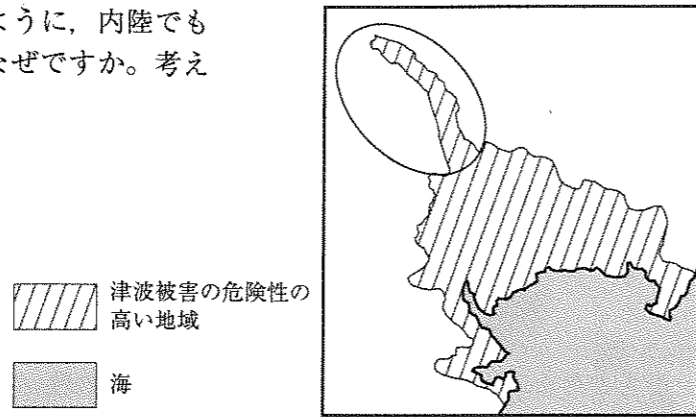
冬は、大陸から強い(あ)がふき、日本海をわたるときに水分をたくさんふくみます。そして、山地にぶつかると大雪をふらせませす。山をこえると、かわいた冷たい風になり、(い)側の埼玉県に晴天をもたらしています。

(3) 近年、台風などによる大雨の被害が多くなっています。災害への対応として正しいものを、次のアからエの中から一つ選び、その記号を書きなさい。

- ア 集中豪雨が予想される場合、液状化するおそれのある土地を避けて避難する。
- イ 気象庁の洪水警報が出された場合、がんじょうな建物の地下に避難する。
- ウ 気象庁の特別警報が出された場合、地域の避難情報を確認してから行動する。
- エ 大雨がやんだら河川の様子を見に行き、安全を確認してから行動する。

(4) まさこさんは、ある町の津波に対する防災マップを調べました。図4の○でかこんだ部分のように、内陸でも津波被害の危険性の高い地域があるのはなぜですか。考えられる理由を書きなさい。

図4 津波被害の危険性の高い地域

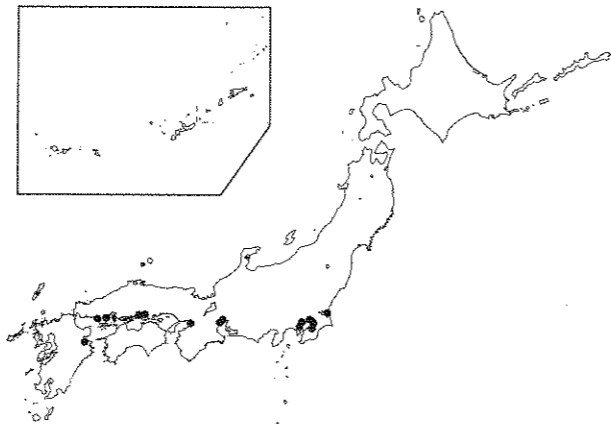


津波被害の危険性の高い地域
海

問3 まさこさんのクラスでは、日本の工業について調べました。次の(1)から(3)に答えなさい。

(1) 図5は主な石油化学コンビナートの分布を表しています。分布の特色の説明として適切なものを、次のアからカの中からすべて選び、その記号を書きなさい。





図5 主な石油化学コンビナートの分布



(「日本国勢図会 2016/17」より作成)

- ア 原料の輸送に便利な港のそば
- イ 原料産出地の近く
- ウ きれいな地下水が豊富にあるところ
- エ 製品の輸送に便利な高速道路のインターチェンジのそば
- オ 広大な土地がある埋め立て地
- カ 人口の少ない地域

(2) まさこさんは、地域の伝統的技術をいかして生産されている西陣織、南部鉄器、めがね、有田焼の写真を手に入れました。写真と、生産されている都道府県の組み合わせとして正しくないものを、次のアからエの中から一つ選び、その記号を書きなさい。

ア 西陣織  京都	イ 南部鉄器  岩手	ウ めがね  福井	エ 有田焼  千葉
---	--	---	---

(3) 輸送手段をトラックなどの自動車から、鉄道や船に切り替えることをモーダルシフトといいます。モーダルシフトの長所としてふさわしくないものを、次のアからエの中から一つ選び、その記号を書きなさい。

- ア 一度に大量の製品を運ぶことができる。
- イ 生鮮食品を早く店に届けることができる。
- ウ 二酸化炭素の排出量を減らすことができる。
- エ 大都市の交通渋滞を減らすことができる。


2 次の資料を読み、あとの各問に答えなさい。

資料

聖路加国際病院名誉院長の日野原重明さんが昨年なくなりました。長寿の医師としても有名だった日野原さんは、「生活習慣病」という言葉を発案し、①病気を予防する医学の大切さを広めたことや、死を迎えようとしている人への医療のあり方について考え、改善に取り組んだことでも有名です。

<日野原さんの略年表>

西 暦	おもなできごと	
1911(明治44)年	10月 ②山口県に生まれる	あ
1915(大正4)年	牧師である父の仕事の関係で、神戸市に転居する	
1932(昭和7)年	③京都帝国大学(現在の京都大学)に入学する………	い
1937 年	医師として勤務を始める	
1941 年	聖路加国際病院の内科医となる………	う
1945 年	大日本帝国海軍の軍医になるが、病気でやめる	
1970 年	ハイジャック事件に巻き込まれ、人質となる………	え
1992(平成4)年	聖路加国際病院院長となる	
2017 年	7月なくなる	



日野原重明さん
(聖路加国際病院ホームページより)

問1 日野原さんは何歳でなくなりましたか。なくなったときの年齢を数字で書きなさい。

問2 図1は、年表中のあからえのどの期間に見られたできごとですか。正しいものを一つ選び、その記号を書きなさい。

図1



問3 資料中の波線部 聖路加 や 牧師 は、キリスト教とかかわりの深い言葉です。次のアからエは、日本のキリスト教の歴史について説明したものです。この中から正しいものをすべて選び、その記号を書きなさい。

- ア 戦国時代にスペインやポルトガルからフランシスコ・ザビエルなどの宣教師がやってきて、キリスト教を伝えた。
- イ 江戸幕府はキリストなどの像を踏ませる絵踏みを行い、キリスト教をきびしく取り締まった。
- ウ 織田信長は仏教勢力と対抗するためにキリスト教を保護し、安土にキリスト教の学校や京都に教会堂ができた。
- エ 明治時代には「文明開化」といって西洋のものがもてはやされたが、キリスト教は明治時代の間禁止されたままだった。

問4 資料中の下線部①に関連して、歴史上の人物にもさまざまな病気と向き合った人物がいました。次のカードは、ある歴史上の人物が病気とどう向き合ったかを表したものです。カードで示されている人物名を書きなさい。

カード

人物名:

状況: アフリカでは原因不明の発熱でなくなる病気(黄熱病)が発生していた。

対応: 黄熱病の原因を探るためアフリカのガーナへ行き、調査研究に取り組んだものの、1928年に黄熱病にかかり、なくなった。

問5 日野原さんと同じく、資料中の下線部②出身の歴史上の人物の一人に、木戸孝允がいます。木戸孝允の説明として正しいものを、次のアからエの中から一つ選び、その記号を書きなさい。

- ア 坂本龍馬の仲介で、薩摩藩と同盟を結び、明治維新後は明治政府の指導者となり、五箇条のご誓文を作成した。
- イ 『古事記』の研究に全力を注ぎ、35年かけて『古事記伝』を完成させた。仏教や儒教が伝わる前の日本人のものの考え方を研究した。
- ウ 衆議院議員として、足尾銅山の工場から出る有毒なけむりや排水による被害を国会で政府に何度も訴えたり、農民の生活を守るために努力したりした。
- エ 明治政府の指導者として江戸城を開城させるなどしたが、のちに政府をやめ、士族とともに西南戦争を起こした。

問6 資料中の下線部③のある京都は、歴史的なできごとがたくさん起こった都市です。次のアからエは、京都にかかわりの深いできごとを表したものです。これらを時代の古いものから順に並べたとき、2番目と4番目にあてはまるものをそれぞれアからエの中から選び、その記号を書きなさい。

- ア 足利義満は金閣を建て、このころはなやかな文化が栄えた。
- イ 徳川慶喜は二条城で政権を朝廷に返し、260年余り続いた江戸幕府が終わった。
- ウ 藤原道長は、むすめを天皇のきさきにして、大きな権力をもった。
- エ 明智光秀は、本能寺で織田信長をおそい、信長は自害した。

3 女性に関係が深い資料1から資料5を読み、あとの各問に答えなさい。

資料1 北条政子のうたえ（『承久記』などによる現代語訳）

頼朝どのが平氏をほろぼして [] に幕府を開いてから、あなた方の地位や収入はずいぶんと高くなり、幸せな生活を送れるようになりました。そのご恩は山よりも高く、海よりも深いほどです。…そのご恩にいつ報いるのですか。もし朝廷側に味方するのであれば、今すぐ私を殺して [] を焼きはらってから行きなさい。

資料2 『枕草子』(部分、現代語訳)

冬は早朝がよい。雪が降った朝は言うまでもなく、霜がとても白いようなときも、またそうでなくてもとても寒いときに、火などを急いでおこして、炭を持って移動するのも、たいそう冬にふさわしい。しかし昼になって、生暖かく寒さがだんだんとやわらいでいくと、火桶に入った炭火も白い灰が多くなって見た目がよくない。

資料3 与謝野晶子『君死にたまふことなかれ』(部分)

あゝをととよ、君を泣く 君死にたまふことなかれ
末に生れし君なれば 親のなさはまさりしも
親は刃をにぎらせて 人を殺せとをしへしや
人を殺して死ねよとて 二十四までをそだてしや

資料4 中国の歴史書『魏志』(部分、現代語訳)

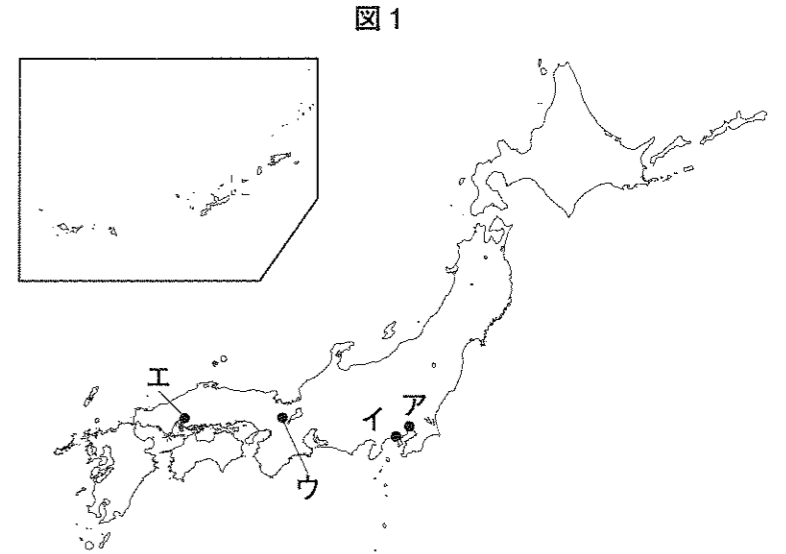
倭の国の王は、もとは男性が務めた。従えていたくにぐにが争いを起こし、戦いが続いたので、相談して、卑弥呼という女性を王にした。卑弥呼はよくうらないをして、人々をひきつけるふしぎな力を持っていた。

資料5 江戸時代に出版された『女大学宝箱』(部分、現代語訳)

- 一. 女子は成長して他人の家に行き、夫の父母に仕えるものなので、男子よりも親の教えをしっかりと守らなければならない。
- 一. 夫の親せきを主、自分の親せきを従とせよ。
- 一. 家事の全ての管理に当たれ。

問1 資料1から資料4を、時代の古いものから順番に並べかえ、その資料の番号を書きなさい。

問2 資料1中の [] にあてはまる場所は、図1のアからエの中のどれですか。正しいものを一つ選び、その記号を書きなさい。



問3 資料3は、ある戦いに兵士として参加した弟の無事をいのった詩です。次のアからエのうち、この戦いを説明したものとして最もふさわしいものを一つ選び、その記号を書きなさい。

- ア ハワイの真珠湾にあったアメリカ軍港やマレー半島のイギリス軍を攻撃した結果、アメリカやイギリスなどの国々と戦争が始まり、おもに東南アジアや太平洋を戦場として戦った。
- イ 中国東北部に勢力を伸ばそうとしていたロシアと日本が対立していたことから戦いが始まり、日本の海軍では東郷平八郎が率いる艦隊がロシア艦隊を破った。
- ウ 朝鮮で起きた内乱に日清両国が兵隊を送ったことから戦いが始まり、勝利した日本は清から多額の賠償金や植民地を手に入れた。
- エ 江戸幕府が政権を朝廷に返した後、旧幕府軍と新政府軍の間で戦いが始まり、東北や北海道では、旧幕府軍の一部が最後まで戦ったが、新政府軍に敗れた。

問4 資料5から考えられる、江戸時代の女性に求められたこととは、どのようなことですか。次の文の [] にあてはまる適切な語句を書きなさい。

資料5からは、江戸時代の女性には [] ことや、家事を全てになうことが求められた。

4 次の文章を読んであとの各問に答えなさい。

大川村は、高知県北部の山あいに位置する人口約400人の村です。大川村は、①村長が村議会を廃止することを表明したことで話題になりました。

大川村では、人口は1960年代の約10分の1に減少し、高齢化率は44%に達しています。そのため、②議員のなり手不足が深刻な問題です。

そこで、村議会の代わりに、村の有権者全員が集まってものごとを決める「③町村総会」の設置の検討をすすめました。


実際に大川村では、町村総会を設置するまでにはいたっていませんが、④少子高齢化が進む日本において、今後同じように考える町や村が現われてくるかもしれません。

問1 下線部①について、村長と内閣総理大臣の選ばれ方の違いについて、次の文の にあてはまる適切な語句を書きなさい。

村長は、候補者の中から住民の選挙により選ばれる。内閣総理大臣は、国民が選挙で選んだ の中から選ばれる。

問2 下線部②について、議員を選ぶ選挙には地方選挙と国政選挙があります。2016年7月に参議院議員選挙が行われました。次の参議院議員選挙のとき、図1の家族のうち、何人が選挙権を得ていることになるか、人数を数字で書きなさい。なお、次の参議院議員選挙も7月に行われるものとします。

図1 ある家族の誕生年月と2018年2月時点での年齢



問3 下線部③について、町村総会とは、代表となる議員を選ばずに、有権者全員で話し合う方法です。このように話し合うことは、全員の意見が反映されるという良い面がありますが、良くない面もあります。良くない面としてどのようなことがあげられますか。一つ書きなさい。

問4 下線部④について、日本の高齢化を示す図2から読みとった内容として正しいものを、あとのアからエの中から一つ選び、その記号を書きなさい。

図2

	1980年	1990年	2000年	2010年	2014年
総人口(万人)	11,700	12,400	12,700	12,800	12,700
総人口に占める0～14歳の割合(%)	23.5	18.2	14.6	13.2	12.8
総人口に占める65歳以上の割合(%)	9.1	12.0	17.3	23.0	26.0

(総務省資料より作成)

- ア 1980年の0～14歳の人口は、おおよそ2500万人である。
- イ 2014年の65歳以上の人口は、1980年の0～14歳の人口よりも多い。
- ウ 1980年の65歳以上の人口は、2014年の65歳以上の人口の約3倍である。
- エ 0～14歳の人口が最も多いのは、1990年である。

問5 下線部④について、高齢化が進む地域では、買い物に行くのが難しいことがあり、コンビニエンスストアは地域の買い物拠点としての役割も求められています。図3はあるコンビニエンスストアの商品の配置を示しています。このお店では、どのようなねらいを持って商品を配置していると言えますか。図3・図4を参考にして、あとの店長の話の中の ①, ② にあてはまる適切な語句を書きなさい。

図3

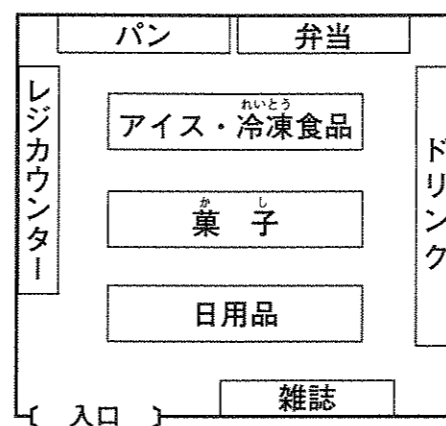
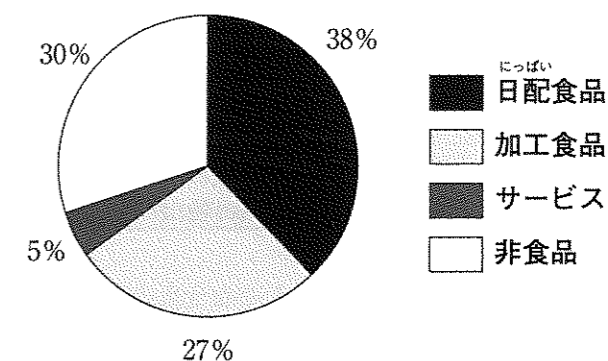


図4 コンビニエンスストア販売額割合(2016年度)



注) 日配食品(弁当, おにぎり, パン, そうざいなど)
加工食品(菓子, ソフトドリンク, 冷凍食品など)
(経済産業省資料より作成)

店長の話

コンビニエンスストアに買い物にいらっしゃるお客さんの多くは、お弁当や飲み物の購入が目的です。そのため、それらの商品を入り口から ① 場所に配置しています。それは、店内ではお客さんにできるだけお弁当や飲み物以外の商品も多く購入していただけるように、 ② と考えているからです。

問6 政治についての情報を得るとき、インターネットのニュースを利用することがあります。次の会話文は、春男さんと秋子さんが図5を見ながら話をしているものです。秋子さんは、春男さんに対して、どのような根拠をもとに反論したと考えられますか。春男さんとは別の根拠をもとにして、図5の数値を使いながら、最後が「……から」で終わる形で書きなさい。

会話文

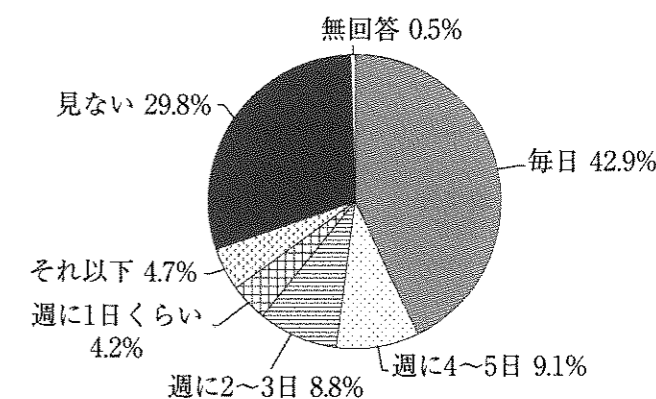
春男：インターネットを通してニュースを見ている人が多いんだね。

秋子：そうかな。私はこの資料を見て、それほど多くないんだなと思ったよ。

春男：でも、週に1日以上インターネットのニュースを見ている人は約65%に達するのだから、多いと言えるんじゃないかな。

秋子： から、私は多いとは言えないんじゃないかと思ったよ。

図5 インターネットニュースの閲覧状況



(新聞通信調査会「第9回 メディアに関する全国世論調査」(2016年)より作成)

5 次の文章は、2012年にウルグアイの元大統領ホセ・ムヒカさんがある国際会議で行った演説の一部です。これを読んで、あとの各問に答えなさい。

いまの文明は、わたしたちがつくったものです。わたしたちは、もっと便利でもっとよいものを手に入れようと、さまざまなものをつくってきました。おかげで、世の中はおどろくほど発展しました。

しかしそれによって、ものをたくさんつくって売ってお金をもうけ、もうけたお金でほしいものを買ひ、さらにもっとたくさんほしくなってもっと手に入れようとする、そんな社会を生み出しました。

・・・(中略)

わたしは小国の人間です。わたしの国には、300万人ほどの人々が住んでいます。ええ、300万よりもわずかに多いでしょうか。

しかし、生活するために必要な、自然の資源にめぐまれた国です。

1300万頭の、世界最高の牛がいます。

800万から1000万頭のすばらしい羊がいます。

①わたしの国は、食料、乳製品、肉の輸出国です。

・・・(中略)

社会が発展することが、幸福をそこなうものであってはなりません。発展とは、人間の幸せの味方でなくてはならないのです。

人と人が幸せな関係を結ぶこと、

子どもを育てること、

②友人を持つこと、

地球上に愛があること—

こうしたものは、人間が生きるためにぎりぎり必要な土台です。発展は、これらをつくることの味方でなくてはならない。

なぜなら、幸せこそがもっとも大切な宝だからです。

③人類が幸福であってこそ、よりよい生活ができるのです。


わたしたちがよりよい生活をするためにたたかうとき、これをおぼえておかななくてはなりません。

(『世界でいちばん貧しい大統領のスピーチ』(汐文社)より一部改)

問1 下線部①とありますが、図1は、ウルグアイのおもな輸出品の上位5つの品目を表しています。

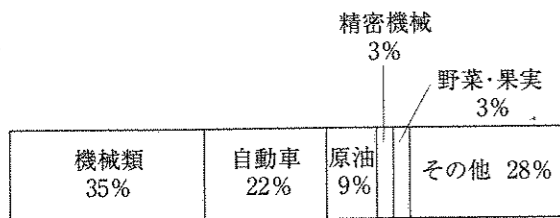
ウルグアイのおもな輸出品の特色と最もよく似ているものを、次のアからエの中から一つ選び、その記号を書きなさい。

図1 ウルグアイの輸出品とその金額の割合

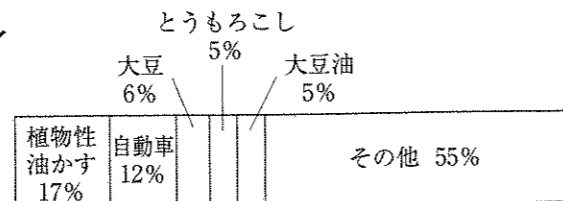


(『世界国勢図会 2016/17』より作成)


ア



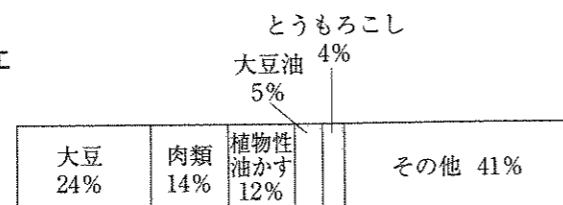
イ



ウ



エ



問2 最近のIT(情報技術)の発展はめざましく、毎日多くの人たちがパソコンやスマートフォンなどを利用して生活しています。ITの発展がわたしたちの幸せの味方になるような例もいろいろ考えられます。

下線部②について、「友人を持つ」にはさまざまな方法があります。その中で、ITの発展が「友人を持つ」ことの味方になるような例を一つ説明しなさい。

問3 下線部③について、AさんとBさんは、図2で示している2つの国があったら、どちらがより幸福かについて話し合っています。会話文中の□の中に入ることを、自分がBさんになったつもりで考え、50字以内で書きなさい。ただし、書くときにはAさんの話し方にない、図2の「ことがら」の中の下線部分の語句を使い、数値を比較して説明すること。

会話文

Aさん：わたしは、㊸の国がより幸福だと思うな。その理由は、自動車保有数も約4倍多く、消費電力量も8倍近く多いので、色々なものを使って便利な生活をしていそうだからよ。

Bさん：ぼくは、㊹の国がより幸福だと考えるよ。

その理由は、□からだよ。

図2 ㊸の国と㊹の国の比較

ことがら	㊸の国	㊹の国
平均寿命	84.5歳	76.8歳
識字率(注1)	99.0%	81.3%
自動車保有数(人口100人あたり)	67.8台	16.6台
医師数(人口1000人あたり)	2.3人	4.8人
二酸化炭素排出量(人口1人あたり)	9.2トン	1.5トン
貿易額(輸出額と輸入額の合計)	1兆5000億ドル	110億ドル
インターネット利用者数(人口100人あたり)	58.1人	86.3人
消費電力量(人口1人あたり)	7,848kWh(注2)	1,043kWh
家計の消費支出額(人口1人あたり)	21,900ドル	4,300ドル
総面積にしめる自然や文化などの保護区の割合	10.9%	49.5%
海外旅行者出発者数(人口100人あたり)	18.5人	1.2人
報道の不自由度(数値が高いほど自由度が低い)	26.02	16.08

(注1) 識字率とは、総人口にしめる文字が読めたり書けたりする人の割合。

(注2) kWhは、電力量を表す単位。

