

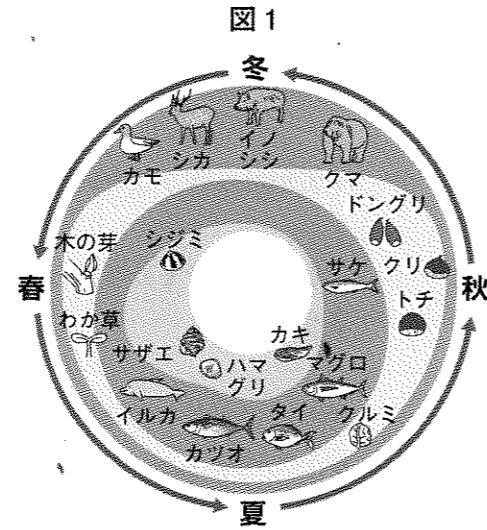
1 次の資料は、2016年5月27日に広島を訪れたオバマ大統領が、広島平和記念資料館を訪問した際に書き残した文章です。広島に関連する歴史について、あとの各問に答えなさい。

資料

*We have known the agony of war.
Let us now find the courage, together, to spread peace, and pursue a world without nuclear weapons.*
(日本語訳)「われわれは戦争の苦しみを知っています。われわれはともに勇気を持ち、平和を広めるために、核兵器のない世界を追求しましょう。」


問1 広島平和記念資料館の近くには世界遺産に登録された原爆ドームがあります。原爆ドームの周辺では原子爆弾により大勢の人がなくなりました。そのため、太平洋戦争が終わってすぐの時は、壊すべきだという意見が多くありましたが、最終的に保存されることになりました。そのおもな理由を資料の日本語訳の中にある語句を使って、書きなさい。

問2 原爆ドームの近くには太田川が流れています。広島県では、太田川が流れ込む現在の海岸線に沿って多くの貝塚が発見されています。図1は縄文時代の人たちが一年間に食べていた食料の想像図です。この図を見て、縄文時代に土器を作るようになった目的を書きなさい。



問3 8世紀の初め、広島は「安芸国」という行政区分にふくまれていました。このころの税の種類や方法、国の行政区分の仕方などを定めたきまりのことを何というか、漢字2字で書きなさい。

問4 図2はかつて広島に立ち寄ったとされる遣唐使船を再現したものです。遣唐使について述べた文として最もふさわしいものを、次のアからエの中から一つ選び、その記号を書きなさい。



- ア 遣唐使を送っていたころ、大和絵やかな文字など、日本独自の文化が広がった。
- イ 遣唐使によって中国の文化がもたらされた結果、前方後円墳が全国に広がった。
- ウ 遣唐使として中国に渡った小野妹子は、聖徳太子の手紙を中国の皇帝に渡した。
- エ 遣唐使を送っていたころ、聖武天皇は国ごとに国分寺を建てることを命令した。

問5 図3は原爆ドームと同じく、広島にある世界遺産で、平清盛が海上の安全を祈った神社です。次の(1)、(2)に答えなさい。

(1) 平氏は、源頼朝を中心とする源氏に敗れ、滅びました。幕府を開いた頼朝は、武士たちとご恩と奉公という関係で結ばれていました。この時代の「ご恩」とは何か、「武士」という言葉を使って簡単に説明しなさい。

(2) 図4は、源頼朝に追われ、逃れた源義経が身を寄せた平泉にある寺院です。この寺院が平泉で開かれたころにつくられた建物として最もふさわしいものを、次のアからエの中から一つ選び、その記号を書きなさい。

図3







図4



ア




イ



ウ



エ



問6 図5は広島市内にある広島城です。広島城の天守閣は最初、16世紀につくられましたが、原子爆弾によって壊されたため、現在はつくり直されています。次の(1)から(3)の間に答えなさい。

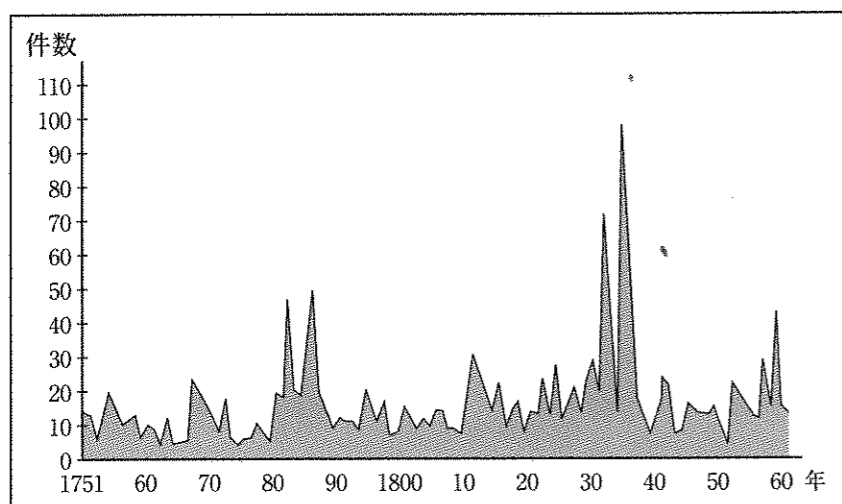


(1) 16世紀に活躍した豊臣秀吉は、武士と、百姓・町人との身分を区別しようとした。そのためにおこなわれた政策を一つ書きなさい。

(2) かつてこの城は江戸時代に福島氏がおさめていましたが、幕府に届け出ずに改修したために、広島から別の場所に移動させられました。このように、幕府は城を新たにつくったり、改修したりすることをある法令により禁止していました。この法令の名前を書きなさい。


(3) 江戸時代の後半になると、百姓一揆が全国各地で起こるようになりました。図6のグラフは、江戸時代の1751年から1860年までに起きた百姓一揆の件数を示しています。このグラフを見ると、大きく件数が増えた時期があります。これはおもにどのようなことが起きたことが原因と考えられるか、書きなさい。

図6 百姓一揆の件数



(「百姓一揆総合年表」より作成)

問7 図7は広島県の鞆の浦です。鞆の浦は江戸時代の鎖国中も、朝鮮の使者が立ち寄っていたことで知られています。鎖国の説明として最もふさわしいものを、次のアからエの中から一つ選び、その記号を書きなさい。



ア 島原・天草一揆が起きたことを受け、江戸幕府はキリスト教を禁止した。

イ 江戸幕府はオランダとポルトガルに限って長崎での貿易を認めた。

ウ 江戸幕府は、日本人が海外に渡ったり、海外から帰国したりすることも禁止した。

エ 江戸幕府は琉球王国や蝦夷地を外国とみなして貿易を禁止した。

問8 明治時代になると、広島には軍の主要な機関が置かれるようになりました。次の(1)、(2)に答えなさい。

(1) 日清戦争中には、日本の軍隊の本拠地が広島に置かれていました。日清戦争について述べた文として、最もふさわしいものを、次のアからエの中から一つ選び、その記号を書きなさい。

ア この戦争の後、日本はロシアとの戦争にも勝利し、韓国を併合した。

イ この戦争が始まる前に、日本は条約を改正し、関税自主権を回復した。

ウ この戦争によって、日本は満州を占領し、鉄道などを建設した。

エ この戦争の後、ロシアは日本が清から得た領土をゆずり受け、自国の植民地にした。


(2) 図8は図9の人物が活躍したころにえがかれたもので、当時の政府のある政策をあらわしています。この絵にタイトルをつけるならばどのように言い表せますか。15字以内で書きなさい。

図8



(「開化の本初編」より作成)

図9



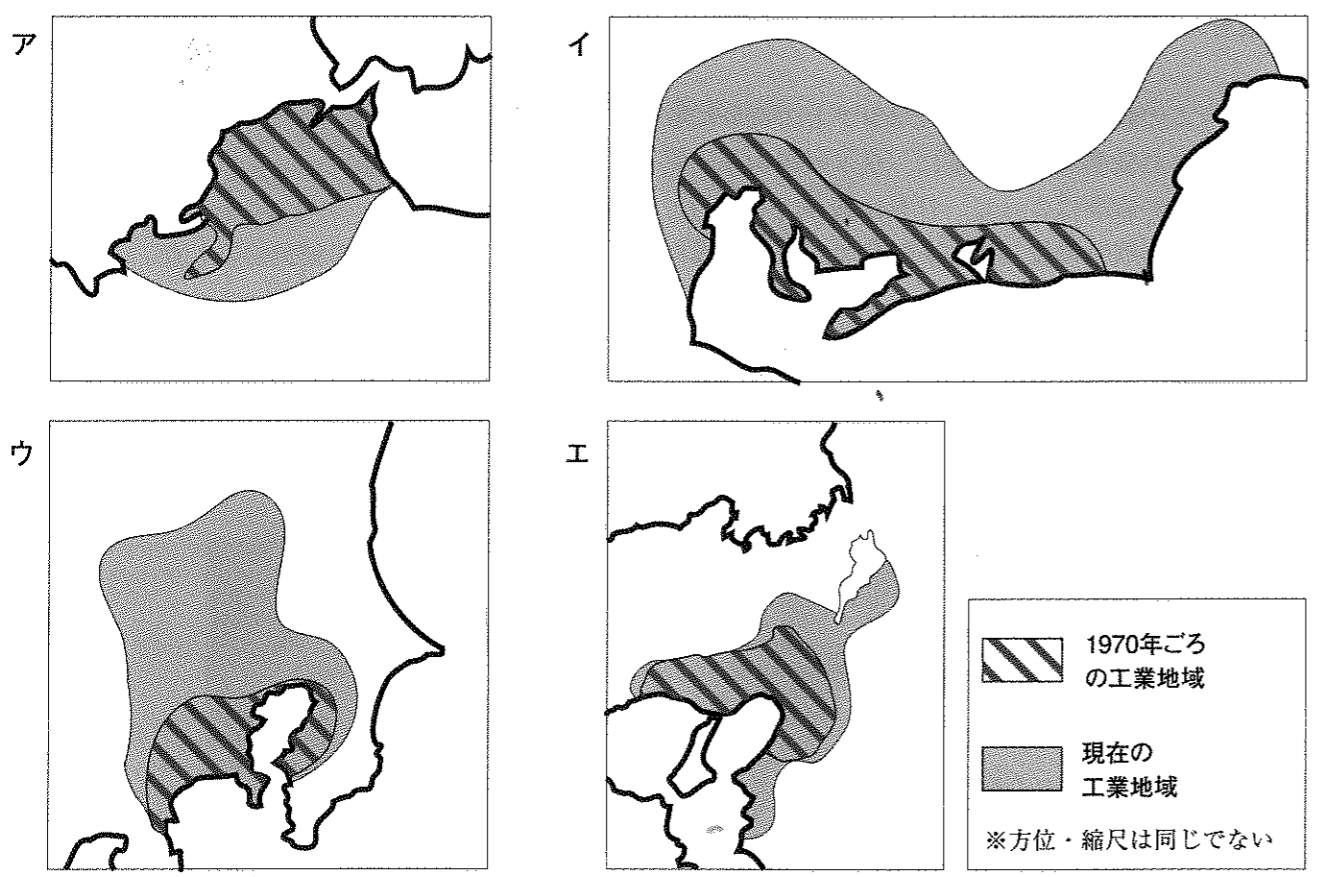
2 次の文章を読んで、あとの各問に答えなさい。

2016年4月には、(①) 県を震源とする震度7の大地震が二度発生し、人びとのくらしや農業・工業などの産業に多くの被害が発生した。また、10月には鳥取県でも震度6の地震が発生した。8月には③北海道などで大雨による土砂災害が発生した。④災害はいつどのような形で発生するか分からない。これらの災害の教訓をいかし、日ごろからの備えをすることが大切である。

問1 (①) にあてはまる県名を書きなさい。

問2 下線部②について、日本の工業がさかんな地域のうち、次の説明にあてはまるものはどれですか。下のアからエの中から一つ選び、その記号を書きなさい。

この地域では近年、内陸にも電子機器などの工場が進出してきて、機械工業がさかんになっています。この地域の工業は、西側の沿岸部に作られた埋め立て地を中心に始まり、海をはさんだ東側の沿岸部では化学工業がさかんに行われています。また、この地域では古くから出版・印刷工業がさかんなことも特色です。



問3 下線部③について、図1のアからエは北海道、青森県、長野県、鹿児島県のいずれかを示しています。このうち、北海道を示したものはどれですか。アからエの中から一つ選び、その記号を書きなさい。

図1 主な農産物の生産量 (2015年)

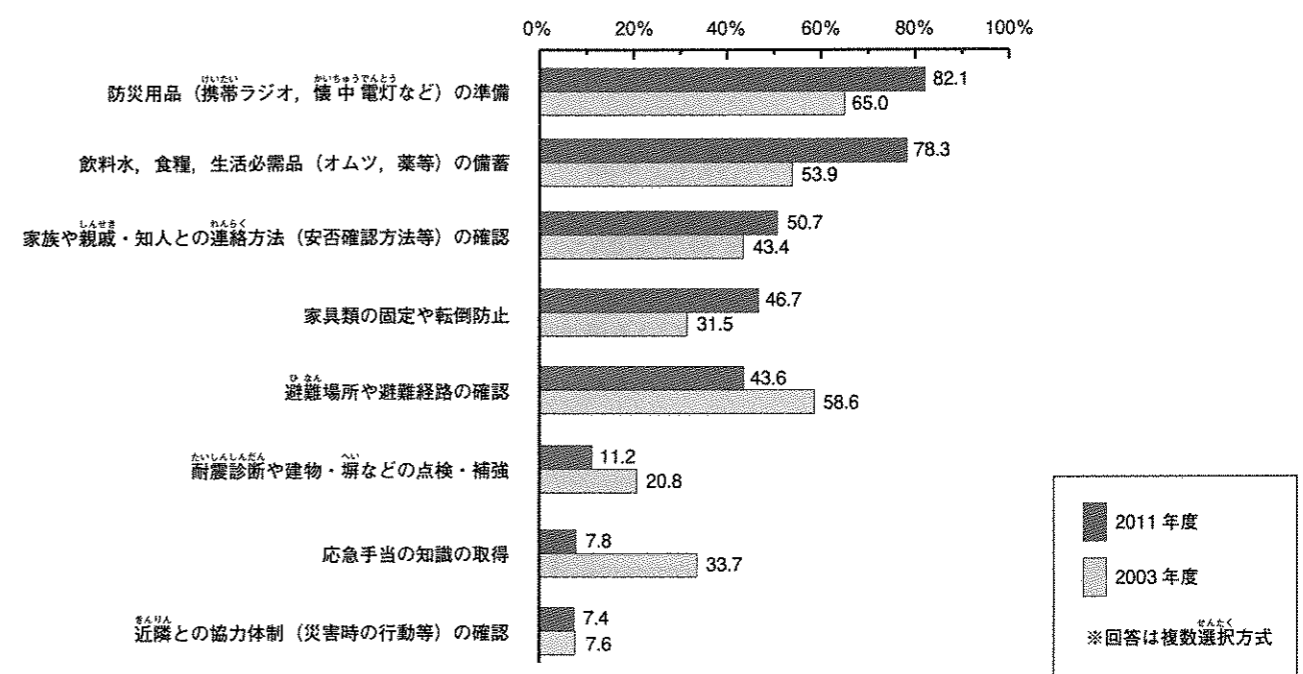
	レタス (トン)	りんご (トン)	米 (トン)	肉牛 (頭)
ア	191,500	157,200	200,500	23,000
イ	16,300	7,660	602,600	505,200
ウ	2,300	470,000	268,000	55,000
エ	5,360	-	98,900	323,400

(農林水産省「作物統計」等より作成)

問4 下線部④について、図2は、東京都が2003年度および東日本大震災後の2011年度に行った、防災に関する取り組みの調査結果を比較したものです。図2を読み取り、次のアからエの中から適切なものをすべて選び、その記号を書きなさい。

- ア 2回の調査とも、取り組んだ割合が最も高かったのは「防災用品の準備」についてである。
- イ 2003年度に比べ、2011年度の調査では、取り組んだ割合が最も増えたのは「応急手当の知識の取得」である。
- ウ 2003年度に比べ、2011年度の調査では、取り組んだ割合が増えたのは「防災用品の準備」、「飲料水、食糧、生活必需品の備蓄」、「家具類の固定や転倒防止」の三つである。
- エ 2回の調査で、取り組んだ割合がともに50%以上を超えているのは「防災用品の準備」「飲料水、食糧、生活必需品の備蓄」の二つである。

図2 防災に関する取り組み



(「平成23年度第4回インターネット都政モニターアンケート結果」より作成)

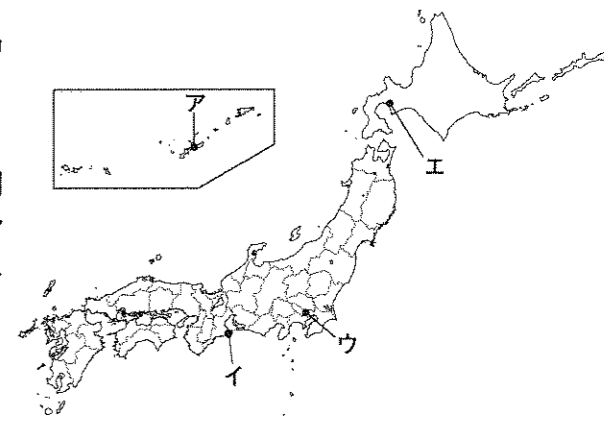
3 2016年5月、世界の主要国とEU(ヨーロッパ連合)の首相や大統領が集まる会議(サミット)が日本で開催されました。これについて、次の各問に答えなさい。

問1 2016年にサミットが開催された都市を図1のアからエの中から一つ選び、その記号を書きなさい。

問2 サミットに参加したリーダーのうち、2017年の1月に2期8年間の任期を終えたのはどの国のリーダーですか。次のアからカの中からあてはまる国を一つ選び、その記号を書きなさい。

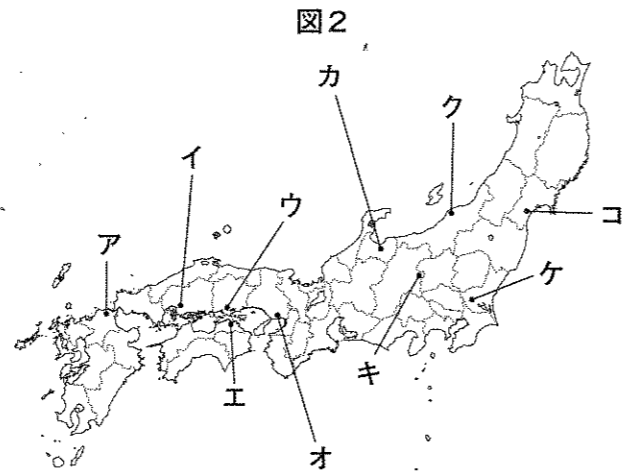
- ア アメリカ合衆国
- イ カナダ
- ウ フランス
- エ ドイツ
- オ イタリア
- カ イギリス

図1



問3 サミットをばさんだ前後の期間に、経済や環境などのさまざまな問題について話し合う会合が各都市で開かれました。次の三つの説明にすべてあてはまる都市を、図2のアからコの中から一つ選び、その記号を書きなさい。

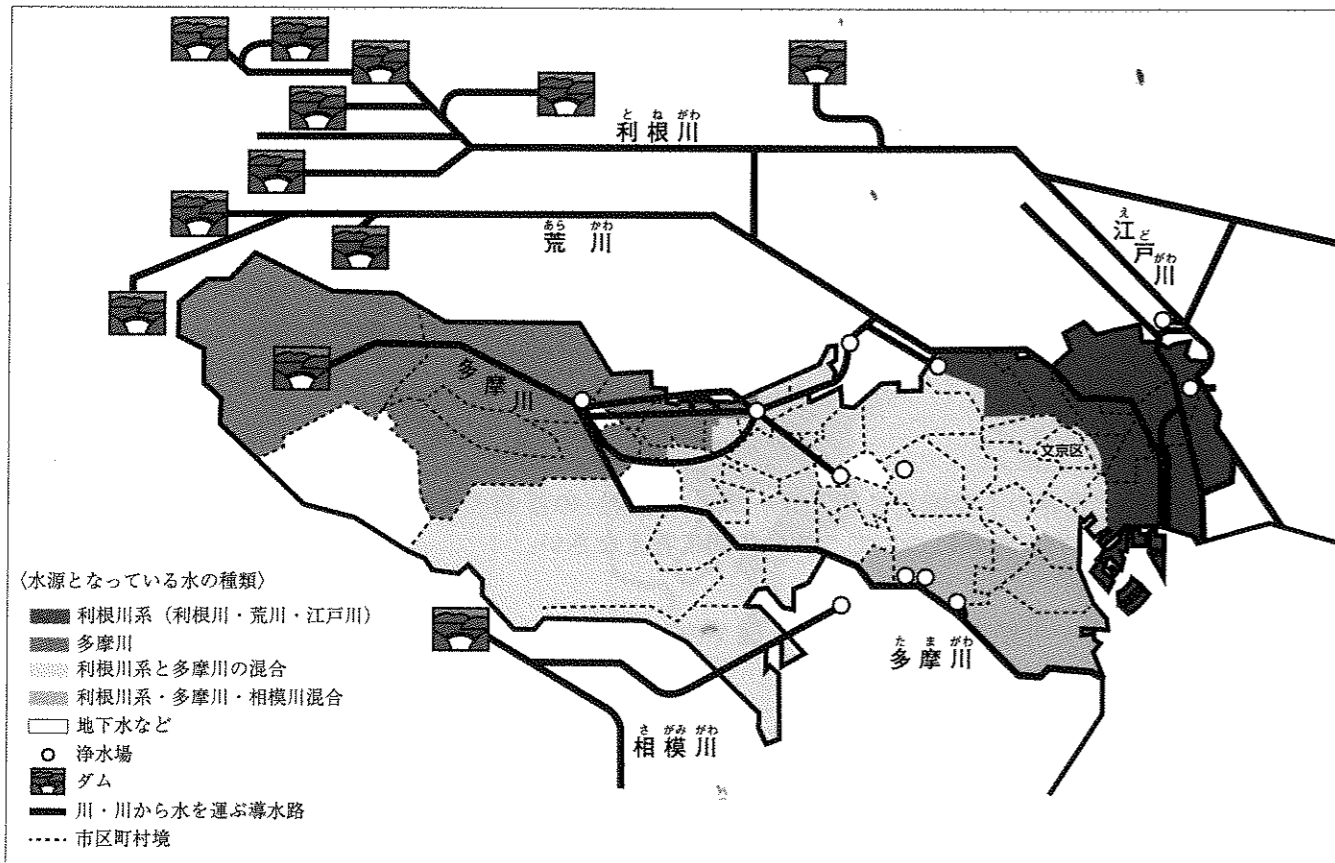
- ・この都市には、新幹線が通っています。
- ・この都市は、ある県の県庁所在地になっていますが、県名と都市名が同じではありません。
- ・この都市には、平安時代に開かれ、全国の貿易港の中でも上位5位以内の輸出入額（2014年）をほこる貿易港があります。



4 花子さんは2016年の夏、雨が少なく水不足が発生するかもしれないという報道をきっかけに、水道水やその水源について調べ、いくつかの資料を手に入れました。これらを見ながら、次の各問に答えなさい。

問1 図1を参考に、東京都が設置している浄水場や水道水の水源について説明したアからエの中から、まちがっているものの一つを選び、その記号を書きなさい。

図1 東京都が設置している浄水場や水道水の水源



(東京都水道局ホームページより作成)

- ア 東京都の水道水の水源は、都内だけでなく、近くの県のダムや貯水池にもある。
- イ 東京都が設置する浄水場は、東京都内と、となりあう県に、あわせて12か所設置されている。
- ウ お茶の水女子大学がある文京区には、利根川系の水と多摩川の水を浄水した水道水が配られている。
- エ 東京都が設置している全ての浄水場は、川や導水路を通り運ばれてきた水を利用している。

問2 図1の多摩川の上流には広大な森林がひろがっており、東京都の水道局や、水道局が募集したボランティア組織がその管理をしています。その目的としてあてはまるものを、アからエの中からすべて選び、その記号を書きなさい。

- ア 林業で働く人が減少したり、高齢化したりしていることから、手入れが行き届かなくなった森林を減らし、今後も維持していくため。
- イ 森林の落ち葉などが分解されてできるやわらかい土は水を多くたくわえることができることから、天然のダムとしての働きを高めるため。
- ウ 余分な森林を切ることで木材として販売できる木を手に入れられることから、木を切って東京都が利益を独占するため。
- エ 雨が森林の土にしみこみ、その中を移動する間に汚れが取り除かれることから、水源となるきれいな水を確保するため。

問3 東京都では近年、水道水をペットボトルにつめた図2のような「東京水」をイベントなどで無料配布しています。図3と図4から読み取れることを参考にして、その目的を書きなさい。

図2 東京水



図3 これまでの浄水場のしくみ

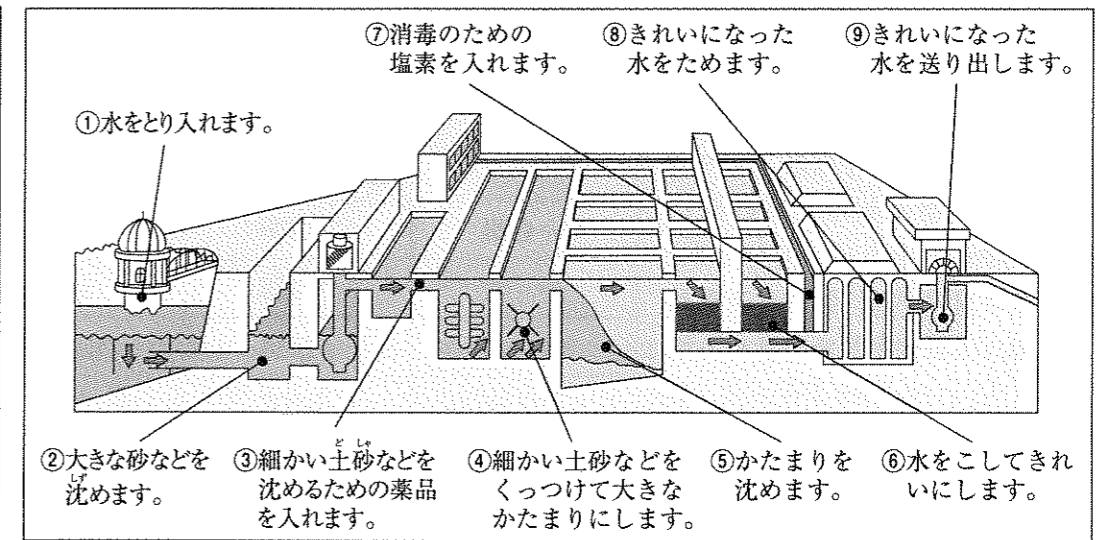
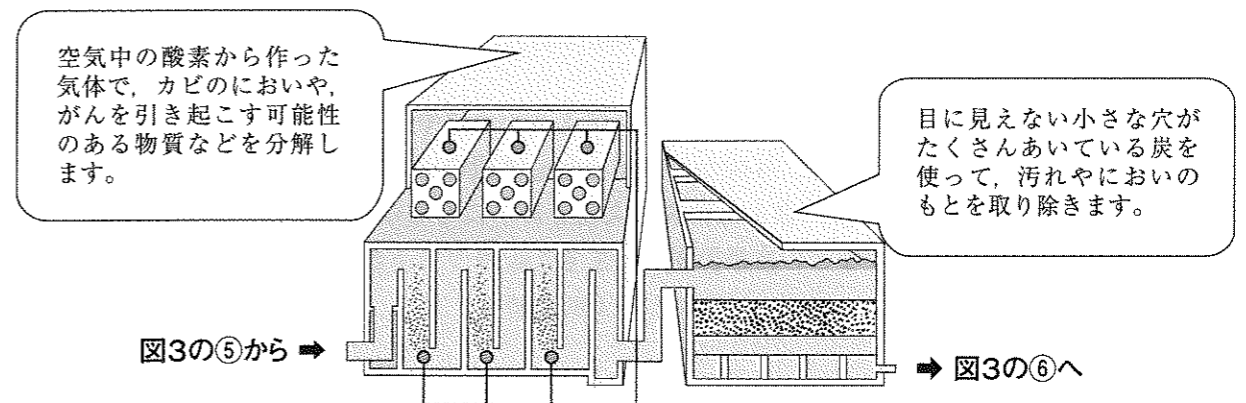


図4 東京都が取り入れた新しい浄水のしくみ



(東京都水道局「東京の水道 (2015年版)」より作成)

5 次の会話を読み、あとの各問に答えなさい。

太郎：最近「グローバル」という言葉をよく聞くけど、どういう意味なの。
 父：簡単に説明すると、たくさんの人やものや情報などが国をこえて移動することで、世界全体が大きくつながっている、ということだよ。
 太郎：そういえば、インターネットで海外の情報もすぐ手に入れられるね。
 母：貿易がさかんになって、外国の商品が身近なところにたくさんあるわよ。例えば、天ぷらそばは代表的な日本食だけど、その材料のほとんどが外国から輸入されたものなのよ。
 太郎：あ、それ知ってる。学校の授業で、①日本の食料自給率が低いことをやったときに出てきたよ。
 父：最近では日本に来る海外の人たちの数がとても増えてきているけど、②昔からさまざまな人が来ることで、日本に影響を与えているね。
 太郎：2020年の東京オリンピック・パラリンピックにも海外からたくさんの方が来るだろうから、③その準備も進んでいるって、この間ニュースでやってたよ。
 母：グローバル化が進む中で、環境問題のように、国ごとではなく、世界全体で取り組まなければいけない問題も増えているわね。
 太郎：④とうもろこしやさとうきびなどの植物を原料としてつくるバイオ燃料など、環境を考えて開発されているものがいろいろとあるみたいだね。

問1 下線部①について、図1

は、おもな農産物の国内生産量、国内消費仕向量（国内で消費に回された食料の量）、食料自給率を示しています。食料自給率は、国内生産量と国内消費仕向量から求められます。いも類を参考にして、図1のAからEの自給率を求め、そのうち数値が最も高いものを一つ選び、その記号を書きなさい。

図1

農産物名	国内生産量 (千トン)	国内消費仕向量 (千トン)	食料自給率 (%)
いも類	3,339	4,301	78
小麦	852	6,579	A
野菜	12,014	15,103	I
果実	3,097	7,161	U
牛乳および乳製品	7,331	11,694	E

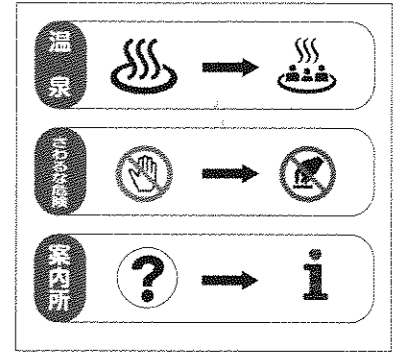
(農林水産省「平成26年度食料需給表」より作成)

問2 下線部②について、次のAからEは、海外から日本に来た人びとについてそれぞれ述べた文です。AからEのできごとを起こった順に並べかえ、その記号を書きなさい。

- A 中国の僧である鑑真は、日本に正式な仏教を伝えるためにやって来た。
- I 富国強兵に力を入れた政府は、外国から技師を招いて指導にあたらせた。
- U 朝鮮半島から来た渡来人は、進んだ技術や文化を日本にもたらした。
- E フランシスコ・ザビエルなどの宣教師がやってきて、キリスト教を伝えた。

問3 下線部③について、図2を参考にしながら次の文章を読み、図2 検討中の案内用図記号の例 にあてはまる文を20字以内で書きなさい。

温泉マークなど、さまざまな場所で使用されている案内用図記号は、JIS（日本標準規格）で定めている図案が標準となっている。2016年7月、経済産業省は、2020年の東京オリンピック・パラリンピックに向けて、 ために、案内用図記号のJIS（日本標準規格）を2017年の夏に新しくする予定であると発表した。



(東京新聞 2016年7月5日より作成)

問4 下線部④について、バイオ燃料が環境によいと言われる理由の一つに、「カーボンニュートラル」があげられます。この「カーボンニュートラル」について正しく述べているものを、次のAからEの中から一つ選び、その記号を書きなさい。

- A バイオ燃料が製造されるときに、原料の植物が大量の二酸化炭素を吸収する。
- I 石油や石炭などの化石燃料と違い、植物を原料とするバイオ燃料は燃やしても二酸化炭素が発生しない。
- U バイオ燃料は、保管されている状態でも、大気中の二酸化炭素を吸収する。
- E 原料の植物は大気中の二酸化炭素を吸収しているため、バイオ燃料を燃やしても二酸化炭素を増やすことにならない。

6 次の各問に答えなさい。

問1 次の文章を読み、あとの(1)から(5)に答えなさい。

「大人（成人）」とされるのは何歳からでしょうか。2016年現在、日本では、小学校・中学校の①義務教育を終えると、15歳から働くことができます。保護者の同意があれば、女性は16歳、男性は18歳から結婚することも可能です。②法律の上では、成人となる年齢は20歳と定められています。2016年、③選挙権を持つ年齢が18歳以上となりました。そこで、法律を改正して18歳から成人としよう検討されています。

(1) 下線部①について、日本国憲法は、国民が果たさなければならない三つの義務を定めています。一つは、「子どもに教育を受けさせる義務」、もう一つは「仕事に就いて働く義務」です。残りの一つは何の義務か、書きなさい。

(2) 下線部②について、法律をつくるのは国会です。国会の仕事としてあてはまらないものを、次のAからEの中から一つ選び、その記号を書きなさい。

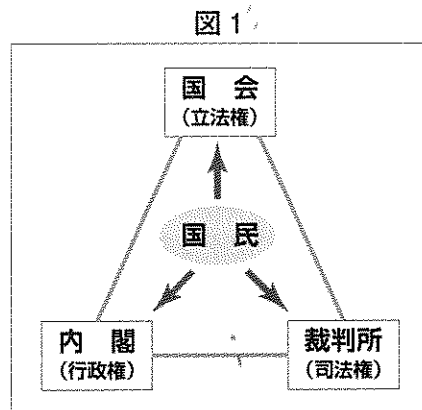
- A 外国と条約を結ぶ
- I 裁判官を裁く裁判を行う
- U 国の予算を決める
- E 内閣総理大臣を指名する

(3) 下線部③について、2016年7月の国の選挙は、選挙権が18歳以上となった選挙でした。この選挙では、立候補できる被選挙権は何歳以上でしたか。次のAからEの中から一つ選び、その記号を書きなさい。

- A 20歳以上
- I 25歳以上
- U 30歳以上
- E 35歳以上

(4) 国民が主権者として裁判へ関心を持ったり、国民の感覚や視点を裁判にいかしたりするため、国民の中から選ばれた人が裁判に参加する制度があります。何という制度か、書きなさい。

(5) 図1のように、国の権力を分け、国会・内閣・裁判所が国の重要な役割を分担しているのはなぜですか。「国の権力が」という言葉に続けて、理由を説明しなさい。

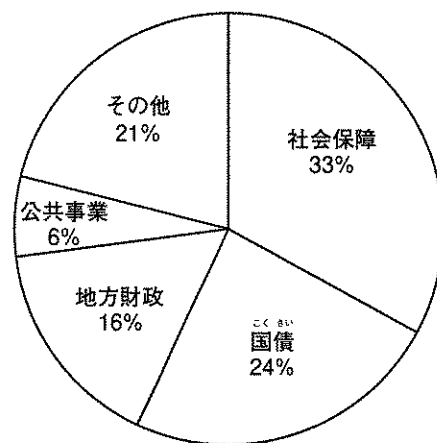


問2 図2は国のお金の使い道のおよその割合を表しています。次の(1)、(2)に答えなさい。

(1) 2016年、日本では65歳以上の人口が総人口の25%を超えており、将来の財政が苦しくなることが心配されています。図2を参考にして、高齢化がすすむとなぜ財政が苦しくなるのか、説明しなさい。

(2) 国の予算や財政に関する仕事をする省庁の名を書きなさい。

図2 国のお金の使い道のおよその割合 (2016年度)



(『日本国勢図会 2016/17』より作成)

問3 最近、インターネットを利用したショッピングがさかんになっており、高齢者の利用も増えてきています。インターネットを利用したショッピングが便利である理由の中で、特に高齢者にとって便利な理由を考えて説明しなさい。

問4 ユニセフは国際連合の機関の一つです。ユニセフの活動として最もふさわしいものを、次のアからエの中から一つ選び、その記号を書きなさい。

- ア 教育・科学・文化の発展をすすめて平和な社会をつくる。
- イ 戦争や食料不足などで苦しい生活をしている子どもを支援する。
- ウ 戦争や紛争の予防や復興の支援などの平和維持活動を行う。
- エ 難民となった人々の生活を助けて医療活動などを行う。

社会

答案用紙

1

問1																			
問2																			
問3			問4																
問5	(1)											(2)							
問6	(1)					(2)					(3)								
問7			問8	(1)		(2)													

2

問1		県	問2		問3		問4	
----	--	---	----	--	----	--	----	--

3

問1		問2		問3	
----	--	----	--	----	--

4

問1		問2																
問3																		

5

問1		問2		→	→	→													
問3																			
問4																			

6

	(1)		義務	(2)		(3)		(4)										
問1	(5)	国の権力が																
問2	(1)																	
	(2)																	
問3																		
問4																		

受検番号

