


1 太郎さんは、自分が住んでいる文京区について調べています。そのなかで、東京都にある23区の「区」も、社会科の授業で学習した「市」と同じような働きをもつことがわかりました。

問1 区議会の仕事ではないものを、次のアからエの中から一つ選び、その記号を書きなさい。
 ア 区予算の決定 イ 区の仕事状況の確認
 ウ 区長の選出 エ 区条例の制定

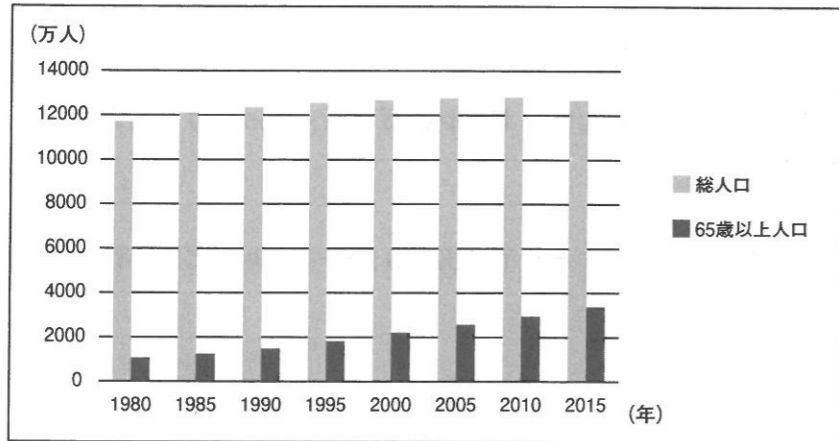
問2 太郎さんが調べた資料の中に、「区議会で決めることを議決と言い、区議会の議決は区全体の意思となる。」という文がありました。なぜ、区議会の議決が区全体の意思となるのか、説明しなさい。

問3 文京区では、図1のようなコミュニティバスが走っています。太郎さんが調べたところ、最近、住民の生活を便利にしようと、だれもが気軽に利用できるコミュニティバスを走らせる市区町村が増えていることがわかりました。



市区町村がコミュニティバスを走らせるおもな理由を、図2から読み取れることと結びつけて、解答らんの下線①と下線②に適切な語句を入れて書きなさい。

図2 日本の総人口と65歳以上人口の変化



(統計局資料より作成)

2 次の各問に答えなさい。

問1 今年の参議院議員選挙では、投票できる権利を持つ人の数が、約240万人増える予定です。なぜ選挙で投票できる権利を持つ人の数が大きく増えるのか、その理由を書きなさい。

問2 今年オリンピックが開かれるブラジルは、日本と関連の深い国の一つです。ブラジルにあてはまるものを、次のアからエの中から一つ選び、その記号を書きなさい。

- ア 公用語(国として公式に使用することが定められた言語)はスペイン語である。
- イ 2013年の調査では、日本との貿易額が多い国の上位5か国に入る。
- ウ 信仰している人が最も多い宗教は、イスラム教である。
- エ 日系人(日本から移住した先祖を持つ人)の人口は世界で一番多い。

問3 図3「入国外国人旅行者の総数の変化」と、図4「国籍・地域別入国外国人旅行者数の上位5つの国・地域の変化」を見て、(1)と(2)に答えなさい。

- (1) 図3と図4から読み取れることを、次のアからエの中から一つ選び、その記号を書きなさい。
 ア 2009年から2014年までの6年間で、入国外国人旅行者の総数は3倍に増えている。
 イ 東日本大震災の起きた年とその翌年では、国籍・地域別入国外国人旅行者の上位5つの国・地域の順位に変化はない。
 ウ 入国外国人旅行者の総数は、東日本大震災が起きた年の翌年には、震災前以上に増えている。
 エ 国籍・地域別入国外国人旅行者数が1位の国の旅行者数は、どの年もその年の入国外国人旅行者の総数の5分の1をこえている。

図3 入国外国人旅行者の総数の変化

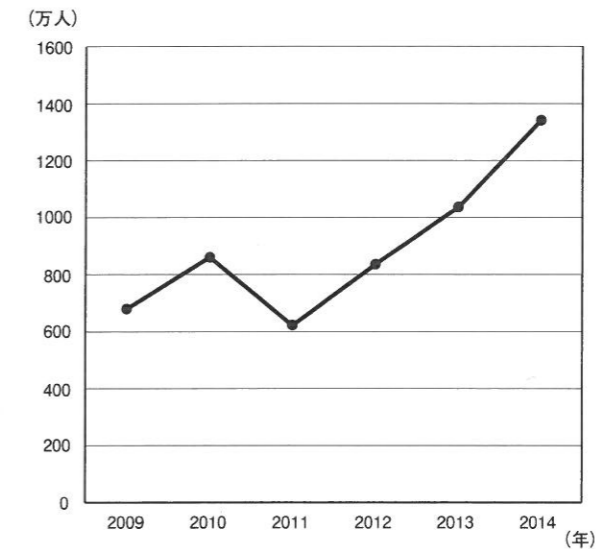


図4 国籍・地域別入国外国人旅行者数の上位5つの国・地域の変化(人)

	2009年	2010年	2011年	2012年	2013年	2014年
アメリカ合衆国	699,919	727,234	565,887	716,709	799,280	891,668
台湾	1,024,292	1,268,278	993,974	1,465,753	2,210,821	2,829,821
韓国	1,586,772	2,439,816	1,658,073	2,042,775	2,456,165	2,755,313
中国	1,006,085	1,412,875	1,043,246	1,425,100	1,314,437	2,409,158
香港	449,568	508,691	364,865	481,665	745,881	925,975

(図3、図4とも日本政府観光局(JNTO)資料より作成)

- (2) 観光庁が設置されている国の役所を、次のアからエの中から一つ選び、その記号を書きなさい。
 ア 国土交通省 イ 建設省 ウ 経済産業省 エ 文部科学省

図5

問4 図5は、日本から派遣された青年海外協力隊が開発途上国で学習を支援しているようすです。青年海外協力隊は、政府開発援助の一つです。この「政府開発援助」を意味するものを、次のアからエの中から一つ選び、その記号を書きなさい。



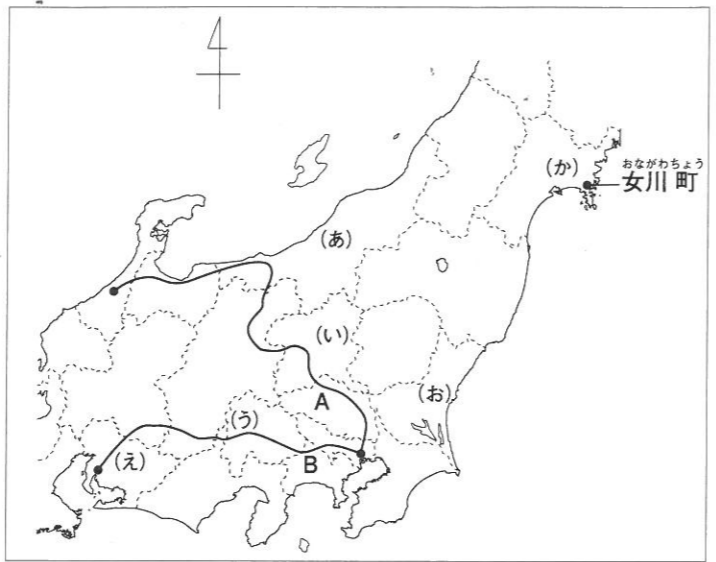
- ア TPP イ NGO
- ウ UNICEF エ ODA

(JICAホームページより)

3 次の各問に答えなさい。

問1 図1を見て、(1)から(5)に答えなさい。

図1



(1) 図1のAの路線は北陸新幹線、Bの路線は建設予定のリニア中央新幹線を表しています。A、Bの路線が共通して通過する県名を書きなさい。ただし、東京都はのぞきます。

(2) 図2は図1の(あ)から(え)のいずれかの県の人口と農業収穫量を表す資料です。図2のアにあてはまる県名を書きなさい。

図2

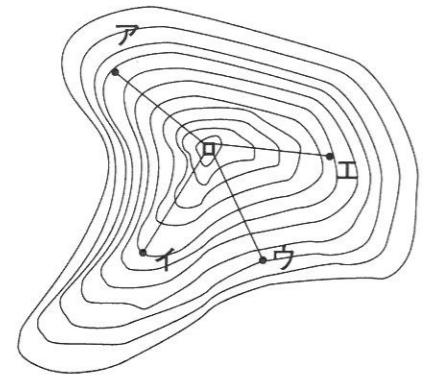
(2013年)

	人口(万人)	米(トン)	キャベツ(トン)	はくさい(トン)	ぶどう(トン)
ア	198	89,600	249,900	29,400	1,070
イ	744	157,300	261,400	27,400	4,770
ウ	85	29,000	4,100	4,530	48,200
エ	233	664,300	13,000	8,000	2,790

(『データでみる県勢2015』より作成)

(3) 図1の(あ)の県には多くのスキー場が見られます。図3はあるスキー場の山頂付近を表した地図です。地図の中の線は同じ高さの場所を結んだ等高線です。図3のアからエの各地点からロの地点までのリフトを建設した場合、出発点とロの地点の間の高低差が最も大きくなるものはどれでしょうか。図3のアからエの中から一つ選び、その記号を書きなさい。ただし、アからエの各地点からロの地点までを表す直線の長さはすべて同じとします。

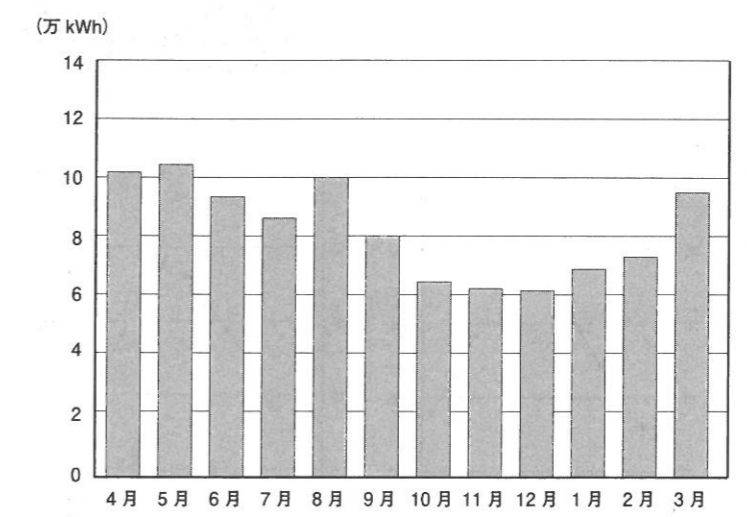
図3



(4) 図4は、(お)の県のある場所で観測したある自然エネルギーの発電量の月別グラフです。この自然エネルギーを次のアからエの中から一つ選び、その記号を書きなさい。なお、図4のkWhは、発電量の単位を表しています。

- ア 波力
- イ 太陽光
- ウ 風力
- エ 水力

図4 発電量の月別グラフ(2004年から2007年までの平均)



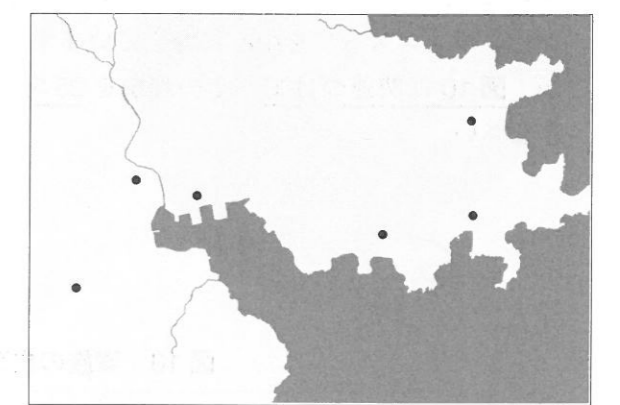
(『産業総合研究所』ホームページより作成)

(5) 図5の石碑は、図1の(か)の県に設置されている「いのちの石碑」です。これは東日本大震災の後、図1の女川町の中学生たちが中心となって設置したものです。この石碑はある地点を示すために設置されていますが、どのような地点でしょうか。女川町周辺と石碑が設置されている場所の一部を表した図6を参考にして書きなさい。

図5



図6



(『広報おながわ 2015年11月号』などより作成)

図7

問2 図7は明治日本の産業革命遺産として、2015年に世界文化遺産に登録された遺跡群の一つです。この島はおもにどのような産業で栄えたか、次のアからエの中から一つ選び、その記号を書きなさい。

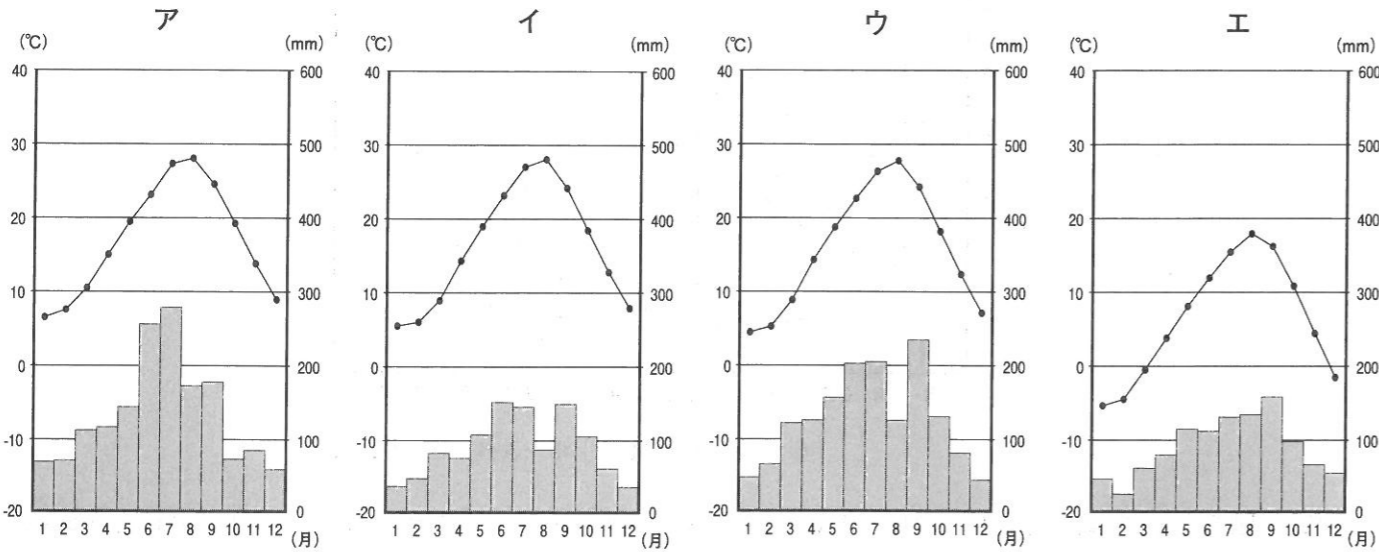
- ア 造船
- イ 石炭
- ウ 鉄鋼
- エ 製鉄



問3 図8の矢印の形をした標識は、道路の端の線を示しています。この標識がよく見られる地域の雨温図を次のアからエの中から一つ選び、その記号を書きなさい。



図8



(『日本国勢図会 2015/16』などより作成)

問4 図9はコンビニエンスストアなどで見られるカット野菜です。近年、このような少量のカット野菜を売るお店が都心のコンビニエンスストアを中心に増えています。なぜ増えているのか、図10に関連づけて、その理由を25字以上35字以内で書きなさい。

図9



図10 家族の種類別の一般世帯数(千世帯)

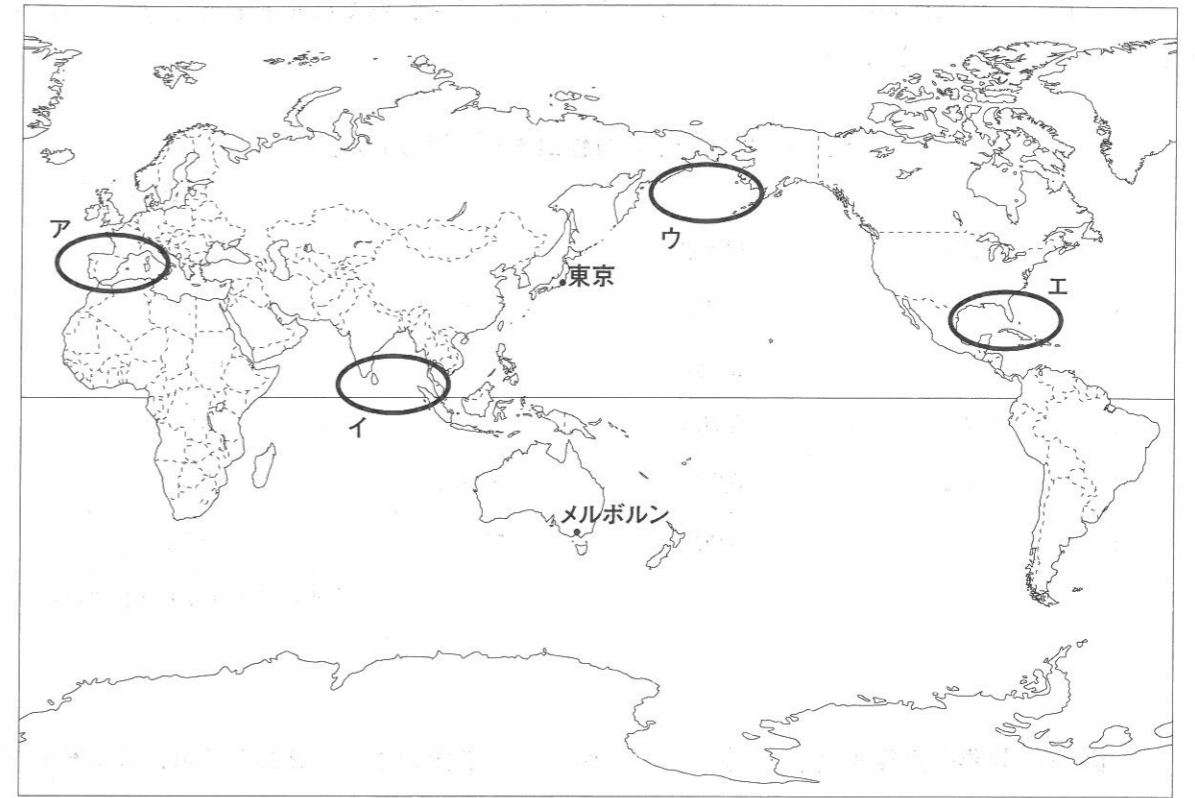
	1980年	1990年	2000年	2010年
核家族世帯(注1)	21,594	24,218	27,332	29,278
単独世帯	7,105	9,390	12,911	16,785
その他の世帯	7,124	7,063	6,539	5,779
合計	35,824	40,670	46,782	51,842
合計のうち、世帯の代表が65歳以上の世帯	4,330	6,576	11,136	16,200

(注1) 核家族とは、夫婦のみ、夫婦と子、ひとり親と子の世帯を示す。

(『日本国勢図会 2015/16』より作成)

問5 日本と世界について、図11を見て、(1)から(3)に答えなさい。

図11



(1) 図12は、地球をある方向から見た静止画像です。図12の○で囲んだ部分とほぼ同じ部分を、図11のアからエの中から一つ選び、その記号を書きなさい。

図12



(2) 図13は、図11の東京と比較した場合のメルボルンのようすを表しています。東京が夏の正午ころのとき、メルボルンはどのようなになっているか、正しい組み合わせを図13のアからエの中から一つ選び、その記号を書きなさい。

図13

	季節	日が昇る方向	日が沈む方向	時刻
ア	夏	西	東	正午ころ
イ	夏	東	西	深夜0時ころ
ウ	冬	東	西	正午ころ
エ	冬	西	東	深夜0時ころ

(3) 図14, 図15, 図16は、「世界の水産物輸出入額」, 「世界の漁獲量」, 「各国の1人1日あたり魚介類消費量」の上位5か国の統計を表しています。図14, 図15, 図16の㉑から㉕は、日本, 中国, アメリカ合衆国のいずれかの国を表しています。このうち、日本にあてはまる記号を㉑から㉕の中から一つ選び、その記号を書きなさい。

図14 世界の水産物輸出入額 (百万ドル)

(2011年)

輸出国	輸出額	輸入国	輸入額
㉑	17,229	㉕	17,728
ノルウェー	9,484	㉒	17,633
タイ	8,160	㉓	7,798
ベトナム	6,260	スペイン	7,342
㉒	5,901	フランス	6,629

(ドルはアメリカの通貨単位)

図15 世界の漁獲量 (千トン)

(2013年)

国名	漁獲量
㉑	16,558
インドネシア	6,120
ペルー	5,876
㉒	5,242
インド	4,645

図16 各国の1人1日あたり魚介類消費量 (g)

(2011年)

国名	消費量
韓国	207
ミャンマー	151
㉑	150
スペイン	116
㉒	113

(『世界国勢図会 2015/16』などより作成)

4 あきこさんのクラスでは、自分でテーマを決めて歴史のレポートを作成することになりました。

問1 あきこさんは、次のようなことについて資料を集めました。何のテーマについて調べようとしたと考えられますか。次のアからエの中から一つ選び、その記号を書きなさい。

- 鑑真 フランシスコ=ザビエル 東大寺 平等院鳳凰堂
 祇園祭 銀閣 出雲大社

ア 庶民の文化 イ 日本と外国の交流 ウ 日本の宗教 エ 世界遺産

問2 ようこさんは、ある遺跡の資料館へ行って、次のようなレポートを書きました。このレポートの内容からは読みとれないものを、次のアからエの中から一つ選び、その記号を書きなさい。

集落を取り囲んだ二重の堀や建物のあとがみられました。人の骨が入った土器がたくさん並んでうまっていたそうです。矢のつきささった骨もあります。大きな墓には、鏡や剣もいっしょにおさめられていたそうです。

- ア 死者を埋葬していた。 イ 戦いのある時代であった。
 ウ 身分の差がある時代だった。 エ 米づくりの技術が伝わっていた。

5 日本の過去にあった地震などの大きな災害について調べると、図1のようなことがわかりました。次の各問に答えなさい。

図1

年	できごと
416年	①大和(奈良)で地震が起こる
599年	②大和(奈良)で地震が起こる
684年	③東海・南海地方で大津波が起こる
869年	三陸で地震・津波 1千人死亡
1185年	④近畿地方で地震が起こる
1293年	⑤鎌倉で地震が起こる
1498年	⑥東海・南海地方で地震・津波が起こる
1611年	⑦三陸沖で地震が起こる 数千人死亡
1703年	⑧関東地方に地震・津波が起こる
1853～1859年	⑨東海・南海、江戸で地震が起こる
1896年	⑩三陸で津波・地震が起こる
1923年	⑪()で地震が起こる
1933年	⑫三陸沖で地震が起こる

問1 ①は、日本の歴史書に書かれた中で最も古い地震の記録です。日本の成り立ちをまとめて8世紀につくられた歴史書を、次のアからエの中から一つ選び、その記号を書きなさい。

- ア 万葉集
 イ 日本書紀
 ウ 源氏物語
 エ 風土記

問2 ②のころ、天皇中心の国づくりをめざして改革を行っていた人物がいました。この人物が行った、次の資料に関係の深いことがらを、次のアからエの中から一つ選び、その記号を書きなさい。

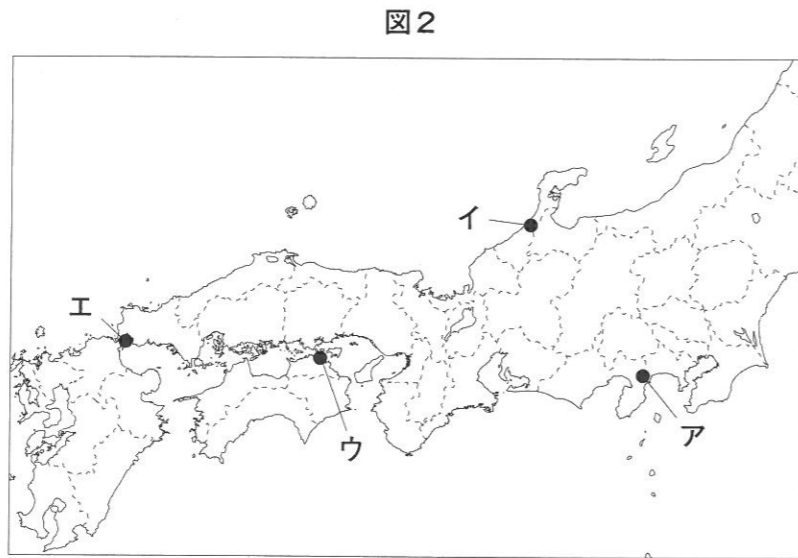
- 一、人の和を第一にしなればなりません
二、仏教をあつく信仰しなさい

- ア 冠位十二階 イ 十七条の憲法 ウ 遣唐使の派遣 エ 法隆寺の建設

問3 ③のころ、税を納める制度が整えられました。「租」とよばれる税はどのようなものでしたか。次のアからエの中から一つ選び、その記号を書きなさい。

- ア 米を納める。 イ 特産物を納める。
ウ 九州で兵士となる。 エ 地元の土木工事をする。

問4 ④のころ、源氏と平氏の戦いがあつた時期に地震が起こり、人々の不安が高まりました。平氏がほろんだ壇ノ浦の戦いのあつた場所を、図2のアからエの中から一つ選び、その記号を書きなさい。



問5 ⑤のころ、日本は外国との二度の戦いがあり、世の中は不安定になりました。外国と戦った御家人は、幕府に対する不満を持ちましたが、なぜ不満に思ったのか、説明しなさい。

問6 ⑥のころには、全国の武士が争う戦乱が起こり、国が乱れました。京都では、将軍が書院造の部屋がある銀閣をつくりました。この銀閣をつくった将軍の名前を書きなさい。

問7 ⑦のころ、図3のように、地震でくずれない工夫をして、石垣のある大きな城が築かれました。このような大きな城を築いた理由としてあてはまらないものを、次のアからエの中から一つ選び、その記号を書きなさい。

- ア 大名の力の大きさを示すため。
イ 外国の国々との戦いに備えるため。
ウ 鉄砲による攻げきを防ぐため。
エ 城下町をつくり商人を集めるため。



問8 ⑧のころの世の中のようにすとしてあてはまるものを、次のアからエの中から一つ選び、その記号を書きなさい。

- ア 観阿弥、世阿弥によって能楽が完成し、狂言も人気であつた。
イ 大和絵やかな文字など朝廷を中心としたはなやかな日本風の文化がうまれた。
ウ 実際に起きた事件をもとにした近松門左衛門の作品が歌舞伎や人形浄瑠璃で上演された。
エ スペインやポルトガルからきた宣教師がヨーロッパの文化や品物をもたらした。

問9 図4は、⑨のころ、地震よけとして買い求められたナマズの版画の一つです。ナマズは地震を起こすと信じられていました。ほかに、名所の風景を描いた歌川広重の版画なども人気がありました。このような木版画を何といいますか。



問10 ⑩は日清戦争が終わつたころでした。日清戦争の結果の説明としてあてはまらないものを、次のアからエの中から一つ選び、その記号を書きなさい。

- ア 清に朝鮮の独立を認めさせた。
イ 清から得た賠償金をもとに、八幡製鉄所をつくつた。
ウ 台湾を日本が統治することになった。
エ 樺太の南半分や、南満州の鉄道の権利を日本が得た。

問11 ⑪の地震が起こり、日本の経済は大きな打げきを受けました。()にあてはまる地震が起こつた場所を、図5のアからエの中から一つ選び、その記号を書きなさい。

問12 次のアからエは、⑫のころのできごとです。アからエのできごとを起こつた順に並べかえ、その記号を書きなさい。

ア 日中戦争が始まる。
イ アメリカ合衆国との戦争が始まる。
ウ 満州国がつくられる。
エ 広島に原爆が落とされる。



社会

答案用紙

1

問1		問2	
問3	65歳以上の① _____ ので, ② _____ から。		

2

問1					
問2		問3	(1)	(2)	問4

3

問1	(1)	県		(2)	県							
	(3)	(4)	(5)									
問2		問3										
問4												
	25											
問5	(1)	(2)	(3)									

4

問1		問2	
----	--	----	--

5

問1		問2		問3		問4		
問5								
問6				問7		問8		問9
問10		問11		問12	→	→	→	

受検番号

