

1 次を示す図を見ながら、各問に答えなさい。

問1 図1と図2は、地球をある方向から見たようすをそれぞれ表しています。

(1) 図1と図2について正しく読み取ったものを、次のアからエの中から一つ選び、その記号を書きなさい。

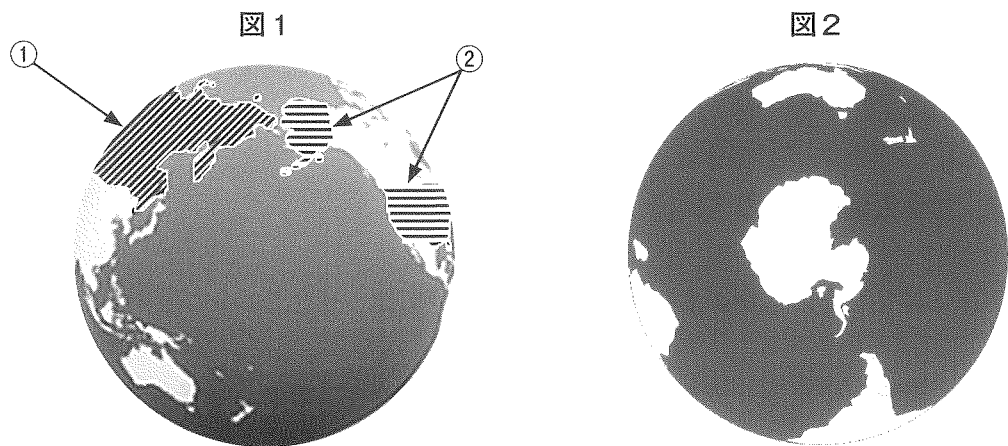
ア どちらの図も、日本の国土の一部が表されている。

イ どちらの図も、北極が表されている。

ウ どちらの図も、部分的なものをふくめると、すべての大陸が表されている。

エ どちらの図も、部分的なものをふくめると、太平洋が表されている。

(2) 図1の①と②の国の名前を、それぞれ答えなさい。



問2 図3を見て、先生と生徒が会話をしています。会話の中の [③] にあてはまるものを、次のアからエの中から一つ選び、その記号を書きなさい。

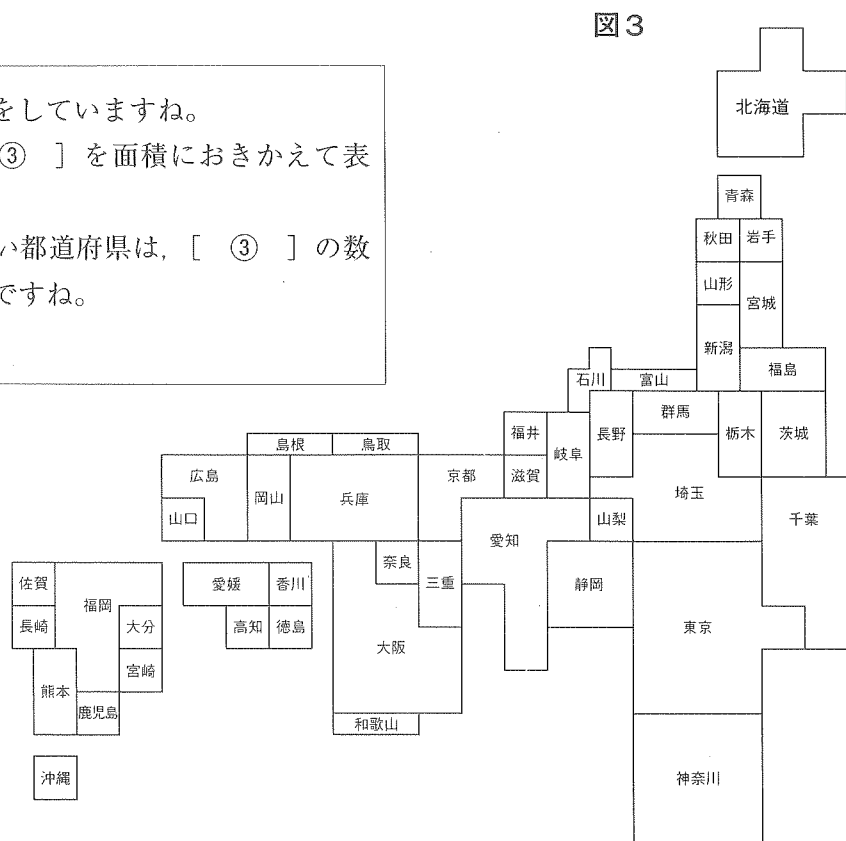
生徒：この日本地図は変わった形をしていますね。
 先生：これは都道府県ごとの [③] を面積におきかえて表した図ですよ。
 生徒：では、この地図で面積が広い都道府県は、 [③] の数値が高い、ということなのですね。
 先生：そうですよ。

ア 自動車の出荷額

イ 人口

ウ 米の生産量

エ 耕地面積



問3 あきこさんは、自分の町に新しいコンビニエンスストアを出店しようとしている会社の人に話を聞きました。図4は、あきこさんの町のようすを表しています。

新しいコンビニエンスストアをつくらうと思って場所を探しているところです。この町は、駅からみて [④] の方向に大きなショッピングセンターがありますよね。ほかにも、コンビニエンスストアがあるので、なるべく近くに競争相手のいないところがいいと思います。一人暮らしの人向けのお弁当を充実させたり、バスを待っているお客様向けの商品もそろえようと思っています。

(1) 話の中の [④] にあてはまるものを次のアからエの中から一つ選び、その記号を書きなさい。

ア 北東 イ 北西 ウ 南東 エ 南西

(2) 話の内容から考えて、新しいコンビニエンスストアをつくらうと思っている場所として最もあてはまる場所を、図4のAからDの中から一つ選び、その記号を書きなさい。

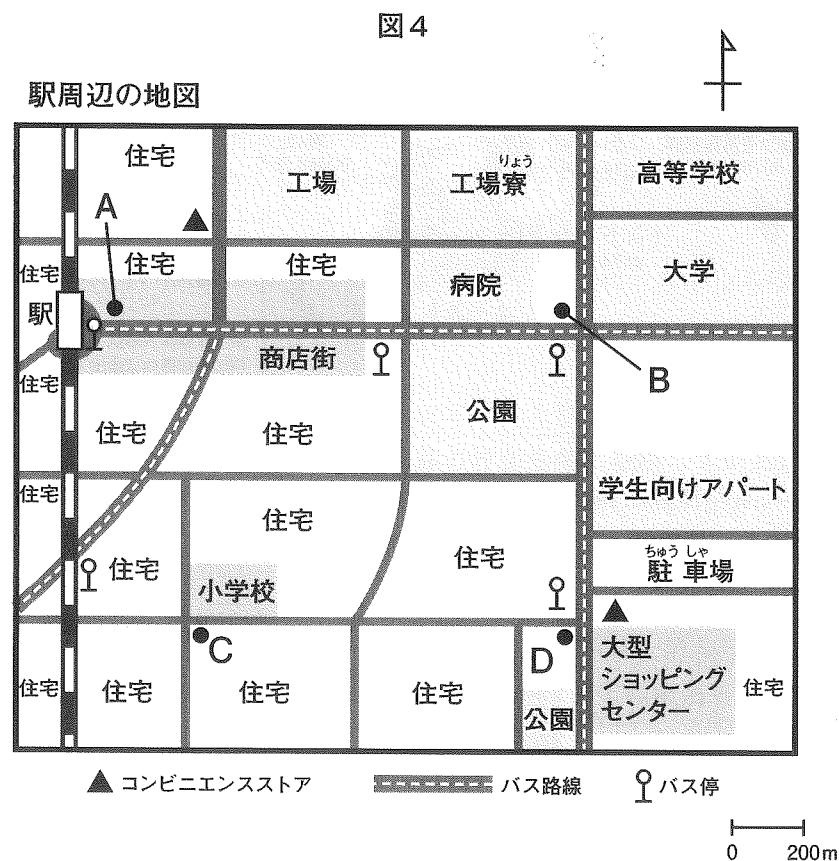


図4

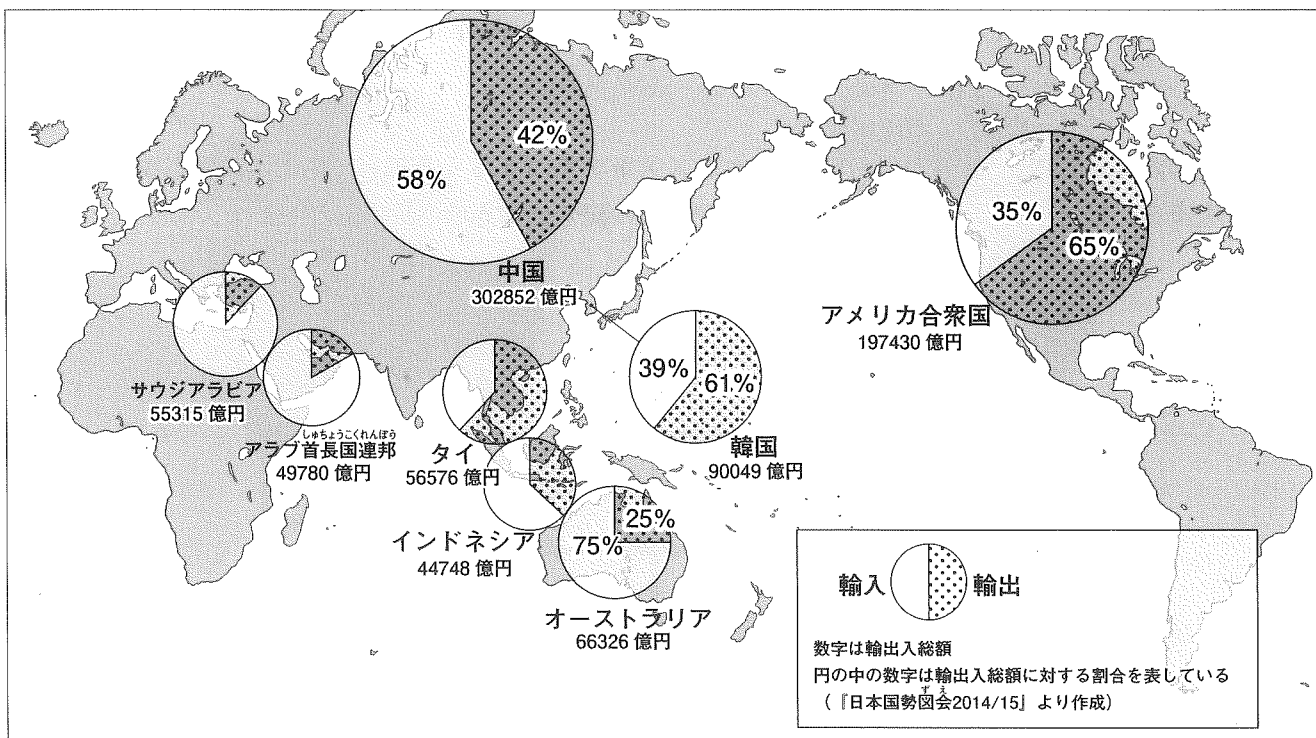
▲ コンビニエンスストア 〰️ バス路線 ♀️ バス停
 0 200m

2 次の各問に答えなさい。

問1 日本の貿易について調べてみました。図1は、日本のおもな貿易相手国、地域との輸出入の総額を表しています。図1から読み取れることとして正しいものを、次のアからエの中から一つ選び、その記号を書きなさい。

- ア 貿易総額の上位4カ国はすべて、日本の輸入が日本からの輸出を上回っている。
- イ 日本の輸入額も日本からの輸出額も、アメリカ合衆国が最も多い。
- ウ 中国からの輸入額は、アメリカ合衆国からの輸入額の2倍を上回っている。
- エ タイへの輸出額は、韓国への輸出額を上回っている。

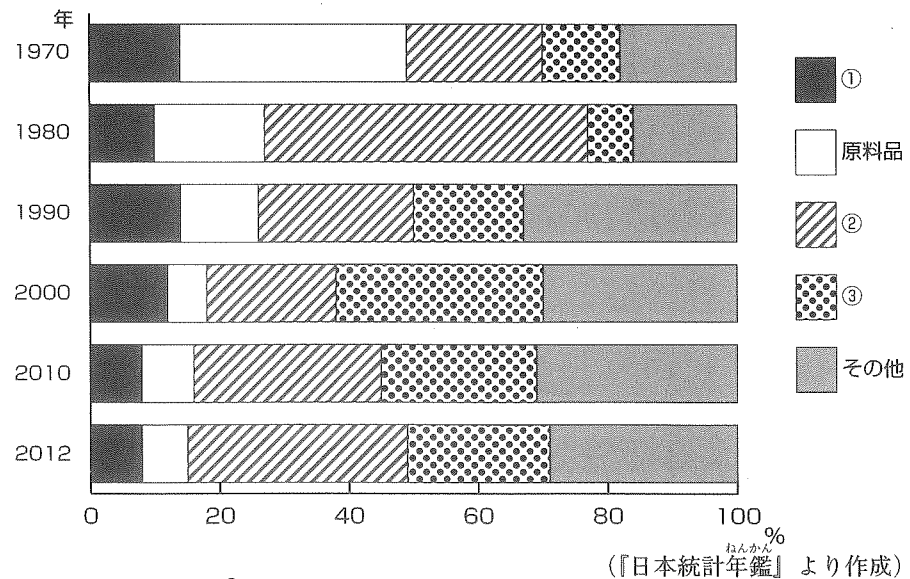
図1



問2 図2は、日本の輸入品の種類と輸入総額に占める割合の変化を表しています。①から③の組み合わせとしてあてはまるものを、次のアからエの中から一つ選び、その記号を書きなさい。

- ア ①食料品
②石油などの燃料
③機械機器
- イ ①食料品
②機械機器
③石油などの燃料
- ウ ①石油などの燃料
②食料品
③機械機器
- エ ①石油などの燃料
②機械機器
③食料品

図2



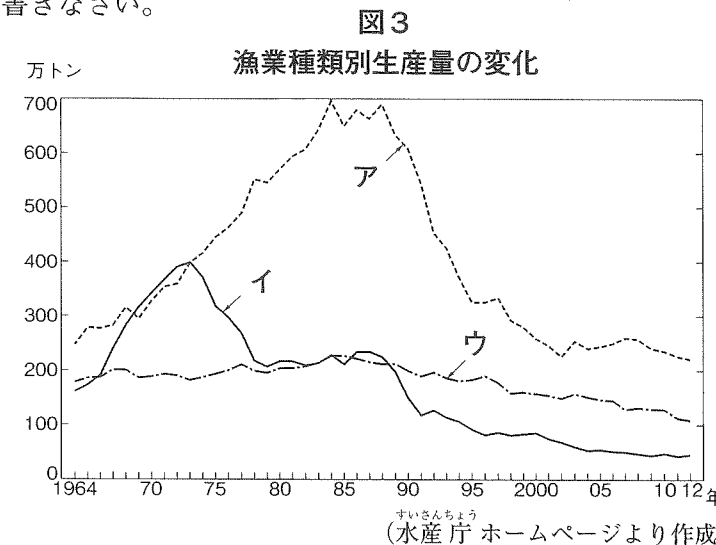
問3 資料1のような新聞記事がありました。

資料1 マグロの【あ】に成功
研究の結果、これまで(い)遠くの外まで航海して行う漁業でとっていたマグロを人工的に育てることができるようになりました。

(1) 資料1の【あ】にあてはまることばを書きなさい。

(2) マグロは、暖流にみられる魚です。暖流と寒流がぶつかるにはどのような特色がみられるか、説明しなさい。

(3) 文中の(い)について、図3のアからウは、日本の遠洋漁業、沖合漁業、沿岸漁業の生産量の変化をそれぞれ表しています。遠洋漁業を表すものをアからウの中から一つ選び、その記号を書きなさい。



問4 資料2のような新聞記事がありました。

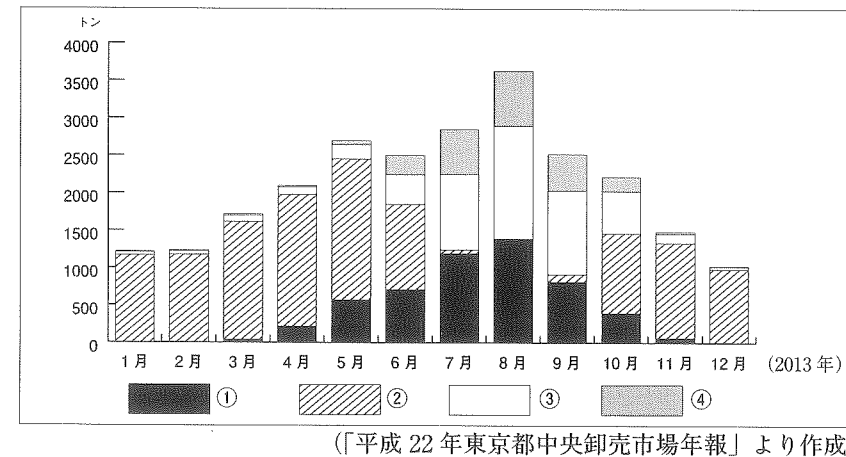
資料2 農家に大打撃
台風の影響によって、高知県の農家ではビニールハウスに大きな被害がありました。県ではナスなどの野菜の出荷に大きく影響が出ると心配しています。

(1) 高知県で行われている農業の説明としてあてはまるものを、次のアからエの中から一つ選び、その記号を書きなさい。

- ア すずしい気候のため、ビニールハウスを用いて、多くの野菜を栽培している。
- イ ビニールハウスの中で人工の光をあてて、春の野菜を冬に栽培している。
- ウ 温暖な気候をいかして、ビニールハウスで夏にとれる野菜を冬に栽培している。
- エ ビニールハウスで保護しながら、冬にとれる野菜を夏に栽培している。

(2) 図4は、東京都中央卸売市場におけるおもな県のナスの出荷量を表しています。図4の①から④は、高知県、栃木県、茨城県、群馬県を表しています。高知県にあてはまるものを、①から④の中から一つ選び、その記号を書きなさい。

図4

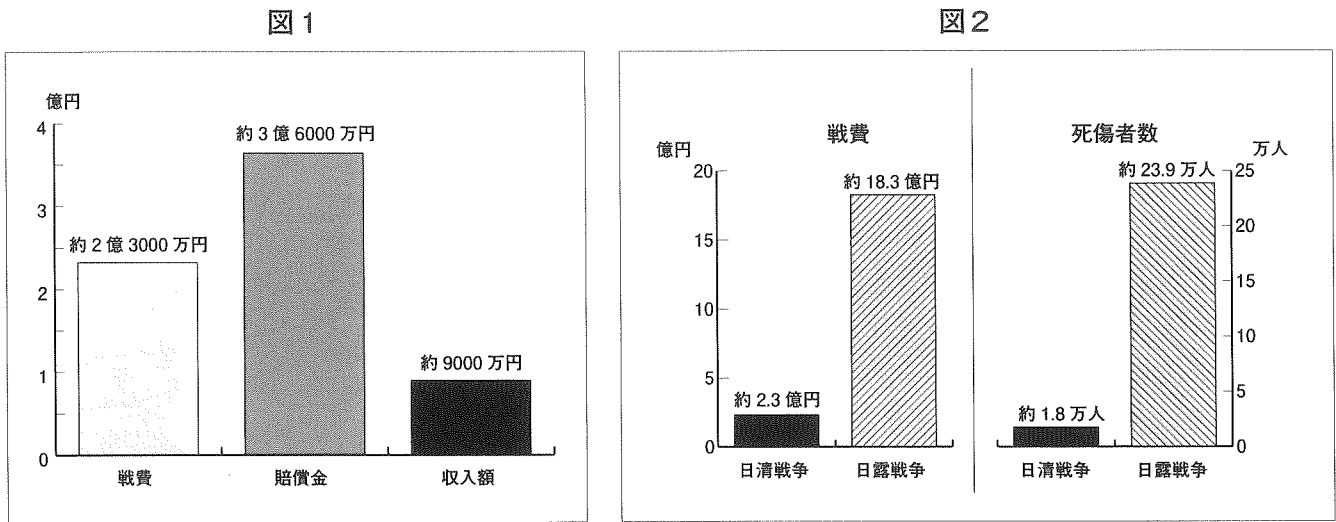


(「平成22年東京都中央卸売市場年報」より作成)

3 昨年は第一次世界大戦が始まってちょうど100年でした。明治時代から現代までの日本の戦争について、次の各問に答えなさい。

問1 図1は、日清戦争での戦費、清から得た賠償金、1895年の日本の国の収入額を示しています。図2は、日清戦争と日露戦争での戦費と死傷者数を示しています。

日露戦争では、ロシアとの講和条約で、ロシアから賠償金を得られなかったことに対して、日本の国民は大きな不満を持ちました。それはなぜか、図1と図2から読み取れることを使って説明しなさい。



(『日本長期統計総覧』『明治財政史』などより作成)

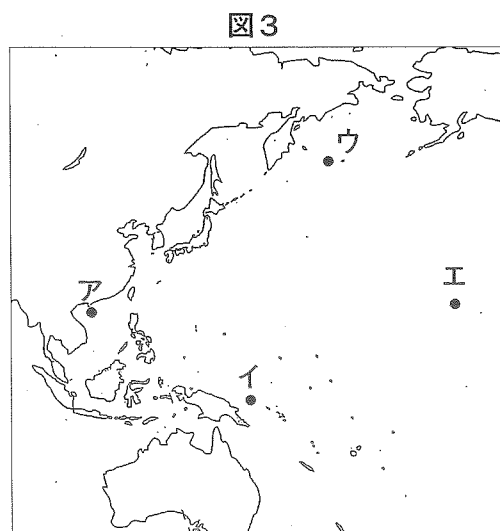
問2 日本も参加した第一次世界大戦は、1914年に始まり、1918年に終わりました。このころから、日本では人々の民主主義への意識も高まりました。

1922年につくられた全国水平社の運動を説明する文として最も適切なものを、次のアからエの中から一つ選び、その記号を書きなさい。


- ア 新聞や演説会で、国会を開き、広く国民の意見を聞いて政治を進めるべきだと主張した。
- イ 米の値段が急に上がったことに対して、生活に困った人々が米屋などにおしかけた。
- ウ 差別に苦しんできた人々が、自分たちの力で差別を打ちやぶろうとよびかけた。
- エ 身分や税金を納めている額に関係なく、男女ともに選挙権を持つべきだと訴えた。

問3 図3は、日本がアメリカやイギリスなどの国々と、東南アジアや太平洋を戦場として戦争を始めたころのものです。

(1) 日本は、アメリカの領土である真珠湾を攻撃して、アメリカに宣戦布告しました。真珠湾がある場所を、図3のアからエの中から一つ選び、その記号を書きなさい。

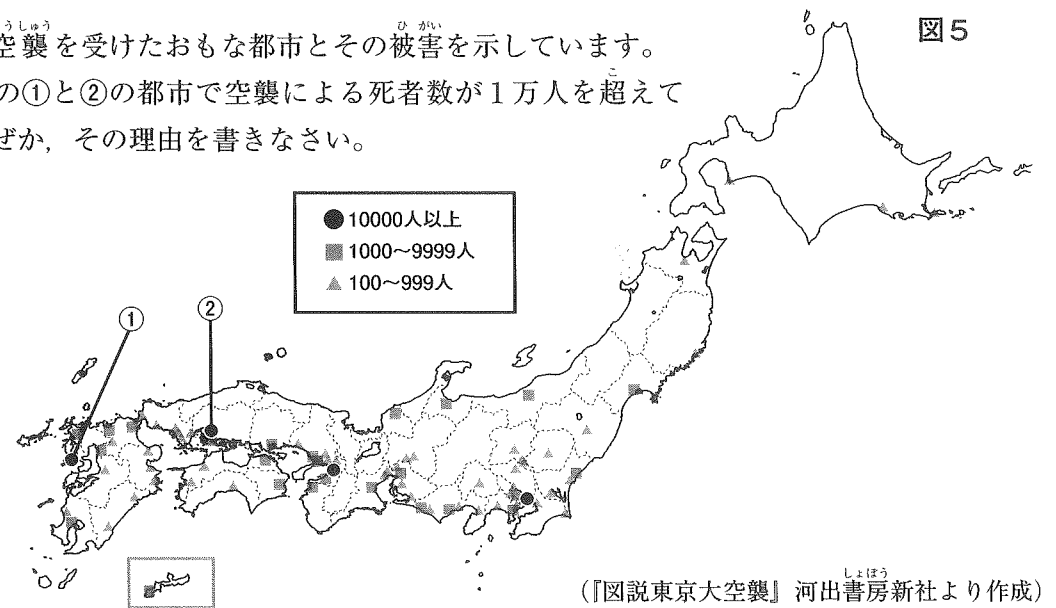


(2) 図4は、当時「赤紙」と呼ばれたものです。図4を受け取った国民はどうしなければいけなかったか、説明しなさい。



(奈良県立図書館蔵より)

(3) 図5は、空襲を受けたおもな都市とその被害を示しています。図5の中の①と②の都市で空襲による死者数が1万人を超えているのはなぜか、その理由を書きなさい。



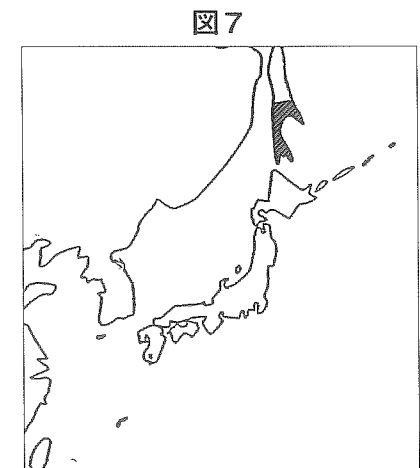
(『図説東京大空襲』河出書房新社より作成)

問4 図6は、「ある戦争」に兵士として参加した弟をおもって作られた詩の一部です。また、図7の中の■は、「ある戦争」の後に日本の領土になったところを示しています。「ある戦争」にあてはまるものを、次のアからエの中から一つ選び、その記号を書きなさい。

- ア 日清戦争
- イ 日露戦争
- ウ 第一次世界大戦
- エ 第二次世界大戦

図6

君死にたまふことなけれ
 ああをとうとよ 君を泣く
 君死にたまふことなけれ
 末に生れし君なれば
 親のなさはまさりしも
 親は刃をにぎらせて
 人を殺せとをしへしや
 人を殺して死ねよとて
 二十四までをそだてしや



4 次を示す図を見ながら、各問に答えなさい。

問1 図1は、静岡県にある弥生時代の遺跡で見つかった住居跡を描いたものです。また、図2は、その遺跡で復元されている住居です。このような住居は何と呼ばれていますか、書きなさい。

図1



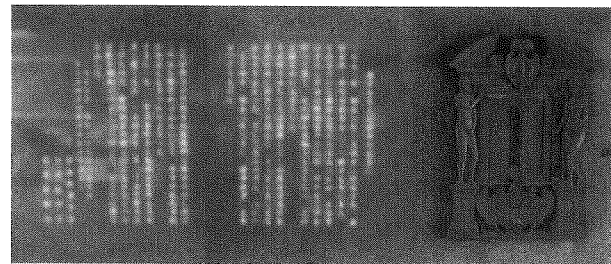


図2



問2 図3は、東京のある寺院にある観職記念碑です。江戸時代にこの場所の近くで解剖が行われ、それをきっかけとして、オランダの医学書が翻訳されて『解体新書』がつけられました。次のアからエの中から、『解体新書』の翻訳者をひとり選び、その記号を書きなさい。

図3



- | | |
|--------|---------|
| ア 杉田玄白 | イ 野口英世 |
| ウ 本居宣長 | エ 北里柴三郎 |

問3 図4の寺にある大仏づくりを命じた天皇の名前を漢字で書きなさい。

図4



問4 図5は、富岡製糸場での作業の様子を描いています。

図5



(富岡市立美術博物館蔵より)

- | | |
|------|------|
| ア 麻糸 | イ 生糸 |
| ウ 毛糸 | エ 綿糸 |

問5 図6は、奈良県にある都塚古墳です。発掘調査の結果、日本では例のないピラミッド型の古墳であることがわかりました。この都塚古墳は、蘇我氏の一族の墓ではないともいわれています。次のアからエの中から、蘇我氏と最も関係が深い人物をひとり選び、その記号を書きなさい。

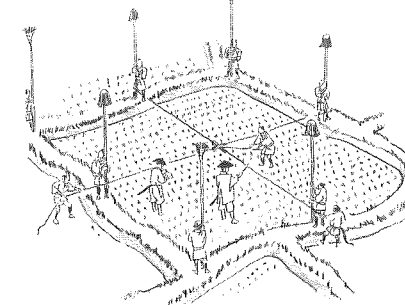
図6



- | | |
|--------|--------|
| ア 卑弥呼 | イ 北条政子 |
| ウ 足利義満 | エ 聖徳太子 |

問6 図7は、土地の面積や収穫高などを調べて記録しているようすを示しています。図7で示されていることが始まったころについて述べた文として適切なものを、次のアからエの中から一つ選び、その記号を書きなさい。


図7



- | |
|---------------------------------|
| ア 武士と農民の身分の違いがしだいにはっきりしてきた。 |
| イ 地租を定め、決まった額を税金として納めさせた。 |
| ウ 将軍と武士たちの間にご恩と奉公の関係ができた。 |
| エ 税として米や布を納めさせたり、九州の防衛につかえたりした。 |

問7 図8は、2千円札に描かれた「源氏物語絵巻」の一部です。紫式部の『源氏物語』など、朝廷につかえる女性たちによる文学作品が数多くつくられたころのようすを述べた文として適切なものを、次のアからエの中から一つ選び、その記号を書きなさい。

図8



- | |
|----------------------------|
| ア 能や狂言が生まれ、民衆の間にも広まった。 |
| イ 人物や風景などを版画にした浮世絵が売り出された。 |
| ウ 大和絵などの日本風の文化がつけられた。 |
| エ 自然を題材とした墨絵が多く描かれた。 |

5 下のA群、B群、C群の中から関わりの深い語をそれぞれ一つずつ選び、歴史のできごとについて説明する文を、【例】にならって一文で書きなさい。ただし、【例】で使っている語はもう選ばません。

【例】

源頼朝の命令を受けた源義経の活躍で、源氏は平氏を滅ぼした。

- A群： 源頼朝
 豊臣秀吉
 徳川家光
 西郷隆盛
 陸奥宗光

- B群： 勝海舟
 織田信長
 源義経
 小村寿太郎
 徳川家康

- C群： 江戸城
 平氏
 不平等条約
 天下
 幕府

6 小学校6年生のAくんは夏の自由研究のテーマを決めるために、新聞から題材を探そうと考えました。Aくんのお父さんはいっしょに新聞を読みながら考えてくれています。次のAくんとお父さんの会話を読みながら、あとの間に答えなさい。

Aくん：自由研究のテーマがなかなか決まらないなあ。
 お父さん：それなら新聞から題材を探してみようか。社会のいろいろな動きがよく分かるよ。
 Aくん：①東日本大震災で被害を受けた地域のようにすが新聞に載っているね。
 お父さん：ここは、この前仕事で行ったところだよ。震災が起きる前よりずいぶん変わってしまったけど、新しい町づくりが少しずつ始まっていると感じられるよ。
 Aくん：ここを見て。8月に祝日ができるって書いてあるよ。どうして祝日が増えるのかな。
 お父さん：富士山が②世界遺産に登録されたことをきっかけに、2016年から「山の日」ができるみたいだね。
 Aくん：これ、前テレビでやっていた事件の裁判の記事だ。ここに書いてある③裁判員制度ってどんな制度なの。
 お父さん：一般の人が裁判に参加する制度だよ。前はこんなことはできなかったんだよ。
 Aくん：ふーん、どうして変わったんだろうね。今度裁判所見学に行くので質問してみようかな。
 お父さん：そういえば、この前学校の社会科見学で④国会議事堂を見学したんだよね。
 Aくん：うん。教科書にも載っているけど、本物はずっと迫力があつたよ。⑤消費税のことについて話し合いをしているところだって説明されたよ。
 Aくん：これ何だろう。このマークは何かな。初めて見たけど。
 お父さん：「⑥ハラール」の認証マークだよ。そういえば、この前乗った飛行機で「ハラール食」を食べているお客さんがいたなあ。最近日本でも目にするが増えているね。
 Aくん：あつ、⑦上高地の写真が載っている。去年の夏に行ったところだよなあ。また、行ってみたいなあ。
 お父さん：空気がきれいで、自然がとても豊かなところだったね。
 お父さん：これおもしろいね。ここに⑧1円玉や10円玉の流通量が減っているというニュースが出ているよ。
 Aくん：なぜ減っているのかなあ。新聞を読むと社会のいろいろな動きがわかるね。

問1 下線部①について、東日本大震災を受けて、2012年2月10日に発足した役所を何というか、次のアからエの中から一つ選び、その記号を書きなさい。

- ア 安全庁 イ 防災庁 ウ 復興庁 エ 支援庁

問2 下線部②について、国際連合の専門機関の一つで、世界遺産の保全などにもあたる機関の略称をカタカナ4字で書きなさい。

問3 下線部③について、次のアからエの文は裁判員制度について述べています。裁判員制度について述べた文としてふさわしいものを次のアからエの中から一つ選び、その記号を書きなさい。

- ア 裁判員は、同じ人数の裁判官とともに裁判に参加する。
- イ 裁判員は、すべての国民の中からくじで選ばれる。
- ウ 裁判員は、どのような事件においても裁判に参加する。
- エ 裁判員は、被告人が有罪の場合には刑罰の内容も決定する。

問4 下線部④について、次のアからエの文は国会の仕事について述べています。このうち、衆議院にしか権限を与えられていないものを、次のアからエの中から一つ選び、その記号を書きなさい。

- ア 内閣総理大臣を指名する。
- イ 内閣を信任しないことを決める。
- ウ 外国と結んだ条約を承認する。
- エ 裁判官を裁く裁判を行う。

問5 下線部⑤について、わたしたちの身の回りの公共的な仕事は、おもに税金によって運営されています。公共的な仕事としてあてはまらないものを次のアからエの中から一つ選び、その記号を書きなさい。

- ア 公立図書館で本の貸し出しを無料で行う。
- イ 公共交通機関として、市や町がバスを運行する。
- ウ 市が設置している児童センターで、子育て支援の事業を行う。
- エ コンビニエンスストアで水道料金などの公共料金を支払うことができる。

問6 下線部⑥について、図1は「ハラール」の認証マークの例です。このマークは、豚肉を使っていないなど、ある条件をもとにして食材を調理したことを証明するものです。現在日本でも飲食店を中心にハラールの認証を受ける店が増えてきました。なぜこれらの飲食店はハラールの認証を受けるのでしょうか。おもな理由の一つを書きなさい。




図1

問7 下線部⑦について、図2は長野県の上高地です。ここでは自家用車で入場することが規制されており、登山者は山のふもとからハイブリッド車のバスを利用して上っています。なぜこのような規制をしているのか、その理由を書きなさい。



図2

問8 下線部⑧について、最近、お店に行くと、「小銭が足りないの

で、ご協力をお願いします」という案内をされることが多くあります。日本銀行によると、日本全体でも硬貨を使う機会が減っているそうです。なぜ硬貨を使う機会が減っているのか、お店で商品を購入する時の場面を考えて、その理由を書きなさい。

社会

答案用紙

1

問1	(1)		(2)	①	②
問2		問3	(1)		(2)

2

問1		問2	
問3	(1)		(2)
	(3)		
問4	(1)		(2)

3

問1			
問2			
問3	(1)		(2)
	(3)		
問4			

4

問1		問2		問3		天皇
問4		問5		問6		問7

5

--

6

問1		問2		問3		問4		問5
問6								
問7								
問8								

受検番号